

정답과 해설

진도 교재

I. 내가 사는 세계	2
II. 우리와 다른 기후, 다른 생활	6
III. 자연으로 떠나는 여행	12
IV. 다양한 세계, 다양한 문화	16
V. 지구 곳곳에서 일어나는 자연재해	20
VI. 자원을 둘러싼 경쟁과 갈등	23
VII. 개인과 사회생활	28
VIII. 문화의 이해	33
IX. 정치 생활과 민주주의	37
X. 정치 과정과 시민 참여	41
XI. 일상생활과 법	46
XII. 사회 변동과 사회 문제	51

I | 내가 사는 세계

01 지도 속 정보 읽기 ~ 02 위치에 따른 인간 생활

STEP 1 차근 차근 개념 체크 p.16

1 ① 아시아 ② 태평양 ③ 동경 2 ① 러시아 ② 9 ③ 10 3 ① 여름 ② 백야

1 (1) 지도 (2) 대축적 지도, 소축적 지도 2 (1) L (2) ㄱ (3) C 3 (1) O
(2) O 4 (1) 0 (2) 15 (3) 9 5 (1) 저위도 (2) 공전 (3) 여름

STEP 2 차곡 차곡 실력 체크 p.17~20

01 ① 02 ③ 03 ⑤ 04 ① 05 ①
06 랜드마크 07 ② 08 ③ 09 ④ 10 ③
11 날짜 변경선 12 ③ 13 ④ 14 ⑤
15 ① 16 ⑤ 17 ② 18 해설 참조 19 해설 참조

01 지도는 지표면의 다양한 지리적 현상을 약속된 기호를 사용하여 평면상에 나타낸 것이다. 제시된 지도에는 사막, 산맥, 하천, 호수 등과 같은 자연환경이 표시되어 있다. 하지만 도시, 인구, 산업 등의 인문 환경은 나타나 있지 않다.

02 지도는 방위, 축척, 기호 등을 통해 해당 지역의 지리 정보를 표현한다. 방위는 지도에서 방향을 나타내는 것으로 방위 표시를 통해 동서남북의 방향을 표현하는데, 방위 표시가 없을 경우에는 지도의 위쪽이 북쪽이다. 축척은 실제 거리를 지도상에 줄여 나타낸 비율을 의미하며, 기호는 지표면에 나타나는 여러 가지 지리 정보를 간단하게 표현한 것이다.

선택지 바로 보기

- ㄱ. 방위 표시가 없을 때는 지도의 위쪽이 남쪽이다. (X)
▶ 방위 표시가 없을 때는 지도의 위쪽이 북쪽이다.
- ㄴ. 축척은 실제 거리를 지도상에서 줄여서 나타낸 비율이다. (O)
- ㄷ. 기호는 지표면에 나타나는 여러 가지 현상을 지도에 간단하게 표현한 것이다. (O)
- ㄹ. 축척이 1:100,000이라면 지도상의 1cm가 나타내는 실제 거리는 100m이다. (X)
▶ 축척이 1:100,000이라면 지도상의 1cm가 나타내는 실제 거리는 1km이다.

03 제시된 지도는 중국의 인구 이동을 화살표의 방향과 굵기로 표현한 것이다. 이와 같은 유형의 지도로 표현하기에 적합한 지리 정보는 석유의 이동량과 이동 경로이다. 석유의 이동량은 선의 굵기로, 이동 경로는 화살표의 방향으로 표현할 수 있다.

04 지형도는 일반도, 기후도, 인구분포도, 관광 안내도, 지하철 노선도는 주제도에 해당한다.

05 지도상에 보스톤은 3~4팁 크기의 원으로 표시되어 있다.

06 지역의 대표적인 장소나 건물을 랜드마크라고 한다. 랜드마크 크는 지역에 따라 건물, 탑, 기념비, 학교, 관공서 등의 다양

한 형태로 나타난다. 랜드마크를 기준으로 삼아 길을 찾거나 상대방에게 길을 설명하면 편리하다.

07 위도는 적도를 기준으로 남위와 북위 각각 0°~90°까지 표현한다. 경도는 0°인 본초 자오선을 기준으로 동경과 서경 각각 0°~180°까지 표현한다. 위선은 적도를 기준으로 같은 위도를 연결한 가로선, 경선은 본초 자오선을 기준으로 같은 경도를 연결한 세로선이다.

선택지 바로 보기

- ㄱ. 위도는 적도를 기준으로 북위와 남위로 구분된다. (O)
- ㄴ. 위도는 0°~180°, 경도는 0°~90°까지 표현한다. (X)
▶ 위도는 0°~90°, 경도는 0°~180°까지 표현한다.
- ㄷ. 경도는 본초 자오선을 기준으로 동경과 서경으로 구분된다. (O)
- ㄹ. 위선은 같은 위도를 연결한 세로선, 경선은 같은 경도를 연결한 가로선이다. (X)
▶ 위선은 같은 위도를 연결한 가로선, 경선은 같은 경도를 연결한 세로선이다.

08 세계 규모에서 한 국가의 대략적인 위치는 대륙과 해양을 이용하여 표현할 수 있다. 예를 들어, 우리나라는 아시아 대륙의 동쪽에 위치하며, 태평양과 접하고 있다. 또한 정확한 위치를 나타내고자 할 때 위도와 경도를 이용할 수 있다. 위도와 경도상으로 우리나라는 북위 33°~43°, 동경 124°~132°의 범위에 위치하고 있다.

선택지 바로 보기

- ㄱ. 우리나라는 대서양과 접하고 있다. (X)
▶ 우리나라는 태평양과 접하고 있다.
- ㄴ. 우리나라는 아시아 대륙의 동쪽에 있다. (O)
- ㄷ. 우리나라는 북위 33°~43°의 범위에 있다. (O)
- ㄹ. 우리나라는 서경 124°~132°의 범위에 있다. (X)
▶ 우리나라는 동경 124°~132°의 범위에 있다.

09 지도를 보면 뉴질랜드는 남위 40°, 동경 170° 부근에 위치한다. 영국은 경도 0°선인 본초 자오선이 지나간다. 일본은 아시아 대륙과 태평양 사이에 위치하며, 마다가스카르는 아프리카 대륙의 동쪽에 위치한다. 쿠바는 북아메리카와 남아메리카, 대서양이 모두 접하는 곳에 있다.

문제 자료 분석하기 세계 여러 국가의 위치 표현



10 본초 자오선에서 동쪽으로 갈수록 표준시가 빨라지며, 경도 15°마다 1시간의 시차가 발생한다. 우리나라는 영국보다 동쪽에 위치하여 표준시가 9시간이 빠르며, 부에노스아이레스와는 12시간의 시차가 발생하여 낮과 밤이 반대로 나타난다. 서울은 로스앤젤레스보다 17시간이 빠르다. 따라서 로스앤젤레스는 우리나라보다 표준시가 늦다. 따라서 서울에서 로스앤젤레스로 날짜 변경선을 지나서 이동하면 시간에 따라 하루가 늦어질 수 있다.

11 A는 날짜 변경선으로 본초 자오선의 정반대에 있는 경도 180° 선이다. 날짜 변경선의 동쪽에서 서쪽으로 갈 때는 하루를 더하고, 서쪽에서 동쪽으로 갈 때는 하루를 뺀다.

12 2018년 6월 14일 러시아의 모스크바에서 월드컵 개막전이 열린다. 우리나라는 러시아의 모스크바보다 표준시가 6시간 빠르다. 러시아의 모스크바에서 축구 경기가 열리는 시각이 6월 14일 17시(오후 5시)이면 우리나라는 이보다 6시간이 빠른 6월 14일 23시(오후 11시)이다.

13 지호는 서울에서 1월 25일 아침 9시에 비행기를 타고 12시간 이동했다. 지호가 서울에 그대로 있었다면 1월 25일 21시(밤 9시)였을 것이다. 그런데 지호가 도착한 어느 도시의 시각은 1월 25일 새벽 4시였다. 즉 우리나라보다 표준시가 17시간이 늦은 도시로 여행을 떠난 것이다. 지도에서 우리나라보다 표준시가 17시간이 늦은 도시를 찾으면 그 도시는 로스앤젤레스이다.

14 위도가 낮은 적도 부근은 태양의 고도가 높아 일사량이 많지만, 고위도로 갈수록 태양의 고도가 낮아지면서 일사량도 감소한다. 따라서 A~C 지역을 평균 기온이 높은 순서대로 나열하면 C > B > A 순서가 된다.

문제 자료 분석하기 위도와 일사량 차이



15 서울에 사는 수연이네 가족은 겨울 방학을 이용하여 오스트레일리아로 여행을 떠나고자 한다. 우리나라의 서울은 북반구에 위치한 반면, 오스트레일리아의 시드니는 남반구에 위치한다. 따라서 서울과 시드니는 계절이 정반대이다. 수연이네 가족은 기후 조건을 고려하여 수영복, 선크림 등의 더위와 강한 햇빛에 대비한 물품을 준비해야 한다.

16 자료에서 태양이 지구의 남반구를 더 높은 고도에서 비추고 있으므로 이 시기는 12~2월이다. 12~2월은 북반구의 겨울,

남반구의 여름에 해당하는 시기이며 남반구에서는 낮이 밤보다 길게 나타나 남극에서는 백야 현상을 볼 수 있다. 또한 북반구의 중위도 지역은 겨울이므로 눈이 내리는 모습을 볼 수 있다.

선택지 바로 보기

- ㄱ. 극지방에서는 고온 다습한 기후가 나타난다. (X)
- Ⓜ. 극지방은 태양의 고도가 낮고 일사량도 적은 지역으로 일 년 내내 추운 기후가 나타난다.
- ㄴ. 남반구의 중위도 지역은 밤이 낮보다 길어진다. (X)
- Ⓝ. 남반구의 중위도 지역은 낮이 밤보다 길어진다.
- ㄷ. 남극에서는 해가 지지 않는 백야 현상이 나타난다. (O)
- ㄹ. 북반구의 중위도 지역에서는 눈이 내리는 모습을 볼 수 있다. (O)

17 위도에 따라 태양의 고도가 달라지기 때문에 적도 부근에는 열대 기후, 극지방으로 가면서 온대 기후, 냉대 기후, 한대 기후가 차례로 나타난다. 또한 지구는 23.5° 기울어진 채 태양을 공전하기 때문에 북반구와 남반구의 계절이 정반대로 나타난다. 따라서 위도는 위도대별 기후에 영향을 주며 북반구와 남반구의 계절 차이에 영향을 준다. ② 국제 대회를 앞두고 시차 적응 훈련을 하는 것은 서로 경도가 다르기 때문에 나타나는 모습이다.

18 (1) A 아프리카, B 유럽, C 아시아
 (2) 우리나라는 아시아(C) 대륙의 동쪽에 위치하며, 태평양과 접해 있다.

핵심 단어 | 아시아, 태평양

채점 기준	구분
A~C의 명칭을 쓰고, 우리나라의 위치를 대륙과 해양을 이용하여 바르게 서술한 경우	상
A~C의 명칭을 쓰고, 우리나라의 위치를 대륙과 해양을 이용하여 서술하였으나 미흡한 경우	중
A~C의 명칭만 쓴 경우	하

19 남반구와 북반구의 계절이 정반대로 나타나기 때문이다.

핵심 단어 | 남반구, 북반구, 계절 차

채점 기준	구분
남반구와 북반구에 위치하여 계절이 정반대로 나타남을 모두 서술한 경우	상
계절이 정반대임을 서술하였으나 이에 대한 설명이 미흡한 경우	중
계절 때문이라는 이유만 서술한 경우	하

03 지리 정보와 지리 정보 기술

STEP 1 차근 차근 개념 체크

p.23

- 1** (1) ㉠ ㉡ ㉢ ㉣ **2** (1) 인터넷 전자 지도 (2) 위성 사진 (3) 공간적
- 3** (1) 지리 정보 시스템(GIS) (2) 위성 위치 확인 시스템(GPS) (3) 원격 탐사
- 4** (1) × (2) ×

STEP 2 차곡 차곡 실력 체크

p. 23~24

- 01 ② 02 ④ 03 ⑤ 04 ③ 05 커뮤니티 매핑
06 ① 07 ③ 08 해설 참조 09 해설 참조

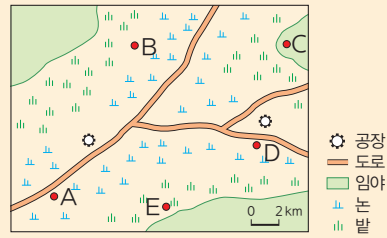
- 01 (가) 기니가 서아프리카에 위치하며 서경 10°, 북위 11°에 걸쳐 있다는 것은 기니의 위치에 관한 공간 정보이다. (나) 기니의 인구나 종교는 해당 국가의 성격에 관한 속성 정보에 해당한다. (다) 기니와 우리나라의 외교 현황은 서로의 관계에 대한 관계 정보이다.
- 02 종이 지도에 비해 인터넷 전자 지도는 컴퓨터나 모바일 기기를 통해 주로 접근할 수 있으며, 원하는 지점을 쉽게 찾을 수 있다. 또한 지도의 축소와 확대가 쉽고, 지역의 정보를 수정하고 보완하기가 상대적으로 용이하다.
- 03 제시된 자료는 인공위성에서 본 북극의 빙하 모습을 나타낸 것이다. 이와 같이 인공위성에서 찍은 사진이나 영상 자료를 위성 사진이라고 한다. 위성 사진은 인간이 접근하기 어려운 지역에 대한 정보를 얻을 수 있다.

선택지 바로 보기

- ① 해당 지역 사람들의 정치적 견해를 파악하기 쉽다. (X)
 ⚡ 위성 사진을 통해 사람들의 심리 상태를 파악하기는 쉽지 않다.
- ② 정보 수집을 위해 필요한 장비의 가격이 저렴하다. (X)
 ⚡ 정보 수집을 위해 인공위성 기술 등이 발달하여야 하므로 장비의 가격이 저렴하지 않으며, 기술과 자본의 차이로 인해 선진국과 개발 도상국 간의 정보 격차가 발생할 수 있다.
- ③ 화산 폭발에 따른 인명 피해 현황을 파악하기 쉽다. (X)
 ⚡ 화산 폭발에 따른 인명 피해 규모나 현황을 구체적으로 파악하기 쉽지 않다.
- ④ 일정 시간마다 주기적인 변화 과정을 파악하기 어렵다. (X)
 ⚡ 일정 시간마다 일정 지역의 주기적인 변화 과정을 파악하는 데 용이하다.
- ⑤ 인간의 접근이 어려운 지역에 대한 정보를 얻기 유리하다. (O)

- 04 지리 정보 시스템(GIS)은 각종 지리 정보를 컴퓨터에 입력, 저장, 분석하여 그 결과를 출력하는 정보 처리 시스템을 말한다. 다양한 지리 정보를 컴퓨터 데이터로 변환하여 각종 시설의 입지 선정, 교통 및 재해 관리 등의 다양한 분야에 효율적으로 활용될 수 있다.
- 05 커뮤니티 매핑은 사회 구성원들이 함께 특정 주제에 대한 정보를 현장에서 수집하고 이를 지도로 만들어 공유하는 과정이다. 제시된 자료에서처럼 보건소와 중학교 학생 동아리가 함께 학교 주변의 유해 시설을 조사하여 지도화한 것 역시 커뮤니티 매핑의 사례 중 하나이다.
- 06 제시된 <조건>에 맞추어 노인 요양 시설을 건설하고자 한다. 첫 번째 조건으로 임야에는 시설을 세울 수 없다. 따라서 임야에 위치한 C는 제외된다. 두 번째 조건으로 도로에서 2km 이내에 위치해야 하며, 도로와 멀리 떨어진 B와 E는 제외된다. 마지막 조건으로 공장과의 거리가 2km 이상 떨어져야 하며, 공장과 가까운 D가 제외된다. 따라서 조건에 부합하는 노인 요양 시설이 들어서기 가장 좋은 지역은 지도의 A이다.

문제 자료 분석하기 지리 정보 시스템(GIS)을 활용한 입지 선정



- A: 노인 요양 시설이 들어서기 가장 좋은 지역
- B: 도로와 2km 이상 떨어진 지역으로 제외됨
- C: 임야에 위치하며 도로와 2km 이상 떨어진 지역으로 제외됨
- D: 공장과의 거리가 2km 이하인 지역으로 제외됨
- E: 도로와 2km 이상 떨어진 지역으로 제외됨

- 07 스마트폰으로 프로 축구 경기를 생방송으로 보는 것은 지리 정보 기술보다는 정보 통신 기술의 발달과 관계 깊다.
- 08 공동 펌프의 위치와 콜레라 사망자가 발생한 지점을 지도에 표시하여

| 핵심 단어 | 공동 펌프, 콜레라, 지도

채점 기준	구분
공동 펌프의 위치와 콜레라 사망자가 발생한 지점을 지도에 표시하여 콜레라의 전염 과정을 밝혀냈음을 바르게 서술한 경우	상
공동 펌프의 위치와 콜레라 사망자가 발생한 지점을 지도에 표시하여 콜레라의 전염 과정을 밝혀냈음을 서술하였으나 미흡한 경우	중
지도를 통해 밝혀냈다는 내용만 서술한 경우	하

- 09 지리 정보 시스템(GIS). 공공 부문에서 지리 정보 시스템은 각종 시설의 입지 선정, 자연재해로 인한 피해 지역 예측 및 예방 등의 분야에 활용될 수 있다.

| 핵심 단어 | 지리 정보 시스템(GIS), 입지 선정, 피해 예측 및 예방

채점 기준	구분
지리 정보 시스템(GIS)을 쓰고, 공공 부문에서의 활용 방안 두 가지를 서술한 경우	상
지리 정보 시스템(GIS)을 쓰고, 공공 부문에서의 활용 방안을 한 가지만 서술한 경우	중
지리 정보 시스템(GIS)만 쓴 경우	하

STEP 3 모아 모아 단원 체크

p. 26~28

- 01 ⑤ 02 ⑤ 03 ⑤ 04 ⑤ 05 ②
06 ① 07 ③ 08 ① 09 ① 10 ②
11 ① 12 ③ 13 ③ 14 ③ 15 ①
16 해설 참조 17 해설 참조

- 01 제시된 지도는 남아메리카의 지형과 기후를 나타낸 것이다. 지도를 통해 아마존강의 하구는 브라질에 위치하고 대서양

으로 흘러감을 알 수 있으며, 우유니사막과 티티카카호는 볼리비아에 위치함을 알 수 있다. 안데스산맥을 따라 고산 기후가 나타나며, A에서는 열대 기후, B에서는 온대 기후가 나타난다. ⑤ 브라질에서 가장 넓게 분포하는 기후는 열대 기후이다.

- 02** (가) 석유 자원의 국가별 생산량은 원과 같은 도형의 크기로 표현하거나 국가별 단계에 맞게 음영을 달리하여 표현할 수 있다. 따라서 ㄷ으로 표현하는 것이 적절하다. (나) 석유 자원의 이동량과 경로는 화살표의 두께와 방향으로 양과 경로를 표현할 수 있다. 따라서 ㄴ으로 표현하는 것이 적절하다.
- 03** 우리나라는 아시아 대륙의 동쪽에 위치하고 태평양에 접해 있다. 북쪽으로는 중국, 러시아와 국경을 접하고 있으며, 남동쪽으로 바다를 건너면 일본이 위치한다. 위도와 경도로는 북위 33°~43°, 동경 124°~132°에 위치한다.
- 04** 제시된 지도는 세계의 자연환경을 나타낸 것이다. 지도를 보면 나일강은 지중해로 흘러가고 있으며, 사하라사막은 아프리카에 위치하고 있다. 오세아니아는 인도양과 태평양 사이에 위치하며, 유럽과 아메리카 사이에는 대서양이 있다. 유럽과 아시아 대륙의 경계에는 우랄산맥이 위치한다.

문제 자료 분석하기 세계 지도 읽기



- 05** 지구는 하루에 한 바퀴씩 자전하기 때문에 경도에 따라 시차가 발생한다. 경도 15°마다 1시간의 시차가 발생하며 본초 자오선을 기준으로 동쪽에서 서쪽으로 갈수록 표준시가 늦어진다. 위도는 시차보다 기후에 영향을 준다.

선택지 바로 보기

- ㄱ. 경도 15°마다 1시간의 시차가 발생한다. (○)
- ㄴ. 고위도에서 저위도로 갈수록 표준시가 빨라진다. (×)
- ㄷ. 본초 자오선을 기준으로 서쪽에서 동쪽으로 갈수록 표준시가 빨라진다. (×)
- ㄹ. 북반구와 남반구는 낮과 밤이 정반대로 나타난다. (×)
- ㅁ. 북반구와 남반구는 계절이 정반대로 나타난다. (○)
- ㅂ. 본초 자오선을 기준으로 동쪽에서 서쪽으로 갈수록 표준시가 늦어진다. (○)

- 06** 우리나라와 계절이 반대로 나타나지 않는 (가)는 북반구에 위치한 A(영국)이다. 우리나라와 계절이 반대로 나타나며, 약 12시간의 시차가 발생하는 (나)는 C(우루과이)이다. 우루과이

는 우리나라와 약 12시간의 시차가 발생하여 낮과 밤이 정반대이다. 우리나라와 계절이 반대이지만 12시간의 시차가 발생하지 않는 (나)는 B(뉴질랜드)이다.

- 07** 우리나라는 영국보다 표준시가 9시간 빠르고, 중국보다 표준시가 1시간 빠르다. 표준시의 차이는 경도의 영향을 받아 나타난다. 동서로 긴 국가는 여러 개의 표준시를 사용하기도 하는데 러시아, 미국, 캐나다, 오스트레일리아 등이 대표적이다. 우리나라는 미국에 비해 14~18시간 정도 빠르기 때문에 항상 미국보다 날씨가 하루 빠른 것은 아니다.
- 08** 우리나라의 서울에서 재현이가 밤 10시(22시)에 잠들 준비를 하고 있다. ① 사우디아라비아의 메카는 우리나라보다 표준시가 6시간 늦다. 따라서 사우디아라비아의 메카는 22시에서 6시간을 뺀 16시(오후 4시)이다. ② 도쿄는 우리나라와 시차가 없으므로 우리나라와 시간이 같다. ③ 런던은 우리나라보다 표준시가 9시간 늦다. 따라서 런던은 22시에서 9시간을 뺀 13시(오후 1시)이다. ④ 아스타나는 우리나라보다 표준시가 3시간 늦다. 따라서 아스타나는 22시에서 3시간을 뺀 19시(오후 7시)이다. ⑤ 뉴욕은 우리나라보다 표준시가 14시간 늦다. 따라서 뉴욕은 22시에서 14시간을 뺀 8시(오전 8시)이다.
- 09** 칠레의 산티아고는 우리나라보다 표준시가 13시간 늦다. 따라서 우리나라가 3월 7일 19시(오후 7시)일 때, 산티아고는 19시에서 13시간을 뺀 3월 7일 6시(오전 6시)이다.
- 10** 대한민국과 일본, 이탈리아는 키위가 11~4월에 수확되는 반면, 뉴질랜드는 5~11월에 수확된다. 이렇게 뉴질랜드와 다른 국가들 간의 키위 수확 시기가 정반대로 나타나는 이유는 뉴질랜드는 남반구에 위치한 반면, 대한민국과 일본, 이탈리아는 북반구에 위치하기 때문이다. 남반구와 북반구는 계절이 정반대로 나타나 키위와 같은 농작물의 수확 시기가 서로 다르다.
- 11** 독도는 동경 132°, 북위 37°에 위치한다. 따라서 ㉠은 독도의 위치를 나타낸 공간 정보이다. ㉡ 천연기념물 제336호에 해당하는 것과 ㉢ 주민을 포함한 50여 명이 거주하는 것은 독도의 특성을 나타낸 속성 정보이다.
- 12** 인터넷 전자 지도는 지도의 축소와 확대가 용이하며, 두 지점 간의 거리 계산이 편리하다는 장점이 있다. 또한 길 찾기 서비스를 통해 이동 시간을 예측할 수 있으며, 인공지능을 활용한 위성 영상도 함께 제공된다. ③ 인터넷 전자 지도는 종이 출력력이 가능하다.
- 13** 원격 탐사는 관측 대상과의 접촉 없이 멀리서 정보를 얻어내는 기술이며, 미국 서부 지역의 산불 피해 면적 등의 지리 정보를 수집하기에 유리하다.



14 지리 정보는 어떤 장소가 어디에 있는지에 관한 공간 정보, 장소가 어떤 특성을 지니고 있는지에 관한 속성 정보, 다른 장소와 어떤 관계인지에 관한 관계 정보로 나뉜다. 위성 위치 확인 시스템(GPS)은 인공위성을 이용하여 세계 어느 곳에서든지 위치를 정확하게 알아낼 수 있는 기술로 공간 정보를 획득하는 데 유용하게 사용된다.

선택지 바로 보기

- ㄱ. ㉠은 공간 정보에 해당한다. (X)
- ㉡은 속성 정보에 해당한다.
- ㄴ. ㉢은 관계 정보에 해당한다. (O)
- ㄷ. ㉣은 정확한 공간 정보를 획득하는 데 유용하게 사용된다. (O)
- ㄹ. ㉤은 지리 정보를 추가하거나 수정하기 어려운 단점이 있다. (X)
- ㉥은 지리 정보를 추가하거나 수정하기 용이하다.

15 제시된 <조건>을 고려하여 아동 기금 지원 국가를 선정하고자 할 때 A는 유소년 인구 비율이 32로 3점, 출생률이 22.3으로 3점, 유아 사망률이 53.9로 3점으로 총 9점이다. <조건>을 고려했을 때 점수가 가장 높은 A(파키스탄)가 아동 기금 지원 대상 국가이다. 지도의 A는 파키스탄, B는 인도, C는 네팔, D는 부탄, E는 방글라데시이다.

선택지 바로 보기

- ① A(O) ㉠ 파키스탄
- ② B(X) ㉡ 인도, 유소년 인구 비율 2점, 출생률 2점, 유아 사망률 2점(총 6점)
- ③ C(X) ㉢ 네팔, 유소년 인구 비율 3점, 출생률 2점, 유아 사망률 1점(총 6점)
- ④ D(X) ㉣ 부탄, 유소년 인구 비율 1점, 출생률 1점, 유아 사망률 2점(총 4점)
- ⑤ E(X) ㉤ 방글라데시, 유소년 인구 비율 2점, 출생률 2점, 유아 사망률 2점(총 6점)

16 (1) 날짜 변경선
(2) 사모아는 오스트레일리아의 시드니보다 표준시가 빨라졌다.

| 핵심 단어 | 날짜 변경선, 표준시, 빨라짐

채점 기준	구분
날짜 변경선을 쓰고, 사모아와 오스트레일리아 시드니의 표준시가 어떻게 달라졌는지 바르게 서술한 경우	상
날짜 변경선을 쓰고, 사모아와 오스트레일리아 시드니의 표준시가 어떻게 달라졌는지 서술하였으나 미흡한 경우	중
날짜 변경선만 쓴 경우	하

17 (1) 원격 탐사
(2) 주민들의 이주하는 양과 방향을 각각 화살표의 굵기와 방향으로 지도에 표현한다.

| 핵심 단어 | 원격 탐사, 이주(이동), 화살표

채점 기준	구분
원격 탐사를 쓰고, 주민들의 이주에 관한 정보를 지도에 표현하는 방법을 바르게 서술한 경우	상
원격 탐사를 쓰고, 주민들의 이주에 관한 정보를 지도에 표현하는 방법을 서술하였으나 미흡한 경우	중
원격 탐사만 쓴 경우	하

II | 우리와 다른 기후, 다른 생활

01 세계의 기후 지역

~ 02 열대 우림 기후 지역의 주민 생활

STEP 1 차근 차근 개념 체크

p. 32

1 ① 열대 기후 ② 건조 기후 ③ 온대 기후 ④ 냉대 기후 ⑤ 한대 기후 ⑥ 고산 기후
2 ① 열대 기후 ② 건조 기후 ③ 온대 기후 ④ 냉대 기후 ⑤ 한대 기후 ⑥ 고산 기후
3 ① 열대 우림 기후 ② 적도

1 (1) 기후 (2) 기후 요소 2 (1) ㉠ (2) ㉡ (3) ㉢ (4) ㉣ (5) ㉤ 3 (1) 한대, 불리하다 (2) 고산, 유리하다 4 (1) O (2) O (3) O 5 (1) 알계, 크게 (2) 플랜테이션

STEP 2 차곡 차곡 실력 체크

p. 33~35

- 01 ① 02 ② 03 ⑤ 04 ⑤ 05 ②
- 06 ② 07 ④ 08 ③ 09 ② 10 ④
- 11 스킨 12 ② 13 ③ 14 ④ 15 ⑤
- 16 ② 17 해설 참조 18 해설 참조

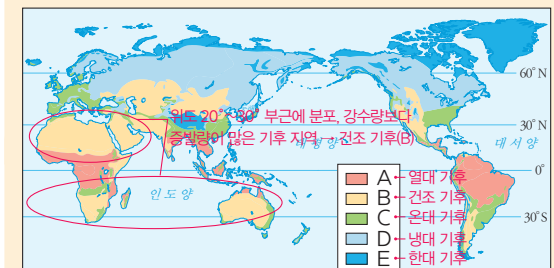
01 세계의 연평균 기온은 위도의 영향을 받아 대체로 위도와 평행하게 나타나며, 저위도에서는 기온이 높고 고위도로 갈수록 기온이 낮아진다.

선택지 바로 보기

- ① 등온선은 위도와 대체로 평행하다. (O)
- ② 고위도로 가면서 기온이 점차 높아진다. (X)
- ㉠ 고위도로 가면서 기온이 점차 낮아진다.
- ③ 연평균 기온이 가장 높은 곳은 적도와 일치한다. (X)
- ㉡ 연평균 기온이 가장 높은 곳은 적도보다 약간 위쪽에 나타난다.
- ④ 남·북위 20°~30° 지역에는 연 강수량이 매우 많다. (X)
- ㉢ 남·북위 20°~30° 지역에는 연 강수량이 매우 적다.
- ⑤ 지도의 등온선은 강수량의 값이 같은 지점을 연결한 선이다. (X)
- ㉣ 지도의 등온선은 기온의 값이 같은 지점을 연결한 선이다.

02 건조 기후(B)에 대한 내용이다. 위도 20°~30° 지역은 남·북 회귀선이 지나가는 곳으로 강수량보다 증발량이 많은 건조 기후가 나타난다. A는 열대 기후, C는 온대 기후, D는 냉대 기후, E는 한대 기후이다.

문제 자료 분석하기 세계의 기후 지역



03 E는 한대 기후로, 겨울이 길고 매우 추워 나무가 자라지 못하며 짧은 여름철에 풀과 이끼가 자란다.

선택지 바로 보기

- ① A는 계절이 비교적 뚜렷하다. (×)
 ✔ C(온대 기후)는 계절이 비교적 뚜렷하다.
- ② B는 짧은 여름 동안 기온이 영상으로 올라간다. (×)
 ✔ E(한대 기후)는 짧은 여름 동안 기온이 영상으로 올라간다.
- ③ C 중 연 강수량이 많은 곳에는 밀림이 형성된다. (×)
 ✔ A(열대 기후) 중 연 강수량이 많은 곳에는 밀림이 형성된다.
- ④ D는 가장 추운 달의 평균 기온이 18℃를 넘는다. (×)
 ✔ A(열대 기후)는 가장 추운 달의 평균 기온이 18℃를 넘는다.
- ⑤ E는 겨울이 길고 기온이 매우 낮아 나무가 자라지 못한다. (○)

04 (가)는 일 년 내내 기온이 높고 강수량이 많은 열대 기후, (나)는 연중 기온이 낮으나 짧은 여름에 기온이 0℃ 이상으로 올라가는 한대 기후, (다)는 일 년 내내 기온이 일정하고 봄과 같이 온화한 날씨가 지속되는 고산 기후이다.

05 열대 기후는 일 년 내내 기온이 높아 무더운 날씨가 이어지고, 온대 기후는 계절의 변화가 비교적 뚜렷하다. 냉대 기후는 기온의 연교차가 크고, 타이가라고 불리는 침엽수림이 넓게 분포하며, 한대 기후는 극지방에 분포하여 기온이 매우 낮고 가장 따뜻한 달의 평균 기온이 10℃ 미만이다. ② 짧은 여름에 이끼류와 풀이 자라는 기후는 한대 기후이고, 건조 기후는 강수량보다 증발량이 많아서 사막이나 초원이 나타난다.

06 사진은 냉대 기후 지역에서 볼 수 있는 침엽수림이다. 냉대 기후 지역에 넓게 펼쳐진 침엽수림을 타이가라고 하며, 이 기후 지역은 여름과 겨울의 기온 차이가 커 기온의 연교차가 크다. ㄴ. 고산 도시는 고산 기후 지역에서 나타나고, ㄷ. 열대 우림은 열대 우림 기후 지역에서 나타나는 식생이다.

07 키토와 벨렝은 모두 적도 주변에 위치하고 있다. 그러나 키토는 해발 고도가 높은 지역(2,850m)에 위치한 도시이고, 벨렝은 해발 고도가 낮은 저지대(24m)에 위치한 도시이다. 기후 그래프를 보면 키토는 일 년 내내 봄과 같이 온화한 기후가 나타나므로 고산 기후이고, 벨렝은 일 년 내내 기온이 높고, 강수량이 많은 열대 기후이다. 따라서 벨렝은 고산 기후가 나타나는 키토보다 인간 거주에 불리하다.

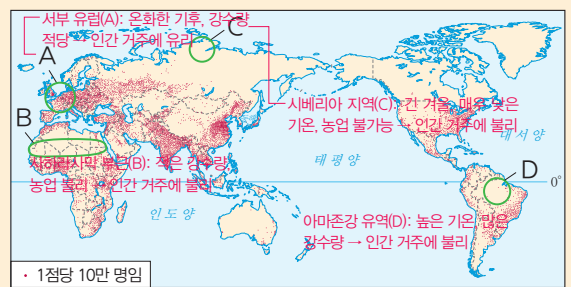
선택지 바로 보기

- ① 벨렝은 고산 기후가 나타난다. (×)
 ✔ 벨렝은 열대 기후가 나타난다.
- ② 벨렝은 키토보다 해발 고도가 높다. (×)
 ✔ 벨렝은 키토보다 해발 고도가 낮다.
- ③ 키토는 적도 부근의 저지대에 위치한다. (×)
 ✔ 키토는 적도 부근의 해발 고도가 높은 곳에 위치한다.
- ④ 키토는 벨렝보다 인간 거주에 유리하다. (○)
- ⑤ 키토와 벨렝의 기후 차이는 위도 때문이다. (×)
 ✔ 키토와 벨렝의 기후 차이는 해발 고도 때문이다.

08 기후가 온화하고 강수량이 적당하여 농업 활동에 유리한 냉·온대 기후 지역과 일 년 내내 봄과 같이 온화한 날씨가 지속되는 열대 고산 기후 지역은 상대적으로 인간 거주에 유리한 편이다. ㄱ. 기온의 일교차가 큰 건조 기후와 ㄴ. 기온이 매우 낮은 한대 기후 지역은 상대적으로 인간 거주에 불리한 편이다.

09 A는 서부 유럽, B는 사하라사막 부근, C는 시베리아 지역, D는 아마존강 유역이다. 서부 유럽(A)은 온대 기후 지역으로 기후가 온화하고 강수량이 적당하여 인간 거주에 유리하고, 시베리아 지역(C)은 한대 기후 지역으로 겨울이 길고 기온이 매우 낮기 때문에 인간 거주에 불리하다. 아마존강 유역(D)은 일 년 내내 기온이 높고 강수량이 많아 습하기 때문에 인간 거주에 불리하고, 아마존강 유역과 비슷한 위도에 위치하지만 해발 고도가 높은 지역은 일 년 내내 봄과 같이 온화한 날씨가 지속되어 인간 거주에 유리하다. ② 밀림이 울창해 경지 개간이 어려워 인간 거주에 불리한 지역은 아마존강 유역(D)이다.

문제 자료 분석하기 세계의 인구 분포



10 열대 우림 기후는 일 년 내내 기온이 높고 강수량이 많아 고온 다습하며, 상록 활엽수림으로 된 밀림이 형성되어 있다. ㄱ. 일 년 내내 기온이 높아 월별 기온의 차이가 거의 없고, ㄷ. 주로 적도 부근에 분포한다.

11 종현이가 여행하고 있는 지역은 열대 우림 기후 지역으로 밀림을 볼 수 있고, 거의 매일 오후에 열대성 소나기인 스콜이 내린다.

12 그래프를 보면 일 년 내내 기온이 높고, 비가 많이 내리므로 열대 우림 기후임을 알 수 있다. ①은 온대 기후, ③, ⑤는 한대 기후, ④는 건조(사막) 기후이다.

13 계절의 변화가 거의 없고, 일 년 내내 기온이 높고 강수량이 많으며 밀림이 형성되어 있는 것으로 보아 열대 우림 기후 지역에 대한 내용이다. 열대 우림 기후 지역은 덥고 습하기 때문에 가볍고 통풍이 잘되는 옷을 입으며, 음식을 조리할 때 부패를 막기 위해 기름, 향신료 등을 많이 사용한다. 유럽의 식민 지배 이후 원주민의 노동력, 선진국의 자본과 기술, 열대 기후를 이용한 플랜테이션 농업이 발달하였으며, 열대

우리 기후 지역 중 해안가 및 강가에 위치하여 교통이 편리한 지역에서는 일찍부터 무역이 이루어져 도시가 발달하였다. ③ 전통적인 농업 방식인 이동식 화전 농업을 통해 재배되는 작물은 카사바, 암, 옥수수 등이며, 천연고무, 카카오는 플랜테이션 농업을 통해 재배되는 작물이다.

14 열대 우림 기후 지역의 가옥은 통풍을 위해 벽은 얇게, 창문을 크게 만들고, 빗물이 잘 흘러내리도록 하기 위해 지붕의 경사를 급하게 만든다.

선택지 바로 보기

- ㄱ. 폐쇄적 가옥 구조가 나타난다. (×)
- ▶ 개방적 가옥 구조가 나타난다.
- ㄴ. 바람이 잘 통하도록 하기 위해 벽이 얇다. (○)
- ㄷ. 가옥의 열기를 보호하기 위해 고상 가옥을 짓는다. (×)
- ▶ 지면의 열기와 습기를 막고, 해충과 짐승을 피하기 위해 고상 가옥을 짓는다.
- ㄹ. 빗물이 잘 흐르도록 하기 위해 지붕의 경사가 급하다. (○)

15 열대 우림 기후 지역에서는 농경지나 목초지 개간, 자원 개발, 도로 건설 등을 목적으로 한 삼림 벌채를 하면서 원주민의 생활 터전이 파괴되고 그들만의 문화가 사라지고 있다. 이 지역의 사람들은 자연환경의 특성, 원주민의 생활 체험 등 다양한 관광 상품을 개발하여 관광객 유치에 노력하고 있다. ⑤ 열대 우림의 파괴로 원주민이 오랜 시간 동안 이룬 토착 문화가 사라져 전통적인 생활 방식에 변화가 일어나고 있다.

16 이동식 화전 농업은 열대 우림 기후 지역에서 이루어지는 전통적인 농업 방식이다. 숲에 불을 지른 후 농사를 짓고, 지력이 떨어지면 다른 곳으로 이동하여 농사를 지으며 카사바, 암 등을 재배한다. ② 열대 우림 기후 지역은 강수량이 많아 흙 속의 영양분이 빠져나가기 때문에 토양이 비옥하지 않다.

17 (가)는 열대 우림 기후로 일 년 내내 강수량이 많으며, (나)는 건조 기후로 연 강수량이 500mm 미만이며, 강수량보다 증발량이 많아 건조하다.

| 핵심 단어 | 열대 우림 기후, 건조 기후, 강수량, 증발량

채점 기준	구분
열대 우림 기후와 건조 기후를 쓰고, 강수량의 특징을 모두 바르게 서술한 경우	상
열대 우림 기후와 건조 기후를 쓰고, 열대 우림 기후와 건조 기후 중 한 기후의 강수량 특징만 서술한 경우	중
열대 우림 기후와 건조 기후만 쓴 경우	하

18 (1) 플랜테이션
(2) 플랜테이션은 열대 기후 지역에서 선진국의 자본과 기술, 원주민의 노동력을 결합하여 상품 작물을 대규모로 재배하는 형태이다.

| 핵심 단어 | 플랜테이션, 열대 기후, 선진국, 원주민, 상품 작물

채점 기준	구분
플랜테이션을 쓰고, 농업 형태를 열대 기후, 선진국, 원주민을 모두 포함하여 바르게 서술한 경우	상
플랜테이션을 쓰고, 농업 형태를 열대 기후, 선진국, 원주민 중 두 가지만 포함하여 서술한 경우	중
플랜테이션을 쓰고, 농업 형태를 열대 기후, 선진국, 원주민 중 한 가지만 포함하여 서술하였거나 플랜테이션만 쓴 경우	하

03 온대 기후 지역의 주민 생활

~ **04 건조 및 툰드라 기후 지역의 주민 생활**

STEP 1 차근 차근 개념 체크

p. 38

1 ① 서안 해양성 기후 ② 지중해성 기후 ③ 온대 계절풍 기후 **2** ① 사막 기후 ② 스텝 기후 **3** ① 툰드라 기후

1 (1) 온대 기후 (2) 지중해성 기후 (3) 서안, 동안 **2** (1) ㉠ (2) ㉡ (3) ㉠
3 (1) 두껍게 (2) 유목 생활 **4** (1) ○ (2) ○ **5** (1) 사막 기후 (2) 순록

STEP 2 차곡 차곡 실력 체크

p. 39~41

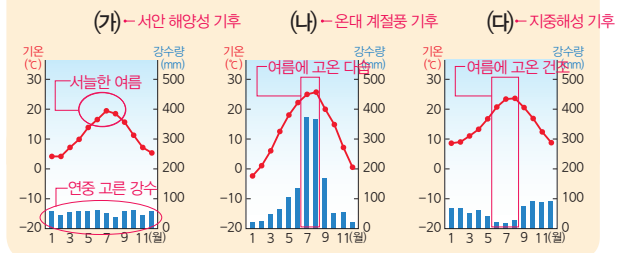
- 01** ② **02** ④ **03** ③ **04** ③ **05** ③
- 06** ④ **07** ② **08** ① **09** ② **10** ④
- 11** ③ **12** ④ **13** ② **14** ⑤ **15** ②
- 16** 해설 참조 **17** 해설 참조 **18** 해설 참조

01 (가)는 서안 해양성 기후, (나)는 온대 계절풍 기후, (다)는 지중해성 기후 지역의 기후 그래프이다. 지도의 A는 서안 해양성 기후 지역인 런던, B는 지중해성 기후 지역인 로마, C는 온대 계절풍 기후 지역인 서울이다.

02 (가)는 서안 해양성 기후, (나)는 온대 계절풍 기후, (다)는 지중해성 기후 지역의 기후 그래프이다. 온대 계절풍 기후는 여름에 남동·남서 계절풍의 영향을 받기 때문에 여름에 건조한 지중해성 기후보다 여름철 강수량이 많다. 여름에 강수량이 가장 적은 기후는 지중해성 기후이다. ㄱ. 서안 해양성 기후는 온대 계절풍 기후보다 7월 기온이 낮으며, ㄷ. 지중해성 기후는 온대 계절풍 기후보다 기온의 연교차가 작다.

문제 자료 분석하기

온대 기후 지역의 기후 그래프



03 서안 해양성 기후는 일 년 내내 바다에서 불어오는 편서풍과 난류인 북대서양 해류의 영향을 받아 기온의 연교차가 작고,

계절별 강수량이 고르게 나타난다.

- 04 서안 해양성 기후 지역은 흐린 날이 많아 맑은 날이 되면 주민들이 해변, 공원 등지에서 일광욕을 즐긴다. ①, ②는 지중해성 기후, ④는 열대 우림 기후, ⑤는 온대 계절풍 기후에 대한 내용이다.
- 05 더운 여름을 피하기 위한 '시에스타'는 지중해성 기후 지역에서 볼 수 있는 모습이다. 북아프리카와 유럽의 지중해 연안에서 나타나는 지중해성 기후는 여름에 아열대 고압대의 영향으로 덥고 건조한 날씨가 이어지고, 2. 겨울에 온대 해양성 기단의 영향으로 온난하고 여름보다 비교적 많은 비가 내려 습윤하다. 7은 서안 해양성 기후의 특징이다.
- 06 혼합 농업은 서안 해양성 기후 지역에서 이루어지는 농업 형태로, 식량 작물, 사료 작물 재배와 가축 사육이 결합된 형태이다. ①, ③은 낙농업, ②는 수목 농업, ⑤는 벼농사에 대한 내용이다.
- 07 고희의 「올리브 따는 사람들」은 지중해성 기후 지역의 수목 농업(올리브 재배)을 표현한 그림이다. 지중해성 기후 지역에서는 여름철의 고온 건조한 기후에 잘 견디는 올리브, 포도, 오렌지 등을 재배하는 수목 농업을 한다. ① 지중해성 기후는 여름철에 기온이 높고, 건조하여 이러한 기후를 잘 견디는 올리브를 재배한다. ③, ⑤는 서안 해양성 기후 지역의 혼합 농업, ④는 온대 계절풍 기후 지역의 벼농사에 대한 내용이다.
- 08 A는 사막 기후, B는 스텝 기후이다. 사막 기후 지역(A)에서는 주변에서 쉽게 구할 수 있는 재료인 흙을 이용해서 흙집, 흙벽돌집을 짓고 생활한다.

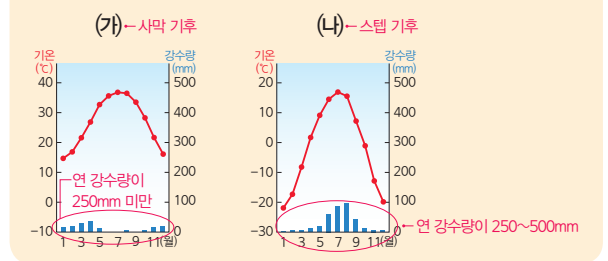
선택지 바로 보기

- ① A 지역은 흙벽돌집을 짓는다. (○)
- ② A 지역은 적도 부근에 주로 나타난다. (×)
- ③ A(사막 기후) 지역은 남·북회귀선 부근에 주로 나타난다. (×)
- ④ B 지역의 가옥은 벽이 두껍고, 창문은 작다. (×)
- ⑤ A(사막 기후) 지역의 가옥은 벽이 두껍고, 창문은 작다. (×)
- ⑥ B 지역은 오아시스를 중심으로 마을이 발달한다. (×)
- ⑦ A(사막 기후) 지역은 오아시스를 중심으로 농사를 지으며, 그 주변으로 마을이 발달한다. (×)
- ⑧ A 지역에서는 가축에서 얻은 털이나 가죽을 이용하여 집을 만든다. (×)
- ⑨ B(스텝 기후) 지역에서는 가축에서 얻은 털이나 가죽을 이용하여 집을 만든다. (×)

- 09 흙집은 사막 기후 지역에서 볼 수 있는 가옥이다. 사막 기후는 연중 고기압의 영향을 받는 남·북회귀선 부근이나 수분 공급이 어려운 대륙의 내부, 한류가 흐르는 해안 등지에 분포한다.
- 10 (가)는 사막 기후, (나)는 스텝 기후이다. 사막 기후 지역에서는 식생이 자라기 어렵고 모래나 자갈로 이루어진 사막을 볼 수

있다. 또한 모래바람과 햇빛을 피하기 위해 온몸을 감싸는 헐렁한 옷을 입으며, 주변에서 구하기 쉬운 흙을 이용하여 흙집을 짓고 생활한다. 스텝 기후 지역에는 짧은 풀이 자라는 초원이 형성되어 있고, 강수량이 적어 농사를 짓기 어렵기 때문에 양, 염소 등을 기르며 물과 풀을 찾아 이동하는 유목 생활을 하며, 조립과 분해가 편리한 이동식 가옥에서 생활한다. 이들은 가축의 가죽이나 털을 이용한 옷을 입으며, 가축에서 얻은 젖으로 가공한 유제품이나 고기를 주로 먹는다. ④ 사막 기후 지역에서는 물을 얻을 수 있는 오아시스를 중심으로 밀, 대추야자 등을 재배한다. 수목 농업은 지중해성 기후 지역의 농업 방식이다.

문제 자료 분석하기 건조 기후 지역의 기후 그래프



- 11 사막 기후 지역은 큰 일교차에 대비하여 벽을 두껍게 하고, 창문을 작게 만든다. 또한 집과 집 사이의 간격을 좁게 하여 그늘을 형성하고 강수량이 적기 때문에 가옥의 지붕을 평평하게 만든다. 최근에는 관개 수로를 설치하여 물이 부족한 기후 환경을 극복하기도 한다. ③ 오아시스 주변에서 밀, 대추야자 등을 재배한다. 플랜테이션 농업은 열대 우림 기후 지역에서 이루어지는 농업 방식이다.
- 12 툰드라 기후 지역에서는 2~3개월의 짧은 여름이 나타나는데, 이 시기에 이끼류, 풀 등이 자란다. ①은 열대 우림 기후, ②는 온대 기후, ③은 스텝 기후, ⑤는 냉대 기후에 대한 내용이다.
- 13 이누이트, 오로라, 긴 겨울과 짧은 여름 등을 통해 툰드라 기후 지역임을 알 수 있다. 툰드라 기후 지역에서는 여름에 하루 종일 해가 지지 않는 백야 현상이 나타난다.

선택지 바로 보기

- ① 채식 위주의 생활을 한다. (×)
- ② 육식 위주의 생활을 한다. (○)
- ③ 여름에 백야 현상이 나타난다. (○)
- ④ 소, 양 등을 유목하며 생활한다. (×)
- ⑤ 순록을 유목하며 생활한다. (○)
- ⑥ 여름에 언 땅이 녹으면서 이끼류, 풀 등이 자란다. (○)
- ⑦ 여름에 언 땅이 녹으면서 이끼류, 풀 등이 자란다. (○)
- ⑧ 바람을 차단하기 위해 창문은 크게, 벽은 얇게 만든다. (×)
- ⑨ 바람을 차단하기 위해 창문은 작게, 벽은 두껍게 만든다. (○)

- 14 툰드라 기후 지역에서는 난방열로 인해 토양층이 녹아 가옥

이 붕괴되는 것을 막기 위해 고상 가옥을 짓는다.

15 툰드라 기후 지역에서는 짧은 여름에 이끼를 찾아 이동하며 순록을 유목하고, 무기질과 비타민을 보충하기 위해 날고기와 날생선을 먹는다. ㄴ은 서안 해양성 기후, ㄷ은 사막 기후에 대한 내용이다.

16 (가)는 서안 해양성 기후로 편서풍과 난류의 영향을 받아 연교차가 작고, 연중 강수량이 고르며, 여름은 서늘하고 겨울은 따뜻하다. (나)는 온대 계절풍 기후로 계절풍의 영향을 받아 여름에는 고온 다습하고, 겨울에는 한랭 건조하다.

핵심 단어 | 서안 해양성 기후, 난류, 편서풍, 온대 계절풍 기후, 계절풍

채점 기준	구분
서안 해양성 기후와 온대 계절풍 기후를 쓰고, 난류, 편서풍, 계절풍을 포함하여 기온과 강수량의 특징을 바르게 서술한 경우	상
서안 해양성 기후와 온대 계절풍 기후를 쓰고, 난류, 편서풍, 계절풍 중 두 가지만 포함하여 기온과 강수량의 특징을 서술한 경우	중
서안 해양성 기후와 온대 계절풍 기후를 쓰고, 난류, 편서풍, 계절풍 중 한 가지만 포함하여 기온과 강수량의 특징을 서술하였거나, 서안 해양성 기후와 온대 계절풍 기후만 쓴 경우	하

17 (1)(가) 오아시스 농업, (나) 수목 농업
(2)(가)는 사막 기후 지역에서 나타나며, 물을 구하기 쉬운 오아시스 주변에서 밀, 대추야자, 목화 등을 재배한다. (나)는 지중해성 기후 지역에서 나타나며 여름의 고온 건조한 기후를 잘 견디는 올리브, 포도, 오렌지 등을 재배한다.

핵심 단어 | 오아시스 농업, 수목 농업, 사막 기후, 지중해성 기후

채점 기준	구분
오아시스 농업과 수목 농업, 사막 기후, 지중해성 기후를 쓰고, 해당 농업 방식이 발달하게 된 이유를 자연환경과 관련지어 서술한 경우	상
오아시스 농업과 수목 농업, 사막 기후, 지중해성 기후를 쓰고, 해당 농업 방식이 발달하게 된 이유를 서술하였으나 미흡한 경우	중
오아시스 농업과 수목 농업, 사막 기후, 지중해성 기후만 쓴 경우	하

18 툰드라 기후. 툰드라 기후는 기온이 매우 낮아 나무가 자라지 못하고, 짧은 여름에 땅이 녹아 풀, 이끼류 등이 자란다.

핵심 단어 | 툰드라 기후, 나무, 풀, 이끼류

채점 기준	구분
툰드라 기후를 쓰고, 이 기후 지역에서 자라는 식생의 특징을 바르게 서술한 경우	상
툰드라 기후를 쓰고, 이 기후 지역에서 자라는 식생의 특징을 서술하였으나 미흡한 경우	중
툰드라 기후만 쓴 경우	하

STEP 3 모아 모아 단원 체크

p. 44~46

- | | | | | |
|-------------|-----------------|-----------------|-------------|-------------|
| 01 ③ | 02 ⑤ | 03 ① | 04 ⑤ | 05 ⑤ |
| 06 ③ | 07 ④ | 08 ③ | 09 ④ | 10 ③ |
| 11 ② | 12 ② | 13 ② | 14 ④ | 15 ① |
| 16 ⑤ | 17 해설 참조 | 18 해설 참조 | | |

01 A는 열대 기후, B는 건조 기후, C는 온대 기후, D는 냉대 기후, E는 한대 기후이다.

02 열대 기후(A)는 일 년 내내 기온이 높고 강수량이 많으며, 건조 기후(B)는 강수량보다 증발량이 많아 나무가 자라기 어렵다. 온대 기후(C)는 기후가 온화하고 강수량이 풍부하며 계절의 변화가 비교적 뚜렷하고, 냉대 기후(D)는 기온의 연교차가 크고 타이가라고 불리는 침엽수림이 넓게 분포한다. ⑤ 일 년 내내 봄과 같은 날씨가 나타나는 기후는 고산 기후이다.

03 일 년 내내 봄과 같이 온화한 날씨가 지속되는 고산 기후(①)에 대한 내용이다. ②는 냉대 기후, ③은 건조 기후, ④는 온대 기후, ⑤는 한대 기후이다.

04 열대 우림 기후 지역의 주민들은 다양한 산업 활동에 종사하고 있다. 그들은 원주민의 생활 체험, 자연환경의 특성 등을 관광 상품으로 개발하여 관광객을 유치하고 있으며, 동남아시아의 열대 우림 기후 지역에서는 일 년에 2~3번 벼농사를 한다. ㄱ. 플랜테이션 농업으로 카카오, 바나나 등을 재배한다. ㄴ. 양, 염소 등을 기르는 유목 생활을 하는 곳은 스텝 기후 지역이다.

05 열대 우림 기후 지역에서 전통적으로 이루어지는 이동식 화전 농업은 밀림에 불을 질러 밭을 만들고 농사를 짓다가 지력이 떨어지면 다른 곳으로 이동하여 농사를 짓는 방식이다. 이 농업을 통해 카사바, 양, 옥수수 등을 재배한다.

06 유럽의 식민 지배 이후 선진국의 자본과 기술, 원주민의 노동력, 열대 기후를 결합하여 천연고무, 카카오 등을 대규모로 재배하는 농업 방식은 열대 우림 기후 지역의 플랜테이션 농업이다. 열대 우림 기후 지역과 관련된 주민 생활 모습은 ③ 열대 고상 가옥이다. ①은 서안 해양성 기후 지역의 혼합 농업, ②는 사막 기후 지역의 온몸을 감싸는 헐렁한 의복, ④는 사막 기후 지역의 흙집, ⑤는 툰드라 기후 지역의 순록 유목이다.

07 싱가포르, 마나우스는 열대 우림 기후 지역에 발달한 도시이다. 열대 우림 기후 지역은 일 년 내내 무덥고 습하기 때문에 사람이 거주하기에 불리하지만, 교통이 편리한 열대 우림 지역의 해안이나 강가에서는 일찍이 무역이 번성하여 도시가 발달하였다.

08 (가)는 열대 우림 기후, (나)는 지중해성 기후이다. 열대 우림 기후는 연중 기온이 높아 지중해성 기후보다 연교차가 작고, 연 강수량이 많다. 지중해 연안을 비롯하여 남·북위 30°~40° 부근에 분포하는 지중해성 기후 지역은 적도 부근에 분포하는 열대 우림 기후 지역보다 대체로 높은 위도에 있다. 열대 우림 기후 지역에서는 선진국의 자본과 기술, 원주민의 노동력, 열대 기후를 결합한 플랜테이션 농업이 이루어

지며, 지중해성 기후 지역에서는 여름철 고온 건조한 기후를 잘 견디는 오렌지, 올리브, 포도 등을 재배하는 수목 농업이 이루어진다. ③ 지중해성 기후 지역은 여름에 건조하고 겨울에 습윤하다. 연중 강수가 고르게 내리는 지역은 서안 해양성 기후 지역이다.

09 (가)는 건조 기후 지역의 유목과 오아시스 농업, (나)는 열대 우림 기후 지역의 이동식 화전 농업과 플랜테이션에 대한 내용이다. 열대 우림 기후 지역에서는 음식이 부패하는 것을 막기 위해 조리할 때 향신료를 많이 사용한다.

선택지 바로 보기

- ① (가)에서는 통풍이 잘되는 가벼운 옷을 입는다. (×)
- ② (가)는 비가 많이 내리어서 지붕의 경사를 급하게 만든다. (×)
- ③ (나)에서는 이동에 편리한 가옥을 만들어 생활한다. (×)
- ④ (나)에서는 음식을 만들 때 향신료를 많이 사용한다. (○)
- ⑤ (나)에서는 주변에서 쉽게 구할 수 있는 흙으로 집을 짓는다. (×)

10 여행기는 지중해성 기후 지역에 대한 내용이다. 이곳에서 건물의 외벽을 흰색으로 칠하는 이유(㉠)는 강한 햇빛을 반사하여 차단하기 위해서이고, 포도와 올리브를 재배하는 이유(㉡)는 여름철의 고온 건조한 기후를 잘 견딜 수 있기 때문이며, 이러한 재배 방식을 수목 농업이라고 한다. 또한 이 지역의 주민들은 낮 동안에 '시에스타'라는 낮잠을 즐기는데, 이는 낮 동안의 뜨거운 열기를 피하기 위한 것으로 지중해성 기후에 적응하기 위한 주민 생활 모습이다.

11 (가)는 사막 기후 지역, (나)는 툰드라 기후 지역이다. 사막 기후 지역에서는 강한 모래바람과 햇빛을 막기 위해 온몸을 감싸는 험렁한 옷을 입으며, 큰 일교차에 대비하기 위해 벽은 두껍게 하고, 창문은 작게 만든다. 이들은 오아시스 주변에서 대추야자, 밀 등을 재배하고, 최근에는 관개 시설 및 관개 수로를 설치하여 물이 부족한 환경을 극복하고 있다. 툰드라 기후 지역에서는 추위에 대비하기 위해 동물의 털과 가죽으로 만든 두꺼운 옷을 입으며, 비타민과 무기질을 보충하기 위해 날고기와 날생선을 먹는다. 토양층이 녹아 가옥이 붕괴하는 것을 막기 위해 고상 가옥을 지으며, 순록을 유목하며 생활한다. 최근에는 여름철의 백야 현상, 빙하를 관광 상품으로 개발하여 관광 산업을 하고 있다. ② 양, 카사바는 열대 우림 기후 지역에서 이루어지는 이동식 화전 농업으로 재배하는 작물이다.

12 (나)는 툰드라 기후 지역의 고상 가옥으로, 2~3개월의 짧은 여름에 자라는 풀, 이끼류 등을 찾아 순록을 유목하는 모습을 볼 수 있다.

선택지 바로 보기

- ㉠. 순록을 유목하는 모습 (○)
- ㉡. 겨울에 하루 종일 해가 지지 않는 모습 (×)
- ㉢. 여름에 하루 종일 해가 지지 않는 모습
- ㉣. 짧은 여름에 풀, 이끼류 등이 자라는 모습 (○)
- ㉤. 파이프라인이 지하에 건설되어 있는 모습 (×)
- ㉥. 파이프라인이 지면에서 띄워 건설되어 있는 모습

13 곡물과 사료 작물 재배, 가축 사육을 함께하는 혼합 농업의 원리를 나타낸 그림으로 서안 해양성 기후 지역의 농업 모습이다. ㉠은 원예 농업, ㉡은 이동식 화전 농업에 대한 내용이다.

14 (가)는 지중해성 기후, (나)는 온대 계절풍 기후이다. 온대 계절풍 기후는 지중해성 기후보다 연교차가 크고 여름 강수량이 많으며 겨울 기온이 더 낮다. ④ 여름 강수량이 더 많은 기후는 온대 계절풍 기후이다.

15 스텝 기후, 툰드라 기후 모두 강수량이 적어 농사짓기에 불리하기 때문에 이동을 하며 가축을 키우는 유목 생활을 한다. 이 두 지역에서는 조립과 분해가 쉬워 유목 생활에 편리한 이동식 가옥을 짓고 산다.

16 툰드라 기후 지역에서는 여름에 얼어 있던 토양층이 녹아서 파이프라인이 붕괴되는 것을 막기 위해 사진과 같이 지표면에서 띄워 짓는다.

17 (1) 키토-고산 기후, 벨랭-열대 기후
 (2) 벨랭은 적도 주변의 저지대에 위치하고, 키토는 적도 주변의 해발 고도가 높은 곳인 고산 지대에 위치하므로 기온이 다르게 나타난다.

| 핵심 단어 | 고산 기후, 열대 기후, 저지대, 고지대, 해발 고도

채점 기준	구분
고산 기후와 열대 기후를 쓰고, 두 도시의 기온이 다르게 나타나는 이유를 해발 고도의 차이를 포함하여 바르게 서술한 경우	상
고산 기후와 열대 기후를 쓰고, 두 도시의 기온이 다르게 나타나는 이유를 서술하였으나 미흡한 경우	중
고산 기후와 열대 기후만 쓴 경우	하

18 (1) 고상 가옥
 (2) (가)는 지면에서 올라오는 열기와 습기, 해충과 짐승의 침입을 막기 위해 고상 가옥을 짓는다. (나)는 지면에서 올라오는 냉기와 가옥의 난방열로 인해 가옥이 붕괴되는 것을 막고, 눈이 입구에 쌓이는 것을 방지하기 위해 고상 가옥을 짓는다.

| 핵심 단어 | 고상 가옥, 열기와 습기, 해충과 짐승, 난방열, 눈

채점 기준	구분
고상 가옥을 쓰고, 이러한 형태가 나타나는 이유를 각각 바르게 서술한 경우	상
고상 가옥을 쓰고, 이러한 형태가 나타나는 이유를 (가), (나) 중 한 가지만 서술한 경우	중
고상 가옥만 쓴 경우	하

III | 자연으로 떠나는 여행

01 산지 지형으로 떠나는 여행

~ 02 해안 지형으로 떠나는 여행

STEP 1 차근 차근 개념 체크 p. 50

1 ① 지구 내부의 힘 ② 지구 외부의 힘 2 ① 고기 습곡 산지 ② 신기 습곡 산지 3 ① 인도판 ② 유라시아판 4 ① 석호 ② 사빈 ③ 시 스택

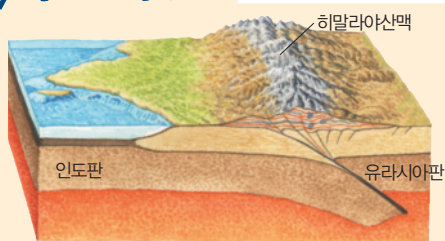
1 (1) 나, 다, 모 (2) 가, 라, 바 2 (1) 신기 습곡 산지 (2) 고기 습곡 산지 (3) 고원 (4) 화산 3 (1) 알프스 (2) 안데스 4 (1) ㉠ (2) ㉡ 5 (1) ㉠ (2) ㉡ (3) ㉢

STEP 2 차곡 차곡 실력 체크 p. 51~53

01 ① 02 ③ 03 ④ 04 ③ 05 ③
06 ③ 07 ② 08 ⑤ 09 ② 10 ③
11 ⑤ 12 ③ 13 ① 14 산호초 15 ④
16 ③ 17 ③ 18 ① 19 해설 참조 20 해설 참조

- 01 지구 내부의 힘은 습곡, 단층, 융기, 침강, 화산 활동 등으로 산맥, 고원, 화산 등의 지형을 형성한다. 다. 석호와 라. 시 스택은 지구 외부의 힘에 의해 형성되는 지형이다.
- 02 지구 내부의 힘인 맨틀과 지각판의 움직임에 따른 지각 변동으로 산지가 만들어진다. ③ 지구 외부의 힘인 태양 에너지에 의해 침식·운반·퇴적·풍화 작용을 받아 하천, 해안, 빙하 지형 등의 소지형이 형성된다.
- 03 산지 지형은 지층이 양쪽에서 누르는 힘을 받아 휘어지는 습곡 작용으로 형성된다.

문제 자료 분석하기 히말라야산맥의 형성 과정

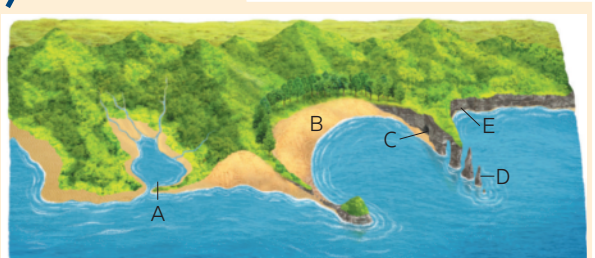


히말라야산맥은 인도판과 유라시아판이 충돌하는 과정에서 땅이 솟아올라 만들어졌다.

- 04 A는 알프스산맥, B는 우랄산맥, C는 히말라야산맥, D는 로키산맥, E는 안데스산맥이다.
- 05 안데스산맥과 히말라야산맥은 신기 습곡 산지, 우랄산맥과 에팔라치아산맥은 고기 습곡 산지에 해당한다.
- 06 ①, ②, ④, ⑤는 고기 습곡 산지, ③은 신기 습곡 산지에 대한 설명이다.

- 07 고기 습곡 산지는 오랫동안 침식을 받아 해발 고도가 낮고 완만하다. 반면, 신기 습곡 산지는 형성 시기가 오래되지 않아 해발 고도가 높고 험준하다.
- 08 산지는 평지가 적고 토양이 척박하여 농업에 불리하다. 이로 인해 밭농사 중심의 농업이 발달하였으며, 계단식 농경지를 볼 수 있다. 반면, 산지는 사람들에게 지하자원, 임산물 등을 공급해 준다. 또한 깨끗하고 아름다운 자연 경관을 스키장, 휴양림 등으로 이용하는 관광 산업도 발달하였다.
- 09 적도 지방에 위치한 안데스산맥의 고산 지대는 기후가 온화하여 오래전부터 문명이 발달하였다.
- 10 만에서는 파랑의 퇴적 작용이 활발하게 일어나 사빈(모래사장), 석호 등이 형성된다.
- 11 암석 해안에서는 시 스택과 해안 절벽이, 모래 해안에서는 사빈과 석호가 형성된다.
- 12 피오르는 빙하가 깎아 낸 골짜기가 바닷물에 침수되어 형성된 좁고 긴 만이다.
- 13 갯벌은 밀물과 썰물의 작용에 의해 진흙이 퇴적되어 형성되며, 양식장, 염전, 체험 학습장 등으로 이용된다.
- 14 산호초는 산호가 죽거나 바닷속 생물의 탄산 칼슘 성분이 쌓여 만들어진 군체이다. 깨끗하고 따뜻한 얕은 바다에서 잘 형성된다.
- 15 오스트레일리아의 그레이트 오션 로드는 파랑의 침식 작용, 오스트레일리아의 골드 코스트는 파랑의 퇴적 작용으로 형성되었다.
- 16 A는 석호, B는 사빈, C는 해안 동굴, D는 시 스택, E는 해안 절벽이다. 해안 동굴은 파랑의 침식 작용으로 형성된다.

문제 자료 분석하기 해안 지형



- A(석호): 파랑에 의해 운반된 모래가 쌓여 발달한 사주가 만의 입구를 막아 형성
- B(사빈): 하천에 의해 운반된 모래나 주변에서 침식된 물질이 파랑에 의해 해안에 퇴적되어 형성
- C(해안 동굴): 해안 절벽의 약한 암석 부분이 파랑에 의해 침식되어 형성된 동굴
- D(시 스택): 파랑에 의한 침식으로 육지에서 분리되어 고립된 촛대와 같이 생긴 바위섬
- E(해안 절벽): 파랑의 침식 작용에 의해 해안 사면이 육지 쪽으로 후퇴하면서 형성된 절벽

17 해안 지역은 다른 지역과 교류하기에 편리하며, 해상 교통이 발달하고 국가 간 교류가 활발해지면서 대규모 무역항이나 공업 도시로 성장하기도 한다.

18 관광 산업이 발달하면 일자리 창출, 수익 증대, 주민들의 삶의 질 향상 등의 다양한 효과가 나타난다. **ㄷ. 교통 체증 증가**와 **ㄹ. 해안 생태계 파괴**는 관광 산업이 해안 지역에 미친 부정적 영향이다.

19 신기 습곡 산지는 형성 시기가 오래되지 않아 해발 고도가 높고 험준하다. 반면, 고기 습곡 산지는 오랜 기간 풍화와 침식을 받아 해발 고도가 낮고 완만하다.

| 핵심 단어 | 해발 고도, 높고, 험준, 풍화, 침식, 낮고, 완만

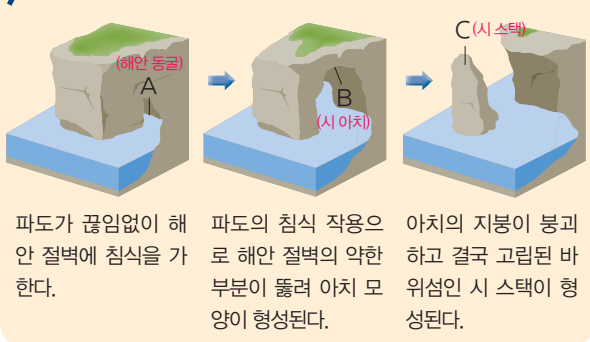
채점 기준	구분
신기 습곡 산지와 고기 습곡 산지의 특징을 형성 시기, 해발 고도와 관련하여 바르게 서술한 경우	상
신기 습곡 산지와 고기 습곡 산지의 특징을 형성 시기, 해발 고도와 관련하여 서술하였으나 미흡한 경우	중
신기 습곡 산지와 고기 습곡 산지의 특징 중 한 가지만 서술한 경우	하

20 (1) A 해안 동굴, B 시 아치, C 시 스택
 (2) 파랑의 침식 작용으로 해안 절벽의 약한 부분이 떨어져 시 아치가 형성된다. 그 후 시 아치가 붕괴되고 암석의 단단한 부분이 침식에 견디어 시 스택이 형성된다.

| 핵심 단어 | 파랑, 침식, 해안 절벽, 시 아치, 시 스택

채점 기준	구분
해안 동굴, 시 아치, 시 스택을 쓰고, 시 스택의 형성 과정을 바르게 서술한 경우	상
해안 동굴, 시 아치, 시 스택을 쓰고, 시 스택의 형성 과정을 서술하였으나 미흡한 경우	중
해안 동굴, 시 아치, 시 스택만 쓴 경우	하

문제 자료 분석하기 시 스택의 형성 과정



03 우리나라의 자연 경관

STEP 1 차근 차근 개념 체크 p. 55

1 ① 용암동굴 ② 용암 2 ① 중유석 ② 석순 ③ 석주

1 (1) 오름 (2) 용암동굴 (3) 주상 절리 2 (1) ○ (2) ○ (3) × (4) ×

STEP 2 차곡 차곡 실력 체크 p. 56~57

- 01 ① 02 ④ 03 ⑤ 04 ③ 05 ④
 06 ⑤ 07 ② 08 ⑤ 09 ② 10 ②
 11 ③ 12 ① 13 해설 참조 14 해설 참조 15 해설 참조

01 제주도는 여러 차례의 화산 활동에 의해 형성된 화산섬이다. 특히 한라산, 성산 일출봉, 거문오름 용암동굴계는 유네스코에서 보전 가치를 인정받아 2007년에 우리나라 최초로 세계 자연 유산에 등재되었다. ① 제주도는 점성이 낮은 용암이 분출하여 경사가 완만하다.

02 제주도에서는 오름, 주상 절리, 화구호, 용암동굴 등의 화산 지형을 볼 수 있다. ㄱ. 사빈은 해안 지형, ㄷ. 석회동굴은 카르스트 지형이다.

03 ㄱ은 화구호, ㄴ은 오름에 관한 설명이다.

선택지 바로 보기

- ㄱ. 오름은 용암이 분출한 분화구에 물이 고여 형성되었다. (×)
- 화구호는 용암이 분출한 분화구에 물이 고여 형성되었다.
- ㄴ. 화구호는 큰 화산의 사면에서 분출하여 형성된 작은 화산이다. (×)
- 오름은 큰 화산의 사면에서 분출하여 형성된 작은 화산이다.
- ㄷ. 용암동굴은 용암이 지하에서 식으면서 냉각 속도의 차이에 의해 형성되었다. (○)
- ㄹ. 주상 절리는 용암이 식으면서 벌집 모양의 다각형 기둥으로 굳어져 형성되었다. (○)

04 우리나라는 국토의 70% 이상이 산지이며, 오래전에 형성되어 해발 고도가 낮고 완만하다. 금강산, 설악산, 북한산 등 화강암으로 이루어진 돌산에서는 바위가 그대로 드러난 봉우리와 절벽을 볼 수 있다. 우리나라는 오랫동안 침식을 받아 평평했던 땅이 동쪽으로 치우쳐 융기하여 동고서저 지형이 나타난다. 이로 인해 우리나라의 높은 산지 대부분은 북동부 지역에 분포한다.

05 설악산은 화강암으로 이루어진 돌산이다. 지리산은 편마암으로 이루어진 흙산으로 산의 모양이 부드럽고 완만하다.

문제 자료 분석하기 돌산과 흙산



▲ 설악산(돌산)
 설악산은 화강암 산지로 땅속에서 오랜 기간 풍화 과정을 거친 암석이 산 위로 드러나면서 기암괴석이 발달하였다.



▲ 지리산(흙산)
 편마암이 오랜 세월 풍화를 받아 토양이 두껍게 쌓여 있다. 삼림으로 덮여 있는 경우가 많으며, 정상부가 완만한 경사를 이룬다.



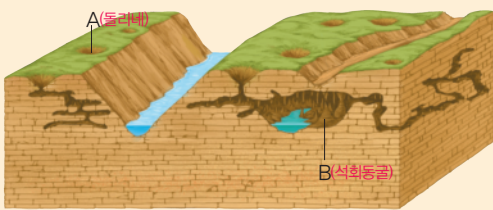
- 06 황해로 흘러드는 하천은 동해로 흘러드는 하천에 비해 길이가 길고 경사가 완만하다.
- 07 주요 평야는 주로 남서쪽에 분포한다.
- 08 서·남해안은 수심이 얇고 해안선이 복잡한 리아스 해안이 나타나고, 동해안은 수심이 깊고 해안선이 단조롭다.

선택지 바로 보기

- ① 동해안은 수심이 얇고 해안선이 단조롭다. (X)
 ● 동해안은 수심이 깊고 해안선이 단조롭다.
- ② 남해안에는 사빈, 석호, 해안 절벽 등이 발달해 있다. (X)
 ● 동해안에는 사빈, 석호, 해안 절벽 등이 발달해 있다.
- ③ 동해안이 서해안보다 밀물과 썰물의 차가 크게 나타난다. (X)
 ● 서해안이 동해안보다 밀물과 썰물의 차가 크게 나타난다.
- ④ 동해안은 조류의 작용이 활발하기 때문에 갯벌이 넓게 발달하였다. (X)
 ● 서해안은 조류의 작용이 활발하기 때문에 갯벌이 넓게 발달하였다.
- ⑤ 서·남해안은 수심이 얇고 섬이 많아 해안선이 복잡한 리아스 해안이 나타난다. (O)

- 09 서해안은 섬이 많고, 수심이 얇으며 해안선이 복잡하다. 또한 조차가 커서 갯벌이 나타난다. 반면, 동해안은 섬이 적고, 수심이 깊으며 해안선이 단조롭다. 또한 파랑의 퇴적 작용으로 사빈이 발달하였다.
- 10 카르스트 지형은 석회암이 물에 녹아 형성된 지형이다. 우리나라에서는 강원도 남부와 충청북도 일대에서 주로 볼 수 있다. 돌리네는 빗물에 의해 땅이 움푹 파인 지형으로 배수가 잘되어 지표수가 부족하기 때문에 밭농사를 한다.
- 11 A는 돌리네, B는 석회동굴이다.

문제 자료 분석하기 카르스트 지형



- A(돌리네): 땅속의 석회암이 물에 녹아 사라지면 지표면에 웅덩이 모양 형성, 배수가 잘되어 밭농사에 이용
- B(석회동굴): 석회암이 오랜 시간 지하수에 녹아서 형성, 동굴 내부에는鍾乳石, 석순, 석주 형성

- 12 제주도는 현무암질 용암이 많이 분출되어 경사가 완만하며, 한라산 정상에는 분화구인 백록담이 있다. 독도와 울릉도는 점성이 높은 용암 분출로 경사가 급하다. ① 제주도에 약 360개의 오름이 있다.
- 13 용암이 바다와 만나 굳으면서 다각형의 기둥 모양으로 쪼개져 형성되었다.
 | 핵심 단어 | 용암, 다각형, 기둥

14 • 정답과 해설

채점 기준	구분
주상 절리의 형성 과정을 바르게 서술한 경우	상
주상 절리의 형성 과정을 서술하였으나 미흡한 경우	하

- 14 우리나라의 서해안은 수심이 얇고 해안선이 복잡한 리아스 해안이 나타나며, 조차가 커서 갯벌이 발달하였다.

| 핵심 단어 | 수심, 해안선, 조차

채점 기준	구분
우리나라 서해안의 특징을 제시된 단어를 모두 이용하여 서술한 경우	상
우리나라 서해안의 특징을 제시된 단어 중 두 가지만 이용하여 서술한 경우	중
우리나라 서해안의 특징을 제시된 단어 중 한 가지만 이용하여 서술한 경우	하

- 15 제주도의 만장굴은 용암이 흐를 때 표면이 먼저 굳고 안쪽으로 용암이 흘러나가 형성된 용암동굴이다. 단양의 고수 동굴은 석회암이 지하수에 녹아서 형성된 석회동굴이다.

| 핵심 단어 | 용암, 용암동굴, 석회암, 지하수, 석회동굴

채점 기준	구분
제주도의 만장굴과 단양의 고수 동굴의 형성 과정을 각각 바르게 서술한 경우	상
제주도의 만장굴과 단양의 고수 동굴의 형성 과정을 각각 서술하였으나 미흡한 경우	중
제주도의 만장굴과 단양의 고수 동굴의 형성 과정 중 한 가지만 서술한 경우	하

STEP 3 모아 모아 단원 체크

p. 60~62

- | | | | | |
|----------|------|------|----------|----------|
| 01 ② | 02 ④ | 03 ② | 04 ③ | 05 ① |
| 06 ⑤ | 07 ⑤ | 08 ① | 09 ① | 10 ⑤ |
| 11 ① | 12 ② | 13 ③ | 14 ② | 15 ⑤ |
| 16 ③ | 17 ① | 18 ③ | 19 해설 참조 | 20 해설 참조 |
| 21 해설 참조 | | | | |

- 01 지구 내부의 힘은 지구 내부의 열과 압력에 의해 지형이 형성되는 작용으로, 조산 운동, 조륙 운동, 화산 활동 등에 의해 산맥, 고원, 화산 등의 규모가 큰 지형을 형성한다. ② 태양 에너지에 의해 지형이 형성되는 작용은 지구 외부의 힘에 관한 설명이다.
- 02 인도판이 유라시아판을 밀어 올리면서 히말라야산맥이 형성되었다.
- 03 A는 알프스산맥, B는 우랄산맥, C는 히말라야산맥, D는 로키산맥, E는 안데스산맥이다. 알프스산맥, 히말라야산맥, 로키산맥, 안데스산맥은 신기 습곡 산지에 해당한다.
- 04 신기 습곡 산지는 형성 시기가 오래되지 않아 높고 험준하며, 지각 운동이 활발하여 지진이나 화산 활동이 일어난다. ③은 고기 습곡 산지에 관한 설명이다.
- 05 알프스 산지의 주민들은 아름다운 자연 경관을 관광 자원으로 활용하고 있다. 또한 이 지역에서는 여름에는 고지대, 겨울

올에는 저지대로 이동하며 가축을 기르는 이목 형태의 목축업을 한다. 소, 양 등을 길러 가축에서 얻은 우유로 치즈, 버터, 요구르트 등을 만든다. ① 안데스 산지에서 라마와 알파카를 사육하며, 라마는 짐을 운반하기에, 알파카는 털을 얻기에 유용하다.

- 06 안데스 산지의 주민들은 라마와 알파카 털로 짠 망토를 두른다. 이 지역은 일교차가 커서 기온이 낮아지는 밤에 망토를 보온용으로 사용한다. 모자는 강한 자외선을 막아 주는 역할을 한다. ⑤ 셰르파는 네팔 동부 히말라야 산지에 사는 티베트계 사람들로 산악 안내자나 짐꾼 등 관광 산업에 종사하고 있다.
- 07 파랑의 침식 작용이 활발하게 일어나는 곳에서는 해안 동굴, 해안 절벽, 시 스택 등이 형성된다. ㄱ. 갯벌은 조류의 퇴적 작용으로 형성된다. ㄴ. 사빈은 파랑의 퇴적 작용이 활발하게 일어나는 만에서 형성된다.
- 08 A는 사빈, B는 해안 절벽, C는 해안 동굴, D는 시 아치, E는 시 스택이다. A는 파랑의 퇴적 작용, B, C, D, E는 파랑의 침식 작용으로 형성되었다.
- 09 갯벌은 조차가 큰 해안에서 형성된다.
- 10 피오르 해안은 빙하가 깎아 낸 골짜기가 바닷물에 침수되어 형성된 좁고 긴 만으로 수심이 깊다.
- 11 관광객을 위한 숙박업소, 음식점, 각종 편의 시설 증가 등 3차 산업이 발달한다.
- 12 한라산 사면에서 분출하여 형성된 측화산을 오름이라고 한다. 한라산을 중심으로 360여 개의 오름이 분포한다.
- 13 강원도 영월·삼척, 충청북도 단양은 대표적인 석회암 분포 지역으로 시멘트 공업이 발달하였고, 석회동굴, 돌리네 등의 카르스트 지형이 나타난다.
- 14 석회동굴은 석회암이 분포하는 곳에서 지하수나 빗물이 녹아 형성된다. 동굴 내부에는 종유석, 석순, 석주를 볼 수 있다. ② 용암이 흐르다가 굳어 형성된 지형은 용암동굴이다.
- 15 (가)는 용암동굴(제주도의 만장굴), (나)는 석회동굴(단양의 고수동굴)이다.

선택지 바로 보기

- ① (가)는 석회암 지대에서 볼 수 있다. (×)
 ◀(나)는 석회암 지대에서 볼 수 있다.
- ② (가)는 카르스트 지형에서 볼 수 있다. (×)
 ▶(나)는 카르스트 지형에서 볼 수 있다.
- ③ (가)는 강원도와 충청북도 일대에 분포한다. (×)
 ▶(나)는 강원도와 충청북도 일대에 분포한다.
- ④ (나)는 용암동굴로 제주도에 볼 수 있다. (×)
 ▶(가)는 용암동굴로 제주도에 볼 수 있다.
- ⑤ (나)는 석회암이 물에 녹아 형성된 석회동굴이다. (○)

16 태백산맥이 동쪽으로 치우쳐 있기 때문에 동쪽은 경사가 급하고 서쪽은 경사가 완만하다. 동고서저 지형의 영향으로 대부분의 하천은 황해로 흐른다.

선택지 바로 보기

- ㄱ. 서고동저의 지형이 나타난다. (×) ▶동고서저의 지형이 나타난다.
- ㄴ. 동쪽으로 치우쳐 융기하였다. (○)
- ㄷ. 대부분의 큰 하천은 동쪽에서 서쪽으로 흐른다. (○)
- ㄹ. 동해로 흘러가는 하천은 유량이 많고 경사가 완만하다. (×)
 ▶황해로 흘러가는 하천은 유량이 많고 경사가 완만하다.

17 우리나라의 동해안은 수심이 깊고 해안선이 단조롭다. 모래해안과 암석 해안이 발달해 있으며, 모래해안에는 사빈이 발달하여 해수욕장으로 이용한다. 암석 해안 중 파랑의 침식 작용이 활발한 곳에서는 해안 절벽, 시 스택 등의 지형을 볼 수 있다. ① 리아스 해안은 서·남해안에 발달해 있다.

18 서해안은 조차가 크기 때문에 썰물 때 넓은 범위에 걸쳐 바닷물이 빠져나가 갯벌이 드러난다. 갯벌은 양식장, 염전, 체험 학습장으로 이용된다. ① 수심이 깊고 조차가 작은 것, ② 석호가 발달하여 관광지로 이용되는 것, ④ 단조로운 해안선을 따라 해수욕장이 발달해 있는 것, ⑤ 파도를 막아 주는 섬이 거의 없어 파랑의 작용이 활발한 것은 동해안에 관한 설명이다.

19 (1) 지진, 화산 활동

| 핵심 단어 | 지진, 화산 활동

채점 기준	구분
㉠에 들어갈 지각 운동 두 가지를 모두 바르게 쓴 경우	상
㉠에 들어갈 지각 운동을 한 가지만 쓴 경우	하

(2) 알프스산맥, 히말라야산맥, 로키산맥, 안데스산맥 등

| 핵심 단어 | 알프스산맥, 히말라야산맥, 로키산맥, 안데스산맥

채점 기준	구분
신기 습곡 산지에 해당하는 산맥 두 가지를 모두 바르게 쓴 경우	상
신기 습곡 산지에 해당하는 산맥을 한 가지만 쓴 경우	하

20 해안 절벽, 해안 동굴, 시 스택, 시 아치 등

| 핵심 단어 | 해안 절벽, 해안 동굴, 시 스택, 시 아치

채점 기준	구분
곳에서 볼 수 있는 지형 세 가지를 모두 바르게 쓴 경우	상
곳에서 볼 수 있는 지형을 두 가지만 쓴 경우	중
곳에서 볼 수 있는 지형을 한 가지만 쓴 경우	하

21 암석 해안은 파랑의 침식 작용으로, 모래해안은 파랑의 퇴적 작용으로 형성되었다.

| 핵심 단어 | 파랑, 침식, 퇴적

채점 기준	구분
암석 해안과 모래해안의 형성 과정을 바르게 서술한 경우	상
암석 해안과 모래해안의 형성 과정을 서술하였으나 미흡한 경우	중
암석 해안과 모래해안 중 한 가지만 형성 과정을 서술한 경우	하

IV | 다양한 세계, 다양한 문화

01 다양한 문화 지역 ~ 02 세계화와 문화 변용

STEP 1 차근 차근 개념 체크 p. 66

1 ① 유럽 문화 지역 ② 건조 문화 지역 ③ 동아시아 문화 지역 ④ 라틴 아메리카 문화 지역 2 ① 불교 ② 크리스티교 ③ 이슬람교 ④ 힌두교 3 ① 포르투갈어 ② 에스파냐어

1 (1) 문화 (2) 문화 경관 2 (1) ㉠ ㉡ ㉢ ㉣ 3 (1) ○ (2) ○ (3) ○
4 (1) ㄱ (2) ㄷ (3) ㄷ (4) ㄴ 5 (1) 문화 변용 (2) 세계화 (3) 획일화

STEP 2 차곡 차곡 실력 체크 p. 67~69

- | | | | | |
|------|------|------|----------|----------|
| 01 ③ | 02 ① | 03 ④ | 04 ④ | 05 ① |
| 06 ② | 07 ⑤ | 08 ② | 09 ② | 10 ② |
| 11 ④ | 12 ③ | 13 ② | 14 ③ | 15 ④ |
| 16 ① | 17 ⑤ | 18 ④ | 19 해설 참조 | 20 해설 참조 |

- 01 인간이 자연환경을 극복하고 자연과 상호 작용하는 과정에서 만들어 낸 사고방식이나 생활 양식을 문화라고 한다.
- 02 문화는 다른 지역과의 문화 교류를 통해 변화하는 속성을 가진다.
- 03 문화 경관은 문화를 가진 인간 집단이 일정한 장소에 거주하면서 자신들의 문화를 반영하여 만들어 놓은 모습으로 종교 경관, 언어 경관, 건축 경관 등과 같이 눈으로 볼 수 있는 형태로 나타난다.
- 04 같은 문화 요소를 공유하거나 유사한 문화 경관이 나타나는 공간적 범위를 문화 지역이라고 한다.

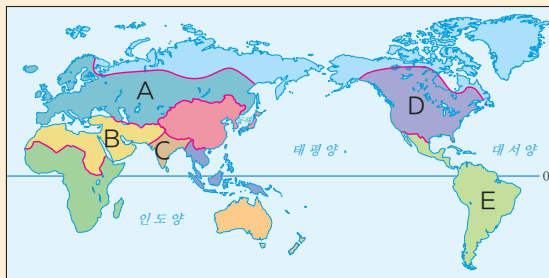
선택지 바로 보기

- ① 문화 지역 간의 경계는 국경선과 일치한다. (X)
▶ 문화 지역 간의 경계는 국경선과 일치하지 않는 경우도 있다.
- ② 문화 지역을 구분하는 유일한 기준은 종교이다. (X)
▶ 문화 지역을 구분하는 기준은 종교, 언어, 민족, 의식주 등 다양하다.
- ③ 한 지역이 여러 개의 문화 지역에 포함되지 않는다. (X)
▶ 한 지역이 여러 개의 문화 지역에 포함되기도 한다.
- ④ 비슷한 문화 요소나 문화 경관이 나타나는 공간 범위이다. (O)
- ⑤ 교통·통신의 발달로 교류가 활발해지면서 문화 지역의 경계가 점차 명확해지고 있다. (X)
▶ 교통·통신의 발달로 교류가 활발해지면서 문화 지역의 경계가 점차 모호해지고 있다.

- 05 유럽 문화 지역은 산업화의 역사가 오래되었고, 크리스티교 문화가 발달하였다.
- 06 동아시아 문화 지역에서는 한자를 사용하고 유교 문화가 발달했다. ㄴ, 유목은 건조 문화 지역, ㄷ, 혼혈족은 라틴 아메리카 문화 지역의 특징이다.

- 07 ①은 동아시아 문화 지역, ②는 인도 문화 지역, ③은 유럽 문화 지역, ④는 건조 문화 지역의 특징이다.
- 08 제시된 설명은 건조 문화 지역에 관한 내용이다. 지도에서 A는 유럽 문화 지역, B는 건조 문화 지역, C는 인도 문화 지역, D는 앵글로아메리카 문화 지역, E는 라틴 아메리카 문화 지역이다.

문제 자료 분석하기 세계의 문화 지역



- A(유럽 문화 지역): 크리스티교, 일찍 산업화
- B(건조 문화 지역): 이슬람교, 아랍어, 유목, 오아시스 농업
- C(인도 문화 지역): 불교·힌두교의 발상지, 소 숭배, 다양한 종교와 언어
- D(앵글로아메리카 문화 지역): 산업 발달, 다양한 인종 구성, 영어, 크리스티교(개신교)
- E(라틴 아메리카 문화 지역): 남부 유럽의 영향, 에스파냐어·포르투갈어 사용, 크리스티교(가톨릭교), 인디오·백인·흑인·혼혈족으로 구성

- 09 A는 유럽 문화 지역, B는 아프리카 문화 지역, C는 동아시아 문화 지역, D는 앵글로아메리카 문화 지역, E는 라틴 아메리카 문화 지역이다. ①은 건조 문화 지역, ③은 북극 문화 지역, ④는 동아시아 문화 지역, ⑤는 유럽 문화 지역에 관한 설명이다.
- 10 자연환경은 의식주 생활에 영향을 미친다. 또한 동일한 자연 환경이라도 서로 다른 문화 경관이 나타날 수 있다. 인터넷과 교통수단 등이 발달하면서 문화가 서로 교류하여 다양해지고, 융합되거나 사라지는 현상이 나타나기도 한다.
- 11 적도 부근 지역의 주민들이 짧고 간편한 옷을 입는 것은 자연환경에 따라 문화의 지역 차가 발생한 사례이다. ① 이슬람 여성들의 히잡 착용, ② 이슬람 문화 지역에서 돼지고기를 먹지 않는 것, ③ 힌두교를 믿는 인도에서 소고기를 먹지 않는 것, ⑤ 선진국에서 높은 건물, 넓은 도로, 상점 등이 밀집한 경관이 나타나는 것은 경제·사회적 환경에 따라 문화의 지역 차가 발생한 사례이다.
- 12 제시된 사진은 건조 기후 지역의 흙벽돌집과 열대 기후 지역의 고상 가옥이다. 건조 기후 지역의 가옥 재료는 흙이며, 벽을 두껍게 하고 창문을 작게 만든다. 열대 기후 지역의 가옥 재료는 나무이며, 뜨거운 열기와 습기를 차단하기 위해 고상 가옥 형태로 짓는다.

- 13 제시된 글은 종교가 식생활 차이에 영향을 미친 사례이다.
- 14 A는 힌두교 문화 지역이다. ①은 불교 문화 지역, ②, ④, ⑤는 이슬람교 문화 지역에 관한 설명이다.

문제 자료 분석하기 힌두교 문화 지역의 특징



- 지역마다 다른 신을 모시는 사원
- 소를 숭배하여 소고기 금기
- 갠지스강에서 목욕
- 사리 착용

- 15 에스파냐의 영향으로 멕시코에 가톨릭교가 전파되었으나 원주민이 이를 변형하여 자신들의 모습을 닮은 검은 머리, 갈색 피부의 성모상을 만들었다.
- 16 교통과 통신의 발달로 전 세계적으로 문화의 교류가 증가하는 모습을 보이고 있으며, 전 세계가 하나의 문화권처럼 여겨지고 있다. ① 세계화에 따라 개별 국가의 문화적 고유성은 약화되고 있다.
- 17 문화의 획일화는 세계화로 전 세계의 문화가 서로 비슷해지는 현상이다. 문화 융합은 두 문화가 만나 새로운 문화가 만들어지는 현상이다.
- 18 문화의 획일화는 문화의 세계화에 따라 한 지역의 문화적 특성이 다른 지역에서도 같거나 유사하게 나타나는 현상이다.
- 19 (1) 라틴 아메리카 문화 지역
(2) 남부 유럽의 영향으로 주로 에스파냐어와 포르투갈어를 사용하며, 가톨릭교를 믿는다.

| 핵심 단어 | 에스파냐어, 포르투갈어, 가톨릭교

채점 기준	구분
라틴 아메리카 문화 지역을 쓰고, 라틴 아메리카 문화 지역의 특징을 언어와 종교적 측면에서 바르게 서술한 경우	상
라틴 아메리카 문화 지역을 쓰고, 라틴 아메리카 문화 지역의 특징을 언어와 종교적 측면 중 한 가지만 서술한 경우	중
라틴 아메리카 문화 지역만 쓴 경우	하

- 20 문화의 다양화(문화 융합). 문화가 세계화되는 과정에서 지역의 고유문화와 전파된 문화가 결합하여 새로운 문화로 바뀌는 현상이다.

| 핵심 단어 | 문화 융합, 고유문화, 새로운 문화

채점 기준	구분
문화의 다양화(문화 융합)를 쓰고, 의미를 바르게 서술한 경우	상
문화의 다양화(문화 융합)를 쓰고, 의미를 서술하였으나 미흡한 경우	중
문화의 다양화(문화 융합)만 쓴 경우	하

03 문화의 공존과 갈등

STEP 1 차근 차근 개념 체크 p. 71

- 1 ① 독일어 ② 프랑스어 2 ① 네덜란드어 ② 프랑스어

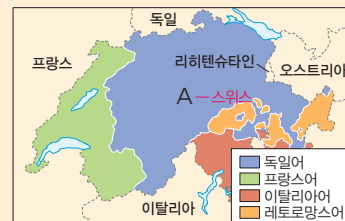
- 1 (1) 스위스 (2) 싱가포르 (3) 미국 (4) 브라질 2 (1) ○ (2) × (3) ○

STEP 2 차곡 차곡 실력 체크 p. 72~73

- 01 ④ 02 ② 03 ⑤ 04 ② 05 ②
06 ③ 07 ① 08 ⑤ 09 ⑤ 10 ①
11 ② 12 해설 참조 13 해설 참조 14 해설 참조

- 01 ① 뉴질랜드의 원주민 우대·보호 정책, ② 스위스에서 독일어, 프랑스어, 이탈리아어, 레토로망스어 등 네 개의 공용어 사용, ③ 종교 선택의 자유를 법으로 보장하고 있는 우리나라, ⑤ 다인종·다언어·다종교 등 다문화주의를 국가 주요 정책으로 내세우고 있는 싱가포르는 서로 다른 문화가 공존하는 사례이다. ④ 캐나다에서는 주로 영어를 사용하지만, 퀘벡주에서는 프랑스어를 주로 사용한다. 프랑스어를 사용하는 퀘벡주에서는 분리 독립을 요구하며 문화적 갈등이 나타나고 있다.
- 02 스위스는 독일어, 프랑스어, 이탈리아어, 레토로망스어를 공용어로 사용하고 있다. 싱가포르는 영어, 말레이어, 타밀어, 중국어를 공용어로 사용하고 있다.
- 03 인도양과 태평양을 잇는 해상 교역로에 있는 싱가포르는 일찍부터 무역항으로 성장하여 오늘날 동서양의 인종과 문화가 공존하는 대표적인 지역이 되었다.
- 04 A 국가는 스위스이다. 스위스는 지리적 위치의 영향으로 독일계, 프랑스계, 이탈리아계 등의 민족이 살고 있으며, 여러 국가의 언어를 사용하는 다문화 지역이다. 스위스는 서로의 언어를 존중하며 평화롭게 공존하는 지역이다. ② 스위스는 다양한 문화가 나타난다.

문제 자료 분석하기 스위스의 다양한 언어 공존



스위스는 독일어, 프랑스어, 이탈리아어, 레토로망스어 등 네 개의 공용어를 사용하고 있다. 지역별로 서로 다른 언어를 사용하고 있지만 지역 간의 갈등은 거의 없다. 화폐나 모든 공공 문서를 공용어로 동시에 발행하며, 학교에서 주로 사용하는 언어 이외에 다른 언어를 하나 이상 배우도록 의무화하고 있다. 또한 공공장소의 안내문과 상품의 포장지에도 여러 언어를 표기하는 등의 정책을 펴고 있어 서로 다른 언어 사용으로 인한 갈등이 적다.



- 05 인도는 자국의 언어 상황을 현실적으로 받아들이고 자국 내의 많은 언어가 충돌 없이 공존하는 방안을 마련하였다.
- 06 문화 갈등은 자신만의 문화를 고집하거나 일방적으로 강요할 경우에 나타난다. 문화 갈등의 주요 요인은 종교와 언어이다. 특히 종교 갈등은 이념, 정체성과 관련되어 있어 해결이 쉽지 않다. ③ 언어는 사람들의 사고방식과 세계관이 담겨 있어 한 나라 안에서 다양한 언어가 사용되는 경우 갈등이 발생할 수 있다.
- 07 벨기에와 캐나다의 퀘벡주는 언어로 인한 갈등이 발생하는 지역이다. 벨기에에서는 네덜란드어를 사용하는 북부 지역과 프랑스어를 사용하는 남부 지역 간의 갈등이 발생하고 있다. 캐나다의 퀘벡주에서는 영어를 사용하는 다른 지역과는 달리 프랑스어를 공용어로 사용하며 캐나다에서의 분리 독립을 요구하고 있다.
- 08 영어를 주로 사용하는 캐나다에서 프랑스어를 사용하는 퀘벡주가 분리 독립 요구를 하고 있다.
- 09 카슈미르는 힌두교와 이슬람교 간의 갈등, 팔레스타인은 유대교와 이슬람교 간의 갈등이 발생하는 지역이다. ㄱ. 벨기에에는 서로 다른 언어(네덜란드어와 프랑스어), ㄴ. 키프로스는 서로 다른 민족(그리스계와 터키계)으로 인해 갈등이 발생하는 지역이다.
- 10 문화 상대주의는 세계 문화의 다양성을 인정하고 각 문화는 독특한 자연환경과 역사적·사회적 상황에서 이해해야 한다는 견해이다.

- 11 문화 갈등을 해결하기 위해서는 여러 개의 공용어를 지정하고, 소수 문화를 보호하기 위한 정책을 제시해야 한다. 또한 다양한 문화를 인정하고 이해하는 태도를 가지며, 축제 및 문화 교류를 통해 다양한 문화를 접할 수 있는 기회를 가져야 한다. ② 종교의 자유를 법으로 보장해야 한다.

- 12 싱가포르는 인도양과 태평양을 잇는 해상 교통로에 자리 잡고 있어 다양한 문화가 유입되어 불교, 힌두교, 이슬람교 등 다양한 종교가 공존하고 있다.

| 핵심 단어 | 해상 교통로, 불교, 힌두교, 이슬람교

채점 기준	구분
싱가포르에서 다양한 종교 건축물이 나타나게 된 원인을 제시된 단어를 모두 활용하여 바르게 서술한 경우	상
싱가포르에서 다양한 종교 건축물이 나타나게 된 원인을 제시된 단어를 모두 활용하여 서술하였으나 미흡한 경우	중
싱가포르에서 다양한 종교 건축물이 나타나게 된 원인을 제시된 단어 중 한 가지만 활용하여 서술한 경우	하

- 13 (1) 팔레스타인
(2) 영토를 둘러싸고 유대교와 이슬람교 간의 갈등이 발생하였다.

| 핵심 단어 | 유대교, 이슬람교

채점 기준	구분
팔레스타인을 쓰고, 팔레스타인 지역에서 갈등이 일어나는 이유를 바르게 서술한 경우	상
팔레스타인을 쓰고, 팔레스타인 지역에서 갈등이 일어나는 이유를 서술하였으나 미흡한 경우	중
팔레스타인만 쓴 경우	하

- 14 • 제도적 차원: 여러 개의 공용어를 지정하고, 종교의 자유를 법으로 보장한다.
• 개인적 차원: 문화 상대주의와 다문화주의 태도를 가진다.

| 핵심 단어 | 공용어, 종교, 법, 문화 상대주의, 다문화주의

채점 기준	구분
서로 다른 문화적 차이를 극복하는 방법을 제도적 차원과 개인적 차원으로 나누어 각각 바르게 서술한 경우	상
서로 다른 문화적 차이를 극복하는 방법을 제도적 차원과 개인적 차원으로 나누어 서술하였으나 미흡한 경우	중
서로 다른 문화적 차이를 극복하는 방법을 제도적 차원과 개인적 차원 중 한 가지만 서술한 경우	하

STEP 3 모아 모아 단원 체크

p. 74~76

- 01 ① 02 ⑤ 03 ① 04 ③ 05 ②
- 06 ② 07 ⑤ 08 ③ 09 ② 10 ③
- 11 ⑤ 12 ② 13 ③ 14 ② 15 ⑤
- 16 ② 17 ① 18 ④ 19 ④ 20 ③
- 21 문화 22 해설 참조 23 해설 참조 24 문화 전파 25 해설 참조

- 01 문화는 인간과 환경이 상호 작용하는 과정에서 형성된 의식주, 종교, 언어, 풍습 등의 공통된 생활 양식이다.
- 02 문화는 자연환경과 인문 환경의 영향을 받으며, 주변 지역으로 전파되는 과정에서 변형되기도 한다.

선택지 바로 보기

- ㄱ. 인문 환경의 영향만 받는다. (×)
- ㉠ 인문 환경과 자연환경의 영향을 받는다.
- ㄴ. 한번 형성되면 바뀌지 않는다. (×)
- ㉡ 서로 영향을 주고받으며 변화·발달한다.
- ㄷ. 지역의 사회·경제적 수준을 반영한다. (○)
- ㄹ. 언어, 종교, 의식주 등의 생활 양식이다. (○)

- 03 건조 문화 지역에서는 주민 대부분이 이슬람교를 믿고, 아랍어를 사용한다. 또한 건조 기후가 나타나 유목과 오아시스 농업이 발달하였다.
- 04 동아시아 문화 지역은 우리나라, 중국, 일본이 해당하며, 벼농사가 발달하였고, 유교와 한자 문화가 나타난다. 불교의 발상지는 인도 문화 지역이다.
- 05 유럽 문화 지역에서는 일찍 산업화를 이루었고, 크리스티교

문화가 나타난다. A는 북극 문화 지역, B는 유럽 문화 지역, C는 건조 문화 지역, D는 동아시아 문화 지역, E는 라틴 아메리카 문화 지역이다.

- 06 라틴 아메리카 문화 지역(E)은 혼혈족이 많고 대부분 가톨릭교를 믿는다. ① 이슬람교를 믿는 사람들이 많은 곳은 건조 문화 지역(C)이다. ③ 부족 중심의 생활을 하며 원시 종교를 믿는 곳은 아프리카 문화 지역이다. ④ 유교, 불교, 한자의 공통된 문화가 발달한 곳은 동아시아 문화 지역(D)이다. ⑤ 불교의 발상지로 언어와 종교가 매우 복잡한 곳은 인도 문화 지역이다.
- 07 도시에서 고층 건물과 인공적 경관이, 농촌에서 낮은 건물과 자연적 경관이 나타나는 것은 경제·사회적 환경에 따른 문화의 지역 차에 대한 사례이다. ① 서남아시아에서 유목이 이루어지는 것, ② 강수량이 많은 지역에서 지붕의 경사가 급한 것, ③ 열대 지역에서 통풍이 잘되는 고상 가옥을 짓는 것, ④ 한대 기후 지역의 사람들이 짐승의 털이나 가죽을 이용한 두꺼운 옷을 입는 것은 자연환경에 따른 문화의 지역 차에 관한 사례이다.
- 08 힌두교 문화 지역에서는 갠지스강에서 종교 의식으로 목욕을 한다.
- 09 문화 접촉이 반복되고 시간이 흐르면서 한 사회의 문화 요소가 다른 사회로 전해져 정착되는 것을 문화 전파라고 한다.
- 10 빵 대신 난에 닭고기를 넣은 아랍식 햄버거, 우리나라의 온돌 문화에 서구식 침대 문화가 결합한 돌침대, 국악과 현대 음악이 어우러진 새로운 문화 예술 장르, 서양의 케이크와 우리나라의 떡 문화가 합쳐진 떡 케이크는 문화 융합 사례에 해당한다. ③ 세계의 많은 사람들이 열광하며 즐기는 축구 경기는 문화의 획일화에 관련된 사례이다.
- 11 세계화로 인해 문화의 획일화 현상과 동시에 다양화 현상이 나타나고 있다. 또한 여러 문화가 융합되어 새로운 문화가 창조되기도 한다. 반면, 새로운 문화를 접하는 과정에서 갈등이 나타나기도 한다. ⑤ 주로 서구 문화로 획일화되는 경향이 강하게 나타나고 있다.
- 12 세계화로 각 지역의 문화가 점차 유사해지기도 하고, 지역 간 문화 교류가 늘어나면서 문화가 다양해지기도 한다.
- 13 벨기에는 네덜란드어를 사용하는 북부 지역과 프랑스어를 사용하는 남부 지역 간의 갈등이 발생하고 있다. 팔레스타인 지역은 유대교와 이슬람교 간의 갈등이 발생하고 있다.
- 14 서울의 외국인 마을과 말레이시아의 플라카는 서로 다른 문화가 공존하는 지역이다.
- 15 스위스는 균형적이고 다양한 언어 정책으로 서로 다른 문화가 공존할 수 있었다.

- 16 싱가포르를 과거 영국의 식민 지배를 받았으며, 불교, 이슬람교, 크리스티교, 힌두교 등 다양한 종교가 공존하고 있다.
- 17 벨기에는 언어적 갈등, 수단, 나이지리아, 카슈미르, 필리핀은 종교적 갈등이 나타난다.
- 18 벨기에는 네덜란드어와 프랑스어 사용을 둘러싼 언어 갈등이 발생하는 지역이다.
- 19 수단은 이슬람교와 크리스티교, 북아일랜드는 개신교와 가톨릭교, 카슈미르는 힌두교와 이슬람교, 스리랑카는 불교와 힌두교 간의 갈등이 발생한다.
- 20 다양한 문화가 공존하기 위해서는 서로 다른 문화를 인정하고 자신의 문화를 상대방에게 강요하지 않아야 한다.
- 21 문화란 어떤 지역의 주민이나 집단의 의식주, 언어, 종교 등과 같은 특정한 생활 양식을 말한다.
- 22 문화 경관은 문화를 가진 집단이 어떤 장소에 거주하면서 만들어 놓은 생활 모습이다.

| 핵심 단어 | 문화, 집단, 장소, 생활 모습

채점 기준	구분
문화 경관에 대해 바르게 서술한 경우	상
문화 경관에 대해 서술하였으나 미흡한 경우	하

- 23 • 자연환경: 강한 햇볕과 모래바람을 견디기 위해 온몸을 감싸는 옷을 입는다.
• 인문 환경: 이슬람교를 믿는 여성들은 코란의 규율대로 천으로 머리와 몸을 가리고 다닌다.

| 핵심 단어 | 햇볕, 모래바람, 온몸, 이슬람교, 코란

채점 기준	구분
제시된 사진과 같은 의복 문화가 발달한 이유를 자연환경 및 인문 환경으로 나누어 바르게 서술한 경우	상
제시된 사진과 같은 의복 문화가 발달한 이유를 자연환경 및 인문 환경으로 나누어 서술하였으나 미흡한 경우	중
제시된 사진과 같은 의복 문화가 발달한 이유를 자연환경 및 인문 환경 중 한 가지만 서술한 경우	하

- 24 문화 전파는 한 지역의 문화가 다른 지역으로 옮겨 가거나 주변으로 퍼져 나가는 현상이다.

- 25 (1) 카슈미르
(2) 이슬람교도가 많은 카슈미르 지역이 인도에 속하게 되면서 이슬람교를 믿는 파키스탄과 힌두교를 믿는 인도 간의 갈등이 발생하였다.

| 핵심 단어 | 이슬람교, 힌두교, 파키스탄, 인도

채점 기준	구분
카슈미르를 쓰고, 카슈미르 지역에서 나타나는 갈등의 원인을 종교적 측면에서 바르게 서술한 경우	상
카슈미르를 쓰고, 카슈미르 지역에서 나타나는 갈등의 원인을 종교적 측면에서 서술하였으나 미흡한 경우	중
카슈미르만 쓴 경우	하

V | 지구 곳곳에서 일어나는 자연재해

01 자연재해의 발생 지역

~ 02 자연재해 발생 지역의 주민 생활

STEP 1 차근 차근 개념 체크 p. 80

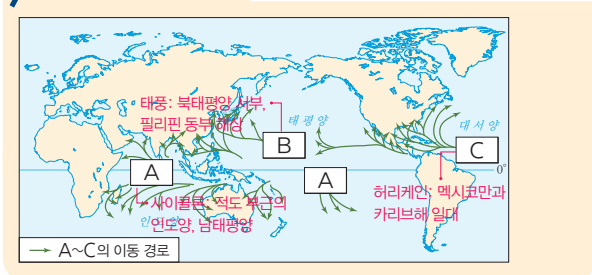
- 1 ① 알프스·히말라야 조산대 ② 환태평양 조산대
 1 자연재해 2 (1) ㄱ, ㄷ, ㄹ (2) ㄴ, ㅁ, ㅂ 3 (1) ㉠ (2) ㉡ (3) ㉢ 4 (1) × (2) ○ (3) ○

STEP 2 차곡 차곡 실력 체크 p. 80~81

- 01 ② 02 ③ 03 ④ 04 ③ 05 ④
 06 ② 07 ① 08 ⑤ 09 ③ 10 해설 참조

- 01 가뭄, 태풍, 폭설, 홍수는 기상 현상에 의한 재해이며, 지진은 지각 운동에 의한 재해이다.
 02 A~C는 열대 저기압의 발생 지역과 이동 경로를 나타낸 것이다. A는 적도 주변의 인도양, 남태평양 일대에서 발생하는 사이클론, B는 북태평양 서부, 필리핀 동부 해상에서 발생하는 태풍, C는 멕시코만과 카리브해 일대에서 발생하는 허리케인이다.

문제 자료 분석하기 열대 저기압의 주요 발생 지역과 이동



- 03 열대 저기압(A~C)은 열대 지역의 해상에서 발생하여 중위도 지역으로 이동하는 저기압이다. 많은 비와 강한 바람을 동반하여 홍수와 해일을 일으키기 때문에 큰 피해를 가져오며, 그 영향이 미치는 범위가 수백 km에 달한다. 열대 저기압은 발생하는 지역에 따라 태풍, 사이클론, 허리케인 등 부르는 이름이 다양하다.
 04 가뭄은 비교적 오랫동안 비가 내리지 않아 땅이 메마르고 물이 부족하여 나타나는 재해로, 건조 기후 지역에서 주로 발생한다. 대표적인 발생 지역으로는 아프리카의 사헬 지대, 중국의 내륙 지역, 인도의 서부 지역 등이 있다. 또한 가뭄은 오랜 기간 넓은 범위에 걸쳐 발생하는 경우가 많아 인간 생활에 큰 피해를 준다. ㄹ. 고온 다습한 계절풍의 영향을 받아 집중 호우가 내리는 동남아시아는 대표적인 홍수 발생 지역

이다.

- 05 A는 알프스·히말라야 조산대, B는 환태평양 조산대이다. 알프스·히말라야 조산대와 환태평양 조산대는 지각판과 지각판의 경계 부근으로 지각이 불안정하기 때문에 지진과 화산 활동이 활발하다. 특히 환태평양 조산대는 지구 전체에서 발생하는 화산 활동의 약 90%가 집중되어 있어 '불의 고리'라고 불린다.
 06 (가)는 가뭄, (나)는 홍수에 대한 설명이다. 가뭄은 장기간 비가 내리지 않아 땅이 메마르는 현상으로, 오랫동안 지속되면 농작물이 피해를 입고 용수가 부족해지며, 건조하여 산불의 발생 위험이 높아진다. 홍수는 비가 단시간에 집중적으로 내리거나 장기간에 지속적으로 내려 하천이나 호수가 흘러넘치는 현상으로, 큰 강의 하류 지역에서 자주 발생하며 많은 물을 공급하여 가뭄을 해결하기도 한다.
 07 열대 저기압은 열대 지역에서 발생하여 중위도 지역으로 이동하는 저기압으로 많은 비와 강한 바람을 동반하여 풍수해를 입힌다. 하지만 열대 저기압은 무더위를 해소하고, 물 부족 문제를 해결하며 비닷물을 순환시켜 적조 현상을 완화해 준다. 또한 지구의 열 균형을 유지해 주는 등 긍정적인 영향도 있다.
 08 화산 활동이 발생하는 지역에서는 화산이 폭발하면서 분출한 화산재가 쌓여 비옥해진 토양을 이용하여 농업 활동을 하며, 지하의 열을 이용한 지열 발전으로 전력을 생산한다. 또한 온천과 독특한 화산 지형을 이용한 관광 산업이 발달하고 산 정상에 분화구에서 유황을 채취하기도 한다. ⑤ 눈이 많이 내리는 지역에서는 건물 붕괴의 위험을 막기 위해 지붕의 경사를 급하게 만든다.
 09 폭설이 발생하면 도로와 항공 교통이 마비되고 가옥 붕괴, 정전 등의 피해가 발생한다. 폭설 지역의 주민들은 신속한 제설 작업으로 피해를 최소화해야 하며, 눈이 많이 내리는 기후 특징을 활용하여 각종 축제와 겨울 스포츠를 즐기며 이를 관광 자원으로 이용한다. ③ 각종 용수 부족 현상이 나타나는 것은 가뭄으로 인한 피해 모습이다.

- 10 (1) A 알프스·히말라야 조산대, B 환태평양 조산대
 (2) A, B 지역은 지각판과 지각판의 경계 부근으로 지각이 불안정하기 때문에 지진과 화산 활동이 활발하게 일어난다.

| 핵심 단어 | 알프스·히말라야 조산대, 환태평양 조산대, 지각판, 경계, 불안정

채점 기준	구분
알프스·히말라야 조산대, 환태평양 조산대를 쓰고, 이 지역에서 지진과 화산 활동이 활발하게 일어나는 이유를 지각판과 관련지어 바르게 서술한 경우	상
알프스·히말라야 조산대, 환태평양 조산대를 쓰고, 이 지역에서 지진과 화산 활동이 활발하게 일어나는 이유를 지각판을 포함하지 않고 서술한 경우	중
알프스·히말라야 조산대, 환태평양 조산대만 쓴 경우	하

03 인간 활동과 자연재해 및 대응 방안

STEP 1 차근 차근 개념 체크

p. 83

1 ① 삼림 ② 도시 2 ① 사막 ② 사막화

1 (1) 사막화 (2) 사헬 지대 (3) 홍수 2 (1) ㉠ (2) ㉠ (3) ㉠ (4) ㉠

STEP 2 차곡 차곡 실력 체크

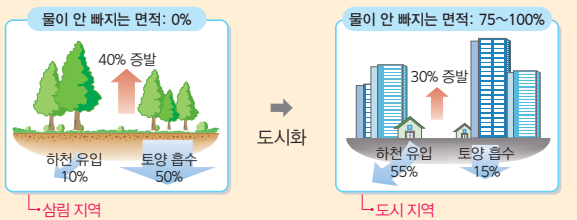
p. 83~84

01 ③ 02 ⑤ 03 ② 04 ④ 05 ①
06 ③ 07 녹색 댐 08 ③ 09 해설 참조 10 해설 참조

01 인구 증가와 도시화에 따른 무분별한 개발이 이루어지면 홍수의 피해가 증가하게 된다. 녹지 공간이 부족하고 콘크리트와 아스팔트로 포장된 곳이 많은 지역은 빗물이 땅속으로 흡수되지 못하고 넘쳐 홍수 발생 위험이 커지고, 하천을 직선화하면 하천의 유속이 빨라져 하류 지역에서는 급격히 불어난 물로 인해 홍수가 나기도 한다. 또한 도시화·산업화에 따라 대기 중 온실가스가 증가하여 지구 온난화가 계속되면 해수면이 높아져 홍수 피해가 더욱 커진다. ③ 삼림 면적 확대는 도시 홍수의 피해를 줄이기 위한 노력이다.

02 나무와 풀로 덮인 삼림 지역에 비가 내리면 빗물이 땅속으로 쉽게 흡수되어 홍수의 발생 가능성이 작다. 반면 아스팔트, 콘크리트 등 포장 면적이 많은 땅에 비가 내리면 빗물이 땅속으로 흡수되지 못하여 하천으로 곧장 유입되는 양이 많아져 홍수의 발생 가능성이 커진다.

문제 자료 분석하기 도시화에 따른 빗물의 이동



- 삼림 지역: 빗물이 하천으로 곧장 유입되지 않고, 토양으로 흡수 → 홍수가 잘 발생하지 않음
- 도시 지역: 빗물이 토양으로 잘 흡수되지 못하여 하천으로 곧장 흡수 → 홍수가 발생하기 쉬움

03 인간 활동으로 증가하는 홍수의 피해를 줄이려면 무분별한 개발을 제한하고, 녹색 댐의 역할을 하는 숲을 잘 가꾸기 위해 조림 사업을 실시해야 한다. 특히 도시에서는 물을 많이 저장할 수 있는 녹지 면적을 늘리고, 배수 시설을 정비하는 등의 노력이 필요하다. ㄴ. 제설 장비를 확보하는 것은 폭설의 대책이고, ㄷ. 아스팔트의 면적을 축소해야 인간 활동으로 증가하는 홍수의 피해를 줄일 수 있다.

04 (가)는 사막화이다. 사막화는 사막 주변의 초원 지대가 사막처럼 변하는 현상으로, 오랜 가뭄이 주요 원인이지만 과도한

농경지 개간 및 방목 등 인간의 활동으로 더욱 가속화되고 있다.

05 지도에 표시된 지역은 사막화 현상이 나타나는 지역으로 주로 사막의 주변 지역에서 나타나며, 아프리카의 사헬 지대가 대표적이다. 사막화는 오랜 가뭄, 과도한 방목과 농경지 개간 등이 원인이며 인간의 활동으로 인해 더욱 가속화되고 있다. ① 지각이 불안정한 지역에서 자주 발생하는 자연재해는 지진과 화산 활동이다.

06 지진 피해를 줄이기 위해서는 내진 설계를 의무화하고 사전에 지진 대비 훈련을 해야 하며, 폭설 피해를 줄이기 위해서는 붕괴 위험이 있는 시설물에 지지대를 설치하고 제설 장비를 미리 확보하며 폭설 발생 시 신속하게 제설 작업을 해야 한다. 화산 활동이 빈번한 지역에서는 정밀한 예측과 철저한 예방이 필요하고, 용암길에 인공 벽이나 인공 하천을 설치하여 용암이 거주 지역을 덮치지 않도록 해야 한다. 열대 저기압이 자주 통과하는 지역에서는 예보 체계를 구축하고, 미리 제방이나 시설물을 관리하며, 갯벌이나 늪과 같은 습지를 보존하여 해안과 육지를 보호해야 한다.

07 녹색 댐은 숲 자체를 의미하며, 삼림이 빗물을 흡수하였다가 서서히 흘러보내 홍수와 가뭄을 방지한다고 하여 붙여진 이름이다. 녹색 댐은 홍수 조절 및 가뭄 완화, 수질 정화, 산사태 예방 등의 기능을 한다.

08 (가)는 홍수, (나)는 가뭄이다. 홍수와 가뭄을 동시에 대비하기 위한 방법으로는 다목적 댐과 저수지 건설, 삼림 조성을 통한 녹색 댐 기능 강화 등이 있다. ㄱ. 대비 훈련을 실시하는 것은 지진의 대책이고, ㄷ. 붕괴 위험이 있는 시설물에 지지대를 설치하는 것은 폭설의 대책이다.

09 (1) 사막화
(2) 사막화는 과도한 농경지 개간과 방목, 무분별한 삼림 벌채 등으로 인해 발생하고 있다.

핵심 단어 | 사막화, 농경지 개간과 방목, 삼림 벌채

채점 기준	구분
사막화를 쓰고, 사막화의 원인이 되는 인간 활동 두 가지를 바르게 서술한 경우	상
사막화를 쓰고, 사막화의 원인이 되는 인간 활동을 한 가지만 서술한 경우	중
사막화만 쓴 경우	하

10 칠레는 지진 피해 발생을 방지하기 위해 많은 비용을 투자하고 철저한 대비 훈련을 하며, 내진 설계를 의무화하여 아이티보다 지진 피해가 적은 편이다.

핵심 단어 | 대비 훈련, 내진 설계

채점 기준	구분
칠레가 사전에 철저하게 대응하여 지진 피해가 적다고 서술한 경우	상
칠레가 지진 피해가 적다고만 서술한 경우	하

STEP 3 모아 모아 단원 체크 p. 86~88

- 01 ③ 02 ① 03 ③ 04 ④ 05 ①
 06 ④ 07 ④ 08 ④ 09 ④ 10 ④
 11 ⑤ 12 ② 13 ④ 14 ④ 15 ④
 16 ② 17 ② 18 해설 참조 19 해설 참조 20 해설 참조

- 01 기상 현상에 의해 발생하는 자연재해에는 가뭄, 홍수, 폭설, 열대 저기압(태풍, 허리케인, 사이클론) 등이 있으며, 지각 운동에 의해 발생하는 자연재해에는 지진, 지진 해일, 화산 활동 등이 있다.
- 02 홍수는 열대 저기압과 계절풍의 영향을 받아 집중 호우가 내리는 아시아의 계절풍 지역이나 대하천의 하류, 저지대에서 자주 발생한다. 가뭄은 아프리카의 사헬 지대와 같이 강수량이 적고 증발량이 많은 건조 기후 지역에서 주로 발생한다. 지진과 화산 활동은 지각판의 경계에서 자주 발생하는데, 가장 활발한 지역은 알프스·히말라야 조산대, 환태평양 조산대이다. 지진 해일은 지진과 화산 활동이 빈번한 인도양과 태평양 일대에서 주로 발생한다. ① 열대 저기압은 열대 지역의 해상에서 발생한다.
- 03 A는 홍수, B는 가뭄이다. 홍수의 피해를 줄이기 위해서 터둠 움집을 짓는데, 이는 가옥이 물에 잠기지 않도록 하기 위해 터를 높게 하여 집을 짓는 방식이다.

선택지 바로 보기

- ① A, B는 지각 운동에 의한 자연재해이다. (×)
 Ⓢ A, B는 기상 현상에 의한 자연재해이다.
 ② A는 오랜 기간 동안 넓은 범위에서 발생한다. (×)
 Ⓢ 가뭄(B)은 오랜 기간 동안 넓은 범위에서 발생한다.
 ③ A의 피해를 줄이기 위해 터를 높게 하여 집을 짓는다. (○)
 ④ B는 여름철 집중 호우에 의해 자주 발생한다. (×)
 Ⓢ 홍수(A)는 여름철 집중 호우에 의해 자주 발생한다.
 ⑤ B는 눈이 녹는 봄에 북극해 주변에서 피해가 발생하기도 한다. (×)
 Ⓢ 홍수(A)는 눈이 녹는 봄에 북극해 주변에서 피해가 발생하기도 한다.

- 04 A는 알프스·히말라야 조산대, B는 환태평양 조산대이다. 이 지역은 지각판의 경계로 지각이 불안정하여 지진과 화산 활동이 자주 발생한다.
- 05 A는 알프스·히말라야 조산대, B는 환태평양 조산대이다. 이 지역은 판과 판이 만나는 경계로 지각이 불안정한 곳이다. ㄷ, 알프스산맥은 A, 안데스산맥은 B에 포함되며, ㄹ, A, B에서 자주 발생하는 자연재해는 지각 운동에 의해 발생한다.
- 06 그림은 지진 해일의 발생 과정이다. 지진 해일은 지진이나 화산 활동이 바다 밑에서 일어나 해수면이 급격히 상승하여 바닷물이 육지로 밀려오는 현상으로, 발생 지점으로부터 수천 km 떨어진 곳까지 영향을 미친다.

선택지 바로 보기

- ① 진행 속도가 매우 느리다. (×)
 Ⓢ 진행 속도가 매우 빠르다.
 ② 발생 지역에만 피해를 입힌다. (×)
 Ⓢ 수천 km 떨어진 곳까지 피해를 입힌다.
 ③ 우리나라에서 빈번하게 일어나는 자연재해이다. (×)
 Ⓢ 인도양과 태평양 일대에서 빈번하게 일어나는 자연재해이다.
 ④ 발생 지점으로부터 수천 km 떨어진 곳까지 영향을 미친다. (○)
 ⑤ 화산재가 피해 지역을 뒤덮어 항공기 운항에 차질이 생긴다. (×)
 Ⓢ 화산 활동의 피해 모습이다.

- 07 우리나라는 기후와 관련된 자연재해가 계절별로 다르게 나타난다. 봄에는 가뭄, 여름에는 호우, 겨울에는 폭설에 의한 피해가 가장 크다. ④ 우리나라는 지각판의 경계에서 떨어져 있어 지각 운동이 활발하지는 않지만, 최근에는 크고 작은 규모의 지진 발생이 늘고 있다.
- 08 방글라데시는 매년 홍수가 발생하여 국토가 침수되고, 5천 여 명의 사람이 목숨을 잃는다. 방글라데시는 갠지스강과 브라마푸트라강이 만나는 평평한 저지대에 위치하는 국가로, 국토 대부분이 평야로 되어 있고 주민 대다수가 낮은 지역에 거주한다. 게다가 계절풍의 영향으로 연 강수량의 75%가 6~10월에 집중되는데, 이때 사이클론이 통과하면 바다에서 폭풍우가 불어와 큰 홍수가 발생한다. ①, ②는 가뭄, ③은 지진과 화산 활동, ⑤는 지진에 대한 내용이다.
- 09 가뭄이 오랫동안 지속되면 토양이 황폐해지고, 각종 용수가 부족해져 농작물이 피해를 입고, 이에 따라 식량 생산량이 감소하여 굶주리는 사람이 늘어나게 된다. ④ 산사태는 홍수로 인한 피해이다.
- 10 인도네시아와 에스파냐의 란자로테섬에서는 화산재가 쌓여 비옥해진 토양을 이용해 농업 활동을 한다.
- 11 최근 산업화·도시화 등으로 인간이 자연환경에 미치는 영향력이 커지면서 자연재해의 발생 빈도는 잦아지고, 그 피해 규모도 점차 커지고 있다.

선택지 바로 보기

- ① 자연재해는 인위적인 환경 변화에 영향을 받지 않는다. (×)
 Ⓢ 자연재해는 인위적인 환경 변화에 영향을 받는다.
 ② 인간 활동이 증가하면서 자연재해는 인간에게 피해를 주지 않게 되었다. (×)
 Ⓢ 인간 활동이 증가하면서 자연재해는 인간에게 피해를 준다.
 ③ 최근에는 인간의 힘으로 자연재해의 발생 자체를 막을 수 있게 되었다. (×)
 Ⓢ 최근에는 인간의 힘으로 자연재해의 피해를 줄일 수 있게 되었다.
 ④ 인간 활동에 의해 삼림이 훼손되면 홍수와 가뭄, 산사태 등의 피해가 감소한다. (×)
 Ⓢ 인간 활동에 의해 삼림이 훼손되면 홍수와 가뭄, 산사태 등의 피해가 증가한다.
 ⑤ 자연재해의 피해를 증가시키는 인간 활동에는 산업화·도시화, 삼림 파괴 등이 있다. (○)

12 하천 직선화로 유속이 빨라져 하류 지역에 홍수가 발생할 수 있다. 또한 도시화·산업화에 따라 대기 중 온실가스가 증가하여 지구 온난화가 계속되면 해수면이 높아져 홍수나 해일 피해가 더욱 커질 수 있다. ㄴ. 녹지 면적의 증가, ㄷ. 아스팔트 면적의 감소는 홍수의 대응 방안이다.

13 (가)는 삼림 지역, (나)는 도시 지역이다. 도시 지역은 삼림 지역보다 녹지 공간이 부족하고 콘크리트와 아스팔트로 포장된 곳이 많아 빗물이 땅속으로 흡수되지 못하고 넘쳐 홍수 발생 위험이 커진다. 또한 무분별한 삼림 개발로 토양이 황폐해지면 산사태가 발생할 위험이 증가한다. ㄱ. 빗물의 절반이 하천으로 유입되는 지역은 도시 지역이고, ㄷ. 삼림 지역은 도시 지역보다 홍수의 피해가 작다.

14 사막화는 오랜 가뭄 등 자연적 원인에 의해 발생하기도 하지만, 과도한 농경지 개간과 방목, 무분별한 삼림 파괴 등 인간의 활동으로 인해 그 피해 범위가 점차 확대되고 있다. ④ 해수면 상승은 홍수로 인한 피해이다.

15 홍수의 피해를 줄이기 위해서는 댐, 저수지 등 저수 시설, 빗물을 신속하게 배출하기 위한 배수 시설, 토사의 유출을 차단하는 사방 댐 등을 설치해야 한다. 장기적인 측면에서는 녹색 댐 기능을 하는 숲을 잘 가꾸어 녹지 면적을 늘려야 한다. ④ 내진 설계를 의무화하는 것은 지진의 대책이다.

16 사헬 지대(B)에 대한 설명이다. A는 아이슬란드, C는 필리핀, D는 미국의 뉴올리언스, E는 브라질의 아마존이다.

17 녹색 댐과 다목적 댐의 건설은 가뭄과 홍수의 공통 대응 방안이다.

18 (1) 화산 분출물이 마을과 농경지를 덮치며 화산재가 상공을 덮어 항공기 운항이 중단되기도 한다.
(2) 화산재가 쌓여 형성된 토양은 비옥하여 농업에 유리하고, 독특한 화산 지형과 온천은 관광 자원으로 이용할 수 있다. 또한 유황을 채취하여 생계를 유지하며, 지열 발전을 통해 전기를 생산한다.

| 핵심 단어 | 마을과 농경지, 항공기 운항, 농업, 온천, 유황, 지열 발전

채점 기준	구분
화산 활동이 주민 생활에 미치는 부정적 영향과 긍정적 영향을 각각 두 가지씩 바르게 서술한 경우	상
화산 활동이 주민 생활에 미치는 부정적 영향과 긍정적 영향을 각각 한 가지씩 서술한 경우	중
화산 활동이 주민 생활에 미치는 부정적 영향과 긍정적 영향 중 한 가지만 서술한 경우	하

19 (1) 열대 저기압
(2) 열대 저기압은 많은 비를 동반하여 더위를 식히고 가뭄을 해결하며, 지구의 열 균형을 유지한다. 또한 바닷물을 뒤섞어 적조 현상을 완화한다.

| 핵심 단어 | 열대 저기압, 더위를 식힘, 가뭄 해결, 열 균형 유지, 적조 현상 완화

채점 기준	구분
열대 저기압을 쓰고, 긍정적 영향 두 가지를 바르게 서술한 경우	상
열대 저기압을 쓰고, 긍정적 영향을 한 가지만 서술한 경우	중
열대 저기압만 쓴 경우	하

20 (1) 사막화
(2) 사막화를 해결하기 위해서는 무분별한 방목과 농경지 개간을 금지하고, 조림 사업을 통해 녹지 면적을 늘려야 한다. 또한 사막화 방지 협약을 통해 피해 지역을 지원해야 한다.

| 핵심 단어 | 사막화, 무분별한 방목과 농경지 개간 금지, 조림 사업, 사막화 방지 협약

채점 기준	구분
사막화를 쓰고, 대응 방안 두 가지를 바르게 서술한 경우	상
사막화를 쓰고, 대응 방안을 한 가지만 서술한 경우	중
사막화만 쓴 경우	하

VI | 자원을 둘러싼 경쟁과 갈등

01 자원 분포와 자원을 둘러싼 갈등

STEP 1 차근 차근 개념 체크 p. 92

1 ① 기술적 ② 경제적 **2** ① 석유 ② 석탄 **3** ① 쌀 ② 밀

1 자원 **2** (1) ㉠ (2) ㉢ (3) ㉡ **3** (1) ㄴ (2) ㄱ (3) ㄷ **4** (1) 쌀 (2) 석유 **5** (1) ○ (2) ○

STEP 2 차곡 차곡 실력 체크 p. 93~95

01 ① **02** ⑤ **03** ③ **04** ① **05** ③
06 ① **07** ⑤ **08** ③ **09** ① **10** ②
11 ⑤ **12** ④ **13** ⑤ **14** ② **15** 자원 민족주의
16 ⑤ **17** ② **18** ④ **19** 해설 참조 **20** 해설 참조

01 자원은 인간 생활에 가치 있게 쓰이는 것으로, 기술적·경제적으로 개발할 수 있는 것이다. 자원의 특성 중 편재성은 자원이 일부 지역에 집중되어 분포되어 있는 것으로, 이는 자원을 둘러싼 갈등의 주요 원인이다. 자원은 의미에 따라 좁은 의미의 자원과 넓은 의미의 자원으로 분류되는데, 좁은 의미의 자원은 천연자원을 의미하고, 넓은 의미의 자원은 천연자원에 인적 자원과 문화적 자원을 포함한다. ① 자원은 지구상에 불균등하게 분포하기 때문에 자원을 둘러싼 갈등이 일어난다.



02 자원은 인간 생활에 가치 있게 쓰이는 것으로, 기술적·경제적으로 개발할 수 있는 것이다. 자원으로서는 유용하게 이용되기 위해서는 기술적으로 개발이 가능할 뿐만 아니라 경제적으로도 가치가 있어야 한다.

선택지 바로 보기

- ① 자원의 범위는 항상 고정되어 있다. (X)
- ▶ 자원의 범위는 변화한다.
- ② 경제적으로 개발할 가치가 없는 것도 자원이다. (X)
- ▶ 경제적으로 개발할 가치가 없는 것은 자원이 아니다.
- ③ 기술적으로 개발이 가능한 것은 모두 자원이다. (X)
- ▶ 기술적으로 개발이 가능하더라도 경제적으로 가치가 없으면 자원이 아니다.
- ④ 자연 속에 존재하는 모든 것은 자원이라고 할 수 있다. (X)
- ▶ 자연 속에 존재하는 것들 중 기술적·경제적으로 개발이 가능한 것을 자원이라고 한다.
- ⑤ 자원은 기술적·경제적으로 개발이 가능한 것을 의미한다. (O)

03 (가)는 인적 자원으로, 노동력, 기술, 창의성 등이 해당한다.
 ① 석유는 천연자원, 재생 불가능 자원이고, ② 예술은 문화적 자원이고, ④ 태양열은 천연자원, 재생 가능 자원이고, ⑤ 천연가스는 천연자원, 재생 불가능 자원이다.

04 좁은 의미의 자원은 천연자원을 의미한다. 천연자원에는 식량 자원(쌀, 밀 등), 에너지 자원(석유, 천연가스 등), 광물 자원(철광석, 구리 등), 물 자원 등이 있다. 노동력, 기술, 창의성은 인적 자원이고, 전통, 사회 제도는 문화적 자원이다.

05 자원의 편재성에 대한 내용이다.

문제 자료 분석하기 자원의 편재성

자원은 지역적으로 고르게 분포하지 않고, 일부 지역에 집중적으로 분포하고 있다. 이에 따라 자원은 풍부한 곳에서 부족하거나 더 많이 필요한 곳으로 이동하게 된다.

06 (가)는 자원의 가변성, (나)는 자원의 유한성에 대한 내용이다.

07 석유, 석탄, 천연가스는 좁은 의미에 해당하는 천연자원이며 에너지 자원이다. 이 자원들은 현재와 같이 사용할 경우 언젠가는 고갈된다.

선택지 바로 보기

- ㄱ. 전 세계적으로 고르게 분포한다. (X)
- ▶ 석탄은 전 세계적으로 비교적 고르게 분포하고, 석유, 천연가스는 지역적으로 편재되어 분포한다.
- ㄴ. 생산지와 소비지가 대체로 일치한다. (X)
- ▶ 생산지와 소비지가 대체로 일치하는 자원은 쌀이다.
- ㄷ. 현재와 같이 사용할 경우 언젠가는 고갈된다. (O)
- ㄹ. 자원을 의미에 따라 분류하면 좁은 의미의 자원에 해당한다. (O)

08 서남아시아의 페르시아만에서 가장 두꺼운 화살표가 출발하는 것으로 보아 지도는 석유의 분포와 이동을 나타낸 것이다.

문제 자료 분석하기 석유의 분포와 이동



09 석유는 세계에서 가장 많이 사용되는 에너지 자원으로, 서남아시아의 페르시아만 지역에 세계 매장량의 절반 정도가 집중되어 있다. 석유는 생산지와 소비지가 달라 국제적 이동량이 많은 편이고, 운송 수단의 연료, 각종 공업 제품의 원료로 이용된다. ① 산업 혁명의 원동력이 된 에너지 자원은 석탄이다.

10 석탄은 전 세계적으로 비교적 고르게 분포하고 있어 국제적 이동량이 적은 편이며, 산업 혁명기에 영국에서 제철 공업의 원료로 본격적으로 사용하기 시작하였다. 석탄(약 226년)은 석유(약 56년)와 천연가스(약 54년)보다 가채 연수가 길다. ② 석탄은 화석 연료로 현재와 같은 수준으로 사용하면 약 226년 뒤에 고갈되며, 재사용이 불가능하다.

11 열효율이 높고, 오염 물질을 적게 배출하며, 최근 냉동 액화 기술의 발달로 이용량이 증가하고 있는 자원은 천연가스이다.

12 물 자원은 강수량과 증발량의 영향을 크게 받는 자원이며, 생활용수, 공업용수 등 각종 용수, 수력 발전, 교통로 등으로 이용되고 있다. ㄱ. 물 자원은 전 세계적으로 불균등하게 분포하며, ㄷ. 사막과 그 주변 지역은 연 강수량이 적어 물 부족 문제가 심각하다.

13 A는 쌀, B는 밀이다. 쌀은 고온 다습한 아시아 계절풍 기후 지역에서 주로 생산되며 동부 아시아, 동남아시아, 남부 아시아 등지가 대표적인 생산 지역이다. 쌀은 생산지에서 대부분 소비되기 때문에 국제적 이동량이 적은 편이다. 밀은 서늘하고 비교적 건조한 지역에서도 재배가 가능하기 때문에 전 세계적으로 재배 면적이 넓은 편이다. 또한 소비지가 널리 분포하기 때문에 국제적 이동량이 많은 편이고, 미국, 오스트레일리아 등지에서 주로 수출한다. ⑤ 쌀은 밀보다 국제적 이동량이 적은 편이다.

14 자원을 둘러싼 갈등은 자원 수요의 지속적 증가로 인한 매장량의 감소, 자원의 지역적 편재, 자원 생산국의 정책 변화나

자연재해 등에 의한 공급 감소, 자원 보유국의 자원 민족주의 강화 등으로 인해 나타난다. 자원이 부족한 국가들이 자원을 안정적으로 확보하기 위해 국가 간 경쟁이 치열해져 자원 민족주의가 발생한다. ② 자원은 지구상에 불균등하게 분포하기 때문에 이를 둘러싼 갈등이 발생한다.

- 15** 자원 민족주의는 자원을 보유하고 있는 국가가 자원을 무기로 삼아서 자국의 정치적·경제적 이익을 얻고자 하는 움직임으로, 석유 산유국 중 일부가 결성한 석유 수출국 기구(OPEC)가 대표적이다.
- 16** 자료는 메콩강을 둘러싼 분쟁에 대한 것이다. 국제 하천인 메콩강을 둘러싸고 상류에 위치한 중국, 하류에 위치한 타이, 라오스, 베트남 간의 갈등이 나타나고 있다. 중국이 댐을 건설하면서 하류에 위치한 국가들은 안정적으로 물을 확보할 수 없게 되었고, ⑤ 이들 국가에서는 유량이 감소하여 농산물 생산량이 감소하고 있다. 나일강은 이집트, 수단 등을 거쳐 흐르는 국제 하천으로 메콩강과 같은 물 분쟁이 나타나고 있다.
- 17** 카스피해(B)에는 석유와 천연가스가 풍부하게 매장되어 있어 이란, 카자흐스탄, 아제르바이잔, 투르크메니스탄, 러시아 등 연안국들이 영유권을 놓고 갈등을 겪고 있으며, 이곳을 바다로 볼 것인지, 호수로 볼 것인지를 놓고 대립하고 있다. 지도의 A는 기니만, C는 남중국해, D는 북극해, E는 오리노코강 유역이다.

18 기니만, 북극해, 남중국해는 에너지 자원의 영유권을 둘러싼 갈등이 발생하는 지역이다.

- 19** (1) 석유
 (2) 석유는 지역적 편재가 큰 자원으로 서남아시아 페르시아만에 전 세계 매장량의 절반 정도가 매장되어 있으며, 생산지와 소비지가 달라 국제적 이동량이 많다.

| 핵심 단어 | 석유, 편재, 생산지, 소비지

채점 기준	구분
석유를 쓰고, 편재, 생산지, 소비지를 모두 포함하여 국제적 이동량이 많다는 내용을 바르게 서술한 경우	상
석유를 쓰고, 편재, 생산지, 소비지 중 두 가지만 포함하여 국제적 이동량이 많다는 내용을 서술한 경우	중
석유를 쓰고, 편재, 생산지, 소비지 중 한 가지만 포함하여 국제적 이동량이 많다는 내용을 서술하였거나 석유만 쓴 경우	하

20 국제 하천. 국제 하천은 여러 국가의 영토를 거쳐 흐르는 하천으로 상류와 하류에 위치한 국가 간의 입장 차이로 인해 갈등이 발생하고 있다.

| 핵심 단어 | 국제 하천, 상류 국가, 하류 국가, 입장 차이

채점 기준	구분
국제 하천을 쓰고, 분쟁이 발생하고 있는 이유를 바르게 서술한 경우	상
국제 하천만 쓴 경우	하

02 자원 개발과 주민 생활의 변화

~ 03 지속 가능한 자원의 개발

STEP 1 차근 차근 개념 체크

p. 97

- 1** (1) 사우디아라비아 (2) 나우루 공화국 (3) 콩고 민주 공화국 **2** (1) ○ (2) ○ **3** 신·재생 에너지 **4** (1) 가능 (2) 재생 에너지 (3) 조력 **5** (1) ㉠ (2) ㉡ (3) ㉢

STEP 2 차곡 차곡 실력 체크

p. 98~99

- 01** ① **02** ④ **03** ③ **04** ① **05** ③
06 ① **07** ② **08** ① **09** ④ **10** ⑤
11 ④ **12** 해설 참조 **13** 해설 참조

01 천연자원이 풍부한 국가는 이를 개발하는 과정에 따라 경제 발전 수준이 달라질 수 있다. 천연자원을 이용하여 경제 성장을 이룬 국가에는 노르웨이, 미국, 사우디아라비아 등이 있으며, 천연자원은 풍부하지만 개발할 기술과 자본이 부족하거나 이 자원을 차지하려는 여러 국가와의 충돌, 내전 등에 의해 경제 성장에 어려움을 겪는 국가들도 있다. 이러한 국가들에는 콩고 민주 공화국, 시에라리온, 나이지리아 등이 있다. 반면, 우리나라, 일본, 싱가포르, 룩셈부르크 등은 천연자원이 부족하지만 지식·정보·기술과 이를 다루는 인적 자원을 개발하여 세계적 수준으로 경제가 발달한 국가들이다. ① 천연자원이 풍부한 국가가 모두 경제 발전을 이룬 것은 아니다.

02 자원을 개발하면 관련 산업인 광업이 발달하여 일자리가 증가하고 자원 수출로 인한 이익을 얻어 국가 경제가 크게 성장하며, 이를 사회 기반 시설 및 교육·의료 시설 확충에 사용하고 다른 산업에도 투자할 수 있다. ④ 해당 자원의 수출 의존도가 높아지는 것은 자원 개발에 따른 부정적 영향이다.

03 노르웨이, 사우디아라비아, 오스트레일리아는 풍부한 천연자원을 개발하여 경제 성장을 이룬 대표적인 국가들이다.

04 노르웨이(A)에 대한 설명이다. B는 시에라리온, C는 나이지리아, D는 오스트레일리아, E는 미국이다.

문제 자료 분석하기 풍부한 천연자원과 경제 성장

북해의 석유와 천연가스를 절반 이상 소유한 거대 산유국이다. 석유로 얻은 이익을 국가가 직접 관리하여 기업의 윤리적 투자를 강조하고, 국민연금을 조성하는 등 복지에 투자하여 주민의 생활 수준을 높이고 있다.

05 ‘자원의 저주’는 풍부한 자원이 오히려 국가의 경제 성장에 방해가 되고, 국민의 생활 수준 및 삶의 질이 낮아지게 되는

것을 의미한다. 이러한 모습이 나타나는 국가는 나이지리아, 콩고 민주 공화국이다. ㄱ. 노르웨이의 석유 개발과 ㄴ. 오스트레일리아의 철광석 개발은 '자원의 축복'이다.

- 06 인적 자원을 개발하여 경제 성장을 이룬 국가에는 일본, 대한민국, 룩셈부르크, 싱가포르 등이 있다. 미국, 오스트레일리아, 사우디아라비아는 천연자원을 개발하여 경제가 성장한 국가이고, 나이지리아, 시에라리온은 천연자원이 오히려 경제 성장을 방해한 국가이다.
- 07 윤리적 소비는 나의 소비가 다른 지역의 삶에 미칠 영향을 고려하여 바람직한 방향으로 소비하는 것이다. 대표적인 방법으로는 공정 무역 상품 구입, 생산자에게 정당한 대가를 지불하고 상품 구입, 환경 문제에 지속적인 관심을 갖는 기업의 상품 구매 등이 있다.
- 08 천연가스는 화석 연료이며, 수력, 지열, 바이오, 태양광은 신·재생 에너지 중 재생 에너지이다.
- 09 신·재생 에너지는 기존의 화석 연료를 재활용하거나 재생 가능한 에너지를 변환시켜 이용하는 에너지로, 재생이 가능하여 고갈되지 않아 화석 연료의 의존도를 낮출 수 있다. 또한 화석 연료에 비해 탄소 배출량이 적어 환경친화적이다. ④ 신·재생 에너지는 초기 개발 비용이 많이 들어 경제성이 낮다.
- 10 조력 발전은 규칙적인 전력 생산이 가능하고, 방조제를 교통로로 사용할 수 있지만, 방조제 건설과 발전소 설치 과정에서 갯벌이 사라지고 해양 생태계가 교란되어 어획량이 감소할 수 있다. ⑤ 조력 발전을 통해 얻는 에너지는 이산화 탄소를 적게 발생시킨다.
- 11 지열 발전은 판의 경계에 위치해 있어 지각 운동이 활발한 지역에서 주로 이루어지며, A~E 중 환태평양 조산대에 위치한 뉴질랜드(D)가 적절하다. A는 영국, B는 사헬 지대, C는 사우디아라비아, E는 브라질이다.
- 12 천연자원이 풍부하지만 경제 수준이 낮은 국가들이다.

| 핵심 단어 | 천연자원, 경제 수준

채점 기준	구분
천연자원이 풍부하지만 경제 수준이 낮은 내용을 바르게 서술한 경우	상
천연자원이 풍부한 것은 옳게 서술했지만, 경제 수준을 틀리게 서술한 경우	하

- 13 (1) (가) 풍력, (나) 태양광
(2) 풍력 발전은 강한 바람이 지속적으로 부는 해안이나 산지 지역에서 개발하며, 태양광 발전은 일사량이 풍부하고 비가 적게 내리는 지역에서 개발한다.

| 핵심 단어 | 풍력, 태양광, 바람, 일사량, 비

채점 기준	구분
풍력과 태양광을 쓰고, 풍력과 태양광의 입지 조건을 모두 바르게 서술한 경우	상
풍력과 태양광을 쓰고, 풍력과 태양광의 입지 조건 중 한 가지만 서술한 경우	중
풍력과 태양광만 쓴 경우	하

STEP 3 모아 모아 단원 체크

p. 100~102

- 01 ⑤ 02 ⑤ 03 ① 04 ① 05 ③
- 06 ⑤ 07 ③ 08 ⑤ 09 ② 10 ①
- 11 ③ 12 ④ 13 ② 14 ④ 15 ②
- 16 ④ 17 해설 참조 18 해설 참조 19 해설 참조 20 해설 참조

- 01 자원은 인간 생활에 가치 있게 쓰이는 것으로 기술적·경제적으로 개발 가능한 것이다.

선택지 바로 보기

- ① 인간의 지식은 자원으로 볼 수 없다. (×)
▶ 인간의 지식은 자원이다.
- ② 자원의 범위는 일정하며 변화하지 않는다. (×)
▶ 자원의 범위는 변화한다.
- ③ 넓은 의미의 자원은 천연자원만을 가리킨다. (×)
▶ 좁은 의미의 자원은 천연자원만을 가리킨다.
- ④ 대부분의 자원은 지구상에 고르게 분포한다. (×)
▶ 대부분의 자원은 지구상에 불균등하게 분포한다.
- ⑤ 자원은 인간 생활에 가치 있게 쓰이는 것이다. (○)

- 02 넓은 의미의 자원은 천연자원(석유, 석탄, 쌀, 태양광 등), 인적 자원(노동력, 기술, 창의성 등), 문화적 자원(전통, 사회 제도, 종교 등)을 의미한다. 자원은 재생 가능 여부에 따라 재생 가능 자원과 고갈 자원(재생 불가능 자원)으로 구분할 수 있다. ㄱ. 자연 중에서 기술적으로 개발이 가능하고 경제성이 있어야 자원으로서의 이용 가치가 있다. ㄴ. 천연자원 중 태양광, 풍력 등과 같은 자원은 고갈 가능성이 낮다.
- 03 자원은 재생 가능성에 따라 재생 가능 자원, 재생 불가능 자원(고갈 자원)으로 구분할 수 있다. 재생 가능 자원에는 수력, 지열, 풍력, 태양열 등이 있으며, 재생 불가능 자원에는 석유, 석탄 등이 있다.
- 04 가채 연수는 어떤 자원의 확인된 매장량을 현재와 같은 수준으로 사용할 경우 앞으로 몇 년이나 더 사용할 수 있는지를 나타낸 것으로, 자원의 특성 중 유한성을 나타낸다.

선택지 바로 보기

- ① 자원의 유한성과 관련이 있다. (○)
- ② 가채 연수가 짧을수록 좋은 품질의 자원이다. (×)
▶ 가채 연수는 품질과 관련이 없다.
- ③ 가장 오래 사용할 수 있는 자원은 천연가스이다. (×)
▶ 가장 오래 사용할 수 있는 자원은 석탄이다.
- ④ 자원을 기술적으로 개발하기 위해 걸린 시간이다. (×)
▶ 앞으로 몇 년이나 더 사용할 수 있는지를 나타낸 것이다.
- ⑤ 석유는 천연가스에 비해 두 배 정도 오래 사용할 수 있다. (×)
▶ 석유는 천연가스와 가채 연수가 비슷하다.

- 05 글은 석유의 편재성에 대한 내용이다.
- 06 A는 석유, B는 석탄이다. 석유는 지구상에 편재되어 있어 석탄보다 국제적 이동량이 많으며, 석탄은 화력 발전의 연료로 이용되고 있다.

- 07** 자원 민족주의에 대한 내용이다. 자원 민족주의는 자원을 보유하고 있는 국가가 자원을 무기로 삼아서 자국의 정치·경제적 이익을 얻고자 하는 움직임으로, 자원의 생산량과 가격 조절에 국제적으로 영향을 미친다. 자원 민족주의가 확대되면 자원을 보유하고 있지 않은 국가들은 자원 확보가 더욱 어려워진다. ③ 자원 민족주의는 자원의 편재성과 유한성으로 인해 나타나게 되었다.
- 08** 중국과 타이, 베트남이 메콩강(E)의 물 자원을 둘러싸고 갈등을 겪고 있다는 내용이다. A는 나일강, B는 요르단강, C는 티그리스·유프라테스강, D는 갠지스강이다.
- 09** 석유가 부족한 국가에서는 다양한 국가에서 석유를 수입하고, 해외 유전을 개발하는 등 석유를 안정적으로 확보하기 위해 노력하고 있다. 또한 고갈 자원인 석유를 대체할 지속 가능한 에너지를 개발해야 한다. ㄴ. 외국인 석유 수입에 의존하지 않고, 자원 외교, 해외 유전 개발 등 다양한 노력을 해야 한다. ㄷ. 자원 민족주의에 대한 내용으로 자원 보유국이 자국이 가진 자원에 대해 지배권을 확대하려는 태도이다.
- 10** 풍부한 천연자원을 가지고 경제 발전을 이룬 국가에는 미국, 오스트레일리아, 사우디아라비아 등이 있다. 대한민국, 룩셈부르크는 천연자원은 부족하지만 인적 자원을 개발하여 경제 발전을 이룬 국가이며, 나이지리아, 콩고 민주 공화국, 시에라리온은 천연자원은 풍부하지만 경제 발전에 어려움을 겪고 있는 국가이다.
- 11** 나이지리아(C)에 대한 내용이다. A는 노르웨이, B는 시에라리온, D는 오스트레일리아, E는 미국이다.

문제 자료 분석하기 풍부한 천연자원과 경제 성장

나이지리아 삼각주에 석유 자원이 풍부하게 매장되어 있지만, 이를 채굴할 기술이 부족하여 외국의 석유 기업에 개발을 허용하였다. 이 과정에서 정부와 기업의 독점적 이익 분배, 기름 유출 등으로 주민 생활이 악화되었다. 나이지리아 삼각주에 위치하고, 석유 자원이 풍부하며 정부와 기업의 독점적 이익 분배로 어려움을 겪는 국가 → 나이지리아

- 12** 일본, 대한민국, 룩셈부르크는 천연자원은 부족하지만 지식·정보·기술과 이를 다루는 인적 자원을 개발하여 경제 성장을 이룬 국가이다.
- 13** (가)는 사우디아라비아, (나)는 시에라리온에 대한 내용이다.
- 14** 조력 에너지, 바이오 에너지, 풍력 에너지, 태양광 에너지는 대표적인 신·재생 에너지로, 오염 물질의 배출량이 적어 환경친화적이며 지구상에 비교적 고르게 분포하고 있다. 또한 석유, 석탄 등 화석 연료의 의존도를 낮출 수 있다. ④ 신·재생 에너지는 자연환경의 영향을 비교적 많이 받는다.

- 15** 조력 에너지는 밀물과 썰물의 차가 큰 해안 지역에서 개발하기에 유리하다.
- 16** 수력 발전(㉠)은 대기 오염 물질의 배출이 비교적 적은 편이지만, 댐 건설로 인해 상류 지역에 수몰 지역이 발생할 수 있다. 조력 발전(㉡)은 방조제 부근의 해안 생태계 파괴와 이에 따른 어획량 감소로 어민들의 생활에 부정적인 영향을 미치기도 한다. 신·재생 에너지를 개발하는 국가들은 개발 계획 단계에서 이러한 개발이 자연환경과 인간 생활에 미치는 영향을 철저히 분석하고 진행(㉢)해야 한다. ④ 바이오 에너지의 소비량이 증가하면서 곡물 가격이 올라가고, 이를 식량 자원으로 이용하는 개발 도상국은 식량 부족 문제를 겪기도 한다.
- 17** (1) A 쌀, B 밀
(2) 쌀은 고온 다습한 기후에서 재배되며, 밀은 서늘하고 비교적 건조한 지역에서도 잘 자라 전 세계적으로 재배되고 있다.

핵심 단어 | 쌀, 밀, 고온 다습, 서늘, 건조

채점 기준	구분
쌀과 밀을 쓰고, 쌀과 밀의 재배 조건을 모두 바르게 서술한 경우	상
쌀과 밀을 쓰고, 쌀과 밀 중 한 자원의 재배 조건만 서술한 경우	중
쌀과 밀만 쓴 경우	하

- 18** 석유, 천연가스 등 에너지 자원의 영유권을 둘러싸고 주변국 간의 갈등이 발생하는 지역이다.
- 핵심 단어** | 에너지 자원, 영유권, 갈등

채점 기준	구분
에너지 자원의 영유권을 둘러싼 갈등이라는 내용을 포함하여 바르게 서술한 경우	상
자원은 쓰지 않고, 영유권을 둘러싼 갈등이라는 내용만 서술한 경우	하

- 19** 애그플레이션. 애그플레이션은 곡물 가격 상승이 식료품비를 포함한 경제 전반의 물가 상승으로 이어지는 현상이다.
- 핵심 단어** | 애그플레이션, 곡물, 물가 상승

채점 기준	구분
애그플레이션을 쓰고, 곡물 가격 상승과 물가 상승을 관련지어 바르게 서술한 경우	상
애그플레이션을 쓰고, 그 의미를 서술하였으나 미흡한 경우	중
애그플레이션만 쓴 경우	하

- 20** 천연자원을 개발하면 국가 경제 성장에 도움을 줄 수 있으며, 광업 발달과 함께 일자리가 증가한다. 또한 자원을 수출하여 많은 이익을 얻을 수 있으며, 이를 바탕으로 사회 기반 시설을 확충하고 교육 및 의료 시설 등을 늘릴 수 있다.
- 핵심 단어** | 국가 경제 성장, 일자리 증가, 자원 수출 이익, 사회 기반 시설 확충

채점 기준	구분
천연자원의 개발이 주민 생활에 미치는 긍정적 영향 두 가지를 바르게 서술한 경우	상
천연자원의 개발이 주민 생활에 미치는 긍정적 영향을 한 가지만 서술한 경우	하

VII | 개인과 사회생활

01 사회화와 청소년기

STEP 1 차근 차근 개념 체크 p.107

- 1 (1) 사회적 존재 (2) 사회화 2 (1) × (2) ○ (3) ○ 3 (1) ㉠ (2) ㉡ (3) ㉢ (4) ㉣
4 (1) 유아기 (2) 청소년기 (3) 재사회화 5 (1) ㉠ (2) ㉡ (3) ㉢ 6 자아 정체성

STEP 2 차곡 차곡 실력 체크 p.107~109

- 01 ㉠ 02 ㉣ 03 ㉡ 04 ㉠ 05 ㉠
06 ㉢ 07 대중 매체 08 ㉢ 09 ㉣ 10 ㉢
11 ㉠ 12 ㉠ 13 ㉠ 14 ㉢ 15 ㉡
16 해설 참조 17 해설 참조 18 해설 참조

01 인간이 정상적인 사회화의 과정을 경험하지 못했을 때 어떤 일이 발생할 수 있는지를 보여 주고 있다. 인간은 다른 사람과의 상호 작용을 통해 자신이 속한 사회의 생활 양식을 학습함으로써 인간다운 삶을 살 수 있다.

문제 자료 분석하기 사회적 존재로서의 인간

빅토르는 아주 어릴 때부터 프랑스 아베롱 숲에서 동물과 함께 생활한 '야생의 아이'이다. 10살 무렵에 사람에게 발견된 빅토르는 이타르 박사와 함께 생활하며 교육을 받았다. 그러나 빅토르는 사람이 가르쳐 주는 언어를 제대로 배우지 못하였고, 야생에서의 생활 습관도 대부분 고치지 못하여 사회에 적응하지 못하였다.

↳ 인간은 발달 단계에 적합한 사회화의 내용을 학습하지 못하면 사회에 적응하기가 힘들다는 것을 알 수 있다.

- 02 본능에 따른 행동과 달리 사회화의 결과로 나타나는 인간의 행동은 각 사회마다 다르다. 예를 들면 쌍둥이도 다른 사회에서 자라면 다른 행동 양식을 보인다.
- 03 사회화는 그 사회의 문화를 후천적으로 학습하는 것이다. 배가 고파서 먹을 것을 찾는 것은 본능에 의한 행동이다. 사회화의 적합한 사례라면 '배가 고프더라도 다른 사람의 음식을 함부로 먹지 않는다.'와 같이 후천적으로 학습된 것이어야 한다.
- 04 사회화의 과정에서 개인마다 관계를 맺는 사람이 다르고 경험하는 사회적 상황도 다르므로 어떤 환경 속에서 사회화가 이루어지느냐에 따라 개인은 각기 다른 모습으로 성장한다. 같은 일란성 쌍둥이라 할지라도 미국 사회와 프랑스 사회에서 각각 성장하였다면 사회화된 모습이 다를 수 있다.
- 05 사회화는 개인적 측면에서는 다른 사람과 구별되는 자신만의 독특한 자아를 형성하는 과정이며, 사회적 측면에서는 이전 세대의 문화를 다음 세대로 전달하여 사회를 유지·발전시키는 과정이라고 할 수 있다.

선택지 바로 보기

㉠. 한 사회의 구성원으로 성장한다. (×)
 ㉡ 개인적 측면
 ㉢. 자기 자신만의 독특한 자아를 형성한다. (×)
 ㉣ 개인적 측면
 ㉤. 사회 질서를 유지하고 발전에 기여한다. (○)
 ㉥. 한 사회의 문화를 다음 세대로 전승시킨다. (○)

- 06 인간이 태어나서 처음 경험하게 되는 사회화 기관은 가정이다. 부모로부터 언어와 기본적인 생활 방식을 배우게 되는데, 대부분의 기본적인 사회화는 이 시기에 이루어진다.
- 07 대중 매체는 많은 사람들에게 대량으로 정보를 전달하는 사회화 기관으로, 생활에 필요한 다양한 지식과 가치, 규범을 제공한다. 오늘날과 같은 정보 사회에서 대중 매체의 중요성과 영향력이 커지고 있다.
- 08 개인은 살아가는 데 필요한 다양한 내용을 여러 사회화 기관에서 배우게 된다. 학교는 사회화를 목적으로 만든 공식적인 사회화 기관으로, 학교 교육을 통하여 개인은 사회생활에 필요한 지식과 규범, 가치 등을 체계적으로 학습한다.

선택지 바로 보기

① 가정 - 놀이를 통해 집단의 규칙과 질서를 익힌다. (×)
 ㉡ 또래 집단에 대한 설명이다.
 ② 직장 - 청소년기의 사회화에 많은 영향을 미친다. (×)
 ㉢ 또래 집단에 대한 설명이다.
 ③ 학교 - 공동체 생활을 하면서 지식이나 기술, 규범 등을 체계적으로 배운다. (○)
 ④ 또래 집단 - 현대 사회에서 특히 영향력이 커지고 있으며, 다양한 정보를 제공한다. ㉣ 대중 매체에 대한 설명이다.
 ⑤ 대중 매체 - 태어나서 사회화가 맨 처음 이루어지는 곳으로, 언어, 예절 등을 배운다. ㉡ 가정에 대한 설명이다.

- 09 유아기에는 가족을 통해 언어, 생활 습관 등을 익히며 아동기에는 또래 집단과의 놀이를 통해 규범이나 공동체 의식을 배운다. 청소년기에는 학교에서 공동체 생활에 필요한 지식을 학습하며, 또래 집단의 영향을 가장 크게 받는 시기이다. 성인이 된 이후에도 직장에서 업무와 관련된 내용을 학습하고, 일생 동안 대중 매체를 통해 새로운 정보를 얻기도 한다.
- 10 주어진 두 사례는 새로운 환경에 적응하기 위하여 새로운 지식, 기술, 역할 등을 다시 배우는 '재사회화'에 해당한다.
- 11 청소년기는 감정적으로 불안한 시기라는 점에서 질풍노도의 시기라고 불린다.
- 12 청소년기에는 신체적·심리적으로 많은 변화가 나타난다. 그리고 사회화 과정을 통하여 다양한 지식과 가치를 익히고 자신과 사회에 대해 관심을 갖게 된다. 부모에게 의존하던 단계에서 벗어나고 부모와 마찰이 일어나기도 하며, 세상의 여러 가지 일에 호기심을 보이거나 주변 사람을 모방하려는 모

습을 나타낸다. ⑤ 청소년기는 자아 정체성을 형성해 나가는 시기로 아직 인격과 가치관이 명확하게 확립되지 않은 과도기에 해당한다.

- 13** 자아 정체성이란 다른 사람과 구별되는 자기 자신에 대한 인식으로, 여러 상황에서 드러나는 자신의 다양한 모습을 통합하면서 형성된다.
- 14** 청소년기에 이루어지는 자신에 대한 진지한 고민과 다른 사람과의 상호 작용 과정을 통해 자아 정체성이 형성된다.

선택지 바로 보기

- ㄱ. 주로 성인기에 형성된다. (×)
- ✔ 자아 정체성은 특히 청소년기를 거치며 확립된다.
- ㄴ. 주변 사람들과의 사회적 관계를 통해 형성된다. (○)
- ㄷ. 자신에 대한 끊임없는 고민과 생각을 바탕으로 형성된다. (○)
- ㄹ. 한번 형성된 자아 정체성은 변하지 않기 때문에 긍정적인 자아 정체성을 형성해야 한다. (×)
- ✔ 자아 정체성은 사회화 과정에서 가족과 친구, 교사 등 주변 환경의 영향을 받아 변화할 수 있다.

- 15** 자아에 대하여 제대로 인식하지 못하거나 주변 사람들의 반응이나 평가가 자기 생각과 지나치게 다르면 자아 정체성을 형성하기 쉽지 않다. 자아 정체성은 자신에 대한 진지한 고민과 함께 다른 사람과 상호 작용을 하는 과정을 통해 형성된다. 자신이 생각하는 나와 타인이 바라보는 나의 모습이 적절히 조화를 이루어야 한다.

- 16** 인간은 사회 속에서 사람들과 상호 작용을 하면서 사회화의 과정을 거쳐야만 비로소 인간답게 살 수 있는 사회적 존재이다.

| 핵심 단어 | 상호 작용, 사회화, 사회적 존재

채점 기준	구분
상호 작용과 사회화 과정을 거쳐 사회적 존재가 된다고 서술한 경우	상
사회화 과정을 거쳐 사회적 존재가 된다고 서술한 경우	중
인간은 사회적 존재라고만 서술한 경우	하

- 17** (1) 재사회화
(2) 직장인의 외국어 공부, 군대의 신병 교육 등이 재사회화의 사례에 해당한다.

채점 기준	구분
재사회화의 사례를 두 가지 이상 서술한 경우	상
재사회화의 사례를 한 가지만 서술한 경우	하

- 18** 감정의 회복이 심하고 충동적으로 행동하려 한다. 부모의 간섭에서 벗어나 정신적으로 독립하려 한다. 또래 집단에 대해 강한 친밀감과 유대감을 보인다. 등

| 핵심 단어 | 감정의 회복, 정신적 독립

채점 기준	구분
청소년기의 특징을 두 가지 이상 서술한 경우	상
청소년기의 특징을 한 가지만 서술한 경우	하

02 사회적 지위와 역할 ~ 03 사회 집단

STEP 1 차근 차근 개념 체크

p.112

- 1** ㉠ 사회적 지위 ㉡ 사회적 역할 **2** (1) ㉡ (2) ㉠ **3** (1) 귀속 지위, 성취 지위 (2) 역할 갈등 **4** (1) 사회 집단 (2) 준거 집단 **5** (1) L (2) ㄱ (3) C
6 (1) 차이 (2) 차별 (3) 차별

STEP 2 차곡 차곡 실력 체크

p.112~115

- 01** ④ **02** ③ **03** ④ **04** ④ **05** ③
06 역할 행동 **07** ④ **08** ④ **09** ⑤ **10** ①
11 ② **12** ④ **13** ② **14** ① **15** ⑤
16 ② **17** ① **18** ⑤ **19** ③ **20** ①
21 ② **22** ② **23** ① **24** ⑤ **25** 해설 참조
26 해설 참조 **27** 해설 참조 **28** 해설 참조

- 01** 개인은 자신이 속한 집단이나 사회적 관계 속에서 특정한 위치를 가지게 되는데, 이를 사회적 지위라고 한다. 사회적 지위는 자연적으로 주어지는 귀속 지위와 개인의 능력이나 노력에 의해 얻게 되는 성취 지위로 구분된다. 개인은 사회에서 여러 가지 사회적 지위를 동시에 갖고 있고, 그에 따른 다양한 역할을 수행한다. ④ 현대 사회에서는 귀속 지위보다 성취 지위가 중요시된다.

- 02** 사회적 지위 중에서 딸, 아들, 공주처럼 태어나면서부터 당연히 주어지는 지위를 귀속 지위라고 하고, 학생, 교사, 환경미화원처럼 개인의 노력으로 얻은 지위를 성취 지위라고 한다. ㉠, ㉡, ㉢, ㉣은 성취 지위, ㉤은 귀속 지위이다.

- 03** 개인의 노력이나 능력에 따라 얻게 되는 지위를 성취 지위라고 한다. 학생, 엄마, 의사는 개인의 노력으로 얻은 성취 지위이다. 그러나 장녀, 노인, 흑인은 태어나면서 당연히 주어지는 지위이거나 노력 없이 시간이 흘러 자연스럽게 얻게 되는 지위로 귀속 지위라고 한다.

- 04** 치과 의사, 영화배우는 개인의 노력으로 얻게 되는 성취 지위에 해당하며, 딸, 천민은 태어나면서 자연적으로 주어지는 귀속 지위에 해당한다.

- 05** 사회적 관계 속의 모든 지위에는 사람들이 기대하는 행동이 있는데, 이를 역할이라고 한다. 역할이 같다고 하더라도 실제로 그 역할을 수행하는 방식, 즉 역할 행동은 개인마다 다르게 나타날 수 있다. 개인이 지위에 따른 역할을 충실히 수행하면 사회적으로 보상을 받지만, 역할을 제대로 수행하지 못하면 제재를 받기도 한다.

- 06** 교사에게는 학생들을 잘 가르쳐 올바른 길로 이끌어 주기를 기대한다. 그런데 교사들이 학생을 교육하는 방식은 각자 다르다. 이처럼 하나의 지위에 대해 기대하는 행동 방식, 즉 역할은 일정하지만 실제로 그 역할을 수행하는 개개인의 행동

에는 차이가 있다. 역할 행동은 개인이 자신에게 주어진 역할을 수행하는 구체적인 행동을 말한다.

- 07 한 사람이 여러 가지 역할을 동시에 수행해야 하는 상황에서 역할들이 서로 충돌하여 곤란을 겪는 경우를 역할 갈등이라고 한다.
- 08 제시문에서 부영 씨는 어머니로서의 역할과 직장인이라는 역할을 동시에 수행해야 하는 상황에서 역할 갈등을 겪고 있다. 이러한 역할 갈등을 해결하기 위해서는 역할들 간의 우선순위를 합리적으로 정하여 수행해야 한다.

문제 자료 분석하기 역할 갈등

부영 씨는 유치원에 다니는 딸을 둔 어머니이자 직장인이다. 그런데 회사에서 근무를 하던 도중 유치원에 다니는 딸이 다쳐서 병원에 있다는 연락을 받게 되었다. 곧 중요한 회의를 앞두고 있는 상황이라 부영 씨는 병원에 가야 할지, 회의에 참석해야 할지를 두고 고민하고 있다.

어머니로서의 역할과 직장인으로서의 역할을 동시에 수행해야 하는 상황에서 발생한 역할 갈등의 상황이다.

- 09 사회 속에서 개인은 여러 지위에서 요구되는 다양한 역할을 수행한다. 이로 인하여 사람들은 타인의 다양한 요구를 동시에 실천하기 어려운 상황을 겪을 수 있다. 이처럼 두 가지 이상의 지위와 관련된 타인의 요구나 기대가 서로 충돌하면서 역할 갈등을 겪게 된다.
- 10 사회적 지위가 늘어나면 그에 따른 역할이 많아지면서 역할 갈등 상황이 더욱 증가할 수 있다.
- 11 개인은 사회생활을 하면서 여러 개의 지위를 가지고, 각 지위에 따른 다양한 역할들을 수행하게 된다. 이러한 역할들이 서로 조화를 이룰 수도 있지만, 역할들이 충돌하는 경우가 발생하기도 한다. ㉠ 구두 디자이너는 자신이 노력하여 얻은 성취 지위이다.

선택지 바로 보기

- ① 은미 씨의 지위는 하나이다. (x)
 ▶ 구두 디자이너, 아내, 엄마, 딸 등 다양한 지위를 가지고 있다.
- ② ㉠은 자신이 노력하여 얻은 지위이다. (o)
- ③ ㉡, ㉢은 귀속 지위이다. (x) ▶ ㉢ 남편은 성취 지위이다.
- ④ 은미 씨의 남편은 ㉢과 같은 역할 갈등을 겪는다. (x)
 ▶ 바쁜 아내를 돕는 것은 남편의 역할 행동에 해당한다.
- ⑤ ㉢은 태어나면서부터 당연히 주어지는 지위이다. (x)
 ▶ ㉢은 성취 지위이다.

- 12 둘 이상의 사람이 소속감과 공동체 의식을 가지고 지속적으로 상호 작용을 하는 집합체를 사회 집단이라고 한다.
- 13 사회 집단은 둘 이상의 구성원이 소속감과 공동체 의식을 가

지고 지속적인 상호 작용을 하는 집합체이다. 공원을 산책하는 사람들과, 마트에서 장을 보고 있는 사람들은 지속적인 상호 작용을 하지 않기 때문에 사회 집단으로 볼 수 없다.

- 14 사회 집단은 개인이 특정 집단에 소속되어 있으며 소속감을 느끼고 있는가에 따라 내집단과 외집단으로 구분할 수 있다. 내집단은 자신이 속해 있으면서 ‘우리’라는 공동체 의식을 느끼는 집단이고, 외집단은 자신이 속해 있지 않으면서 낮은 감정을 느끼는 집단이다.
- 15 사회 집단은 기준에 따라 몇 가지 유형으로 나누어진다. 구성원의 접촉 방식에 따라 1차 집단과 2차 집단으로, 구성원의 소속감 유무에 따라 내집단과 외집단으로, 구성원의 결합 의지에 따라 공동 사회와 이익 사회로 나눌 수 있다.

선택지 바로 보기

- ① ㉠ - 외집단 (x) ▶ 내집단
- ② ㉡ - 내집단 (x) ▶ 외집단
- ③ ㉢ - 공동 사회 (x) ▶ 이익 사회, 2차 집단
- ④ ㉣ - 2차 집단 (x) ▶ 공동 사회, 1차 집단
- ⑤ ㉤ - 1차 집단 (o)

- 16 사회 집단이란 둘 이상의 사람들이 소속감을 가지고 지속적으로 상호 작용을 하는 집합체이다. 사회 집단 중 가족과 또래 집단은 선천적·자연 발생적으로 형성되는 공동 사회와 친밀한 접촉이 중심이 되는 1차 집단의 특성이 많이 나타난다.

선택지 바로 보기

- ① 소속감에 따라 1차 집단과 2차 집단으로 구분한다. (x)
 ▶ 구성원들이 어떻게 접촉하느냐에 따라 1차 집단과 2차 집단으로 구분한다.
- ② 가족과 또래 집단은 자연 발생적으로 형성된 집단이다. (o)
- ③ 2차 집단은 친밀감과 전이격적인 관계를 특징으로 한다. (x)
 ▶ 1차 집단에 대한 설명으로, 2차 집단은 공식적 접촉이 중심이 되고, 형식적·부분적 관계를 형성한다.
- ④ 개인이 속한 집단은 반드시 준거 집단과 일치해야 한다. (x)
 ▶ 개인이 속한 집단은 준거 집단과 일치하는 경우도 있으나, 일치하지 않을 수도 있다.
- ⑤ 백화점의 쇼핑객들처럼 일시적으로 모인 사람들도 사회 집단에 해당한다. (x)
 ▶ 지속적인 상호 작용이 이루어지지 않기 때문에 사회 집단으로 볼 수 없다.

- 17 사회 집단은 구성원들이 소속감을 가지고 있느냐에 따라 내집단과 외집단으로 구분된다. 또한 구성원들의 접촉 방식과 친밀도에 따라 1차 집단과 2차 집단으로 구분된다.
- 18 제시문은 준거 집단에 대한 설명이다. 준거 집단은 자신의 행동이나 판단의 기준으로 삼고 있는 집단을 말한다.
- 19 (가)는 1차 집단이며 공동 사회에 해당하고, (나)는 2차 집단이며 이익 사회에 해당한다. (가)는 자연 발생적으로 만들어졌으며, 직접적이고 친밀한 상호 작용을 하는 집단이다. (나)는 어

면 목적이나 이해관계에 따라 개인의 결합 의지가 반영되며, 구성원의 목적 달성을 위한 상호 작용이 강하게 나타나는 집단이다.

20 개인은 사회 집단 안에서 다른 구성원과 사회적 관계를 맺으면서 사회적 존재가 되며 지위를 얻고 역할을 배운다. 따라서 사회 집단은 개인과 사회를 연결하는 중요한 매개체이다. 사회 집단은 개인의 사고와 행동에 영향을 미치며, 개인의 노력으로 사회 집단을 변화시킬 수도 있다.

21 인종, 성별, 종교의 차이 등 다른 사람과 같지 않고 다르게 나타나는 모습을 차이라고 하며, 다르다는 이유로 어떤 사람이나 집단을 부당하게 대우하는 것을 차별이라고 한다.

22 사례는 성차별과 인종 차별을 나타내고 있다. 사회적 차별이 발생하면 차별을 받는 사람들은 심리적 불안과 물질적 피해, 사회 부적응 등을 경험할 수 있다. 또 사회 집단 간에 대립과 갈등이 발생하여 사회가 안정되고 발전하는 데 어려움을 겪을 수 있다.

23 차이를 이유로 어떤 사람이나 집단을 부당하게 대우하는 모든 행위를 차별이라고 한다. 합리적인 근거에 따른 것은 차별이 아니다. ① 대중교통 이용에 어려움이 있는 교통 약자를 위한 노약자석은 차이를 인정하고 배려하는 사례이다.

24 사회적 차별을 해결하기 위하여 사회 구성원들은 서로 다를 수 있음을 인정하고 자연스러운 현상으로 받아들여야 한다. 또한 주변에 부당한 차별이 존재하는지 살펴보고, 타인의 권리를 존중하도록 한다. 사회적 차원에서 차별을 예방할 수 있도록 법과 제도를 마련해야 한다. 차별은 개인적·제도적 차원의 노력이 동시에 이루어져야만 해결할 수 있다.

25 역할 갈등. 한 사람이 여러 가지 지위에 기대되는 역할을 동시에 수행하기 때문에 발생하는 현상으로, 역할의 우선순위를 정하여 중요한 것부터 먼저 처리한다. 또는 합리적인 의사 결정을 통해 어느 하나를 포기한다.

| 핵심 단어 | 역할 갈등, 여러 가지, 동시에 수행, 우선순위

채점 기준	구분
역할 갈등을 쓰고, 역할 갈등의 원인과 해결 방안을 정확히 서술한 경우	상
역할 갈등을 쓰고, 역할 갈등의 원인과 해결 방안 중 한 가지만 서술한 경우	중
역할 갈등만 언급한 경우	하

26 (나), (다). 일시적으로 모여 소속감과 공동체 의식이 없고, 지속적인 상호 작용이 이루어지지 않기 때문에 사회 집단이 아니다.

| 핵심 단어 | 소속감, 공동체 의식, 지속적인 상호 작용

채점 기준	구분
소속감, 공동체 의식, 지속적인 상호 작용을 모두 포함하여 서술한 경우	상
소속감, 공동체 의식, 지속적인 상호 작용 중 두 가지만 포함하여 서술한 경우	중
소속감 또는 공동체 의식이 없다고만 서술한 경우	하

27 (1) 연예인, 자신의 행동이나 판단의 기준으로 삼고 있는 집단을 준거 집단이라고 한다.

| 핵심 단어 | 준거 집단, 행동이나 판단 기준

채점 기준	구분
행동이나 판단의 기준으로 삼는 집단이라고 서술한 경우	상
준거 집단만 언급한 경우	하

(2) 소속 집단과 준거 집단이 일치하지 않을 경우 소속 집단에 대해서 불만이 생기고 갈등을 겪을 수 있다.

| 핵심 단어 | 불만, 갈등

채점 기준	구분
불만이 생기고 갈등을 겪을 수 있다고 서술한 경우	상
불만이 생긴다고만 서술한 경우	하

28 의식적으로는 편견과 고정 관념을 극복하고 다른 사람을 차별하지 않으려는 태도를 기르고, 제도적으로는 소수자에 대한 차별 금지 제도 및 우대 정책을 시행한다.

| 핵심 단어 | 편견, 고정 관념 극복, 소수자, 차별 금지 제도

채점 기준	구분
차별을 없애기 위한 의식적 노력과 제도적 노력을 정확하게 서술한 경우	상
차별을 없애기 위한 의식적 노력과 제도적 노력을 서술하였으나 미흡한 경우	중
차별을 없애기 위한 의식적 노력과 제도적 노력 중 한 가지만 서술한 경우	하

STEP 3 모아 모아 단원 체크

p. 116 ~ 118

- 01 ①
- 02 ⑤
- 03 ⑤
- 04 ③
- 05 ④
- 06 ⑤
- 07 ⑤
- 08 ③
- 09 ①
- 10 ⑤
- 11 ①
- 12 ②
- 13 ⑤
- 14 ③
- 15 ⑤
- 16 ②
- 17 ②
- 18 ①
- 19 ⑤
- 20 해설 참조
- 21 해설 참조
- 22 해설 참조

01 인간은 태어나면서부터 다른 사람들과 영향을 주고받으며 더불어 살아가는 상호 작용을 한다. 이를 통해 인간은 사회 생활에 필요한 지식, 가치, 행동 양식 등을 습득하는데, 이러한 과정을 사회화라고 한다. 인간은 사회화를 통해 사회적 존재로 성장한다.

02 사회화는 유아기나 아동기, 청소년기에 집중적으로 이루어지나 그렇다고 그 시기에만 이루어지는 것은 아니다. 성인이 된 이후에도 직장에서 업무와 관련된 내용을 학습하고 대중 매체를 통해 새로운 정보를 얻기도 한다.



- 03 개인은 사회화로 사회의 행동 양식을 배우고 다른 사람과 관계를 맺으면서 자신의 정체성을 형성한다. ①, ②, ④는 사회화의 사회적 측면의 기능에 해당한다. 이러한 사회화의 내용이나 방식은 사회마다 다르게 나타날 수 있다.
- 04 1차적 사회화 기관은 비형식적이고 인격적인 관계가 형성되며, 가정, 또래 집단 등이 해당된다. 2차적 사회화 기관은 형식적인 인간관계가 이루어지고 인위적으로 형성되며, 학교, 회사, 대중 매체 등이 해당된다.
- 05 또래 집단이란 놀이를 중심으로 비슷한 나이의 구성원들이 형성한 집단이다. 또래 집단은 대등한 관계에서 상호 작용을 하는 사회적 기관으로, 놀이를 통하여 규칙과 질서를 익힐 수 있다.
- 06 ㄱ. 아동기에는 주로 가족과의 접촉을 통하여 기본적인 욕구를 충족하는 방법과 의사소통 방식을 습득한다. ㄴ. 청소년기에는 학교와 같은 공식적인 사회화 기관에서 다양한 지식과 기술, 가치 등을 익힌다.
- 07 오늘날과 같이 변화의 속도가 빠른 사회에서는 기존에 습득한 생활 양식이나 지식만으로 사회에 적응하며 살아가기 힘들어졌다. 따라서 새로운 생활 양식과 지식, 기술, 규범 등을 지속적으로 습득해야 하는데, 이러한 과정을 재사회화라고 한다.
- 08 청소년기에는 급격한 신체 변화와 함께 심리적 변화를 겪게 된다. 이 시기에는 이성과 외모에 관한 관심이 커지고, 독립심이 강해지며, 감수성도 풍부해진다. 청소년기는 가족의 영향을 크게 받던 아동기와 달리 또래 집단과 대중 매체의 영향력이 매우 커지게 된다.
- 09 자아 정체성이란 자신이 어떤 사람인지, 어떻게 살아야 하는지에 대한 주체적인 인식을 말한다. 자아 정체성은 다른 사람과 구별되는 자신만의 고유성을 깨닫는 것으로, 자신의 노력뿐 아니라 가정, 학교, 또래 집단 등 다양한 요인과의 상호 작용을 통해 형성된다.
- 10 사람은 다른 사람과 사회적 관계를 맺고 끊임없이 상호 작용을 한다. 이 과정에서 사람은 여러 위치에 있게 되는데, 개인이 사회적 관계 속에서 차지하는 위치를 사회적 지위라고 한다. 사람은 다양한 관계를 맺으므로 대부분 여러 개의 사회적 지위를 지닌다.
- 11 개인은 여러 개의 사회적 지위를 가진다.
- 12 개인의 의지와 상관없이 태어나면서부터 자연스럽게 갖게 되는 지위를 귀속 지위라고 하고, 개인의 노력이나 능력에 따라 후천적으로 얻게 되는 지위를 성취 지위라고 한다. ①, ③, ④, ⑤는 성취 지위이고, ②는 귀속 지위에 해당한다.

- 13 한 사람이 여러 가지 지위를 가지게 되면 그 지위에 따른 역할이 충돌하여 갈등을 일으키기도 하는데, 이를 역할 갈등이라고 한다. 사회가 복잡해지면서 인간관계는 더욱 다양해지고, 이에 따라 개인이 경험하는 역할 갈등도 증가한다.
- 14 사회 구성원들이 빈번하게 겪는 역할 갈등을 줄일 수 있도록 사회적 차원의 노력도 필요하다. 예를 들어 육아와 회사 일을 병행하는 부모들이 겪을 수 있는 역할 갈등을 줄이기 위해 직장 내 어린이집 설치를 확대하거나 육아 휴직을 보장하는 법과 제도를 마련해야 한다.
- 15 역할을 수행하는 개인의 구체적인 행동을 역할 행동이라 하는데 이는 개인마다 다를 수 있다. 성실하게 역할을 수행하면 칭찬과 보상을 받지만, 그렇지 못한 경우 비난과 처벌을 받기도 한다. ㉠ 나성실 학생이 학급 환경 보건 부장에게 기대되는 역할을 잘 수행하였기 때문에 모범상 수상자로 추천을 받게 된 것이다.

선택지 바로 보기

- ① ㉠ - 1차적 사회화 기관에 속한다. (X)
 학교는 2차적 사회화 기관이다.
- ② ㉠ - 공동 사회에 해당한다. (X) 이익 사회에 해당한다.
- ③ ㉠ - 귀속 지위이다. (X) 성취 지위이다
- ④ ㉠ - 역할 갈등이 발생하였다. (X)
 역할 수행을 제대로 수행하여 보상을 받았다.
- ⑤ ㉠ - 역할과 역할 행동이 일치한다. (O)

- 16 둘 이상의 사람이 모여 소속감을 가지고 지속적인 상호 작용을 하는 집단을 사회 집단이라고 한다. 두 사람 이상이 모여 있다 하더라도 소속감이 없고 지속적인 상호 작용을 하지 않으면 사회 집단으로 볼 수 없다.
- 17 사회 집단은 구성원들의 접촉 방식과 친밀도에 따라 1차 집단과 2차 집단으로 구분된다. 또한 구성원들이 소속감을 가지고 있느냐에 따라 내집단과 외집단으로 구분된다.
- 18 집단에 소속되어 있는지와 상관없이 한 개인이 판단이나 행동의 기준으로 삼는 집단을 준거 집단이라고 한다. 소속 집단과 준거 집단이 일치하는 경우 집단에 대한 만족감과 소속감이 커지지만, 일치하지 않는 경우 집단에 대해 불만을 가지거나 갈등을 겪을 수 있다.
- 19 차별을 줄이기 위한 사회적 차원의 노력으로 법으로 차별을 금지하거나, 차별받는 집단에 우선권이나 가산점을 주는 적극적 우대 조치를 도입할 수 있다. 제시된 자료의 법률들은 적극적 우대 조치에 해당한다.
- 20 급격한 사회 변화로 인해 기존에 학습한 생활 양식이나 지식만으로는 적응하며 살아가기가 어려워졌기 때문이다.

| 핵심 단어 | 급격한 사회 변화

채점 기준	구분
재사회화의 필요성을 현대 사회의 특성과 관련하여 정확하게 서술한 경우	상
재사회화의 필요성을 현대 사회의 특성과 관련하여 서술하였으나 미흡한 경우	중
기준에 적합한 내용만으로는 사회에 적응하기 힘들어졌다고만 서술한 경우	하

- 21** (1) ㉠, ㉡은 귀속 지위, ㉢, ㉣은 성취 지위이다.
 (2) 귀속 지위는 태어나면서부터 자연적으로 주어지는 지위를 말한다. 성취 지위는 자신의 노력이나 능력으로 얻게 되는 지위를 말한다.

채점 기준	구분
귀속 지위와 성취 지위의 의미를 모두 올바르게 서술한 경우	상
귀속 지위와 성취 지위 중 하나만 올바르게 서술한 경우	하

- 22** (1) 접촉 방식
 (2) 1차 집단은 자주 접촉하고 강한 친밀감을 느끼는 집단을 말한다. 2차 집단은 특정 목적을 달성하기 위해 수단적인 만남을 바탕으로 한 집단을 말한다.

| 핵심 단어 | 접촉, 강한 친밀감, 특정 목적, 수단적인 만남

채점 기준	구분
1차 집단과 2차 집단의 특징을 접촉 방식과 인간관계의 특징에 따라 자세히 서술한 경우	상
1차 집단과 2차 집단의 특징을 접촉 방식과 인간관계의 특징 중 한 가지 측면에서만 서술한 경우	중
접촉 방식이라고만 쓴 경우	하

VIII | 문화의 이해

01 문화의 의미와 특징 ~ 02 문화를 이해하는 태도

STEP 1 차근 차근 개념 체크 p.123

- 1** 문화 **2** (1) × (2) ○ **3** 보편성, 다양성 **4** (1) ㉠ (2) ㉡ (3) ㉢ (4) ㉣ (5) ㉤
5 (1) ㉠ (2) ㉡ (3) ㉢

STEP 2 차곡 차곡 실력 체크 p.123~125

- 01** ⑤ **02** ④ **03** ③ **04** ③ **05** ③
06 ⑤ **07** ② **08** ② **09** ② **10** ④
11 ② **12** ② **13** ⑤ **14** ⑤ **15** 해설 참조
16 해설 참조 **17** 해설 참조

- 01** 한 사회에서 공통적으로 나타나는 생활 양식의 총체를 문화라고 한다. 따라서 인간이 사는 모든 사회에 문화가 형성되어 있음을 알 수 있다. 그러나 인간의 행동 중에서도 후천적으로 만들어 낸 것, 즉 본능이 아니라 학습에 의한 것이어야 문화가 될 수 있다.
- 02** 민족 문화는 한 민족의 생활 양식을 바탕으로 이루어진 민족 고유의 독특한 문화로, 넓은 의미의 문화에 해당한다.
- 03** 문화란 후천적으로 학습된 사회 구성원들의 공통된 생활 양식을 뜻한다. 본능, 개인적인 습관 등은 문화가 아니다. ㄱ, ㄴ은 본능적인 행위나, 개인의 습관이므로 문화에 해당하지 않는다.
- 04** 관념 문화는 인간에게 삶의 방향을 제시해 주고 정신적 삶을 풍요롭게 해 주는 지식과 가치로서 철학, 문학, 예술, 학문, 신화 등이 포함된다. ㄴ, ㄴ은 물질문화, ㄷ은 제도문화에 해당한다.
- 05** 어느 사회에서나 공통으로 나타나는 생활 양식이 있는데, 이러한 특징을 문화의 보편성이라고 한다. 한편 각 사회의 문화는 서로 다른 고유한 모습을 지니고 있는데, 이러한 특징을 문화의 다양성이라고 한다. ㉠은 다양성, ㉡은 보편성을 보여주는 예이다.
- 06** 문화는 오랜 기간에 걸쳐 그 사회의 자연환경 및 역사적·사회적 환경 속에서 독특하게 형성되었기 때문에, 각 사회의 문화는 시대와 지역에 따라 여러 가지 모습으로 나타난다.
- 07** (가)는 변동성, (나)는 학습성에 대한 사례이다. 문화는 일정하게 고정되어 있는 것이 아니라 끊임없이 변화를 계속하는데, 이러한 특성을 문화의 변동성이라고 한다. 또한 문화는 태어날 때부터 본능적으로 가지는 것이 아니라 성장하면서 후천적으로 학습되는 것이다. 이를 문화의 학습성이라고 한다.
- 08** 한 사회의 구성원들은 공통의 문화를 공유하는데, 이를 문화의 공유성이라고 한다. 이를 통하여 사회 구성원들은 특정한 상황에서 다른 사람들의 행동을 예측하고 자신이 어떻게 행동할지 결정함으로써, 원활한 사회생활을 할 수 있다.
- 09** 문화는 말과 글을 통하여 다음 세대로 전해지면서 새로운 내용이 추가되고 쌓이는데, 이를 문화의 축적성이라고 한다. 한 세대의 문화가 다음 세대로 전승되고 여기에 새로운 지식과 기술이 쌓여 가면서 문화는 더욱 풍부하고 다양해진다.

선택지 바로 보기

- ① 학습성 - 대부분의 사회에서 장례 의식이 행해지고 있다. (X) **▶보편성**
- ② 축적성 - 기술이 발달하면서 휴대 전화에 새로운 기능이 계속 추가된다. (O)
- ③ 공유성 - 쌍둥이가 각각 다른 사회에서 성장할 경우, 서로 다른 언어와 생활 양식을 갖게 된다. (X) **▶학습성**
- ④ 전체성 - 과거에는 편지를 써서 소식을 전했다지만 요즘에는 이메일이나 문자 메시지를 많이 사용한다. (X) **▶변동성**
- ⑤ 변동성 - 우리나라에서는 겨울이 되면 일반적으로 김장을 했느냐고 인사를 한다. (X) **▶공유성**

- 10** 자료에 나타난 문화 이해의 태도는 자문화 중심주의이다. 자신이 속한 문화만 우월한 것으로 보고 다른 문화를 열등하다고 생각하는 자문화 중심주의는 다른 문화를 부정적으로 평가한다. 이러한 태도는 다른 문화와 갈등을 일으키고, 세계화 시대에 다른 국가나 지역과의 교류를 어렵게 할 수 있다.
- 11** 사례에 나타난 문화 이해의 태도는 문화 상대주의이다. 자신의 문화를 열등한 것으로 생각하는 문화 상대주의는 다른 문화만 따르고 자기 문화는 낮게 평가하게 된다. 이러한 태도는 다른 문화를 추종하는 과정에서 자신의 문화 정체성을 잃을 수 있다는 문제가 있다.
- 12** 한 사회의 문화를 그 사회 구성원의 입장에서 이해하는 태도를 문화 상대주의라고 한다. 문화 상대주의에서 보면 문화는 서로 다를 뿐이지 우열을 구분할 수 있는 것은 아니다.
- 13** 자료의 전족 풍습과 같이 인간의 존엄성을 해치는 행위는 문화로 인정해서는 안 된다. 다른 사회의 문화를 이해하고 존중하되 인간의 보편적 가치가 문화 이해의 기준과 바탕이 되어야 한다. 전족, 명예 살인, 쿠마리, 식인 풍습 등 인간의 존엄성을 훼손하는 문화까지도 인정하는 극단적 문화 상대주의는 경계해야 한다.
- 14** 모든 문화는 각기 다른 환경에 각자의 방식으로 적응해 온 결과이므로 나름의 독특한 의미와 가치를 가지며 우열을 가릴 수 없는데, 이를 문화의 상대성이라고 한다. 다른 문화를 이해할 때에는 그 사회의 구성원의 입장에서 바라보고 이해하는 태도가 필요하다.
- 15** 어느 사회에서나 공통으로 나타나는 생활 양식이 있는데, 이러한 특징을 문화의 보편성이라 한다. 그러나 각 사회의 환경이나 상황이 다르기 때문에 각 사회의 문화는 고유한 특징을 지니는데, 이것을 문화의 다양성이라 한다. 나라마다 성년식이 있다는 것은 보편성, 기념하는 방식이 나라마다 다른 것은 다양성을 보여 준다.

| 핵심 단어 | 공통의 생활 양식, 환경, 고유한 특징

채점 기준	구분
보편성과 다양성에 대해 서술하고, 그러한 특징이 나타나는 이유까지 함께 서술한 경우	상
보편성과 다양성에 대해 모두 서술하였지만 다양성이 나타나는 이유를 서술하지 않은 경우	중
보편성과 다양성 중 하나만 서술한 경우	하

- 16** (1) 문화 상대주의
 (2) 문화 상대주의는 다른 문화의 장점을 받아들이는 데는 도움이 되지만, 자기 문화의 정체성과 고유성을 상실할 수 있는 문제가 있다.

| 핵심 단어 | 다른 문화의 장점을 받아들임, 정체성과 고유성 상실

채점 기준	구분
장점과 단점을 모두 서술한 경우	상
장점과 단점 중 한 가지만 서술한 경우	하

- 17** (1) 문화 상대주의
 (2) 인간의 존엄성과 같이 인류의 보편적인 가치를 훼손하는 문화까지 인정해서는 안 된다.

| 핵심 단어 | 인간의 존엄성, 인류의 보편적 가치 훼손

채점 기준	구분
인간의 존엄성 및 인류의 보편적 가치 훼손 등을 언급하여 정확하게 서술한 경우	상
인류의 보편적인 가치를 훼손한다고만 서술한 경우	하

03 대중 매체와 대중문화

STEP 1 차근 차근 개념 체크

p.128

- 1** (1) 대중 매체 (2) 뉴 미디어 **2** (1) × (2) ○ **3** 대중문화 **4** (1) ⊚ (2) ⊙ **5** (1) × (2) ○ (3) ○ **6** (1) 비판적으로 (2) 능동적인

STEP 2 차곡 차곡 실력 체크

p.128~129

- 01** ① **02** ④ **03** ③ **04** ④ **05** ⑤
06 ② **07** ⑤ **08** ② **09** ① **10** 해설 참조
11 해설 참조 **12** 해설 참조

- 01** 변화가 빠르고 복잡한 현대 사회에서 정보를 신속하게 전달하는 대중 매체의 중요성이 점점 커지고 있다.
- 02** 최근 정보 통신 기술이 발달하면서 인터넷, 이동 통신과 같은 새로운 대중 매체가 등장하고 있다. 새로운 대중 매체는 정보를 일방적으로 전달하던 기존의 대중 매체와 달리 쌍방향 소통이 가능하게 한다.
- 03** 기존의 대중 매체는 주로 대중에게 정보를 일방적으로 전달하는 형태였으나, 뉴 미디어는 쌍방향 의사소통이 가능하다는 특징을 가지고 있다. 이러한 특징으로 인해 대중이 문화의 소비자에 머물지 않고 문화의 생산자가 되는 경우도 생겨나고 있다.

04 대중 매체는 다수의 사람들에게 대량의 정보를 전달하는 매개체이다. (가)는 기존의 대중 매체이며, (나)는 새로운 대중 매체인 뉴 미디어에 해당한다.

선택지 바로 보기

- ① (가)는 뉴 미디어에 해당한다. (×)
- ② (나)에 대한 설명이며, (가)는 기존의 대중 매체에 해당한다.
- ③ (가)는 대중문화에 영향을 미치지 않는다. (×)
- ④ (가)와 (나) 모두 대중문화가 형성되고 확산되는 과정에서 큰 영향을 미친다.
- ⑤ (나)는 (가)보다 먼저 등장하였다. (×)
- ⑥ (가)가 (나)보다 먼저 등장하였다.
- ⑦ (나)로 인해 대중이 문화를 생산하는 주체가 되고 있다. (○)
- ⑧ (나)는 쌍방향 소통을 가능하게 함으로써 대중이 적극적으로 문화를 생산하고 창조하는 주체가 되도록 하고 있다.
- ⑨ (나)는 다수의 사람들에게 대량의 정보를 제공하지 못한다. (×)
- ⑩ (가)와 (나) 모두 다수의 사람들에게 대량의 정보를 제공한다.

05 대중 매체가 발달하면서 과거 소수의 특권 계층만이 누리던 문화를 누구나 쉽게 즐길 수 있게 되었고, 이를 통하여 대중이 함께 누리는 대중문화가 빠르게 확산되었다. ⑤ 대중문화는 비교적 적은 비용으로 누릴 수 있다.

06 대중문화는 대중에게 즐거움과 휴식을 제공함으로써 대중은 문화적으로 풍요로운 삶을 누릴 수 있고, 대중 매체를 통해 많은 정보를 효과적으로 전달받을 수 있다. 그러나 나, 다와 같은 문제점이 발생하기도 한다.

07 대중문화는 이윤을 추구하는 상업성을 지닌다. 상업화된 대중문화는 많은 사람의 흥미를 끌기 위해서 자극적인 내용에만 치우칠 수 있으며, 문화의 질이 떨어진다는 위험이 있다.

08 대중문화는 대중 매체를 통하여 대량 소비되는 과정에서 문화의 획일화를 초래할 수 있다. 실제로 사람들은 자신의 개성보다는 유행을 따르려는 경향을 보이기도 한다. 이러한 획일화는 문화의 다양성을 훼손하며 대중은 수동적인 소비자가 될 우려가 있다.

09 대중문화는 대중 매체에 의해 일방적으로 생산·보급되기 때문에 특정 집단이나 세력에 의해 조작될 수 있다. 따라서 이를 비판적으로 받아들이는 자세가 필요하다. 또한 잘못된 정보는 바로잡도록 적극적으로 요구해야 한다.

10 대중은 문화를 수동적으로 소비하는 데 그치지 않고, 직접 대중문화를 생산하는 주체가 되고 있다.

| 핵심 단어 | 수동적, 직접, 생산하는 주체

채점 기준	구분
문화의 생산자로서의 대중의 역할 변화를 정확하게 서술한 경우	상
문화를 생산하게 되었다는 내용만 서술한 경우	하

11 대중문화는 이윤을 창출하기 위해 문화를 상품화함으로써 문화의 질을 떨어뜨리는 상업화의 문제점이 나타난다. 또한 대중문화는 대중 매체를 통해 일방적으로 전달되기 때문에 문화가 획일화되는 문제가 있다.

| 핵심 단어 | 이윤 창출, 상업화, 일방적 전달, 획일화

채점 기준	구분
상업화, 획일화를 쓰고, 그 특징과 연관 지어 모두 정확하게 서술한 경우	상
상업화, 획일화를 쓰고, 그 특징과 연관 지어 서술하였으나 미흡한 경우	중
상업화, 획일화라고만 쓴 경우	하

12 대중 매체로 전파되는 대중문화를 맹목적으로 수용하기보다는 비판적인 시각으로 해석하고 검토해야 한다.

| 핵심 단어 | 맹목적 수용, 비판적 시각

채점 기준	구분
비판적인 시각으로 해석하고 검토해야 한다고 서술한 경우	상
맹목적으로 수용하지 말아야 한다고 서술한 경우	하

STEP 3 모아 모아 단원 체크 p. 130~132쪽

01 ②	02 ③	03 ②	04 ⑤	05 ⑤
06 ⑤	07 ⑤	08 ②	09 ③	10 ③
11 ①	12 ④	13 ⑤	14 ④	15 ③
16 ⑤	17 해설 참조	18 해설 참조	19 상업성	

01 인간이 주어진 환경을 극복하고 적응하면서 만든 공통의 생활 양식을 문화라고 한다. 그러나 모든 행동이 문화인 것은 아니다. 손톱을 물어뜯거나 긴장하면 눈을 비비는 것과 같은 개인적인 습관이나 재채기, 배고픔처럼 본능적인 행동은 문화라고 할 수 없다.

02 ‘문화’에는 여러 가지 의미가 있는데, (가)는 교양, 세련, 예술 등을 뜻하는 좁은 의미의 문화, (나)는 사회 구성원들의 행동 및 사고방식을 포함하는 넓은 의미의 문화이다. 문화면, 광주 예술 문화 회관 등은 좁은 의미의 문화에 해당한다. 주거 문화, 음식 문화, 유목 문화, 전통문화는 넓은 의미의 문화에 해당한다.

03 자연 현상, 본능적인 행동, 개인적 습관이나 버릇 등은 문화가 아니다. 한 사회에서 공통적으로 나타나는 생활 양식을 문화라고 한다.

04 문화의 구성 요소에는 물질문화와 비물질문화가 있는데, 비물질문화는 다시 제도문화와 관념 문화로 나뉘어진다. 물질문화는 인간이 기본적 욕구를 충족하고 생존하는 데 필요한 도구나 기술을 가리킨다. 제도문화는 사회 질서를 유지하기 위한 법, 예절 등이며, 관념 문화란 인간의 삶을 풍요롭게 해주는 철학, 문학, 예술 등을 의미한다.



05 문화를 구성하는 여러 부분들은 서로 간에 밀접한 관계를 유지하고 있다. 문화는 각 영역의 단순한 결합이 아니라 하나의 전체로서 존재한다. 이러한 문화의 속성을 전체성이라고 한다. 어떤 사회의 문화를 이해하기 위해서는 문화의 한 부분만 바라볼 것이 아니라, 문화 요소 간의 전체적인 연관 관계를 살펴볼 필요가 있다.

06 문화는 말과 글을 통하여 다른 세대로 전해지면서 새로운 내용이 추가되고 쌓이는데, 이를 문화의 축적성이라고 한다. 문화가 한 세대에서 다음 세대로 전승되는 과정에서 기존의 문화에 새로운 문화가 추가되면서 그 내용이 더욱 풍부해지고 발전하게 된다.

문제 자료 분석하기 문화의 속성

- ㄱ. 어린 아이가 세배하는 법을 배운다. → 학습성
- ㄴ. 교복을 줄여 입는 것이 청소년 세대에게는 자연스러운 현상으로 받아들여진다. → 공유성
- ㄷ. 과거에는 칠판을 보고 책과 공책에 필기하며 수업을 하였으나, 최근에는 컴퓨터나 전자책 등을 활용하여 수업을 한다. → 변동성
- ㄹ. 추석과 같은 명절은 농경 문화, 유교 문화 등 우리 사회의 다른 부분과 긴밀히 연결되어 있다. → 전체성
- ㅁ. 전통적 한복의 아름다움을 살리면서 현대적으로 디자인하여 실용성을 높인 생활 한복을 만들었다. → 축적성

07 제시된 그림에 나타나 있는 문화 이해 태도는 자문화 중심주의로, 자신이 속한 사회의 문화만 우월한 것으로 보고 다른 문화를 열등하다고 생각하는 태도이다. 이러한 태도를 가진 사람은 자기 문화의 관점에서 다른 문화를 부정적으로 평가하게 된다.

08 자문화 중심주의와 문화 상대주의는 문화의 상대성을 인정하지 않고, 문화에 우열이 있다고 보는 태도이다.

09 혼일강리역대국도지도와 천하도에는 중국에 대한 문화 상대주의적 태도가 나타나 있다. 다른 사회의 문화를 우수한 것으로 여겨 그것을 숭상하고 자신의 문화는 열등하게 생각하는 태도를 문화 상대주의라고 한다.

10 티베트의 장례 문화를 그 사회의 구성원들의 입장에서 이해하는 태도는 문화 상대주의적 태도이다. 자신의 문화 입장에서만 보는 것은 자문화 중심주의, 다른 사회의 문화만 우월하다고 믿는 것은 문화 상대주의적 태도이다.

11 세계화 시대에는 자신의 문화에 대한 정체성을 지키면서 다른 문화를 인정하고 존중하는 개방적인 자세가 필요하다.

12 한 사회의 문화를 올바르게 이해하기 위해서 서로 다른 문화 간의 공통점과 차이점을 비교함으로써 문화의 보편성과 특수성을 파악할 수 있다. 이러한 과정을 통해 자신의 문화를 더 잘 이해할 수 있으며 다른 문화에 대한 이해의 폭도 넓어질 수 있다.

13 최근에는 정보 통신 기술이 발달함에 따라 인터넷, 스마트폰, IPTV 등과 같은 새로운 대중 매체가 많이 활용되고 있는데, 이러한 대중 매체를 뉴 미디어라고 한다. 뉴 미디어는 이전의 일방향적인 소통과 달리 쌍방향적인 소통이 가능하다.

14 대중문화는 이윤 창출을 위해 문화를 상품화함으로써 문화의 질이 떨어지는 상업화의 문제가 나타나기도 한다. 또한 대중 매체를 통해 대중들에게 비슷한 생활 양식이 퍼지면서 사람들의 생각과 행동이 획일화되기 쉽다.

15 대중 매체가 대량으로 생산하는 문화 상품들이 유행하게 되면서 대중은 자신도 모르게 비슷한 정서와 취향을 가지게 된다. 문화가 획일화되면서 자신의 개성보다 유행에 더 민감해지는 경향이 나타날 수 있으며, 대중은 문화를 무비판적이고 수동적으로 받아들일 위험이 있다.

16 대중 매체를 통하여 전파되는 대중문화를 비판적으로 평가하고 받아들일 필요가 있다. 신문, 뉴스, 인터넷 등에서 나오는 수많은 정보를 있는 그대로 받아들일 것이 아니라 비판적으로 해석하고 검토해야 한다.

17 문화란 한 사회에서 나타나는 생활 양식의 총체로, (가) 본능에 의한 행동, (나) 개인의 버릇이나 습관, (다) 타고난 유전적 특성은 문화에 해당하지 않는다.

채점 기준	구분
(가), (나), (다) 모두 바르게 서술한 경우	상
(가), (나), (다) 중 두 가지만 바르게 서술한 경우	중
(가), (나), (다) 중 한 가지만 바르게 서술한 경우	하

18 자문화 중심주의, 다른 문화 수용에 걸림돌이 될 수 있고, 심할 경우 국제적 고립이나 문화 제국주의를 초래할 수도 있다.

| 핵심 단어 | 자문화 중심주의, 국제적 고립, 문화 제국주의

채점 기준	구분
자문화 중심주의를 쓰고, 문제점을 정확하게 서술한 경우	상
자문화 중심주의를 쓰고, 문제점을 서술하였으나 미흡한 경우	중
자문화 중심주의만 쓴 경우	하

19 대중 매체 속에 등장하는 수많은 상품들과 정보들은 소비 심리를 자극한다. 대중 매체는 대부분 기업적으로 운영되기 때문에 이윤을 추구하는 대중 매체에 의해 만들어지는 대중문화는 상업성을 띠게 된다.

IX | 정치 생활과 민주주의

01 정치와 정치 생활

~ 02 민주 정치의 발전과 이념

STEP 1 차근 차근 개념 체크 p.136

1 (1) 좁은 (2) 넓은 2 (1) ○ (2) × (3) ○ 3 (1) ㉠ (2) ㉡ (3) ㉢ 4 (1) 인간의 존엄성 (2) 자유, 평등 5 (1) ㄷ (2) ㄴ (3) ㄱ (4) ㄹ

STEP 2 차곡 차곡 실력 체크 p.136~139

01 ㉡ 02 ㉠ 03 ㉡ 04 ㉣ 05 ㉡
 06 ㉢ 07 ㉡ 08 ㉣ 09 ㉡ 10 ㉡
 11 ㉣ 12 ㉡ 13 ㉣ 14 ㉡ 15 ㉡
 16 ㉡ 17 ㉡ 18 국민 주권의 원리 19 ㉣
 20 ㉣ 21 ㉣ 22 해설 참조 23 해설 참조 24 해설 참조

- 01 대통령이나 국회 의원이 국가의 중요한 문제를 해결하는 것은 정치를 좁은 의미로만 해석하는 것이다. 정치는 정치인들의 활동뿐만 아니라 사람들 사이의 의견 차이를 조정하고 갈등을 해결하는 모든 활동을 의미한다.
- 02 좁은 의미의 정치는 정치권력을 획득하고 유지, 행사하기 위한 활동을 의미하지만, 넓은 의미의 정치는 일상생활에서 발생하는 구성원 간의 대립과 갈등을 조정하여 해결해 가는 모든 활동을 의미한다. ㄷ, ㄹ은 넓은 의미의 정치에 해당한다.
- 03 상훈이는 좁은 의미의 정치, 희연이는 넓은 의미의 정치를 말하고 있다. 넓은 의미에서 정치는 정부나 국회에서 뿐만 아니라 우리의 일상생활에서 흔히 보이는 보편적인 현상으로, 사람들이 함께 살아가면서 발생하는 갈등이나 분쟁을 조정하고 합의를 이루어 가는 공동의 의사 결정 과정이다.
- 04 정치는 개인과 집단 간에 발생하는 대립을 완화하고 이해관계를 조정함으로써 사회적 혼란을 해결한다. 또한 정치는 사회 구성원의 다양한 요구를 충족시키고, 사회가 나아가야 할 방향을 제시하며, 사회 질서 유지 및 통합에도 중요한 역할을 한다. ④ 정치는 사회 구성원 간의 갈등을 조정하고 해결하여 소수의 사람들의 이익이 아닌 사회 전체의 이익을 증진시키는 활동이다
- 05 정치는 사회에서 발생하는 다양한 갈등이나 분쟁을 평화적으로 조정하고 합의를 이끌어 내는 역할을 한다. 정치가 제대로 이루어지면, 사회 질서가 유지될 뿐만 아니라 사회 구성원의 다양한 요구가 충족되어 사회 통합에 이바지 할 수 있다.
- 06 시민은 자신이 국가의 주인이라는 의식을 가지고 정치권력이 정당하게 성립되고 올바르게 행사되도록 적극적으로 참여해야 하며, 국가가 시민의 자유와 권리를 더욱 잘 실현하도록 감시하고 견제해야 한다.

07 작은 도시 국가였던 고대 아테네에서는 시민 모두가 나라의 중요한 일을 결정하는 직접 민주 정치가 이루어졌다. 그러나 시민의 자격은 성인 남성에게만 주어졌고 여성과 노예, 외국인은 정치에 참여할 수 없었다.

선택지 바로 보기

- ① 간접 민주 정치를 실시하였다. (×) Ⓢ 직접 민주 정치 실시
- ② 영토가 넓어서 대의 민주 정치를 실시하였다. (×)
 Ⓢ 영토가 좁고 인구가 적어 직접 민주 정치가 가능하였다.
- ③ 모든 사회 구성원이 정치에 참여할 수 있었다. (×)
 Ⓢ 성인 남성만 시민권을 가졌고, 여성, 노예, 외국인은 정치에 참여할 수 없었다.
- ④ 재산에 따라 공직을 맡을 수 있는 기회를 주었다. (×)
 Ⓢ 시민은 추첨으로 돌아가며 공직을 담당하였다.
- ⑤ 모든 시민이 민회에 참석해 공동체의 중요한 일을 직접 결정하였다. (○)

- 08 제시된 내용은 차례로 근대 시민 혁명인 영국 명예혁명(1688), 미국 독립 혁명(1776), 프랑스 혁명(1789)에 해당한다. 시민 혁명을 거치면서 시민은 자유와 권리를 보장받고, 선거로 대표를 선출하여 국가의 의사 결정에 참여할 수 있게 되었다. 하지만 당시 시민은 소수의 부유한 중산층을 의미하였기 때문에 모든 사람이 정치에 참여한 것은 아니었다.
- 09 고대 아테네에서는 시민 자격을 가진 성인 남자만 정치에 참여할 수 있었고, 여자, 노예, 외국인에게는 시민권이 주어지지 않았다. 근대에도 시민은 재산을 가진 남성으로 한정되었고, 가난한 사람과 여성, 노동자, 농민 등은 정치에 참여할 수 없었다.
- 10 차티스트 운동은 영국의 노동자들이 정치에 참여할 수 있는 권리를 요구한 운동으로, 제시된 사례들은 참정권 확대 운동에 해당한다. 시민 혁명의 결과 도시 상공업자들까지 정치에 참여할 수 있게 되어 시민의 범위가 넓어졌으나 노동자와 농민, 여성 등은 정치에서 배제되어 선거권을 적극적으로 요구하게 되었다.
- 11 영토가 넓고 인구가 많은 대부분의 현대 국가에서는 모든 시민이 정치에 참여하기 어렵기 때문에 대표자를 선출하여 국정을 담당하도록 하는 간접 민주 정치가 이루어지고 있다. 그러나 간접 민주 정치는 선출하는 시민과 선출된 대표자들 사이에 의사 차이가 있을 수 있기 때문에 시민의 의사를 정확하게 반영하기 어렵다. 그래서 직접 민주 정치의 특성을 지닌 국민 투표나 국민 소환 제도 등으로 간접 민주 정치를 보완하기도 한다.
- 12 (㉠) 고대 아테네에서는 시민 자격에 제한을 둔 제한된 민주 정치였다. (㉡) 근대 시민 혁명의 결과 시민의 범위가 확대되었다. (㉢) 그러나 시민 혁명 이후에도 노동자와 농민, 여성 등은 정치에서 배제되어 선거권을 적극적으로 요구하게 되었다. (㉣) 그 결과 보통 선거가 확립되었다.



- 13** '생활 양식으로서의 민주주의'란 일상생활에서 발생하는 문제를 민주적으로 해결하려는 생활 방식이다. 구체적으로는 상대방의 인격을 존중하는 태도, 나와 의견이 다를 수 있음을 인정하고 받아들이는 태도 등을 말한다. ④는 정치 형태로서의 민주주의를 의미한다.
- 14** 민주주의가 추구하는 궁극적인 목표는 모든 사회 구성원이 인간으로서 존중받고 행복하게 사는 것, 즉 인간의 존엄성을 실현하는 것이다.
- 15** 기회가 균등하게 보장되어도 개개인이 가진 선천적, 후천적 차이에 따라 평등이 실현되지 못하는 경우가 발생한다. 현대 사회에서는 이러한 차이를 고려하여 실질적인 평등을 누릴 수 있도록 다양한 제도를 마련하고 있다.
- 16** 국민 기초 생활 보장 제도, 여성 고용 할당제 등은 사회적 약자가 받는 차별을 개선하여 실질적인 평등을 보장하기 위한 제도이다. 현대에는 신체적 능력이나 물려받은 재산 등 기본적인 조건이 달라도 공평한 기회를 보장받을 수 있도록 여러 사회 복지 제도나 적극적인 차별 시정 조치 등을 시행하고 있다.
- 17** ㉠은 자유, ㉡은 평등에 해당한다. 민주주의 사회에서는 인간의 존엄성을 실현하려고 자유와 평등을 보장한다. ⑤ 자유는 외부의 억압이나 구속을 받지 않을 소극적 자유에서, 정부의 정책 결정에 참여하고 인간다운 삶을 요구할 수 있는 적극적인 자유로 발전되어 왔다.
- 18** 국가의 의사를 결정하는 주권이 국민에게 있고, 국가의 권력 행사는 국민의 동의를 바탕으로 한다는 국민 주권의 원리가 나타나 있다.
- 19** (가) 선거는 주권을 행사하는 가장 기본적인 방법이며, 국민 주권의 원리를 실현하는 것이다. (나) 입법부가 행정부의 활동을 감시하는 국정 감사는 권력 분립의 원리에 의한 것이다.
- 20** 제시된 그림에는 권력 분립의 원리가 나타나 있다. 국가 권력을 입법, 행정, 사법으로 분리하여 서로 독립된 기관이 나누어 맡도록 하는 원리로, 궁극적인 목적은 견제와 균형을 통해 권력 남용을 방지하고 국민의 자유와 권리를 보장하는 것이다.
- 21** 국민 주권의 원리는 국가의 의사를 결정하는 최고 권력인 주권이 국민에게 있다는 것을 의미하며, 권력 분립의 원리는 국가 권력을 서로 다른 기관이 나누어 맡도록 하는 것을 의미한다.
- 22** (1) 시민권을 가진 성인 남성
(2) 정치에 참여할 수 있는 시민권은 성인 남성에게만 주어졌고, 여성, 노예, 외국인 등은 정치에 참여할 수 없는 제한된 민주 정치였다.

| 핵심 단어 | 여자, 노예, 외국인의 정치 참여 제한, 제한된 민주 정치

채점 기준	구분
제한된 민주 정치의 내용을 정확하게 서술한 경우	상
제한된 민주 정치의 내용을 서술하였으나 미흡한 경우	중
시민권을 가진 성인 남성만 정치에 참여하였다고만 서술한 경우	하

- 23** 인간의 존엄성이 실현되기 위해서는 자유와 평등이 보장되어야 한다. 자유는 외부로부터 부당한 간섭을 받지 않고 원하는 대로 할 수 있는 것을 의미하고, 평등은 차별 없이 동등하게 대우받는 것이다.

| 핵심 단어 | 자유, 평등, 부당한 간섭, 차별, 동등한 대우

채점 기준	구분
자유와 평등을 쓰고, 그 의미를 모두 정확하게 서술한 경우	상
자유와 평등이라고 썼으나, 그 의미를 한 가지만 서술한 경우	중
자유와 평등이라고만 쓴 경우	하

- 24** (1) 권력 분립의 원리
(2) 권력의 집중과 남용을 방지하여 국민의 자유와 권리를 보장하기 위한 것이다.

| 핵심 단어 | 권력의 집중과 남용 방지, 국민의 자유와 권리 보장

채점 기준	구분
권력의 집중과 남용 방지, 국민의 자유와 권리 보장을 모두 언급하여 서술한 경우	상
권력의 집중과 남용 방지, 국민의 자유와 권리 보장 중 한 가지만 언급하여 서술한 경우	하

03 민주 정치와 정부 형태

STEP 1 차근 차근 개념 체크

p.142

- 1** 의원 내각제 **2** (1) 엄격하게 분리된 (2) 의원 내각제 (3) 없다 **3** (1) ㉠, ㉡ (2) ㉠, ㉡ **4** (1) 대 (2) 의 (3) 의 **5** (1) ○ (2) × (3) ○ **6** ㄱ, ㄷ

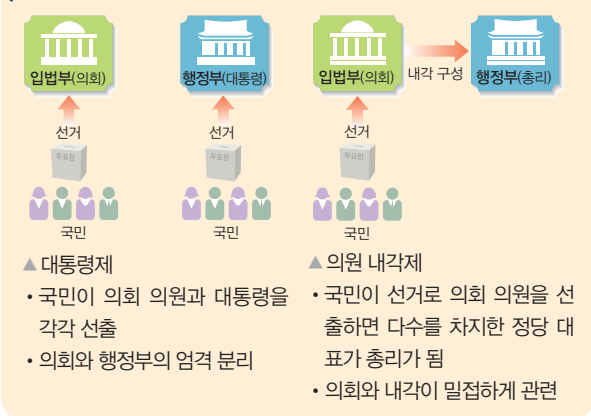
STEP 2 차곡 차곡 실력 체크

p.142~143

- 01** ③ **02** ② **03** ② **04** ③ **05** ②
06 ④ **07** ③ **08** ① **9** 해설 참조 **10** 해설 참조

- 01** 정부의 형태는 입법부와 행정부의 관계에 따라 의원 내각제와 대통령제로 구분할 수 있다. 의원 내각제에서는 입법부와 행정부가 밀접한 관계를 맺고 협력하면서 총리를 중심으로 국정을 운영한다.
- 02** (가) 국민이 의회 의원과 대통령을 각각의 선거로 선출하는 방식은 대통령제이다. (나) 국민의 선거에 의해 다수당을 차지한 정당에서 선출된 수상이 내각을 구성하는 것은 의원 내각제이다.

문제 자료 분석하기 정부 형태



- 03** 의원 내각제는 의회와 내각이 밀접하게 관련되어 있다. 의회의 의원은 내각의 장관을 겸할 수 있으며, 행정부도 법률안을 제출할 수 있다. 내각이 국정을 잘못 운영하면 의회는 내각 불신임권으로 내각을 물러나게 할 수 있으며, 내각은 의회 해산권으로 의회를 해산할 수 있다.
- 04** 선거에서 가장 많은 표를 얻은 A당의 대표가 총리가 되는 것으로 보아 의원 내각제에 해당함을 알 수 있다. 의원 내각제는 입법부와 행정부가 융합된 정부 형태이다. 국민이 선거를 통하여 의회를 구성하면, 다수당의 대표가 총리가 되어 내각을 구성한다.
- 05** 나. 대통령은 의회에서 의결된 법률안을 거부할 수 있지만, 법률안을 직접 의회에 제출할 수는 없다. 르. 대통령제에서 의회는 행정부를 불신임할 수 없고, 행정부도 의회를 해산할 수 없다.
- 06** 의원 내각제는 의회 다수당이 내각까지 장악하기 때문에 다수당의 횡포를 막기 어렵다. 반대로 소수 정당만 많을 때는 내각의 운영을 둘러싸고 갈등이 일어나거나 정국이 불안정해 질 수 있다. 대통령제는 대통령의 독재가 나타날 수 있으며, 의회와 행정부가 대립하면 이를 해결하기 어려운 단점이 있다.
- 07** 우리나라 정부 형태는 의원 내각제의 요소도 일부 지니고 있다. 국무총리 제도, 행정부의 법률안 제출권, 국회 의원의 장관 겸직 등이 있는데, 이런 모습은 우리나라의 민주 정치 발전 과정에서 비롯된 우리나라 정부만의 특징이다. ③ 대통령의 법률안 거부권은 대통령제의 요소이다.
- 08** 우리나라는 기본적으로 국회 의원과 대통령을 각각의 선거로 선출하여 국회와 정부를 구성하는 대통령제를 채택하고 있다. 대통령은 국회를 해산할 수 없고, 국회는 대통령을 불신임할 수 없다.
- 09** (1) A국은 의원 내각제, B국은 대통령제이다.
(2) 의회는 내각이 정치를 잘못하면 내각에 책임을 물을 수

있는 내각 불신임권을 가지며, 내각은 의회를 해산할 수 있는 권한을 가진다.

| 핵심 단어 | 내각 불신임권, 의회 해산권

채점 기준	구분
내각 불신임권과 의회 해산권 모두 언급하여 서술한 경우	상
내각 불신임권과 의회 해산권 중 한 가지만 서술한 경우	하

- (3) 의회는 대통령이 다수당의 횡포를 견제할 수 있고, 임기 동안 안정적으로 정책을 수행할 수 있다. 그러나 대통령의 독재 가능성이 있고, 의회와 행정부가 대립하면 국정이 효율적으로 운영되기 어렵다.

| 핵심 단어 | 다수당의 횡포 견제, 안정적인 정책 수행, 독재 가능성, 의회와 행정부의 대립

채점 기준	구분
대통령제의 장점과 단점을 모두 두 가지씩 정확하게 서술한 경우	상
대통령제의 장점과 단점을 한 가지씩 서술한 경우	중
대통령제의 장점 또는 단점 중 한 가지만 서술한 경우	하

- 10** 대통령을 도와 행정부를 관할하는 국무총리가 있고, 행정부가 법률안을 제출할 수 있다. 국회 의원은 행정부의 장관을 겸직할 수 있다.

| 핵심 단어 | 국무총리, 행정부 법률안 제출, 국회 의원 장관 겸직

채점 기준	구분
우리나라 정부 형태의 특징을 세 가지 모두 서술한 경우	상
우리나라 정부 형태의 특징을 두 가지만 서술한 경우	중
우리나라 정부 형태의 특징을 한 가지만 서술한 경우	하

STEP 3 모아 모아 단원 체크 p. 144~146

- 01** ④ **02** ② **03** ① **04** ④ **05** ③
06 ④ **07** ④ **08** ④ **09** ① **10** ③
11 ③ **12** ② **13** ② **14** ② **15** ③
16 ② **17** ④ **18** ③ **19** ④ **20** 해설 참조
21 해설 참조 **22** 해설 참조

- 01** 좁은 의미의 정치는 정치인들이 권력을 획득하고, 유지하며, 행사하는 활동이다. 넓은 의미에서의 정치는 학급 회의, 주민 회의와 같이 사회생활에서 발생하는 사회 구성원 간의 이해관계의 대립을 조정하고 해결하는 활동이다. ⑤ 정치에 참여하기 위해서는 반드시 대통령이나 국회 의원이 될 필요는 없으며, 현대 민주 사회에서는 누구나 정치에 참여할 수 있다.
- 02** 국회 의원이 법을 만들거나 정부가 정책을 수립하는 활동은 좁은 의미의 정치에 해당한다. 좁은 의미에서 정치는 권력을 획득하고 유지하기 위한 정치인들의 활동을 말한다. 나, 르는 넓은 의미의 정치에 해당한다.



- 03 정치는 개인과 집단 간에 발생하는 대립을 완화하고 이해관계를 조정함으로써 사회적 혼란을 해결한다. 또한 정치는 사회 구성원의 다양한 요구를 충족시키고, 사회가 나아가야 할 방향을 제시하며, 사회 질서 유지 및 통합에도 중요한 역할을 한다.
- 04 고대 아테네에서는 시민이라면 누구나 직접 정치에 참여할 수 있는 직접 민주 정치가 실시되었다. 하지만 시민권은 성인 남자 자유민에게만 부여되었고, 여자, 노예, 외국인은 제외되는 제한적인 민주 정치가 실시되었다.
- 05 근대에는 의회 중심의 대의 민주 정치가 형성되었다. 그러나 당시 시민은 재산을 가진 남성으로 한정되었고, 가난한 사람과 여성, 노동자, 농민 등은 정치에 참여할 수 없었다.

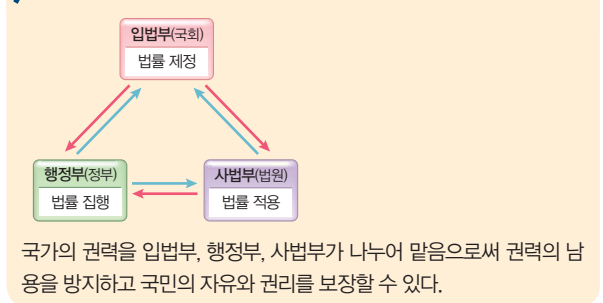
선택지 바로 보기

- ① 보통 선거 제도가 확립되었다. (X)
- ② 성별, 재산, 신분에 따라 정치 참여가 제한되었다. (X)
- ③ 재산과 신분에 관계없이 선거권이 주어졌다. (X)
- ④ 재산이 많고 교육 수준이 높은 남성만 정치에 참여할 수 있었다. (O)
- ⑤ 의회를 중심으로 한 대의 민주 정치가 형성되었다. (O)
- ⑥ 모든 시민이 직접 국가의 중요한 일을 토의하여 결정하였다. (X)
- ⑦ 선거를 통해 의회를 구성하여 정치가 이루어지는 대의 정치가 발달하였다. (O)
- ⑧ 대다수의 여성, 노동자들은 선거권을 가지고 정치에 참여할 수 있었다. (X)
- ⑨ 노동자, 여성, 농민 등은 정치 참여에서 제외되었다. (X)

- 06 근대 민주 정치는 시민 혁명을 통해 시민의 범위가 이전보다 넓어졌다. 그러나 당시 시민은 재산을 가진 남성으로 한정되었고, 가난한 사람과 여성, 노동자, 농민 등은 정치에 참여할 수 없었다.
- 07 차티스트 운동은 영국의 노동자들이 정치에 참여할 수 있는 권리를 요구한 운동이다.
- 08 부를 축적한 상공업자들이 중심이 된 시민 혁명의 결과 (나) 근대 민주 정치가 수립되었다. (다) 현대 민주 정치에서는 노동자들의 차티스트 운동, 흑인과 여성의 참정권 운동 등을 통해 보통 선거가 확립되었다.
- 09 직접 민주 정치를 실시했던 고대 아테네와 달리 근대에는 의회를 중심으로 한 대의 민주 정치가 이루어졌다.
- 10 민주주의의 어원은 그리스어의 '다수(Demos)'와 '지배(Kratia)'의 합성에서 유래하였다. 즉 민주주의는 다수가 지배하는 정치 형태로서의 성격을 지닌다. 다수의 지배는 특정 소수 집단의 지배가 아니라 국민 또는 시민에 의한 지배를 의미한다.
- 11 근대 사회에서의 평등은 기회의 균등, 평등 선거 등과 같은 형식적 평등을 중시하였으나, 현대 사회에서는 사회적 불평등을 해소하고 개인의 능력이나 조건을 고려하는 실질적 평등이 중요시되고 있다. 제시된 사례는 선천적·후천적 차이를 고려한 실질적인 평등에 대한 내용이다.

- 12 민주주의 국가에서는 최고 법인 헌법에 국민의 기본권과 국가의 기본 구조 및 운영 원리를 규정한다. 입헌주의의 원리란 어떤 권력자도 자기 마음대로 나라를 다스릴 수 없으며 헌법에 따라 나라를 다스려야 한다는 원리이다.
- 13 국민이 나라를 스스로 다스려야 한다는 것이 국민 자치의 원리이고, 국가 권력을 분산시켜 서로 다른 기관이 나누어 맡도록 하는 것이 권력 분립의 원리이다. 따라서 나은 권력 분립, 르은 국민 자치를 실현하는 모습에 해당한다.
- 14 현대 민주 국가는 권력 분립의 원리에 따라 국가 권력을 서로 다른 국가 기관에 맡겨 견제와 균형을 유지한다. 법을 제정하는 권한은 입법부, 법을 집행하는 권한은 행정부, 법을 적용하는 권한은 사법부에 둔다.

문제 자료 분석하기 권력 분립의 원리



- 15 국민 자치 원리에 따라 주권을 가진 국민이 스스로 나라를 다스릴 수 있다. 국민 자치의 원리를 충실하게 실현하는 방법은 직접 민주 정치 제도이지만, 오늘날 대부분의 국가에서는 영토가 넓고 인구가 많기 때문에 대의 정치를 실시하고 있다. 대의제 하에서는 선거, 국민 투표, 주민 투표, 지방 자치 제도 등을 통해 국민 자치의 원리를 실현한다.
- 16 의원 내각제의 장점은 책임 정치의 실현 및 능률적이고 신속한 국정 처리가 가능하다는 점이다. 의원 내각제에서 의회 의원은 행정부의 장관을 겸직할 수 있다.
- 17 대통령제에서는 입법부가 행정부를 불신임할 수 없으며, 행정부도 입법부를 해산할 수 없다. 또 행정부는 의회의 법률안을 제출할 수 없지만, 대통령은 의회에서 의결된 법률안을 거부할 수 있다. 대통령제에서는 법률안 거부권을 통해 행정부가 입법부를 견제할 수 있다.
- 18 (가)는 대통령제, (나)는 의원 내각제이다. 의원 내각제는 입법부와 행정부가 융합된 정부 형태이다. 의원 내각제 하에서 내각의 총리와 장관은 행정부의 일을 하면서 의회 의원도 겸직하며, 법률안을 제출할 권한도 가지고 있다.
- 19 일반적인 대통령제와 달리 우리나라 정부 형태에는 의원 내각제적 요소들이 있다. 대통령의 명을 받아 행정 각부를 통할하는 국무총리가 있다는 점, 행정부가 국회에 법률안을 제출할 수 있다는 점, 국회 의원이 행정부의 장관을 겸할 수 있다는 점 등이다.

20 대립과 갈등을 조정하여 합의를 이끌어 내고 사회 질서 유지 및 사회 통합에 기여한다.

| 핵심 단어 | 갈등 조정, 사회 질서 유지, 사회 통합

채점 기준	구분
갈등을 조정, 사회 질서 유지, 사회 통합을 모두 언급하여 서술한 경우	상
갈등을 조정, 사회 질서 유지, 사회 통합 중 두 가지만 언급하여 서술한 경우	중
갈등을 조정, 사회 질서 유지, 사회 통합 중 한 가지만 언급하여 서술한 경우	하

21 프랑스 혁명 이후에도 재산이 없어서 세금을 납부할 수 없는 사람은 선거에 참여할 수 없었다. 즉, 재산을 기준으로 정치에 참여하는 기회가 제한되었다는 점에서 한계가 있다.

| 핵심 단어 | 재산 기준, 정치 참여 제한

채점 기준	구분
재산을 기준으로 정치 참여가 제한되었다고 서술한 경우	상
정치 참여가 제한되었다고만 서술한 경우	하

22 의원 내각제, 의회와 내각의 관계가 밀접하여 정책 결정과 집행이 빠르고 효율적이다. 또한 내각은 의회의 신임을 잃지 않기 위하여 국민의 요구에 민감하게 반응한다는 점에서 책임 정치가 이루어진다.

채점 기준	구분
의원 내각제라고 쓰고, 장점 두 가지를 모두 서술한 경우	상
의원 내각제라고 쓰고, 장점 한 가지만 서술한 경우	중
의원 내각제라고만 쓴 경우	하

X | 정치 과정과 시민 참여

01 정치 과정과 정치 주체

STEP 1 차근 차근 개념 체크 p.151

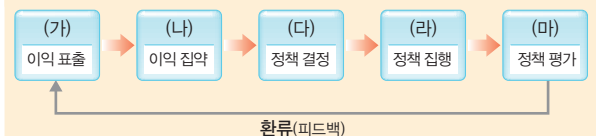
1 (1) ○ (2) × **2** 정치 과정 **3** (1) ㉠ (2) ㉡ (3) ㉢ (4) ㉣ **4** (1) 국 (2) 법 (3) 정 **5** (1) 정당 (2) 이익 집단 (3) 시민 단체

STEP 2 차곡 차곡 실력 체크 p.151~153

01 ② **02** ④ **03** ③ **04** ④ **05** ⑤
06 ② **07** (다)-(나)-(가)-(라)-(마) **08** ① **09** ②
10 ② **11** ④ **12** ③ **13** ⑤ **14** ⑤
15 ⑤ **16** 해설 참조 **17** 해설 참조 **18** 해설 참조

- 01** 오늘날 사회가 다원화되면서 개인이나 집단이 추구하는 가치나 이익이 다양해지고 있다. 또 민주주의의 발달, 시민의 자유와 권리의 확대 등으로 사람들은 자신이 원하는 바를 적극적으로 표현하게 되었다. 이에 따라 현대 사회에서는 구성원의 다양한 가치와 이익을 추구하는 과정에서 갈등이 증가하고 있다.
- 02** 현대 민주주의 사회에서 개인이나 집단이 표출하는 다양한 이해관계를 집약하여 공공 정책으로 결정하고 집행하는 과정을 정치 과정이라고 하며, 이를 통하여 사회 문제가 해결된다. ㄱ. 정치 과정의 목표는 사회 통합이다. ㄴ. 다원화된 현대 사회의 정치 과정에서는 국가 기관뿐만 아니라 다양한 정치 주체들의 역할이 중요해지고 있다.
- 03** 정치 과정은 몇 가지 단계를 거쳐 이루어진다. 자료의 그림은 국회에서 법률이 통과되고 있는 것으로, 정책 결정 단계에 해당한다. 국회와 정부는 여론을 바탕으로 정책을 결정한다.
- 04** 정치 과정은 ‘ㄱ. 개인이나 집단이 자유롭게 다양한 이익 표출 → ㄴ. 정당이나 언론이 이익 집약 → ㄷ. 국회와 정부에서 관련 법률을 제정하고 정책 결정 → ㄹ. 정부의 정책 집행 → ㅁ. 시민들의 정책 평가’ 순으로 이루어진다.
- 05** 시민들의 요구를 바탕으로 국회와 정부가 정책을 결정하면, 정부는 결정된 정책을 실제로 집행한다. ‘식품 의약품 안전처’는 행정부 기관으로 ‘어린이 식생활 안전 관리 특별법’에 따라 식품 안전 여부 및 법 위반을 단속하고 처분을 내리는 등 실제로 정책을 집행하고 있다.
- 06** 현대 민주주의 사회에서는 정치 과정을 통해 다양한 가치와 이익을 조정하고 있다. 표출된 다양한 이익이 정당이나 언론을 통해 여론화되고 정책 안으로 제시되는 과정을 ‘이익 집약’이라고 하며, (나) 단계에 해당한다.

문제 자료 분석하기 정치 과정의 단계



- (가) 이익 표출: 개인이나 집단의 다양한 이익과 가치가 표출됨
- (나) 이익 집약: 표출된 이익에 관한 다양한 의견들이 정당과 언론에 의해 하나로 모아짐
- (다) 정책 결정: 국회 또는 정부에서 여러 대안들을 검토하고 의견을 수렴한 후 가장 적합한 정책을 선택함
- (라) 정책 집행: 결정된 정책을 정부가 실행에 옮김
- (마) 정책 평가: 집행된 정책에 대한 수정·보완이 이루어짐

선택지 바로 보기

- ① (가) - 정부와 국회가 담당한다. (X)
 * 개인이나 집단이 다양한 요구와 이익을 표출한다
- ② (나) - 시민들의 요구가 정당, 언론 등에 의해 모아진다. (O)
- ③ (다) - 사회 구성원의 다양한 이익과 가치가 표출된다. (X)
 * 국회와 정부는 집약된 이익을 고려하여 정책을 결정한다.
- ④ (라) - 결정된 정책이 법원에 의해 집행된다. (X)
 * 정부에 의해 정책이 집행된다.
- ⑤ (마) - 한번 집행된 정책은 수정·보완할 수 없다. (X)
 * 정책은 집행되는 과정에서 국민의 평가를 받아 수정되기도 한다.

07 정치 과정은 (다) 이익 표출 → (나) 이익 집약 → (가) 정책 결정 → (라) 정책 집행 → (마) 시민들의 정책 평가 순으로 이루어진다.

08 정치 과정에 참여하는 다양한 개인이나 집단을 정치 주체라고 한다. 이들은 정치 과정의 여러 단계에 참여하여 궁극적으로 정책 결정과 집행에 영향력을 행사한다.

선택지 바로 보기

- ① 정부 - 공익의 실현을 위해 정책을 수립한다. (O)
 * 정부는 법률을 기반으로 공익 실현을 위해 정책을 구체적으로 수립하고 집행한다.
- ② 법원 - 정치적 견해가 같은 사람들의 모임이다. (X)
 * 정당에 대한 설명이다.
- ③ 정당 - 정책을 현실에 맞게 적용하여 집행한다. (X)
 * 정부에 대한 설명이다.
- ④ 이익 집단 - 국민을 위한 정책의 시행을 약속한다. (X)
 * 정당에 대한 설명이다.
- ⑤ 시민 단체 - 올바른 여론을 형성하기 위해 공정하고 정확하게 보도한다. (X) * 언론에 대한 설명이다.

09 시민은 선거에 직접 출마할 수 있고, 투표, 서명, 집회 등에 참여함으로써 자신의 의사를 표출할 수 있다. 비슷한 생각을 하는 사람들과 함께 시민 단체를 만들거나, 정당에 가입하여 활동하기도 하며, SNS나 언론 등을 활용하여 자신의 주장을 알리기도 한다. ② 정책을 결정하고 집행하는 역할은 국가 기관에서 한다.

10 정당은 정치적 의견이 같은 사람들이 정치권력을 획득할 목적으로 만든 단체이다. 이들은 선거에서 국민의 지지를 받아 정권을 획득함으로써 자신의 정치적 이상을 실현하고자 한다. 또 국민의 다양한 의견을 수렴하여 이를 정책에 반영하려고 노력한다. 나. 공식적 참여 주체는 국가 기관을 말한다. 르. 대중 매체를 통해 정보를 전달하는 것은 언론이다.

11 이익 집단은 다양한 이익을 표출하고 해당 분야의 전문성을 살려 정책 결정에 도움을 주지만, 지나친 이익 추구로 공익을 저해하거나 정책 결정 과정에 혼란을 초래할 수도 있다. ④는 시민 단체에 대한 설명이다.

12 (가) 시민 단체는 공익을 실현하기 위해 자발적으로 모인 단체로 여러 가지 사회 문제를 해결하기 위한 다양한 활동을 한다. (나) 언론은 정부 정책 등에 관한 정보를 제공하여 여론을 형성한다.

13 정당은 정책과 관련한 여론을 형성하고 국가 기관이 정책을 잘 집행할 수 있도록 지지하거나 비판하며 새로운 정책을 제시하기도 한다. 정당은 선거를 통해 정치적인 책임을 진다. ⑤ 이익 집단과 시민 단체는 정치적 책임을 지지 않는다.

14 시민 단체는 공익을 실현하기 위하여 쟁점에 관한 견해를 제시함으로써 여론을 만들기도 하고 대안을 제시하기도 한다. 국가 기관의 정책 결정, 집행 과정이 투명하고 합리적인지 비판적으로 살펴보는 역할도 수행한다.

선택지 바로 보기

- ① 국민의 알 권리를 실현한다. (X) * 언론
- ② 시민이 정부의 지시를 받아 결정한다. (X)
 * 시민이 자발적으로 결정한다.
- ③ 구성원들은 정치적 견해를 같이한다. (X) * 정당
- ④ 경제인 연합회, 변호사 협회 등이 있다. (X) * 이익 집단
- ⑤ 정책의 결과와 집행을 감시하고 비판한다. (O)

15 언론은 방송, 인터넷, 신문 등으로 우리 사회의 쟁점과 관련한 정보와 그에 관한 시민 다수의 의견, 즉 여론을 반영하여 전달한다. 언론은 스스로 의견을 제시하기도 하고 다른 정치 주체의 활동을 평가하고 비판하기도 한다. ⑤ 국민의 이익과 요구에 귀 기울이면서 여론을 집약하고 이를 국회나 정부에 전달하여 정책에 반영하는 것은 정당의 역할이다.

16 다양한 갈등과 사회 문제가 합리적인 방식으로 해결되어 사회의 통합과 발전이 이루어진다.

| 핵심 단어 | 갈등과 사회 문제 해결, 사회 통합

채점 기준	구분
갈등과 사회 문제가 해결되어 사회 통합과 발전을 이룬다고 서술한 경우	상
다양한 갈등이 해결된다고만 서술한 경우	하

17 이익 집단은 사회의 다양한 이익을 표출하고 정책 결정에 전문적인 도움을 줄 수 있지만, 지나치게 자기 집단의 이익만을 추구할 경우 공익을 저해하고 사회 혼란을 일으킬 수 있다.

채점 기준	구분
이익 집단의 역할과 문제점을 모두 바르게 서술한 경우	상
이익 집단의 역할과 문제점을 서술하였으나 미흡한 경우	중
이익 집단의 역할과 문제점 중 한 가지만 서술한 경우	하

18 (1) 시민 단체
 (2) 이익 집단과 시민 단체는 정책 결정에 영향력을 행사하기 위해 사람들이 자발적으로 결성한 단체라는 공통점이 있다. 그러나 이익 집단은 특정 집단의 이익을 추구하는 반면, 시민 단체는 공익을 위해 활동한다는 점에서 다르다.

| 핵심 단어 | 정책 결정에 영향력 행사, 특정 집단의 이익, 공익

채점 기준	구분
이익 집단과 시민 단체의 공통점과 차이점을 정확하게 서술한 경우	상
이익 집단과 시민 단체의 공통점과 차이점을 서술하였으나 미흡한 경우	중
이익 집단과 시민 단체의 공통점과 차이점 중 한 가지만 서술한 경우	하

02 선거와 민주 정치

~ 03 지방 자치 제도와 주민 참여

STEP 1 차근 차근 개념 체크

p.157

- 1 (1) ○ (2) × 2 (1) 비밀 선거 (2) 직접 선거 (3) 보통 선거 3 (1) ㉠ (2) ㉡ (3) ㉢ 4 (1) 지방 의회 (2) 규칙 5 (1) ㄴ (2) ㄱ (3) ㄷ (4) ㄱ

STEP 2 차곡 차곡 실력 체크

p.157~159

- 01 ㉢ 02 ㉢ 03 ㉢ 04 ㉤ 05 ㉢
 06 ㉢ 07 ㉢ 08 ㉡ 09 ㉢ 10 ㉠
 11 ㉡ 12 ㉢ 13 ㉤ 14 ㉢ 15 ㉠
 16 ㉢ 17 해설 참조 18 해설 참조

- 01 인구가 많고 복잡한 현대 사회에서는 모든 시민이 한자리에 모여서 결정을 내리기 어렵다. 그래서 대부분의 민주 국가에서는 대표자를 뽑아 나라의 일을 맡기는 대의 민주주의를 채택하고 있다. 이처럼 시민을 대신하여 일할 대표자를 뽑는 과정을 선거라고 한다.
- 02 선거는 대표자를 결정하며, 선출된 대표자에게 정당성을 부여한다. 대표자로서 역할을 잘하지 못한 사람은 다음 선거에 뽑히지 못할 수 있기 때문에 대표자가 책임 있는 정치를 하도록 유도한다.
- 03 민주적인 선거가 이루어지기 위해서는 헌법이 규정하고 있는 선거의 기본 원칙을 지켜야 한다. (가) 평등 선거는 모든 유권자가 행사한 투표의 가치가 같아야 한다는 원칙이다. (나) 보통 선거는 일정한 나이 이상의 모든 국민이 선거에 참여할 수 있게 하는 원칙이다.
- 04 선거가 국민의 의사를 정확히 반영하여 정당성을 인정받기 위해서는 민주적이고 합법적인 절차에 따라 공정하게 이루어져야 한다. 이를 위하여 우리나라는 헌법에 민주 선거의 4원칙인 보통 선거, 평등 선거, 직접 선거, 비밀 선거의 원칙을 규정하여 따르고 있다.

선택지 바로 보기

- ① 학수: 누구를 지지하는지 손을 들어 결정하자. (×)
 ▶ 비밀 선거 위반
- ② 성민: 세금을 많이 내는 사람은 2표를 줘야 해. (×)
 ▶ 평등 선거 위반
- ③ 수진: 대학을 졸업한 사람에게만 선거권을 줘야지. (×)
 ▶ 보통 선거 위반
- ④ 병주: 몸이 편찮으신 할머니를 대신해서 투표를 할 수 있게 해 줘야 해. (×) ▶ 직접 선거 위반
- ⑤ 한나: 내가 누구한테 투표했는지 모르게 기표소를 가려야지. (○)

05 선거 공영제는 국가 기관에서 선거 과정을 관리하고, 국가나 지방 자치 단체에서 선거 비용을 지원해 주는 제도이다. 이는 선거 운동의 과열을 방지하고, 선거 운동의 균등한 기회를 보장하기 위한 목적으로 시행된다. ㄱ. 선거 운동은 선거 관리 위원회에서 관리한다. ㄷ. 선거구 법정주의에 관한 설명이다.

06 특정 후보나 정당에게 유리하도록 선거구를 임의로 정하면, 즉 게리맨더링이 나타나면 국민들의 의사가 왜곡될 가능성이 높다. 우리나라에서는 이러한 현상을 방지하기 위해 선거구를 국회에서 법률로 정하는 선거구 법정주의를 실시하고 있다. 선거구를 정할 때에는 선거구별 유권자의 수가 지나치게 차이가 나지 않도록 하고, 지리적 연관성과 생활권을 고려하도록 하고 있다.

07 선거 관리 위원회는 중립적인 위치에서 선거 운동, 투표, 개표 등을 관리한다. 또한 선거법을 위반하는 행위를 예방하거나 단속하며, 선거 관련 정보를 제공하고 투표 참여를 홍보하는 등의 역할을 담당한다. ㉢ 법률로 선거구를 획정하는 곳은 국회이다.

08 선거 결과를 누구나 받아들일 수 있고, 사람들이 원하는 대표가 선출되기 위해서는 선거가 공정하게 치러져야 한다. 이를 위해서는 선거의 공정성을 확보하기 위한 여러 가지 장치가 필요하다. 우리나라에서는 선거 공영제, 선거구 법정주의, 선거 관리 위원회 등의 장치가 마련되어 있다.

09 주민이 자신의 대표로 구성된 지방 정부를 통해 지역 문제를 자율적으로 처리하는 제도를 지방 자치 제도라고 한다. 지방 자치 제도를 통해 주민은 지역 상황에 맞는 방식으로 지역 문제를 해결함으로써 주민의 이익과 행복 증진에 이바지할 뿐만 아니라, 주민 참여를 활성화하고 민주적인 생활 태도를 기를 수 있다. ㉢ 지방 자치 제도는 중앙 정부의 권력을 지방 정부가 나누어 행사하게 함으로써 중앙 정부에 권력이 집중되는 것을 방지한다.

10 지방 자치 단체는 의결 기관인 지방 의회와 집행 기관인 지방 자치 단체장으로 구분된다. 우리나라의 지방 자치 단체 중 광역 자치 단체는 특별시, 광역시, 도, 특별자치도, 특별자치시가 있고, 기초 자치 단체는 시, 군, 구가 있다. ㄷ. 도지사, 시장, 구청장, 군수 등은 집행 기관인 지방 자치 단체의 장이다. ㄷ. 지방 의회는 의결 기관, 지방 자치 단체의 장은 집행 기관이다.

11 우리나라의 지방 자치 단체는 특별시, 광역시, 도, 특별자치도, 특별자치시에 해당하는 광역 자치 단체와 시, 군, 구에 해당하는 기초 자치 단체로 구분된다. (가)에는 시, 군, 구 의회가 해당한다. ①은 기초 자치 단체장, ③은 광역 자치 단체장, ④는 광역 자치 단체의 의회, ⑤는 광역 자치 단체장에 해당한다.



12 지방 자치 단체장은 집행 기관으로, 지역 내의 행정권을 행사하며 지역의 재산을 관리하고 예산을 집행한다. 또 조례의 범위 내에서 주민 복지에 필요한 규칙을 제정한다. ㉠, ㉡은 지방 의회의 역할이다.

13 ㉠은 의결 기관이므로 지방 의회, ㉡은 집행 기관이므로 지방 자치 단체장에 해당한다. 지방 의회와 지방 자치 단체장은 해당 지역 내에서 효력을 발휘하는 자치 법규를 제정할 권한이 있는데, 조례는 지방 의회가, 규칙은 지방 자치 단체장이 만들 수 있다.

선택지 바로 보기

- ① ㉠은 ㉡에 예산안을 제출한다. (X)
- ② 지방 자치 단체장이 지방 의회에 예산안을 제출한다. (X)
- ③ ㉠은 지방 자치 단체장이며, 서울특별시장이 해당된다. (X)
- ④ 지방 의회이며, 특별시·광역시·도 의회, 시·군·구 의회가 해당된다. (X)
- ⑤ ㉡은 지방 의회이며, 인천광역시 의회가 해당된다. (X)
- ⑥ 지방 자치 단체장이며, 특별시장·광역시장, 도지사, 시장, 구청장, 군수가 해당된다. (X)
- ⑦ ㉡은 지방 자치 단체의 행정 사무에 대한 감사를 진행한다. (X)
- ⑧ 지방 의회의 역할이다. (O)
- ⑨ ㉠은 조례, ㉡은 규칙을 제정한다. (O)

14 지역 사회의 문제 해결과 지역의 발전을 위해서 주민은 다양한 방식으로 지역 사회의 정치 과정에 참여한다. 행정 기관에 민원을 제기하거나 청원을 할 수 있으며, 공청회에 참석할 수도 있다. 또 주민 투표제, 주민 소환제, 주민 발의제, 주민 참여 예산제 등 다양한 제도를 통하여 지역 사회의 정치 과정에 직접 참여할 수 있다. ③ 우리나라에서는 의회 해산 제도를 인정하고 있지 않다.

15 (가)는 필요한 조례를 주민이 직접 제안할 수 있는 주민 발의제, (나)는 선출된 공직자를 소환하여 주민 투표로 해임을 결정할 수 있는 주민 소환제이다.

16 주민 투표 제도는 지역 사회의 주요 현안에 대하여 주민이 직접 투표로 결정하는 제도이다. 면사무소 이전과 같은 지역의 주요 사항을 주민들이 직접 투표로 결정할 수 있다.

17 (1) (가) 평등 선거, (나) 보통 선거
 (2) (가)는 선거권을 가진 사람에게 동등한 투표권을 부여하지 않아 투표의 가치가 동일하지 않기 때문이다. (나)는 일정 연령 이상의 모든 국민들에게 선거권을 주지 않고 경제적 능력이 있는 사람에게만 선거권을 주었기 때문이다.

| 핵심 단어 | (가) 투표의 가치, (나) 일정 연령 이상, 모든 국민

채점 기준	구분
보통 선거와 평등 선거에 위배되는 이유를 각각 서술한 경우	상
보통 선거와 평등 선거 중 위배되는 이유를 한 가지만 서술한 경우	하

18 선거구 법정주의, 특정 개인이나 정당이 자신에게 유리하도록 선거구를 정하는 것을 막기 위해서 선거구 법정주의를 실시한다.

| 핵심 단어 | 선거구 법정주의, 특정 개인이나 정당에게 유리하도록

채점 기준	구분
선거구 법정주의라고 쓰고, '개인이나 정당에게 유리하도록 선거구를 정하는 것을 막기 위해서'라고 서술한 경우	상
선거구 법정주의라고 쓰고, '선거구를 마음대로 정하는 것을 막기 위해서'라고 서술한 경우	중
선거구 법정주의라고만 쓴 경우	하

STEP 3 모아 모아 **단원 체크** p. 160~162

- 01 ⑤ 02 ④ 03 ③ 04 ① 05 ②
- 06 ④ 07 ③ 08 ⑤ 09 ① 10 ②
- 11 ③ 12 ② 13 ④ 14 ④ 15 ①
- 16 ⑤ 17 ⑤ 18 ⑤ 19 ② 20 ③
- 21 ⑤ 22 해설 참조 23 해설 참조

01 주로 국가 기관을 중심으로 정치 과정이 이루어졌던 과거와 달리, 현대 사회에서는 수많은 개인과 집단도 정치 과정에 참여하고 있다. 정치가 제대로 기능을 하기 위해서는 정책이 집행된 후라도 시민과 국가 기관 모두 정치 과정에서 나타난 문제점을 개선하려고 노력해야 한다. ⑤ 정책은 집행 후에도 국민의 평가를 받아 수정되거나 새로운 정책으로 변화하기도 한다.

02 정치 과정에서 이익 표출이란 개인이나 집단이 요구 사항을 자유롭게 표출하는 것이다. 정당과 언론은 표출된 이익을 집약하여 대안을 제시하면서 정치 과정에 영향을 미친다. 국회와 정부는 집약된 이익을 바탕으로 정책을 결정하고, 정부가 이를 집행한다. 시민은 정책을 평가하게 되는데, 그 결과가 다시 정치 과정에 반영된다. B는 다양한 이익 표출 단계 (가), A는 국회에서 정책을 결정하는 단계 (다)이다.

03 국민이 표출한 요구와 이익은 정당이나 언론을 통해 집약된다. 정당은 공청회를 통하여 시민의 다양한 의견을 수렴할 수 있으며, 언론은 보도를 통하여 여론을 형성하여 정치 과정에 영향을 미친다.

선택지 바로 보기

- ① 개인이나 집단이 다양한 요구를 제기한다. (X) ㉠(가)
- ② 여론을 반영하여 가장 적합한 정책을 결정한다. (X) ㉡(다)
- ③ 정당, 언론 등에 의해 시민의 다양한 의견이 수렴된다. (O)
- ④ 결정된 정책을 구체적으로 현실에 적용하여 집행한다. (X) ㉠(가)
- ⑤ 정책 시행 결과 발생한 문제들에 대한 새로운 요구와 지지가 형성된다. (X) ㉡(다)

04 정책을 구체적으로 현실에 적용하여 집행하는 정치 주체는 정부이다. 국가 기관은 정책을 결정하고 집행할 때 시민의 다양한 의사를 반영하는 데 노력해야 한다.

05 국회에서 시민의 다양한 요구를 반영하여 법률을 제정하면, 정부는 법률을 토대로 정책을 집행한다. 법원에서는 정책과 관련된 분쟁이 있을 때 국민의 권리가 침해되었는지 판단한다.

선택지 바로 보기

- ① 국회 - 선거에 후보자를 추천한다. (X) **정당**
- ② 국회 - 국민의 대표로 구성되어 있다. (O)
- ③ 법원 - 법률을 토대로 정책을 구체적으로 집행한다. (X)
정부
- ④ 정부 - 국민의 다양한 이익을 반영하여 법률을 제정한다.
(X) **국회**
- ⑤ 정부 - 재판을 통해 법률을 해석·적용하여 문제를 해결한다. (X) **법원**

06 이익 집단은 집단 구성원의 특정한 이익을 실현하고자 다른 집단에 압력을 행사하기도 하고 여론을 만들기도 한다. 지나치게 자기 집단의 이익만을 강조하면 다른 집단이나 사회 전체의 이익과 충돌할 수 있다.

07 방송, 인터넷, 신문 등은 우리 사회의 쟁점과 관련한 정보와 그에 관한 시민 다수의 의견, 즉 여론을 반영하여 전달한다. 언론은 스스로 의견을 제시하기도 하고 다른 정치 주체의 활동을 평가하고 비판하기도 한다.

08 (가)는 정당, (나)는 시민 단체이다. 정당은 정권을 획득하기 위해 만든 집단이고, 시민 단체는 공익의 실현을 위해 시민들이 자발적으로 만든 단체이다.

09 정당은 정치권력을 얻기 위하여 사회의 다양한 요구를 반영하여 그것을 정책으로 만들어 시행하고자 한다. 정책과 관련한 여론을 형성하고 국가 기관이 정책을 잘 집행할 수 있도록 지지하거나 비판하며 새로운 정책을 제시하기도 한다.
① 국민은 자신이 지지하는 정당의 당원으로 가입하여 활동할 수 있다.

10 선거 제도는 모든 국민이 직접 정치에 참여하기 어려운 대의 정치하에서 시민의 이익과 의사를 반영할 대표를 뽑는 가장 기본적인 정치 참여 행위이다.

11 선거는 권력을 통제하고 책임 정치가 실현되도록 한다. 대표자가 국민과 한 약속을 제대로 지키지 못하면, 국민은 다음 선거에서 다른 대표자를 선출함으로써 책임을 물을 수 있다.

12 선거의 가장 중요한 기능은 대표자를 선출하는 것이다. 국민은 자신의 요구를 가장 잘 대변해 줄 수 있는 사람을 대표자로 선출하며, 이를 통하여 자신의 의사를 표현하고 주권을 행사하면서 국가의 주인이라는 인식을 갖게 된다.

13 (가) 직접 선거는 선거권을 가진 사람이 직접 투표소에 나가 투표를 해야 하는 원칙이다. (나) 비밀 선거는 어떤 후보를 선

택하였는지 다른 사람이 알지 못하도록 하는 원칙이다. 이러한 민주 선거 원칙을 헌법에 규정하여 선거가 공정하게 이루어지도록 하고 있다.

14 민주적인 선거가 이루어지기 위해서는 헌법이 규정하고 있는 선거의 기본 원칙이 지켜져야 한다. 우리나라 헌법에 규정하고 있는 선거의 기본 원칙은 보통 선거, 평등 선거, 직접 선거, 비밀 선거이다. 평등 선거는 모든 유권자에게 한 표씩 투표의 가치를 동등하게 부여하는 원칙이다.

15 대표를 선출하는 지역 단위를 선거구라고 하는데, 선거구가 어떻게 정해지는지에 따라 특정 개인이나 정당이 유리해지거나 불리해질 수 있다. 공정한 선거를 위해서 선거구는 국회에서 법률로써 획정한다.

16 선거 관리 위원회는 선거 및 국민 투표를 공정하게 관리하고, 정당 및 정치 자금에 관한 사무를 처리하기 위한 국가 기관이다. 선거 관리 위원회는 선거 과정을 공정하게 관리하고, 선거 홍보 활동 및 선거에 관한 올바른 인식을 교육한다.

17 지역 주민이 지방 정부를 구성하여 자기 지역의 일을 처리하는 것을 지방 자치 제도라고 한다. 지방 자치 제도는 지역 주민의 자발적인 참여로 민주주의의 기초를 만들어 간다는 의미에서 '풀뿌리 민주주의'라고 불린다.

18 우리나라의 지방 자치 단체는 의결 기관인 지방 의회와 집행 기관인 지방 자치 단체장으로 구성된다. ⑤ 지방 자치 단체장은 지방 의회가 의결한 조례를 집행하며, 각종 지방 사무와 지방 자치 단체의 재산을 관리한다.

19 우리나라의 지방 자치 단체는 특별시, 광역시, 도, 특별자치시, 특별자치도에 해당하는 광역 자치 단체와 시, 군, 구에 해당하는 기초 자치 단체로 구분된다. 자료에서 경기도지사과 경기도 의회 의원은 광역 자치 단체에, 수원시장과 수원시 의회 의원은 기초 자치 단체에 속하며 모두 주민의 직접 선거로 선출된다. ② 팔달구청장은 임명직 공무원이다.

문제 자료 분석하기 지방 자치 단체의 범위

예원 씨는 경기도 수원시 팔달구에 살고 있다.
└─ 광역 자치 단체 └─ 기초 자치 단체

20 지방 의회는 의결 기관으로, 조례를 제정하거나 개정한다. 또 지역의 예산을 심의하고 의결하며, 지방 자치 단체의 행정 업무를 감시하는 역할도 한다. 나, 드는 지방 자치 단체장의 역할이다.

21 지역 사회 문제를 해결하는 과정에서 주민은 자신의 의견과 이익을 정치 과정에 반영하기 위해 다양한 제도를 통해 참여할 수 있다. 제시문은 일부 지역의 예산 편성에 주민이 참여하여 예산 각 항목의 중요도 등을 결정하는 주민 참여 예산 제도의 사례이다.

22 정당, 정치권력 획득을 목적으로 한다.

| 핵심 단어 | 정당, 정치권력 획득

채점 기준	구분
정당을 쓰고, 정당의 목적을 바르게 서술한 경우	상
정당이라고만 쓴 경우	하

23 (1) (가) 선거 공영제, (나) 선거구 법정주의
(2) 선거 공영제와 선거구 법정주의의 공통된 목적은 선거의 공정성 보장이다.

채점 기준	구분
공통된 목적을 바르게 서술한 경우	상
공통된 목적을 서술하였으나 미흡한 경우	하

XI | 일상생활과 법

01 법의 의미와 목적 ~ 02 법의 종류

STEP 1 차근 차근 개념 체크 p.166

1 (1) ① (2) ㉠ (3) ㉡ (4) ㉢ (5) 2 (1) 정의 (2) 공공복리 3 (1) 강제성 (2) 권리
4 (1) ㄴ, ㄷ, ㄹ (2) ㄱ, ㄷ (3) ㄱ, ㄷ, ㄹ 5 (1) 형법 (2) 경제법 (3) 민법 (4) 헌법

STEP 2 차곡 차곡 실력 체크 p.166~169

01 ② 02 ⑤ 03 ① 04 ③ 05 ⑤
06 ② 07 ③ 08 ② 09 ② 10 ⑤
11 ④ 12 ① 13 ⑤ 14 ③ 15 ④
16 ① 17 ② 18 ② 19 사회법 20 ⑤
21 ④ 22 ① 23 해설 참조 24 해설 참조 25 해설 참조
26 해설 참조

01 우리는 전 생애에 걸쳐 법의 보호와 규제를 받으며 살아간다. 오늘날에는 사람들이 살아가는 데 필요한 것을 법으로 정하고 있으며, 수많은 사회 문제를 법으로 해결하고 있다. 즉, 우리는 누구나 법의 영향을 받으며 법과 함께 살아간다.

02 농수산물의 원산지 표시에 관한 법률에 따라 음식점에서 재료의 원산지를 표시하고 있다. ⑤ 어린이 식품 안전 보호 구역에서 어린이 건강을 해칠 수 있는 식품을 판매하지 못하는 것은 '어린이 식생활 안전 관리 특별법'에 따른 내용이다.

03 사회 규범에는 관습, 종교, 도덕, 법 등이 있다. 관습은 한 사회에서 오랜 세월 동안 지켜져 내려온 규범이며, 종교 규범은 특정 종교 내에서 지켜지는 규범이다. 법은 국가에 의해 강제적으로 지키도록 요구되는 사회 규범으로, 지키지 않을 경우에는 국가에 의해 강제로 처벌받게 된다. 오늘날은 사회가 복잡해지고 국가의 역할이 확대되면서 법의 중요성이 커지고 있다.

04 법은 다른 사회 규범에 비해 내용이 명확하고, 지키지 않을 경우에는 국가에 의해 강제로 처벌받게 된다. 법의 강제성은 다른 사회 규범과 구별되는 가장 큰 특징이다.

05 제시문은 우리나라 형법 제277조 제1항의 내용이다. 법은 다른 사회 규범과 달리 국가가 제정하여 강제성이 있기 때문에 이를 지키지 않을 경우 국가에 의해 제재나 처벌을 받을 수 있다.

선택지 바로 보기

- ① 도덕을 바탕으로 만들어지는 경우는 없다. (X)
- ② 법은 도덕을 바탕으로 만들어지는 경우가 많다
- ② 십계명이나 불경 등과 같은 유형에 속한다. (X)
- ③ 십계명이나 불경은 종교 규범에 해당한다.
- ③ 양심에 따라 자발적으로 지키도록 하는 규범이다. (X)
- ④ 도덕에 대한 설명이다.
- ④ 다른 사회 규범보다 내용이 추상적이고 모호하다. (X)
- ⑤ 법은 다른 사회 규범에 비해 해야 할 것과 하지 말아야 할 것을 명확하게 규정하고 있다.
- ⑤ 사회 구성원들이 합의를 통해 정한 약속으로 지키지 않을 경우 국가 권력에 의해 처벌을 받는다. (O)

06 사회 규범에는 관습, 종교, 도덕, 법 등이 있다. (가)는 한 사회에서 오랜 세월 동안 반복되어 온 행동 양식인 관습이다. (나)는 종교 공동체 구성원들의 행위 기준이 되는 교리인 종교이다. (다)는 인간이 지켜야 할 바람직한 도리인 도덕이다.

07 법은 사회 구성원들이 어떤 행동을 하도록 또는 하지 못하도록 국가에 의해 정해진 것으로, 행위의 결과를 규율하는 강제적 규범이다. 반면, 도덕은 인간이 지켜야 할 바람직한 도리로, 행위의 동기를 규율하는 자율적 규범이다.

08 법은 궁극적으로 정의를 실현하기 위해 존재한다. 정의란 각자가 자신의 행위에 따라 마땅히 받아야 할 몫을 주는 것으로, 조건이 다르면 다르게 대우하는 것이다.

09 서양의 정의의 여신이 들고 있는 칼은 법을 위반한 경우 엄격하게 처리하겠다는 강제성을 의미하며, 저울은 개인 간의 권리에 대한 다툼을 공정하게 저울질하겠다는 형평성을 의미한다.

10 법은 정의의 실현과 공공복리의 증진을 목적으로 한다. 공공복리의 증진이란 특정 집단의 이익이 아니라 국민 다수의 행복과 이익이 실현되는 것을 말한다. 사례에서처럼 대다수 사

람의 건강 보호를 우선시하여 대부분의 공공장소에서 법으로 흡연을 규제하는 것은 많은 사람의 이익과 행복을 추구하기 위해서이다.

- 11 법은 사회적 분쟁과 갈등을 공정하게 해결해 줌으로써 사회 질서를 유지하고 개인의 권리를 보호한다.
- 12 법은 사회 구성원들이 합의한 공동의 약속이므로 사회에서 발생하는 분쟁을 해결하는 객관적이고 공정한 기준이 된다. 따라서 법은 사회생활 중에 분쟁이 발생한 경우 분쟁과 갈등을 해결하고, 이를 통하여 사회 질서를 유지한다.
- 13 법은 우리의 생활 곳곳에 영향을 미치고 있으며, 규율하는 생활 영역에 따라 크게 공법, 사법, 사회법으로 구분할 수 있다. 공적 생활 관계를 규율하는 법은 공법, 사적 생활 관계를 규율하는 법은 사법, 공법과 사회법의 중간적 성격을 띠는 법은 사회법이다.
- 14 헌법은 국민의 기본적 권리와 의무, 국가의 통치 구조 등을 규정한 한 국가의 최고 법으로, 개인과 국가 기관 간의 공적인 생활 관계를 규율하는 공법에 해당한다.

선택지 바로 보기

- ① 민법 - 국민 경제의 균형적 발전을 위한 법 (×)
 ✔ 민법은 가족 관계와 재산 관계에 관하여 규정한 법이다.
- ② 상법 - 개인의 재산, 신분 등을 규율하는 법 (×)
 ✔ 상법은 기업의 설립, 운영 등 기업을 중심으로 한 생활 관계를 규정한 법이다.
- ③ 헌법 - 국민의 기본권 등을 규정한 국가의 최고 법 (○)
- ④ 형법 - 기업을 중심으로 한 생활 관계를 규율하는 법 (×)
 ✔ 형법은 범죄의 종류와 그에 대한 형벌의 정도를 정해 놓은 법이다.
- ⑤ 경제법 - 범죄의 종류와 그에 대한 형벌의 정도를 규정한 법 (×)
 ✔ 경제법은 소비자의 권리를 보호하고 공정한 거래 질서를 확립하는 법이다.

- 15 사법은 개인 간의 관계, 즉 사적인 생활 영역을 다루는 법이다. 사법으로는 민법과 상법이 대표적이다. 민법은 개인 간의 재산 관계나 가족 관계를 다루고, 상법은 기업을 중심으로 전개되는 생활 관계를 규율한다. ①, ②, ③은 공법, ⑤는 사회법에 해당한다.
- 16 법은 규율하는 생활 영역에 따라 사법, 공법, 사회법으로 구분할 수 있다. 개인 간의 생활 관계를 규율하는 법이 사법, 국가를 중심으로 한 생활 관계를 규율하는 법을 공법, 국가가 사적 영역에 개입하여 사회적 약자를 보호하는 법을 사회법이라고 한다. (가)는 공법, (나)는 사법, (다)는 사회법의 사례에 해당한다.
- 17 법은 사람들 간의 다양한 관계를 원활하게 유지하고 사람들의 권리를 보장하고자 다양한 생활 영역을 규율한다. 그중 상법은 기업을 중심으로 전개되는 생활 관계를 규율한다. 상법에 따라 다른 영업점으로 오해할 수 있는 상호는 사용할 수 없다.

문제 자료 분석하기 법의 종류



상법 제23조 제1항 누구든지 부정한 목적으로 타인의 영업으로 오인할 수 있는 상호를 사용하지 못한다.

- 18 공법은 개인과 국가 기관 간의 공적인 생활 관계를 규율하는 법으로, 헌법, 형법, 소송법, 행정법, 선거법 등이 있다. 상법과 민법은 사법에, 근로 기준법은 사회법에 속한다.
- 19 사회법은 모든 국민이 인간으로서 최소한의 안정된 생활을 할 수 있도록 사회적 약자의 권리를 보호하는 법이다. 국가는 사회법으로 개인 간의 생활 영역에 적극적으로 개입하여 사회적 약자의 기본적인 권리를 보장한다.
- 20 제시된 법들은 사회법에 속한다. 사회법은 사적인 생활 영역에 국가가 개입하여 만들어진 법이다. ㄱ. 공법(公法) 영역 중 형법에 대한 설명이다. ㄴ. 오늘날과 같은 복지 국가에서 사회법은 그 중요성이 점점 더 강조되고 있다.
- 21 경제법은 공정한 경제 질서를 유지하여 기업 간의 공정한 경쟁을 유도하고 소비자의 권리와 이익을 보장할 목적으로, 일정 범위에서 경제 활동을 규제하고 조정하는 법이다. 경제법 중 소비자 기본법에는 거짓이나 과장으로 소비자를 속이면 안 된다고 규정되어 있다.
- 22 제시된 사례는 모든 국민의 최소한의 기본적인 생활을 보장하는 것을 목적으로 하는 사회 보장법에 해당한다.
- 23 법은 다른 사회 규범과 달리 지키지 않을 경우에는 국가에 의해 처벌을 받는 강제성을 지니고 있다.

| 핵심 단어 | 국가에 의한 처벌, 강제성

채점 기준	구분
국가에 의한 '처벌'과 '강제성'을 포함하여 정확하게 서술한 경우	상
'강제성'이라고만 쓴 경우	하

- 24 법은 명확한 기준을 가지고 있으므로 분쟁을 합리적으로 해결할 수 있다.

| 핵심 단어 | 명확한 기준, 분쟁 해결

채점 기준	구분
'명확한 기준', '분쟁 해결'을 포함하여 정확하게 서술한 경우	상
'명확한 기준', '분쟁 해결' 중 한 가지만 서술한 경우	하

- 25 법은 공공복리를 추구하고 정의를 실현하는 것을 목적으로 한다.

| 핵심 단어 | 공공복리, 정의 실현

채점 기준	구분
'공공복리', '정의 실현'을 포함하여 정확하게 서술한 경우	상
'공공복리', '정의 실현' 중 한 가지만 서술한 경우	하

26 (1) 사회법

(2) 사회 구성원의 인간다운 생활 보장과 사회적·경제적 약자를 보호하는 것을 목적으로 한다.

| 핵심 단어 | 인간다운 생활 보장, 사회적·경제적 약자 보호

채점 기준	구분
'인간다운 생활 보장'과 '사회적·경제적 약자 보호'를 포함하여 정확하게 서술한 경우	상
'인간다운 생활 보장'과 '사회적·경제적 약자 보호' 중 한 가지만 서술한 경우	하

03 재판의 종류와 공정한 재판

STEP 1 차근 차근 개념 체크 p.172

1 재판 2 (1)㉔ (2)㉑ (3)㉓ (4)㉒ 3 (1) 원고 (2) 검사 (3) 형사 재판 4 (1)ㄴ (2)ㄱ (3)ㄷ 5 ㉑ 상소 ㉒ 항소 ㉓ 상고

STEP 2 차곡 차곡 실력 체크 p.172~175

01 ㉓ 02 ㉒ 03 ㉓ 04 ㉑ 05 ㉒
 06 ㉑ 07 ㉑ 08 ㉔ 09 ㉒ 10 ㉔
 11 ㉓ 12 ㉒ 13 ㉓ 14 ㉔ 15 ㉓
 16 사법권의 독립 17 ㉔ 18 ㉔ 19 ㉔
 20 ㉔ 21 ㉒ 22 해설 참조 23 해설 참조 24 해설 참조

- 01 재판은 시간과 비용이 많이 소요되고 당사자 간의 심리적 갈등이나 감정적 거리감이 발생할 수 있다. 따라서 재판을 하기 전에 분쟁 당사자들이 자율적으로 합의를 하여 해결하는 것이 가장 바람직하다.
- 02 재판은 분쟁 당사자 간의 갈등을 원만하게 해결하고, 범죄 행위가 발생하였을 때 이를 제재함으로써 사회 질서를 안정적으로 유지하는 기능을 한다. 이러한 재판을 통해 국민의 권리를 보호할 수 있다.
- 03 재판은 분쟁이나 사건의 종류에 따라 달라진다. 민사 재판, 형사 재판, 행정 재판, 가사 재판, 선거 재판 등이 우리 사회의 수많은 분쟁을 해결하는 역할을 한다. ③ 가사 재판은 이혼이나 상속 등 가족이나 친족 간의 다툼을 해결하는 재판이다.

선택지 바로 보기

- ① 선거 재판 - 개인 간의 분쟁을 해결하기 위한 재판 (X) ▶ 민사 재판
- ② 민사 재판 - 죄의 유무와 형벌의 양을 결정하는 재판 (X) ▶ 형사 재판
- ③ 가사 재판 - 가족이나 친족 간의 다툼을 해결하는 재판 (O)
- ④ 형사 재판 - 행정 기관의 부당한 권리 침해를 가려내는 재판 (X) ▶ 행정 재판
- ⑤ 행정 재판 - 선거 절차나 당선에 관한 다툼을 해결하는 재판 (X) ▶ 선거 재판

- 04 빈칸에 들어갈 재판은 민사 재판이다. 민사 재판은 재산 문제나 손해 배상 등 개인과 개인 사이에서 일어난 법률관계에 관한 분쟁을 해결하기 위한 재판이다. ②는 소년 보호 재판, ③은 형사 재판, ④는 선거 재판, ⑤는 행정 재판에 해당한다.
- 05 (가)는 이혼과 양육권 등 가족 간의 다툼으로 가사 재판, (나)는 음주 운전이라는 범죄에 대한 처벌을 하는 형사 재판, (다)는 행정 기관을 상대로 권리 구제를 요구하거나 분쟁을 해결하기 위한 행정 재판에 해당한다.
- 06 민사 재판은 돈을 빌려주는 과정에서 일어난 다툼이나 중간 소음으로 인한 다툼 등과 같이 개인과 개인 사이에서 발생한 분쟁을 해결하기 위한 재판이다. 판결문은 이 씨와 박 씨 간의 개인적인 금전 문제에 대한 것으로, 이것은 민사 재판의 대상이 된다.
- 07 그림은 민사 재판의 대상이 된다. 소를 제기하는 집주인은 원고이고, 소를 제기당한 건설 회사는 피고가 된다. 원고의 소 제기로 재판이 시작되면 판사는 양쪽에서 제출한 증거와 주장을 바탕으로 판결을 내린다.
- 08 민사 재판은 '원고의 소장 제출 → 피고의 답변서 제출 → 원고와 피고 측 변론 → 법관의 판결' 순으로 진행된다. 분쟁이 발생했을 때 피해를 입었다고 주장하는 사람이 원고, 원고의 소 제기로 인해 재판을 당하는 사람이 피고가 된다.
- 09 제시된 그림을 살펴보면 중앙의 법관을 중심으로 왼쪽에는 검사가 위치하고, 오른쪽에는 피고인과 피고인의 변호인이 위치한다. 따라서 형사 재판의 법정 모습을 알 수 있다.
- 10 형사 재판은 사회 질서를 위협하는 범죄 사건에 적용되는 재판이다. 범죄 사건이 발생하면 검사는 사건을 수사하고 처벌을 요구하는 공소를 제기한다. 이때 기소된 사람을 피고인이라고 한다. ㄱ. 재판의 당사자는 검사와 피고인이다. ㄷ. 민사 재판에 대한 설명이다.
- 11 민사 소송에서 소를 제기한 사람을 원고, 소를 제기당한 사람을 피고라고 한다. 범죄 사건에 대해 수사를 하고 형사 재판의 공소를 제기하는 사람은 검사, 이때 기소된 사람을 피고인이라고 한다.

12 자료는 폭력과 같은 범죄 행위에 해당하므로 형사 재판의 대상이 된다. 형사 재판은 검사의 공소 제기로 재판이 열리게 된다. B는 피고인이 되며 변호인의 도움을 받을 수 있다. 법원은 관련된 법 조항을 적용하여 범죄의 유무와 형벌의 정도에 대한 판결을 내린다.

13 형사 재판은 '범죄 발생 → 검사와 경찰의 사건 수사 (라) → 검사의 공소 제기 (나) → 검사와 피고인 측의 변론 (다) → 법원의 판결 (가)' 순으로 이루어진다.

14 자료는 국민 참여 재판이다. 형사 재판에 한하여 피고인의 신청으로 이루어진다. 배심원은 20세 이상의 국민이면 누구나 될 수 있다. 배심원단은 재판에 참여하여 피고인의 유·무죄를 결정하고, 유죄로 판단할 경우 형벌의 정도를 토의한다. 그러나 판사가 배심원의 결정에 무조건 따라야 하는 것은 아니다.

문제 자료 분석하기 국민 참여 재판



- 의미: 일반 국민이 형사 재판의 배심원으로 참여하는 제도
- 의의: 재판의 공정성과 투명성을 높임
- 배심원: 20세 이상의 대한민국 국민이면 누구나 될 수 있음. 피고인의 유·무죄를 결정하고 그에 따른 형벌의 정도를 토의

15 재판은 사람들의 삶에 중대한 영향을 미친다. 따라서 억울한 피해자가 생기지 않고 공정한 재판이 이루어지도록 여러 가지 제도가 마련되어 있다. 우리나라는 사법권의 독립, 삼급 제도, 공개 재판주의, 증거 재판주의를 통해 공정한 재판을 보장함으로써 국민의 권리와 이익을 극대화하고자 한다.

16 공정한 재판을 위해서는 재판 과정이 외부의 압력에 흔들리지 않는 것이 중요하다. 이를 위해 우리 헌법에서는 법원을 다른 국가 기관에서 독립시켜 두고 있다. 또한 법관이 오직 헌법과 법률, 양심에 따라 판결을 내릴 수 있도록 법관의 신분을 보장하고 있다.

17 우리나라는 세 번까지 재판을 받을 수 있는 3심 제도를 실시하고 있다. 이는 같은 사건에 대해 여러 번 재판을 받을 수 있게 하여 보다 공정한 재판이 이루어지도록 하기 위해서이다. 1심 판결에 불복하여 상급 법원에 2심을 청구하는 것을 항소라고 하고, 2심 판결에 불복하여 상급 법원에 3심을 청구하는 것을 상고라고 한다.

18 우리나라는 공정한 재판을 위하여 공개 재판주의를 채택하

고 있다. 공개 재판주의에 따라 재판의 심리와 판결은 소송 당사자뿐만 아니라 일반인에게도 공개해야 한다.

19 재판의 당사자가 1심 재판에 이의가 있어 상급 법원에 2심 재판을 청구하는 것을 '항소'라고 하고, 2심 재판에 이의가 있어 최고 법원인 대법원에 3심 재판을 청구하는 것을 '상고'라고 한다. 이러한 항소와 상고를 합쳐 '상소'라고 한다.

20 (가)는 증거 재판주의, (나)는 공개 재판주의이다. 나. 증거 재판주의는 법원이 반드시 구체적인 증거에 의해 사실을 인정하고, 그에 따라 판결을 내려야 한다는 원칙이다. 르. 국가의 안전 보장, 선량한 풍속을 해칠 우려가 있는 경우에는 재판을 공개하지 않아도 된다.

21 우리나라 헌법은 법관이 헌법과 법률에 의하여 그 양심에 따라 심판할 수 있도록 재판의 독립을 보장한다. 이를 위하여 법관의 신분이 보장되어 있으며, 법원은 입법부와 행정부로부터 독립되어 있다. 그러나 법관이라 할지라도 위법한 행위를 하면 처벌을 받는다.

22 (1) (가)는 민사 재판, (나)는 형사 재판이다.
(2) (가)에서 소를 제기하는 원고는 A이고, 소를 제기당한 피고는 개 주인이다. (나)에서는 검사가 공소를 제기하고, C는 피고인으로 소송을 당하는 사람이다.

핵심 단어 원고, 피고, 검사, 피고인

채점 기준	구분
법률 용어를 사용하여 소를 제기한 사람과 소 제기를 당한 사람을 정확하게 서술한 경우	상
법률 용어를 사용하여 소를 제기한 사람과 소 제기를 당한 사람을 서술했으나 미흡한 경우	중
법률 용어를 사용하여 소를 제기한 사람과 소 제기를 당한 사람 중 한 가지만 서술한 경우	하

23 (1) 대법원
(2) 항소는 1심 법원의 판결에 불복하여 2심 법원에 재판을 요청하는 것이고, 상고는 2심 법원의 판결도 받아들일 수 없어 대법원에 다시 재판을 요청하는 것이다.

핵심 단어 1심, 판결에 불복, 2심, 대법원, 다시 재판 요청

채점 기준	구분
항소와 상고에 대해 모두 바르게 서술한 경우	상
항소와 상고 중 한 가지만 서술한 경우	하

24 사법권의 독립, 삼급 제도, 공개 재판주의와 증거 재판주의, 이러한 제도들은 공정한 재판이 이루어져 국민의 자유와 권리를 보장하기 위한 것이다.

핵심 단어 사법권의 독립, 삼급 제도, 공개 재판주의, 증거 재판주의, 자유와 권리 보장

채점 기준	구분
세 가지 제도와 목적을 모두 바르게 서술한 경우	상
세 가지 제도를 모두 서술했으나 목적은 서술하지 않은 경우	중
두 가지 제도만 언급한 경우	하

STEP 3 모아 모아 단원 체크 p. 176~178				
01 ②	02 ④	03 ⑤	04 ④	05 ③
06 ②	07 ③	08 ②	09 ②	10 ③
11 ①	12 ④	13 ④	14 ④	15 ②
16 ④	17 해설 참조	18 해설 참조	19 해설 참조	

- 01 복잡한 사회에서 다양한 사람들이 조화롭게 살기 위해서는 사회 규범이 필요한데, 대표적인 사회 규범으로는 관습, 종교, 도덕, 법 규범 등이 있다. 이 중에서 국가 권력에 의해 제정된 법 규범만이 강제력을 가지고 있다.
- 02 법은 강제성을 가지고 있는 규범으로, 만약 법을 어기면 국가는 법을 위반한 사람에게 제재를 가할 수 있다. 또한 인간 내면의 양심과 동기를 중요시하는 도덕과 달리, 법은 외적인 행위와 결과를 중요시한다. 도덕은 선의 실현을 목적으로 하지만 법은 정의의 실현을 목적으로 한다는 점에서 차이가 있다.
- 03 사회 규범은 사람들이 무엇을 해야 하고 무엇을 하지 말아야 하는지에 대한 행동 기준으로, 종교, 관습, 도덕, 법 등이 있다. (가)는 종교, (나)는 관습, (다)는 도덕, (라)는 법에 해당한다.

선택지 바로 보기

- ① (가)와 (나)는 국가에 의해 강제된다. (x)
 Ⓛ는 국가에 의해 강제된다.
- ② (다)는 (라)를 바탕으로 만들어지기도 한다. (x)
 Ⓛ는 (라)를 바탕으로 만들어지기도 한다.
- ③ (나)와 (라)는 외적인 위반 행위를 규율한다. (x)
 Ⓛ는 외적인 위반 행위를 규율한다.
- ④ (다)는 행위의 결과를 중시하고, (라)는 행위의 동기를 중시한다. (x) Ⓛ는 행위의 동기를 중시하고, (라)는 행위의 결과를 중시한다.
- ⑤ (라)는 분쟁을 해결하는 데 가장 객관적이고 명확한 기준을 제시한다. (o)

- 04 법은 사회적 분쟁과 갈등을 공정하게 해결해 줌으로써 사회 질서를 유지하고 개인의 권리를 보호한다. ④ 선량한 사람은 그렇지 않은 사람 때문에 피해를 볼 수 있으므로 법으로 보호해야 한다.
- 05 지문은 정의에 대한 설명이다. 법의 궁극적인 목적은 정의의 실현으로, 범죄를 저질렀을 때 그에 상응하는 처벌을 하거나, 개인의 능력에 따라 모든 사람이 정당한 대우를 받는 것이다. ③ 타당한 이유 없이 신체 조건에 따라 교육 기회에 제한을 두는 것은 정의 실현에 위배된다.
- 06 민법은 주로 개인 간의 가족 관계, 재산 관계 등을 다루는 법이다. 지문의 법률은 부모와 자식 간, 혼인 등 가족 관계에 관한 것으로 민법의 영역에 해당한다.
- 07 공법은 공적인 생활 영역을 다루는 법으로 개인과 국가의 관계 또는 국가 기관 간의 관계를 규정한다. 공법에는 헌법, 형

법, 행정법, 소송법 등이 있다. ①, ④는 사회법, ②, ⑤는 사법이다.

- 08 사법은 개인 간의 관계, 즉 사적인 생활 영역을 다루는 법이다. 사법으로는 민법과 상법이 대표적이다. 민법은 개인 간의 재산 관계나 가족 관계를 다루고, 상법은 기업을 중심으로 전개되는 생활 관계를 규율한다. ㄱ은 상법, ㄴ은 민법에 해당한다.
- 09 지문은 사회법에 대한 설명이다. 사회법은 모든 국민이 인간으로서 최소한의 안정된 생활을 할 수 있도록 사회적 약자의 권리를 보호하는 법이다. 대표적인 사회법으로는 노동법, 사회보장법, 경제법 등이 있다.
- 10 법은 우리의 생활 곳곳에 영향을 미치고 있으며, 규율하는 생활 영역에 따라 크게 공법, 사법, 사회법으로 구분할 수 있다. 공적 생활 관계를 규율하는 법은 공법, 사적 생활 관계를 규율하는 법은 사법, 공법과 사법의 중간적 성격을 띠는 법은 사회법이다. (가)는 사법, (나)는 공법, (다)는 사회법에 대한 설명이다.
- 11 구체적인 사건이 발생하였을 때 법을 해석하고 옳고 그름을 판단하는 공적인 과정을 재판이라고 하는데, 이러한 재판을 통해 분쟁을 평화롭게 해결하고 국민의 권리를 보호한다. ① 형사 재판은 다른 사람의 권리를 침해하고 사회 질서를 어지럽히는 범죄 사건에 적용되는 재판이다.
- 12 제시된 그림은 민사 재판정의 모습이다. 민사 재판은 개인 간의 관계에서 발생한 분쟁을 해결하기 위한 재판이다. 손해를 입었다고 주장하면서 소를 제기하는 사람은 원고이고, 원고가 소장을 법원에 제출하면 피고는 답변서를 제출한다.
- 13 제시된 사건은 형사 재판이다. 범죄 사건이 발생하면 검사는 사건을 수사하고 처벌을 요구하는 공소를 제기한다. 이때 기소된 사람을 피고인이라고 하며, 피고인은 변호인의 도움을 받을 수 있다.
- 14 중간 소송 문제와 관련한 사건은 민사 재판과 형사 재판 모두의 대상이 되기도 한다. 정신적·금전적 손해 배상은 (가) 민사 재판의 대상이 되고, 주민을 직접 찾아가 폭행할 경우는 (나) 형사 재판의 대상이 된다. ④ 형사 재판에서 공소를 제기하는 사람은 검사이다.
- 15 공정한 재판을 위해서는 재판 과정이 외부의 압력에 흔들리지 않는 것이 중요하다. 이를 위해 우리 헌법에서는 법원을 다른 국가 기관에서 독립시켜 두고 있다. 또한 법관이 오직 헌법과 법률, 양심에 따라 판결을 내릴 수 있도록 법관의 신분을 보장하고 있다.
- 16 재판의 당사자가 1심 재판에 이의가 있어 상급 법원에 2심 재판을 청구하는 것을 '항소'라고 하고, 2심 재판에 이의가

있어 대법원에 3심 재판을 청구하는 것을 '상고'라고 한다, 이러한 항소와 상고를 합쳐 '상소'라고 한다. 항소가 항상 먼저 청구된다.

- 17** 개인과 국가 간, 국가 기관 간의 공적인 생활 관계를 규율하는 법이다. 공법의 종류에는 국민의 권리와 의무, 국가 통치 구조 등을 규정하는 헌법, 범죄 행위와 그에 따른 형벌의 내용을 규정한 형법, 재판의 절차와 방법을 규정한 소송법이 있다.

| 핵심 단어 | 공적인 생활 관계 규율, 헌법, 형법, 소송법

채점 기준	구분
공법의 의미와 공법의 종류 세 가지를 모두 바르게 서술한 경우	상
공법의 의미와 공법의 종류를 두 가지만 서술한 경우	중
공법의 의미 또는 공법의 종류 중 한 가지만 서술한 경우	하

- 18** (1) (가) 민사 재판, (나) 형사 재판
(2) ㉠ 검사, ㉡ 피고, ㉢ 범죄의 유무와 형벌의 정도를 결정한다.

채점 기준	구분
㉠~㉢에 해당하는 내용을 모두 바르게 서술한 경우	상
㉠~㉢에 해당하는 내용을 두 가지만 서술한 경우	중
㉠~㉢에 해당하는 내용을 한 가지만 서술한 경우	하

- 19** (1) (가)는 공개 재판주의, (나)는 증거 재판주의이다.
(2) 공정한 재판을 통해 국민의 권리를 최대한 보장하기 위한 것이다.

| 핵심 단어 | 공정한 재판, 국민의 권리 보장

채점 기준	구분
공정한 재판을 통해 국민의 권리를 보장한다고 서술한 경우	상
공정한 재판이라고만 서술한 경우	하

XII | 사회 변동과 사회 문제

01 사회 변동의 의미와 양상 ~ 02 한국 사회 변동의 최근 경향

STEP 1 차근 차근 개념 체크 p.182

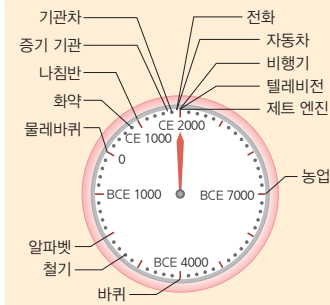
- 1** (1) 빨라지고 (2) 넓게 **2** (1) 세 (2) 정 (3) 산 **3** (1) × (2) ○ (3) ○ **4** (1) 산업화 (2) 급격한 **5** ㉠ 저출산 ㉡ 고령화 **6** (1) ㉠, ㉡ (2) ㉢, ㉣ **7** 다문화 사회

STEP 2 차곡 차곡 실력 체크 p.182~184

- 01** ⑤ **02** ④ **03** ④ **04** ③ **05** ④
06 ② **07** ③ **08** ② **09** ⑤ **10** ②
11 ⑤ **12** 고령화 **13** ②, ③ **14** ③ **15** ③
16 ③ **17** 해설 참조 **18** 해설 참조

- 01** 사회 변동은 사회 구조, 제도, 사회적 가치 등과 같은 사회적 큰 틀이 변화하는 것을 의미한다.
- 02** 사회 변동의 속도나 양상은 사회마다 다르다. 과거에는 사회 변동이 천천히 진행되었으나, 오늘날에는 사회 변동이 매우 빠른 속도로 일어나면서 사회가 혼란에 빠지기도 한다. 최근에는 특정 영역에서 발생한 변화가 급속도로 퍼져 사회 전반의 변동으로 이어지고 있다. 르. 현대 사회의 변동은 넓은 범위에 걸쳐 전 세계적으로 일어나고 있다.
- 03** 현대 사회에 들어서면서 변동 속도는 점점 빨라지고 있다. 하루가 다르게 새로운 기술과 제품이 등장하고 있으며, 변화에 따른 새로운 생활 모습이 빠르게 확산되고 있다. 이러한 변화는 과학 기술의 발달로 더욱 속도가 붙고 있다.

문제 자료 분석하기 발명 시계



발명 시계는 1만 2,000년을 한 시간으로 압축하여 주요 발명을 나타낸 그림이다. 대부분의 주요한 발명이 55분 이후에 나타난 것을 통해 사회 변동의 속도가 과거에 비해 점점 빨라지고 있음을 알 수 있다.

- 04** 사회 변동의 요인으로는 교통·통신 및 과학 기술의 발달, 가치관이나 제도의 변화, 정부의 정책, 역사적 사건, 자연환경의 변화, 문화 전파 등이 있다. 특히 교통·통신 및 과학 기술의 발전은 현대 사회의 변동에 큰 영향을 미치고 있다.
- 05** 인류의 역사는 농경 사회에서 기계의 발명으로 대량 생산이 가능해진 산업 사회를 거쳐 정보 통신 기술 발달로 인한 정보 사회로 변동하였다. 빈칸 (가)는 산업 사회에 해당한다. 산업 사회는 기계의 사용으로 제조업의 생산성이 향상되었다.
- 06** (가)는 정보가 생활의 중심이 되고 있으며, 정보 통신 관련 기기를 다루는 능력이 중요해지고 있으므로 정보화와 관련된 다. (나)는 다국적 기업의 활동이 증가하고 있으며, 국가 간 경제적 교류가 활발히 이루어지고 있으므로 세계화와 관련된다.

- 07 산업화를 통해 대량 생산이 가능해지면서 물질적 풍요를 누리게 되었지만, 빈부 격차, 무분별한 개발로 인한 환경 오염, 전통적인 가족 제도의 붕괴, 인간 소외 등의 문제가 발생하였다.
- 08 정보 사회에서는 직접적인 대면 접촉이 줄어들며 대신 인터넷을 통해 새로운 인간관계를 맺는 현상이 증가한다. 또한 지식과 정보의 습득이 용이한 사람과 그렇지 못한 사람 사이에 정보 격차가 나타난다.
- 09 제시문은 세계화의 사례에 해당한다. 세계화로 세계인의 생활 양식이 비슷해지고 있다. 이 과정에서 상대적으로 소수 민족의 고유한 문화가 소멸하기도 하고, 국가 간 불평등 양상이 나타나기도 한다.
- 10 우리나라는 1962년부터 정부에 의해 경제 개발 5개년 계획이 실시되면서 급속도로 성장하였다. 이를 가리켜 '한강의 기적'이라고도 한다. 한편 광복 후 계속되던 권위주의적인 통치가 시민의 끊임없는 저항을 통해 무너지게 되고 민주주의가 정착되었다.
- 11 저출산 현상의 원인으로는 자녀 양육비 및 교육비 부담의 증가, 여성의 사회 진출 확대, 독신 가구 증가 등을 꼽을 수 있다. ㄱ은 고령화의 원인이다.
- 12 생활 수준의 향상, 의료 기술의 발달 등으로 평균 수명이 늘어나면서 사회에서 노년 인구의 비율이 높아지는 현상을 고령화라고 한다. 노인 인구 비율이 전체 인구의 7% 이상이면 고령화 사회, 14% 이상이면 고령 사회, 20% 이상이면 초고령 사회라고 한다.
- 13 제시된 자료는 고령화 현상이 빠르게 진행되고 있음을 보여 주고 있다. 고령화 현상이 지속되면 노동력이 부족해져 경제 성장이 둔화되고 국가 경쟁력이 약화된다. 또 노인 인구 부양에 필요한 비용이 증가하여 국가적·사회적 부담이 증가하게 된다.
- 14 고령화 문제를 해결하려면 개인도 자신의 노후를 대비해야 하며, 세대 간 합의를 통해 연금과 같은 복지 제도를 합리적으로 운영해야 한다. 또한 정년을 조정하고, 일자리가 필요한 노인에게 적절한 일자리를 제공하는 등 노년층의 경제 활동을 지원하는 방안을 마련해야 한다.
- 15 ㄱ. 외국인 근로자들은 저렴하고 풍부한 노동력을 제공함으로써 우리 경제가 지속적인 발전을 이루는 데 기여하고 있다. ㄴ. 자문화 중심적이고 배타적인 태도를 지양하고 문화적 차이를 존중하는 태도를 갖추어야 한다.
- 16 다문화 사회에 대응하려면 우리나라가 단일 민족 국가라는 인식에서 벗어나, 이주민의 증가를 사회 변동에 따른 자연스러운 현상으로 받아들이는 인식의 변화가 필요하다. 서로의

문화를 이해하는 데 도움이 되는 다문화 교육이 체계적으로 이루어져야 하며, 이주민과 그 가족이 차별받지 않도록 법과 제도를 마련하여야 한다.

- 17 (1) 산업화
- (2) 산업화로 대량 생산과 대량 소비가 가능해져 물질적으로 풍요로워졌으며, 생활 수준이 향상되었다. 그러나 빈부 격차가 심화되고 근로자와 사용자 간의 갈등이 나타났다.

핵심 단어 | 대량 생산과 대량 소비, 빈부 격차, 노사 갈등

채점 기준	구분
장점과 단점 모두 두 가지 이상 서술한 경우	상
장점과 단점을 각각 한 가지씩만 서술한 경우	중
장점과 단점 중 한 가지만 서술한 경우	하

- 18 저출산 문제가 나타나고 있다. 이를 해결하기 위해 영유아 보육비 지원, 육아 휴직 확대 등 각종 제도를 마련해야 한다. 또한 출산과 육아를 사회가 함께 책임져야 한다는 의식 전환이 필요하다.

핵심 단어 | 저출산, 보육비 지원, 육아 휴직 제도 마련, 의식 전환

채점 기준	구분
저출산 문제를 쓰고, 해결책 두 가지를 모두 서술한 경우	상
저출산 문제를 쓰고, 해결책을 한 가지만 서술한 경우	중
저출산 문제라고만 쓴 경우	하

03 현대 사회 문제와 해결 방안

STEP 1 차근 차근 개념 체크

p.186

- 1 사회문제 2 (1) × (2) ○ (3) × 3 (1) ㉠ (2) ㉡ (3) ㉢ 4 (1) 선진국 (2) 노사 갈등 (3) 산업화 5 저출산 문제 6 (1) ○ (2) ×

STEP 2 차곡 차곡 실력 체크

p.186~187

- 01 ㉣ 02 ㉡ 03 ㉡ 04 ㉢ 05 ㉣
06 ㉤ 07 ㉠ 08 ㉤ 09 해설 참조 10 해설 참조

- 01 제시문은 사회 문제에 대해 설명하고 있다. 사회 문제는 발생 원인이 사회에 있고 사회 구성원 대다수가 문제로 여기며 인간의 노력으로 해결 가능한 사회 현상을 말한다.

선택지 바로 보기

- ① 태풍이 발생하여 배가 운항하지 못하였다. (×)
▶ 자연재해이므로 사회 문제에 속하지 않는다.
- ② 이번 중간고사 문제가 어렵게 출제되었다. (×)
▶ 개인의 문제이므로 사회 문제에 속하지 않는다.
- ③ 낮은 출산율로 인하여 노동력이 부족하다. (○)
- ④ 여름철에 비가 많이 내려 산사태가 일어났다. (×)
▶ 자연재해이므로 사회 문제에 속하지 않는다.
- ⑤ 여름휴가 장소에 대해 가족들 간의 갈등이 발생하였다. (×)
▶ 개인의 문제이므로 사회 문제에 속하지 않는다.

- 02** 발생 원인이 사회에 있고 사회 구성원 대다수가 문제라고 여기는 사회 현상 중 인간의 노력으로 해결이 가능한 것을 사회 문제라고 한다. 사회 문제는 어느 사회에나 있으며, 특히 다양한 변동이 일어나는 현대 사회에서는 사회 문제 역시 복잡하고 다양한 양상으로 나타난다.
- 03** 사회 문제에 대한 인식은 시기와 지역, 사람들의 가치관에 따라 달라질 수 있다. 사회 문제가 되기 위해서는 특정한 현상이 객관적으로 존재해야 하고, 사회 구성원이 문제로 인식해야 한다. 구성원들이 문제로 인식하는 현상은 사회에 따라 다를 수 있다.
- 04** 전 세계적으로 인구는 빠르게 증가하고 있는 추세이다. 하지만 각각의 국가들이 겪는 인구 문제는 사회마다 다를 수 있다. 선진국에서는 저출산으로 인구가 줄어드는 반면, 개발도상국에서는 인구가 폭발적으로 증가하는 등 국가별로 다양한 인구 문제가 나타나고 있다.
- 05** 제시된 자료는 실업률 그래프로, 노동 문제를 나타내고 있다. 노동은 자아실현의 과정이자 생존에 필요한 소득을 얻는 행위이면서, 사회의 발전과 유지를 위한 중요한 활동이다. 그러나 최근 우리 사회에서는 노동 환경의 변화로 청년 실업, 비정규직 증가, 고용 불안, 임금 격차 등이 심각해지고 있다.
- 06** 환경 문제를 해결하기 위해서 개인과 가정은 물건 재활용, 쓰레기 분리 배출 등에 적극 참여해야 한다. 기업은 환경 오염 방지 시설에 대한 투자를 확대하고, 친환경 기술 개발에 노력해야 한다. 정부는 환경 오염세를 부과하는 등 환경 보전을 적극적으로 유도해야 한다. 또한 국제적 차원으로 환경 오염 방지 협약 등을 체결한다. ①, ②, ③, ④는 개인적 차원의 해결 방안, ⑤는 국제적 차원의 해결 방안이다.
- 07** 사회 문제를 해결하기 위해서는 개인과 사회가 모두 노력해야 한다. 개인적 측면에서는 사회 문제에 관심을 가지고 해결하기 위한 의식의 개선과 실천이 필요하다. 또한 사회적 측면에서는 법과 제도의 도입과 개혁이 필요하다.
- 08** (가)는 해결 방안을 모색하는 단계이다. 유사한 사례의 해결 과정과 방안 분석, 해결 당사자의 요구 등을 고려하여 다양

한 해결 방안을 제시할 필요가 있다. 해결 방안은 크게 구성원의 의식 개혁 측면과 제도 개혁 측면으로 나눌 수 있다.

09 사회 문제는 시대에 따라 다르게 나타난다.

채점 기준	구분
시대에 따라 문제가 다르게 나타난다고 서술한 경우	상
사회마다 문제가 다르다고만 서술한 경우	하

10 가족계획 사업 등 출산 억제 정책을 실시하여 출산율을 낮추고, 식량 증산과 경제 개발을 위해 노력한다.

채점 기준	구분
두 가지 모두 서술한 경우	상
한 가지만 서술한 경우	하

STEP 3 모아 모아 단원 체크 p. 188~189

- 01 ④
- 02 ④
- 03 ②
- 04 ⑤
- 05 ③
- 06 ①
- 07 ⑤
- 08 ⑤
- 09 ④
- 10 ⑤
- 11 ②
- 12 ②
- 13 해설 참조
- 14 해설 참조

- 01** 사회 변동의 형태, 방향, 속도 등은 사회마다 다르게 나타나며, 현대 사회 변동은 과거에 비해 빠르게 진행된다. 또한, 사회 구성 요소들은 상호 밀접한 관련성이 있기 때문에 어느 한 영역의 변화는 다른 영역의 변화를 일으키거나 촉진하는 경우가 많다.
- 02** 산업화 이후 대량 생산과 대량 소비가 가능해져 물질적으로 풍요로워졌으며, 인구가 급격히 증가하였다. 또 교육 기회가 확대되고 도시화가 진행되었다. 하지만 빈부 격차, 도농 격차, 노동 문제, 환경 오염 등의 문제가 나타났다.
- 03** 정보화란 정보 통신 기술의 발달로 지식과 정보가 생활의 중심이 되는 사회로 변화하는 현상이다. 이에 따라 지식과 정보를 생산하고 활용하는 산업이 발달하고, 사람들의 다양한 요구와 개성을 반영하여 생산이 이루어지기도 한다.
- 04** 세계화란 교통과 정보 통신 기술의 발달로 사람이나 상품 등의 국가 간 교류가 늘어나면서 국가 간 상호 의존성이 높아지는 현상이다. 이 과정에서 상대적으로 영향력이 작은 집단의 고유한 문화가 소멸하기도 하고, 선진국과 개발도상국 간의 경제적 격차가 심화되기도 한다.
- 05** 우리나라는 급속한 산업화로 높은 수준의 도시화와 물질적 풍요를 이루었지만, 다양한 사회 문제도 발생하였다. 도시와 농촌 간의 격차, 지역 간 불균형, 빈부 격차의 심화 같은 불평등이 나타났다. 또 권위주의적 정부의 등장, 지역 감정의 심화, 각종 범죄와 환경 오염 등의 문제가 나타났다.



- 06 제시된 사진은 저출산·고령화의 문제를 담고 있다. 저출산 문제를 해결하려면 출산과 육아의 부담을 개인만이 아니라 사회도 함께 책임져야 한다는 인식이 중요하다. 일과 가정의 양립을 위한 어린이집 확충, 자녀 양육 및 교육 비용 등에 대한 사회적 부담도 필요하다. ①은 개발 도상국의 인구 급증 문제를 해결하기 위한 정책이다.
- 07 다문화 사회로의 변화는 노동력 부족 문제를 해결하고, 문화 발전 가능성을 높이는 데 도움을 준다. 그러나 서로 다른 문화의 충돌로 인한 갈등, 다문화 구성원에 대한 사회적 편견과 차별 등이 발생하기도 한다.
- 08 빠르고 복잡하게 변화하는 현대 사회에서는 다양한 사회 문제가 나타나고 있다. 사회 문제란 발생 원인이 사회에 있고 사회 구성원 다수가 문제라고 여기는 사회 현상 중 인간의 노력으로 해결이 가능한 것을 말한다. ⑤ 개인이 느끼는 문제 등은 사회 문제라고 할 수 없다.
- 09 사회 문제는 사회 변동이나 가치관의 변화, 사회 구조나 제도의 문제 등과 같이 그 원인이 사회 내부에 있어 인간의 노력으로 해결이 가능하다. 따라서 개인적인 문제나 자연재해 등은 사회 문제라고 할 수 없다.
- 10 인구 문제는 지역에 따라 다른 양상을 보인다. 선진국에서는 저출산으로 인구가 줄어드는 반면, 개발 도상국에서는 인구가 폭발적으로 증가하는 등 국가별로 다양한 인구 문제가 나타나고 있다. 개발 도상국은 식량 부족, 기아, 각종 시설 부족 등의 문제가 나타나고, 선진국은 노동력 부족, 사회 보장 비용 증가 등의 어려움을 겪을 수 있다.

11 임금 차별, 노사 갈등, 실업 등은 노동 문제에 해당한다. 최근 우리 사회는 노동 환경의 변화로 청년 실업, 임금 격차 등의 문제가 심각해지고 있는데, 제시문은 각종 노동 문제를 해결하기 위한 방안에 해당한다.

12 산업화 과정에서 지나친 개발과 소비 등으로 인해 발생한 환경 문제는 사막화, 열대림 파괴, 지구 온난화를 야기하고 인류의 삶을 위협하고 있다. ②는 산업화로 인해 발생하는 문제이다.

13 (1)(가) 정보화, (나) 세계화
 (2)(가) 정보화로 인해 인터넷 중독과 정보 격차가 발생할 수 있다. (나) 세계화로 인해 국가 간 빈부 격차와 불평등이 나타나며, 약소국의 문화가 파괴될 수 있다.

| 핵심 단어 | 인터넷 중독, 정보 격차, 국가 간 빈부 격차, 약소국 문화 파괴

채점 기준	구분
정보화와 세계화의 문제점을 각각 두 가지씩 서술한 경우	상
정보화와 세계화의 문제점을 각각 한 가지씩 서술한 경우	중
정보화와 세계화의 문제점 중 한 가지만 서술한 경우	하

14 다문화 구성원의 문화적 차이를 인정하고 존중하는 태도를 길러야 한다. 다문화 구성원의 권리를 보장하는 법과 제도를 마련한다.

| 핵심 단어 | 문화적 차이 인정, 법과 제도 마련

채점 기준	구분
두 가지 이상 서술한 경우	상
한 가지만 서술한 경우	하

정답과 해설

시험 대비 교재

I. 내가 사는 세계	56
II. 우리와 다른 기후, 다른 생활	58
III. 자연으로 떠나는 여행	60
IV. 다양한 세계, 다양한 문화	62
V. 지구 곳곳에서 일어나는 자연재해	64
VI. 자원을 둘러싼 경쟁과 갈등	66
VII. 개인과 사회생활	68
VIII. 문화의 이해	69
IX. 정치 생활과 민주주의	70
X. 정치 과정과 시민 참여	72
XI. 일상생활과 법	74
XII. 사회 변동과 사회 문제	75



I | 내가 사는 세계

실전 대비 체크 p. 3~6

01 ③	02 ③	03 ④	04 ②	05 ④
06 ⑤	07 ③	08 ④	09 ①	10 ②
11 ②	12 ⑤	13 ⑤	14 ②	15 ④
16 ⑤	17 ④	18 ①	19 ⑤	20 ⑤
21 ③	22 ①	23 해설 참조	24 해설 참조	

- 01** 지도는 실제 모습을 축소하여 나타내기 때문에 축척이 필요하다. 따라서 축척을 알면 지도상에 두 지점 간의 실제 거리를 알 수 있다. 기호는 지표면의 여러 현상을 지도에 간단하게 표현할 수 있도록 해 준다. 방위를 표현하는 기호를 사용하기도 하며, 방위 기호가 없을 때는 지도의 위쪽이 북쪽이다.
- 02** 지도는 중국의 자연환경을 나타낸 것이다. 지도를 보면 중국 서부에는 사막, 고원, 높은 산지 등이 주로 분포하며, 중국 동부에는 평야, 하천 등이 주로 분포함을 알 수 있다. 중국 서부 지역이 동부 지역보다 평균 해발 고도가 높으며, 티베트고원은 평균 해발 고도가 2,000m 이상이다.

선택지 바로 보기

- ㄱ. 대규모 하천은 주로 동쪽에서 서쪽으로 흐른다. (x)
- ✔ 대규모 하천은 주로 서쪽에서 동쪽으로 흐른다.
- ㄴ. 서부 지역이 동부 지역보다 평균 해발 고도가 높다. (o)
- ㄷ. 티베트고원은 평균 해발 고도가 2,000m 이상이다. (o)
- ㄹ. 타카라마간사막은 히말라야산맥의 남쪽에 위치한다. (x)
- ✔ 타카라마간사막은 히말라야산맥의 북쪽에 위치한다.

- 03** 지도를 보면 석유의 이동을 나타낸 화살표가 서남아시아에서 세계 여러 지역으로 굵게 뻗어 나가고 있음을 알 수 있다. 이는 석유의 생산이 서남아시아에 집중되어 있고 석유의 국제적 이동이 많음을 의미한다. 또한 막대그래프를 통해 석유의 생산은 사우디아라비아에서 가장 많고 석유의 소비는 미국에서 가장 많음을 알 수 있다. 사우디아라비아는 석유의 생산뿐만 아니라 수출도 가장 많다.

선택지 바로 보기

- ① 미국은 석유 생산량이 소비량보다 많다. (x)
- ✔ 미국은 석유 생산량(567)이 소비량(852)보다 적다.
- ② 중국은 러시아보다 석유 생산량이 많다. (x)
- ✔ 중국은 러시아보다 석유 생산량(중국 215, 러시아 541)이 적다.
- ③ 대한민국은 인도보다 석유 소비량이 많다. (x)
- ✔ 대한민국은 인도보다 석유 소비량(대한민국 114, 인도 196)이 적다.
- ④ 사우디아라비아에서 석유를 가장 많이 수출한다. (o)
- ⑤ 석유는 주로 동아시아에서 서남아시아로 이동한다. (x)
- ✔ 석유는 주로 서남아시아에서 동아시아로 이동한다.

- 04** 지도는 세계의 국가별 인구 분포를 나타낸 것이다. 지도에서 인구가 가장 많은 대륙은 중국과 인도, 인도네시아를 포함한

- 아시아이다. 미국은 캐나다보다 면적이 넓게 표현된 것으로 보아 캐나다보다 인구가 많음을 알 수 있다. 대한민국은 인도네시아보다 면적이 좁게 표현된 것으로 보아 인도네시아보다 인구가 적음을 알 수 있다. 오세아니아는 아프리카보다 면적이 좁게 표현된 것으로 보아 아프리카보다 인구가 적음을 알 수 있다. 미국은 남아메리카가 아닌 북아메리카에 위치한 국가이다.
- 05** 지도는 세계의 1인당 국내 총생산을 나타낸 것이다. 영국은 1인당 국내 총생산이 25,000달러 이상으로 인도의 500~2,500달러보다 많다. 미국은 1인당 국내 총생산이 25,000달러 이상이며, 유럽은 아프리카보다 대체로 1인당 국내 총생산이 많다. 1인당 국내 총생산이 2,500달러 미만인 국가가 가장 많은 대륙은 아프리카이다.
- 06** 각종 통계 정보를 점, 선, 면, 색 등 다양한 표현 방법으로 나타낸 지도를 통계 지도라고 한다. 통계 지도는 여러 지역의 복잡한 지리 정보를 파악하고 비교하는 데 활용된다.
- 07** 우리 도시의 각 동별 평균 땅값을 통계 지도로 나타낼 때는 각 동별 평균 땅값을 행정 구역의 각 단계에 맞는 음영이나 색을 활용하여 표현할 수 있다. 쌀과 밀의 국제 이동을 통계 지도로 나타낼 때는 화살표의 방향과 굵기로 쌀과 밀의 이동 경로와 이동량을 표현할 수 있다. 우리 도시의 학교 분포는 점을 이용하고, 한라산의 해발 고도는 등고선을 이용하여 표현할 수 있다.
- 08** 제시된 자료를 통해 우리나라의 위치를 보면 우리나라는 태평양과 인접해 있으며 아시아 대륙의 동쪽에 위치한다. 동쪽으로 바다를 건너 일본이 위치하며, 서쪽으로 바다를 건너 중국이 위치한다. 북쪽으로는 중국, 러시아와 국경을 접하고 있다. 수도인 서울은 북위 37°, 동경 127°에 위치한다.
- 09** 자료에 표시된 A는 적도, B는 위선, C는 본초 자오선, D는 경선이다. A(적도)는 위도 0°에 해당하며 위선의 범위는 0°~90°까지이다. 동쪽 지역과 서쪽 지역의 날짜를 달라지게 하는 선은 C(본초 자오선)가 아닌 날짜 변경선이다. 어떤 지역의 경선을 알면 그 지역의 표준시를 예측할 수 있다.
- 10** 경도 차이에 따라 표준 시간대가 달라진다. 키리바시는 세계에서 해돋이를 가장 먼저 볼 수 있다는 것을 활용하여 관광 산업을 발달시켰다. 미국 서부와 인도는 약 13시간의 시차를 활용하여 24시간 내내 연속해서 컴퓨터 프로그램을 개발한다. 이는 모두 경도에 따라 표준시가 다름을 산업에 활용한 사례이다. 오스트레일리아에서 12월~2월에 해수욕을 즐기려는 해외 관광객이 몰려들고, 뉴질랜드의 키위 회사에서 우리나라 제주도에 직접 농장을 운영하는 것은 위도 차이를 산업에 활용한 사례이다.
- 11** 세계의 시차가 나타난 지도를 보면 영국은 프랑스보다 시차

가 한 시간 늦음을 알 수 있다. 중국은 여러 개의 표준 경선이 지나는 국가이지만, 수도 베이징이 사용하는 한 개의 표준시를 사용한다. 우리나라는 몽골보다 표준시가 빠르며, 일본과는 표준시가 같다. 세계에서 가장 여러 개의 표준시를 사용하는 국가는 러시아이다.

선택지 바로 보기

- ① 영국과 프랑스는 표준시가 같다. (X)
 영국과 프랑스는 표준시가 다르다.
- ② 중국은 하나의 표준시만을 사용한다. (O)
- ③ 우리나라는 몽골보다 표준시가 늦다. (X)
 우리나라는 몽골보다 표준시가 빠르다.
- ④ 우리나라와 일본은 사용하는 표준시가 다르다. (X)
 우리나라와 일본은 사용하는 표준시가 같다.
- ⑤ 미국은 세계에서 가장 여러 개의 표준시를 사용한다. (X)
 러시아는 세계에서 가장 여러 개의 표준시를 사용한다.

12 인도 벵갈루루와 미국 서부는 약 13시간의 시차가 발생하기 때문에 이를 활용하여 24시간 동안 컴퓨터 프로그램을 개발할 수 있다. 우리나라도 이와 같이 시차를 활용하려면 우리나라와 약 12시간의 시차가 발생하는 리우데자네이루가 적절할 것이다.

13 미국의 로스앤젤레스는 우리나라보다 표준시가 17시간 늦다. 따라서 우리나라가 1월 10일 19시(오후 7시)일 때, 로스앤젤레스는 19시에서 17시간을 뺀 1월 10일 2시(오전 2시)이다.

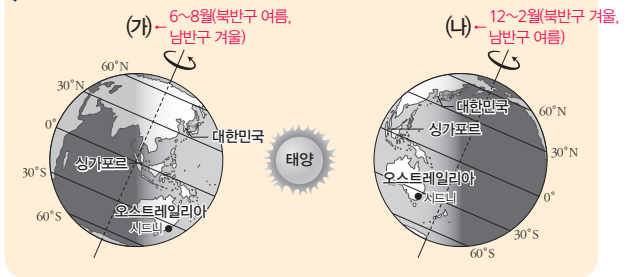
선택지 바로 보기

- ① 도쿄 - 1월 10일 오후 8시 (X)
 도쿄는 우리나라와 표준시가 같으므로 1월 10일 오후 7시이다.
- ② 뉴욕 - 1월 11일 오전 9시 (X)
 뉴욕은 우리나라보다 표준시가 14시간 늦으므로 1월 10일 오전 5시이다.
- ③ 파리 - 1월 11일 오전 7시 (X)
 파리는 우리나라보다 표준시가 8시간 늦으므로 1월 10일 오전 11시이다.
- ④ 베이징 - 1월 10일 오후 7시 (X)
 베이징은 우리나라보다 표준시가 1시간 늦으므로 1월 10일 오후 6시이다.
- ⑤ 로스앤젤레스 - 1월 10일 오전 2시 (O)

14 등근 지표면에 도달하는 태양 에너지 양은 위도에 따라 다르다. 햇빛이 수직에 가까운 적도 부근은 연중 기온이 높고, 고위도 지방으로 갈수록 태양 에너지를 적게 받는다. 또한 중위도 지역에서는 북반구와 남반구의 계절이 반대로 나타난다. 그 이유는 지구가 23.5° 기울어진 상태로 공전하기 때문이다.

15 자료의 (가) 시기는 북반구에서 여름이 나타나는 6~8월이고, (나) 시기는 북반구에서 겨울이 나타나는 12~2월이다. 12~2월인 (나) 시기에 오스트레일리아의 시드니는 여름이다. 따라서 시드니에서 수영복을 입고 해수욕을 즐기는 모습을 볼 수 있다.

문제 자료 분석하기 북반구와 남반구의 계절 차이



선택지 바로 보기

- ① (가) 시기에 싱가포르에서는 백야 현상을 볼 수 있다. (X)
 (가) 시기에 북반구의 극지방에서는 백야 현상을 볼 수 있다.
- ② (가) 시기에 대한민국에서는 화이트 크리스마스를 즐긴다. (X)
 (나) 시기에 대한민국에서는 화이트 크리스마스를 즐긴다.
- ③ (나) 시기에 대한민국에서는 낮이 밤보다 길다. (X)
 (나) 시기에 대한민국에서는 밤이 낮보다 길다.
- ④ (나) 시기에 시드니에서는 수영복을 입고 해수욕을 즐긴다. (O)
- ⑤ 시드니에서는 (가) 시기에 여름, (나) 시기에 겨울이다. (X)
 시드니에서는 (가) 시기에 겨울, (나) 시기에 여름이다.

16 1~2월의 평균 기온이 20℃~30℃이며, 서핑과 수영, 보트 타기 등의 다양한 해양 스포츠를 즐길 수 있는 지역은 남반구의 오스트레일리아이다. 중국, 러시아, 캐나다, 프랑스는 북반구에 위치하여 1~2월에 겨울에 해당한다.

17 지도에 표시된 A는 영국, B는 마다가스카르, C는 보르네오섬, D는 뉴질랜드, E는 쿠바이다. A의 영국이 여름일 때 D의 뉴질랜드는 겨울이다. C의 보르네오섬은 A의 영국보다 연평균 기온이 높다. D의 뉴질랜드는 동경에 위치하여 서경에 위치한 E의 쿠바보다 표준시가 빠르다. 6~8월에 북반구의 극지방에서 백야 현상이, 남반구의 극지방에서는 극야 현상이 나타난다. 12~2월에는 백야 현상과 극야 현상이 반대로 나타난다. B의 마다가스카르는 7월에 겨울이다.

18 인터넷 전자 지도는 종이 지도에 비해 지도의 축소와 확대가 쉽고 지리 정보의 추가 및 수정이 용이하다. 또한 두 지점 간의 거리가 자동으로 계산되며 사진, 위성 영상 등의 추가 정보를 얻기 쉽다.

19 위성 위치 확인 시스템(GPS)과 위치 기반 서비스를 활용하면 길을 걸으면서 주변 지역의 맛집 정보를 얻거나 달리기를 하면서 실시간으로 달려간 거리를 파악하는 것이 가능하다. 또한 내비게이션을 통해 최단 시간으로 운전을 할 수 있으며 위치 정보 조회 서비스를 활용할 수 있다. ⑤ 인터넷을 통해 날씨 애플리케이션으로 우리나라 전국의 내일 날씨를 검색하는 것은 위성 위치 확인 시스템과 위치 기반 서비스를 통해 제공된다고 보기 어렵다.

20 (가) 인공위성을 활용하여 사용자의 위치를 경위도 좌표로 알려주는 시스템을 위성 위치 확인 시스템(GPS)이라고 한다.



(나) 지리 정보를 컴퓨터에 입력·저장하고 다양한 방법으로 분석·종합하여 사용자에게 제공하는 종합적인 관리 체계를 지리 정보 시스템(GIS)이라고 한다. 원격 탐사는 관측 대상과 접촉 없이 멀리서 정보를 얻는 방법이다.

21 지리 정보 시스템(GIS)은 지리 정보를 컴퓨터에 입력·저장하고 다양한 방법으로 분석·종합하여 사용자에게 제공하는 종합적인 관리 체계를 말한다. 지리 정보 시스템(GIS)은 국토 및 도시 계획, 시설 관리, 자연재해 예방 및 대책 수립 등에 널리 이용된다. 그리고 최근에는 지리 정보 수집 과정에서 누리꾼들의 쌍방향 참여가 늘어나고 있다.

선택지 바로 보기

- ㄱ. 지리 정보의 수집 및 입력이 불가능하다. (X)
- ㉠ 컴퓨터를 통해 지리 정보를 관리하여 지리 정보의 수집 및 입력이 상대적으로 용이하다.
- ㄴ. 국토 및 도시 계획, 시설 관리, 자연재해 대책 등에 널리 이용된다. (O)
- ㄷ. 지리 정보 수집 과정에서 누리꾼들의 쌍방향 참여가 늘어나고 있다. (O)
- ㄹ. 전문가 수준에서 활발히 이루어지나 일상생활에서는 활용이 어렵다. (X)
- ㉡ 지리 정보 시스템(GIS)은 일상생활에서도 사용 범위가 넓어지고 있다.

22 <조건>에 맞추어 피자 가게를 개점하고자 한다. 첫 번째 조건으로 해당 구역 안에 400명 이상의 인구가 거주해야 하므로 C와 D는 제외된다. 두 번째 조건으로 해당 구역 안에는 기존 피자 가게가 없어야 하므로 C는 제외된다. 마지막으로 월 임대료가 120만 원 미만이어야 하므로 B, C, E는 제외된다. 따라서 조건에 부합하는 곳은 지도의 A이다.

23 북반구와 남반구는 계절이 정반대로 나타난다. 그래서 남반구에 위치한 오스트레일리아는 밀 수확 시기가 북반구의 국가들과 달라 밀을 높은 가격에 수출하는 데 유리하다.

핵심 단어 | 계절, 반대, 수확 시기

채점 기준	구분
북반구와 남반구의 기후 특징을 쓰고, 이를 이용한 사례를 바르게 서술한 경우	상
북반구와 남반구의 기후 특징을 쓰고, 이를 이용한 사례를 서술하였으나 미흡한 경우	중
북반구와 남반구의 기후 특징과 이를 이용한 사례 중 한 가지만 서술한 경우	하

24 내비게이션을 이용한 길 찾기, 버스 도착 정보, 스마트폰을 이용한 맛집 검색 등이 있다.

핵심 단어 | 내비게이션, 버스 도착 정보, 스마트폰

채점 기준	구분
지리 정보 기술의 활용 사례를 세 가지 모두 바르게 서술한 경우	상
지리 정보 기술의 활용 사례를 두 가지만 서술한 경우	중
지리 정보 기술의 활용 사례를 한 가지만 서술한 경우	하

II | 우리와 다른 기후, 다른 생활

실전 대비 체크

p. 8~11

01 ⑤	02 ④	03 ③	04 ④	05 ⑤
06 ④	07 ④	08 ⑤	09 ③	10 ④
11 ③	12 ①	13 ②	14 ③	15 ⑤
16 ①	17 ④	18 ②	19 ⑤	20 ②
21 ②	22 해설 참조	23 해설 참조	24 해설 참조	

01 A는 열대 기후, B는 건조 기후, C는 온대 기후, D는 냉대 기후, E는 한대 기후이다. 한대 기후(E)는 극지방과 가까운 곳에 위치하며, 가장 따뜻한 달의 평균 기온이 10℃ 미만이고 강수량이 매우 적어 나무가 자라지 못한다.

선택지 바로 보기

- ① A - 침엽수림이 넓게 펼쳐져 있다. (X)
- ㉠ D(냉대 기후) - 침엽수림이 넓게 펼쳐져 있다.
- ② B - 온난하고 강수량이 적당하여 농업에 유리하다. (X)
- ㉡ C(온대 기후) - 온난하고 강수량이 적당하여 농업에 유리하다.
- ③ C - 다양한 종류의 크고 작은 나무들이 뾰뾰한 밀림을 이루고 있다. (X)
- ㉢ A(열대 기후) - 다양한 종류의 크고 작은 나무들이 뾰뾰한 밀림을 이루고 있다.
- ④ D - 남·북위 20°~30°에 위치하고 강수량보다 증발량이 많다. (X)
- ㉣ B(건조 기후) - 남·북위 20°~30°에 위치하고 강수량보다 증발량이 많다.
- ⑤ E - 가장 따뜻한 달에도 평균 기온이 10℃를 넘지 않아 나무가 자라기 어렵다. (O)

02 냉대 기후(D)는 여름은 짧고 겨울이 춥고 길어 연교차가 크며, 타이가라고 불리는 침엽수림이 분포한다. A는 열대 기후, B는 건조 기후, C는 온대 기후, E는 한대 기후이다.

03 남·북위 20°~30° 일대에 분포하고 연 강수량이 500mm 미만이며, 강수량보다 증발량이 많은 기후는 건조 기후(③)이다. ①은 냉대 기후, ②는 한대 기후, ④는 온대 기후, ⑤는 고산 기후 지역의 기후 그래프이다.

04 A는 키토, B는 벨렝이다. 키토는 적도 부근의 고산 지역에 위치하여 고산 기후가 나타나고, 벨렝은 적도 부근의 저지대에 위치하여 열대 기후가 나타난다.

05 A는 키토, B는 벨렝이다. 키토와 벨렝은 모두 적도 부근에 위치하지만 벨렝은 저지대에 있어 열대 기후가 나타나고, 키토는 해발 고도가 높은 곳에 있어 고산 기후가 나타난다.

06 (가)는 열대 기후, (나)는 냉대 기후이다. 열대 기후는 주로 적도 부근에 분포하고, 열대 기후 중 강수량이 많은 곳에서는 밀림이 형성된다. 열대 기후 지역에서는 가옥을 지을 때 통풍을 위해 벽을 얇게 하고, 창문을 크게 만든다. 냉대 기후는 온대 기후보다 높은 위도에 분포하고, 겨울이 길고 추우며 기

온의 연교차가 크다. 이곳에는 타이가라고 불리는 침엽수림이 넓게 분포한다.

- 07 온대 및 냉대 기후 지역은 온화하고 강수량이 적당하여 농업에 유리하고, 적도 부근의 고산 기후 지역은 비슷한 위도의 저지대에 비해 서늘하여 인간 거주에 유리한 지역이다.
- 08 열대 우림 기후는 가장 추운 달의 평균 기온이 18℃를 넘는다.

선택지 바로 보기

- ① 기온의 연교차가 크다. (X)
- ▶ 기온의 연교차가 적다.
- ② 스텝의 영향으로 기후가 온화하다. (X)
- ▶ 스텝의 영향으로 습하다.
- ③ 남·북위 20°~40° 일대에 나타난다. (X)
- ▶ 적도 부근에 나타난다.
- ④ 일 년 내내 봄과 같은 날씨가 나타난다. (X)
- ▶ 고산 기후 지역의 특징이다.
- ⑤ 가장 추운 달의 평균 기온이 18℃ 이상이다. (O)

- 09 아마존강 유역의 열대 우림이다. 열대 우림은 아마존강 유역, 수마트라섬 등 열대 우림 기후 지역에서 나타나는 식생으로, 다양한 종류의 크고 작은 나무들이 빽빽하게 형성되어 있다. 열대 우림은 다양한 동식물의 서식지로 생태계의 보고라고 불리며, 이산화 탄소를 흡수하고 산소를 공급하여 온실 효과를 억제하는 기능을 한다. ③ 열대 우림의 하층부에는 키가 큰 나무들 때문에 햇빛이 잘 들지 않아 키가 작은 나무들과 덩굴들이 자란다.
- 10 열대 우림 기후 지역에서는 덥고 습한 날씨 때문에 지면의 열기와 습기, 해충이나 짐승 등의 침입을 방지하기 위해 고상 가옥을 지어 생활한다.
- 11 이동식 화전 농업에 대한 그림이다. 열대 우림 기후 지역에서는 밀림이 우거져 있어 경지를 개간하기 쉽지 않다. 따라서 밀림의 나무를 태운 뒤 경지를 만들어 농사를 짓고, 토양이 척박해지면 다른 곳으로 이동하여 농사를 짓는다. 이를 통해 카사바, 양, 옥수수 등을 재배한다. ㄱ, ㄴ은 플랜테이션 농업에 대한 내용이다.
- 12 열대 우림 기후 지역에서는 음식의 부패를 막기 위해 조리할 때 향신료를 많이 넣으며, 일 년 내내 고온 다습하기 때문에 통풍이 잘되는 단순한 형태의 옷을 입는다. 또한 바람을 잘 통하도록 하기 위해 창문을 크게 만들고 벽은 얇게 한다. 최근에는 도시 건설, 자원 개발 등으로 인해 밀림(열대 우림)이 파괴되고 있다. ①은 툰드라 기후에 대한 내용이다.
- 13 (가)는 대륙 동안에 분포하며 계절풍의 영향을 받는 온대 계절풍 기후(서울), (나)는 대륙 서안에 분포하고, 편서풍과 난류의 영향을 받는 서안 해양성 기후(런던)이다. 온대 계절풍 기후는 서안 해양성 기후보다 겨울의 기온이 낮고, 기온의 연교

차가 크다. ② 서안 해양성 기후는 여름에 서늘하고 겨울에 따뜻하다.

- 14 서안 해양성 기후 지역은 편서풍과 난류의 영향을 받아 기온의 연교차가 작고, 강수량이 일 년 내내 고른 편이다. 이 기후 지역은 영국, 독일, 프랑스 등 서부 유럽, 북아메리카의 북서해안, 뉴질랜드 등지에 분포한다. ㄱ은 건조 기후, ㄴ은 지중해성 기후에 대한 내용이다.
- 15 지중해성 기후 지역에서는 여름철에 기온이 높고 건조하여 이러한 날씨를 잘 견디는 올리브, 포도, 올리브 등을 재배하는 수목 농업이 이루어진다. 또한 강한 햇빛을 막기 위해 가옥의 외벽을 흰색으로 칠한다. ① 지중해성 기후 지역은 우리나라보다 여름 강수량이 적다. ②, ④는 서안 해양성 기후, ③은 냉대 기후의 특징이다.
- 16 건조 기후 지역은 연 강수량이 500mm 미만인 지역으로 비가 적게 내려 나무가 자라기 어려우며, 연교차보다 일교차가 크다. 건조 기후는 연 강수량이 250mm 미만인 사막 기후와 250~500mm인 스텝 기후로 구분되는데, 이 중 사막은 주로 남·북회귀선 부근에 분포한다. ① 건조 기후는 강수량보다 증발량이 많아 건조하다.
- 17 건조 기후 지역에서는 주변에서 구하기 쉬운 흙을 이용하여 흙집, 흙벽돌집을 짓는다. ①, ②는 열대 우림 기후, ⑤는 서안 해양성 기후에 대한 내용이다. ③ 사막 기후 지역에서는 오아시스 주변에서 대추야자, 목화, 밀 등을 재배한다.
- 18 사막 기후 지역에서는 큰 일교차에 대비하여 벽은 두껍게 하고 창문은 작게 만들며, 건물 간 간격을 좁게 하여 그늘을 만든다. ㄴ, ㄴ은 열대 우림 기후 지역에 대한 내용이다.
- 19 (가)는 사막 기후, (나)는 스텝 기후이다. 스텝 기후 지역의 유목민들은 가축의 털, 가죽을 이용하여 옷을 만들어 입으며, 최근 사막 기후 지역에서는 물이 부족한 환경을 극복하기 위해 관개 시설을 설치하기도 한다. ㄱ은 툰드라 기후에 대한 내용이다. ㄴ, (나)는 연 강수량이 250~500mm이다.
- 20 툰드라 기후 지역은 가장 따뜻한 달의 평균 기온이 10℃ 미만으로 기온이 매우 낮아 나무가 자라기 어렵다.

선택지 바로 보기

- ① 강수량이 적어 지표가 건조한 편이다. (X)
- ▶ 증발량이 적어 지표가 습윤한 편이다.
- ② 연중 기온이 낮아 농작물 재배가 어렵다. (O)
- ③ 기온이 0℃ 이상으로 올라가는 시기가 없다. (X)
- ▶ 기온이 0℃ 이상으로 올라가는 시기가 2~3개월 정도이다.
- ④ 짧은 여름 동안 영구 동토층이 녹아 습지를 만든다. (X)
- ▶ 영구 동토층은 항상 얼어 있는 토양층이며, 기온이 영상으로 오르는 여름철에는 땅의 표면이 녹으면서 땅속으로 스며들지 못한 물이 습지를 만든다.
- ⑤ 겨울철에는 지표면에 짧은 풀이나 이끼 등이 자란다. (X)
- ▶ 여름철에는 지표면에 짧은 풀이나 이끼 등이 자란다.



21 툰드라 기후 지역에서는 여름철에 해가 지지 않는 백야 현상이 나타나고, 짧은 여름철에 이끼를 찾아 이동하며 순록을 유목한다. 나. 채소를 키우기 어려워 육식 위주의 생활을 하고, 르. 기온이 매우 낮아 농업 활동이 불가능하다.

22 (1) 열대 우림 기후
(2) 열대 우림 기후 지역에서는 덥고 습한 날씨가 지속되어 음식이 쉽게 상하는 것을 막기 위해 음식을 조리할 때 기름에 튀기거나 향신료를 많이 사용한다.

| 핵심 단어 | 열대 우림 기후, 기름, 향신료

채점 기준	구분
열대 우림 기후를 쓰고, 이 기후 지역의 식생활 모습과 그러한 모습이 나타나는 이유를 바르게 서술한 경우	상
열대 우림 기후를 쓰고, 이 기후 지역의 식생활 모습만 서술한 경우	중
열대 우림 기후만 쓴 경우	하

23 낮에는 강한 햇빛과 모래바람으로부터 피부를 보호하고, 밤에는 체온을 유지하기 위해 온몸을 감싸는 헐렁한 옷을 입는다.

| 핵심 단어 | 강한 햇빛, 모래바람, 온몸을 감싸는 헐렁한 옷

채점 기준	구분
사막 기후 지역의 의복 특징을 강한 햇빛과 모래바람을 막기 위한다는 내용을 포함하여 서술한 경우	상
사막 기후 지역의 의복 특징을 서술하였으나 미흡한 경우	하

24 (1) 툰드라 기후
(2) 여름철에 지표면이 녹아 토양층이 움직일 때 파이프라인이 손상되는 것을 막기 위해 지표에서 어느 정도 띄워 설치한다.

| 핵심 단어 | 툰드라 기후, 여름철, 토양층, 파이프라인

채점 기준	구분
툰드라 기후를 쓰고, 파이프라인을 지표면에서 띄워 짓는 이유를 여름철 토양층이 녹는다는 내용을 포함하여 바르게 서술한 경우	상
툰드라 기후를 쓰고, 파이프라인을 지표면에서 띄워 짓는 이유를 서술하였으나 미흡한 경우	중
툰드라 기후만 쓴 경우	하

III | 자연으로 떠나는 여행

실전 대비 체크

p. 13~16

01 ⑤	02 ②	03 ③	04 ③	05 ④
06 ③	07 ①	08 ②	09 ③	10 ②
11 ⑤	12 ①	13 ①	14 ④	15 ③
16 ②	17 ③	18 ②	19 ①	20 ①
21 ④	22 ③	23 ⑤	24 ③	25 해설 참조
26 해설 참조	27 해설 참조			

01 지구 외부의 힘은 침식·운반·퇴적·풍화 작용으로 하천, 해안, 빙하, 카르스트 지형 등을 형성한다. 가. 습곡과 나. 용기는 지구 내부의 힘에 해당한다.

02 ①은 고기 습곡 산지, ③은 신기 습곡 산지, ④는 고원, ⑤는 화산에 관한 설명이다.

선택지 바로 보기

- ① 신기 습곡 산지는 해발 고도가 낮고 완만하다. (X)
- ↪ 고기 습곡 산지는 해발 고도가 낮고 완만하다.
- ② 산맥은 산이 연속적으로 이어져 산줄기를 이루는 것이다. (O)
- ③ 고기 습곡 산지는 형성 시기가 오래되지 않아 해발 고도가 높고 험준하다. (X)
- ↪ 신기 습곡 산지는 형성 시기가 오래되지 않아 해발 고도가 높고 험준하다.
- ④ 화산은 해발 고도가 높은 곳에 있지만 지형의 높낮이가 크지 않고 평탄한 곳이다. (X)
- ↪ 고원은 해발 고도가 높은 곳에 있지만 지형의 높낮이가 크지 않고 평탄한 곳이다.
- ⑤ 지각판이 충돌하는 과정에서 땅속의 마그마가 지표면으로 분출하는 곳에 고원이 만들어진다. (X)
- ↪ 지각판이 충돌하는 과정에서 땅속의 마그마가 지표면으로 분출하는 곳에 화산이 만들어진다.

03 A는 고기 습곡 산지, B는 신기 습곡 산지이다. 신기 습곡 산지는 해발 고도가 높고 험준하며, 지진이나 화산 발생 위험이 높다.

선택지 바로 보기

- 가. A는 해발 고도가 높고 험준하다. (X)
- ↪ B는 해발 고도가 높고 험준하다.
- 나. A는 형성 시기가 B보다 오래되었다. (O)
- 다. 알프스산맥, 히말라야산맥은 B에 해당한다. (O)
- 르. A는 B보다 지진이나 화산 발생 위험이 높다. (X)
- ↪ B는 A보다 지진이나 화산 발생 위험이 높다.

04 알프스 산지는 여름이 서늘하고 평야가 부족하여 농사를 짓기보다는 주로 소나 염소를 방목하거나 이목을 한다. 가축에서 얻은 우유로는 치즈, 버터, 요구르트 등을 만든다.

05 지도에 표시된 A 지역은 고산 도시로, 2,000m 이상의 고지대에 위치한다. 적도 부근의 고지대는 평지와 달리 일 년 내내 기후가 선선하여 고산 도시(A)가 발달하였다.

06 ① 파랑 에너지가 집중된 곳에서는 침식 작용이 활발하다. ② 파랑 에너지가 분산되는 만에서는 퇴적 작용이 활발하다. ④ 모래사장은 파랑의 퇴적 작용으로 형성된다. ⑤ 시 스택, 해안 절벽 등은 암석 해안에서 나타나는 지형들이다.

07 석호와 사빈은 파랑의 퇴적 작용으로 형성된다. 다. 해안 절벽과 르. 해안 동굴은 파랑의 침식 작용으로 형성된다.

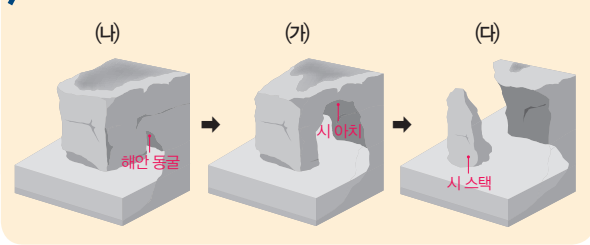
08 A는 석호, B는 사빈, C는 해안 동굴, D는 시 아치, E는 시 스택이다.

09 제시된 사진은 파랑의 침식 작용으로 형성된 오스트레일리

아의 그레이트 오션 로드이다.

- 10 파랑의 침식 작용으로 해안 절벽의 약한 부분이 뚫려 아치 모양이 형성된다. 그 후 아치의 지붕이 붕괴되고, 고립된 바위섬인 시스택이 형성된다.

문제 자료 분석하기 시스택의 형성 과정



- 11 가. 갯벌은 주로 염전이나 양식장으로 이용된다. 나. 갯벌은 미세한 흙이 퇴적되어 형성되었다.
- 12 열대 기후 지역에서는 따뜻한 수온에서 잘 자라는 산호에 의해 형성된 산호초 해안과 맹그로브 숲을 볼 수 있다.
- 13 대보초라고도 불리는 그레이트배리어리프는 세계 최대의 산호초 지대이다. 산호초는 주로 열대 기후 지역의 얕은 바다에 사는 산호가 자라서 만들어진다.
- 14 피오르는 과거 빙기에 빙하가 흘러가면서 만든 골짜기에 바닷물이 들어오면서 형성되었다.
- 15 해안은 내륙에 비해 기후가 온화하고 다른 지역과 교류하기에 편리하다.
- 16 해안 지역이 관광지로 개발되면 과도한 개발로 환경이 파괴되고, 쓰레기와 하수 처리로 인한 환경 오염 문제가 나타난다. 또한 수많은 관광객이 유입되면서 지역 주민들은 관광객들과 문화적 갈등을 겪기도 한다. 나. 관광 수익을 통한 지역 경제 발전과 다. 지역 주민의 일자리 창출 및 소득 증가는 관광 산업이 해안 지역에 미친 긍정적 영향이다.
- 17 제주도는 여러 차례의 화산 활동으로 형성되었다. 제주도 곳곳에는 소규모 화산 폭발로 만들어진 크고 작은 오름이 분포한다. 또한 한라산 정상부에는 화구호인 백록담이 있다. ③ 제주도는 현무암으로 덮여 있으며 화산 지형이 발달했다. 우리나라에서 카르스트 지형이 발달한 곳은 강원도 남부와 충청북도 일대이다.
- 18 제시된 사진은 제주도 중문·대포 해안의 주상 절리대이다. 주상 절리는 흐르던 용암이 바닷물을 만나 갑자기 식어 굳으면서 다각형의 기둥 모양으로 쪼개져 형성되었다. ①은 돌산, ③은 오름, ④는 탑 카르스트, ⑤는 용암동굴에 관한 설명이다.
- 19 우리나라의 산지는 오래전에 형성되어 침식을 많이 받아 해발 고도가 낮고 경사가 완만하며, 동쪽이 높고 서쪽으로 갈

수록 낮아지는 동고서저의 지형이 나타난다. ④는 돌산, ⑤는 흙산에 관한 내용이다.

선택지 바로 보기

- ① 산지가 전 국토의 70% 이상을 차지한다. (○)
- ② 지형의 기복이 커 대부분 높고 험준하다. (×)
- ▶ 지형의 기복이 작고 대부분 낮고 완만하다.
- ③ 서쪽으로 치우쳐 융기한 서고동저 지형이다. (×)
- ▶ 동쪽으로 치우쳐 융기한 동고서저 지형이다.
- ④ 화강암이 기반암을 이루는 흙산은 기암괴석이 절경을 이룬다. (×)
- ▶ 화강암이 기반암을 이루는 돌산은 기암괴석이 절경을 이룬다.
- ⑤ 돌산은 오랫동안 풍화와 침식을 받으면서 봉우리가 토양으로 두껍게 덮였다. (×)
- ▶ 흙산은 오랫동안 풍화와 침식을 받으면서 봉우리가 토양으로 두껍게 덮였다.

- 20 대부분의 큰 하천은 동쪽의 산지에서 시작하여 황·남해로 흘러들어 간다. 하천은 산지 사이를 흐르면서 깊은 계곡과 경사가 급격하게 변하는 곳에 폭포를 만들기도 한다.

선택지 바로 보기

- ① 주요 하천은 대부분 황해나 남해로 흐른다. (○)
- ② 대부분의 큰 하천은 동해로 흘러들어 간다. (×)
- ▶ 대부분의 큰 하천은 황·남해로 흘러들어 간다.
- ③ 황해와 남해로 흐르는 하천의 규모는 작다. (×)
- ▶ 황해와 남해로 흐르는 하천의 규모는 크다.
- ④ 하천은 하류 지역에 계곡과 폭포를 만든다. (×)
- ▶ 하천은 상류 지역에 계곡과 폭포를 만든다.
- ⑤ 황해로 흘러드는 하천은 유량이 적어 평야가 발달하지 못하였다. (×)
- ▶ 황해로 흘러드는 하천은 유량이 풍부하고 경사가 완만하여 평야가 발달하였다.

- 21 우리나라는 동쪽에 높은 산지가 많아 대부분의 큰 하천이 동쪽에서 서쪽으로 흐른다.

선택지 바로 보기

- ① 남서부 지역에는 높은 산지가 나타난다. (×)
- ▶ 북동부 지역에는 높은 산지가 나타난다.
- ② 큰 하천은 주로 서쪽에서 동쪽으로 흐른다. (×)
- ▶ 큰 하천은 주로 동쪽에서 서쪽으로 흐른다.
- ③ 대부분 산지는 고도가 높고 경사가 급하다. (×)
- ▶ 대부분 산지는 고도가 낮고 경사가 완만하다.
- ④ 동쪽으로 치우쳐 융기한 동고서저 지형이다. (○)
- ⑤ 동해로 흘러드는 하천 주변에는 넓은 평야가 발달하였다. (×)
- ▶ 황해로 흘러드는 하천 주변에는 넓은 평야가 발달하였다.

- 22 우리나라는 삼면이 바다로 둘러싸여 있어 다양한 해안 지형이 나타난다. 동해안은 해안선이 단조롭고, 파랑의 퇴적 작용으로 사빈, 석호 등이 발달하였다. 서해안은 해안선의 드나들이 복잡하고 조차가 커서 갯벌이 넓게 발달하였다. 남해안은 크고 작은 섬이 많이 분포한다.

- 23 서·남해안은 바닷물의 깊이가 얇고, 해안선이 복잡하다. 밀물과 썰물의 차가 커서 갯벌이 발달하였다. 동해안은 바닷물의 깊이가 깊고, 해안선이 단조롭다. 밀물과 썰물의 차가 작

고, 사빈과 석호 등의 지형이 발달하였다.

24 제시된 사진의 지형은 석회암이 물에 녹으면서 형성된 석회 동굴이다. ①은 용암동굴, ⑤는 주상 절리에 관한 설명이다.

25 인도판과 유라시아판이 충돌하는 과정에서 땅이 솟아올라 만들어졌다.

| 핵심 단어 | 인도판, 유라시아판, 충돌

채점 기준	구분
히말라야산맥의 형성 과정을 바르게 서술한 경우	상
히말라야산맥의 형성 과정을 서술하였으나 미흡한 경우	하

26 우리나라의 서해안은 수심이 얕고 해안선이 복잡하다. 반면, 동해안은 수심이 깊고 해안선이 단조롭다.

| 핵심 단어 | 얕다, 복잡하다, 깊다, 단조롭다

채점 기준	구분
우리나라 서해안과 동해안의 특징을 수심과 해안선 측면에서 바르게 서술한 경우	상
우리나라 서해안과 동해안의 특징을 수심과 해안선 측면에서 서술하였으나 미흡한 경우	중
우리나라 서해안과 동해안의 특징을 수심과 해안선 측면 중 한 가지만 서술한 경우	하

27 갯벌은 과랑이 약하고 밀물과 썰물의 차가 크며, 지형이 평탄한 해안에서 잘 형성된다.

| 핵심 단어 | 파랑, 밀물, 썰물, 평탄

채점 기준	구분
갯벌이 발달하는 해안의 조건을 바르게 서술한 경우	상
갯벌이 발달하는 해안의 조건을 서술하였으나 미흡한 경우	하

IV | 다양한 세계, 다양한 문화

실전 대비 체크

p. 18~21

- | | | | | |
|-------------|-------------|-------------|-----------------|-----------------|
| 01 ⑤ | 02 ① | 03 ② | 04 ④ | 05 ④ |
| 06 ⑤ | 07 ② | 08 ③ | 09 ① | 10 ① |
| 11 ② | 12 ③ | 13 ③ | 14 ② | 15 ④ |
| 16 ⑤ | 17 ④ | 18 ① | 19 ① | 20 ⑤ |
| 21 ④ | 22 ③ | 23 ② | 24 해설 참조 | 25 해설 참조 |
- 26** 해설 참조

01 문화는 인간과 환경이 상호 작용하는 과정에서 형성된 의식주, 종교, 언어 등의 공통된 생활 양식이다.

02 교통·통신이 발달하고 새로운 문화에 대한 인식이 변화함에 따라 세계 각 지역의 문화는 다른 지역의 문화와 더 많은 영향을 주고받으며 변화하고 발달한다.

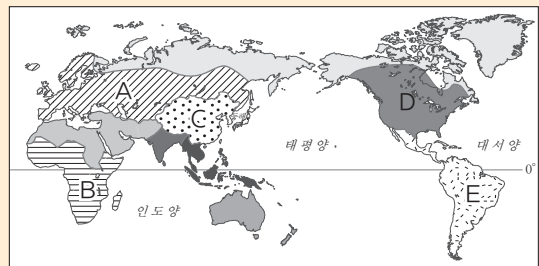
03 문화 지역은 문화권이라고도 하며, 의식주, 언어, 종교, 민족 등 다양한 기준으로 구분이 가능하다. 이에 따라 한 지역이 여러 개의 문화 지역에 포함되기도 한다. ② 문화 지역은 고정된 것이 아니라 구분 기준에 따라 달라질 수 있다.

04 건조 문화 지역에서는 주민 대부분이 주로 유목 생활을 하며, 이슬람교를 믿는다. 유럽 문화 지역에서는 크리스트교 문화가 발달했으며, 일찍 산업화가 이루어졌다. 동아시아 문화 지역에서는 유교, 불교, 한자, 젓가락 문화 등의 공통점이 나타난다. 앵글로아메리카 문화 지역에서는 주로 영어를 사용하며, 다양한 인종이 공존한다. ④는 라틴 아메리카 문화 지역에 대한 설명이다. 동남아시아 문화 지역에서는 주로 벼 농사를 하며, 인도 및 중국의 영향을 많이 받았다.

05 앵글로아메리카는 북부 유럽 및 서부 유럽, 라틴 아메리카는 남부 유럽의 식민 지배를 받아 두 지역에 유럽 문화가 전파되었다.

06 제시된 내용은 라틴 아메리카 문화 지역에 관한 설명이다. A는 유럽 문화 지역, B는 아프리카 문화 지역, C는 동아시아 문화 지역, D는 앵글로아메리카 문화 지역, E는 라틴 아메리카 문화 지역이다.

문제 자료 분석하기 세계의 문화 지역



- A(유럽 문화 지역): 크리스트교, 일찍 산업화
- B(아프리카 문화 지역): 유럽의 식민 지배, 원시 종교, 부족 중심 생활
- C(동아시아 문화 지역): 유교, 불교, 한자, 젓가락 문화 등
- D(앵글로아메리카 문화 지역): 산업 발달, 다양한 인종 구성, 영어, 크리스트교(개신교)
- E(라틴 아메리카 문화 지역): 남부 유럽의 영향, 에스파냐어, 포르투갈어, 크리스트교(가톨릭교), 인디오·백인·흑인·혼혈족으로 구성

07 문화 전파의 속도는 거리가 가까울수록 빨라진다. 동일한 자연환경이지만 종교, 관습 등에 따라 문화 경관이 달라지기도 한다.

08 자연환경이 비슷한 지역에서도 종교와 같은 사회적 환경에 따라 서로 다른 문화가 나타난다. 예를 들면 남부 유럽의 에스파냐와 북부 아프리카의 모로코는 둘 다 지중해성 기후 지역에 속하지만, 두 지역의 문화는 다르다. 에스파냐에서는 주민들 대부분이 가톨릭교를 믿고 돼지고기를 즐겨 먹지만, 모로코에서는 주민들 대부분이 이슬람교를 믿으며 돼지고기 먹는 것을 금기시한다.

09 문화는 기후, 지형 등 자연환경에 따라 지역마다 다르게 나타난다. 강수량이 풍부한 동남아시아 지역에서는 주로 벼농사를 짓고, 강수량이 부족한 서남아시아 지역에서는 유목이 이루어진다. 또한 추운 극지방의 주민들은 보온이 잘되는 털 옷을 입고, 더운 적도 부근 지역의 주민들은 통풍이 잘되는 옷을 입는다.

10 ①은 자연환경에 따른 문화의 지역 차에 대한 설명이다. ②, ③, ④, ⑤는 경제·사회적 환경에 따른 문화의 지역 차에 대한 설명이다.

11 A는 이슬람교 문화 지역이다. 이 지역에서는 둥근 모양의 지붕과 뾰족한 탑의 모스크를 볼 수 있다. 또한 이슬람교를 믿는 사람들은 평생에 한 번 이상 성지 순례를 하며, 하루에 다섯 번씩 메카를 향해 기도를 하는 등 코란의 의무를 생활 속에서 실천하며 살아간다. ② 불상, 사찰, 탑 등은 불교 문화 지역에서 볼 수 있다.

문제 자료 분석하기 이슬람교 문화 지역의 특징



- 둥근 지붕과 뾰족한 탑으로 이루어진 모스크
- 술과 돼지고기 금기, 할랄 식품
- 여성들은 머리를 감싼 뒤 얼굴만 내놓는 히잡 착용
- 하루에 다섯 번 메카를 향해 기도, 성지 순례 등 코란의 의무 실천

12 힌두교 문화 지역에서는 지역마다 다른 신을 모시는 사원이 있으며, 갠지스강에서 종교 의식으로 목욕을 한다.

13 16세기 초 에스파냐인들과 포르투갈인들이 라틴 아메리카에 자신들의 언어를 전파하였고, 그 결과 라틴 아메리카 사람들은 대부분 에스파냐어와 포르투갈어를 사용하게 되었다.

문제 자료 분석하기 라틴 아메리카의 언어 분포



라틴 아메리카 대부분의 지역에서는 에스파냐어를 사용하고, 포르투갈의 식민지였던 브라질은 포르투갈어를 사용한다.

14 교통과 통신의 발달로 지역 간 교류가 활발해지면서 세계 각

지역의 문화가 유사한 모습으로 변해 가는 문화의 세계화가 가속화되고 있다.

15 확산된 문화가 각 지역의 특성에 맞게 지역 문화와 조화를 이루어 합쳐지는 것을 문화 융합이라고 한다.

16 세계 대부분의 지역에서 판매되고 있는 M사의 햄버거는 문화의 획일화에 해당한다. 각 지역의 특성을 반영한 특색 있는 메뉴는 문화 융합에 해당한다.

17 ① 전 세계 사람들이 즐겨 마시는 콜라, ② 전 세계인의 사랑을 받고 있는 청바지, ③ 세계 곳곳에서 소비되고 있는 햄버거, ⑤ 유동 인구가 많은 지역에서 흔히 볼 수 있는 다국적 기업의 간판(커피)은 문화의 획일화 사례에 해당한다.

18 싱가포르의 말레이계, 영국계, 인도계, 중국계 등의 여러 민족이 조화롭게 살고 있는 문화 공존 지역이다. 카슈미르, 카탈루냐, 벨기에, 팔레스타인은 서로 다른 문화가 갈등하고 있는 지역이다.

19 스위스와 미국은 서로 다른 문화가 공존하고 있는 지역이다. 스위스에서는 독일어, 프랑스어, 이탈리아어, 레토로망어를 공용어로 사용하고 있다. 미국에서는 원주민, 백인, 흑인, 아시아와 라틴 아메리카 이주민 등 다양한 인종과 민족이 분포하고 있다.

20 말레이시아의 플라카는 동남아시아의 해상 교통로의 중심지이며, 지리적으로 가까운 중국과 인도의 영향을 많이 받았다. 플라카에는 말레이족 외에도 중국계 화교, 인도인 등이 살고 있으며, 말레이어, 중국어, 타밀어, 영어 등 다양한 언어를 사용한다. ⑤ 말레이시아는 종교에 대한 자유가 보장되어 불교, 힌두교, 이슬람교, 크리스트교 등 다양한 종교가 평화롭게 공존하고 있다.

21 ①은 키프로스, ②는 팔레스타인, ③은 캐나다의 퀘벡주, ⑤는 스리랑카에 대한 설명이다.

22 힌두교를 믿는 인도와 이슬람교를 믿는 파키스탄은 카슈미르 지역에서 대립하고 있다.

23 서로의 차이를 인정하고 함께하고자 노력해야 하며, 소수 문화를 존중하는 태도와 자세를 가져야 한다.

선택지 바로 보기

- ㄱ. 종교의 자유를 법으로 보장한다. (○)
- ㄴ. 자신만의 문화를 고집하고 강요한다. (×)
- ㄷ. 자신만의 문화를 고집하거나 강요하지 않는다. (○)
- ㄹ. 소수 문화를 다수 문화에 동화시킨다. (×)
- ㅁ. 소수 문화를 존중하는 태도를 가진다. (○)
- ㅂ. 서로 차이를 인정하고 함께하고자 노력한다. (○)

24 (1) 동아시아 문화 지역

(2) 벼농사, 유교, 불교, 한자, 젓가락 사용 등의 공통된 특징이 나타난다.

핵심 단어 | 벼농사, 유교, 불교, 한자, 젓가락 사용

채점 기준	구분
동아시아 문화 지역을 쓰고, 동아시아 문화 지역의 공통된 특징을 두 가지 모두 바르게 서술한 경우	상
동아시아 문화 지역을 쓰고, 동아시아 문화 지역의 공통된 특징을 한 가지만 서술한 경우	중
동아시아 문화 지역만 쓴 경우	하

25 에스파냐의 영향으로 가톨릭교가 전파되는 과정에서 원주민이 이를 변형하여 자신들의 모습을 닮은 검은 머리, 갈색 피부의 성모상을 만들었다.

핵심 단어 | 에스파냐, 가톨릭교, 원주민, 변형

채점 기준	구분
멕시코의 과달루페 성모상이 검은 머리와 갈색 피부인 이유를 바르게 서술한 경우	상
멕시코의 과달루페 성모상이 검은 머리와 갈색 피부인 이유를 서술하였으나 미흡한 경우	하

26 (1) 스위스

(2) 공공 기관의 모든 문서를 네 가지 공용어로 발행하고, 언어별 인구에 비례하여 공무원을 채용한다. 또한 모든 학교에서 주로 사용하는 언어 외에 다른 언어를 하나 이상 배우도록 의무화하고 있다.

핵심 단어 | 공공 기관, 문서, 공무원 채용, 학교, 언어

채점 기준	구분
스위스를 쓰고, 다양한 언어의 평화로운 공존을 위한 스위스의 노력을 바르게 서술한 경우	상
스위스를 쓰고, 다양한 언어의 평화로운 공존을 위한 스위스의 노력을 서술하였으나 미흡한 경우	중
스위스만 쓴 경우	하

V | 지구 곳곳에서 일어나는 자연재해

실전 대비 체크

p. 23~25

01 ⑤	02 ①	03 ④	04 ④	05 ①
06 ③	07 ⑤	08 ⑤	09 ③	10 ④
11 ④	12 ④	13 ③	14 ②	15 ⑤
16 ①	17 ⑤	18 ②	19 해설 참조	20 해설 참조
21 해설 참조				

01 자연재해는 인간 생활에 피해를 주는 자연 현상으로, 기상 현상이나 지각 운동에 의해서 발생한다. 기상 현상에 의한 자연재해에는 가뭄, 홍수, 폭설, 열대 저기압 등이 있고, 지각

운동에 의한 자연재해에는 지진, 화산 활동, 지진 해일 등이 있다. ⑤ 최근에는 기상 이변으로 세계 곳곳에서 대규모의 자연재해가 자주 발생하고 있다.

02 기상 현상에 의한 자연재해에는 가뭄, 홍수, 폭설, 열대 저기압 등이 있다. 지진, 화산 활동, 지진 해일은 지각 운동에 의한 자연재해이다.

03 A는 홍수, B는 가뭄이다. 지도는 홍수(A) 피해가 심각한 지역과 가뭄(B) 피해가 심각한 지역을 표시한 것이다.

04 홍수(A)는 대하천 주변이나 저지대, 고온 다습한 계절풍의 영향을 받아 집중 호우가 내리는 지역, 열대 저기압의 영향을 받는 지역, 겨울철에 고산 지역에 쌓였던 눈이 봄철에 녹아 강으로 흘러드는 지역에서 피해가 크다. ④ 지구 내부의 힘이 전달되는 지역은 지진이 자주 발생하는 지역이다.

05 열대 저기압은 열대 지역의 해상에서 발생하는 것으로, 많은 비와 강한 바람을 동반한다. 열대 저기압은 발생 지역에 따라 부르는 이름이 다른데, 인도양, 남태평양에서 발생하면 사이클론, 북태평양 서부, 필리핀 동부 해상에서 발생하면 태풍, 멕시코만과 카리브해 일대에서 발생하면 허리케인이다.

선택지 바로 보기

- ㄱ. 열대 지역의 해상에서 발생한다. (○)
- ㄴ. 많은 비와 강한 바람을 동반한다. (○)
- ㄷ. 중위도에서 발생하여 열대 지역으로 이동한다. (×)
- ✔ 열대 지역에서 발생하여 중위도로 이동한다.
- ㄹ. 멕시코만, 카리브해 일대에서 발생하는 열대 저기압을 사이클론이라고 한다. (×)
- ✔ 멕시코만, 카리브해 일대에서 발생하는 열대 저기압을 허리케인이라고 한다.

06 지진과 화산 활동은 지각이 불안정한 판의 경계 부근에서 자주 발생하며, 알프스·히말라야 조산대, 환태평양 조산대가 대표적이다.

선택지 바로 보기

- ① 지각이 안정된 지역에서 자주 발생한다. (×)
- ✔ 지각이 불안정한 지역에서 자주 발생한다.
- ② 화산이 폭발하면 폭설로 인한 피해가 가장 크다. (×)
- ✔ 화산이 폭발하면 용암, 화산 분출물 등에 의한 피해가 가장 크다.
- ③ 대표적인 발생 지역으로는 알프스·히말라야 조산대, 환태평양 조산대가 있다. (○)
- ④ 지진은 땅속의 마그마가 지각의 약해진 틈을 따라 지표면 위로 분출하는 현상이다. (×)
- ✔ 화산 활동은 땅속의 마그마가 지각의 약해진 틈을 따라 지표면 위로 분출하는 현상이다.
- ⑤ 화산 활동은 지구 내부의 힘이 지표면에 전달되어 땅이 갈라지고 흔들리는 현상이다. (×)
- ✔ 지진은 지구 내부의 힘이 지표면에 전달되어 땅이 갈라지고 흔들리는 현상이다.

07 지도에 표시된 자연재해는 열대 저기압(A~C)이다. 열대 저

기압은 발생 지역에 따라 불리는 이름이 다양하다. 적도 주변의 인도양, 남태평양에서 발생하는 것은 사이클론(A), 북태평양 서부, 필리핀 동부 해상에서 발생하는 것은 태풍(B), 멕시코만과 카리브해 일대에서 발생하는 것은 허리케인(C)이라고 부른다. 열대 저기압이 발생하면 해일이 발생하여 해안 저지대가 물에 잠기며, 많은 바람과 비를 동반하기 때문에 풍수해를 입히고 그에 따른 인명 피해와 재산 피해가 크다. ⑤ A~C는 주로 열대 해상에서 발생하는데, 이곳은 해수면의 온도가 높아 대기가 따뜻하여 공기 중에 수증기가 많은 곳이다.

- 08 열대 저기압은 많은 비와 강한 바람을 동반하여 무더위를 식혀 주고 가뭄을 해소하기도 한다. 또한 지구 전체의 온도를 균형 있게 유지해주고, 바닷물을 순환시켜 적조 현상을 완화하기도 한다. ⑤ 지열로 전기를 생산하여 주민 생활에 도움을 주는 것은 화산 활동의 이로운 점이다.
- 09 폭설이 내리면 가옥이나 건축물이 붕괴되고 정전이 될 수 있으며, 도로 교통이 마비된다. 또한 바닥이 얼어 빙판길 사고가 발생할 수 있다. 이에 대비하기 위해서는 사전에 제설 장비를 확보하고 신속한 제설 작업을 해야 하며, 고립에 대비한 생활 공간을 확보하기 위한 구조로 집을 짓는다. ③ 눈이 흘러내리도록 하기 위해 지붕을 급하게 만들어 가옥의 붕괴를 막아야 한다.
- 10 그림은 내진 설계를 나타낸 것으로, 지진이 빈번하게 발생하는 지역에서 지진의 피해를 최소화하기 위한 건물 설계 방식이다.
- 11 화산 활동이 발생하면 분출물들이 마을과 농경지를 덮쳐 피해를 입으며, 화산재가 상공을 덮어 시야가 확보되지 않아 항공기 운항이 중단된다. 또한 화산재가 오랫동안 햇빛을 차단하여 세계의 평균 기온이 낮아진다. 건물을 지을 때 내진 설계를 하는 것은 지진의 피해를 줄이기 위한 방법이다. ④ 가옥이 물에 잠기지 않도록 터를 높게 하여 집을 짓는 것은 홍수가 빈번한 지역의 주민 생활이다.
- 12 화산 활동이 빈번한 지역에서는 땅속의 열을 이용하여 전기를 생산하고, 온천과 독특한 자연환경을 이용한 관광 산업을 한다. 또한 산 정상에 분화구에서 유황을 채취하며 살아간다. ㄹ. 시멘트 공업의 원료로 이용되는 것은 석회암이다.
- 13 도시 홍수는 도시화·산업화, 녹지 공간 감소 등 인간 활동으로 인해 증가하고 있다. ㄱ. 과도한 방목, ㄴ. 지나친 관개 농업은 사막화의 인위적 원인이다.
- 14 콘크리트, 아스팔트 등 포장 면적이 늘어질수록 토양으로 흡수되는 빗물의 양은 감소(㉠)하고, 하천으로 곧장 유입되는 빗물의 양은 증가(㉡)한다. 이로 인해 도시 홍수의 발생 위험이 더욱 커(㉢)진다.

15 미국 뉴올리언스는 미시시피강과 주변의 호수보다 낮은 지역에 제방을 쌓아 만들어진 도시이며, 지하수 개발로 낮아진 지반과 과거에 만들어진 운하의 범람으로 홍수 피해를 입었다. 이러한 피해를 줄이기 위해서는 무분별한 개발을 제한해야 하며, 댐과 저수지를 조성하고 빗물이 잘 배출될 수 있도록 배수 시설을 정비해야 한다. 더불어 녹색 댐의 역할을 하는 삼림을 조성하는 것이 필요하다. ⑤ 대규모 주택 단지를 조성하는 것은 도시화를 가속화하는 인간 활동이므로 홍수 피해를 증가시킬 것이다.

- 16 사막 화(㉠)는 사막 주변의 초원 지대가 사막과 같이 황폐해진 땅으로 변하는 현상이다. 대체로 인구가 증가(㉡)하면 더 많은 식량을 생산하기 위해 농경지(㉢)가 필요하기 때문에 나무를 베고 농경지(㉣)를 개간한다. 또한 더욱 많은 가축을 방목(㉤)하게 되면서 삼림과 초원이 파괴되어 땅이 황폐해지고 있다. 더불어 지구 온난화로 인해 오랫동안 가뭄(㉥)이 지속되면서 그 피해가 더욱 심각해지고 있다.
- 17 열대 저기압의 피해를 줄이기 위해서는 기상 예보에 귀를 기울이며, 풍수해에 대비하여 집 주변의 배수 시설을 정비하고, 제방과 축대, 담장 등을 점검한다. 또한 늪, 갯벌과 같은 습지를 보존하면 열대 저기압 발생 시 파랑 에너지를 흡수하여 해안과 육지를 보호할 수 있다. ⑤ 제설 장비를 확보하고, 시설물에 지지대를 설치하는 것은 폭설의 대책이다.
- 18 지진이 발생하면 엘리베이터 대신 계단을 이용하여 대피해야 하며, 책상이나 선반에서 떨어지는 물건으로부터 몸을 보호하기 위해 탁자나 책상 밑에 들어간다.
- 19 화산이 폭발하면서 분출한 화산재가 쌓여 비옥해진 토양을 이용하여 벼농사를 짓거나 포도를 재배한다.

■ 핵심 단어 | 화산재, 비옥해진 토양, 벼농사, 포도 재배

채점 기준	구분
화산 활동이 활발하게 일어나는 지역에서 농업 활동을 하는 이유를 비옥한 토양을 포함하여 바르게 서술한 경우	상
화산 활동이 활발하게 일어나는 지역에서 농업 활동을 하는 이유를 서술하였으나 미흡한 경우	하

- 20 (1) (나)
- (2) 도시화가 진행되어 녹지 면적이 적고, 포장 면적이 많기 때문에 빗물이 토양으로 흡수되지 못하고 하천으로 곧장 유입되는 양이 많아져 홍수 피해가 클 것이다.

■ 핵심 단어 | 도시화, 녹지 면적, 포장 면적

채점 기준	구분
(나)를 쓰고, (나)에서 홍수 피해가 더 큰 이유를 도시화, 녹지 면적, 포장 면적을 포함하여 바르게 서술한 경우	상
(나)를 쓰고, (나)에서 홍수 피해가 더 큰 이유를 서술하였으나 미흡한 경우	중
(나)만 쓴 경우	하



21 사막화 피해가 심각하게 나타는 지역에서는 식량 부족, 기아 문제 등이 나타난다.

| 핵심 단어 | 식량 부족, 기아 문제

채점 기준	구분
사막화 피해가 심각한 지역에서 나타나는 피해 모습 두 가지를 바르게 서술한 경우	상
사막화 피해가 심각한 지역에서 나타나는 피해 모습을 한 가지만 서술한 경우	하

VI | 자원을 둘러싼 경쟁과 갈등

실전 대비 체크

p. 27~30

- 01 ④ 02 ① 03 ② 04 ⑤ 05 ③
 - 06 ① 07 ⑤ 08 ② 09 ③ 10 ②
 - 11 ③ 12 ④ 13 ① 14 ③ 15 ③
 - 16 ⑤ 17 ② 18 ④ 19 ④ 20 ①
 - 21 ④ 22 ① 23 해설 참조 24 해설 참조 25 해설 참조
- 26 해설 참조

01 자원의 가치는 경제·기술 수준, 시대와 장소, 사회·문화적 배경 등에 따라 변화하는데, 이러한 특성을 자원의 가변성이라고 한다.

선택지 바로 보기

- ① 재생 가능 자원은 고갈 자원이라고도 한다. (×)
▶ 재생 불가능 자원은 고갈 자원이라고도 한다.
- ② 태양열, 풍력, 지열 등은 재생 불가능 자원이다. (×)
▶ 태양열, 풍력, 지열 등은 재생 가능 자원이다.
- ③ 창의성, 사회 제도, 학문 등은 좁은 의미의 자원이다. (×)
▶ 창의성, 사회 제도, 학문 등은 넓은 의미의 자원이다.
- ④ 자원의 가치는 경제·기술 수준, 시대 등에 따라 변화한다. (○)
- ⑤ 넓은 의미의 자원은 인적 자원, 문화적 자원만을 의미한다. (×)
▶ 넓은 의미의 자원은 천연자원, 인적 자원, 문화적 자원을 의미한다.

02 A는 경제적 의미의 자원이다. 경제적 의미의 자원은 기술적으로 개발 가능하면서 경제적으로도 가치가 있는 것을 말한다. 우라늄과 옥수수 기술적으로 개발 가능하면서 경제적으로도 가치가 있다. ㄷ. 정제 기술이 개발되기 이전의 '검은 물'인 석유와 ㄹ. 기술 부족으로 실용화되지 못하고 있는 메탄 하이드레이트는 기술적·경제적 의미의 자원이 아니다.

03 (가)는 재생 불가능 자원, (나)는 인적 자원이다. ㄴ. 석유와 석탄은 재생 불가능 자원이지만, 태양광은 재생 가능 자원이다. ㄹ. 예술, 종교, 전통은 문화적 자원이다.

04 돼지고기가 중국과 사우디아라비아에서 자원으로서의 가치

가 다르다는 것으로, 자원의 가변성을 의미한다. ① 자원의 가치는 경제·기술 수준, 시대와 장소 등에 따라 변화한다. ②는 유한성, ③은 편재성, ④는 자원의 의미에 대한 내용이다.

05 전 세계 희토류 매장량의 1/3 이상을 중국이 보유하고 있다는 것으로, 자원의 편재성을 의미한다.

06 지도는 석유의 분포와 이동을 나타낸 것이다. 석유는 현재 세계에서 가장 많이 사용되고 있는 에너지 자원으로 페르시아만 지역에 전체 매장량의 절반 정도가 매장되어 있으며, 지역적 편재가 심하여 국제적 이동량이 많은 편이다. 생산국 중 일부가 석유의 생산량과 가격을 조절하기 위해 석유 수출국 기구(OPEC)를 결성하여 이를 무기화하고 있다. ① 산업 혁명 시기에 가장 중요했던 에너지 자원은 석탄이다.

07 천연가스는 최근 냉동 액화 기술과 수송 수단의 발달로 인해 선진국을 중심으로 이용량이 증가하고 있다. ①, ③은 석유, ②는 석탄에 대한 내용이고, ④ 천연가스는 석유, 석탄에 비해 오염 물질의 배출이 적은 편이다.

08 A는 쌀의 분포와 이동을 나타낸 것이다.

09 A는 쌀, B는 밀이다. 쌀은 고온 다습한 아시아 계절풍 기후 지역에서 주로 재배되며, 생산지와 소비지가 대체로 일치하여 밀보다 상대적으로 국제적 이동량이 적다. 밀은 서늘하고 비교적 건조한 지역에서도 잘 자라기 때문에 쌀보다 전 세계적으로 재배 면적이 넓은 편이다. ③ 육류 소비가 늘어남에 따라 사료용 작물로 많이 사용되고 있는 식량 자원은 옥수수이다.

10 자원을 둘러싼 갈등은 자원 분포의 지역적 편재, 한정된 매장량, 소비량의 급격한 증가 등으로 발생한다. ① 가채 연수는 자원의 매장량에 한계가 있다는 것을 보여 주는 사례이다. ② 자원의 생산지와 소비지가 다르기 때문에 자원 갈등이 발생한다.

11 물 자원을 둘러싼 경쟁과 갈등은 주로 여러 국가를 거쳐 흐르는 국제 하천 주변에서 나타난다.

선택지 바로 보기

- ① 에너지 자원을 둘러싼 갈등은 선진국에서만 발생한다. (×)
▶ 에너지 자원을 둘러싼 갈등은 자원이 집중적으로 분포하는 지역에서 발생한다.
- ② 최근 발생하고 있는 자원 갈등은 석탄과 관련이 깊다. (×)
▶ 최근 발생하고 있는 자원 갈등은 석유와 관련이 깊다.
- ③ 물 자원과 관련된 갈등은 주로 국제 하천 주변에서 나타난다. (○)
- ④ 물 자원은 무한하기 때문에 이를 둘러싼 갈등은 발생하지 않는다. (×)
▶ 물 자원을 둘러싼 갈등은 주로 국제 하천 주변에서 나타난다.
- ⑤ 자원 갈등은 자원이 지역적으로 고르게 분포하기 때문에 발생한다. (×)
▶ 자원 갈등은 자원이 편재되어 분포하기 때문에 발생한다.

12 자원 민족주의는 자원을 보유하고 있는 국가가 자원을 무기로 삼아 자국의 이익을 얻고자 하는 움직임으로, 자원을 둘러싼 갈등의 원인이 되며 자원이 특정 지역에 집중되어 분포하기 때문에 나타난다. 자원 민족주의의 대표적인 사례로는 일부 산유국의 석유 수출국 기구(OPEC) 결성이다. ④ 자원 민족주의로 인해 필요한 자원을 확보하려는 국가와 이를 보유한 국가 간의 갈등이 늘어난다.

13 지도에 표시된 지역은 대표적인 국제 하천으로, 이곳의 물 자원을 둘러싸고 하천 상류에 위치한 국가와 하류에 위치한 국가 간의 입장 차이로 인해 갈등이 발생하고 있다.

14 남중국해(C) 난사 군도(스프래틀리 군도)에 매장되어 있는 석유 및 천연가스를 둘러싼 갈등에 대한 내용이다. 지도의 A는 기니만, B는 카스피해, D는 북극해, E는 오리노코강 유역이다.

15 A는 카스피해로, 러시아, 카자흐스탄, 투르크메니스탄, 이란, 아제르바이잔 등 5개 국가로 둘러싸여 있다. 이 국가들은 카스피해에 매장된 자원을 더 많이 차지하기 위해 갈등을 겪고 있으며, 카스피해를 해안선의 길이에 따라 나누자는 주장과 동등한 비율로 나누자는 주장이 대립하고 있다. ③ 카스피해의 석유, 천연가스 등 천연자원을 둘러싼 갈등이 나타나고 있다.

16 콩고 민주 공화국에 대한 내용이다.

17 국가마다 자원의 매장량이 다르며, 이 자원들을 이용하는 방식에 따라 경제적 풍요로움의 정도가 달라진다. 천연자원이 풍부해도 자원에 대한 낮은 인식, 자원을 개발할 수 있는 기술의 부족, 내전 등에 따라 주민 생활은 어려워질 수 있다. 반면 천연자원이 부족하다고 하더라도 인적 자원을 개발하면 경제 성장을 이룰 수 있다. ② 천연자원이 부족하더라도 지식·정보·기술과 이를 다루는 인적 자원을 개발하면 지식 기반 산업이 성장할 수 있다.

18 자원이 풍부한 국가에서는 광업과 같이 자원 개발과 관련된 산업이 발달하여 일자리가 증가하고, 자원 수출을 통해 이익을 얻어 이를 바탕으로 도로, 항만, 공항 등 사회 기반 시설을 확충할 수 있다. ㄱ. 특정 계층이 이익을 독점하여 빈부 격차가 심화되는 모습은 자원 개발의 부정적 영향이다.

19 신·재생 에너지는 지구상에 비교적 고르게 분포하고, 오염 물질의 배출이 적어 환경친화적이기 때문에 무한정·무공해 에너지이다. ㄱ. 자연환경의 제약을 많이 받아 일부 지역에 서만 이용할 수 있으며, ㄷ. 초기 개발 비용이 많이 들어 경제성이 낮다.

20 연료 전지는 신에너지이고, 수력 에너지, 지열 에너지, 바이오 에너지, 태양광 에너지는 재생 에너지이다.

21 (가)는 조력, (나)는 풍력이다. 조력은 밀물과 썰물의 차가 큰 지역에서 개발하기에 유리하고, 풍력은 강한 바람이 지속적으로 부는 지역에서 개발하기에 유리하다. 조력과 풍력 발전으로 얻는 에너지는 오염 물질의 배출이 적어 화석 연료보다 환경친화적이지만, 조력 발전소 건설 시 갯벌 및 해양 생태계가 파괴될 수 있다. ④ 한번 사용하면 다시 사용할 수 없으며 고갈의 위험이 큰 것은 화석 연료이다.

22 A는 태양광 발전소로, 일사량이 풍부한 지역에서 개발하기에 유리하다.

23 쌀(A)은 대부분 생산지에서 소비되기 때문에 국제적 이동량이 적고, 밀(B)은 소비지가 널리 분포하기 때문에 국제적 이동량이 많다.

| 핵심 단어 | 쌀, 밀, 생산지, 소비지

채점 기준	구분
쌀과 밀의 국제적 이동 특징과 이유를 모두 바르게 서술한 경우	상
쌀과 밀의 국제적 이동 특징과 이유를 서술하였으나 미흡한 경우	중
쌀과 밀의 국제적 이동 특징만 서술한 경우	하

24 국제 하천의 상류와 하류에 위치한 국가 간의 입장 차이로 인해 갈등이 발생한다.

| 핵심 단어 | 국제 하천, 상류, 하류, 국가

채점 기준	구분
국제 하천 주변에서 갈등이 발생하는 원인을 상류와 하류 국가의 내용을 포함하여 바르게 서술한 경우	상
국제 하천 주변에서 갈등이 발생하는 원인을 서술하였으나 미흡한 경우	하

25 천연자원은 부족하지만 지식·정보·기술과 이를 다루는 인적 자원을 개발하여 경제 성장을 이루었다.

| 핵심 단어 | 천연자원, 지식·정보·기술, 인적 자원, 경제 성장

채점 기준	구분
밀접한 국가들이 경제 성장을 이룰 수 있었던 이유를 천연자원이 부족하여 인적 자원을 개발하였다는 내용을 포함하여 바르게 서술한 경우	상
밀접한 국가들이 경제 성장을 이룰 수 있었던 이유를 인적 자원을 개발하였다는 내용만 포함하여 서술한 경우	하

26 (1) 풍력 에너지, 수력 에너지, 지열 에너지, 조력 에너지, 바이오 에너지 등

(2) 신·재생 에너지는 계속 이용해도 고갈의 염려가 없고 오염 물질의 배출이 적어 환경친화적이며, 화석 연료의 의존도를 낮출 수 있다. 또한 지구상에 비교적 고르게 분포하고 있다.

| 핵심 단어 | 고갈, 환경친화적, 화석 연료의 의존도

채점 기준	구분
신·재생 에너지 중 재생 에너지의 종류 두 가지를 쓰고, 장점 두 가지를 바르게 서술한 경우	상
신·재생 에너지 중 재생 에너지의 종류 두 가지를 쓰고, 장점을 한 가지만 서술한 경우	중
신·재생 에너지 중 재생 에너지의 종류 두 가지만을 쓴 경우	하

VII | 개인과 사회생활

실전 대비 체크 p. 32~35				
01 ④	02 ⑤	03 ②	04 ②	05 ①
06 ⑤	07 ②	08 ②	09 ②	10 ②
11 ④	12 ①	13 ②	14 ①	15 ③
16 ②	17 ②	18 ①	19 ⑤	20 ④
21 ③	22 ⑤	23 해설 참조	24 해설 참조	25 해설 참조

- 01 인간이 정상적인 사회화의 과정을 경험하지 못했을 때 나타나는 사례이다. 인간은 다른 사람과의 상호 작용을 통해 자신이 속한 사회의 생활 양식을 학습함으로써 인간다운 삶을 살 수 있다.
- 02 사회화는 특정 시기에만 이루어지거나 어느 순간 완성되는 것이 아니라 평생에 걸쳐 계속되는 과정이다.

선택지 바로 보기

- ① 인간이 신체적으로 성장해 가는 과정이다. (X)
 ▶ 신체적 성장이 아닌 사회적 행동을 학습한다.
- ② 어느 사회에서나 사회화의 내용은 동일하다. (X)
 ▶ 사회마다 사회화의 내용은 다르다.
- ③ 사회화를 경험하지 않고도 인간답게 살 수 있다. (X)
 ▶ 인간은 사회화를 통해 사회 속에서 인간다운 인간으로서의 삶을 살 수 있다.
- ④ 다른 사람이나 집단과의 상호 작용은 중요하지 않다. (X)
 ▶ 다른 사람과의 상호 작용 속에서 끊임없이 학습하게 된다.
- ⑤ 태어나면서부터 평생에 걸쳐 지속적으로 이루어진다. (O)

- 03 인간은 동물과는 달리 사회화를 통해 학습된 행동을 한다. 따라서 나, 너와 같은 본능적인 행동은 사회화의 결과로 나타난 행동이라고 볼 수 없다.
- 04 사회화는 개인적 측면에서 다른 사람과 구별되는 자신만의 독특한 자아를 형성하는 과정이며, 사회적 측면에서는 이전 세대의 문화를 다음 세대로 전달하여 사회를 유지·발전시키는 과정이라고 할 수 있다.
- 05 사회마다 사회화의 내용은 다르며, 어느 사회에서 어떻게 사회화되느냐에 따라 남성다움과 여성다움이 달라질 수 있다. 즉, 남성다움과 여성다움이란 후천적인 사회화의 결과이므로 사회마다 다르게 나타난다는 것을 알 수 있다.
- 06 (가) 또래 집단은 자연적으로 형성되는 친구 집단으로 놀이를 통해 집단생활의 규칙과 질서를 배우는데, 특히 청소년기의 사회화에 많은 영향을 미친다. (나) 대중 매체는 시대 변화의 흐름과 여러 정보를 제공하며, 현대 사회에서 그 영향력이 점차 커지고 있다.
- 07 가정과 또래 집단은 1차적 사회화 기관이다. 1차적 사회화 기관은 자연적으로 만들어지며, 인격적인 만남이 이루어진다. 또한, 성장기의 정서 발달에 큰 영향을 끼친다. 반면 2차

적 사회화 기관은 특정 목적을 달성하기 위해 인위적으로 형성되며, 형식적이고 공식적인 만남이 이루어진다.

- 08 오늘날과 같이 변화의 속도가 빠른 사회에서는 기존에 습득한 생활 양식이나 지식만으로 사회에 적응하며 살아가기 힘들다. 따라서 새로운 생활 양식과 지식, 기술, 규범 등을 지속적으로 습득해야 하는데, 이러한 과정을 재사회화라고 한다.
- 09 제시문은 재사회화에 대한 설명이다. 학교에서 사회생활에 필요한 다양한 지식과 기능을 학습하는 것은 일반적인 사회화 과정이다.
- 10 주어진 내용은 청소년기를 나타낸 표현이다. 청소년들은 변화 지향적이며, 변화에 대한 적응도 매우 빠르다.
- 11 청소년기는 자아 정체성이 형성되는 중요한 시기이며, 신체적·심리적 변화가 급격히 이루어진다.
- 12 청소년기는 자아 정체성을 형성해야 하는 중요한 시기이다. 이 시기에 형성되는 자아 정체성은 성인이 되었을 때 중요한 영향을 미치기 때문에 긍정적인 자아 정체성을 확립해야 한다.
- 13 태어나면서부터 자연적으로 주어지는 지위를 귀속 지위라고 한다. 딸은 귀속 지위이다. 조리사, 축구 선수, 의사, 아나운서 등은 성취 지위에 해당한다.
- 14 귀속 지위는 천민, 아들 등 태어나면서부터 자연적으로 주어지는 지위를 말한다. 성취 지위는 부모, 의사, 학생 등 개인의 노력이나 능력으로 얻게 되는 지위를 말한다.
- 15 제시된 사례는 모두 개인의 능력이나 노력으로 얻게 되는 성취 지위에 해당한다. 성취 지위는 현대 사회에서 더욱 중요시되고 있다.
- 16 검사와 제자에게 요구되는 역할 사이에서 갈등하고 있는 역할 갈등의 상황에 놓여 있다.
- 17 경기장의 관중들은 구성원 간에 지속적인 상호 작용이 이루어지지 않기 때문에 사회 집단으로 볼 수 없다.
- 18 ㉠은 1차 집단, ㉡은 2차 집단에 대한 설명이다.
- 19 한 개인이 어떤 판단이나 행동을 할 때 기준으로 삼는 집단을 준거 집단이라고 한다. 자신이 속한 집단이 준거 집단일 경우에는 집단에 대한 소속감이 커지지만, 다를 경우에는 갈등을 느낄 수 있다.
- 20 내집단은 자신이 소속되어 있으면서 '우리'라는 소속감과 공동체 의식을 느끼는 집단을 말한다.
- 21 각 개인은 성별, 피부색 등 개인적 특성은 물론 소속되어 있는 집단이나 문화도 다르다. 이처럼 서로 같지 않고 다르게 나타나는 모습 그 자체를 차이라고 한다. 차이를 이유로 개인이나 집단을 부당하게 대우하는 것을 차별이라고 한다.

22 차별은 차이를 인정하지 못하고 특정한 개인이나 집단에 대해 부당한 대우를 하는 것을 의미한다.

23 (가), (다), (라). 인간이 태어나 자신이 속한 사회의 행동 양식, 규범, 가치관 등을 배우는 과정을 사회화라고 한다.

| 핵심 단어 | 자신이 속한 사회, 행동 양식, 배우는 과정

채점 기준	구분
사회화를 통해 학습한 내용을 모두 고르고, 사회화의 의미를 정확하게 서술한 경우	상
사회화를 통해 학습한 내용을 모두 고르고, 사회화의 의미를 서술하였으나 미흡한 경우	중
사회화를 통해 학습한 내용만을 고른 경우	하

24 (1) 역할 갈등

(2) 역할 갈등이란 한 개인에게 기대되는 여러 가지 역할이 서로 충돌하는 것을 말한다.

| 핵심 단어 | 한 개인, 여러 가지 역할, 서로 충돌

채점 기준	구분
역할 갈등의 의미를 정확하게 서술한 경우	상
역할이 충돌하는 것이란 내용만 서술한 경우	하

25 (가), (다). 차별은 차이를 이유로 어떤 사람이나 집단을 부당하게 대우하는 모든 행위를 의미한다.

| 핵심 단어 | 차이를 이유, 부당하게 대우

채점 기준	구분
차별에 해당하는 것을 모두 적고, 차별의 의미를 정확하게 서술한 경우	상
차별에 해당하는 것을 모두 적고, 차별의 의미를 서술하였으나 미흡한 경우	중
차별에 해당하는 것만을 적은 경우	하

VIII | 문화의 이해와 창조

실전 대비 체크

p. 37~40

- | | | | | |
|------|----------|----------|----------|------|
| 01 ③ | 02 ② | 03 ⑤ | 04 ⑤ | 05 ① |
| 06 ① | 07 ② | 08 ⑤ | 09 ③ | 10 ④ |
| 11 ② | 12 ② | 13 ② | 14 ④ | 15 ③ |
| 16 ③ | 17 ② | 18 ③ | 19 ② | 20 ① |
| 21 ① | 22 해설 참조 | 23 해설 참조 | 24 해설 참조 | |

01 넓은 의미의 문화는 한 사회에서 공통적으로 나타나는 생활 양식이다. 좁은 의미에서는 문화, 예술 등과 관련된 것이나 세련되고 교양 있는 모습을 문화라고 한다.

02 한국 문화는 한국 사회에서 나타나는 공통적 생활 양식으로 넓은 의미의 문화에 해당한다. 나머지는 좁은 의미의 문화에 해당한다.

03 사회 구성원들이 만들어 낸 공통의 생활 양식이 문화이다. 자연 현상이나 본능, 개인적인 습관 등은 문화가 아니다.

04 관념 문화는 철학, 언어, 문학, 예술 등과 같이 인간의 행동에 의미를 부여하거나 방향을 제시해 주며 인간의 삶을 풍요롭게 한다.

05 인간은 기본적으로 동일한 신체 구조와 심리적 특징을 가지고 있기 때문에 어느 시대, 어느 사회에서나 공통적으로 나타나는 문화적 요소가 존재하는데, 이를 문화의 보편성이라 한다.

06 ㉠은 모든 사회에 공통적으로 나타나는 문화적 요소가 있다는 문화의 보편성을 설명하고 있다. ㉡은 각 사회의 문화는 다양하게 나타난다는 문화의 다양성과 관련된 설명이다.

07 (가)는 기존 문화에 새로운 문화가 추가되어 쌓이는 사레이므로 문화의 축적성, (나)는 사회적 환경에 따라 끊임없이 변화를 계속하는 사레이므로 문화의 변동성, (다)는 하나의 문화 요소가 서로 밀접한 관련을 맺으면서 전체를 이루는 사레이므로 문화의 전체성과 관련된다.

08 문화만이 가지고 있는 공통된 특징을 문화의 속성이라고 한다. 문화의 속성 중 ㉠은 공유성, ㉡은 학습성, ㉢은 축적성, ㉣은 변동성, ㉤은 전체성에 해당한다.

09 문화는 계속해서 새로운 지식과 생활 양식이 쌓여 가며 다음 세대로 전승·축적되어 가는데, 이를 문화의 축적성이라고 한다.

10 자기 문화의 입장에서 다른 문화를 평가하고 열등하다고 여기는 태도는 자문화 중심주의이다. 반대로 다른 문화만을 우월하다고 생각하는 태도를 문화 상대주의라 한다.

11 천하도처럼 다른 사회의 문화만을 가치 있고 우수한 것으로 여기고, 우리의 문화를 부정적으로 평가하는 태도를 문화 상대주의라고 한다.

12 문화 상대주의적 태도는 자기 문화의 고유성과 주체성 상실, 자기 문화에 대한 올바른 이해를 저해한다.

13 제시된 문화 이해의 태도는 문화 상대주의이다. 문화 상대주의는 어떤 문화이든 무조건 인정하는 태도로 흐를 수 있는데, 이를 극단적 문화 상대주의라고 한다. 고문, 폭력 등 인간 존엄성, 자유, 평등과 같은 인류의 보편적 가치를 무시하는 문화는 경계해야 한다.



- 14 제시된 사례는 모두 인간의 존엄성과 같은 인류의 보편적 가치를 훼손하는 잘못된 관습이다. 따라서 극단적인 문화 상대주의를 경계해야 한다는 주제가 가장 관련이 깊다.
 - 15 인터넷, 휴대 전화 등 쌍방향 의사소통이 가능한 매체를 뉴미디어라 한다.
 - 16 주어진 미디어는 새로운 미디어(뉴 미디어)이다. 뉴 미디어는 쌍방향 소통이 가능한 매체로 대중이 적극적으로 문화를 생산하고 창조하는 주체가 되고 있다.
 - 17 뉴 미디어는 인터넷, 휴대 전화, 위성 방송 등 쌍방향적 의사소통이 가능한 매체이다.
 - 18 과거에는 소수의 사람들만이 예술로 불리는 문화를 누렸지만 대중 매체의 발달로 다수의 대중이 함께 누리는 대중문화가 형성되었으며, 많은 사람들이 적은 비용으로 필요한 정보를 얻을 수 있게 되었다.
 - 19 대중문화의 역기능으로 상업화, 획일화, 여론 조작 가능성, 정치적 무관심 초래 등을 들 수 있다.
 - 20 대중문화는 대중 매체를 통해 대중들에게 확대·보급되면서 문화의 민주화에 기여하였다. ②~⑤는 대중문화의 역기능에 해당한다.
 - 21 대중문화는 대중 매체에 의해 일방적으로 생산·보급되기 때문에 특정 집단이나 세력에 의해 쉽게 조작될 수 있다. 따라서 이를 비판적으로 받아들이는 자세가 필요하다.
 - 22 각 사회의 구성원들이 서로 다른 자연환경과 사회적 상황에 적응하면서 독특한 생활 양식을 만들었기 때문이다.
| 핵심 단어 | 서로 다른 자연환경, 사회적 상황, 독특한 생활 양식
- | 채점 기준 | 구분 |
|---|----|
| 서로 다른 환경에 적응, 독특한 생활 양식이라는 내용을 포함하여 정확하게 서술한 경우 | 상 |
| 서로 다른 환경에 적응이라는 내용만 언급하여 서술한 경우 | 중 |
| 환경에 따라 다양하게 나타난다고만 쓴 경우 | 하 |
- 23 (1) 자문화 중심주의
(2) 다른 나라와의 갈등을 유발하며, 국제적으로 고립되는 결과를 가져올 수 있다.
| 핵심 단어 | 다른 나라와의 갈등 유발, 국제적 고립
- | 채점 기준 | 구분 |
|--|----|
| 다른 나라와의 갈등, 국제적 고립의 내용을 모두 언급하여 서술한 경우 | 상 |
| 다른 나라와의 갈등, 국제적 고립의 내용 중 한 가지만 언급하여 서술한 경우 | 하 |
- 24 (1) 인터넷, 휴대 전화, 케이블 방송 등
(2) 일방적으로 정보를 전달하는 기존의 대중 매체와는 달리 뉴 미디어는 쌍방향 의사소통이 가능하다.
| 핵심 단어 | 일방적으로 정보를 전달, 쌍방향 의사소통

채점 기준	구분
쌍방향 의사소통이 가능하다는 내용을 전통적인 대중 매체와 비교하여 서술한 경우	상
쌍방향 의사소통이 가능하다는 내용을 포함하였으나, 전통적인 대중 매체와 비교하지 못한 경우	하

IX | 정치 생활과 민주주의

실전 대비 체크					p. 42~45
01 ⑤	02 ③	03 ③	04 ④	05 시민 혁명	
06 차티스트 운동		07 ③	08 ⑤	09 ④	
10 ④	11 ②	12 ②	13 ⑤	14 ①	
15 ④	16 ②	17 ⑤	18 ③	19 ③	
20 ②	21 ④	22 ③	23 해설 참조	24 해설 참조	
25 해설 참조					

- 01 좁은 의미의 정치는 정치권력을 획득하고 유지하기 위한 정치인의 활동을 의미한다. 넓은 의미의 정치는 사회 구성원 간의 의견 차이를 조정하여 문제를 해결하는 모든 활동을 말한다. ⑤ 국회의 법률 제정은 정치권력과 관련된 정치인의 활동이므로, 좁은 의미의 정치에 해당한다.
- 02 정치는 개인 간, 집단 간에 발생하는 대립을 완화하고 이해 관계를 조정함으로써 사회적 혼란을 해결한다. 이와 관련하여 정치는 사회 구성원의 다양한 요구를 충족시키고, 사회가 나아가야 할 방향을 제시하며, 사회 질서 유지 및 통합에도 중요한 역할을 한다.
- 03 민주 정치란 국민의 뜻에 따라 정치가 이루어지는 것으로, 고대 그리스의 아테네에서 처음 나타났다. 고대 아테네에서는 모든 시민이 정치에 직접 참여하는 직접 민주 정치를 실시하였다. 다만, 이때의 시민은 성인 남성만을 의미한다.
- 04 고대 아테네에서는 여성, 외국인, 노예의 정치 참여가 제한되었다. 정치에 참여할 수 있는 것은 시민권을 가진 성인 남성으로 국한되었기 때문에 제한적 민주 정치라는 한계를 가진다.
- 05 시민 혁명은 상공업자 중심의 시민 계급이 절대 왕정에 대항하여 일어난 것으로 이를 통해 시민의 자유와 권리가 확대되었다.

- 06 차티스트 운동은 영국의 노동자들이 노동조합을 만들어 보통 선거 실시, 의원 자격 제한 폐지 등을 요구하며 전개했던 참정권 확대 운동으로, 그 결과 노동자들이 선거권을 부여받게 되었다.
- 07 제시된 자료를 통해 19세기 초까지 귀족, 부자들에게만 주어졌던 선거권이 1928년 선거법 개정을 통해 21세 이상의 모든 남녀에게 부여되었음을 알 수 있다. 일정 연령 이상의 모든 사람에게 선거권을 부여하는 보통 선거 제도가 확립된 것이다.
- 08 근대 시민 혁명을 통해 인간의 존엄성, 자유 및 평등의 보장이 시민에게로 확대되었다. 뿐만 아니라 시민의 대표가 의회를 구성하고, 의회에서 만든 법에 의해 정치가 이루어지는 대의 민주 정치(간접 민주 정치)가 이루어졌다. 그러나 정치 참여 기회가 소수의 부유한 계층에 한정되었다는 점에서 한계를 가지고 있다.

플러스 특강 근대 시민 혁명의 관련 문서와 주요 내용

구분	내용	의의
영국 명예 혁명(1688)	• 원인: 국왕의 전제 정치에 저항 • 관련 문서: 권리 장전	의회 정치 발달, 입헌주의의 확립
미국 독립 혁명(1776)	• 원인: 영국의 부당한 식민 지배에 대한 • 관련 문서: 독립 선언문	최초의 민주 공화국 수립
프랑스 혁명(1789)	• 원인: 봉건적인 신분 제도로 인한 불평등한 사회 구조 타파 • 관련 문서: 프랑스 인권 선언	자유와 평등의 이념 확립

- 09 현대에는 국가의 규모가 커지고 복잡해졌기 때문에 모든 국민이 직접 정치에 참여하기가 어렵다. 따라서 간접 민주 정치가 이루어지고 있으며, 국민의 의사가 정확하게 반영되지 않거나 선거 이외의 정치 과정에서 소외되는 문제점을 보완하기 위해 국민이 직접 정치에 참여할 수 있는 제도를 두고 있다.
- 10 고대 아테네는 영토가 작고 인구가 많지 않은 도시 국가였기 때문에 직접 민주 정치가 시행될 수 있었다. 규모가 커지고 복잡해진 현대 사회에서는 모든 사람이 정치에 참여하기 어렵기 때문에 대표를 선출하여 국정을 운영하도록 하는 간접 민주 정치가 대부분의 국가에서 실시되고 있다. ㄱ. 고대 아테네의 민주 정치는 시민권을 가진 성인 남성만 정치에 참여할 수 있었던 제한적 민주 정치였다. ㄴ. 시민 혁명 이후에도 일정 수준 이상의 재산을 가진 남성들만 정치에 참여할 수 있었고, 여성, 노동자, 농민, 빈민 등은 여전히 정치에 참여할 수 없었다.
- 11 생활 양식으로서의 민주주의는 일상생활에서 비판과 토론, 타협, 다수결, 관용 등이 받아들여지는 것이다. ①, ③, ④, ⑤는 국민이 정부를 구성하고 국가의 의사를 결정하는 정치 형태로서의 민주주의에 해당한다.

- 12 인간의 존엄성이 실현되기 위해서는 자유와 평등이 보장되어야 한다. 인간이 타인이나 국가 권력으로부터 부당하게 자유를 제한받거나, 불합리한 차별을 받는다면 인간의 존엄성이 실현되기 어렵기 때문이다.

선택지 바로 보기

- ① 평등보다는 자유를 우선적으로 보장해야 한다. (×)
 ㉠ 자유와 평등은 조화롭게 보장되어야 한다. 개인의 자유를 지나치게 강조하면 개인 간 차별이 심해질 수 있고, 평등을 지나치게 강조하면 개인의 자유가 위축될 수 있기 때문이다.
 ② 자유와 평등이 보장될 때 인간의 존엄성이 실현될 수 있다. (○)
 ③ 소극적 자유는 국가 운영에 참여할 수 있는 자유를 의미한다. (×)
 ㉡ 국가의 정책 결정 과정에 참여하여 자신의 의견을 반영할 수 있는 자유는 적극적 자유에 해당한다.
 ④ 적극적 자유는 국가의 부당한 간섭을 받지 않을 자유를 의미한다. (×)
 ㉢ 국가로부터 부당한 구속을 당하지 않고 자신이 원하는 대로 할 수 있는 자유는 소극적 자유에 해당한다.
 ⑤ 오늘날에는 개인이 지닌 선천적·후천적 차이를 줄이는 형식적 평등을 보장하기 위해 노력하고 있다. (×)
 ㉣ 기회가 균등하게 보장되더라도 선천적·후천적 차이로 인해 불공평해지는 경우가 발생하기 때문에 오늘날에는 실질적 평등의 보장이 강조되고 있다.

- 13 개개인의 차이와 능력을 고려하지 않고 기회의 균등만을 강조하는 형식적 평등은 실질적 불평등을 초래할 수 있다. 따라서 실질적 평등을 실현하기 위해서는 사회적 약자를 보호하는 정책이 필요하다.

선택지 바로 보기

- ① ㉠은 국민 주권에 해당한다. (×)
 ㉡은 인간의 존엄성에 해당한다.
 ② ㉢은 공공의 이익보다 우선시되어야 한다. (×)
 ㉣과 공공의 이익은 조화를 이루어야 한다.
 ③ ㉠은 적극적 자유에서 소극적 자유로 발전해 왔다. (×)
 ㉡은 소극적 자유에서 적극적 자유로 발전해 왔다.
 ④ ㉢은 ㉠보다 우선시하여 보장하는 것이 바람직하다. (×)
 ㉣과 ㉢은 어느 한쪽으로 치우치지 않고 조화를 이루어야 한다.
 ⑤ ㉢ 중에서 형식적 평등은 실질적 불평등을 초래할 수 있다. (○)

- 14 (가)에는 국가의 최고 권력인 주권이 국민에게 있다는 국민 주권의 원리가 나타나 있으며, (나)에는 헌법으로 국민의 기본권을 보장하고, 헌법에 따라 통치가 이루어져야 한다는 입헌주의가 나타나 있다. (다)에는 주권을 가진 국민이 나라를 스스로 다스려야 한다는 국민 자치의 원리가 나타나 있다.
- 15 국가 권력의 작용을 입법, 행정, 사법으로 나누어 상호 견제와 균형을 추구하도록 하고 있으므로, 민주 정치의 기본 원리 중 권력 분립의 원리에 해당한다.
- 16 국민 자치의 원리는 국민이 스스로 국가를 다스려야 함을 의미하며, 우리나라에서는 이를 충실히 보장하기 위해 국민 투표, 주민 투표, 주민 소환 등의 제도를 실시한다. ①은 입헌주의, ③은 권력 분립, ④, ⑤는 국민 주권과 관련된다.

- 17 권력 분립의 원리와 입헌주의의 원리는 국가 권력의 남용을 방지하여 국민의 자유와 권리를 보장하는 것을 목적으로 한다.
- 18 제시된 자료에서는 입법부(의회 의원)와 행정부(대통령)를 선출하기 위한 선거가 각각 실시되고 있으므로 대통령제에 해당함을 알 수 있다. 대통령제에서는 입법부와 행정부가 엄격하게 분리되어 있으며, 대통령은 의회의 법률안을 거부할 권한이 있다. ㄱ. 대통령은 자신을 선출해 준 국민에 대한 책임은 지지만, 의회에 대한 책임은 지지 않는다. ㄴ. 의원의 장관 겸직이 허용되는 것은 의원 내각제이다.
- 19 대통령제에서 대통령은 국민에 의해 선출되었기 때문에 임기가 보장되어 안정적으로 국정을 운영할 수 있다. 반면 의원 내각제에서의 내각은 임기 도중 의회에 의해 해산될 수 있다.
- 20 의원 내각제에서 의회는 행정부에 대하여 내각 불신임권을 가진다. 내각이 국정 운영을 잘못했을 경우 의회가 결의하여 내각을 신임하지 않는다는 의사 표시를 하면, 내각은 총사퇴하고 새 내각이 구성된다. 반면 내각은 기존의 의회를 해산하고, 총선거를 통해 새로운 의회를 구성할 수 있는 의회 해산권을 가진다.
- 21 우리나라는 의원 내각제적 요소를 가미한 대통령제 국가이다. 국무총리 제도, 국회 의원의 국무 위원 겸직 가능, 행정부의 법률안 제출권 등은 의원 내각제적 요소에 해당한다.

선택지 바로 보기

- ① 국회는 행정부 불신임권을 갖는다. (×)
 ◻ 국회는 행정부를 불신임할 수 없다.
- ② 국회에서 행정부의 수반을 선출한다. (×)
 ◻ 행정부의 수반은 국민이 직접 선거로 선출한다.
- ③ 국회 다수당의 대표가 행정부를 구성한다. (×)
 ◻ 대통령이 행정부를 구성한다.
- ④ 행정부가 국회에 법률안을 제출할 수 있다. (○)
- ⑤ 전형적인 영구식 의원 내각제를 채택하고 있다. (×)
 ◻ 우리나라는 의원 내각제적 요소를 일부 도입한 대통령제 국가이다.

- 22 우리나라가 채택하고 있는 의원 내각제적 요소로는 (가) 행정부의 법률안 제출권, (나) 국무총리 제도, 국회의 국무총리 임명 동의권, 국회 의원의 국무 위원 겸직 등을 들 수 있다.
- 23 고대 아테네에서는 모든 시민이 국가의 정책을 직접 결정하는 직접 민주 정치가 이루어졌다. 그러나 여성, 노예, 외국인은 정치에 참여하지 못하는 제한적 민주 정치라는 한계가 있었다.

핵심 단어 | 직접 민주 정치, 제한적 민주 정치

채점 기준	구분
고대 아테네 민주 정치의 특징과 한계를 모두 정확하게 서술한 경우	상
고대 아테네 민주 정치의 특징과 한계를 서술하였지만 미흡한 경우	중
직접 민주 정치가 이루어졌다고만 서술한 경우	하

- 24 시민 혁명은 시민의 권리와 자유를 확대시킴으로써 근대 민주주의 발전에 기여하였으나, 여성, 빈민, 노동자들의 정치 참여는 제한되었다는 점에서 한계가 있다.

핵심 단어 | 시민 혁명, 시민의 권리와 자유 확대, 여성, 빈민, 노동자들의 정치 참여 제한

채점 기준	구분
시민 혁명의 의의와 한계에 대해 모두 바르게 서술한 경우	상
시민 혁명의 의의와 한계 중 한 가지만 바르게 서술한 경우	중
시민 혁명에 대해서만 언급한 경우	하

- 25 (1) (가) 대통령제, (나) 의원 내각제
 (2) 대통령의 임기 동안 안정적으로 정책을 수행할 수 있으며, 일관되고 지속적인 정책 추진이 가능하다. 대통령은 법률안을 거부할 수 있어 다수당의 횡포를 견제할 수 있다.

핵심 단어 | 대통령의 임기 동안 안정적 정책 수행, 일관된 정책 추진, 법률안 거부, 다수당의 횡포 견제

채점 기준	구분
대통령제의 장점을 두 가지 이상 서술한 경우	상
대통령제의 장점을 두 가지 서술하였으나 미흡한 경우	중
대통령제의 장점을 한 가지만 서술한 경우	하

X | 정치 과정과 시민 참여

실전 대비 체크

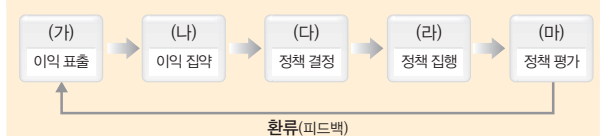
p. 47~49

- 01 ⑤ 02 ④ 03 ③ 04 ② 05 ②
- 06 ⑤ 07 ② 08 ④ 09 ⑤ 10 ④
- 11 ⑤ 12 ⑤ 13 선거 공영제 14 ③
- 15 ⑤ 16 ④ 17 ③ 18 해설 참조 19 해설 참조

- 01 민주주의의 발전에 따라 시민의 자유와 권리가 신장되고, 시민들이 정치 과정에 참여할 수 있는 다양한 제도가 마련되면서 이익 표출이 증가하게 되었다.

- 02 (라) 정책이 결정되면 이를 시행하는 것은 정부의 역할이다.

문제 자료 분석하기 정치 과정의 단계



- (가) 이익 표출: 개인이나 집단이 자신들의 이익을 실현시키기 위한 요구들을 사회의 표면에 드러내는 것으로, 오늘날 사람들의 이해관계가 다양해지면서 증가하고 있음
- (나) 이익 집약: 표출된 이익에 관한 다양한 의견들이 정당과 언론 등에 의해 한곳으로 모아짐
- (다) 정책 결정: 국회의 법률 제정, 정부의 정책 수립이 이루어짐
- (라) 정책 집행: 결정된 정책을 정부가 실행에 옮김
- (마) 정책 평가: 집행된 정책에 대한 평가를 통해 문제점을 보완하고, 새로운 이익과 요구가 투입

03 이익 표출은 개인이나 이익 집단, 시민 단체 등에 의해 다양한 주장이 표출되는 과정이다.

선택지 바로 보기

- ① 「저출산·고령 사회 기본법」이 국회에서 통과되었다. (×)
- ▶ 정책 결정
- ② 출산율이 상승하지 않아 정책을 보완하기로 하였다. (×)
- ▶ 정책 평가
- ③ 각 시민 단체에서 현실성 있는 출산 정책의 마련을 요구하는 시위를 벌였다. (○)
- ④ 정당에서 여론을 모아 저출산 문제의 해결을 위한 정책 방안을 정부에 전달하였다. (×)
- ▶ 정책 평가
- ⑤ 정부에서 임신·출산 진료비를 지원하고, 국·공립 보육 시설을 확충하는 등 출산 장려 정책을 시행하였다. (×)
- ▶ 정책 집행

04 정치 과정에 참여하는 공식적 주체에는 국회, 정부, 법원이 있다. 국회와 정부는 여러 정치 주체들의 의견을 반영하여 공식적으로 정책을 결정한다.

05 국회는 법률을 제정하고, 정부는 법률을 집행하며, 법원에서 법률을 해석·적용한다.

06 정치 과정에 참여하는 비공식적 주체들은 여론을 형성함으로써 정책 결정 과정에 영향을 미친다. ①은 국회와 정부, ②, ④는 정당, ③은 정당과 시민 단체에 해당한다.

07 (가)는 이익 집단, (나)는 시민 단체이다. 이익 집단은 국회나 정부에 압력을 넣어 자기 집단의 특수 이익을 반영하고자 한다.

선택지 바로 보기

- ① (가)는 정치적 견해가 같은 사람들끼리 결성한다. (×)
- ▶ 이익 집단은 이해관계를 같이하는 사람들끼리 결성한다.
- ② (가)는 자기 집단의 이익을 실현하는 것이 목적이다. (○)
- ③ (나)는 특정 집단의 이해관계를 대변한다. (×)
- ▶ 시민 단체는 환경 보호, 인권 증진 등 사회 전체의 이익과 공동선을 실현하는 것을 목적으로 한다.
- ④ (나)는 정부와 의회를 매개하는 역할을 한다. (×)
- ▶ 정부와 의회를 매개하는 역할을 하는 것은 정당이다.
- ⑤ (나)는 정부의 협조와 지원을 받고 주요 정책을 홍보한다. (×)
- ▶ 시민 단체는 정부의 정책을 비판하고 대안을 제시하는 정치 과정의 참여 주체이다.

08 ㄹ. 국민의 요구를 집약하여 정부에 전달하고, 선거에 후보자를 배출하는 것은 정당이다.

09 밑줄 친 단체는 우리 사회의 음식 쓰레기 문제를 해결하려고 노력하고 있으므로 시민 단체에 해당한다. 시민 단체는 공익을 추구한다는 점에서 정당과 공통점이 있다. 정당 역시 정권 획득을 목적으로 국민의 지지를 얻고자 공익을 추구하기 때문이다.

선택지 바로 보기

- ① 정치적 책임을 진다. (×)
- ▶ 시민 단체는 정치적 책임을 지지 않는다.
- ② 정부의 주요 정책을 홍보한다. (×)
- ▶ 시민 단체는 정부의 간섭을 받지 않고 독립적으로 활동하며 정책을 감시·비판한다.
- ③ 정강이나 정책을 국민들에게 알려 지지를 얻고자 한다. (×)
- ▶ 정당의 특징에 해당한다.
- ④ 국회 의원 등 국가의 주요 직책을 맡기 위해 노력한다. (×)
- ▶ 정당의 특징에 해당한다.
- ⑤ 공공의 이익을 추구한다는 점에서 정당과 공통점이 있다. (○)

10 선거는 대표자를 통제할 수 있는 기능이 있다. 자질이 부족한 대표는 다음 선거 때 교체할 수 있기 때문이다.

11 보통 선거는 일정 연령 이상의 국민 누구에게나 투표권을 주는 것이며, 평등 선거는 모든 유권자에게 동등한 한 표를 주는 것이다. 직접 선거는 대리인을 통하지 않고 직접 대표자를 선출하는 것이며, 비밀 선거는 어느 후보에게 투표했는지 알 수 없게 하는 것이다. 제시된 사례에서는 민주 선거의 4원칙이 모두 위배되었다.

문제 자료 분석하기 민주 선거의 4원칙

A 국가에서는 남자에게만 선거권을 주고 여자에게는 선거권을 주지 않았으며, 재산이 많은 사람에게는 두 표를 주었다. 또한 가족이 대신해서 투표를 할 수 있으며, 투표용지에 자신의 이름과 주소를 기입하도록 의무화하였다.

12 선거는 대의 민주 정치의 근본이기 때문에 민주적이고 공정하게 이루어져야 한다. 우리나라는 공정한 선거를 보장하기 위해 민주 선거의 4원칙을 비롯하여 선거 공영제와 선거구 법정주의를 실시하고 있으며, 독립된 헌법 기관으로 선거 관리 위원회를 두고 있다. ⑤ 우리나라는 대통령 선거인단을 두지 않고 모든 국민이 후보자에게 직접 투표를 하며, 이는 공정 선거와는 관련이 없다.

13 국가 기관이 선거 과정을 관리하고 국가나 지방 자치 단체가 선거 비용의 일부를 부담하는 것을 선거 공영제라고 한다. 우리나라의 헌법에서는 선거에 들어가는 경비는 법률이 정하는 바를 제외하고는 정당이나 후보자에게 부담시킬 수 없으며, 선거 관리 위원회의 관리하에 균등한 기회가 보장되어야 한다고 명시하고 있다.

14 지방 자치는 지역 주민이나 지역 단체가 스스로 그 지역의 사무를 처리하는 과정으로 '민주주의의 학교', '풀뿌리 민주주의'라고 한다. 지방 자치는 지역 주민이 지방 선거나 활동에 적극적으로 참여해야 성공할 수 있다. ㄱ. 지방 자치 단체장은 주민의 직접 선거로 선출된다. ㄴ. 지방 정부가 중앙 정부로부터 독립되어 자율성을 확보하기 위해서는 재정적인 자립이 이루어져야 한다.

15 우리나라의 지방 자치 단체는 특별시, 광역시, 도의 광역 자치 단체와 시, 군, 구의 기초 자치 단체가 있다. 각 자치 단체들은 의결 기관인 지방 의회와 집행 기관인 지방 자치 단체장으로 구성되는데, 지방 의회는 조례, 지방 자치 단체장은 규칙을 제정할 수 있다.

16 지방 자치 단체가 제정하는 자치 법규에는 조례와 규칙이 있다. 조례는 지방 의회가 법률과 명령의 범위 내에서 제정하는 자치 법규이며, 규칙은 지방 자치 단체장이 조례의 범위 안에서 제정하는 자치 법규이다.

17 지역 주민이 지방 정치 과정에 참여할 수 있는 제도 중 (가)는 주민 참여 예산제, (나)는 주민 감사 청구제에 해당한다.

18 (1) 케리맨더링
(2) 선거구 법정주의, 선거구를 국회에서 법률로 정한다.

핵심 단어 | 선거구 법정주의, 선거구, 국회, 법률

채점 기준	구분
선거구 법정주의를 쓰고, 선거구를 국회에서 법률로 정한다고 서술한 경우	상
선거구 법정주의만 쓴 경우	하

19 ㉠은 지방 의회, ㉡은 지방 자치 단체장이다. 지방 의회는 예산을 심의·의결하고 조례를 제정하며, 지방 자치 단체장은 예산을 집행하고 규칙을 제정한다.

핵심 단어 | 지방 의회, 지방 자치 단체장, 예산, 조례, 규칙

채점 기준	구분
㉠, ㉡을 쓰고, 그 역할을 각각 두 가지 이상 서술한 경우	상
㉠, ㉡을 쓰고, 그 역할을 한 가지씩만 서술한 경우	중
㉠, ㉡만 쓴 경우	하

XI | 일상생활과 법

실전 대비 체크

p. 51~53

01 ④	02 ⑤	03 ③	04 ④	05 ⑤
06 ⑤	07 ③	08 ①	09 ②	10 ④
11 ④	12 ④	13 형사 재판	14 ③	15 ④
16 ④	17 ②	18 ③	19 해설 참조	20 해설 참조

01 우리의 일상생활은 다양한 법과 관련된다. 초·중등 교육법은 초·중등 교육에 관한 사항을 정함을 목적으로 한다.

02 사회 규범 중 관습은 혼례 의식이나 장례 의식과 같이 오랫동안 반복되던 행동 양식이 사회적 행위의 기준으로 인정된 것이다.

선택지 바로 보기

- ① 모든 사회 규범은 강제성을 가지고 있다. (X)
▶ 법만 강제성을 가지고 있다.
- ② 법은 과거 전통 사회에서 더 중요하게 여겨졌다. (X)
▶ 법은 현대 사회에서 중요성이 커지고 있다.
- ③ 도덕은 외적으로 보이는 위반 행위를 규율한다. (X)
▶ 법에 대한 설명으로, 도덕은 인간 내면의 동기와 양심을 규율한다.
- ④ 종교는 인간이 지켜야 할 바람직한 도로로 인간의 내면을 규율한다. (X)
▶ 도덕에 대한 설명으로, 종교는 종교 공동체 구성원들이 지켜야 할 교리나 계율이다.
- ⑤ 관습은 혼례 의식이나 장례 의식과 같이 오랫동안 지켜 온 행동 양식을 말한다. (O)

03 법 규범은 국가에 의해 강제되는 사회 규범이다. 나은 형법, 다은 도로 교통법과 관련된 사례이다. 기은 도덕, 리은 관습에 해당한다.

04 제시된 내용은 법 규범에 해당된다. 법은 궁극적으로 정의를 실현하기 위해 존재하며, 지키지 않을 경우에는 국가에 의해 처벌을 받는 강제성을 가진다는 점에서 다른 사회 규범과 구별된다. 가. 법은 외적인 위반 행위를 규율한다. 다. 법은 행위의 결과를 중시한다.

05 제시된 사진은 정의의 여신상으로, 한 손에는 칼, 다른 한 손에는 저울을 들고 있으며, 두 눈을 가리고 있다. 칼은 강제적인 처벌을, 저울은 평등한 판결을 의미한다. 그리고 눈을 가린 것은 주관적인 판단을 하지 않고 정의로운 판결을 내리는 것을 의미한다. ⑤ 각자 가진 조건의 차이를 무시하고 모든 사람을 똑같이 대우하는 사회는 정의로운 사회라고 할 수 없다.

문제 자료 분석하기 정의의 여신상



06 법은 분쟁과 갈등을 예방하고 해결하기 위한 수단이 된다. 법은 처벌보다 예방을 위해, 강제보다 보호를 위해 있는 것이다.

문제 자료 분석하기 법의 기능

운전자가 지켜야 할 행동 기준을 제공함으로써 불필요한 분쟁을 예방해 준다.

운전자가 지켜야 할 내용이 도로 교통법에 규정됨으로써 교통사고가 줄어들어 보다 편리한 생활을 할 수 있게 되었으며, 누구의 잘못으로 교통사고가 발생했는지 판단할 수 있게 되었다.

분쟁이 발생했을 때, 분쟁을 해결할 기준과 방법을 제공하여 합리적으로 해결하도록 한다.

- 07 법은 규율하는 생활 관계에 따라 사법, 공법, 사회법으로 구분된다. (가)는 민법으로 사적인 생활 관계를 규율하는 사법, (나)는 형법으로 공적인 생활 관계를 규율하는 공법에 해당하는다.
- 08 사법(私法)은 개인과 개인 간의 관계를 규율하는 법으로, 민법과 상법이 이에 속한다. ②는 공법, ③은 헌법에 대한 설명으로 헌법은 공법에 해당한다. ④, ⑤는 사회법에 대한 설명이다.
- 09 제시된 법들은 공법 영역에 속한다. 공법은 국가와 개인 간, 국가 기관 간의 공적인 생활 관계를 규율하는 법이다. ③은 행정법, ④는 소송법, ⑤는 형법에 대한 설명이다.
- 10 사회법은 자본주의의 문제점을 해결하고 모든 국민의 인간다운 생활을 보장하기 위해 개인의 생활 영역에 국가가 개입하여 사회적 약자를 보호하기 위한 법이다. 사회법에는 노동법, 경제법, 사회 보장법이 있다.
- 11 사회법은 사적 영역에 국가가 개입함으로써 경제적·사회적 약자를 보호하고 국민의 삶의 질을 보장하는 데 그 목적이 있다. 또한, 개인의 생활 영역에 국가가 적극적으로 개입하므로 사법과 공법의 중간적인 성격을 가지고 있다.
- 12 기가찬 씨는 구청의 처분이 부당하게 자신의 권리를 침해했다고 여기고 행정 재판을 청구하려 하고 있다. 행정 재판은 행정 기관이 국민의 권리를 침해했는지를 가려내는 재판이다.
- 13 제시된 사례는 폭력에 관련된 내용이므로, 형사 재판에 해당한다. 형사 재판은 범죄의 성립 유무와 형벌의 정도를 결정하는 재판이다.
- 14 평범해 씨는 성형외과로 인해 발생한 손해를 배상받는 것을 목적으로 하고 있으므로, 민사 재판에 해당한다. 민사 재판에서는 재판을 청구한 사람을 원고, 재판을 청구당한 사람을 피고라고 한다. 원고와 피고 모두는 변호사의 도움을 받을 수 있다.
- 15 민사 재판에서는 다투는 당사자가 원고와 피고가 되며, 소를 제기하는 쪽을 원고, 소 제기를 당한 쪽을 피고라고 한다. ㉠ 형사 재판에서 검사는 공소를 제기하여 피고인의 유죄를 주장한다.

- 16 (가)는 민사 재판정, (나)는 형사 재판정이다. ㄱ. 민사 재판은 원고가 법원에 소를 제기함으로써 시작된다. ㄴ. 형사 재판을 청구하는 사람은 검사이다.
- 17 우리나라에서는 심급 제도, 사법권의 독립, 증거 재판주의와 공개 재판주의의 원칙 등을 통해 공정한 재판이 이루어지도록 노력하고 있다.
- 18 심급 제도는 법원을 상급 법원과 하급 법원으로 나누어 한 사건에 대해 여러 번 재판을 받을 수 있게 한 제도이다.
- 19 같은 법의 강제성을 의미한다. 법은 도덕과 달리 강제성이 있어서 지키지 않으면 국가에 의해 처벌을 받게 된다. 저울은 법의 형평성(평등한 판결)을 의미한다. 법은 만인 앞에 평등하게 적용되어야 한다.

핵심 단어 | 강제성, 형평성

채점 기준	구분
칼과 저울의 의미와 그 이유를 정확히 서술한 경우	상
칼과 저울의 의미는 제시했지만, 그 이유에 대한 서술은 미흡한 경우	중
칼과 저울의 의미만 쓴 경우	하

- 20 (1) 사회법
- (2) 노동법, 경제법, 사회 보장법 등

채점 기준	구분
법의 종류를 두 가지 이상 서술한 경우	상
법의 종류를 한 가지만 서술한 경우	중

XII | 사회 변동과 사회 문제

실전 대비 체크

p. 55~56

- 01 ④
- 02 ③
- 03 ②
- 04 ⑤
- 05 ⑤
- 06 ⑤
- 07 ③
- 08 ②
- 09 ③
- 10 ⑤
- 11 ②
- 12 ③
- 13 해설 참조
- 14 해설 참조



01 사회 변동은 과학 기술의 발전, 인구 변화, 경제 위기 상황, 혁명 및 전쟁, 자연환경의 변화 등 다양한 원인에 의해 나타난다. 20세기 이후의 사회는 급격한 사회 변동을 겪고 있으며, 특히 과학 기술의 발달로 빠르게 소식을 주고받게 되면서 생활 모습이 획기적으로 변하게 되었다.

02 제시문을 통해 인류 사회의 변동 속도가 점차 빨라지고 있다는 점을 추론할 수 있다. 현대 사회에서 일어나는 변동은 과거 어느 때보다 급속하게 이루어지고 있으며, 이러한 특징이 나타나는 가장 큰 원인은 과학 기술의 발달이다.

문제 자료 분석하기 현대 사회의 변동

「실제로 인류 역사를 살펴보면 90% 이상의 기간이 수렵·채집의 시대였고, 이후 수천 년은 농경 시대였다. 만약 50만 년을 하루로 생각한다면, 농업은 밤 11시 56분에 등장하였으며, 문명은 11시 57분부터 나타나기 시작했을 뿐이다. 근대 사회의 발전은 11시 59분 30초에 겨우 시작되었다. 그렇지만 인류가 생활한 마지막 30초 동안에 엄청난 양의 발명이 쏟아져 나왔다. 현대 사회에서 발생하고 있는 변화는 인류의 시간 전체에서 발생한 모든 변화와 맞먹을 정도로 엄청난 속도로 이루어지고 있다.

03 제시문은 산업화에 대한 설명이다. 기계의 사용으로 물질적인 풍요를 누리게 되고, 공업의 발달로 도시에 많은 일자리가 생기면서 도시 인구가 증가되고 대중의 지위도 높아지게 되었다. 그러나 인간 소외 현상, 환경 오염, 빈부 격차 등의 문제가 나타났다.

04 정보화는 정보 통신 기술의 발달로 지식과 정보가 생활의 중심이 되는 사회로 변화하는 현상이다. 정보화 사회에서 사람들은 인터넷을 기반으로 한 쌍방향 매체를 활용하여 가상 공간에서 새로운 인간관계를 맺게 되면서 직접 대면하는 인간 관계가 줄어들 수 있다.

05 교통·통신 수단의 발달은 물리적 공간과 시간의 제약을 극복하고 세계를 하나의 사회처럼 연결시켜 상호 의존하는 관계로 만들었는데, 이를 세계화라고 한다. 세계화가 진행될수록 기업의 활동은 자유로워진다. 특히 국경에 구애받지 않고 여러 나라에 영업, 제조, 판매 거점을 보유한 세계적 규모의 기업인 다국적 기업의 활동이 증가한다. ㄱ. 세계화로 인해 전 세계가 하나의 생활 단위가 되어 국경의 의미는 약화된다. ㄴ. 사생활 침해는 정보화로 인해 개인 정보가 유출되었을 때 발생하는 문제점에 해당한다.

06 과거 우리 사회는 남성 중심적인 문화가 강하게 나타나는 닫힌 사회였으나, 최근 여성의 사회 진출이 늘어나면서 양성 평등적인 열린 사회로 빠르게 변화하고 있다.

선택지 바로 보기

- ① 산업 사회에서 농업 사회로 변화하였다. (×)
- ② 농업 사회에서 산업 사회로 변화하였다.

- ② 1960년대 후반부터 정보 통신 산업이 성장하였다. (×)
- ③ 1990년대 중후반 무렵부터 컴퓨터, 인터넷, 휴대 전화 등을 중심으로 정보 통신 산업이 성장하였다.
- ③ 정부 주도의 경제 개발로 농업 사회에 진입하였다. (×)
- ④ 1960년대 정부의 경제 개발 정책으로 산업화와 도시화가 진행되었다.
- ④ 정부의 시민 교육을 통해 민주 사회를 이룩하였다. (×)
- ⑤ 1980년대 후반 정부의 권위주의적 지배에 저항한 시민들의 민주화 운동으로 민주 사회를 이룩하였다.
- ⑤ 여성의 사회 진출이 늘어나고 다원성을 인정하는 개방적 태도가 확산되었다. (○)

07 제시된 그래프에서 출산율은 감소하고 65세 이상 인구 비율이 계속해서 증가하는 것을 통해 저출산·고령화 현상을 파악할 수 있다. 이와 같은 현상이 지속된다면 노인 인구 부양에 필요한 비용이 증가하여 국가나 사회적 부담이 증가하게 된다.

08 우리나라의 경우 평균 수명이 연장되어 노인 인구가 증가됨에 따라 고령화가 이루어지고 있는데, 선진국에 비하여 정년 연령이 10년 정도가 낮다. 이는 노인 인구에 대한 노후 생활 보장 문제와 할 일 없이 소일하는 노인들의 심리적 소외감·허탈감에 따른 사회 문제를 발생시킬 것이다. 따라서 노인 인구의 경제 활동을 장려하기 위해서는 정년을 연장해야 한다. 고령화 사회에서는 정년의 연장, 퇴직자의 재취업 기회의 확대, 노후 생활의 보장을 위한 사회 보장 제도의 확충 등이 앞으로의 중요한 과제이다. ③은 임금 피크제, ④는 연금 제도, ⑤는 노인 장기 요양 보험 제도에 해당한다.

09 우리나라는 외국에서 온 이주민이 늘어나면서 문화가 더욱 다양해지고 있다. 이주민 중에는 일자리를 찾아 들어온 외국인 근로자들이 가장 많으며, 2000년대 이후 국제결혼이 많이 증가하면서 외국인 배우자가 늘어났다. 한편 북한 이탈 주민도 증가하고 있는데, 북한 이탈 주민은 우리와 같은 민족이지만, 오랜 남북 분단으로 말미암아 문화적으로 상당한 차이를 보인다. ㄴ. 평균 수명의 증가는 고령화 현상의 원인에 해당한다. ㄹ. 외국으로 나가는 유학생은 우리 사회의 다문화 현상과는 직접적인 관련이 있다고 보기 어렵다.

10 사회 문제는 상대성을 지니므로 시간과 공간에 따라 종류와 성격이 다양하게 나타난다.

11 현대 사회에서는 자유와 평등의 가치관이 확대됨에 따라 대부분의 사람들이 평등하며 특히 성리학적 신분관은 더 이상 존재하지 않는다.

12 환경 문제를 해결하기 위해서 개인과 가정은 물건 재활용, 쓰레기 분리 배출 등에 적극 참여해야 한다. 기업은 환경 오염 방지 시설에 대한 투자를 확대하고, 친환경 기술 개발에 노력해야 한다. 정부는 환경 오염세를 부과하는 등 환경 보전을 적극적으로 유도해야 한다. ③ 에너지 효율 등급이 높은 상품을 생산하고 사용하는 것이 환경 보호에 이롭다.

13 (1) 취업, 결혼, 유학 등의 이유로 외국인 이주민이 증가하였기 때문이다.

(2) 서로 다른 문화의 충돌로 인한 갈등, 다문화 구성원에 대한 사회적 편견과 차별 등이 발생할 수 있다.

| 핵심 단어 | 서로 다른 문화의 충돌, 사회적 편견, 차별

채점 기준	구분
문화 충돌로 인한 갈등, 사회적 편견, 차별을 모두 서술한 경우	상
문화 충돌로 인한 갈등, 사회적 편견, 차별 중 두 가지만 서술한 경우	중
서로 다른 문화가 충돌할 수 있다고만 서술한 경우	하

14 발생 원인이 사회에 있어야 한다. 사회 구성원 대다수가 문제로 여겨야 한다. 인간의 노력으로 해결될 수 있어야 한다.

| 핵심 단어 | 발생 원인이 사회에 있음, 사회 구성원 대다수가 문제로 여김, 인간의 노력으로 해결 가능

채점 기준	구분
사회 문제의 요건 중 두 가지를 올바르게 서술한 경우	상
사회 문제의 요건 중 한 가지만 서술한 경우	하

memo



memo



memo

