

정답과 해설

진도 교재

I. 인권과 헌법	2
II. 헌법과 국가 기관	6
III. 경제생활과 선택	11
IV. 시장 경제와 가격	16
V. 국민 경제와 국제 거래	21
VI. 국제 사회와 국제 정치	26



I | 인권과 헌법

01 인권 보장과 기본권

STEP 1 차근 차근 개념 체크 p.11

1 (1) 인권 (2) ㉠ 천부 인권, ㉡ 자연권 2 (1) ㄴ (2) ㄹ 3 (1) ㉠ (2) ㉢ (3) ㉤ (4) ㉡ (5) ㉢ 4 ㉠ 공공복리, ㉡ 법률 5 (1) ○ (2) ×

STEP 2 차곡 차곡 실력 체크 p.11~13

01 ㉡ 02 ㉢ 03 세계 인권 선언 04 ㉢
05 ㉠ 06 ㉢ 07 ㉣ 08 ㉠ 09 ㉢
10 ㉡ 11 ㉢ 12 ㉡ 13 해설 참조 14 해설 참조
15 해설 참조

01 ㄴ. 인권은 법으로 보장하기 이전에 자연적으로 주어진 권리이다. ㄹ. 인권은 남이 빼앗을 수 없을 뿐만 아니라 남에게 양도할 수도 없다.

선택지 바로 보기

- ㄱ. 태어날 때부터 인간에게 주어진 권리이다. (○)
- ㄴ. 국가에서 법으로 보장해야 누릴 수 있는 권리이다. (×)
- ▶ 법으로 보장하기 이전에 자연적으로 주어진 권리이다.
- ㄷ. 국가 권력이 함부로 침해할 수 없는 불가침의 권리이다. (○)
- ㄹ. 사회 전체의 이익을 위해서 타인에게 양도할 수 있는 권리이다. (×)
- ▶ 인권은 어떠한 이유로도 빼앗거나 양도할 수 없다.

02 모든 사람이 보편적으로 누려야 할 인권의 기준을 제시한 것은 국제 연합(UN)에서 채택된 세계 인권 선언이다.

플러스 특강 인간과 시민의 권리 선언

인간과 시민의 권리 선언은 프랑스의 제헌 국민 의회에 의하여 1789년 8월 26일에 채택된 인권 선언이다. 인간과 시민의 권리 선언은 자연법 사상의 영향을 받아 자유와 평등, 종교, 출판, 결사의 자유 등 인간에게 시간과 장소를 초월한 천부적인 권리가 있음을 선언하였다. 이 선언으로 인간의 기본권을 억압하던 로마 가톨릭 교회 중심의 봉건적 억압은 끝을 맞이하였다.

03 세계 인권 선언은 제2차 세계 대전 당시에 일어났던 심각한 인권 침해에 대한 반성으로 국제 연합(UN) 총회에서 채택되었다.

문제 자료 분석하기 세계 인권 선언

세계 인권 선언은 1948년 12월 10일 국제 연합 총회에서 채택된 인권에 관한 세계 선언문이다. 세계 인권 선언은 국제 연합의 결의로서 비록 직접적인 법적 구속력은 없으나 오늘날 대부분의 국가 헌법 또는 기본법에 그 내용이 각인되고 반영되어 실효성이 크다. 또한 세계 인권 선언은 국제 사회에서 '국제 관습법'으로 인정되고 있기 때문에 우리나라에서도 헌법에 준하는 실효성을 지니고 있다.

04 헌법은 국민의 인권을 실질적으로 보장하기 위한 것으로, 국민의 인권을 기본적인 인권으로 규정하고 있다. ③ 헌법에 명시되지 않은 권리라고 해서 경시되지 않는다.

플러스 특강 헌법에 열거되지 않은 권리

우리 헌법에서는 헌법에 열거되지 않은 권리라고 해서 경시되지 않음을 밝히고 있다(헌법 제 37조 ①항). 예로는 자기 결정권, 알 권리, 저항권, 일조권, 수면권 등이 있다.

05 (가)는 인간의 존엄과 가치 및 행복 추구권으로, 이는 모든 기본권이 지향하는 근본 가치이며 포괄적 기본권이라고도 한다. ㄷ은 청구권, ㄹ은 사회권에 대한 설명이다.

06 참정권은 국민이 국가 기관의 형성과 국가의 정치적 의사 형성 과정에 참여할 수 있는 권리이다. 참정권에는 선거권, 공무담임권, 국민투표권 등이 있다.

07 근로의 권리, 교육을 받을 권리, 사회 보장을 받을 권리, 쾌적한 환경에서 살 권리 등은 인간다운 생활을 국가로부터 보장받을 수 있는 사회권에 해당한다.

선택지 바로 보기

- ① 국가의 의사 결정에 참여할 수 있는 권리이다. (×)
- ▶ 참정권
- ② 생활의 모든 영역에서 동등하게 대우받을 권리이다. (×)
- ▶ 평등권
- ③ 다른 기본권이 침해되었을 때 이를 구제하기 위한 권리이다. (×)
- ▶ 청구권
- ④ 최소한의 인간다운 생활을 국가로부터 보장받을 권리이다. (○)
- ⑤ 국가 권력의 간섭을 받지 않고 자신의 삶을 누릴 수 있는 권리이다. (×)
- ▶ 자유권

08 수사 기관에서 피의자를 체포할 때는 신체의 자유를 보호할 수 있는 권리를 알려 주어야 하며, 이와 관련된 기본권은 자유권이다.

문제 자료 분석하기 미란다 원칙

경찰이 범죄 용의자 연행 시 용의자에게 연행 사유, 변호인 도움 요청 권리, 진술 거부권 등이 있음을 미리 고지해야 한다는 원칙이다. 이는 신체의 자유와 관련하여 범죄 용의자의 심문 과정에서 경찰의 강압과 부당 행위를 막아 기본권을 보장하려는 것이다. 즉 공권력 행사가 적법한 절차를 거쳐 이루어지도록 하려는 의도이다.

미란다 원칙의 유래는 1966년 미국 연방 대법원의 한 판례에서 비롯되었다. 1963년 3월 미국 애리조나에서 납치 및 강간 혐의로 체포당한 에르네스토 미란다는 변호사도 선임하지 않은 상태에서 경찰의 심문을 받고 범행을 자백했으나 재판에서 자백을 번복하였다. 미란다는 1심과 2심에서 유죄가 인정되어 각각 징역 20년형과 30년형을 선고받았다. 그러나 연방 대법원은 피의자가 진술 거부권 및 변호인 선임권 등의 권리를 고지받지 못하였다는 이유로 원심을 파기하였다.

09 재판을 청구할 수 있는 권리는 청구권, 사회 보장을 받을 권리는 사회권에 해당한다.

- 10 국민의 기본권은 국가 안전 보장, 질서 유지, 공공복리를 위해 꼭 필요한 경우에 한하여 법률로써 제한할 수 있다.
- 11 기본권 제한의 요건을 모두 충족하더라도, 기본권 자체가 무의미해지는 정도의 제한은 기본권의 본질적인 내용을 침해하는 것이므로 허용될 수 없다. 이처럼 국민의 기본권 제한에 한계를 두는 것은 국가 권력의 남용을 방지하고 국민의 자유와 권리를 최대한 보장하기 위해서이다.

선택지 바로 보기

- ① 기본권을 무제한적으로 행사하기 위해 (×)
- ✔ 기본권 제한에 한계를 두는 것이지 기본권을 무제한적으로 행사하기 위함이 아니다.
- ② 언제나 국가의 이익을 우선시하기 위해 (×)
- ✔ 발생하는 공익이나 국익이 침해되는 시익보다 커야 기본권을 제한할 수 있다.
- ③ 국가에 의한 기본권 제한을 금지하기 위해 (×)
- ✔ 기본권 제한에 한계를 두는 것이지 제한 자체를 금지하는 것은 아니다.
- ④ 어떠한 경우라도 국민의 기본권을 보장하기 위해 (×)
- ✔ 국가 안전 보장, 질서 유지, 공공복리를 위해 기본권을 제한할 수 있다고 명시되어 있다.
- ⑤ 국가 권력의 남용을 방지하고 국민의 기본권을 최대한 보장하기 위해 (○)

- 12 국가의 안전을 보장하기 위해 군사 지역과 같은 곳에서 자유롭게 사진 찍는 것을 제한할 수 있다.
- 13 (1) 인권
(2) 인간이 태어나면서부터 가지는 것으로, 하늘이 준 권리(천부 인권)이다. 국가의 법으로 정하기 이전에 자연적으로 주어지는 권리(자연권)이다. 국가 권력이 함부로 침해할 수 없는 불가침의 권리이다.

| 핵심 단어 | 천부 인권, 자연권, 불가침

채점 기준	구분
인권의 특징을 두 가지 이상 서술한 경우	상
인권의 특징을 한 가지만 서술한 경우	하

- 14 (1) 청구권
(2) 다른 기본권을 침해당했을 때 국가에 이에 대한 구제를 요구할 수 있는 수단적 성격의 권리이다.

| 핵심 단어 | 기본권 침해, 구제, 요구, 수단적 성격

채점 기준	구분
청구권의 특징을 서술하고, 수단적 성격을 언급한 경우	상
청구권의 특징은 서술했지만, 수단적 성격을 언급하지 않은 경우	중
청구권의 특징을 제대로 서술하지 못한 경우	하

- 15 (1) 국가 안전 보장, 질서 유지, 공공복리
(2) 자유와 권리의 본질적인 내용은 침해할 수 없다.

| 핵심 단어 | 자유와 권리, 본질적인 내용

채점 기준	구분
기본권 제한의 한계를 제대로 서술한 경우	상
기본권 제한의 한계를 제대로 서술하지 못한 경우	하

02 인권 침해와 구제
~ 03 노동권 침해와 구제

STEP 1 차근 차근 개념 체크

p. 17

- 1 (1) ○ (2) ○ 2 (1) ⊖ (2) ⊖ (3) ⊕ 3 (1) 근로자 (2) 부당 노동 행위 (3) 노동 위원회 4 (1) L (2) C (3) T 5 (1) ○ (2) × (3) ×

STEP 2 차곡 차곡 실력 체크

p. 17~19

- 01 ③ 02 ② 03 ② 04 ④ 05 ⑤
06 ⑤ 07 ③ 08 ④ 09 ④ 10 ①
11 ③ 12 ① 13 ② 14 해설 참조 15 해설 참조
16 해설 참조

- 01 인권 침해란 인간으로서 가진 권리 혹은 법으로 보장되는 기본권이 존중받지 못하고 타인이나 국가 등에 의해 침해되는 것을 의미한다. 헌법, 법률, 국제법 등 다양한 법이 인권을 보호하고 있지만, 현실에서는 인권이 침해되어 피해를 보는 일이 발생한다.
- 02 법원은 민사 재판, 형사 재판, 행정 재판 등을 통해 국가 기관이나 개인 또는 단체에 의해 권리 침해를 당한 사람의 인권을 구제하는 역할을 한다. L은 헌법 재판소, R은 국가 인권 위원회에서 하는 일이다.
- 03 헌법 재판소는 공권력이나 법률에 의해 기본권을 침해당한 사람이 헌법 소원을 제기하면 해당 사건이 헌법에 위배되는지 여부를 판단하여 권리를 구제해 준다.
- 04 국가 인권 위원회는 인권과 관련된 전반적인 문제를 다루는 독립적인 국가 기관으로, 인권 침해 행위를 직접 조사하고 시정해야 할 사항을 해당 기관에 권고함으로써 인권을 보장하고자 노력한다.

선택지 바로 보기

- ① 위헌 법률 심판을 통해 인권을 보호한다. (×)
- ✔ 헌법 재판소에 대한 설명이다.
- ② 행정부에 소속되어 인권과 헌법을 보호한다. (×)
- ✔ 국가 인권 위원회는 입법, 사법, 행정 어디에도 속하지 않는 독립된 기관이다.
- ③ 다양한 재판을 통해 국민의 권리를 보호한다. (×)
- ✔ 법원에 대한 설명이다.
- ④ 인권 침해 행위를 직접 조사하고 시정해야 할 사항을 해당 기관에 권고한다. (○)
- ⑤ 법을 잘 모르거나 경제적으로 어려운 사람들에게 무료로 법률 상담을 해 준다. (×)
- ✔ 대한 법률 구조 공단에 대한 설명이다.

- 05 국민 권익 위원회의 산하 기관인 중앙 행정 심판 위원회는 행정 기관의 잘못된 처분으로 권리를 침해당한 국민이 행정 심판을 제기하면 이를 조사하여 잘못된 처분을 바로잡는다. 또 국민 권익 위원회에서는 행정 제도와 관련한 고충 민원과 부패 관련 신고도 접수·처리한다.

선택지 바로 보기

- ① 다른 사람에게 폭력을 당했을 때 (X)
 * 수사 기관에 고소함과 동시에 민사 소송을 할 수 있다.
- ② 다른 시민이 나의 인권을 침해했을 때 (X)
 * 국가 인권 위원회에 진정하거나 민사 소송을 할 수 있다.
- ③ 잘못된 언론 보도로 피해를 보았을 때 (X)
 * 언론 중재 위원회에 조정 신청을 할 수 있다.
- ④ 국회가 제정한 법률이 기본권을 침해했을 때 (X)
 * 법원에서 헌법 재판소에 위헌 법률 심판을 요청한다.
- ⑤ 행정 기관의 잘못된 처분으로 피해가 발생했을 때 (O)

- 06 법원, 헌법 재판소, 국가 인권 위원회는 국민의 기본적인 인권을 보호·증진·구제하기 위해 노력하는 국가 기관이다.
- 07 국가 인권 위원회에 진정을 하면 조사를 통해 필요한 사항을 권고하여 침해된 인권을 구제해 준다. 제시된 사례에서 국가 인권 위원회는 학교가 명찰이 부착된 교복을 학생들에게 강요하는 것은 사생활 침해에 해당한다고 판정하고, 이와 관련된 학교 규칙 및 학교생활 규정을 개선하도록 권고하였다.

선택지 바로 보기

- ① 경찰에 고소한다. (X)
 * 형사 책임을 물어야 할 범죄에 해당하지 않는다.
- ② 법원에 형사 소송을 제기한다. (X)
 * 형사 소송은 범죄 사건에 적용된다.
- ③ 국가 인권 위원회에 진정한다. (O)
- ④ 헌법 재판소에 헌법 소원 심판을 청구한다. (X)
 * 국가 권력에 의한 인권 침해는 아니므로 해당하지 않는다.
- ⑤ 언론 중재 위원회에 피해 사례를 접수한다. (X)
 * 학교는 언론 기관이 아니므로 해당하지 않는다.

- 08 국가 기관이 시민의 인권을 침해한 때는 법원의 행정 소송이나 헌법 재판소의 위헌 법률 심판과 헌법 소원 심판 등을 통해 구제받을 수 있다. 다른 시민이 나의 인권을 침해한 때는 법원의 민사 소송을 통하여 구제받을 수 있으며, 인권 침해 행위가 범죄에 해당하면 경찰, 검찰에 고소하여 가해자가 처벌받도록 할 수 있다.
- 09 근로자란 임금을 목적으로 사용자에게 노동을 제공하는 사람이다. 따라서 누군가에 고용되지 않고 스스로 사업을 하는 자영업자는 근로자가 아니다. 한편 근로자는 직업의 종류와 근로 시간에 상관없이 사용자에게 임금을 받고 일하는 모든 사람을 뜻하므로 공무원, 아르바이트생도 근로자에 포함된다.
- 10 근로자가 최소한의 인간다운 생활을 할 수 있도록 법률을 통해 근로 조건의 최저 기준을 제시하고 있으며, 최저 임금 제도를 시행하고 있다.

플러스 특강 최저 임금 제도

임금의 최저 수준을 법률로 정하여 근로자를 보호하는 제도이다. 따라서 사용자는 이 법을 준수하여 근로자에게 최저 임금 이상의 임금을 지급해야 한다. 최저 임금은 근로자 위원 9명, 사용자 위원 9명, 공익 위원 9명으로 구성된 최저 임금 위원회의 심의, 의결을 거쳐 고용노동부 장관이 매년 고시한다.

- 11 단결권, 단체 교섭권, 단체 행동권을 노동 삼권이라고 하는데, 그 중 근로 조건의 유지 및 개선을 위해 근로자가 파업 등의 쟁의 행위를 할 수 있는 권리는 단체 행동권이다.
- 12 우리 헌법과 「근로 기준법」은 일하는 청소년들에게 노동의 권리와 함께 특별한 보호를 하고 있다. 이에 따라 청소년들은 위험한 일이나 유해 업종의 일을 할 수 없다.

선택지 바로 보기

- ① 장◇◇: 청소년 아르바이트생은 위험한 일을 할 수 없도록 차별했어요. (X)
- ② 최☆☆: 동료와 노동조합을 만들려고 하는데 회사 측에서 방해를 합니다. (O)
 * 노동 삼권 중 단결권을 침해한 부당 노동 행위이다.
- ③ 김○○: 월급날이 되었는데 사장님이 돈이 없다며 월급을 절반만 주었어요. (O)
 * 임금을 제대로 지급하지 않는 것은 노동권 침해에 해당한다.
- ④ 박△△: 공장에서 주문 물량이 많다고 이번 주는 매일 6시간씩 야간 작업을 하라고 합니다. (O)
 * 「근로 기준법」에 명시된 주당 근로시간 및 연장 근로시간을 위반하였다.
- ⑤ 나□□: 회사에 결혼한다고 말하자 결혼한 여성은 회사를 그만두어야 한다며 사표를 내라고 했어요. (O)
 * 부당 해고에 해당한다.

- 13 제시된 사례는 부당 노동 행위에 해당하며, 이때 근로자는 노동 위원회에 구제 신청을 하거나 법원의 도움을 받아 노동 삼권을 보장받을 수 있다.

- 14 (1) (가), (다)
 (2) 국가 인권 위원회에 진정한다.

| 핵심 단어 | 국가 인권 위원회, 진정

채점 기준	구분
국가 인권 위원회를 정확하게 서술한 경우	상
국가 인권 위원회를 서술하지 못한 경우	하

- 15 (1) 단결권, 단체 교섭권, 단체 행동권
 (2) 경제적으로 약자인 근로자가 사용자와 대등한 위치에서 근로 조건을 협의하고 결정할 수 있도록 하기 위해서이다.

| 핵심 단어 | 경제적, 약자(약한 지위), 근로자, 사용자, 대등한 위치

채점 기준	구분
노동 삼권을 보장하는 이유를 적절히 서술한 경우	상
노동 삼권을 보장하는 이유를 적절히 서술하지 못한 경우	하

- 16 (1) 부당 노동 행위
 (2) 노동 위원회에 구제 신청을 한다. 법원에 소를 제기한다.

| 핵심 단어 | 노동 위원회, 구제 신청, 법원, 소 제기

채점 기준	구분
노동권 구제 방법을 두 가지 서술한 경우	상
노동권 구제 방법을 한 가지 서술한 경우	하

01 ②	02 ③	03 ④	04 ③	05 ②
06 ②	07 ④	08 ③	09 ①	10 ④
11 헌법 재판소 12 ④	13 ④	14 ①	15 ②	
16 ②	17 ②	18 해설 참조	19 해설 참조	20 해설 참조

- 01 인권은 인간이 만든 법이 아닌 자연법에 의해 주어지는 자연 권으로서의 특징이 있다.
- 02 인권은 헌법에 규정되어 있지 않다는 이유로 경시되어서는 안 된다.
- 03 청구권은 국가에 대해 일정한 행위를 요구할 수 있는 권리로, 청원권, 재판 청구권, 국가 배상 청구권 등이 있다.

선택지 바로 보기

- ① 평등권 - 정치에 참여할 수 있는 권리 (x)
▶ 참정권에 대한 설명이다.
- ② 참정권 - 불합리한 차별을 받지 않을 권리 (x)
▶ 평등권에 대한 설명이다.
- ③ 사회권 - 국가 권력의 간섭이나 침해받지 않을 권리 (x)
▶ 자유권에 대한 설명이다.
- ④ 청구권 - 침해된 기본권에 대한 구제를 요구할 수 있는 권리 (o)
- ⑤ 자유권 - 국가에 최소한의 인간다운 생활을 요구할 수 있는 권리 (x)
▶ 사회권에 대한 설명이다.

- 04 ①, ②, ④, ⑤는 국가에 대해 최소한의 인간다운 생활의 보장을 요구할 수 있는 권리인 사회권이다. ③은 국가에 대해 일정한 행위를 해 달라고 요구할 수 있는 청구권에 해당한다.
- 05 나이 때문에 원하는 직업에 도전할 기회를 박탈하는 것은 모든 국민이 부당하게 차별받지 않고 동등하게 대우받을 권리인 평등권을 침해하는 것이다.

선택지 바로 보기

- ① 거주와 이동의 자유는 이 권리에 해당한다. (x)
▶ 자유권에 해당한다.
- ② 다른 기본권을 실현하기 위한 전제 조건이다. (o)
- ③ 국가 기관의 구성과 운영에 참여할 수 있는 권리이다. (x)
▶ 참정권에 해당한다.
- ④ 다른 기본권을 보장하기 위한 수단적 성격의 권리이다. (x)
▶ 청구권에 해당한다.
- ⑤ 국가에 인간다운 생활을 요구할 수 있는 적극적인 권리이다. (x)
▶ 사회권에 해당한다.

- 06 참정권은 국가의 정치 과정에 참여할 수 있는 권리이다. 참정권에는 대표를 뽑을 수 있는 선거권, 공직을 맡을 수 있는 공무 담임권, 국가의 중요 정책을 직접 결정할 수 있는 국민 투표권 등이 있다. 나, 르, 베티는 청구권에 해당한다.
- 07 헌법에 기본권 제한 관련 조항을 둔 것은 국가 권력의 남용

을 방지하고 국민의 자유와 권리를 최대한 보장하는 데 그 목적이 있다.

선택지 바로 보기

- ① 사회 질서를 유지하기 위해서이다. (x)
▶ 질서 유지는 기본권 제한의 조건에 해당하며, 궁극적인 목적이라고 보기는 어렵다.
- ② 국가의 통제권을 강화하기 위해서이다. (x)
▶ 기본권 제한은 국가 권력의 남용을 방지하기 위해 행해진다.
- ③ 국민의 기본권을 대통령 마음대로 제한하도록 하기 위해서이다. (x)
▶ 기본권 제한은 국가 권력의 남용을 방지하기 위해 행해진다.
- ④ 국가 권력의 남용을 방지하고 국민의 자유와 권리를 최대한 보장하기 위해서이다. (o)
- ⑤ 국민의 기본권을 제한하는 목적과 범위를 다양하게 해석할 수 있도록 하기 위해서이다. (x)
▶ 우리 헌법은 기본권을 제한하는 목적과 범위를 명확하게 명시하고 있다.

- 08 교통질서를 유지하기 위해 차도에서는 무단 횡단, 신호 위반 등을 금지하고 속도를 제한하는 등 자유권 일부가 제한된다. 기본권을 제한할 경우에도 법률에 근거해야 하며, 자유와 권리의 본질적인 내용은 침해할 수 없다.
- 09 인권 침해는 국가 기관에 의해서 발생하기도 하고 개인이나 단체에 의해서 발생하기도 한다.
- 10 여성의 임신, 출산, 육아를 이유로 교육 시설 이용을 제한하는 것은 성별에 따른 차별 행위에 해당한다. 국가 인권 위원회는 부당하게 차별당한 사람이 진정을 하면 이를 조사하여 구제해 준다.
- 11 헌법 재판소는 헌법 소원 심판이나 위헌 법률 심판 등을 통해 국가 기관의 권력 행사나 법률로 침해된 인권을 구제해 준다.
- 12 인권을 침해당한 사람은 법원에 소장을 제출하여 재판으로 침해된 권리를 구제받을 수 있다.

선택지 바로 보기

- ① 잘못된 언론 보도로 피해를 보았을 때는 한국 소비자원의 도움을 받을 수 있다. (x)
▶ 언론 중재 위원회의 도움을 받을 수 있다.
- ② 일상생활에서 인권이 침해되면 헌법 재판소에 진정서를 제출해 구제를 요청할 수 있다. (x)
▶ 헌법 재판소에서는 헌법 소원 심판을 담당하며, 진정은 국가 인권 위원회에 할 수 있다.
- ③ 국민 권익 위원회는 인권 침해 행위를 직접 조사하고 시정 사항을 해당 기관에 권고한다. (x)
▶ 국가 인권 위원회에 대한 설명이다.
- ④ 다른 시민에 의해 인권을 침해당했을 때는 법원의 민사 소송을 통하여 구제받을 수 있다. (o)
- ⑤ 행정 기관의 잘못된 처분으로 피해가 발생했을 때는 국가 인권 위원회가 조사하여 권리를 구제해 준다. (x)
▶ 국민 권익 위원회와 그 산하 기관인 각 지역의 행정 심판 위원회에 대한 설명이다.

- 13 언론 중재 위원회는 잘못된 언론 보도로 명예 훼손, 초상권

침해가 발생한 경우 피해를 회복할 수 있는 절차를 마련하여 인권 침해를 구제하는 국가 기관이다.

- 14 청소년 근로자도 성인과 같은 최저 임금을 받는다.
- 15 우리나라 법은 사용자가 정당한 이유 없이 근로자를 해고할 수 없으며, 해고가 불가피한 경우 합리적이고 공정한 기준을 따라야 함을 밝히고 있다.
- 16 헌법은 근로관계에서 경제적으로 약자인 근로자의 권리를 보장하기 위하여 근로자에게 노동 삼권을 부여하고 있다. 노동 삼권에는 단결권, 단체 교섭권, 단체 행동권이 있다. 제시된 그림의 사례는 단체 교섭권에 해당한다.
- 17 사용자가 노동 삼권을 침해하는 행위를 부당 노동 행위라고 하며, 부당 노동 행위나 부당 해고가 발생하면 노동 위원회에 구제를 신청할 수 있다.

선택지 바로 보기

- ㄱ. 사용자가 노동 삼권을 침해하는 행위를 부당 노동 행위라고 한다. (○)
- ㄴ. 최소 1주일 전에 해고 계획을 알리지 않으면 부당 해고에 해당한다. (×)
- ㉠ 해고가 불가피한 경우 사용자는 적어도 30일 전에 해고 계획을 알려야 하고, 문서를 통해 해고 사유와 시기를 알려야 한다.
- ㄷ. 부당 해고나 부당 노동 행위가 발생하면 노동 위원회에 구제를 신청한다. (○)
- ㄹ. 최저 임금보다 적은 임금을 지급해도 당사자가 합의한 경우라면 노동권 침해에 해당하지 않는다. (×)
- ㉡ 근로자와 사용자가 합의했다고 하더라도 법을 위반하는 근로 조건은 노동권 침해에 해당하며, 법률상으로 해당 조건은 효력이 없다.

- 18 (1) 천부 인권 사상
(2) 근대 시민 혁명 사상의 핵심을 널리 알려 인권 보장 사상을 확립하는 데 크게 이바지하였다.

| 핵심 단어 | 시민 혁명, 인권 사상

채점 기준	구분
시민 혁명과 인권 사상에 대해 서술한 경우	상
시민 혁명과 인권 사상 중 하나에 대해서만 언급한 경우	하

- 19 (1) 사회권
(2) 국민이 국가에 인간다운 생활의 보장을 요구할 수 있는 적극적 권리이다.

| 핵심 단어 | 인간다운 생활, 적극적 권리

채점 기준	구분
적극적 권리로서의 사회권의 특징을 서술한 경우	상
적극적 권리에 대해 서술하지 못한 경우	하

- 20 고용노동부에 진정하거나 법원에 민사 소송을 제기한다.

| 핵심 단어 | 고용노동부, 민사 소송

채점 기준	구분
구제 방법을 모두 서술한 경우	상
구제 방법을 한 가지만 서술한 경우	하

III | 헌법과 국가 기관

01 국회

STEP 1 차근 차근 개념 체크

p. 26

- 1 국회 2 (1) ○ (2) ○ 3 (1) 지역구, 비례 대표 (2) 상임 4 (1) 입법 (2) 재정 (3) 일반 5 (1) ㄴ (2) ㄱ (3) ㄷ

STEP 2 차곡 차곡 실력 체크

p. 26~27

- 01 ㉠ 02 ㉡ 03 ㉢ 04 ㉣ 05 ㉤
06 ㉥ 07 ㉦ 08 해설 참조 09 해설 참조

- 01 현대 민주 국가는 영토가 넓고 인구가 많아 모든 국민이 한 자리에 모이기 어렵다. 또한 국가 정책이 점점 복잡해지고 전문화되어 간접 민주제(대의 정치)를 채택하고 있다.

선택지 바로 보기

- ㄱ. 직접 민주주의가 실현되었다. (×)
- ㉠ 모든 국민이 모여서 직접 국가의 일을 결정하는 것이 매우 어렵기 때문에 선거를 통해 대표자를 선출하고 그들이 나라의 중요한 일을 결정하도록 하는 간접 민주제를 채택하고 있다.
- ㄴ. 국가의 정치 영역이 축소되었다. (×)
- ㉡ 국가의 정치 영역이 확대되었다.
- ㄷ. 현대 국가는 고대 국가에 비해 영토가 확대되었다. (○)
- ㄹ. 인구가 증가하여 모든 국민이 한 자리에 모이기 어려워졌다. (○)

- 02 국회는 국민이 직접 선출한 국회 의원들로 구성된 국민의 대표 기관이자, 국가 정책의 바탕이 되는 법률을 만드는 입법 기관이다. 또한 국회는 다른 국가 기관을 비판하고 감시함으로써 국가 권력의 남용을 방지하고 국민의 기본권을 보장하는 국가 권력 견제 기관이다.

②에서 설명하는 ‘결정된 정책을 집행하는 기관’은 행정부이다.

- 03 우리나라 국회 의원 선거에서는 지역구 국회 의원을 선출하기 위한 투표와 비례 대표 국회 의원을 선출하기 위한 정당 투표를 동시에 실시한다. ③ 국회 의원의 임기는 4년이다.

문제 자료 분석하기 국회 의원의 선출

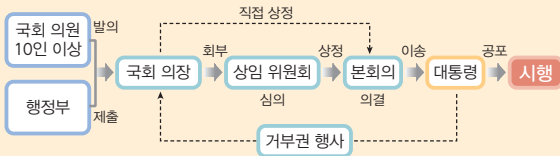
지역구 국회 의원	국민이 선거구별 후보자에게 투표하여 직접 선출
비례 대표 국회 의원	선거에서 정당이 얻는 득표율에 비례하여 선출

- 04 국회가 구성되면 국회의 의원 중에서 재적 의원 과반수의 득표를 얻어 국회 의장 1명과 부의장 2명을 선출한다.
- 05 (가)는 재정에 관한 권한, (나)는 입법에 관한 권한에 해당한다.
- 06 신문 기사에 나타난 국회의 권한은 일반 국정에 관한 권한(국정 견제 권한)이다. 국정 감사 및 국정 조사권, 고위 공직자 임명 동의권, 탄핵 소추권이 이에 해당한다.
- 07 본회의에 상정된 법률안은 재적 의원 과반수의 출석과 출석 의원 과반수의 찬성으로 의결한다.

선택지 바로 보기

- ① 법률안은 국회 의원만 제안할 수 있다. (×)
- ② 우리나라는 국회 의원 10인 이상과 행정부가 법률안을 제안·제출할 수 있다.
- ③ 법률안의 개정은 행정부에서 담당한다. (×)
- ④ 법률안의 개정권은 입법부인 국회에 속한다.
- ⑤ 모든 법률안은 상임 위원회의 심의를 거쳐야만 한다. (×)
- ⑥ 국회의장이 직접 본회의에 상정할 수 있다.
- ⑦ 본회의에서 재적 의원 과반수의 출석과 출석 의원 과반수의 찬성으로 의결한다. (○)
- ⑧ 대통령은 거부권을 행사할 수 없으며, 모든 법률안은 의결 즉시 공포하여야 한다. (×)
- ⑨ 국회를 통과한 법률안은 행정부로 보내져 15일 이내에 대통령이 공포한다. 법률안에 이의가 있을 때, 대통령은 거부권을 행사할 수 있다.

문제 자료 분석하기 법률 제정 과정



- (1) 법률안 제안: 국회 의원 10인 이상이 발의하거나 행정부가 법률안을 제출할 수 있다.
- (2) 법률안 심의: 국회 의장은 제안된 법률안을 상임 위원회에 넘겨 전문적인 심의를 거치게 한다. 국회 의장은 상임 위원회를 거치지 않고 직접 법률안을 상정할 수 있다.
- (3) 본회의 의결: 상임 위원회를 통과한 법률안은 본회의에서 질의·토론을 거쳐, 재적 의원 과반수의 출석과 출석 의원 과반수의 찬성으로 의결한다.
- (4) 법률안 공포: 국회를 통과한 법률안은 행정부로 보내져 15일 이내에 대통령이 공포한다. 법률안에 이의가 있을 경우 대통령은 거부권을 행사할 수 있다.
- (5) 시행: 법률안은 공포한 날로부터 20일 후 효력이 발생한다.

- 08 (1) 상임 위원회
- (2) 효율적인 의사 진행을 위해 본회의에서 결정할 안건을 미리 조사하고 심의한다.

핵심 단어 | 효율적 의사 진행, 본회의

채점 기준	구분
상임 위원회의 기능을 바르게 서술한 경우	상
상임 위원회가 담당하는 전문 분야만 서술한 경우	하

- 09 (1) 입법에 관한 권한
- (2) 헌법 개정안을 제안하고 의결한다. 대통령이 외국과 맺은 조약을 확인하고 동의한다.

채점 기준	구분
입법에 관한 권한을 두 가지 이상 서술한 경우	상
입법에 관한 권한을 한 가지만 서술한 경우	하

02 대통령과 행정부
~ **03 법원과 헌법 재판소**

STEP 1 차근 차근 개념 체크 p. 32

- 1 (1) L, M, B, O (2) G, D, R, S 2 (1) C (2) L (3) @ (4) T 3 (1) O (2) O (3) O (4) X 4 (1) G (2) L (3) D

STEP 2 차곡 차곡 실력 체크 p. 32~35

- 01 ② 02 ① 03 ② 04 ③ 05 ④
- 06 ⑤ 07 ① 08 ② 09 교육부 10 ⑤
- 11 ⑤ 12 ④ 13 ③ 14 ② 15 ④
- 16 ② 17 ② 18 ② 19 ③ 20 ⑤
- 21 해설 참조 22 해설 참조 23 해설 참조

- 01 법질서를 유지하고 분쟁을 해결하고자 법률을 해석하고 적용하는 국가 기관은 사법부(①, ⑤)이고, 국민의 대표자를 선출하고 의회를 구성하며 국민의 다양한 의견을 반영하는 의결 기관은 입법부(③, ④)이다. 행정부는 정책을 집행하는 국가 기관이다.
- 02 현대 국가에서는 사회 복지, 교육 등과 관련한 국민의 요구가 늘어나면서 행정부의 역할이 커지고 있으며, 전문성도 높아지고 있다.
- 03 장기 집권에 따른 독재로 국민의 자유와 권리가 침해되는 것을 방지하기 위해 중임이 금지된다.
- 04 헌법 제66조 ④항은 행정부 수반으로서의 권한을 담고 있다. ③ 감사원장, 헌법 재판소장 등의 임명권은 '국가 원수로서의 권한'에 해당한다.
- 05 제시된 그림은 대통령이 국가 원수로서의 권한을 가지고 외교 사절을 맞이하고 국가 기관의 장을 임명하는 것이다.

선택지 바로 보기

- ㄱ. 행정부를 지휘·감독한다. (×)
 ◻ 행정부 수반으로서의 권한에 해당한다.
- ㄴ. 외국에 우리나라를 대표하는 권한을 가진다. (○)
- ㄷ. 국무총리, 행정 각부의 장 등을 임명하거나 해임한다. (×)
 ◻ 행정부 수반으로서의 권한에 해당한다.
- ㄹ. 국가가 위태로운 상황에 처했을 때 긴급 명령권을 행사하거나 계엄을 선포한다. (○)

플러스 특강 대통령의 권한

국가 원수로서의 권한	외교에 관한 권한, 헌법 기관 구성 권한(국가 기관의 장 임명 권한), 국민 투표 제안, 긴급 명령 및 계엄 선포 권한
행정부 수반으로서의 권한	행정부 지휘·감독, 공무원(국무총리, 장관 등) 임면권, 국무 회의의 의장, 대통령령 제정, 법률안 거부권

- 06 대통령이 권한을 행사할 때 신중하게 결정하고 행정에 대한 책임을 지도록 하기 위해 국민의 대표 기관인 국회에서 대통령의 권한을 견제하는 역할을 담당한다.
- 07 감사원은 대통령 소속의 행정부 최고 감사 기관으로, 국민이 낸 세금이 제대로 쓰이는지 조사하고 행정 기관 및 공무원의 직무를 감찰한다.
- 08 국무총리는 대통령을 보좌하여 행정 각부를 총괄하며, 대통령 자리가 공석일 경우 대통령의 권한을 대행한다.

선택지 바로 보기

- ① 국무 회의의 의장을 맡는다. (×)
 ◻ 국무 회의의 부의장을 맡는다.
- ② 행정부의 각 부서를 지휘하고 조정한다. (○)
- ③ 대통령에 소속된 행정부 최고 감사 기관이다. (×)
 ◻ 감사원에 해당하는 설명이다.
- ④ 국가 정책의 구체적인 행정 사무 집행을 담당한다. (×)
 ◻ 행정 각부에 해당하는 설명이다.
- ⑤ 국민이 직접 선출한 대표로 행정부의 최고 책임 기관이다. (×)
 ◻ 대통령에 대한 설명이다.

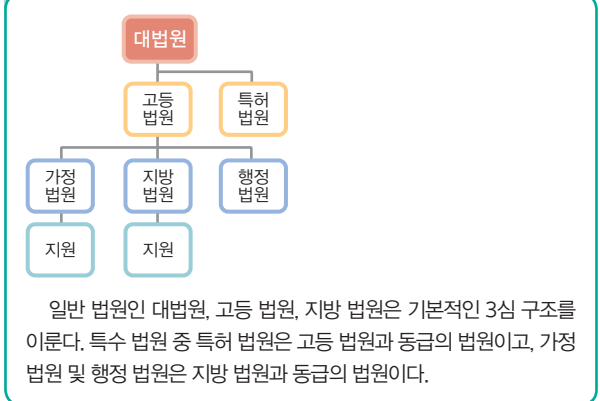
- 09 행정 각부 중 교육부는 인적 자원 개발 정책과 학교 교육, 평생 교육 및 학술에 관한 일을 담당한다.
- 10 국무 회의는 대통령, 국무총리, 국무 위원으로 구성되며, 정부의 중요한 정책을 논의하는 행정부의 최고 심의 기관이다.

선택지 바로 보기

- ㄱ. 국가의 수입·지출을 검사하는 업무를 한다. (×)
 ◻ 국가의 수입·지출을 검사하는 업무는 감사원에서 담당한다.
- ㄴ. 행정부의 구체적인 행정 사무 집행을 담당한다. (×)
 ◻ 구체적인 행정 사무 집행은 행정 각부에서 담당한다.
- ㄷ. 정부의 중요 정책을 심의하는 행정부의 최고 심의 기관이다. (○)
- ㄹ. 정부의 일반 정책과 중요한 사항을 심사하고 의논하는 회의이다. (○)

- 11 법원은 법적 분쟁이 발생했을 때 법에 따라 판결하며, 추상적인 법을 해석하고 판단하여 구체적인 사건에 적용한다. ㄱ은 국회(입법부)에서, ㄴ은 행정부에서 담당하는 일이다.
- 12 제시된 헌법 조항은 법원과 법관의 독립을 제도적으로 보장하기 위한 것이다. 이를 통해 사법권의 독립을 이루고 공정한 재판이 이루어지도록 한다.
- 13 이혼, 양자, 상속 등과 같은 가사 사건과 소년 보호 사건은 가정 법원에서 담당한다. 대법원은 사법부 최고 기관으로, 고등 법원의 2심 판결에 불복하여 상고한 사건을 재판한다.

플러스 특강 법원의 조직



- 14 대법원은 3심 재판을 담당하는 국가 최고의 법원으로, 고등 법원이 아니라 대법원의 판결이 최종적인 효력을 갖는다.
- 15 법원(사법부)은 행정부를 견제하는 수단으로 명령·규칙 심사권, 입법부를 견제하는 수단으로 위헌 법률 심판 제정권을 가지고 있다. 국정 감사·조사권(ㄱ)은 입법부가 행정부를 견제하는 수단이고, 대법원장 임명 동의권(ㄷ)은 입법부가 사법부를 견제하는 수단이다.
- 16 헌법 재판소는 헌법 질서를 보호하고, 국민의 기본권이 침해당했을 때 이를 구제해 주는 국가 기관이다. ② 법률을 제정하고 개정, 폐기하는 입법 기관은 국회(입법부)이다.
- 17 헌법 재판소 재판관은 대통령이 임명하는데, 3명은 국회에서 선출한 자를, 3명은 대법원장이 지명하는 자를 임명한다. 헌법 재판소장은 국회의 동의를 얻어 재판관 중에서 대통령이 임명한다.
- 18 제시된 사례에서는 셋다운제가 청소년의 '게임할 권리'를 침해한다고 하였다. 국민이 법률이나 국가 권력에 의해서 헌법에 보장된 기본권을 침해당하고 있는지를 심판하는 재판은 헌법 소원 심판이다.

19 위헌 법률 심판은 법원에서 구체적인 사건에 대한 재판을 하면서 그 재판에 적용되는 법률이 헌법에 위반되는지가 문제가 될 때, 법원의 신청에 따라 위헌 여부를 판단하는 심판이다.

선택지 바로 보기

- ① 탄핵 심판 - 법률이나 공권력의 기본권 침해 여부 심판 (×)
 ✔ 헌법 소원 심판에 대한 설명이다.
- ② 헌법 소원 심판 - 국가 기관 간에 발생한 권한 다툼에 대한 심판 (×)
 ✔ 권한 쟁의 심판에 대한 설명이다.
- ③ 위헌 법률 심판 - 재판의 전제가 된 법률의 헌법 위반 여부 심판 (○)
- ④ 정당 해산 심판 - 대통령, 장관 등에 대한 파면 요구의 타당성 심판 (×)
 ✔ 탄핵 심판에 대한 설명이다.
- ⑤ 권한 쟁의 심판 - 정당의 목적·활동이 민주적 기본 질서에 위배되는지 여부 심판 (×)
 ✔ 정당 해산 심판에 대한 설명이다.

20 우리 헌법에서는 국가 권력을 서로 다른 기관이 나누어 맡도록 하고, 각 국가 기관에 다른 국가 기관을 견제할 수 있는 권한을 부여하고 있다. 이를 통해 국가 권력의 남용을 막고, 국민의 기본권을 보장하고자 한다.

21 (1) (가), (다)
 (2) 행정부를 지휘·감독한다. 공무원(국무총리, 행정 각부의 장 등)을 임명한다. 대통령령을 제정한다. 등

| 핵심 단어 | 행정부 지휘·감독, 공무원 임명, 대통령령 제정

채점 기준	구분
행정부 수반으로서의 권한을 두 가지 이상 서술한 경우	상
행정부 수반으로서의 권한을 한 가지만 서술한 경우	하

22 (1) 감사원
 (2) 국가의 수입·지출을 검사와, 행정 기관과 공무원의 직무를 감찰한다.

| 핵심 단어 | 수입·지출 검사, 직무 감찰

채점 기준	구분
감사원의 역할을 두 가지 이상 서술한 경우	상
감사원의 역할을 한 가지만 서술한 경우	하

23 위헌 법률 심판, 법원에서 구체적인 사건에 대한 재판을 하면서 그 재판에 적용되는 법률이 헌법에 위반되는지가 문제가 될 때 법원의 신청에 따라 위헌 여부를 판단한다.

| 핵심 단어 | 위헌 법률 심판, 법률의 헌법 위반, 법원, 위헌 여부

채점 기준	구분
재판의 명칭을 쓰고, 재판이 담당하는 일을 바르게 서술한 경우	상
재판의 명칭을 썼으나, 재판이 담당하는 일을 미흡하게 서술한 경우	중
재판의 명칭만 쓴 경우	하

모아 모아 단원 체크

p. 36~38

- 01 ④ 02 ④ 03 ④ 04 ③ 05 ③
- 06 ③ 07 ④ 08 ④ 09 ⑤ 10 ③
- 11 ③ 12 ② 13 ④ 14 ② 15 ③
- 16 ② 17 ③ 18 해설 참조 19 해설 참조 20 해설 참조

01 국회는 국민이 직접 뽑은 대표들로 구성된 국민의 대표 기관이자, 국가 조직과 통치의 기초가 되는 법률을 만들거나 고치는 입법 기관이다.

선택지 바로 보기

- ㄱ. 우리나라 국회 의원의 임기는 5년이다. (×)
 ✔ 국회의원의 임기는 4년이다. 대통령 임기가 5년이다.
- ㄴ. 국민의 의사를 반영하여 법률을 제정하거나 개정한다. (○)
- ㄷ. 지역구 국회 의원은 정당의 득표율에 비례하여 선출한다. (×)
 ✔ 정당의 득표율에 비례하여 선출되는 것은 비례 대표 국회 의원이다. 지역구 국회 의원은 각 지역구에서 가장 많은 표를 얻어 당선된다.
- ㄹ. 원칙적으로 재적 의원 과반수의 출석과 출석 의원 과반수의 찬성으로 법률안과 안건을 의결한다. (○)

02 본회의에서 모든 안건을 처리하기는 힘들기 때문에 국회는 효율적인 운영을 위해 각 분야에 전문성을 갖춘 의원들로 구성된 상임 위원회를 두고 있다.

03 국회는 헌법이나 법률에 어긋나는 행위를 한 고위 공직자에 대해 책임을 물어 물러나도록 하기 위해 헌법 재판소에 심판을 요청할 것인지 여부를 의결한다. 국회의 요청에 따라 심판을 담당하는 곳은 헌법 재판소이다.

04 '재정에 관한 권한'에는 예산안 심의·확정권과 결산 심사권이 해당한다. 국회는 실제 나라 살림을 하는 행정부가 편성한 예산안을 심의하여 우선순위와 내용을 확정하고, 사용한 예산을 평가하고 승인한다.

①, ②, ⑤는 일반 국정에 관한 권한에, ④는 입법에 관한 권한에 해당한다.

05 법률을 만드는 절차는 국회 의원과 행정부가 법률안을 제출하는 것에서 시작한다. 국회의 상임 위원회는 법률안을 심의하고 본회의에서 의결한다. 국회를 통과한 법률안은 행정부로 보내져 15일 이내에 대통령이 공포한다.

06 ㉠은 국회, ㉡은 대통령, ㉢은 법원이다. 대통령은 국가의 원수이자 행정부 수반의 권한을 갖는다. ㉢ 국민의 대표 기관은 국회이다.

07 대통령은 국가 원수로서의 권한과 행정부 수반으로서의 권한을 갖는다. ①, ②, ③, ⑤는 행정부 수반으로서의 권한, ④는 국가 원수로서의 권한에 해당한다.



08 대통령, 국무총리 등 고위 공직자에 대한 탄핵 소추를 의결하는 기관은 국회이다. ㉠, ㉡은 국가 원수로서의 권한, ㉢, ㉣은 행정부 수반으로서의 권한에 해당한다.

09 대통령의 임기를 정하고 중임을 금지한 이유는 장기 집권에 따른 독재를 방지하여 국민의 자유와 권리가 침해되는 것을 방지하고, 정권을 평화적으로 교체하여 민주 정치를 실현하기 위해서이다.

ㄱ. 대통령이 중임할 수 없고, 임기가 정해져 있기 때문에 정부 정책의 지속성이 떨어질 수 있다. ㄴ. 국회에 권력을 집중하는 것은 삼권 분립의 원리와 맞지 않고, 대통령의 임기와도 관련이 없다.

10 감사원은 대통령에 소속된 행정부 최고 감사 기관으로, 국민이 낸 세금이 제대로 쓰이는지 조사하고 행정 기관 및 공무원의 직무를 감찰한다.

선택지 바로 보기

- ㄱ. 국무총리 직속의 헌법 기관이다. (×)
- ✔ 감사원은 대통령 직속의 행정부 최고 감사 기관이다.
- ㄴ. 국가의 모든 수입과 지출을 검사한다. (○)
- ㄷ. 행정 기관 및 공무원에 대한 직무 감찰을 한다. (○)
- ㄴ. 구체적인 행정 사무를 집행하고, 국무 위원으로 국무 회의에 참석한다. (×)
- ✔ 행정 각부의 정(장관)에 대한 설명이다.

11 국무 회의는 대통령, 국무총리, 국무 위원으로 구성되며, 정부의 중요 정책을 논의하는 행정부 최고 심의 기관이다. 감사원은 행정부 최고 감사 기관이고(㉠), 국무총리는 국무 회의의 부의장(㉡)이며, 행정 각부는 구체적인 행정 사무를 처리(㉣)한다. ㉤ 국회 의장은 국회 의원 과반수의 찬성으로 선출된다.

12 공정한 재판을 통해 국민의 기본권을 보장하기 위해 사법권의 독립을 보장한다.

13 (가)는 대법원이다. 대법원은 사법부 최고 법원으로 최종 재판을 담당한다.

선택지 바로 보기

- ① 가사 사건과 소년 보호 사건을 담당한다. (×)
- ✔ 가정 법원이 담당하는 일이다.
- ② 민사 또는 형사 사건의 1심 재판을 담당한다. (×)
- ✔ 지방 법원이 담당하는 일이다.
- ③ 9명의 재판관으로 구성되며, 임기는 6년이다. (×)
- ✔ 헌법 재판소에 해당하는 설명이다.
- ④ 사법부 최고 기관으로 최종 재판을 담당한다. (○)
- ⑤ 독립된 기관으로 헌법을 수호하고 국민의 기본권을 보장하는 기관이다. (×)
- ✔ 헌법 재판소에 해당하는 설명이다.

14 최종 재판은 사법부의 최고 법원인 대법원이 담당한다. 대법원은 2심 판결에 불복하여 상고한 사건의 최종 재판을 한다.

15 제시된 사례는 헌법 소원 심판에 해당한다. 헌법 소원 심판은 국가 기관의 행위가 국민의 기본권을 침해하는 것으로 의심될 때, 국민이 직접 헌법 재판소에 위헌 여부를 판단해 달라고 요청하여 이루어진다.

16 헌법 재판소는 위헌 법률 심판, 탄핵 심판, 정당 해산 심판, 권한 쟁의 심판, 헌법 소원 심판을 담당한다. ② 국가 기관 사이에 권한의 다툼이 발생했을 때, 이를 심판하는 것은 권한 쟁의 심판이다.

17 우리 헌법에서는 국가 권력을 서로 다른 기관이 나누어 맡도록 하고, 각 국가 기관에 서로 다른 국가 기관을 견제할 수 있는 권한을 부여하고 있다. (다) 명령·규칙 심사권은 사법부가 행정부를 견제하는 수단이다.

18 (1) 행정부 수반으로서의 권한
(2) 행정부를 지휘·감독한다. 법률안 거부권을 통해 국회를 견제한다. 대통령령을 제정한다. 등

| 핵심 단어 | 행정부 지휘·감독, 법률안 거부권, 대통령령 제정

채점 기준	구분
행정부 수반으로서의 권한을 두 가지 이상 서술한 경우	상
행정부 수반으로서의 권한을 한 가지만 서술한 경우	하

19 사법권의 독립이 보장되어야 공정한 재판이 가능하기 때문이다. 재판이 공정해야 국민의 기본권을 보장할 수 있다.

| 핵심 단어 | 사법권 독립, 공정한 재판, 국민의 기본권 보장

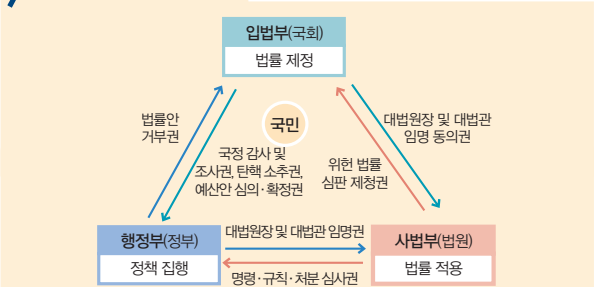
채점 기준	구분
사법권 독립의 목적을 바르게 서술한 경우	상
사법권의 독립이라고만 쓴 경우	하

20 ㉠은 국정 감사 및 국정 조사권, 탄핵 소추권, 예산안 심의·확정권, ㉡은 대법원장 및 대법관 임명 동의권이다. 국가 권력을 서로 다른 기관이 나누어 맡도록 하는 이유는 권력의 집중과 남용을 방지하여 국민의 기본권을 보장하기 위해서이다.

| 핵심 단어 | 권력의 집중·남용, 국민의 기본권 보장

채점 기준	구분
㉠, ㉡에 들어갈 권한을 쓰고, 권력 분립의 목적을 바르게 서술한 경우	상
㉠, ㉡에 들어갈 권한만 쓴 경우	하

문제 자료 분석하기 권력 분립(삼권 분립)



우리나라는 국가 권력의 집중과 남용을 방지하기 위해 삼권 분립으로 국민의 자유와 권리를 보장하고 있다.

III | 경제생활과 선택

01 합리적 경제생활과 경제 체제

STEP 1 차근 차근 개념 체크

p.44

1 (1) 경제 활동 (2) 재화, 서비스 (3) 정부 2 (1) ㉠ (2) ㉡ (3) ㉢ 3 (1) 희소성 (2) 기회비용 4 (1) × (2) ○ 5 (1) ㄷ (2) ㄴ (3) ㄱ 6 (1) 시장 가격 (2) 시장 경제 체제

STEP 2 차곡 차곡 실력 체크

p.44~47

01 ㉢ 02 ㉡ 03 ㉣ 04 ㉠ 05 ㉢
06 ㉡ 07 ㉣ 08 ㉣ 09 ㉤ 10 ㉣
11 ㉠ 12 ㉤ 13 ㉡ 14 ㉠ 15 ㉤
16 ㉤ 17 ㉢ 18 ㉣ 19 ㉡ 20 ㉤
21 ㉡ 22 해설 참조 23 해설 참조 24 해설 참조 25 해설 참조

- 01 경제 활동은 인간의 필요와 욕구를 충족시키기 위해 재화와 서비스를 생산·분배·소비하는 활동이다.
- 02 재화는 옷, 집 등과 같이 인간의 욕구를 충족해 주는 물건을 말하고, 서비스는 의사의 진료, 물건 배달, 가수의 공연 등과 같이 인간의 욕구를 충족해 주는 행위를 말한다.
- 03 (가)는 재화, (나)는 서비스에 해당한다. 경제 활동은 재화와 서비스를 생산하고 분배하며 소비하는 활동이다.
- 04 ㉠은 소비 활동이고, 나머지는 생산 활동에 해당한다.
- 05 분배는 생산 과정에 참여하여 이바지한 대가를 받는 것, 즉 기업에 생산 요소인 노동, 자본, 토지 등을 제공한 대가로 임금, 이자, 지대 등을 받게 되는 것을 의미한다. ㄱ은 자본을 제공한 대가로 받는 것이고, ㄴ은 노동을 제공한 대가로 임금을 받는 분배 활동에 해당한다.
- 06 (가)는 가계, (나)는 정부, (다)는 기업이다.
- 07 (다) 기업은 재화와 서비스를 생산하며, 최소 비용으로 최대 이익을 추구한다.

선택지 바로 보기

- ㉠ (가) - 시장에 재화와 서비스를 공급한다. (×)
▶ 시장에 재화와 서비스를 제공하는 경제 주체는 기업이고, 그 재화와 서비스를 소비하는 주체는 가계이다.
- ㉡ (나) - 소비 활동을 하지 않는다. (×)
▶ 정부에서도 가계나 기업으로부터 거두어들인 세금을 바탕으로 소비 활동이 이루어진다.
- ㉢ (나) - 생산 요소를 제공한 대가로 소득을 얻는다. (×)
▶ 생산 요소를 제공한 대가로 기업으로부터 소득을 얻는 경제 주체는 가계이다.
- ㉣ (다) - 생산 활동의 주체로 이익을 추구한다. (○)
- ㉤ (다) - 생산 요소를 제공받은 대가를 (나)에 지불한다. (×)
▶ 생산 요소를 제공받은 기업은 생산 요소를 제공한 가계에 대가를 지불한다.

- 08 희소성은 인간의 욕구는 무한한 데 비하여, 이를 충족시킬 수 있는 재화와 서비스가 부족한 현상을 말한다. 이는 인간의 욕구에 따른 상대적인 개념으로 절대적인 양이 적다고 희소한 것은 아니다.
- 09 희소성은 인간의 욕구와 필요에 따라 달라진다.
- 10 복지 예산은 기회비용이 아니라 장애인 시설 확충이라는 선택에 들어가는 비용에 해당한다.
- 11 경제적인 선택에는 반드시 어떤 것을 선택함으로써 포기한 것, 즉 기회비용이 발생한다.

선택지 바로 보기

- ㉠ 선택에는 반드시 기회비용이 따른다. (○)
▶ 선택에는 반드시 포기해야 하는 것이 있기 때문에 기회비용이 발생하게 된다.
- ㉡ 기회비용이 큰 것을 선택하는 것이 합리적인 선택이다. (×)
▶ 가장 적은 비용으로 가장 큰 편익을 얻을 수 있는 것이 합리적인 선택이다.
- ㉢ 이미 지출하여 회수할 수 없는 비용도 기회비용에 포함된다. (×)
▶ 매몰 비용은 이미 지출하여 다시 되돌릴 수 없는 비용으로, 선택한 이후에는 회수할 수 없는 비용이다.
- ㉣ 같은 상황이라면 사람마다 치러야 하는 기회비용은 모두 같다. (×)
▶ 사람마다 선택이 다르기 때문에 기회비용도 다르다.
- ㉤ 어떤 한 가지를 선택함으로써 포기한 모든 대안들의 가치의 합이다. (×)
▶ 기회비용은 어떤 것을 선택함으로써 포기한 것들 중에서 가장 가치가 큰 것을 말한다.

- 12 정훈이는 5시간 일하는 대신 시험공부를 선택하였다. 기회비용은 포기하는 것들 중에 가치가 가장 큰 것을 의미하므로 $9,000 \times 5 = 45,000$ 원이 기회비용이 된다.
- 13 편익이 같을 때에는 비용이 적은 쪽을 선택하는 것이 합리적이다. 그리고 편익은 선택하여 얻는 만족감을, 비용은 선택함으로써 치르는 대가를 의미한다.

선택지 바로 보기

- ㄱ. 합리적 선택을 위해 비용과 편익을 고려해야 한다. (○)
▶ 합리적 선택을 위해서는 선택으로 인해 발생하는 비용과 편익을 충분히 따져 보아야 한다.
- ㄴ. 편익이 같을 때에는 비용이 큰 쪽을 선택하는 것이 합리적이다. (×)
▶ 어떤 것을 선택할 때에는 비용과 편익의 크기를 비교하여 최소의 비용으로 최대의 편익을 얻을 수 있도록 해야 한다. 만약 비용이 같다면 편익이 가장 큰 것을, 편익이 같다면 비용이 가장 적게 드는 것을 선택하는 것이 합리적이다.
- ㄷ. 비용에 비해 편익이 가장 큰 것을 선택하는 것이 합리적이다. (○)
▶ 편익은 선택함으로써 치르는 대가를, 비용은 선택하여 얻는 만족감을 말한다. (×)
- ▶ 비용이란 어떤 것을 선택할 때 들어가는 노력이나 대가를 의미하고, 편익이란 어떤 것을 선택함으로써 얻을 수 있는 이익이나 만족감을 말한다.

- 14 합리적인 선택 과정은 ② 문제 및 상황 인식 - ① 실현 가능한 대안 탐색 - ⑤ 대안 비교 - ③ 대안 선택 - ④ 대안 평가의 순으로 이루어진다.



- 15 인간의 욕구를 충족시키기에 재화와 서비스는 항상 부족하기 때문에 경제적 선택의 문제가 발생한다.
- 16 '누구를 위하여 생산할 것인가', '생산의 이득을 누구에게 얼마나 나누어 주느냐' 하는 경제 문제는 분배의 문제이다.
- 17 계획 경제 체제는 생산 수단을 공유하는 사회주의와 결합하여 부와 소득의 평등한 분배를 목표로 한다.
- 18 시장 경제 체제의 문제점으로는 빈부 격차, 독과점, 실업과 물가 상승, 환경 오염 등을 들 수 있다.
- 19 계획 경제 체제에서는 일한 만큼 분배받는 것이 아니기 때문에 경제 활동에 참여할 동기가 부족해서 경제적 효율성이 떨어진다.
- 20 (가)는 시장 경제 체제로 효율성이 높지만 빈부 격차 문제가 발생할 수 있다. (나)는 계획 경제 체제로 경제적 평등을 지향하지만 개인의 경제 활동의 자유가 제한되어 효율성이 낮다.
- 21 우리나라는 헌법상 경제 활동의 자유를 인정하지만, 필요한 경우 정부가 규제와 조정을 할 수 있도록 하고 있다. 우리나라의 경제 체제는 시장 경제 체제를 중심으로 계획 경제 체제의 일부 요소를 받아들인 혼합 경제 체제이다.

선택지 바로 보기

- ㄱ. 헌법상 경제 활동의 자유를 인정한다. (○)
 ◻ 제1항에 개인과 기업의 경제상의 자유와 창의를 존중한다는 내용이 명시되어 있다.
- ㄴ. 정부는 시장에 개입하여 규제할 수 없다. (×)
 ◻ 제2항에 국가는 경제의 민주화를 위하여 경제에 관한 규제와 조정을 할 수 있다고 명시되어 있다.
- ㄷ. 우리나라는 혼합 경제 체제를 채택하고 있다. (○)
 ◻ 제1항은 시장 경제 체제의 요소이고, 제2항은 계획 경제 체제의 요소를 담고 있다.
- ㄹ. 계획 경제 체제를 기본으로 시장 경제 체제의 요소를 받아들였다. (×)
 ◻ 시장 경제 체제를 기본으로 계획 경제 체제의 요소를 받아들였다.

- 22 (1) 스모그로 인해 깨끗한 공기의 희소성이 커졌기 때문이다.
 (2) 희소성은 시대에 따라 달라질 수 있다.

| 핵심 단어 | 스모그, 깨끗한 공기, 희소성, 시대

채점 기준	구분
(1)과 (2)를 모두 서술한 경우	상
(1)과 (2) 중 한 가지만 서술한 경우	하

- 23 '무엇을 얼마나 생산할 것인가?', '어떻게 생산할 것인가?', '누구를 위하여 생산할 것인가?'

| 핵심 단어 | 무엇을 얼마나, 어떻게, 누구를 위하여

채점 기준	구분
경제 문제 세 가지를 모두 서술한 경우	상
경제 문제를 한두 가지만 서술한 경우	하

- 24 떡볶이를 먹는 것이 가장 합리적 선택이다. 떡볶이를 선택한 것에 대한 기회비용은 김밥의 만족도 80인데, 떡볶이를 먹을 때의 편익은 만족도 100으로 기회비용 80보다 크기 때문이다.

| 핵심 단어 | 떡볶이, 기회비용, 김밥 만족도 80, 편익, 기회비용보다 큼.

채점 기준	구분
떡볶이를 고르고 까닭도 서술한 경우	상
떡볶이는 골랐지만, 까닭에 대한 서술이 부족한 경우	하

- 25 시장 경제 체제에서는 빈부 격차 심화, 환경 오염 등과 같은 문제점이 나타난다. 계획 경제 체제에서는 국민들의 필요와 욕구를 정확히 파악하기 어렵고, 경제적 효율성이 저하되는 문제점이 나타난다.

| 핵심 단어 | 빈부 격차, 환경 오염, 필요와 욕구, 효율성 저하

채점 기준	구분
시장 경제 체제와 계획 경제 체제의 문제점을 두 가지 이상 모두 서술한 경우	상
시장 경제 체제와 계획 경제 체제의 문제점을 제대로 서술하지 못한 경우	하

02 기업의 역할과 사회적 책임
 ~ 03 금융 생활의 중요성

STEP 1 차근 차근 개념 체크

p. 52

- 1 (1) 생산 (2) 사회적 기업 (3) 기업이 정신 2 (1) ○ (2) × (3) × 3 (1) □ (2) L (3) ㄹ 4 (1) ㉑ (2) ㉒ (3) ㉓ 5 (1) ○ (2) ○ (3) ×

STEP 2 차곡 차곡 실력 체크

p. 52~55

- 01 ① 02 ⑤ 03 ③ 04 ② 05 ④
- 06 ⑤ 07 ③ 08 ④ 09 ⑤ 10 ⑤
- 11 ④ 12 ① 13 ② 14 ① 15 ②
- 16 ③ 17 ③ 18 신용 19 ③ 20 ⑤
- 21 ⑤ 22 해설 참조 23 해설 참조 24 해설 참조 25 해설 참조

- 01 기업은 재화와 서비스를 생산하고 이를 소비자에게 팔아서 이윤을 얻는다.
- 02 기업이 생산 규모를 확대하여 고용이 증가하면 더 많은 일자리를 제공할 수 있다.

선택지 바로 보기

- ① 소비를 적극적으로 담당하는 경제 주체이다. (x)
- ✔ 기업은 기계로부터 제공받은 생산 요소로 재화와 서비스를 생산하는 경제 주체이다.
- ② 공익을 추구하기 때문에 세금을 내지 않는다. (x)
- ✔ 기업은 공익도 추구하지만, 기업의 이윤 추구가 가장 큰 목적이기 때문에 세금은 반드시 내야 한다.
- ③ 벌어들인 수입은 전부 기업에게 이윤이 된다. (x)
- ✔ 벌어들인 수입의 일부를 국가에 세금으로 낸다.
- ④ 이윤을 더 많이 얻기 위해서 생산 비용을 증가시킨다. (x)
- ✔ 생산 비용을 줄여야 기업의 이익이 증가한다.
- ⑤ 기업의 생산 활동이 활발해지면 일자리를 더 많이 제공할 수 있다. (o)

- 03 기업은 이윤을 얻기 위해 생산 활동을 하고, 이로 인해 그 나라의 고용과 국민 소득이 증가한다. 또한 기업이 납부한 세금은 정부가 국가를 운영하는 데 필요한 재원이 된다.
- 04 기업은 고용과 소득을 창출하는 역할을 한다. 기업의 생산이 확대될수록 사회 전체의 고용과 소득이 늘어난다.
- 05 기업의 사회적 책임이란 기업이 이윤을 추구하는 활동 이외에 법령과 윤리를 준수하고 소비자, 주주, 지역 사회 등 기업의 유지 기반이 되는 사회에 구성원의 역할을 다하는 것을 의미한다.
- 06 A 회사는 사회적 기업으로, 개발 도상국의 풍토병 치료라는 사회적 목적을 추구하고 있다.
- 07 (가)는 기업이 정신에 대한 설명으로, 근무 시간을 늘리는 것은 혁신과 창조를 바탕으로 실천했다고 보기 어렵다.

선택지 바로 보기

- ① 조직 개편을 통해 기업 경영의 효율성을 높였다. (o)
- ✔ 새로운 경영 조직을 구성하는 모습이다.
- ② 전자 상거래의 도입으로 물류 비용을 크게 줄였다. (o)
- ✔ 새로운 판매 방법을 도입한 모습이다.
- ③ 휴대 전화의 생산 주문이 일시적으로 급증하자 근무 시간을 늘렸다. (x)
- ✔ 새로운 생산 방법을 도입하는 것이 혁신의 모습이다.
- ④ 강철 대신 신소재를 사용한 경량 자동차를 생산하여 부가가치를 크게 높였다. (o)
- ✔ 새로운 상품을 개발한 모습이다.
- ⑤ 수출 다변화 전략을 통해 중국 시장에 집중되었던 휴대 전화의 수출을 유럽 시장까지 확대시켰다. (o)
- ✔ 새로운 시장을 개척한 모습이다.

- 08 (가)에 들어갈 내용은 창의성과 혁신을 바탕으로 하는 기업이 정신이다. 시장 가격 변화에 따른 공급량 조절은 혁신이 아니라 경제 이론에 의한 결정이다.
- 09 기업가는 미래의 불확실성과 높은 위험 속에서도 주도적으로 기회를 잡으며, 혁신과 창의성을 바탕으로 한 생산 활동을 통해 기업을 성장시키려는 도전 정신이 필요하다.

10 노년기는 직장에서 은퇴하면서 소득이 크게 줄어드는 시기이므로 소득 감소에 따른 생활에 적응해야 한다.

선택지 바로 보기

- ① 소득은 일생 동안 지속적으로 늘어난다. (x)
- ✔ 소득은 장년기 이후에 줄어다가 노년기에는 거의 소득이 없게 된다.
- ② 장년기에는 소비가 늘어 연금으로 생활한다. (x)
- ✔ 소득이 많은 장년기에 노후를 준비하고 노년기에는 소득이 줄어 연금으로 생활한다.
- ③ 청년기에는 취업을 하여 소득이 가장 많아진다. (x)
- ✔ 청년기에 취업을 하여 소득이 발생하기 시작하여 장년기에 가장 많아진다.
- ④ 유소년기와 청년기에는 주로 생산 활동을 한다. (x)
- ✔ 유소년기에는 주로 소비 활동을 하다가 청년기에 취업을 하면서 생산 활동을 하게 된다.
- ⑤ 노년기에는 소득이 크게 줄어 소득보다 소비가 많아진다. (o)

- 11 장년기는 소득이 많은 시기이기도 하지만 자녀 교육, 주택 구입, 노후 대비 등으로 인해 소비도 많다.
- 12 소득을 얻는 기간은 한정되어 있지만 소비는 평생 지속되기 때문에 자산 관리가 필요하다.
- 13 합리적인 자산 관리를 위해서는 저축이나 투자의 목적과 기간을 살펴보고, 수익성과 안전성, 유동성 등을 고려해야 한다.
- 14 예금이란 정해진 이자를 기대하고 금융 기관에 돈을 맡기는 것을 말한다. 일반적으로 예금은 이자 수익은 낮지만 안전성은 매우 높은 편이다.

플러스 특강 보통 예금과 저축성 예금

일반적으로 예금이나 적금은 안전성은 높지만, 수익성은 낮다는 단점이 있다. 입출금을 수시로 자유롭게 할 수 있는 보통 예금은 유동성이 매우 높다. 반면 투자 기간이 긴 저축성 예금(정기 예금, 정기 적금)이나 채권 등은 중도 해지나 환매에 따른 불이익이 클 수 있으므로 상대적으로 유동성이 낮다.

- 15 주식 투자는 높은 수익을 얻을 수 있지만, 원금 손실의 가능성이 크기 때문에 위험성이 높다. 이처럼 주식 거래에는 항상 위험이 따르므로 여유 자금 내에서 투자하는 것이 필요하다.
- 16 주식 투자는 원금을 잃을 수 있는 위험이 있으며, 안전성을 높이기 위해서 자산을 적절하게 분산하여 운용해야 한다.

선택지 바로 보기

- ㄱ. 원금 보장을 위해 안전한 주식에 투자한다. (x)
- ✔ 주식은 수익성은 높지만, 안전성이 낮아서 원금을 보장할 수 없다.
- ㄴ. 길어진 노후 생활을 대비하여 연금에 가입한다. (o)
- ✔ 연금은 미리 일정액을 내고 노후에 계속해서 일정 금액을 지급받는 금융 상품이다.
- ㄷ. 채권은 주식보다는 안전하지만, 예금·적금과 달리 원금을 잃을 수 있다. (o)
- ✔ 채권은 신용 등급이 높은 기관에서 발행하기 때문에 비교적 안전성이 높은 금융 상품이다.
- ㄹ. 안전성, 수익성, 유동성을 고려하여 본인에게 적절한 금융 상품 하나에 모든 자산을 투자한다. (x)
- ✔ 다양한 금융 상품에 분산 투자를 하면 좀 더 안정적인 자산 운용할 수 있다.



- 17 분산 투자를 하면 어느 한 곳에서 손해를 보더라도 다른 곳에서 그 손해를 보충할 수 있다.
- 18 신용이란 나중에 대가를 지불할 것을 약속하고 현재 돈을 빌릴 수 있는 능력을 말한다. 신용이 있으면 당장 현금이 없더라도 금융 거래에는 제약이 없다.
- 19 신용 거래는 지금 당장 현금이 지출되지 않으므로 충동구매나 과소비의 우려가 있으며, 신용이 좋지 않은 경우 금융 거래에 제약이 있다.
- 20 사용한 후 값을 나중에 치르는 것은 신용 거래이지만, 현재 시점에서 상품의 값을 지불하는 것은 신용 거래에 해당하지 않는다.

선택지 바로 보기

- ① 승용차를 36개월 할부로 구입하였다. (○)
▶ 할부는 돈을 여러 번에 나누어서 내는 것을 말하며, 승용차를 이미 사용하고 지불은 나누어서 하는 것이다.
- ② 상점에서 외상으로 상품을 구입하였다. (○)
▶ 외상은 값은 나중에 치르기로 하고 물건을 사거나 파는 일이다.
- ③ 휴대 전화를 미리 사용하고 나중에 요금을 낸다. (○)
▶ 미리 사용하고 요금을 나중에 내는 것이 신용을 이용하는 것이다.
- ④ 주택 자금을 마련하기 위해 은행에서 대출을 받았다. (○)
▶ 대출은 돈이나 물건 따위를 빌려주거나 빌리는 것을 말한다.
- ⑤ 인터넷 강의를 듣기 위해 1개월치 수강료를 현금으로 결제하였다. (×)

- 21 제시문은 신용 관리의 중요성을 보여 주는 것으로, 자신의 소득으로 충분히 감당할 수 있는 범위에서 신용 거래를 하도록 한다.
- 22 기업 활동과 관련된 법을 준수하면서 이윤 추구 활동을 한다. 생산 활동으로 발생하는 환경 오염을 최소화하고 안전한 제품을 생산하는 등 윤리적 경영을 한다. 국민 교육, 문화, 사회 복지 사업 등의 지원에 적극적으로 참여한다. 등

| 핵심 단어 | 법 준수, 윤리적 경영, 국민 교육, 문화, 복지 사업

채점 기준	구분
기업의 사회적 책임과 관련된 활동을 두 가지 이상 서술한 경우	상
기업의 사회적 책임과 관련된 활동을 한 가지만 서술한 경우	하

- 23 생애 주기를 보면 소득이 소비보다 많은 시기도 있고, 소비가 소득보다 많은 시기도 있다. 따라서 일생 동안 지속 가능한 소비 생활을 하기 위해서는 자산 관리가 필요하다.

| 핵심 단어 | 소득, 소비가 시기마다 다름, 지속 가능한 생활

채점 기준	구분
생애 주기와 관련하여 자산 관리가 필요한 까닭을 서술한 경우	상
생애 주기와 관련하여 자산 관리가 필요한 까닭을 서술하지 못한 경우	하

- 24 채권, 채권은 신용도가 비교적 높은 기관에서 발행하기 때문에 주식보다는 안전하지만 예금·적금과 달리 원금을 잃을 수도 있다.

| 핵심 단어 | 채권, 비교적 안전, 원금 손실

채점 기준	구분
채권을 쓰고, 채권의 특징을 서술한 경우	상
채권을 썼지만, 채권의 특징에 대한 서술이 부족한 경우	하

- 25 신용 거래의 장점은 현금이 없어도 거래가 가능하고, 현재 소득보다 더 많은 소비를 할 수 있다는 점이다. 단점은 현금을 직접 지불하지 않기 때문에 충동구매와 과소비를 유발한다는 점이다.

| 핵심 단어 | 현금 없이 거래 가능, 소득보다 많은 지출 가능, 충동구매, 과소비

채점 기준	구분
신용 거래의 장점과 단점을 모두 서술한 경우	상
신용 거래의 장점과 단점에 대한 서술이 부족한 경우	하

모아 모아 단원 체크

p. 56~58

- 01 ④ 02 ③ 03 ② 04 ④ 05 ⑤
- 06 ⑤ 07 ① 08 ③ 09 ③ 10 ⑤
- 11 ② 12 ③ 13 ⑤ 14 ③ 15 ④
- 16 ③ 17 ③ 18 ④ 19 ③
- 20 ① 희소성 ② 선택 21 해설 참조 22 해설 참조 23 해설 참조

- 01 욕구를 충족하기 위해서 비용을 지불하고 상품을 구매하여 사용하는 활동은 소비에 해당한다. 분배는 생산 과정에 참여한 대가를 나누어 가지는 활동이다.
- 02 제시문은 재화에 대한 설명이다. ①, ②, ④, ⑤는 인간의 필요와 욕구를 충족시켜 주는 인간의 행위인 서비스이다.
- 03 가계는 재화와 서비스를 소비하는 주체이고, 기업은 재화와 서비스를 생산하는 주체이다. 정부는 세금을 바탕으로 경제 생활의 기반이 되는 공공재를 공급한다.
- 04 각 사회의 환경, 사람들의 기호에 따라 필요로 하는 재화와 그 양이 달라지기 때문에 희소성은 시대와 장소에 따라 다르게 나타난다.

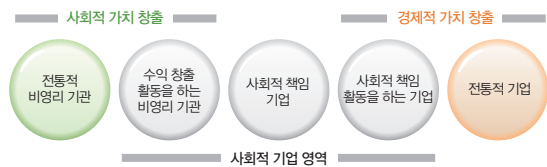
선택지 바로 보기

- ① 수입한 상품은 모두 희소하다. (×)
▶ 인간의 욕구에 비해 이를 충족해 줄 재화와 서비스의 양이 상대적으로 부족하면 재화나 서비스는 희소하다고 한다.
- ② 상품의 희소성은 절대적인 것이다. (×)
▶ 희소성은 시대와 장소에 따라 다르게 나타날 수 있다.
- ③ 희소성이 달라지는 상품은 가치가 없다. (×)
▶ 희소성은 시대와 장소에 따라 다르게 나타날 수 있기 때문에 가치와는 관계가 없다.
- ④ 상품의 희소성은 시대나 사회에 따라 달라진다. (○)
- ⑤ 희소성은 그 상품의 절대적인 수량에 의해 결정된다. (×)
▶ 희소성은 재화와 서비스의 절대적인 양보다는 이를 사용하고자 하는 인간의 욕구와 관련이 깊다.

- 05 기회비용은 어떤 것을 선택함으로써 포기하는 것들 중에서 가장 가치가 큰 것이다. 떡볶이 먹기를 선택한 진하의 기회비용은 영화를 보면서 얻는 만족감 70이다.
- 06 희소성 때문에 무엇을 얼마나, 어떻게, 누구를 위하여 생산할 것인지와 같은 경제 문제가 발생한다.
- 07 (가)는 시장 경제 체제, (나)는 계획 경제 체제이다. 균등한 분배를 추구하는 것은 계획 경제 체제이다.
- 08 시장 경제 체제에서 가격 기능으로 해결할 수 없는 문제점이 있기 때문에 정부의 개입이 필요하다. 오늘날 대부분의 국가는 시장 경제 체제를 바탕으로 정부가 시장에 어느 정도 개입하는 혼합 경제 체제로 운영되고 있다.
- 09 기업은 정부에 세금을 납부하여 정부가 국가를 운영하거나 국민을 위한 복지 제도를 시행하는 데 필요한 재원을 제공함으로써 국가 재정에 기여한다.
- 10 기업이 이윤 추구하고 효율성만을 중시할 경우 환경 파괴, 노동 착취 등과 같은 문제가 발생할 수 있다. 따라서 기업은 근로 기준법 등을 지켜 근로자의 이익을 보호해야 한다.
- 11 사회적 기업은 공익을 우선적으로 추구하면서 이윤 추구 활동을 하는 기업이다.

플러스 특강 사회적 기업

사회적 기업은 이윤 추구를 목적으로 하는 전통적인 기업과 비영리 기관의 중간 형태로, 사회적 목적을 우선으로 추구하면서 재화와 서비스를 생산 및 판매한다. 공익적인 목적을 내세우지만 생산 및 판매 활동을 하고 있기 때문에 후원금이나 모금 등으로 운영되는 자선 단체와는 다르다. 우리나라의 사회적 기업은 1,800여 개에 달하며 (2017년 기준), 사회적 기업에서 고용되어 일하는 근로자 중 3분의 2가 취약 계층에 속하는 사람들이다.



- 12 기업가는 이윤 창출과 사회적 책임을 함께 고려해야 한다.
- 13 가격을 내리는 것은 시장에서 우위를 점하기 위해 취해지는 기본적인 전략으로 혁신이라고 볼 수 없다.
- 14 청년기는 취업을 통해 안정적인 소득을 얻고 돈을 모아 결혼과 자녀 출산 등에 대비하는 시기이다.
- 15 은퇴 후 노후를 대비해야 하는 장년기에 해당하는 사람은 45세 직장인이다.
- 16 유동성은 쉽고 빠르게 현금으로 전환할 수 있는 정도를 말한다. 유동성이 낮은 대표적인 자산에는 부동산이 있다.

선택지 바로 보기

- 수현 유동성을 고려한다면 부동산에 투자하는 것이 좋아. (X)
- 부동산은 금액도 크고, 아무 때나 사고팔기가 쉽지 않아 유동성이 낮다. 시후 앞으로의 경제 전망이 좋은 상황에서 수익성을 가장 고려한다면 주식에 투자해야지. (O)
- 여러 금융 상품 중에서 수익성이 가장 높은 것이 주식이다. 지연 큰 수익을 기대하기보다 위험에 대비하고 싶다면 보험을 가입하는 것도 좋은 방법이야. (O)
- 보험은 일상생활에서 겪을 수 있는 생명이나 재산상의 위험에 대비할 수 있는 금융 상품으로, 큰 수익을 기대하고 가입하는 것은 아니다. 민호 원금 보장을 원하는 안전 지향적인 사람이라면 간접 투자 상품인 펀드가 가장 적합한 자산 관리 방법이야. (X)
- 펀드는 전문가가 대신 주식이나 채권 등에 투자하여 투자자에게 이익금을 나누어 주는 금융 상품으로, 안전성이 낮은 펀다. 안전 지향적인 사람은 예금·적금을 이용하는 것이 좋다.

- 17 자산의 수익성은 높이고 위험성을 분산시키는 포트폴리오 투자이다.
- 18 신용 거래 시 결제가 연체될 경우 신용도가 낮아져 경제적·사회적 불이익을 받을 수 있다.
- 19 신용 거래는 현금을 직접 지불하지 않기 때문에 물건을 충동적으로 구매하거나 과소비를 할 우려가 있다.
- 20 인간의 욕구를 충족시킬 만큼 재화와 서비스가 충분하지 않기 때문에 선택의 문제에 직면한다.
- 21 자유로운 경제 활동을 보장하는 시장 경제 체제를 기본으로 정부의 시장 개입을 인정하는 계획 경제 체제의 일부 요소를 받아들인 혼합 경제 체제이다.

핵심 단어 | 자유로운 경제 활동, 시장 경제 체제, 정부의 시장 개입, 계획 경제 체제, 혼합 경제 체제

채점 기준	구분
우리나라 경제 체제의 특징을 서술한 경우	상
우리나라 경제 체제의 특징을 서술하지 못한 경우	하

- 22 기업은 재화와 서비스를 생산해서 소비자에게 팔아 이윤을 얻는다. 가계의 노동과 자본을 사용하고 가계에 일자리와 소득을 제공한다. 세금을 납부하여 지역 경제 및 국가 경제에 기여한다.

핵심 단어 | 재화와 서비스 생산, 일자리와 소득 제공, 세금 납부

채점 기준	구분
기업의 역할을 두 가지 이상 서술한 경우	상
기업의 역할을 한 가지만 서술한 경우	하

- 23 (1) (가) 안전성, (나) 수익성 (2) 예금은 안전성은 높지만 수익성이 낮다. 주식은 수익성은 높지만 안전성이 낮다.

핵심 단어 | 안전성, 수익성

채점 기준	구분
(1)과 (2)를 모두 서술한 경우	상
(1)은 썼지만, (2)에 대한 서술이 부족한 경우	하

IV | 시장 경제와 가격

01 시장의 의미와 종류 ~ 02 시장 가격의 결정

STEP 1 차근 차근 개념 체크 p.64

- 1 (1) 시장 (2) 자급자족 (3) 거래 비용 2 특화 3 (1) ㉠, ㉡ (2) ㉢, ㉣
4 (1) 생산물 시장 (2) 생산 요소 시장 5 (1) ○ (2) × (3) × 6 (1) 수요자
(2) 초과 공급, 하락

STEP 2 차곡 차곡 실력 체크 p.64~67

- | | | | |
|----------|----------|------|------------------|
| 01 ④ | 02 ③ | 03 ④ | 04 생산 요소 시장 |
| 05 ③ | 06 ⑤ | 07 ① | 08 ③ 09 ④ |
| 10 ① | 11 ③ | 12 ② | 13 ④ 14 ④ |
| 15 ② | 16 ⑤ | 17 ⑤ | 18 ① 19 해설 참조 |
| 20 해설 참조 | 21 해설 참조 | | |

- 01 시장이 생겨난 후 거래에 드는 비용과 시간이 줄어들어 쉽게 거래할 수 있게 되었다.
- 02 시장이 형성되기 위해서는 거래할 상품과 수요자, 공급자가 있어야 한다. 재래시장과 같이 사고파는 모습이 구체적으로 드러나는 눈에 보이는 시장도 있지만, 주식 시장이나 외환 시장과 같이 거래 모습이 구체적으로 드러나지 않는 보이지 않는 시장도 있다.
- 03 자급자족하며 살아가던 사람들이 자신이 생산한 물건을 다른 사람과 교환하기 시작하였고 이는 시장의 발달로 이어졌다. 시장에서 교환이 가능하기 때문에 분업과 특화가 이루어졌고, 이로 인해 생산성도 더욱 향상되었다.

선택지 바로 보기

- ① 쌀과 옷감의 생산량이 감소한다. (×)
 Ⓜ 특화 생산이 이루어져 생산량은 크게 증가한다.
- ② 이전보다 분업과 특화가 축소된다. (×)
 Ⓜ 물물 교환이 시작되면서 더 잘 만들 수 있는 물건만을 집중적으로 생산하는 특화와 생산 과정을 여러 사람이 분담하는 분업이 발달하기 시작하였다.
- ③ 쌀과 옷감을 보다 적게 생산하려고 노력한다. (×)
 Ⓜ 더 많이 생산해서 교환하려고 한다.
- ④ 보다 편리하게 교환하기 위해 시장을 형성한다. (○)
- ⑤ 스스로 만들어 사용하는 자급자족 생활이 확대된다. (×)
 Ⓜ 자급자족 생활은 시장이 형성되어 교환을 하기 전에 스스로 필요한 물건을 만들어 사용하던 때의 생활 모습이다.

- 04 토지를 거래하는 부동산 시장, 기업과 구직자 간에 노동을 거래하는 노동 시장 등이 생산 요소 시장이다.
- 05 주식 시장, 외환 시장, 전자 상거래는 거래 모습이 드러나지 않지만, 수요자와 공급자가 거래하는 곳이다.

- 06 상설 시장은 매일 열리는 시장, 정기 시장은 특정 날짜에만 열리는 시장, 도매 시장은 소매상을 대상으로 하는 시장, 생산물 시장은 일반 소비자가 사용하는 재화와 서비스가 거래되는 시장이다.
- 07 스마트폰의 보급으로 인해 모바일 쇼핑이 크게 증가하였으며, 이는 시간과 공간에 구애받지 않는 보이지 않는 시장에 해당한다.

선택지 바로 보기

- ① 스마트폰의 보급과 관련 있다. (○)
 Ⓜ 스마트폰의 보급으로 모바일 쇼핑이 급증하고 있다.
- ② 시간과 공간의 영향을 많이 받는다. (×)
 Ⓜ 온라인 시장은 시공간의 제약과 거래 비용을 줄여 주어 오늘날 전체 시장에서 차지하는 비중이 증가하고 있다.
- ③ 모바일 쇼핑물은 대부분 정기 시장에 해당한다. (×)
 Ⓜ 모바일 쇼핑물은 아무 때나 이용할 수 있는 시장이다.
- ④ 상품을 판매하기 위해서는 점포가 꼭 필요하다. (×)
 Ⓜ 인터넷 쇼핑물이나 외환 시장 등과 같이 구체적으로 눈에 보이지 않더라도 거래가 이루어진다면 시장이라고 할 수 있다.
- ⑤ 상품을 사고파는 모습이 구체적으로 드러나는 시장이다. (×)
 Ⓜ 과거에는 눈에 보이는 구체적인 장소에서 사려는 사람과 팔려는 사람이 직접 만나 상품의 교환과 거래가 이루어졌다. 그런데 정보 통신 기술의 발달로 소비자와 판매자가 직접 만나지 않고 온라인상에서 거래가 이루어지는 시장이 등장하였다.

- 08 거래하는 모습이 구체적으로 드러나지 않는 시장에는 주식 시장, 외환 시장, 전자 상거래 등이 있다.

선택지 바로 보기

- ① (가)에서는 서비스를 판매한다. (×)
 Ⓜ (가)에서는 과일이라는 재화를 판매하고 있다.
- ② (나)는 시장이라고 볼 수 없다. (×)
 Ⓜ (나)는 거래 과정이 컴퓨터를 통하여 이루어져서 눈에 보이지 않는 시장이다.
- ③ (나)와 비슷한 시장에는 외환 시장이 있다. (○)
 Ⓜ 외환 시장, 주식 시장, 전자 상거래 등은 보이지 않는 시장이다.
- ④ (다)에서는 기업이 공급자이다. (×)
 Ⓜ (다)는 노동 시장으로 기업이 노동력을 사용하는 수요자이고, 구직자가 노동력을 제공하는 공급자이다.
- ⑤ 오늘날에는 (라)와 같은 시장을 찾아보기 어렵다. (×)
 Ⓜ 오늘날 전자 상거래는 매년 증가하고 있으며, 최근에는 해외에서 판매하는 상품을 국내에서 직접 사는 해외 직구도 늘어나고 있다.

- 09 해외 직구 시장은 거래 과정이 컴퓨터로 이루어져 눈에 보이지 않는 시장이며, 거래하는 상품의 종류에 있어서는 생산물 시장에 해당한다.
- 10 시장에서 수요량과 공급량이 맞아떨어지는 상태를 균형이라고 하며, 이때의 가격이 균형 가격이다.
- 11 제시된 그래프는 가격이 상승하면 수요량이 감소하고, 가격이 하락하면 수요량이 증가하는 수요 법칙을 나타내고 있으며, 아이스크림 시장은 생산물 시장에 해당한다.
- 12 제시된 그래프는 공급 곡선이다. 공급 법칙에 따라 가격이 상승하면 공급량이 증가하고, 가격이 하락하면 공급량이 감소한다.

- 13** 수요 법칙은 가격이 상승하면 수요량이 감소하고, 가격이 하락하면 수요량이 증가하는 것이다. 공급 법칙은 가격이 상승하면 공급량이 증가하고, 가격이 하락하면 공급량이 감소하는 것이다.
- 14** 삼겹살 가격이 상승하면 수요량이 감소하는 수요 법칙이다.
- 15** 혼잡 통행료는 도로 이용에 따른 비용 부담을 높여 수요량을 감소시키기 위한 것으로, 수요 곡선상의 점이 이동하는 모습으로 나타난다.

선택지 바로 보기

- ㄱ. 수요 법칙과 관련이 있다. (○)
 Ⓢ 통행료를 조정하여 도로를 이용하는 수요를 줄이려는 것은 수요 법칙과 관련이 있다.
 ㄴ. 혼잡 통행료를 부과하면 자가용 사용이 늘어난다. (×)
 Ⓢ 통행료가 늘어나면 도로 이용 부담이 늘어 자가용 사용이 줄어들게 될 것이다.
 ㄷ. 도로 이용 비용이 늘어나 통행량이 줄어들게 된다. (○)
 ㄹ. 통행료와 통행량의 관계는 수요 곡선 자체가 오른쪽으로 이동하는 모습으로 나타난다. (×)
 Ⓢ 통행료를 올려 통행량을 조절하는 것이므로 수요 곡선상의 점이 이동하는 모습으로 나타난다.

- 16** 수요량이 공급량보다 많은 초과 수요 상태에서는 수요자들 간의 경쟁으로 상품의 가격이 올라간다.
- 17** 가격이 100원일 때 수요량은 50개, 공급량은 10개로 40개의 초과 수요가 발생한다.
- 18** 공급량이 수요량보다 많은 상태를 초과 공급이라고 하며, 이때 공급자는 가격을 낮춰서라도 상품을 팔고자 할 것이다. 반대로 수요량이 공급량보다 많은 상태를 초과 수요라고 하며, 이때에는 수요자가 물건을 사기가 어렵다.

선택지 바로 보기

- ㄱ. 균형 가격은 2,000원, 균형 거래량은 30개이다. (○)
 Ⓢ 수요 곡선과 공급 곡선이 만나는 지점이 균형이다.
 ㄴ. 가격이 3,000원일 때는 공급량이 수요량보다 많다. (○)
 Ⓢ 가격이 3,000원일 때는 공급량 40개, 수요량 20개로 공급량이 20개를 초과한 초과 공급 상태이다.
 ㄷ. 가격이 1,000원일 때는 공급자가 물건을 팔기 어렵다. (×)
 Ⓢ 가격이 1,000원일 때는 초과 수요 상태로 수요자들은 돈을 더 주고서라도 상품을 구입하려고 할 것이다.
 ㄹ. 가격이 2,000원일 때 수요자와 공급자 모두 만족하지 못한다. (×)
 Ⓢ 수요량과 공급량이 일치하는 지점에서 시장은 균형을 이루게 된다. 이때 수요자와 공급자는 모두 남거나 모자람이 없이 자신이 원하는 양의 상품을 거래할 수 있게 되어 시장은 가장 효율적인 상태가 된다.

- 19** 시장에 가면 거래 물건과 거래 조건에 대한 정보를 쉽게 얻을 수 있어 거래 비용이 크게 줄어든다.

| 핵심 단어 | 거래 비용 감소

채점 기준	구분
시장의 기능에 대해 서술한 경우	상
시장의 기능에 대해 서술하지 못한 경우	하

- 20** (가)는 기업과 구직자 간에 노동을 거래하는 노동 시장으로 생산 요소 시장에 해당하고, (나)는 생활에 필요한 재화를 거래하는 재래시장으로 생산물 시장에 해당한다.

| 핵심 단어 | 노동 시장, 생산 요소 시장, 재래시장, 생산물 시장

채점 기준	구분
생산 요소 시장과 생산물 시장으로 나누어 서술한 경우	상
생산 요소 시장과 생산물 시장으로 나누어 서술하지 못한 경우	하

- 21** 초과 수요, 수요자들은 돈을 더 내고서라도 도우미를 구하려고 할 것이기 때문에 등하원 도우미의 임금이 상승한다.


| 핵심 단어 | 초과 수요, 수요자, 임금 상승

채점 기준	구분
초과 수요를 쓰고, 시장에서 발생하게 될 일도 서술한 경우	상
초과 수요는 썼지만, 시장에서 발생하게 될 일에 대한 서술이 부족한 경우	하

03 시장 가격의 변동

STEP 1 차근 차근 개념 체크

p. 71

- 1** (1) 소득 (2) 대체재, 보완재 **2** (1) ㉠ (2) ㉡ (3) ㉢ (4) ㉣ **3** 
- 4** (1) 증가 (2) 증가 (3) 증가 **5** (1) ○ (2) × (3) ○
- 6** 신호등 기능

STEP 2 차곡 차곡 실력 체크

p. 71~73

- 01** ⑤ **02** ㉠ 보완재, ㉡ 대체재 **03** ④ **04** ⑤
05 ② **06** ④ **07** ① **08** ③ **09** ①
10 ⑤ **11** ④ **12** ② **13** ③ **14** ②
15 해설 참조 **16** 해설 참조

- 01** 소득 증가, 수요자 수 증가, 선호도 증가, 미래 가격 상승 예상 등은 수요를 증가시키는 요인들이다. 반면 상품의 안전성에 문제가 있다는 방송이 보도되면 수요가 감소한다.

선택지 바로 보기

- ① 소득이 증가하였다.
 Ⓢ 소득이 증가하면 쓸 돈이 늘어나 수요도 증가한다.
 ② 수요자 수가 늘어났다.
 Ⓢ 수요자 수가 증가한다는 것은 상품을 사려는 사람이 늘어난 것이므로 수요도 그만큼 증가할 수 있다.
 ③ 상품에 대한 선호도가 증가하였다.
 Ⓢ 건강에 대한 사람들의 관심이 높아지면서 유기농 식품에 대한 수요가 증가하는 것과 같이 소비자의 선호도도 수요에 영향을 미친다.
 ④ 앞으로 가격이 오를 것으로 예상된다.
 Ⓢ 미래에 어떤 상품의 가격이 오를 것으로 예상되면 더 오르기 전에 사려고 해서 수요는 증가한다.
 ⑤ 상품의 안전성에 문제가 있다는 방송이 보도되었다.
 Ⓢ 상품의 안전성에 문제가 있다면 사려고 하지 않아서 수요가 감소할 것이다.



02 대체재 관계에 있을 때에는 한 상품의 가격이 오르면 다른 상품의 수요가 증가한다. 보완재 관계에 있을 때에는 한 상품의 가격이 오르면 다른 상품의 수요는 감소한다.

03 미세 먼지가 증가하면 공기 청정기, 공기 질 측정기, 마스크 등의 수요가 증가하게 된다.

선택지 바로 보기

- ① 봄옷의 수요가 감소한다. (X)
▶ 미세 먼지의 증가로 봄옷의 수요가 감소할지는 알 수 없다.
- ② 우산의 수요가 증가한다. (X)
▶ 미세 먼지의 증가로 우산 수요가 증가할지는 알 수 없다.
- ③ 마스크의 수요가 감소한다. (X)
▶ 미세 먼지가 증가하면 마스크를 사려는 사람들이 늘어나 수요가 증가한다.
- ④ 공기 청정기의 수요가 증가한다. (O)
▶ 미세 먼지가 증가하면 깨끗한 공기를 원해서 공기 청정기를 이용하려는 사람들이 증가한다.
- ⑤ 공기 질 측정기의 수요가 감소한다. (X)
▶ 미세 먼지의 위험성에 대비하기 위하여 공기의 질을 측정하려는 사람들이 늘어날 것이다.

04 앞으로 가격이 오를 것으로 예상되면 수요가 증가하는 경향이 있다.

05 닭고기는 돼지고기의 대체재이고, 상추는 돼지고기의 보완재이다. 대체재인 닭고기의 가격이 상승하면 돼지고기의 수요가 증가하고, 보완재인 상추의 가격이 하락하면 돼지고기의 수요가 증가한다.

06 소득이 감소하면 수요가 감소한다. 그로 인해 수요 곡선이 왼쪽으로 이동하면서 균형 가격이 하락하고 균형 거래량도 감소한다.

선택지 바로 보기

- ① 하루: 상품 공급이 감소할 것 같아. (X)
▶ 소득 감소는 수요에 영향을 주고, 공급과는 관련이 없다.
- ② 찬우: 시장에서 거래가 활발해지겠어. (X)
▶ 소득이 감소하였기 때문에 수요가 감소하여 거래가 줄어들 것이다.
- ③ 유빈: 많은 상품의 거래량이 늘어날 거야. (X)
▶ 소득이 감소하면 수요가 감소하여 수요 곡선이 왼쪽으로 이동하고 그에 따라 균형 거래량도 감소하게 된다.
- ④ 한별: 상품 수요가 전반적으로 감소하겠어. (O)
- ⑤ 채아: 많은 상품의 가격이 오를 것으로 예상돼. (X)
▶ 소득이 감소하면 수요가 감소하여 수요 곡선이 왼쪽으로 이동하고 그에 따라 균형 가격도 하락하게 된다.

07 소비자들의 기호가 증가함에 따라 수요가 증가하여 균형 가격이 상승하고 균형 거래량도 증가한다.

08 농작물의 경우 날씨의 영향을 많이 받는데, 날씨로 인해 생산에 타격을 입을 경우 공급이 감소한다.

09 아이스크림을 생산하는 데 필요한 원료인 우유 가격이 하락하거나, 아이스크림 생산 효율을 향상시키는 기술이 개발되면 아이스크림의 공급이 증가한다.

선택지 바로 보기

- ㄱ. 우유의 가격이 하락하였다. (O)
- ▶ 아이스크림의 생산 요소인 우유의 가격이 하락하면 동일한 생산 비용으로 더 많은 상품을 생산할 수 있게 되므로 공급을 늘릴 것이다.
- ㄴ. 급속 냉동 기술이 개발되었다. (O)
▶ 어떤 상품을 생산하는 기술이 발달하여 생산성이 높아지면 공급자는 동일한 비용으로 더 많은 상품을 생산할 수 있게 된다.
- ㄷ. 최저 임금이 올라 소득이 증가하였다. (X)
▶ 생산 요소인 임금이 상승하면 생산 비용이 증가하기 때문에 공급은 줄어든다. 수요의 측면에서는 소득이 증가하여 수요가 증가한다.
- ㄹ. 냉커피와 빙수의 가격이 하락하였다. (X)
▶ 대체재인 냉커피와 빙수의 가격이 하락하면 냉커피와 빙수를 사 먹으려고 하기 때문에 아이스크림의 수요는 감소하게 된다.

10 생산 기술의 발달은 공급을 증가시킨다.

선택지 바로 보기

- ① 미세 먼지가 심해졌다. (X)
▶ 미세 먼지가 심해지면 공기 청정기를 사려는 사람들이 많아질 것이다.
- ② 공기 청정기 회사가 감소하였다. (X)
▶ 공기 청정기를 만드는 회사, 즉 공급자 수가 감소하면 공급은 감소할 수밖에 없다.
- ③ 방송에서 공기 청정기의 문제점이 보도되었다. (X)
▶ 공기 청정기의 문제점이 보도되면 수요자들이 공기 청정기를 사려고 하지 않아 수요는 감소할 것이다.
- ④ 공기 청정기 생산에 필요한 원재료 가격이 상승하였다. (X)
▶ 공기 청정기의 원재료 가격이 상승하면 공급은 감소하게 된다.
- ⑤ 공기 청정기에 사용하는 필터 제조 기술이 향상되었다. (O)
▶ 생산 기술의 발달로 생산성이 향상되면 공급이 증가하고 공급 곡선은 오른쪽으로 이동한다.

11 밀가루 가격 상승은 과자의 생산 비용 증가를 의미하며, 이는 공급을 감소시킨다.

플러스 특강 수요 및 공급 변화의 영향

- 1. 수요 변화의 영향
 - (1) 수요 증가: 수요 곡선의 우측 이동 → 균형 가격 상승, 균형 거래량 증가
 - (2) 수요 감소: 수요 곡선의 좌측 이동 → 균형 가격 하락, 균형 거래량 감소
- 2. 공급 변화의 영향
 - (1) 공급 증가: 공급 곡선의 우측 이동 → 균형 가격 하락, 균형 거래량 증가
 - (2) 공급 감소: 공급 곡선의 좌측 이동 → 균형 가격 상승, 균형 거래량 감소

12 구형 스마트폰의 가격이 앞으로 내릴 것으로 예상되면 기업에서는 공급을 늘릴 것이다.

선택지 바로 보기

- ㄱ. 구형 스마트폰의 공급이 증가한다. (O)
- ㄴ. 구형 스마트폰의 공급이 감소한다. (X)
▶ 구형 스마트폰의 가격이 내릴 것으로 예상되기 때문에 가격이 더 내리기 전에 팔기 위해서 공급을 늘릴 것이다.
- ㄷ. 최신 스마트폰의 가격이 하락한다. (X)
▶ 최신 스마트폰은 출시 전이기 때문에 가격은 알 수 없다.
- ㄹ. 구형 스마트폰의 균형 거래량이 증가한다. (O)
▶ 공급이 증가하면 공급 곡선이 오른쪽으로 이동하게 되어 균형 가격은 하락하고 균형 거래량은 증가한다.

13 유가가 하락하면 석유를 생산 요소로 사용하는 경우 생산 비용이 줄어들어 공급이 증가한다.

선택지 바로 보기

- ① 자동차 판매량이 증가한다. (○)
- ☛ 유가가 하락하면 휘발유의 보완재인 자동차의 수요는 증가하게 될 것이다.
- ② 여행 상품의 수요가 증가한다. (○)
- ☛ 유가가 하락하면 항공료 등이 하락하여 여행 상품의 가격이 낮아져 수요는 증가하게 될 것이다.
- ③ 항공업계가 불황에 빠지게 된다. (×)
- ☛ 유가 하락으로 항공료 등이 낮아져서 여행 상품의 수요가 증가하게 되면 항공업계는 호황을 누리게 된다.
- ④ 석유 화학 제품의 공급이 증가한다. (○)
- ☛ 생산 요소 가격이 하락하면 비용이 줄어 공급은 증가하게 된다.
- ⑤ 석유를 원료로 상품을 생산하는 기업의 부담이 줄어든다. (○)
- ☛ 생산 요소인 유가가 하락하면 그와 관련된 상품을 생산하는 기업은 비용이 줄어 부담이 줄어든다.

14 가격의 신호등 역할을 보여 주는 사례이다. 가격 상승은 수요자에게 수요량을 줄이라는 신호로, 공급자에게는 공급량을 늘리라는 신호로 작용한다.

15 제시된 상품들은 제사용품들로, 추석이 다가오면 수요가 증가한다. 수요가 증가하면 수요 곡선이 오른쪽으로 이동하여 균형 가격이 상승하고 균형 거래량도 증가한다.

| 핵심 단어 | 수요 증가, 수요 곡선 오른쪽 이동, 균형 가격 상승, 균형 거래량 증가

채점 기준	구분
제시된 상품들의 균형 가격과 균형 거래량에 대해 서술한 경우	상
제시된 상품들의 균형 가격과 균형 거래량에 대해 서술하지 못한 경우	하

16 시금치 공급이 감소한다. 공급이 감소하면 공급 곡선이 왼쪽으로 이동하여 균형 가격이 상승하고 균형 거래량은 감소한다.

| 핵심 단어 | 공급 감소, 공급 곡선 왼쪽 이동, 균형 가격 상승, 균형 거래량 감소

채점 기준	구분
시금치의 균형 가격과 균형 거래량에 대해 서술한 경우	상
시금치의 균형 가격과 균형 거래량에 대해 서술하지 못한 경우	하

01 시장에서는 수요자와 공급자가 만나 거래를 하며, 상품에 대한 정보를 쉽게 얻을 수 있어 거래 비용이 크게 줄어든다. 눈에 보이지 않더라도 수요자와 공급자 사이에 거래가 이루어지는 곳은 시장이라고 볼 수 있다.

02 ①은 수요, ②는 공급, ③은 균형, ⑤는 특화에 대한 설명이다.

03 자급자족 경제에서 잉여 생산물이 생기면서 교환이 이루어졌고, 이후 일정한 장소를 정해 교환을 하게 되면서 시장이 형성되었다.

04 ㄴ은 서비스, ㄷ은 재화가 거래되는 생산물 시장에 해당하고, ㄱ, ㄹ은 생산 요소 시장에 해당한다.

선택지 바로 보기

- ㄱ. 공장을 짓기 위해 땅을 구입하였다. (×)
- ☛ 생산에 필요한 노동, 자본, 토지 등을 구입하는 곳은 생산 요소 시장이다.
- ㄴ. 문화생활을 즐기기 위해 극장에서 영화를 봤다. (○)
- ☛ 극장에서 영화를 본 것은 서비스를 거래한 생산물 시장에 해당한다.
- ㄷ. 가족끼리 먹기 위해 가게에서 과일을 구입하였다. (○)
- ☛ 과일(재화)을 거래하는 생산물 시장에 해당한다.
- ㄹ. 많은 사람들이 직업을 구하려고 취업 박람회에 모였다. (×)
- ☛ 취업 박람회는 노동을 거래하는 생산 요소 시장(노동 시장)이다.

05 모란 민속장은 특정 날짜에만 열리는 정기 시장이다. 또한 거래하는 모습이 구체적으로 드러나 보이는 시장이고, 소비자를 대상으로 하는 소매 시장이다.

06 가격이 상승하면 공급량이 증가하고, 가격이 하락하면 공급량이 감소하는 것을 공급 법칙이라고 하며, 이러한 가격과 공급량 사이의 비례 관계를 그래프에 나타낸 것을 공급 곡선이라고 한다.

07 수요 곡선은 우하향, 공급 곡선은 우상향하는 모습이며, 초과 수요 상태에서는 가격이 상승한다.

08 수요량과 공급량이 맞아떨어질 때를 균형이라고 한다. 균형 가격은 2,000원, 균형 거래량은 30개이며, 가격이 균형 가격보다 높을 때는 초과 공급이, 균형 가격보다 낮을 때는 초과 수요가 발생한다.

선택지 바로 보기

- ① 균형 거래량은 40개이다. (×)
- ☛ 균형 거래량은 수요량과 공급량이 맞아떨어지는 지점인 30개이다.
- ② 균형 가격은 2,000원이다. (○)
- ☛ 균형 가격은 수요량과 공급량이 맞아떨어지는 지점이다.
- ③ 가격이 1,000원일 때 초과 공급이 발생한다. (×)
- ☛ 가격이 1,000원일 때는 수요량 40개, 공급량 20개로 20개의 초과 수요가 발생한다.
- ④ 가격이 3,000원일 때 초과 수요가 발생한다. (×)
- ☛ 가격이 3,000원일 때는 공급량 40개, 수요량 20개로 20개의 초과 공급이 발생한다.
- ⑤ 수요량이 공급량보다 많을 때를 균형이라고 한다. (×)
- ☛ 수요량과 공급량이 맞아떨어질 때를 균형이라고 한다.

모아 모아 단원 체크

p. 74~76

01 ④	02 ④	03 ①	04 ③	05 ①
06 ②	07 ②	08 ②	09 ④	10 ①
11 ③	12 ②	13 ③	14 ⑤	15 ③
16 ④	17 ②	18 해설 참조	19 해설 참조	20 해설 참조



- 09 노동 시장은 생산 요소 시장에 속하며, 가격(임금)의 상승으로 인해 공급량이 수요량보다 많은 상태, 즉 초과 공급 상태이다.
- 10 가격 변동에 따른 수요량의 변동은 수요 곡선상의 점의 이동으로 나타난다. 나머지는 모두 수요를 증가시키는 요인이다.

선택지 바로 보기

- ① 상품 가격의 상승 (X)
 - ☞ 수요량은 어떤 가격에서 상품을 사고자 하는 양이다. 따라서 수요량을 변동시키는 것은 상품 가격이다. 수요량의 변동은 수요 곡선상의 점의 이동으로 나타난다.
- ② 가계 소득의 증가 (O)
 - ☞ 가계 소득이 증가하면 수요는 증가하게 된다.
- ③ 대체재 가격의 상승 (O)
 - ☞ 대체재 가격이 상승하면 대체재의 수요는 감소하고, 해당 상품의 수요가 증가한다.
- ④ 보완재 가격의 하락 (O)
 - ☞ 보완재 가격이 하락하면 해당 상품의 수요는 증가한다.
- ⑤ 소비자의 선호도 증가 (O)
 - ☞ 사람들의 선호도가 높아지면 수요가 증가한다.

- 11 휘발유와 자동차는 보완재 관계로, 휘발유 가격이 하락하면 자동차의 수요가 증가한다. 수요가 증가하면 자동차의 균형 가격은 상승하고 균형 거래량도 증가한다.
- 12 노인 인구의 증가는 건강식품 수요자의 증가를 의미하며, 이는 수요를 증가시키는 요인이다.
- 13 생산 기술의 발전으로 인해 공급이 증가하면 균형 가격은 하락하고 균형 거래량은 증가한다.

선택지 바로 보기

- ① 실질적으로 텔레비전 1대를 생산하는 비용이 감소하였고, (O)
 - ☞ 생산 기술이 발달하면 생산 비용이 감소한다.
- ② 텔레비전의 공급이 증가하였다. (O)
 - ☞ 생산 기술이 발달하면 생산 비용이 감소하여 공급이 증가한다.
- ③ 텔레비전 가격이 상승하고, (X)
 - ☞ 생산 기술이 발달하여 공급이 증가하면 균형 가격이 하락하고 균형 거래량은 증가한다.
- ④ 판매량도 증가하였다. (O)
 - ☞ 공급 증가로 가격이 하락하고 판매량은 증가한다.
- ⑤ 마을에 1대 정도 있었던 텔레비전을 집집마다 가지게 되었다. (O)
 - ☞ 생산 기술이 발달하면 공급이 증가한다.

- 14 소득이 증가하면 수요가 증가하여 균형 가격이 상승하고, 생산 요소의 가격이 상승하면 공급이 감소하여 균형 가격이 상승한다.
- 15 생산 요소의 가격이 하락하면 공급이 증가하여 공급 곡선이 오른쪽으로 이동한다. 따라서 균형 가격은 하락하고 균형 거래량은 증가한다.

- 16 풍년으로 농작물의 공급이 증가하면 균형 가격은 하락하고 균형 거래량은 증가한다. 농작물의 가격 폭락으로 인해 풍년이 들었는데도 농민의 소득이 적어지는 것을 '풍년의 역설'이라고 한다.

선택지 바로 보기

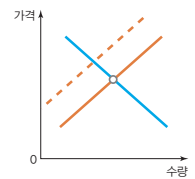
- ㄱ. 양파 농가의 소득이 큰 폭으로 증가하였다. (X)
 - ☞ 양파의 풍년으로 공급이 증가하면 공급 곡선이 오른쪽으로 이동한다. 이때 양파 가격은 하락하고 거래량은 증가한다. 결국 양파 농가는 가격 하락으로 소득이 감소하게 된다.
- ㄴ. 공급 과잉으로 인해 양파값이 폭락하였다. (O)
 - ☞ 양파의 공급이 많을수록 양파 가격은 더 하락한다.
- ㄷ. 정부는 외국산 양파의 수입을 늘려야 한다. (X)
 - ☞ 공급 과잉 상태이므로 수입을 늘려 공급을 늘려서는 안 된다. 양파를 사들여 공급을 줄여서 가격을 안정시켜야 한다.
- ㄹ. 수요 곡선보다는 공급 곡선의 이동과 관련 있다. (O)
 - ☞ 양파 농사의 풍년으로 공급이 대폭 늘어 가격이 폭락한 것이다.

- 17 스마트폰의 가격이 터무니없이 낮아 필요하지 않은 사람들도 스마트폰을 소비하여 자원이 낭비되었다. 시장 가격은 꼭 필요한 사람만 상품을 소비할 수 있게 하여 자원을 효율적으로 배분한다.
- 18 (1) 시장
 - (2) 상품의 특징이나 가격 등에 관한 정보를 쉽게 얻을 수 있다. 거래할 상대방을 일일이 찾아다니지 않아도 되고, 필요한 물건을 한곳에서 쉽게 살 수 있게 되어 거래 비용을 줄여 준다.

| 핵심 단어 | 시장, 정보, 거래 비용 감소

채점 기준	구분
시장을 쓰고, 시장의 기능에 대해 서술한 경우	상
시장은 썼지만, 시장의 기능에 대한 서술이 부족한 경우	하

- 19 폭염으로 인해 채소의 공급이 감소하여 균형 가격이 상승하고 균형 거래량은 감소하였다.



| 핵심 단어 | 공급 감소, 균형 가격 상승, 균형 거래량 감소

채점 기준	구분
그래프에 나타내고, 균형 가격과 균형 거래량을 서술한 경우	상
그래프에는 나타냈지만, 균형 가격과 균형 거래량에 대한 서술이 부족한 경우	하

- 20 소비자와 판매자는 시장 가격이 주는 신호를 보고 경제 활동을 결정한다. 따라서 시장 가격은 시장 경제의 신호등 역할을 한다.

| 핵심 단어 | 신호등 역할

채점 기준	구분
시장 가격의 역할을 서술한 경우	상
시장 가격의 역할을 서술하지 못한 경우	하

V | 국민 경제와 국제 거래

01 국내 총생산과 경제 성장 ~ 02 물가 상승과 실업

STEP 1 차근 차근 개념 체크 p. 83

1 국내 총생산(GDP) 2 (1) D (2) N (3) D 3 (1) × (2) ○ (3) × (4) × (5) ○
4 (1) 국내 총생산 (2) 경기 5 (1) 증가, 감소 (2) 실질 6 (1) 물가, 물가 지수
(2) 인플레이션 7 L, C, M 8 (1) 상승 (2) 하락 (3) 줄이는 9 (1) ×
(2) ○ (3) × 10 (1) ⊕ (2) ⊕ (3) ⊖

STEP 2 차곡 차곡 실력 체크 p. 84~87

01 ② 02 ③ 03 ⑤ 04 ③ 05 ②
06 ⑤ 07 ③ 08 ④ 09 ① 10 ④
11 ① 12 ③ 13 ④ 14 ① 15 ④
16 ① 17 ⑤ 18 10% 19 ⑤ 20 ④
21 ④ 22 ① 23 해설 참조 24 해설 참조 25 해설 참조

- 01 '한 나라 안에서'란 생산자의 국적에 상관없이 한 나라의 국경 안에서 생산된 것만 포함한다는 뜻이다. ② 해외에 거주하는 자국민이 생산한 것은 국민 총생산(GNP)에 해당한다.
- 02 외국에서의 생산, 중고품의 거래, 가사 노동 등은 국내 총생산에 포함되지 않는다.
- 03 국내 총생산은 한 나라의 전체적인 생산 수준 및 경제 활동 규모를 보여 준다. 국민들의 평균 소득 수준을 확인하려면 1인당 국내 총생산을 보아야 한다.

선택지 바로 보기

- ㄱ. 국내 총생산은 국민들의 삶의 질이나 행복도를 정확하게 측정한다. (×)
- Ⓜ. 국내 총생산은 환경 오염, 교통사고 등 삶의 질을 떨어뜨리는 일이 발생해도 증가할 수 있기 때문에 국민들의 삶의 질이나 행복도를 정확하게 측정한다고 보기 어렵다.
- ㄴ. 국내 총생산이 높을수록 국민들의 경제적인 생활 수준이 높다고 할 수 있다. (×)
- Ⓜ. 국민들의 경제적인 생활 수준을 알려 주는 지표는 1인당 국내 총생산이다.
- ㄷ. 국내 총생산은 한 나라의 전체적인 생산 수준 및 경제 활동 규모를 보여 주는 지표이다. (○)
- ㄹ. 한 나라 국민들의 평균적인 소득 수준을 확인하기 위해서는 1인당 국내 총생산을 보아야 한다. (○)

- 04 국내 총생산은 최종 생산물인 빵의 가치 24만 원이다. 다른 방법으로 계산하면 각 생산 단계마다 더해진 가치인 10만 원, 9만 원, 5만 원의 합인 24만 원이다.
- 05 국내 총생산의 한계로는 시장에서 거래되지 않는 재화와 서비스의 가치가 포함되지 않는다는 점, 삶의 질이나 소득 분

배 상황을 파악하기 어렵다는 점 등을 들 수 있다. ② 우리 국민이 외국에서 생산한 최종 생산물은 국민 총생산(GNP)에 포함된다. 이는 국내 경제의 현실을 반영하기 어려워 경제 지표로서의 실효성이 떨어진다.

- 06 국내 총생산은 국민들이 느끼는 삶의 만족도를 정확하게 나타내지 못하기 때문에, 오늘날에는 국민의 행복도를 반영한 새로운 지표들이 대안으로 제시되고 있다.
- 07 경제 성장률 수치가 높을수록 경제 성장 속도가 빠른 것이다. ①, ②, ④ 경제 성장률과 1인당 국내 총생산으로는 경제 규모, 행복 지수, 물가 변동을 파악할 수 없다. ⑤ 을국의 1인당 국내 총생산이 훨씬 낮으므로 두 국가의 국내 총생산이 같다면, 을국의 인구가 더 많을 것이다.
- 08 경제 성장에는 환경 오염, 자원 고갈, 계층 간 갈등과 빈부 격차 등의 부작용이 뒤따르며, 우리나라 역시 예외는 아니다. 우리나라도 경제 성장과 함께 소득 양극화 문제로 많은 갈등이 일어나고 있다.
- 09 경제 성장은 국민 소득 향상을 통해 기본적인 삶의 조건을 충족시켜 줌으로써 삶의 질을 높이는 데 기여한다. 하지만 경제 성장이 반드시 삶의 질 향상으로 이어진다고 볼 수는 없다.
- 10 물가는 여러 가지 상품의 가격을 종합적·평균적으로 보는 개념이다. 한 상품의 가격 변동을 통해서만 물가 전체를 판단할 수 없다.
- 11 물가가 상승하면 화폐의 가치는 떨어지며, 물가 지수는 기준 시점의 물가를 100으로 했을 때 비교 시점의 물가 수준을 나타낸다.

선택지 바로 보기

- ① 물가가 지속적으로 상승하고 있다. (○)
- ② 2011년은 전년도에 비해 화폐의 가치에 변동이 없다. (×)
- Ⓜ. 2011년도의 물가 지수는 104.0이므로 전년도인 2010년에 비해 물가가 4% 상승하였다.
- ③ 2015년 소비자 물가는 2014년에 비해 9.81% 상승하였다. (×)
- Ⓜ. 제시된 그래프의 물가 지수 기준 연도는 2010년이므로 2015년 소비자 물가는 2014년이 아닌 2010년에 비해 9.8% 상승한 것이다.
- ④ 소비자 물가 지수는 소비자들이 체감하는 물가와 정확하게 일치한다. (×)
- Ⓜ. 사람마다 자주 구입하는 물건이 다르기 때문에 소비자 물가 지수는 체감 물가와 차이가 있을 수밖에 없다.
- ⑤ 생산자에게 필요한 대표적인 재화와 서비스의 요금을 측정하여 작성된 것이다. (×)
- Ⓜ. 소비자 물가 지수는 소비자에게 필요한 대표적인 재화와 서비스의 요금을 측정하여 작성된 것이다.

- 12 제1차 세계 대전 이후 독일은 극심한 인플레이션을 겪었으며, 돈의 가치는 휴지보다 못했다고 한다.

선택지 바로 보기

- ① 기업의 투자 활동이 활발하였다. (×)
 ▶ 기업의 투자 활동이 줄어들었다.
- ② 저축을 하려는 사람들이 증가하였다. (×)
 ▶ 저축을 하려는 사람들이 줄어들었다.
- ③ 극심한 인플레이션에 시달리고 있었다. (○)
- ④ 사회 계층 간의 빈부 격차가 완화되었다. (×)
 ▶ 부동산이나 금 등 실물 자산 소유자와 그렇지 않은 사람들 간의 빈부 격차가 심해졌다.
- ⑤ 꾸준히 안정적인 경제 성장이 이루어졌다. (×)
 ▶ 지속적으로 물가가 치솟아 안정적인 경제 성장은 기대하기 어려웠다.

13 인플레이션의 원인은 수요와 공급 측면으로 나뉘어 생각할 수 있다. 가계의 소비, 기업의 투자 등이 증가하거나 통화량이 증가할 경우 총수요가 증가하여 물가가 상승한다. 또한 원자재 가격, 임금 등이 상승할 경우 총공급이 감소하여 물가가 상승한다.

14 인플레이션이 발생하면 부동산이나 금 등의 실물 자산 소유자, 채무자, 수입업자 등은 유리해진다. 반면 봉급 및 연금 생활자, 채권자, 수출업자 등은 불리해진다.

15 인플레이션이 발생하면 화폐 가치가 하락하고, 수출이 감소하고 수입이 증가하여 무역 적자가 발생한다. 물가 안정을 위해 가계는 소비를 줄이고 저축을 늘려야 하며, 중앙은행은 이자율을 인상하여 통화량을 줄여야 한다.

16 물가 안정을 위해 정부는 세율을 인상하여 생산과 소비를 억제하고, 정부 지출을 축소해야 한다. ① 정부가 세율을 인하고 지출을 확대하면 총수요가 증가하여 물가가 상승한다.

17 일할 능력과 의사가 있는 사람이 일자리를 갖지 못한 경우 실업자라고 한다. 일할 능력이 없는 노약자나 일할 의사가 없는 학생, 전업주부, 구직 단념자 등은 실업자에 포함되지 않는다. ⑤ 이직을 준비하는 마찰적 실업자에 해당한다.

18
$$\text{실업률} = \frac{\text{실업자 수}}{\text{경제 활동 인구}} \times 100$$
 이므로
$$\frac{10}{100} \times 100 = 10(\%)$$
 이다.

19 퇴직 후 새로운 일자리를 구하면 마찰적 실업에 해당한다.

선택지 바로 보기

- ① 청년 실업률은 전체 실업률보다 낮다. (×)
 ▶ 현재 우리나라의 청년 실업률은 전체 실업률보다 높다.
- ② 2018년의 청년들은 상대적으로 취업을 하기 쉽다. (×)
 ▶ 첫 직장을 잡을 때까지 평균 11개월 가까이 걸린다는 기사 내용으로 볼 때, 2018년의 청년들은 상대적으로 취업하기 어려운 상황이다.
- ③ 청년 실업률을 낮추기 위한 노력은 정부만 할 수 있다. (×)
 ▶ 실업률을 낮추기 위한 노력은 정부, 구직자, 기업 모두 할 수 있다.
- ④ 첫 직장을 그만두고 구직 활동을 하지 않으면 실업자이다. (×)
 ▶ 구직 활동을 하지 않을 경우에는 실업자에 해당되지 않는다.
- ⑤ 적성에 맞지 않아 직장을 그만두고 새로운 일자리를 구하는 경우 마찰적 실업에 해당한다. (○)

20 실업은 개인적 측면에서는 생계유지의 어려움, 자신감 하락, 자아실현의 기회 박탈 등의 영향을 가져온다. 사회적 측면에서는 경기 침체, 인적 자원의 낭비, 생계형 범죄 증가 등의 영향을 가져온다.

21 구조적 실업에 관한 것으로, 인공 지능이나 로봇으로 대체할 수 없는 능력을 키우는 것이 대안이 된다.

선택지 바로 보기

- ① 공공사업을 확대한다. (×)
 ▶ 경기적 실업에 대한 해결책의 일환으로, 미국의 '뉴딜 정책'이 대표적이다.
- ② 고용 지원 센터를 운영한다. (×)
 ▶ 계절적 실업과 마찰적 실업의 해결책이다.
- ③ 정부는 경기 활성화 정책을 실시한다. (×)
 ▶ 경기적 실업의 해결책이다.
- ④ 인간만이 할 수 있는 창의적인 일자리를 찾는다. (○)
- ⑤ 고용 보험 제도를 통해 실업자들의 경제적 어려움을 지원한다. (×)
 ▶ 계절적 실업과 마찰적 실업의 해결책이다.

22 경기 침체를 해소하기 위해서는 시중의 통화량을 늘려 시장에 활력을 줄 필요가 있다. 세금을 인하하면 가계와 기업의 부담이 적어져 경제 활동이 활발해지고, 시중의 통화량이 늘어난다. 또 금리를 인하하면 자본이 은행으로 몰리지 않고, 기업의 대출이 원활해져 경제를 활성화할 수 있다.

23 국내 총생산은 시장에서 거래되는 재화와 서비스의 가치를 더한 것이기 때문에 가정에서 이루어지는 육아나 가사 활동 등의 시장을 통하지 않은 경제 활동은 포함되지 않는다.

| 핵심 단어 | 시장, 거래, 재화와 서비스의 가치, 가정, 육아, 가사 활동

채점 기준	구분
육아와 가사 활동이 국내 총생산에 포함되지 않음을 서술한 경우	상
육아와 가사 활동이 국내 총생산에 포함되지 않음을 서술하지 못한 경우	하

24 물가가 지속적으로 상승하는 인플레이션 상황에서 정부는 물가 안정을 위해 정부 지출을 줄이거나 세금을 더 거두는 등 국가 재정을 관리할 수 있다.

| 핵심 단어 | 정부 지출 축소, 세금 인상(세율 인상)

채점 기준	구분
인플레이션에 대한 정부의 대책을 두 가지 이상 서술한 경우	상
인플레이션에 대한 정부의 대책을 한 가지만 서술한 경우	하

25 사양 산업에서 일하다가 실직한 사람들이 취업에 도움이 되는 분야의 기술을 익힐 수 있도록 정부가 각종 직업 훈련 프로그램을 지원한다.

| 핵심 단어 | 사양 산업, 직업 훈련 프로그램

채점 기준	구분
구조적 실업에 대한 해결책을 제대로 서술한 경우	상
구조적 실업에 대한 해결책을 서술하지 못한 경우	하

03 국제 거래와 환율

STEP 1 차근 차근 개념 체크

p. 92

- 1 (1) 관세 (2) 자유 무역 협정(FTA) 2 (1) ○ (2) × (3) ○ (4) ×
 3 (1) 비교 우위 (2) 소비자 4 (1) 환율, 1,000원 (2) 외화 (3) 수요 (4) 하락
 (5) 하락 5 (1) ㉠, ㉡ (2) ㉢, ㉣

STEP 2 차곡 차곡 실력 체크

p. 92~95

- 01 ㉠ 02 ㉢ 03 비교 우위 04 ㉠ 05 ㉡
 06 ㉠ 07 ㉡ 08 ㉠ 09 ㉡ 10 ㉡
 11 ㉡ 12 ㉢ 13 ㉠ 14 ㉣ 15 ㉣
 16 ㉠ 17 ㉢ 18 ㉠ 19 해설 참조 20 해설 참조
 21 해설 참조

- 01 국제 거래는 국가 간에 재화와 서비스를 사고파는 것을 의미하며, 운송비와 관세 등 국내 거래에 비해 거래 비용이 많이 들지만 비교 우위가 있는 상품을 교역하면 모두 이익을 볼 수 있기 때문에 세계 무역은 증가하고 있다.
- 02 1970년대에는 경공업 제품을 주로 수출한 반면, 오늘날에는 첨단 산업 제품을 주로 수출한다. 시대에 따라 주력 수출 상품이 변화함을 확인할 수 있다.
- 03 각국은 비교 우위가 있는 상품을 특화하여 수출하고 그렇지 않은 상품은 외국에서 수입한다.
- 04 국가마다 비교 우위가 있는 상품이 다르고, 각국이 비교 우위가 있는 상품에 특화하여 교역하면 서로 경제적 이익을 얻을 수 있기 때문에 관세나 통관 절차 등의 부담에도 불구하고 국제 거래를 하는 것이다.
- 05 국제 거래가 늘어나면 국내 경제가 해외 경제 상황의 영향을 많이 받게 된다.
- 06 국제 거래 규모의 확대를 보여 주는 그래프로, 이와 같은 현상은 교통 및 정보 통신 기술의 발달에 따른 세계화, 자유 무역의 확대 등과 관련 있다.
- 07 과거에는 국제 거래가 원자재, 기계와 같은 재화 위주로 이루어졌다면 최근에는 세계화, 개방화 추세에 따라 재화뿐만 아니라 서비스 및 노동·자본·기술 등 생산 요소의 거래도 증가하고 있다.

선택지 바로 보기

- ㄱ. 국제 거래의 대상과 규모가 점차 확대되고 있다. (○)
 ㄴ. 노동, 자본, 기술 등 생산 요소의 거래가 감소하고 있다. (×)
 ㉠. 노동, 자본, 기술 등 생산 요소의 거래가 증가하고 있다.
 ㄷ. 세계화와 개방화로 세계 각국의 상호 의존성이 약화되고 있다. (×)
 ㉡. 세계화와 개방화로 세계 각국의 상호 의존성이 심화되고 있다.
 ㄹ. 과거에는 재화가 국제 거래의 주된 대상이었지만, 오늘날에는 서비스의 국제 거래도 활발하게 이루어지고 있다. (○)

08 지역 경제 협력체는 회원국끼리는 자유 무역을 추구하지만 비회원국에 대해서는 무역 장벽을 쌓는 등의 차별을 하기도 한다.

09 한-칠레 자유 무역 협정(FTA)으로 인해 두 국가 간 교역이 크게 증가하였으며, 관세 및 비관세 장벽은 완화되었다. 이로 인해 소비자들은 다양한 포도를 저렴한 가격에 먹을 수 있게 되었지만, 우리나라 포도 농가는 폐업 위기에 처하기도 하였다.

선택지 바로 보기

- ㉠ 칠레 수입 상품에 대한 관세가 증가하였다. (×)
 ㉡ 칠레 수입 상품 중 일부에 대한 관세가 폐지 혹은 인하되었다.
 ㉢ 우리나라와 칠레 간 교역이 크게 증가하였다. (○)
 ㉣ 우리나라 포도 농가는 호황을 누리게 되었다. (×)
 ㉤ 우리나라 포도 농가는 폐업 위기에 처하기도 하였다.
 ㉥ 소비자들은 다양한 포도를 먹을 수 있어 좋지만, 가격은 더 비싸졌다. (×)
 ㉦ 다양한 품종의 포도를 저렴하게 소비할 수 있게 되었다.
 ㉧ 관세 및 비관세 장벽이 철폐되어 세계 모든 나라와 자유롭게 무역을 할 수 있게 되었다. (×)
 ㉨ 자유 무역 협정을 체결하더라도 관세 폐지 조항에 속하지 않은 상품에 대해서는 관세를 부과하며, 통관 절차 역시 협의된 내용에 따라 완화될 수는 있지만 반드시 거쳐야 한다. 또한 자유 무역 협정을 체결하지 않은 국가와는 기존의 관세 및 비관세 장벽이 그대로 유지된다.

10 환율은 국가 간 화폐의 교환 비율을 의미하며, 환율이 오르면 자국 화폐의 가치는 하락한다. 환율은 외화의 수요와 공급의 변화에 따라 변화하며, 국가마다 화폐가 다르기 때문에 국제 거래에서는 환율을 고려해야 한다.

선택지 바로 보기

- ㉠ 환율은 거의 변하지 않는다. (×)
 ㉡ 환율은 각국의 경기나 국제 경제의 흐름에 따라 수시로 변동한다.
 ㉢ 환율은 국가 간 화폐의 교환 비율이다. (○)
 ㉣ 환율이 오르면 자국 화폐의 가치는 상승한다. (×)
 ㉤ 환율이 오르면 자국 화폐의 가치는 하락한다.
 ㉥ 외국과의 교역에서 환율을 고려할 필요는 없다. (×)
 ㉦ 외국과의 교역에서 환율은 반드시 고려해야 한다.
 ㉧ 주식 시장에서 볼 수 있는 수치들이 모두 환율을 의미한다. (×)
 ㉨ 주식 시장에서 볼 수 있는 수치들은 대부분 상장된 기업, 즉 주식회사들의 주가를 의미하며, 이것이 모두 환율과 직접적으로 관련되어 있지는 않다.

11 상품의 수입이 증가하거나 자국민의 해외 유학이 증가할 경우에는 외화의 수요가 증가한다. 반면 상품의 수출이 증가하거나 외국인의 국내 유학이 증가할 경우에는 외화의 공급이 증가한다.

12 수출이 증가하면 외화의 공급이 증가하고, 공급 곡선이 오른쪽으로 이동해 환율이 하락한다.

13 외화의 수요가 감소하면 수요 곡선이 왼쪽으로 이동하여 환율이 하락한다.



- 14** 환율이 하락하면 수출 감소, 수입 증가, 한국인의 해외여행 증가, 국내 물가 안정, 외채 상환 부담 감소 등의 영향이 있다.
- 15** A 씨의 학비는 30,000달러, 환율은 1,200원이므로 A 씨의 부모님이 보내 주는 비용은 1,200(원/달러)×30,000(달러)=3,600(만 원)이다.
- 16** 환율이 상승하면 수출업자, 한국으로 여행 온 외국인에게 유리하고, 수입업자, 외국 유학생, 외국으로 여행 간 한국인은 불리한 상황에 놓이게 된다.
- 17** 해외에 있는 자녀와 아내에게 송금을 해야 하는 기리기 아빠에게 환율 상승은 매달 들어가는 비용의 증가를 의미한다.
- 18** 환율이 상승하면 수출업자는 판매 상품의 가격이 하락하여 더 많이 팔 수 있지만, 해외에서 외화를 써야 하는 사람들은 경제적 부담이 늘어난다.
- 19** (1) 컴퓨터 생산에 절대 우위가 있는 나라는 A 국이고, 비교 우위가 있는 나라 역시 A 국이다.
 (2) A 국은 상대적으로 생산 비용이 적게 들어 비교 우위를 가지는 컴퓨터 생산에 특화하고, B 국은 옷 생산에 특화하여 교역하면 양국 모두 이익을 얻을 수 있다.

핵심 단어 | 생산 비용, 비교 우위, 특화, 교역, 이익

채점 기준	구분
각국이 비교 우위에 있는 상품을 특화 생산하여 교역하면 이익이 된다는 내용을 정확하게 서술한 경우	상
각국이 비교 우위에 있는 상품을 특화 생산하여 교역하는 것을 제대로 서술하지 못한 경우	하

- 20** A의 경우 세계화로 인해 국제 거래가 활발해지면 더 다양한 과일을 저렴한 가격에 먹을 수 있어 효용이 증가할 것이다. B의 경우 노동자를 국내뿐만 아니라 해외에서도 찾을 수 있다는 장점이 있다.
- 핵심 단어** | 세계화, 국제 거래, 다양한 상품, 저렴한 가격, 해외(외국인) 노동자

채점 기준	구분
A, B가 세계화로 얻게 되는 이익을 정확하게 서술한 경우	상
A, B가 세계화로 얻게 되는 이익 중 한 가지만 바르게 서술한 경우	하

- 21** A의 경우 환율이 하락하면 외국 상품의 가격이 하락하므로 상품을 구입하는 것이 합리적이다. B의 경우 환율이 하락하면 수출 상품의 가격이 상승하므로 수출량이 감소할 것을 예상해 상품 재고를 줄이는 것이 합리적이다.

핵심 단어 | 환율 하락, 외국 상품 가격 하락, 수출 상품 가격 상승

채점 기준	구분
수입업자와 수출업자가 환율 하락에 대처하는 방안을 두 가지 모두 정확하게 서술한 경우	상
수입업자와 수출업자가 환율 하락에 대처하는 방안을 한 가지만 서술한 경우	하

모아 모아 단원 체크

p. 96~98

- 01** ③ **02** ④ **03** ② **04** ① **05** ④
06 ③ **07** ③ **08** ④ **09** ⑤ **10** ②
11 ③ **12** ③ **13** ② **14** ② **15** ③
16 해설 참조 **17** 해설 참조 **18** 해설 참조

- 01** 우리나라의 국내 총생산에는 우리나라 영토 내에서 이루어진 생산 활동과 시장에서 거래된 것만이 포함된다.
- 02** 국내 총생산은 시장 가치만을 계산하며, 봉사 활동이나 가사 노동과 같이 시장에서 거래되지 않는 경제 활동은 국내 총생산에 포함되지 않는다.
- 03** 경제 성장률은 실질 국내 총생산이 전년보다 얼마나 증가하였는지 계산한 것으로, 경제 성장을 측정하는 대표적인 지표이다.

선택지 바로 보기

- ① 수진: 국민 총생산(GNP)이 증가하는 것을 말해. (×)
 Ⓢ 경제 성장은 실질 국내 총생산이 증가한 것을 말한다.
- ② 영희: 실질 국내 총생산의 증가량을 계산한 경제 성장률을 통해 측정해. (○)
- ③ 철수: 경제 성장률이 낮은 국가는 경제 성장률이 높은 국가보다 소득 격차가 커. (×)
 Ⓢ 경제 성장률을 통해 소득 격차를 파악할 수는 없다.
- ④ 민경: 경제 성장률이 전년도보다 낮은 것은 그 국가의 경제가 전년도에 비해 후퇴했음을 의미해. (×)
 Ⓢ 경제 성장률이 전년도보다 낮다고 해서 그 국가의 경제가 전년도에 비해 후퇴한 것은 아니며, 경제 성장률이 0%를 넘었다면 그 국가는 경제 성장이 이뤄진 것이다. 경제가 후퇴한 경우는 경제 성장률이 0% 미만인 경우이다.
- ⑤ 유하: 경제 성장을 통해 환경 문제나 사회 갈등, 삶의 질 문제 등을 모두 해결할 수 있어. (×)
 Ⓢ 경제 성장을 통해 위의 문제들을 모두 해결할 수는 없으며, 오히려 경제 성장의 부작용으로 위의 문제들이 나타날 수 있다.

- 04** 제시된 표에 등장한 국가들과 비교해 볼 때, 우리나라는 기대 수명과 평균 교육 연수가 높은 편이다.
- 05** 경제 성장률을 구하는 공식은 다음과 같다.
 경제 성장률(%)

$$= \frac{\text{금년도 실질 국내 총생산} - \text{전년도 실질 국내 총생산}}{\text{전년도 실질 국내 총생산}} \times 100$$

$$= \frac{200 - 100}{100} (\text{조}) \times 100 = 100(\%)$$
- 06** 기업은 경제 성장을 위해 공장 설비를 늘리거나 새로운 기계를 도입하는 등의 투자를 해야 한다. 또한 새로운 제품과 기술을 만들기 위하여 연구 개발에 힘써야 한다. 낮은 가격, 낮은 근로자가 해야 할 노력이다.
- 07** 인플레이션이 발생하면 실물 자산 소유자나 채무자는 유리해지고, 은행 예금 보유자나 채권자는 불리해진다.
- 08** 베네수엘라의 인플레이션은 무분별한 화폐 발행과 과도한 복지 정책으로 인해 발생하였다. 따라서 복지 정책을 축소하

고 재정 지출을 줄임으로써 통화량과 총수요를 감소시켜 물가 하락을 유도해야 한다.

선택지 바로 보기

- ① 가계: 주식 투자를 늘려 경기를 활성화한다. (×)
 - ② 중앙은행: 이자율을 낮춰 대출을 활성화한다. (×)
 - ③ 기업: 고용을 확대하고 임금을 대폭 인상한다. (×)
 - ④ 정부: 복지 정책을 일부 축소하고 재정 지출을 줄인다. (○)
 - ⑤ 근로자: 중화학 공업 기술을 혁신해 석유 사용량을 줄인다. (×)
- ③ 베네수엘라의 경제 위기는 근본적으로 산업 구조가 석유 수출에 지나치게 의존하는 형태였기 때문에 발생하였다. 제시된 글에 베네수엘라의 중화학 공업 분야에서 석유 사용량이 많다는 이야기는 언급된 바가 없으므로 적절하지 않다. 또 기술 혁신은 근로자가 아닌 기업이 해야 할 일이다.

09 일할 능력이 없는 노약자나 일할 의사가 없는 학생, 전업주부, 구직을 포기한 사람 등은 실업자에 포함되지 않는다. ⑤는 마찰적 실업에 해당한다.

10 실업률이 증가하면 소비가 줄어들어 경기가 나빠지는 것은 맞지만 대부분 인플레이션은 경기가 과열된 상태에서 발생한다. 특수하게 실업률 증가와 인플레이션이 동시에 발생하는 경우는 '스태그플레이션'이라고 부른다.

11 국제 거래를 하기 위해서는 국가마다 다른 법과 제도, 관세와 통관 절차, 환율 등을 고려해야 한다.

12 우리나라도 옷, 소고기, 포도 등을 생산할 수 있지만 다른 나라들이 해당 상품에 비교 우위가 있어 더 적은 비용으로 생산하기 때문에 관세 등의 제약에도 불구하고 수입을 하는 것이다.

선택지 바로 보기

- ① 우리나라는 해당 상품들을 생산할 수 없기 때문이다. (×)
 - ② 해당 상품을 수입하는 데 전혀 제약이 없기 때문이다. (×)
 - ③ 다른 나라들이 해당 상품에 비교 우위가 있기 때문이다. (○)
 - ④ 다른 나라들이 해당 상품을 생산하는 데 비용이 많이 들기 때문이다. (×)
- ③ 다른 나라들이 해당 상품에 대한 생산비가 상대적으로 낮기 때문에 비교 우위를 지니게 된다.
- ⑤ 우리나라 상품보다 수입 상품의 판매 가격이 높아 수익이 더 크기 때문이다. (×)
- ④ 수입 상품의 판매 가격이 반드시 국내산 상품보다 비싼 것은 아니며, 오히려 해당 상품들의 경우 수입 상품의 생산비가 저렴해 판매 가격 역시 저렴한 경우가 더 많다.

13 외화가 국내로 들어오는 경우를 찾아야 한다. 상품 수출이 증가하는 경우와 외국인의 국내 여행이 증가하는 경우 달러의 공급이 증가한다.

14 환율이 하락하면 외채 상황 부담이 감소한다.

선택지 바로 보기

- ① 국내 물가가 상승한다. (×)
 - ② 외채 상황 부담이 감소한다. (○)
 - ③ 외국인의 국내 여행이 증가한다. (×)
 - ④ 수출이 증가하고 수입은 감소한다. (×)
 - ⑤ 한국 유학생들의 유학 비용이 증가한다. (×)
- ③ 국내 물가는 안정을 되찾는다.
④ 외국인의 국내 여행은 감소한다.
⑤ 수출이 감소하고 수입은 증가한다.
⑥ 유학 비용은 감소한다.

15 환율 상승은 수출업자에게는 좋은 소식이지만 수입업자, 유학생, 해외여행자 등에게는 비용의 상승을 의미한다.

선택지 바로 보기

- ① 외국에서 유학 중인 학생 (×)
 - ② 해외여행을 떠나려는 신혼부부 (×)
 - ③ 미국으로 외장형 하드 디스크를 수출하는 회사의 사장 (○)
 - ④ 장거리 운전이 많아서 휘발유를 많이 사용하는 운전자 (×)
 - ⑤ 외국에 있는 자녀에게 매달 생활비를 송금하는 기러기 아빠 (×)
- ⑥ 환율이 상승하면 유학 비용이 증가하므로 안 좋은 소식이다.
⑦ 환율이 상승하면 여행 비용이 증가하므로 안 좋은 소식이다.
⑧ 환율이 상승하면 100% 수입해야 하는 원유의 가격이 상승하여 휘발유 가격 역시 상승하게 되므로 안 좋은 소식이다.
⑨ 환율이 상승하면 기러기 아빠가 매달 자녀에게 보내야 하는 돈의 액수가 증가하게 되므로 안 좋은 소식이다.

16 (1) 시중에 유통되는 통화량이 지나치게 많아졌기 때문이다. (2) 세율을 인상하고 정부 지출을 축소한다. 공공요금의 인상을 억제한다. 생필품의 가격 상승을 규제한다.

| 핵심 단어 | 세율 인상, 정부 지출 축소, 공공요금 인상 억제, 생필품 가격 상승 규제

채점 기준	구분
물가 상승을 억제할 수 있는 정부 정책을 두 가지 서술한 경우	상
물가 상승을 억제할 수 있는 정부 정책을 한 가지만 서술한 경우	하

17 국가마다 자연환경이 달라 잘 생산할 수 있는 상품이 다르다. 더운 나라의 농작물과 추운 나라의 얼음을 교역하면 두 나라 모두 이익을 얻을 수 있다.

| 핵심 단어 | 자연환경, (특화) 상품, 교역, 이익

채점 기준	구분
자연환경의 차이로 국제 거래가 필요하다는 내용을 서술한 경우	상
국제 거래가 필요한 까닭을 자연환경의 차이와 관련 지어 서술하지 못한 경우	하

18 달러의 수요 증가로 환율이 상승하면 원화 가치가 하락하고 달러 가치가 상승한 것이기 때문에 유학생의 경우 학비와 생활비 부담이 증가한다.

| 핵심 단어 | 달러의 수요 증가, 원화 가치 하락, 달러 가치 상승, 학비와 생활비 부담의 증가

채점 기준	구분
환율의 상승이 유학생에게 미치는 영향을 제대로 서술한 경우	상
환율의 상승이 유학생에게 미치는 영향을 제대로 서술하지 못한 경우	하

VI | 국제 사회와 국제 정치

01 국제 사회의 특성과 행위 주체

STEP 1 차근 차근 개념 체크 p. 102

1 국제 사회 2 (1) × (2) × (3) ○ (4) ○ 3 (1) 국가 (2) 국제 비정부 기구 (3) 다국적 기업 4 (1) ㄴ, ㄷ, ㄹ (2) ㄱ, ㄹ, ㄴ 5 (1) ○ (2) ×

STEP 2 차곡 차곡 실력 체크 p. 102~103

01 ⑤ 02 ⑤ 03 ① 04 ③ 05 ①
06 ② 07 ④ 08 ① 09 해설 참조

- 01 ㄱ. 지리적으로 가까운 나라끼리 정치적·경제적으로 협력하는 경우가 많은 편이지만, 멀리 떨어져 있는 나라들끼리도 협력하는 경우가 있다. ㄴ. 오늘날 국제 사회는 정치·경제·사회·문화 등 많은 부문에서 교류와 협력이 이루어지고 있다.
- 02 ⑤는 국제 사회를 '가꿀 수 있는 정원'으로 보는 관점이다. 이 관점은 국제 사회에는 도덕과 규범, 여론이 작동하며 국가 간 약속과 국제기구의 역할을 통해 평화 실현이 가능하다고 본다. ①~④는 국제 사회를 '약육강식의 정글'로 보고 있다.
- 03 국제 사회에 속한 국가들은 자국의 이익을 우선시한다. 각국은 자국의 이익에 따라 우호적이었던 나라와 관계를 끊기도 하고, 오랫동안 적대적이었던 나라와 협력 관계를 맺기도 한다.
- 04 국제 사회에는 강제성을 지닌 중앙 정부가 존재하지 않으므로, 분쟁이나 갈등이 발생했을 때 조정이나 해결이 쉽지 않다.
- 05 주권을 가진 각 국가는 국제 사회에서 국제법에 따라 독립적인 지위를 가지고 외교 활동을 하며, 여러 정부 간 국제기구에 가입하여 회원국으로서 활동하기도 한다.

선택지 바로 보기

- ㉠ 국가는 국제 사회를 구성하는 가장 기본적인 행위 주체 (○)
- ㉡ 독립적인 주권을 행사하는 동등한 행위 주체로 인정 (○)
- ㉢ 영토의 크기에 비례하여 국제 사회에 미치는 영향력이 달라진다. (×)
- ㉣ 국력이 꼭 영토의 크기에 비례하는 것은 아니다.
- ㉤ 국제 비정부 기구에 가입하여 활동하기도 한다. (×)
- ㉥ 국가는 정부 간 국제기구에 가입하여 활동한다.

- 06 다국적 기업은 이윤 추구를 목적으로 하지만, 국제 비정부 기구는 비영리 단체로 다국적 기업과는 성격이 다르다.
- 07 국제 비정부 기구는 국제 사회의 다양한 문제를 해결하기 위해 만들어진 비영리 민간단체로, 대표적인 예로는 국경 없는 의사회, 그린피스 등이 있다.

08 제시된 행위 주체는 정부 간 국제기구이다. 정부 간 국제기구는 각 나라의 정부를 회원국으로 하며, 국가 간 조약에 의해 만들어진다.

선택지 바로 보기

- ㉠ 각 나라의 정부를 회원으로 한다. (○)
- ㉡ 개인이나 민간단체들이 모여 조직한다. (×)
- ㉢ 정부 간 국제기구는 각 나라의 정부를 회원국으로 한다.
- ㉣ 국제적인 규모로 상품을 생산·판매한다. (×)
- ㉤ 다국적 기업은 국제적인 규모로 상품을 생산·판매한다.
- ㉥ 국제 사회를 구성하는 가장 기본적인 행위 주체이다. (×)
- ㉦ 국제 사회를 구성하는 가장 기본적인 행위 주체는 국가이다.
- ㉧ 시민 사회의 참여가 활발해짐에 따라 역할이 커지고 있다. (×)
- ㉨ 시민 사회의 참여가 활발해짐에 따라 국제 비정부 기구의 역할이 커지고 있다.

플러스 특강 국제기구의 구분

정부 간 국제기구	각 나라의 정부를 회원국으로 하며, 국가 간 조약에 의해 만들어짐.
국제 비정부 기구	개인이나 민간단체를 회원으로 하며, 인권, 보건, 환경, 문화, 빈곤 추방 등 다양한 영역에서 활동함.

09 (가)에는 국제 사회에서 자국의 이익을 최우선으로 추구함이 드러나 있고, (나)에는 환경 등 국제 문제를 해결하기 위해 국제 협력이 강화되고 있음이 드러나 있다.

| 핵심 단어 | 자국의 이익을 최우선으로 추구, 국제 협력 강화

채점 기준	구분
(가), (나)에 드러난 국제 사회의 특성을 각각 바르게 서술한 경우	상
(가), (나)에 드러난 국제 사회의 특성 중 한 가지만 서술한 경우	하

02 국제 사회의 다양한 모습 ~ 03 우리나라의 국제 관계

STEP 1 차근 차근 개념 체크 p. 106

1 (1) × (2) ○ 2 (1) ㄴ (2) ㄷ 3 외교 4 (1) 독도 (2) 국제 사법 재판소 (3) 동북공정 5 (1) ○ (2) ○ (3) ×

STEP 2 차곡 차곡 실력 체크 p. 106~108

01 ④ 02 ① 03 ⑤ 04 ④ 05 ③
06 ② 07 ② 08 ④ 09 ⑤ 10 ⑤
11 ③ 12 ② 13 ② 14 해설 참조 15 해설 참조
16 해설 참조

- 01 ㄴ. 1990년대에 들어 사회주의 체제가 무너지면서 이념적 차이로 인한 갈등은 약화되고, 자국의 경제적 이익을 위한 경쟁과 갈등이 커지고 있다.
- 02 지문은 카스피해를 둘러싼 자원 갈등과 관련된 것이다. 카스피해를 바다로 볼 경우와 호수로 보는 경우에 따라 자원의 보유량이 달라지기 때문에 갈등을 빚고 있다.

- 03 카슈미르 지역은 주민의 70%가 이슬람교도이지만, 힌두교를 믿는 인도의 영역에 포함되어 있다. 이 때문에 카슈미르 지역을 둘러싸고 인도와 파키스탄 간의 갈등이 여러 차례 표출되었다.
- 04 군사력 강화는 지속 가능 발전 목표에 해당되지 않는다.
- 05 국제 사회의 문제는 특정 국가의 노력만으로 해결이 불가능하기 때문에 국제적인 협력이 필요하다.
- 06 외교 활동은 자국의 정치적·경제적 이익을 실현하고 위상을 높이며, 국제 문제를 해결하여 국제 사회의 공존을 가능하게 한다. ㄴ과 ㄹ은 긍정적인 영향이라고 볼 수 없다.
- 07 외교란 평화적인 방법을 통해 자국의 이익을 달성하고자 하는 행위이다.
- 08 우리나라는 일본의 역사 교과서 왜곡, 중국의 동북공정 등으로 인해 역사 왜곡 문제를 겪고 있다.
- 09 동북공정은 중국이 현재 중국의 영토인 동북 3성 지역 안에 속하는 과거사는 모두 중국사라고 주장하여 역사를 왜곡하는 것이다.
- 10 일본은 독도의 해양 자원을 선점하고, 그 주변 지역을 군사적 거점으로 활용하기 위해 독도 영유권을 주장하고 있다.

선택지 바로 보기

- ① 우리나라보다 일본에 더 가깝기 때문 (×)
 ▶ 우리나라 울릉도에서 독도는 87.4 km, 일본 오키섬에서 독도는 157.5 km 떨어져 있다.
- ② 우리나라가 영유권을 양보했기 때문 (×)
 ▶ 독도는 역사적, 지리적, 국제법적으로 명백한 우리의 영토이며, 우리나라가 확고한 주권을 행사하고 있다.
- ③ 국제 사법 재판소에서 일본 영토로 인정했기 때문 (×)
 ▶ 일본이 국제 사법 재판소를 통해 힘의 논리로 해결하려고 한다.
- ④ 역사적으로 일본의 영토로 판단할 자료가 많기 때문 (×)
 ▶ 독도가 우리나라 영토임을 증명하는 여러 문서와 지도가 있다.
- ⑤ 해양 자원이 풍부하고, 군사적 거점으로 활용하기 유리하기 때문 (○)

- 11 ③은 일본의 의도이다. 독도를 국가 간 분쟁 지역으로 만들어 자국에 유리한 상황을 만들려는 것이다.
- 12 중국의 동북공정에는 역사적으로 우리 활동 무대였던 만주 지역의 역사를 되찾아 한반도 통일 후 우리나라와 발생할 수 있는 영토 분쟁을 막겠다는 의도와 중국 내 소수 민족의 독립을 막겠다는 정치적 의도가 숨겨져 있다.
- 13 중국, 일본에 대한 감정적인 대응보다는 논리적인 접근 자세를 갖추어야 한다.
- 14 외교란 국제 사회에서 자국의 이익을 평화적으로 달성하고자 하는 모든 행위이다. 외교를 통해 각국의 정치·경제적 이

익 실현뿐만 아니라 국가 간 친선과 국제 평화를 유지하는데 이바지할 수 있다.

| 핵심 단어 | 국제 사회, 자국의 이익, 평화적 달성, 국제 평화 유지

채점 기준	구분
외교의 의미를 쓰고, 외교의 중요성을 제시된 글과 관련하여 서술한 경우	상
외교의 의미만 쓴 경우	하

- 15 국제 사법 재판소를 통해 힘의 논리로 해결하기 위해서이다.

| 핵심 단어 | 국제 사법 재판소, 힘의 논리

채점 기준	구분
독도를 분쟁 지역화하는 이유를 바르게 서술한 경우	상
독도를 분쟁 지역화하는 이유를 미흡하게 서술한 경우	하

- 16 (1) 동북공정
 (2) 중국의 역사 왜곡에 대해 지속적인 관심을 갖는다. 주변 국가와 학술 교류 및 공동 연구를 통해 역사 인식의 차이를 좁히기 위해 노력한다. 등

| 핵심 단어 | 지속적인 관심, 학술 교류, 공동 연구

채점 기준	구분
해결 방안을 두 가지 모두 서술한 경우	상
해결 방안을 한 가지만 서술한 경우	하

모아 모아 단원 체크

p. 109~111

- 01 ① 02 ⑤ 03 ④ 04 ⑤ 05 ④
- 06 ① 07 ② 08 ① 09 ③ 10 ②
- 11 ④ 12 ① 13 ① 14 ② 15 ③
- 16 ② 17 ② 18 ② 19 해설 참조 20 해설 참조
- 21 해설 참조 22 해설 참조

- 01 각 국가들은 자국의 이익을 최우선으로 추구하고, 자국의 이익을 추구하는 과정에서 국가 간에 경쟁과 갈등이 발생한다.

선택지 바로 보기

- ① 자국의 이익을 우선적으로 추구하고. (○)
- ② 각국은 실질적으로 평등한 주권을 행사한다. (×)
 ▶ 각국은 원칙적으로 평등한 주권을 지녔지만, 실제로는 힘의 논리가 작용하여 국력에 따라 주권을 행사하는 정도에 차이가 있다.
- ③ 국가 간의 상호 의존성은 점점 약해지고 있다. (×)
 ▶ 국가 간의 상호 의존성은 점점 강해지고 있다.
- ④ 국민들이 국제 사회의 기본적인 행위 주체이다. (×)
 ▶ 국가가 국제 사회의 기본적인 행위 주체이다.
- ⑤ 국제 연합(UN)은 강제력을 가진 국제 중앙 정부이다. (×)
 ▶ 국제 연합(UN)은 정부 간 국제기구이고, 국제 사회에는 강제력을 가진 중앙 정부가 존재하지 않는다.



- 02 국제 연합 안전 보장 이사회에서 5개 상임 이사국인 중국, 미국, 영국, 프랑스, 러시아는 강대국으로, 다른 나라보다 큰 영향력을 행사한다.
- 03 오늘날에는 환경, 난민, 인권 등 국제 사회의 공동의 문제를 해결하기 위해 상호 협력한다.
- 04 ⑤는 다국적 기업에 해당한다.
- 05 (가)는 정부 간 국제기구, (나)는 국제 비정부 기구이다. (가)는 각 나라의 정부를 회원국으로 하며, (나)는 개인이나 민간단체가 모여 조직된다.

선택지 바로 보기

- ㄱ. (가)는 정치 분야에만 국한되어 활동한다. (×)
- ㉠ (가)에 제시된 정부 간 국제기구들은 정치, 경제, 사회, 문화 등 다양한 분야에서 영향력을 행사한다.
- ㄴ. (가)는 각 나라의 정부를 회원국으로 하는 기구이다. (○)
- ㄷ. (나)는 국제 사회의 가장 기본적인 행위 주체이다. (×)
- ㉡ 국제 사회에서 가장 기본적인 행위 주체는 국가이다.
- ㄹ. 시민 사회의 참여가 활발해짐에 따라 (나)의 역할이 증대되고 있다. (○)

- 06 ② 국제 비정부 기구, ③ 국가, ④ 국제적 영향력이 있는 개인, ⑤ 정부 간 국제기구는 모두 국제 사회의 행위 주체이다. ① 개인은 국제 사회의 행위 주체가 아니다.
- 07 해외 여러 국가에 자회사, 지점, 제조 공장을 두고 생산과 판매 활동을 하는 기업을 다국적 기업이라고 한다.
- 08 제시된 활동을 하는 국제 비정부 기구는 자연 보호에 앞장서는 그린피스이다.
- 09 오늘날에는 이념적 대립보다 자국의 경제적 이익을 위한 경쟁과 갈등이 나타나고 있다.
- 10 ㄴ. 국제 사회의 경쟁과 갈등은 경제적 이해관계뿐만 아니라, 민족, 종교, 자원, 영역 등 다양한 원인에 의해 발생한다. ㄹ. 국제 사회는 각국의 상호 의존성이 증가하는 가운데, 공동의 문제를 해결하기 위한 협력이 증가하고 있다.
- 11 오늘날 국제 사회의 문제들은 국경을 초월하여 발생하며, 전 세계에 영향을 주고 있다. ④는 국내 문제에 해당한다.
- 12 오늘날의 외교는 국가 원수나 외교관의 공식적인 외교 활동부터 일반 시민들의 민간 외교 활동에 이르기까지 다양한 교류와 소통 방법을 이용하고 있다.
- 13 평풍 외교는 이념보다 실리를 추구한 외교 사례로, 미국과 중국의 적대적인 관계를 완화시켰다.
- 14 국제 사회의 갈등은 당사국 간의 대화와 양보를 통해 평화적으로 해결하는 것이 가장 바람직하지만, 외교 정책이나 국제

법, 국제기구의 도움을 받아 해결하기도 한다. 선진국들이 정한 원칙대로 분쟁을 해결하는 것은 평화적인 갈등 해결 방법으로 적절하지 않다.

- 15 일본은 1905년 시마네현 고시 제40호를 통하여 독도를 불법 편입한 이후 독도가 일본 영토라는 억지 주장을 하고 있다.
- 16 일본이 명백한 우리 영토인 독도에 대해 끊임없이 영유권을 주장하는 이유는 독도가 가진 경제적·군사적 가치 때문이다.
- 17 중국의 동북공정에는 한반도 통일 후에 발생할 수 있는 영토 분쟁을 막겠다는 의도와 중국 내 소수 민족의 독립을 막겠다는 정치적 의도가 숨겨져 있다.
- 18 ② 최근에는 중국의 어선이 우리의 배타적 경제 수역을 침범하여 불법으로 어업 활동을 하면서 해양 자원을 둘러싼 중국과의 갈등이 증가하고 있다. ③은 우리나라와 프랑스가 문화재 반환을 둘러싸고 갈등을 겪고 있음을 보여 준다.
- 19 세계 각국은 평화, 안전, 환경 등의 이념보다 자국의 이익을 최우선으로 추구하여 갈등과 분쟁이 발생한다.

| 핵심 단어 | 자국의 이익 추구, 갈등, 분쟁

채점 기준	구분
글에 나타난 국제 사회의 특성을 서술한 경우	상
글과 큰 관련이 없는 국제 사회의 특성을 서술한 경우	하

- 20 국경을 넘어 활동하는 개인이나 민간단체들이 모여 조직한 국제 비정부 기구이다.

| 핵심 단어 | 개인, 민간단체, 국제 비정부 기구

채점 기준	구분
국제 비정부 기구임을 서술한 경우	상
국제기구라고만 쓴 경우	하

- 21 중국 내 소수 민족의 독립을 막겠다는 의도와 한반도 통일 이후 발생할 수 있는 영토 분쟁을 방지하겠다는 정치적 목적이 담겨있다.

| 핵심 단어 | 소수 민족 독립, 한반도 통일, 영토 분쟁 방지

채점 기준	구분
이유를 두 가지 모두 바르게 서술한 경우	상
이유를 한 가지만 서술한 경우	하

- 22 정부는 체계적으로 역사 연구를 하고, 국제 사회에 우리의 입장을 알리는 홍보와 외교 활동을 강화한다. 주변국과의 공동 역사 연구와 공동 저술로 상호 간의 이해를 넓힌다.

| 핵심 단어 | 외교 활동, 공동 역사 연구

채점 기준	구분
대응 방안을 두 가지 모두 바르게 서술한 경우	상
대응 방안을 한 가지만 서술한 경우	하

정답과 해설

시험 대비 교재	
I. 인권과 헌법	30
II. 헌법과 국가 기관	33
III. 경제생활과 선택	36
IV. 시장 경제와 가격	40
V. 국민 경제와 국제 거래	44
VI. 국제 사회와 국제 정치	47

I | 인권과 헌법

01 인권 보장과 기본권

실전 대비 체크 p. 2~4

01 인권	02 ⑤	03 ③	04 ⑤	05 ②
06 ②	07 ④	08 ③	09 ④	10 ②
11 ②	12 ⑤	13 해설 참조	14 해설 참조	15 해설 참조

- 01 인권은 인간이 태어날 때부터 본래 지닌 권리로, 인간이 마땅히 누려야 할 기본적인 권리이다.
- 02 인권은 국가가 만들어 주거나 일정한 문서 등에 의해 주어지는 권리가 아니라 인간이 태어나면서부터 당연히 가지는 권리로, 모든 사람에게 차별 없이 부여된다.
- 03 인권은 인간이 태어나면서 가지는 것으로, 하늘이 준 권리라는 의미에서 천부 인권이라고도 하고, 국가의 법으로 정하기 이전에 자연적으로 주어진 권리라는 의미에서 자연권이라고도 한다.
- 04 1948년 국제 연합(UN) 총회에서 채택된 세계 인권 선언은 제2차 세계 대전 이후 심각한 인권 침해에 대한 반성에서 시작되었다.
- 05 프랑스 혁명 과정에서 선포된 인간과 시민의 권리 선언은 근대 시민 혁명 사상의 핵심을 널리 알리며 인권 보장 사상을 확립하는 데 크게 이바지하였다.
- 06 자유권은 역사가 가장 오래된 기본권으로, 국가의 간섭을 받지 않을 소극적 권리로 볼 수 있다. 우리 헌법에는 신체의 자유, 사생활의 자유, 양심의 자유, 언론·출판의 자유 등을 규정하고 있다.

선택지 바로 보기

- ㄱ. 역사가 가장 오래된 기본권이다. (○)
- ㄴ. 국가의 개입을 요구하는 적극적 권리이다. (×)
- ▶ **사회권에 대한 설명이다.**
- ㄷ. 다른 기본권을 보장하기 위한 전제 조건이 된다. (×)
- ▶ **평등권에 대한 설명이다.**
- ㄹ. 신체의 자유, 사생활의 자유, 양심의 자유 등을 내용으로 한다. (○)

- 07 국가의 최고 법인 헌법에 인권을 규정하는 것은 국가의 모든 법과 국가 권력이 인권을 보장하는 방향으로 나아가갈 수 있도록 하기 위함이다.
- 08 헌법 제34조 ①항은 국가에 인간다운 생활의 보장을 요구할 수 있는 권리인 사회권을 나타낸다. 우리나라 헌법에서는 인간다운 생활을 할 권리, 교육을 받을 권리, 쾌적한 환경에서 살 권리, 사회 보장을 받을 권리 등으로 사회권을 규정하고

있다.

선택지 바로 보기

- ① 갑: 오늘은 선거일이라 투표하러 왔어. (×)
- ▶ **참정권에 대한 설명이다.**
- ② 을: 과거와 달리 남녀 모두 미용 고등학교에 입학할 수 있어. (×)
- ▶ **평등권에 대한 설명이다.**
- ③ 병: 올해부터 국가에서 나오는 기초 연금을 받아 생활하고 있어. (○)
- ④ 정: 맨홀 뚜껑에 걸려 발목을 다쳤어. 법원에 재판을 청구할 거야. (×)
- ▶ **청구권에 대한 설명이다.**
- ⑤ 무: 동물을 주제로 한 책을 출판하여 동물 보호의 중요성을 알릴 거야. (×)
- ▶ **출판의 자유, 즉 자유권에 대한 설명이다.**

- 09 국민이 국가의 정치적 의사 형성과 국가 기관의 형성 과정에 직접 또는 간접적으로 참여할 수 있는 권리를 참정권이라고 한다.
- 10 채용 공고에서 남성의 응시 자격은 신체 건강한 자로서 생산에 필요한 능력만을 요구하지만 여성은 키와 몸무게, 외모 등 생산 업무와 상관없는 부분까지 자격 요건으로 규정하고 있다. 이는 평등권을 침해한 것으로 볼 수 있다.
- 11 청소년의 짬질방, 노래방, 게임방 등의 야간 출입을 제한하고, 술이나 담배와 같은 유해 약품 판매를 금지하는 「청소년보호법」은 유해한 환경으로부터 청소년을 보호하기 위해 경제 활동의 자유를 일부 제한한 사례이다.
- 12 우리나라 헌법은 국가 안전 보장, 질서 유지, 공공복리를 위하여 필요한 경우에 한하여 기본권을 제한할 수 있도록 명시하고 있다. 국가는 국민의 기본적인 권리를 보장하기 위해 노력하지만 기본권을 무제한으로 누릴 수 있는 것은 아니다.
- 13 (1) 세계 인권 선언
(2) 모든 사람이 보편적으로 누려야 할 인권의 기준을 제시하였고, 국제 인권법의 토대로서 수많은 국제 조약과 국제 선언의 본보기가 되었다.

| 핵심 단어 | 보편적, 인권의 기준, 국제 인권법의 토대

채점 기준	구분
보편적인 인권의 기준을 제시했다는 내용을 서술한 경우	상
보편적인 인권의 기준에 대한 내용을 서술하지 못한 경우	하

- 14 우리나라 헌법에서 보장하고 있는 기본권은 자유권, 평등권, 사회권, 참정권, 청구권이다. 헌법에서 기본권을 보장하는 이유는 국가의 부당한 간섭이나 침해로부터 국민의 자유와 권리를 지키기 위해서이다.

| 핵심 단어 | 자유권, 평등권, 사회권, 참정권, 청구권, 국가의 부당한 간섭이나 침해, 국민의 자유와 권리

채점 기준	구분
기본권의 종류 다섯 가지와 헌법에서 기본권을 보장하는 이유를 모두 바르게 서술한 경우	상
기본권의 종류나 헌법에서 기본권을 보장하는 이유 중 하나만 맞게 서술했을 경우	중
기본권의 종류를 틀리고, 헌법에서 기본권을 보장하는 이유를 서술하지 못한 경우	하

- 15 (1) 국가 안전 보장, 질서 유지, 공공복리
 (2) 국회에서 제정한 법률로써 기본권을 제한해야 하며, 제한하는 경우에도 자유와 권리의 본질적인 내용은 침해할 수 없다.

핵심 단어 | 법률로 제한, 자유와 권리, 본질적인 내용

채점 기준	구분
기본권 제한의 방법과 한계를 제대로 서술한 경우	상
기본권 제한의 방법과 한계 중 하나만 맞게 서술한 경우	하

02 인권 침해와 구제 ~ 03 노동권 침해와 구제

실전 대비 체크

p. 5~9

01 ④	02 ④	03 차별	04 ①	05 ④
06 ②	07 ①	08 ③	09 ⑤	10 ⑤
11 ②	12 ④	13 ④	14 ⑤	15 ②
16 ②	17 ②	18 ②	19 ④	20 ④
21 ④	22 ②	23 해설 참조	24 해설 참조	25 해설 참조

- 01 인권 침해는 사람들의 고정 관념과 편견, 잘못된 관습이나 불합리한 법과 제도 등의 영향을 받아 발생하며, 일상생활 전반에 걸쳐 다양한 형태로 나타난다.

선택지 바로 보기

- ㄱ. 인권 침해는 국가 기관에 의해서만 발생한다. (×)
 Ⓧ 인권 침해는 국가 기관에 의하여 발생하기도 하지만, 개인이나 단체에 의하여 발생하기도 한다.
 ㄴ. 인권 침해는 일상생활 전반에 걸쳐 다양한 형태로 나타난다. (○)
 ㄷ. 폭행이나 학대와 같은 범죄 행위로 입증되어야 인권 침해라고 할 수 있다. (×)
 Ⓧ 폭행이나 학대와 같은 범죄 행위는 당연히 인권 침해에 해당하지만, 꼭 범죄 행위가 입증되어야 인권 침해인 것은 아니다.
 ㄹ. 인권 침해는 사회 구성원의 편견이나 고정 관념 때문에 발생하는 경우가 많다. (○)

- 02 청소년에게 술이나 담배를 판매하지 않는 것은 「청소년 보호법」에 따라 유해한 환경으로부터 청소년을 보호하기 위한 조치로서 인권 침해 사례라고 볼 수 없다.

- 03 차별은 합리적인 이유 없이 불평등하게 대우하는 것으로 기본권 중 평등권을 침해하는 것이다.
 04 인권을 침해당한 사람은 법원에 소장을 제출하여 재판으로 침해된 권리를 구제받을 수 있다.
 05 국가 인권 위원회는 인권 침해를 조사하여 법령이나 제도의 개선을 권고하는 기관이다.

선택지 바로 보기

- ① 사법부에 속하는 국가 기관이다. (×)
 Ⓧ 국가 인권 위원회는 입법, 행정, 사법 등 어디에도 소속되지 않은 독립된 국가 기관이다.
 ② 국민의 고충 민원 처리, 행정 심판 등을 담당한다. (×)
 Ⓧ 국민 권익 위원회에 대한 설명이다.
 ③ 강제력을 가지고 인권 침해 문제의 시정을 요구할 수 있다. (×)
 Ⓧ 국가 인권 위원회의 결정은 강제력을 가지지 않는다.
 ④ 인권 침해의 소지가 있는 법령이나 제도의 문제점에 대해 조사한다. (○)
 ⑤ 법원의 재판으로 해결할 수 없는 경우, 인권 구제를 위한 최후의 수단이 된다. (×)
 Ⓧ 인권 구제를 위한 최후의 수단이 되는 것은 헌법 재판소의 헌법 소원 심판이다.

- 06 헌법 재판소는 헌법을 보호하기 위한 국가 기관으로, 헌법 소원 심판을 통하여 인권을 보호한다. 헌법 소원 심판은 공권력이나 법률에 의해 기본권이 침해된 국민이 권리 구제를 요청하면 이를 심판하는 제도이다.
 07 시험 응시자들이 화장실을 출입했을 때 재입실을 금지하고 시험실 뒤편에서 용변을 보도록 한 행위는 신체의 자유를 과도하게 제한한 것이다.
 08 위 사례에서 인권을 침해당했다고 생각할 경우 법원에 민사 소송을 제기함으로써 침해된 권리를 구제받을 수 있다. 또한 헌법에 어긋나는 법률이나 국가 권력에 의해 권리를 침해당했다고 생각할 경우 헌법 재판소의 헌법 소원 심판을 통해 구제받을 수 있다. 국가 인권 위원회나 국민 권익 위원회는 조사를 통해 필요한 사항을 권고하여 침해된 인권을 구제해 준다. ③ 노동 위원회는 노사 간 갈등을 조정·중재하는 기관이다.
 09 잘못된 언론 보도로 피해를 보았을 때는 언론 중재 위원회를 통해 도움을 받을 수 있다.
 10 보도블록이 빠진 길 주변에 위험 표지판을 설치하지 않아 발생한 일이므로 공공시설을 관리할 의무가 있는 국가 기관으로부터 배상을 받을 수 있다.
 11 헌법 재판소는 공권력이나 법률에 의해 기본권을 침해당한 사람이 헌법 소원 심판을 청구하면 해당 사건이 헌법에 위배되는지 여부를 판단하여 권리를 구제해 준다.
 12 행정 기관에 의해 기본권이 침해되었을 때는 행정 심판이나 행정 소송을 통해 구제받을 수 있다.

선택지 바로 보기

- ① 2심 재판의 결과에 불복한 A 씨는 헌법 재판소에 재판을 청구하였다. (×)
- ② 2심 재판에 불복할 경우는 대법원에 상고해야 한다.
- ③ 길을 가다가 술에 취한 사람에게 맞은 B 씨는 헌법 소원 심판을 청구하였다. (×)
- ④ 폭행은 범죄이므로 경찰 등 수사 기관에 고소하여 형사 처벌을 받게 할 수 있으며, 손해 배상 등을 요구하기 위한 민사 소송도 함께 진행할 수 있다.
- ⑤ 민사 재판에서 패소한 C 씨는 재판 결과를 받아들이지 않고 사람을 고용하여 직접 해결하였다. (×)
- ⑥ 재판 결과에 불복할 경우에는 상급 법원에 상소해야 한다. 재판 결과를 따르지 않고 사람을 고용해 복수하는 것은 범죄 행위이다.
- ⑦ 행정 기관의 착오로 세금을 과도하게 납부한 D 씨는 행정 기관을 상대로 행정 심판을 제기하였다. (○)
- ⑧ 비행기의 정비 소홀로 출발이 지연되는 바람에 사업에 손해를 본 E 씨는 항공사를 상대로 형사 소송을 제기하였다. (×)
- ⑨ 사업에 손해를 보았으니 민사 소송을 하는 것이 맞다. 항공사가 형법을 위반한 것은 아니므로 형사 소송의 대상은 아니다.

- 13 근로자는 임금을 목적으로 사용자에게 노동을 제공하는 사람이다.
- 14 개인 병원의 원장은 다른 의사나 간호사 등을 고용하는 사용자이며, 사용자는 근로자에 포함되지 않는다.
- 15 청소년 근로자도 성인 근로자와 마찬가지로 헌법과 「근로기준법」의 보호를 받는다. 헌법 제32조 제5항에서는 “연소자의 근로는 특별한 보호를 받는다.”라고 규정한다. 또 「근로기준법」에는 청소년 근로자를 위한 특별 규정이 있다.
- 16 「근로기준법」은 헌법 제32조에 보장된 근로자의 권리와 기본적 생활을 보장하기 위해 근로자의 채용과 해고, 임금 지급, 근로 시간과 휴식 시간 등 근로 조건의 최저 기준을 구체적으로 정하고 있다.
- 17 정당한 이유 없이 해고하는 것은 부당 해고에 해당한다.
- 18 근로자들은 노동조합을 만들고 그에 가입하여 활동할 수 있는 단결권, 노동조합을 통해 근로 조건에 관하여 사용자와 협상할 수 있는 단체 교섭권, 단체 교섭이 원만하게 되지 않을 경우 집단으로 행동할 수 있는 단체 행동권을 노동 삼권으로 보장받는다.
- 19 사용자의 전형적인 노동 삼권 침해 행위를 유형화한 것을 부당 노동 행위라고 한다.

선택지 바로 보기

- ㄱ. 노동조합에 가입하지 않는 것을 고용 조건으로 하는 것 (○)
- ㄴ. 노동 삼권 중 단결권을 침해한다.
- ㄷ. 노동조합과의 단체 교섭을 정당한 이유 없이 거부하는 것 (○)
- ㄹ. 노동 삼권 중 단체 교섭권을 침해한다.
- ㅁ. 「최저 임금법」에 보장된 최저 임금보다 적은 임금을 지급하는 것 (×)
- ㅂ. 「최저 임금법」 위반은 노동권 침해에 해당하지는 않지만 부당 노동 행위에는 해당하지 않는다.
- ㅇ. 노동조합에 가입했다는 이유로 성과급 지급 대상에서 제외하는 것 (○)
- ㅅ. 노동조합 탈퇴를 유도하는 행위이므로 노동 삼권 중 단결권을 침해한다.

- 20 오전 9시부터 오후 6시까지 일하고 근무 시간 중 1시간을 쉬었다면 법으로 정한 근로 조건(근로 시간이 4시간이면 30분 이상, 8시간이면 1시간 이상의 휴식 시간을 주어야 하는 것)에 어긋나지 않으므로 노동권 침해에 해당하지 않는다.
- 21 부당 해고를 당하거나 부당 노동 행위로 노동 삼권을 침해받았을 때 근로자는 3개월 이내에 지방 노동 위원회에 구제를 신청할 수 있다. 지방 노동 위원회의 관정에 불만이 있을 때는 중앙 노동 위원회에 재심 신청을 할 수 있다. 또한 중앙 노동 위원회의 관정에도 불복할 경우 15일 이내에 행정 소송을 제기할 수 있다.
- 22 사용자가 임금을 지급하지 않을 때 근로자는 우선 사용자에게 청구한다. 청구하였는데도 사용자가 임금을 지급하지 않으면 고용노동부에 진정하거나 법원의 민사 소송을 통하여 구제받을 수 있다.

선택지 바로 보기

- ㄱ. 고용노동부에 진정하세요. (○)
- ㄴ. 법원의 행정 소송을 통해 구제받으세요. (×)
- ㄷ. 행정 소송은 국가 기관 및 행정 관청의 위법한 처분으로 국민의 권리나 이익을 침해했을 때 이를 구제하는 소송 절차이다.
- ㄹ. 법원의 민사 소송을 통해 구제받으세요. (○)
- ㅁ. 헌법 재판소에 헌법 소원 심판을 청구하세요. (×)
- ㅂ. 헌법 소원 심판은 국가 기관의 행위가 국민의 기본권을 침해하는 것으로 의심될 때, 국민이 직접 헌법 재판소에 위헌 여부를 판단해 달라고 요청하여 이루어지는 심판이다.

- 23 (1) 자유권
(2) 헌법 재판소에 헌법 소원 심판을 청구한다.

핵심 단어 | 헌법 재판소, 헌법 소원 심판

채점 기준	구분
헌법 재판소와 헌법 소원 심판을 정확하게 서술한 경우	상
헌법 재판소와 헌법 소원 심판 중 하나만 서술한 경우	하

- 24 근로자는 사용자보다 경제적·사회적으로 약자의 지위에 있기 때문에 법으로 특별히 보호할 필요가 있다.

핵심 단어 | 경제적, 약자(약한 지위), 근로자, 사용자, 대등한 위치

채점 기준	구분
근로자의 권리를 법으로 보장하는 이유를 바르게 서술한 경우	상
근로자의 권리를 법으로 보장하는 이유를 서술하지 못한 경우	하

- 25 (1) 단체 행동권
(2) 근로자가 노동조합을 결성할 수 있는 단결권, 노동조합이 근로 조건에 관하여 사용자와 집단적으로 교섭할 수 있는 단체 교섭권이 있다.

핵심 단어 | 단결권, 단체 교섭권

채점 기준	구분
단결권과 단체 교섭권의 내용을 모두 바르게 서술한 경우	상
단결권과 단체 교섭권 중 한 가지만 서술한 경우	하

헌법과 국가 기관

01 국회

실전 대비 체크

p. 10~12

- 01 ⑤ 02 ② 03 ④ 04 ① 05 ⑤
 06 ④, ⑤ 07 ③ 08 ③ 09 ① 10 ④
 11 ② 12 ③ 13 ② 14 해설 참조 15 해설 참조

- 01** 헌법 재판을 통해 최고 법인 헌법을 수호하고, 국민의 기본적인 권리를 보장하는 기능을 수행하는 기관은 헌법 재판소이다.
- 02** ㄴ. 국민의 의견을 통해 만들어지는 정책은 점점 다양해지고 복잡해졌다. ㄷ. 대의 정치는 간접 민주 정치에 해당한다.
- 03** 국회는 국민들의 다양한 의견을 반영하는 국민의 대표 기관, 법률을 제정하거나 개정하는 입법 기관, 행정부와 사법부를 감시하고 비판하는 국가 권력 견제 기관의 역할을 한다. 법적 분쟁을 해결하는 것은 법원이, 법률을 집행하고 정책을 수립하는 것은 행정부가 담당한다.
- 04** 위원회는 국회의 효율적인 회의 진행을 위해 전문적인 지식을 가진 의원들이 각 분야를 전담하는 기관으로서, 국회에서 심의되는 법률안을 미리 조사하고 심의한다.
- 05** 특별 위원회는 특별한 안전을 처리하기 위하여 일시적으로 구성되는 위원회이다. 전문적인 지식을 가진 의원들이 각 분야를 전담하기 위해 항상 활동하는 위원회는 특별 위원회가 아니라, 상임 위원회이다.
- 06** 우리나라 국회 의원의 임기는 4년이고, 임기가 끝나더라도 다시 국회 의원으로 당선되면 계속 그 직무를 수행할 수 있다. 국회는 국민이 직접 선출한 국회 의원들로 구성되어 간접 민주제를 보여 준다.

선택지 바로 보기

- ① ①은 정당별 득표율에 비례하여 국회 의원을 선출한다. (×)
 Ⓧ ② 지역구 국회 의원은 국민이 각 지역에서 후보자에 대한 직접 투표를 통해 선출한다.
 ② ①은 국민이 각 지역에서 선거를 통해 직접 선출한다. (×)
 Ⓧ ③ 비례 대표 국회 의원은 정당별 득표율에 비례하여 국회 의원을 선출한다.
 ③ ①은 후보자에 대한 국민의 직접 투표를 통해 선출한다. (×)
 Ⓧ ④ 비례 대표 국회 의원은 정당별 득표율에 비례하여 국회 의원을 선출한다.
 ④ ①, ①의 임기는 4년이다. (○)
 ⑤ ①, ①은 국민을 대표하는 간접 민주제를 보여 준다. (○)

- 07** 정부가 마련한 국가의 예산안을 심의하고 확정하는 예산안 심의·확정권은 국회의 재정에 관한 권한에 해당한다.

- 08** 국민 투표를 제안하는 것은 대통령의 권한이다.
- 09** (다) 국정 감사는 국가 정책이 잘 집행되고 있는지 살피기 위한 것으로서 행정부의 권한을 견제한다. (라) 고위 공직자 임명 동의권으로서 대통령의 권한을 견제한다. ㄷ의 설명은 (라)와 관련된 권한이고, ㄷ의 설명은 탄핵 소추권에 대한 설명이다.
- 10** 국회는 법률을 제정하거나 개정하고, 국정을 감시하는 권한을 갖는다. 또한 국회는 국민이 선출한 국회 의원이 모여 의논하고 의사를 결정하는 국민의 대표 기관이다. ㄷ. 나라의 살림을 맡아 정책을 실행하는 것은 행정부의 역할이다.
- 11** 법률이 만들어지는 절차는 (가) 법률안 제안 → (라) 상임 위원회 회부 → (마) 본회의 의결 → (다) 대통령의 법률안 거부 또는 공포 → (나) 공포된 법률의 효력 발생' 순서로 이루어진다.
- 12** 제시된 내용은 입법에 관한 권한이다. ①, ②는 재정에 관한 권한, ④, ⑤는 일반 국정에 관한 권한(국정 견제 권한)이다.
- 13** 정부는 정책 추진에 필요한 수입과 지출을 계산하여 예산안을 편성하는데, 수입의 대부분은 세금으로 충당되므로 국민의 의사를 반영하기 위해 국회에서 예산안을 심의·확정하고 결산을 심사한다. ㄴ은 국회의 입법에 관한 권한, ㄷ은 일반 국정에 관한 권한(국정 견제 권한)에 해당한다.
- 14** (가)는 후보자에 대한 국민들의 직접 투표를 통해 선출되고, (나)는 국민들이 투표한 정당의 득표율에 비례하여 선출된다.

핵심 단어 | 후보자에 대한 직접 투표를 통해 선출, 정당의 득표율에 비례하여 선출

채점 기준	구분
㉠와 ㉡ 국회 의원 선출 방식의 차이점을 정확히 서술한 경우	상
㉠와 ㉡ 국회 의원 선출 방식의 차이점을 서술했지만 다소 미흡한 경우	중
㉠와 ㉡ 국회 의원 선출 방식 중 한 가지만 바르게 서술한 경우	하

플러스 특강 국회 의원의 선출

지역구 국회 의원	국민이 선거구별 후보자에게 투표하여 직접 선출
비례 대표 국회 의원	선거에서 정당이 얻는 득표율에 비례하여 선출

- 15** 국정 감사권, 국정 운영을 살피기 위해 매년 정기적으로 국정 전반에 대하여 감사하는 국회의 권한이다.

핵심 단어 | 국정 감사권, 국정 운영 감사

채점 기준	구분
국정 감사권이라고 쓰고, 그 내용을 바르게 서술한 경우	상
국정 감사권이라고 쓰고, 그 내용을 서술했지만 다소 미흡한 경우	중
국정 감사권이라고만 쓴 경우	하

02 대통령과 행정부
~ 03 법원과 헌법 재판소

실전 대비 체크					p. 13~17
01 ④	02 ⑤	03 ③	04 ②	05 ④	
06 ③	07 ②	08 ③	09 ④	10 ②	
11 ⑤	12 ③	13 ⑤	14 ④	15 ④	
16 ①	17 ⑤	18 ⑤	19 헌법 재판소	20 ④	
21 ⑤	22 ④	23 해설 참조	24 해설 참조	25 해설 참조	

01 제시문은 행정부에 대한 설명이다. 행정부는 공권력을 가지고 국가의 정책을 집행하는 행정 업무를 담당한다. 또 정책을 실현하며 현실에 맞는 다양한 대책과 방법을 찾는다.

선택지 바로 보기

- ㄱ. 법을 해석하고 적용하여 사회 질서를 유지한다. (×)
 ◻ 법률을 해석하고 적용하여 사회 질서를 유지하는 것은 사법부의 역할이다.
- ㄴ. 정책을 실현하며 현실에 맞는 다양한 대책과 방법을 찾는다. (○)
- ㄷ. 국민의 의견을 반영하여 정책의 기준이 되는 법률을 제정한다. (×)
 ◻ 국민의 의견을 반영하여 법률을 제정하는 것은 입법부의 역할이다.
- ㄹ. 공권력을 가지고 국가의 정책을 집행하는 행정 업무를 담당한다. (○)

02 입법부의 권한보다 행정부의 권한이 강화되는 현상은 행정부 강화 현상이다. 오늘날은 국민 복지 관련 업무가 늘어남에 따라 행정부의 역할이 더욱 중요해지고 전문성이 확대되었다.

플러스 특강 행정부 강화 현상

국민의 복지 생활에 대한 국가의 책임이 커지면서 행정부의 역할이 더욱 중요해지고 행정부의 권력이 비대해지는 현상을 말한다.

03 행정부 강화 현상이란 국민 복지와 관련된 국가의 역할과 각종 사회 문제 해결을 위한 국가의 역할이 증대되면서 행정부의 역할이 입법부나 사법부의 역할보다 커지는 현상을 말한다.

04 행정부는 대통령을 중심으로 구성되며, 대통령은 행정부 수반으로서의 권한과 국가 원수로서의 권한을 갖는다. ③은 감사원, ④는 대통령, ⑤는 국무총리에 대한 설명이다.

05 (가)는 국무 회의, (나)는 감사원, (다)는 국무총리에 대한 설명이다. ㄱ은 입법부에 대한 설명이고, ㄹ은 대통령에 대한 설명이다.

06 국무총리는 대통령을 도와 행정 각부를 다스리고 조정하며 각부 장관들과 정부 정책을 의논하는 역할을 담당한다. 국가의 수입·지출을 검사하는 업무는 감사원의 역할이다.

07 국무 회의는 정부의 중요 정책을 심의하는 행정부의 최고 심의 기관이다. ㄴ, ㄹ은 감사원에서 담당하는 역할이다.

08 대통령은 국민의 직접 선거로 선출되며 임기는 5년이다. 임기가 끝나면 다시 대통령 선거에 출마할 수 없다. 이는 우리나라에서 독재를 방지하기 위하여 대통령 단임제를 실시하고 있기 때문이다.

09 법률안 거부권(ㄱ)과 행정부를 지휘·감독하는 권한(ㄷ)은 대통령의 행정부 수반(행정부 최고 책임자)으로서의 권한에 해당한다.

플러스 특강 대통령의 권한

국가 원수로서의 권한	<ul style="list-style-type: none"> • 외국과의 조약 체결 • 긴급 명령 및 계엄 선포 • 헌법 기관 구성(국가 기관의 장 임명) • 국민 투표 제안
행정부 수반으로서의 권한	<ul style="list-style-type: none"> • 행정부 지휘·감독 • 국무 회의의 의장 • 공무원 임명 및 해임(임면권) • 법률안 거부권 • 대통령령 제정

10 (가) 외교에 관한 권한, (마) 국민 투표 제안은 국가 원수로서의 대통령의 권한이고, (나) 국무 회의의 의장, (다) 대통령령 제정, (라) 행정부 지휘·감독은 행정부 수반으로서의 대통령의 권한이다.

11 긴급 명령 및 계엄 선포권은 국가에 위태로운 상황이 생겨 긴급 조치가 필요할 때 대통령이 사용하는 권한이다. ②, ④, ⑤는 국가 원수로서의 권한이고, ①, ③은 행정부 수반으로서의 권한에 해당한다.

12 제시된 내용은 사법권의 독립을 보장하는 내용이다. 사법권 독립의 궁극적인 목적은 공정한 재판을 통해 국민의 기본권을 보장하는 것이다.

문제 자료 분석하기 사법권의 독립

- 법관의 임기와 신분은 헌법으로 보장한다.
- 법원의 조직이나 운영이 외부의 간섭을 받지 않는다.
- 법관은 외부의 압력을 받지 않고 법에 따라 재판한다.

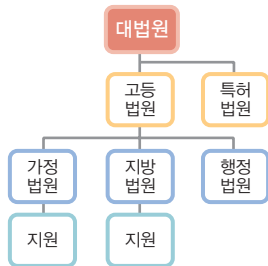
공정한 재판을 보장하기 위해서는 사법부가 독립되어 있어야 한다. 사법부의 독립은 재판의 독립을 뜻하며, 재판의 독립을 위해서는 법원과 법관의 독립이 이루어져야 한다. 법원의 독립이란 법원의 조직이나 운영이 외부의 간섭을 받지 않아야 한다는 것을 의미하며, 법관의 독립이란 법관이 외부의 어떤 압력도 받지 않고 법에 따라 공정한 심판을 할 수 있어야 한다는 것을 뜻한다.

13 대법원장은 국회의 동의를 얻어 대통령이 임명한다.

선택지 바로 보기

- ① 헌법 재판소는 우리나라 최고의 법원이다. (×)
▶ 우리나라 최고의 법원은 대법원이다.
- ② 대법원이 주로 담당하는 재판은 1심 재판이다. (×)
▶ 대법원이 주로 담당하는 재판은 1심과 2심을 거친 3심 재판이다.
- ③ 우리나라 사법부는 국회와 대법원으로 구성된다. (×)
▶ 사법부는 대법원과 각급 법원으로 구성되며 국회는 입법부에 해당한다.
- ④ 대법관 13인은 모두 국민이 직접적으로 선출한다. (×)
▶ 대법관은 대법원장의 제청으로 국회의 동의를 얻어 대통령이 임명한다.
- ⑤ 대법원장은 국회의 동의를 얻어 대통령이 임명한다. (○)

14 국가 최고의 법원은 대법원이며 대법원의 판결은 최종적인 효력을 가진다. ④ 고등 법원은 지방 법원의 판결을 받아들이지 않은 2심 사건을 재판한다.



▲ 법원의 조직

- 15** 대법원, 고등 법원, 헌법 재판소는 사법 기관에 해당한다. 사법부는 법률을 해석하고 적용하여 분쟁을 해결하는 국가 기관이다. ④ 헌법에 따라 법률을 제정하고 개정하는 입법 기관은 국회이다.
- 16** (가)는 명령·규칙 심사권으로서 사법부가 행정부를 견제하는 수단이 된다. (나)는 위헌 법률 심판 제청권으로서 사법부가 입법부를 견제하는 수단이 된다.
- 17** ㉠은 사법부가 입법부를 견제하는 수단으로서 위헌 법률 심판 제청권이 이에 해당한다. ㉡은 사법부가 행정부를 견제하는 수단으로서 명령·규칙·처분 심사권이 이에 해당한다.
- 18** 국가 권력을 입법부, 행정부, 사법부로 나누어 서로 다른 기관이 담당하게 하는 권력 분립(삼권 분립)의 궁극적인 목적은 국가 권력의 남용을 방지하여 국민의 자유와 권리를 보장하기 위함이다.
- 19** 헌법 재판소는 국회에서 만든 법률 또는 행정부의 권력 행사가 국민의 기본권을 침해하는지를 판단하여 구제해 주는 사법 기관이다. 또한 헌법의 해석을 둘러싸고 벌어지는 다툼을 해결하여 국민의 자유와 권리를 보장한다.
- 20** ㄱ. 헌법 재판은 헌법 재판소에서 담당한다. ㄴ. 제정된 법률을 집행하는 행정 작용은 행정부에서 담당하며 헌법 재판은

법을 적용하여 분쟁을 해결하는 사법 작용에 해당한다.

- 21** 제시된 사례는 「공직 선거법」에 의해 기본권을 침해받았다고 판단한 국민이 헌법 재판소에 헌법 소원 심판을 청구한 것이다.
- 22** 헌법 재판소는 헌법의 해석과 관련된 사건을 심판하여 헌법을 보호하는 역할을 한다.

선택지 바로 보기

- ① 국민의 기본권을 보장하는 법률을 제정 (×)
▶ 국회(입법부)의 역할
- ② 국가의 조직과 통치의 기초가 되는 법률을 개정 (×)
▶ 국회(입법부)의 역할
- ③ 우리나라의 최고 법원으로서 최종적인 판결을 담당 (×)
▶ 대법원의 역할
- ④ 헌법의 해석과 관련된 사건을 심판하여 헌법을 보호 (○)
- ⑤ 정부 정책의 중요한 사항을 조사하여 심의하고 논의 (×)
▶ 국무 회의의 역할

- 23** (1) (가) 감사원, (나) 국무 회의
 (2) 국민의 복지 생활에 대한 국가의 책임이 커짐에 따라 행정부의 일이 광범위해지고 복잡해지면서 그 역할이 커지게 되었다.

핵심 단어 | 국민의 복지 생활, 국가의 책임, 행정부의 일이 광범위하고 복잡

채점 기준	구분
국민의 복지 생활에 대한 국가의 책임이 커짐에 따라 행정부의 일이 광범위해지고 복잡해졌다는 내용을 서술한 경우	상
행정부의 일이 많아졌다는 내용만 서술한 경우	하

- 24** 국민의 자유와 권리를 보호하기 위하여 법원이 공정한 재판을 할 수 있도록 헌법으로 사법권의 독립을 보장한다.

핵심 단어 | 국민의 자유와 권리 보호, 공정한 재판, 사법권의 독립

채점 기준	구분
‘국민의 자유와 권리 보호’, ‘공정한 재판’, ‘사법권의 독립 보장’이라는 내용을 모두 서술한 경우	상
‘국민의 자유와 권리 보호’, ‘공정한 재판’이라는 내용을 서술한 경우	중
‘국민의 자유와 권리 보호’라는 내용만 서술한 경우	하

- 25** 탄핵 심판, 대통령을 비롯한 고위 공직자가 헌법이나 법률에 어긋나는 중대한 잘못을 저질렀을 때 국회가 파면 여부를 결정해 달라고 요청해 오면 헌법 재판소에서 이를 심판한다.

핵심 단어 | 탄핵 심판, 고위 공직자, 헌법이나 법률에 어긋나는 중대한 잘못, 국회, 파면

채점 기준	구분
탄핵 심판이라고 쓰고, 탄핵 심판의 의미를 바르게 서술한 경우	상
탄핵 심판이라고 쓰고, 탄핵 심판의 의미를 서술했지만 다소 미흡한 경우	중
탄핵 심판이라고만 쓴 경우	하

III | 경제생활과 선택

01 합리적 경제생활과 경제 체제

실전 대비 체크					p. 18~21
01 ⑤	02 ⑤	03 ②	04 희소성	05 ③	
06 ④	07 ⑤	08 ①	09 ⑤	10 ①	
11 ③	12 ④	13 ④	14 ③	15 ②	
16 ①	17 ⑤	18 ③	19 해설 참조	20 해설 참조	
21 해설 참조					

- 01 의사의 진료, 가수의 콘서트는 구체적인 형태가 없는 행위인 서비스에 해당하고, 피겨와 떡볶이는 눈에 보이는 물건인 재화에 해당한다.
- 02 경제 활동은 사람의 필요와 욕구를 충족하려고 재화와 서비스를 생산, 분배, 소비하는 활동이다. 생산은 생활에 필요한 재화나 서비스를 만들거나 그 가치를 높이는 활동, 생산에 참여한 대가로 임금이나 지대, 이자 등을 받는 것은 분배, 재화나 서비스를 구입하여 사용하는 활동은 소비라고 한다.

선택지 바로 보기

- ① 박 모 씨는 늦잠을 자는 바람에 택시를 타고 회사에 출근하였다. (○)
- ▶ 택시를 타고 회사에 간 것은 택시 요금을 낸 소비 활동이다.
- ② 회사에 도착하자마자 휴대 전화 문자가 와서 확인하니, 예금 계좌로 월급이 들어온 것이었다. (○)
- ▶ 생산 활동에 참여한 대가로 월급을 받는 것은 분배 활동이다.
- ③ 기분이 좋아진 박 모 씨는 어제 주문이 들어온 상품들을 배송시킨 후 (○)
- ▶ 상품을 배송시킨 것은 서비스를 생산하는 활동이다.
- ④ 점심시간에 친구와 만나 칼국수를 사 먹었다. (○)
- ▶ 칼국수를 사 먹는 것은 칼국수값을 치른 소비 활동이다.
- ⑤ 박 모 씨는 다음 주 생일날 친구와 만나기로 약속하였다. (×)

- 03 ①은 서비스를 소비하는 활동, ③은 재화를 소비하는 활동, ④는 재화를 소비하는 활동, ⑤는 서비스를 소비하는 활동이다. ②는 재화를 생산하는 활동에 해당한다.
- 04 인간의 욕구는 무한한 데 비해 이를 충족시킬 수 있는 재화나 서비스가 한정되어 있는 상황을 희소성이라고 한다. 희소성은 시대와 상황에 따라 변화할 수 있다.
- 05 자유재는 공기나 햇빛과 같이 존재량이 무한하여 희소성이 없으므로 대가를 치르지 않고도 얻을 수 있는 재화이다. 반면 경제재는 희소성이 있어 대가를 치러야만 얻을 수 있는 재화이다. 희소성은 상대적이므로 환경 변화로 인해 공기나 햇빛도 경제재가 될 수 있다.
- 06 같은 재화라도 시대에 따라 희소성의 정도가 달라질 수 있

다. 희소성은 절대적인 수량이 아니라 인간의 필요와 욕구에 따라 결정된다. 어떤 자원이 적게 존재하더라도 쓸모가 없거나, 그것을 원하는 사람이 없다면 그 자원은 희소하다고 하지 않는다. 반면에 자원의 양이 풍부하더라도 사람들의 욕구에 비해 충분하지 않다면 그 자원은 희소한 것이다.

- 07 두발 가재는 외발 가재보다 절대적인 존재량이 많지만 인간의 필요와 욕구에 비해 그 양이 부족하기 때문에 희소성이 있다는 것을 알 수 있다.
- 08 ①의 경우 영화 관람을 선택함으로써 포기한 것이 없으므로 기회비용의 개념이 나타나 있지 않다.

플러스 특강 기회비용

하나의 재화를 선택하였을 때, 그 때문에 포기한 다른 재화의 가치를 말한다. 만약 1만 원을 가지고 피자 먹기와 영화 보기 중 하나를 선택해야 하는데 피자를 먹기로 선택했다면 영화를 보면서 느낄 수 있었던 만족(효용)을 누리지 못하는 비용(대가)을 치러야 한다. 이처럼 여러 가지 선택 가능한 일들 가운데 어떤 하나를 선택하게 되면 다른 것을 선택할 기회를 상실하는데, 그 상실된 기회가 줄 수 있었던 만족 또는 가치를 기회비용이라고 한다. 위의 상황에서 피자를 선택할 때의 기회비용은 영화로부터 느낄 수 있었던 만족 또는 가치이다. 피자를 먹을 때 효용이 기회비용보다 작다면 피자를 선택한 것은 잘못된 선택을 한 것이다.

- 09 비용이 같을 때에는 편익이 큰 쪽을 선택하는 것이 합리적 선택이다.

선택지 바로 보기

- ① 감의 선택으로 보아, 떡볶이의 편익이 가장 작음을 알 수 있다. (×)
- ▶ 일반적인 경우라면 편익이 가장 큰 것을 선택하므로 감의 선택을 통해 떡볶이의 편익이 가장 크다고 추측할 수 있다.
- ② 김밥의 편익이 가장 크다면, 감의 선택은 합리적인 선택으로 볼 수 있다. (×)
- ▶ 김밥의 편익이 가장 크다면, 김밥을 선택하는 것이 합리적이다.
- ③ 김밥의 편익이 두 번째로 크다면, 떡볶이 선택의 기회비용은 3,000원이다. (×)
- ▶ 김밥의 편익이 두 번째로 크다면, 떡볶이 선택의 기회비용은 김밥을 먹었을 때의 만족감이다.
- ④ 순대의 편익이 가장 작다면, 감은 비합리적인 결정을 한 것으로 볼 수 있다. (×)
- ▶ 순대의 편익이 가장 작다면, 감은 떡볶이 또는 김밥 중에 하나를 선택해야 하므로 비합리적 결정이라고 보기 어렵다.
- ⑤ 편익 크기의 순서가 떡볶이>순대>김밥이라면, 떡볶이 선택의 기회비용은 순대를 먹었을 때의 만족감이다. (○)
- ▶ 떡볶이 선택의 기회비용은 떡볶이 다음으로 편익이 큰 순대를 먹었을 때의 만족감이다.

- 10 소비에서 합리적 선택 과정은 다음과 같다. 예산 확인 → 사려고 하는 재화나 서비스 탐색 → 탐색한 재화나 서비스의 비용과 편익 비교 → 비용 대비 편익이 가장 큰 것 선택 → 구매 후, 구입 결과 평가
- 11 (가)는 생산 방법으로 자동화 설비의 확대를 결정한 것이기 때문에 어떻게 생산할 것인가에 해당하고, (나)는 생산물의 종류

를 결정한 것이기 때문에 무엇을 얼마나 생산할 것인가에 해당한다.

- 12 ㉠은 무엇을 얼마나 생산할 것인가에 대한 문제, ㉡은 어떻게 생산할 것인가에 대한 문제, ㉢은 누구를 위하여 생산할 것인가에 대한 문제이다. ㉠~㉢과 같은 선택의 문제는 모든 사회에서 나타나는 기본적인 경제 문제이며, 희소성 때문에 발생한다.

선택지 바로 보기

- ㄱ. ㉠과 관련된 경제 문제는 '어떻게 생산할 것인가?'이다. (×)
 ㉡ 커피를 생산하기로 하였기 때문에 '무엇을 얼마나 생산할 것인가?'의 문제이다.
 ㄴ. ㉠~㉢과 관련된 경제 문제는 모든 사회에서 나타난다. (○)
 ㉢ '무엇을 얼마나 생산할 것인가?', '어떻게 생산할 것인가?', '누구를 위하여 생산할 것인가?'의 선택 문제는 모든 사회에서 일어나는 경제 문제이다.
 ㄷ. ㉠, ㉡은 희소성 때문에 발생하는 문제이지만, ㉢은 그렇지 않다. (×)
 ㉢ '누구를 위하여 생산할 것인가?'의 분배 문제도 희소성 때문에 발생하는 경제 문제이다.
 ㄹ. ㉢은 '누구를 위하여 생산할 것인가?'와 관련된 생산물의 분배 문제이다. (○)

- 13 시장 경제 체제에서는 경제 문제를 시장 가격을 통해 해결한다. 개인은 사유 재산을 소유할 수 있고, 경제 활동의 자유를 누리며 자신의 이익을 추구할 수 있다. 반면 계획 경제 체제에서는 국가의 계획과 명령으로 경제 문제를 해결한다. 일반적으로 정부가 주요 생산 수단을 소유하거나 관리하며, 사회의 공동 목표를 위해 구성원의 경제 활동을 통제한다.

- 14 실업, 빈부 격차, 환경 오염 등 시장 경제 체제의 문제점을 보완하기 위하여 시장 경제 체제를 기본으로 하되, 정부의 시장 개입을 인정하는 혼합 경제 체제가 등장하였다.

선택지 바로 보기

- ① 사회 보장 제도를 폐지하였다. (×)
 ㉡ 사회 보장 제도는 시장 경제 체제에서 일어나는 빈부 격차 등 다양한 사회 문제를 해결하기 위한 제도이다.
 ② 모든 기간산업을 국유화하였다. (×)
 ㉢ 혼합 경제 체제에서는 일부 기간산업을 국유화하기도 하지만 계획 경제 체제처럼 전부 국유화하지는 않는다.
 ③ 정부의 시장 개입을 확대하였다. (○)
 ㉣ 시장 경제 체제의 문제점을 해결하려고 계획 경제 체제의 요소인 정부의 시장 개입을 인정하였다.
 ④ 전면적으로 계획 경제 체제를 채택하였다. (×)
 ㉣ 시장 경제 체제를 기본으로 계획 경제 체제의 일부 요소를 도입한 것이다.
 ⑤ 시장 경제 체제의 제도를 더욱 강화하였다. (×)
 ㉣ 시장 경제 체제를 강화하면 빈부 격차 문제는 더욱 심해질 것이다.

- 15 A 국가는 시장 경제 체제, B 국가는 계획 경제 체제를 채택하고 있다. 시장 경제 체제는 경제의 효율성은 높으나, 빈부 격차, 환경 오염 등의 부작용이 발생할 수 있다. 경제적 효율성은 A 국가가 B 국가보다 높은 경우가 많다.

- 16 국가가 각 경제 주체에 생산, 분배, 소비 등을 계획하고 명령

함으로써 경제 문제를 해결하는 경제 체제를 계획 경제 체제라고 한다.

- 17 계획 경제 체제하에서는 개인이 노력한 만큼 소득을 얻을 수 없어 경제의 효율성이 떨어진다.

- 18 우리나라는 헌법상 경제 활동의 자유를 인정하지만, 필요한 경우 정부가 경제에 개입하여 규제와 조정을 할 수 있도록 하고 있다. 미국, 프랑스와 같이 시장 경제 체제를 채택한 국가에서도 환경 오염이나 빈부 격차와 같은 사회 문제를 해결하고, 경제 안정과 복지 제도 마련 등을 위해 정부가 시장에 개입한다. 반면 중국, 쿠바 등과 같이 계획 경제 체제를 기본으로 하는 국가에서도 근로 의욕 저하, 생산성 하락 등과 같은 문제점을 해결하고 경제를 성장시키기 위해 시장 경제 체제의 요소를 도입하고 있다.

선택지 바로 보기

- ① 우리나라는 경제 활동의 자유를 인정하지 않는다. (×)
 ㉡ 제1항에서 개인과 기업의 경제상의 자유를 존중한다고 명시하고 있다.
 ② 우리나라는 소득 분배보다는 경제 성장에 중점을 두고 있다. (×)
 ㉢ 제2항에 균형 있는 경제 성장과 소득의 분배를 유지한다고 명시하고 있다.
 ③ 우리나라는 경제 활동의 자유와 정부의 규제를 모두 인정한다. (○)
 ④ 우리나라의 경제 체제는 계획 경제 체제의 요소를 배제하고 있다. (×)
 ㉣ 제2항에 계획 경제 체제의 요소가 나타나 있다.
 ⑤ 우리 정부는 경제 주체들의 자유로운 경제 활동을 통제할 수 없다. (×)
 ㉣ 제2항에 국가는 경제 민주화를 위하여 경제에 관한 규제와 조정을 할 수 있다고 명시하고 있다.

- 19 (가) 생산, (나) 소비, 미용사가 파마를 해 주는 것은 서비스를 생산하는 것이고, 생일 선물로 책을 구입하는 것은 재화를 구매하는 소비 활동이다.

| 핵심 단어 | 생산, 소비, 재화, 서비스

채점 기준	구분
경제 활동의 종류를 쓰고, 그 까닭을 서술한 경우	상
경제 활동의 종류는 썼지만, 그 까닭에 대한 서술이 부족한 경우	하

- 20 희소성은 자원의 절대적인 양에 의해서만 결정되는 것이 아니라 인간의 욕구와 필요에 따라 달라지는 상대적인 개념이다. 희소성은 시대와 장소에 따라 달라진다.

| 핵심 단어 | 희소성, 상대적 개념, 시대와 장소에 따라 달라짐.

채점 기준	구분
빈칸에 들어갈 말이 희소성임을 알고 그 특징을 서술한 경우	상
빈칸에 들어갈 말이 희소성임을 알았지만, 그 특징에 대한 서술이 부족한 경우	하

- 21 계획 경제 체제, 북한 헌법을 보면 계획 경제 체제의 특징인 철도, 공장 등 생산 수단의 소유가 국가 또는 사회 협동 단체라고 명시하고 있기 때문이다.



| 핵심 단어 | 계획 경제 체제, 생산 수단의 소유, 국가와 사회 협동 단체

채점 기준	구분
계획 경제 체제를 쓰고, 그 까닭도 서술한 경우	상
계획 경제 체제를 썼지만, 그 까닭에 대한 서술이 부족한 경우	하

02 기업의 역할과 사회적 책임

~ 03 금융 생활의 중요성

실전 대비 체크

p. 22 ~ 25

01 ②	02 ③	03 ②	04 ①	05 ⑤
06 ③	07 ④	08 ④	09 ②	10 ③
11 ④	12 ③	13 ①	14 ②	15 ⑤
16 ④	17 ②	18 해설 참조	19 해설 참조	20 해설 참조

- 01** 기업은 생산의 주체로서 상품, 즉 재화와 서비스를 생산한다. 기업은 생산 과정에서 사람들을 고용하여 일자리를 창출하고, 일한 대가로 임금을 지급하여 가계에 소득을 제공한다. 따라서 기업의 생산 활동이 활발하면 고용이 증가하고 가계 소득이 늘어나 경제가 활성화된다. 또한 기업은 각종 세금을 납부하여 국가 재정에 이바지하기도 한다.
- 02** 기업가는 이윤 창출과 함께 사회적 책임을 고려해야 한다. 기업은 사회 규범과 법을 준수하여 합법적인 경제 활동을 할 책임이 있다. 또한 소비자와 노동자의 권리를 보호하며, 다른 기업과 공정하게 경쟁하면서 성장해야 한다. 나아가 환경을 고려하여 상품을 생산하고, 교육 및 복지 등의 지원에 적극적으로 참여하려고 노력해야 한다.
- 03** 기업가 정신의 핵심은 혁신이다. 혁신은 새로운 제품을 개발하고, 생산 비용을 줄이기 위해 기존의 생산 기술이나 방법을 새로운 것으로 대체하며, 시장의 변화에 능동적으로 대처할 수 있는 새로운 경영 조직을 만드는 것 등을 말한다.
- 04** 오늘날에는 기업의 활동이 사회적으로 큰 영향을 미치고 있다. 기업은 경제를 활성화하는 등 긍정적인 역할도 하지만, 기업이 눈앞의 이익만을 추구하면 환경 오염이나 노동 문제

등이 심각해진다. 따라서 기업에 요구되는 사회적 책임이 커지고 있다. 기업의 사회적 책임이란 기업이 사회 전체의 이익에 부합하도록 의사 결정을 하는 것을 의미한다.

- 05** 청년기는 수입과 지출이 모두 적은 편이지만, 취업하면서 안정적인 수입을 얻고 돈을 모아 결혼과 자녀 출산 등에 대비하는 시기이다. 청년기 초기에는 수입보다 지출이 크지만 청년기 후반부로 갈수록 수입이 가파르게 올라 지출을 앞지르게 된다. 따라서 순수입이 양(+의) 값을 기록하기도 한다.

선택지 바로 보기

- ① 청년기에 소득이 발생하기 시작한다. (○)
 ▶ 청년기에 본격적으로 생산 활동에 참여하면서 소득이 발생하기 시작한다.
- ② 유소년기에는 주로 부모의 수입에 의존한다. (○)
 ▶ 유소년기는 경제적으로 자립하는 것이 어려워 부모의 소득에 의존하여 소비 생활을 하는 시기이다.
- ③ 전 생애에서 장년기는 소득이 가장 높은 시기이다. (○)
 ▶ 장년기는 소득이 가장 많은 시기이지만, 주택 마련, 자녀 양육, 노후 준비 등으로 소비도 많은 시기이다.
- ④ 장년기 후반부로 갈수록 소득이 줄어들지만 소비도 함께 줄어든다. (○)
 ▶ 소득은 대체로 청년기부터 장년기에 이르기까지 점차 증가하다가 은퇴를 하는 시점인 장년기 후반부터 감소하기 시작한다.
- ⑤ 노년기에 여유로운 생활을 위해서는 유소년기와 청년기에 자산 관리를 현명하게 하는 것이 중요하다. (×)
 ▶ 자산 관리는 자신이 벌어들인 소득을 어떻게 모으고 불릴지 미리 계획을 세우고, 이를 실천하는 것을 말한다. 따라서 자산 관리는 유소년기에는 이루어지지 않는다.

- 06** 생애 주기에 따른 소득과 소비를 고려하여 저축과 투자를 하는 등 자산을 확보하고 합리적으로 운용하는 것을 자산 관리라고 한다.
- 07** 돈을 벌 수 있는 시기는 한정되어 있지만 소비 생활은 평생에 걸쳐 이루어지기 때문에 자산 관리가 필요하다. 또한 결혼이나 주택 마련, 자녀 교육뿐만 아니라 뜻밖의 사고나 질병, 자연재해로 인한 피해 등의 지출에도 대비해야 한다. 특히 인간의 평균 수명이 연장되면서 노년기의 생활에 대비할 필요성이 더욱 커지고 있다.
- 08** 자산 관리는 ‘목표 결정-자산 파악-자금 마련 계획 수립-실행-검토와 평가’의 과정을 거친다. 유럽 여행이라는 목표를 세웠다면 먼저 유럽 여행에 필요한 자금이 얼마인지 파악한 후, 자신의 자산과 수입 및 지출을 확인한다. 그리고 수입의 얼마를 저축할 것인지, 예금, 주식 등 어떠한 형태로 자산에 투자할지 계획을 세운다. 그 이후 실제 그 계획을 실행하고, 6개월 또는 1년마다 검토하고 평가하여 계획 또는 목표를 수정한다.
- 09** 달걀을 한 바구니에 담지 말고 나누어 담으면 위험이 줄어든다는 뜻으로, 이는 포트폴리오 투자의 필요성을 강조한 것이다. 포트폴리오란 자금을 여러 자산으로 나누어 투자하는 것으로, 분산 투자라고도 한다.

10 자산 관리를 위해서는 저축이나 투자의 목적과 기간을 살펴 보고, 금융 상품의 안전성과 수익성, 유동성 등을 점검해 보아야 한다.

11 자산을 관리할 때는 안전성, 수익성, 유동성을 고려해야 한다. 또한 자신의 소득과 소비, 미래 계획 등을 고려하여 금융 상품을 꼼꼼히 따져 보고 선택할 수 있는 능력을 길러야 한다. 사례의 경우, 저축을 모두 정기 적금에만 투자하고 있는 상황이다. 예금은 안전성은 높지만 수익성이 낮다. 따라서 분산 투자 측면에서 수익성이 높은 주식이나 펀드, 채권 투자도 고려할 필요가 있다.

선택지 바로 보기

- ① 안전성이 최고입니다. 정기 적금을 계속 유지하시기 바랍니다. (×)
- ② 정기 적금은 안전성은 높지만 수익성이 낮으므로 수익성이 높은 주식이나 펀드에 분산 투자하는 것도 고려할 필요가 있다.
- ③ 불필요한 지출을 더욱 줄여서 매달 일정한 금액을 내는 정기 적금을 하나 더 가입하세요. (×)
- ④ 수입의 60%를 저축하고 있으므로 지출을 더욱 줄이는 것은 어려울 수 있다.
- ⑤ 미래를 대비해서 여유 자금 150만 원 중 100만 원 정도는 보험에 투자하는 것도 좋습니다. (×)
- ⑥ 보험은 미래에 발생할 수 있는 사고나 질병 등의 위험을 대비하기 위해 정기적으로 보험료를 납부하고, 사고나 질병이 발생하면 일정 금액을 받는 상품이다. 보험은 수익을 가져다준다기보다는 큰 손해를 막아 준다는 데 의미가 있다.
- ⑦ 안정적인 예금도 좋지만 조금은 공격적인 투자도 필요해 보입니다. 분산 투자 측면에서 채권이나 주식에도 투자해 보세요. (○)
- ⑧ 정기 적금은 수익이 너무 낮습니다. 정기 적금은 20만 원 정도로 줄이고, 80만 원은 주식, 50만 원은 펀드에 투자하는 것을 권합니다. (×)
- ⑨ 펀드는 금융 기관이 투자자에게서 모은 자금을 주식, 채권 등에 투자한 후 그 수익을 투자자에게 나누어 주는 금융 상품이다. 투자자가 직접 상품을 골라야 하는 주식, 채권과 달리 전문가를 통해 간접적으로 투자할 수 있다는 특징이 있다. 하지만 안전성이 낮은 주식과 펀드에 지나치게 많은 금액이 투자되는 것은 바람직하지 않다.

12 ㉠은 수익성이 높은 반면 안전성은 낮으므로 주식, ㉡은 안전성이 높은 반면 수익성은 낮으므로 예금에 해당한다.

13 ㉠은 미래의 소비를 위해 쓰지 않고 남긴 것, 즉 저축이다. 따라서 '소득 = 소비 + 저축'이 성립된다. 자산 관리에는 세 가지 방법이 있다. 첫째, 소득을 늘린다. 둘째, 소비를 줄인다. 셋째, 저축을 잘 관리한다. 이때 저축을 잘 관리하는 방법이 바로 자산 관리이다. 자산 관리를 할 때에는 수익성, 안전성, 유동성을 골고루 고려하되, 금융 상품에 대해 면밀하게 파악하고 분산 투자를 하는 것이 현명하다.

14 (가)는 신용이다. 개인의 경제적 지불 능력, 또는 지불 능력에 관한 사회적 평가를 신용이라고 한다. 현대 사회는 신용 거래가 확대되고 있다. 신용이 좋을수록 경제생활이 편리해지지만, 신용은 결국 빚이 되는 것이다. 따라서 미래의 소득이나 지불 능력을 고려하지 않고 비합리적으로 소비하면 신용을 잃게 되어 앞으로의 경제생활에 지장을 초래하게 된다.

15 신용 거래는 신용 사용에 따른 연회비와 수수료 같은 비용을 지불해야 한다. 또한 총동구매와 과소비로 이어질 수 있고 빚이 늘면 경제생활에 지장을 초래한다.

16 신용이 회복되면 신용 거래를 다시 할 수 있다.

17 신용 거래를 아예 하지 않는 것은 현명하지 않다. 주택 마련, 자동차 구매 등 목돈이 들어갈 때 신용을 적절하게 활용하면 많은 도움을 받을 수 있다.

선택지 바로 보기

- ㄱ. 연체하지 않는다. (○)
- ㉠ 신용이 나빠지는 대표적인 요인은 연체이다. 연체했던 기록이 신용에 영향을 미치므로 지속해서 신용 관리에 관심을 가져야 한다.
- ㄴ. 신용 거래를 배제하고 현금 거래만 한다. (×)
- ㉡ 신용을 활용하면 현금이 없어도 편리하게 거래할 수 있고, 현재의 소득보다 더 많은 소비를 할 수 있으므로 신용 거래를 배제하는 것은 좋은 방법이 아니다.
- ㄷ. 현재의 소득을 초과하는 소비는 자제한다. (○)
- ㉢ 신용은 현재와 미래의 소득과 지불 능력을 고려하여 충분히 갚을 수 있는 범위에서 이용해야 한다. 가급적이면 현재의 소득을 초과하지 않는 범위에서 소비하는 것이 좋은 신용을 유지할 수 있다.
- ㄹ. 현재의 소득보다는 미래의 소득을 고려해서 신용을 사용한다. (×)
- ㉣ 신용 거래는 결국 빚이므로 미래의 소득은 물론 현재 값을 능력까지도 함께 고려해야 한다.

18 기업가 정신, 기업가 정신은 미래의 불확실성과 위험을 무릅쓰고 새로운 상품과 기술을 개발, 새로운 시장의 개척 등의 혁신을 통해 이윤을 추구하려는 혁신적이고 창의적인 기업가의 자세이다.

핵심 단어 | 기업가 정신, 혁신, 이윤 추구, 창의적인 기업가 자세

채점 기준	구분
기업가 정신을 쓰고, 그 특징도 서술한 경우	상
기업가 정신은 썼지만, 그 특징에 대한 서술이 부족한 경우	하

19 (가)는 주식, (나)는 예금이다. 주식은 수익성은 높지만 안전성이 낮고, 예금은 안전성은 높지만 수익성이 낮다.

핵심 단어 | 주식, 예금, 수익성, 안전성

채점 기준	구분
금융 상품의 종류를 각각 쓰고, 특징을 비교하여 서술한 경우	상
금융 상품의 종류는 각각 썼지만, 특징을 비교하는 서술이 부족한 경우	하

20 (1) 신용
(2) 소득을 초과하는 소비를 자제한다. 현재와 미래의 소득과 지불 능력을 고려하여 충분히 갚을 수 있는 범위에서 신용을 이용한다. 돈을 갚기로 하거나 상품 대금을 지불하기로 한 약속은 반드시 지킨다.

핵심 단어 | 신용, 소득 초과 자제, 지불 능력 고려, 대금 지불 약속 수행

채점 기준	구분
신용을 쓰고, 신용 관리 노력을 두 가지 이상 서술한 경우	상
신용은 썼지만, 신용 관리 노력을 한 가지만 서술한 경우	하

IV | 시장 경제와 가격

01 시장의 의미와 종류 ~ 02 시장 가격의 결정

실전 대비 체크					p. 26~29
01 ③	02 ④	03 ⑤	04 ②	05 ③	
06 ③	07 ⑤	08 ③	09 ①	10 ②	
11 ①	12 ⑤	13 ③	14 ③	15 ①	
16 ②	17 ③	18 ④	19 해설 참조	20 해설 참조	
21 해설 참조					

- 01 시장은 사람들 간의 교환이 활발해지면서 자연스럽게 형성되었다. 시장을 통해 상품에 관한 정보를 쉽게 얻을 수 있고 거래 비용도 크게 줄일 수 있다. 시장은 눈에 보이는 구체적인 장소만을 의미하는 것은 아니다. 주식 시장, 외환 시장 등과 같이 구체적으로 눈에 보이지 않더라도 거래가 이루어지면 시장이라고 할 수 있다.
- 02 시장이 생겨나기 전에 사람들은 거래하려는 물건과 거래 조건이 맞는 상대방을 직접 찾아다녀야 해서 많은 시간과 노력이 필요하였다. 하지만 시장이 생겨난 후 거래에 드는 비용과 시간이 줄어들어 쉽게 거래할 수 있게 되었다.
- 03 애덤 스미스의 『국부론』에 나온 이야기로, 분업에 대해 설명하고 있다. 시장에서 교환이 가능해지면서 특화와 분업이 촉진되었다.
- 04 시장에서 교환을 원활하게 하기 위해 화폐가 사용되었다. 처음에는 쌀, 벼, 토기 등의 물품 화폐가 사용되다가 이후 금속 화폐, 지폐 등으로 발달하였다.
- 05 ○○ 시장은 재래시장으로, 보이는 시장, 생산물 시장, 소매 시장에 해당된다. 시장은 개설 시기에 따라 매일 열리는 상설 시장과 특정 날짜에만 열리는 정기 시장으로 나눌 수 있는데, 제시문의 시장은 상설 시장이다.

선택지 바로 보기

- ① 유동 인구가 많은 곳에 자리를 잡고 있었다. (○)
▶ 시장은 활발한 교환 행위를 위하여 유동 인구가 많은 곳에서 형성되는 경우가 많으며, 사례의 재래시장도 그러한 경우이다.
- ② 거래하는 모습을 눈으로 볼 수 있어 보이는 시장이고, (○)
▶ 시장에는 재래시장, 백화점 등과 같이 거래하는 모습이 보이는 시장과 인터넷 쇼핑몰과 같이 보이지 않는 시장이 있다.
- ③ 생산 요소가 거래되는 생산 요소 시장이다. (×)
▶ 재화와 서비스가 거래되는 시장을 생산물 시장이라고 하며, 재래시장은 이에 속한다.
- ④ 매일 열리는 상설 시장이고, (○)
▶ 특정한 장소에 자리를 잡고 매일 열리는 상설 시장이다.
- ⑤ 주로 소비자를 대상으로 하는 소매 시장이다. (○)
▶ 판매 대상에 따라 소매생(상인)을 대상으로 하는 도매 시장과 소비자를 대상으로 하는 소매 시장으로 나눌 수 있으며, 사례의 재래시장은 소매 시장에 해당한다.

- 06 시장은 거래되는 대상의 종류에 따라 생산물 시장과 생산 요소 시장으로 구분할 수 있다. 생산물 시장은 생활에 필요한 재화나 서비스가 거래되는 시장이다. 농수산물 시장, 꽃 시장, 가구 시장 등은 물론 여가나 문화생활을 즐기려고 찾는 영화관, 공연장 등도 생산물 시장에 포함된다. 생산 요소 시장은 상품을 생산하는 과정에서 필요한 토지나 노동, 자본 등의 생산 요소가 거래되는 시장이다.
- 07 취업 박람회도 노동을 거래하는 생산 요소 시장에 해당한다.
- 08 전자 상거래 시장은 보이지 않는 시장에 해당하며, 오늘날 그 규모가 확대되고 있다.

선택지 바로 보기

- ① 전자 상거래는 시장으로 보기 어렵다. (×)
▶ 전자 상거래는 소비자와 판매자가 직접 만나지 않고 온라인상에서 거래가 이루어지는 시장이다.
- ② 오늘날 전자 상거래 시장이 줄어들고 있다. (×)
▶ 전자 상거래는 시간의 제약과 거래 비용을 줄여 주어 오늘날 전체 시장에서 차지하는 비중이 증가하고 있다.
- ③ 전자 상거래는 눈에 보이지 않는 시장에 해당한다. (○)
- ④ 재래시장과 전자 상거래 시장은 거래되는 상품의 종류가 다르다. (×)
▶ 두 시장 모두 주로 재화와 서비스를 거래하는 생산물 시장에 속한다.
- ⑤ 오늘날에는 과거보다 상품을 구입하는 데 드는 시간과 비용이 늘어났다. (×)
▶ 온라인으로 거래를 하면 거래 비용이 줄어든다.

- 09 해외 직구는 인터넷 사이트나 이동 통신 애플리케이션을 이용해 해외의 물건을 직접 구입하는 것으로, 생산물 시장이자 눈에 보이지 않는 시장에 해당한다.

선택지 바로 보기

- ① 생산 요소 시장에 해당한다. (×)
▶ 채운개는 재화이므로 생산물 시장이다.
- ② 눈에 보이지 않는 시장에 해당한다. (○)
▶ 해외 직구는 온라인으로 거래가 이루어지므로 보이지 않는 시장이다.
- ③ 정보 통신 기술의 발달로 등장한 시장 형태이다. (○)
▶ 정보 통신 기술의 발달로 인터넷을 이용한 전자 상거래의 규모가 점차 확대되고 있다.
- ④ 해외 직구는 국내에서 구입하는 것보다 배송 시간이 더 걸린다. (○)
▶ 해외 직구는 해외에 있는 물건을 직접 구입하는 것이기 때문에 배송 기간은 긴 편이다.
- ⑤ 최근에는 인터넷 사이트 외에 이동 통신 애플리케이션을 이용한 해외 직구도 가능해졌다. (○)
▶ 해외 직구 시장이 급성장하면서 인터넷 사이트 외에 이동 통신 애플리케이션을 이용하여 물건을 사는 사람들도 늘고 있다.

- 10 제시문은 가격이 하락하면 수요량이 증가하고 가격이 상승하면 수요량이 감소하는 수요 법칙을 보여 주고 있다.
- 11 (가)는 가격 하락에 따른 수요량 증가, (나)는 가격 상승에 따른 수요량 감소, (다)는 가격 상승에 따른 공급량 증가를 보여 준다.

12 가격이 상승하면 공급량이 증가하고, 가격이 하락하면 공급량이 감소하는 가격과 공급량의 비례 관계를 공급 법칙이라고 한다. 노동의 가격인 임금이 상승했음에도 노동의 공급량이 증가하지 않고 오히려 감소하는 것은 공급 법칙의 예외적인 현상이다.

13 팔고자 하는 사람은 상품의 가격이 내리면 그 상품을 더 적게 공급하려고 한다. 반면에 상품의 가격이 오르면 상품을 더 많이 공급하려고 한다. 왜냐하면 다른 조건이 동일할 경우 상품의 가격이 상승하면 공급자는 더 많은 이윤을 얻기 위해 공급량을 늘리기 때문이다. 상품의 가격과 공급량 간에 나타나는 이와 같은 관계를 공급 법칙이라고 하며, 이를 그래프로 나타낸 것이 공급 곡선이다.

14 수요 법칙은 가격과 수요량이 반비례 관계이고, 공급 법칙은 가격과 공급량이 비례 관계이다. 공책의 가격이 900원일 때는 초과 공급이 발생한다.

선택지 바로 보기

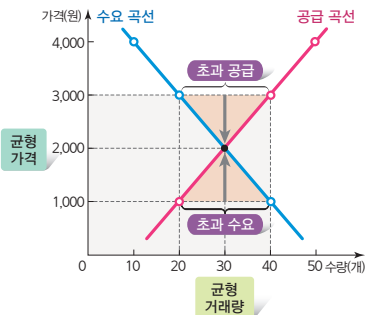
ㄱ. ㉠은 공급량, ㉡은 수요량이다. (×)
 ① 가격이 상승할수록 수량이 감소하고 있기 때문에 ㉠은 수요량이고, 가격이 상승할수록 수량이 증가하고 있기 때문에 ㉡은 공급량이다.

ㄴ. 균형 가격은 700원, 균형 거래량은 40개이다. (○)
 ② 균형 가격과 균형 거래량은 수요 곡선과 공급 곡선이 만나는 지점에서 형성된다.

ㄷ. 공책 가격이 700원에서 800원으로 오르면 수요량은 10개 줄어든다. (○)
 ③ 공책의 가격이 700원일 때 수요량은 40개, 800원일 때는 30개이다. 따라서 수요량이 10개가 줄었다.

ㄹ. 공책 가격이 900원일 때 수요자들끼리의 경쟁으로 가격이 상승할 것이다. (×)
 ④ 공책의 가격이 900원일 때는 수요량 20개, 공급량이 60개로 초과 공급이 발생한다. 사례는 사람보다 팔려는 사람이 많아져서 공급자끼리 경쟁하여 가격은 하락하게 될 것이다.

15 시장 가격은 수요 곡선과 공급 곡선이 만나는 지점에서 결정된다. 수요 곡선은 우하향하는 모양이고, 공급 곡선은 우상향하는 모양이다.



▲ 균형 가격의 결정

16 우하향하는 수요 곡선 그래프에서 세로축의 가격이 하락하였고, 이에 따라 수요량이 증가하였음을 알 수 있다.

17 시장 가격은 수요량과 공급량이 일치하는 지점, 즉 수요 곡

선과 공급 곡선이 만나는 점에서 결정된다. 이 지점에서 시장은 균형을 이루었다고 하며, 이때의 가격을 균형 가격, 거래량을 균형 거래량이라고 한다.

18 가격이 3,000원인 경우는 초과 공급 상태이며, 이때 공급자는 가격을 낮춰서라도 판매하려고 해서 가격이 하락하고 점점 균형에 가까워진다.

선택지 바로 보기

- ① 점차 가격이 상승한다. (×)
 ① 가격이 3,000원일 때는 초과 공급 상태이며, 균형 가격으로 가기 위해 가격이 하락하게 된다.
- ② 초과 수요가 점점 줄어든다. (×)
 ② 수요량은 늘어나고 공급량은 줄어들어 초과 공급이 점점 줄어든다.
- ③ 점점 더 균형에서 멀어진다. (×)
 ③ 시장에서 어떤 상품의 수요량과 공급량이 일치하지 않으면 가격이 오르거나 내린다. 이와 같은 과정을 반복하다가 시장은 수요량과 공급량이 일치하여 더는 상품의 가격이 오르거나 내리지 않는 균형 상태에 도달하게 된다.
- ④ 공급자가 더 낮은 가격에도 판매하려고 한다. (○)
 ④ 초과 공급 상태에서는 시장에서 상품이 남아서 공급자들은 가격을 낮춰서라도 상품을 팔려고 할 것이다.
- ⑤ 수요자가 더 높은 가격에도 구입하려고 한다. (×)
 ⑤ 초과 수요 상태에서 발생하게 될 변화에 대한 설명이다.

19 옛날에는 생활에 필요한 물건을 스스로 만들어 사용하는 자급자족 생활을 하였다. 이후 인구가 늘어나고 사회가 발달하면서 자신이 만든 물건을 다른 사람과 교환하게 되었고, 교환이 활발해지면서 자연스럽게 시장이 형성되었다.

핵심 단어 | 자급자족, 교환, 시장

채점 기준	구분
시장의 형성 과정을 서술한 경우	상
시장의 형성 과정을 서술하지 못한 경우	하

20 (1) 생산 요소 시장(노동 시장)

(2) 노동 시장에서는 기업이 수요자, 가계(노동자)가 공급자에 해당한다.

핵심 단어 | 생산 요소 시장, 노동 시장, 기업, 수요자, 노동자, 공급자

채점 기준	구분
(1)을 쓰고, (2)를 서술한 경우	상
(1)은 썼지만, (2)에 대한 서술이 부족한 경우	하

21 지방 부동산 시장은 초과 공급 상태로, 공급자가 가격을 낮춰서라도 판매하려고 하여 부동산 가격이 하락할 가능성이 높다.

핵심 단어 | 초과 공급, 낮은 가격에 판매, 부동산 가격 하락

채점 기준	구분
초과 공급 상태를 쓰고, 부동산 시장의 상황과 가격을 서술한 경우	상
초과 공급 상태는 썼지만, 부동산 시장의 상황과 가격에 대한 서술이 부족한 경우	하

03 시장 가격의 변동

실전 대비 체크					p. 30~33
01 ④	02 ③	03 ②	04 ①	05 ④	
06 ②	07 ③	08 ⑤	09 ⑤	10 ①	
11 ③	12 ⑤	13 ③	14 ②	15 ⑤	
16 ③	17 ②	18 해설 참조	19 해설 참조	20 해설 참조	

01 소득이 증가하면 수요가 증가하고, 이는 균형 가격 상승과 균형 거래량 증가로 이어진다.

선택지 바로 보기

- ㄱ. 학교 앞 문구점의 학용품 판매량이 감소한다. (×)
- ✔ 초등학생의 용돈이 오르면 경제적인 여유가 생겨 학용품의 판매량은 증가할 것이다.
- ㄴ. 학교 앞 분식점의 떡볶이 판매량이 증가한다. (○)
- ✔ 초등학생의 용돈이 오르면 경제적인 여유가 생겨 떡볶이의 수요가 증가하여 판매량이 늘어날 것이다.
- ㄷ. 초등학교생들이 대중교통을 이용하는 횟수가 줄어든다. (×)
- ✔ 용돈 인상과 대중교통의 이용 횟수는 직접적인 관련이 없다. 용돈이 많고 적음에 관계없이 대중교통은 필요에 의해 이용하는 것이다.
- ㄹ. 초등학교생들 사이에서 유행하는 게임 아이템의 수요가 증가한다. (○)
- ✔ 초등학생의 용돈이 오르면 경제적인 여유가 생겨 게임 아이템의 수요가 증가할 것이다.

02 상추는 삼겹살과 함께 소비하는 상품으로 보완재에 해당되고, 고등어는 삼겹살 대신 소비할 수 있는 상품으로 대체재에 해당된다. 두 상품이 서로 대체재의 관계에 있을 때에는 한 상품의 가격이 오르면 다른 상품의 수요가 증가한다. 반면 두 상품이 서로 보완재 관계에 있을 때에는 한 상품의 가격이 오르면 다른 상품의 수요가 감소한다.

03 소득의 변화, 관련 상품 가격의 변화, 소비자 취향의 변화 등은 모두 수요의 변동 요인에 해당되지만, 해당 상품 가격의 변화는 수요량의 변화를 가져온다. 수요량의 변동은 수요 곡선상의 점의 이동으로 나타난다. 예를 들어 아이스크림의 가격이 1,000원에서 500원으로 하락하면 아이스크림의 수요량이 10개에서 20개로 늘어나는 것과 같은 변화이다.

04 발효 식품에 대한 선호도가 높아져 요구르트의 수요가 증가한다. 수요가 증가하면 균형 가격이 상승하고 균형 거래량도 증가한다.

선택지 바로 보기

- ① 수요가 증가하여 가격이 상승한다. (○)
- ✔ 요구르트에 대한 선호도가 증가하면 수요가 증가하여 수요 곡선이 오른쪽으로 이동한다. 이때 가격은 상승하고 거래량도 증가한다.
- ② 수요가 감소하여 가격이 하락한다. (×)
- ✔ 요구르트에 대한 선호도가 올라가 수요가 증가하여 가격이 상승한다.
- ③ 공급이 증가하여 가격이 하락한다. (×)
- ✔ 소비자의 선호도는 수요의 증감을 결정하는 요인으로 공급과는 관계가 없다.
- ④ 공급이 감소하여 가격이 상승한다. (×)
- ✔ 소비자의 선호도는 수요의 증감을 결정하는 요인으로 공급과는 관계가 없다.
- ⑤ 이전과 비교하여 변화가 없다. (×)
- ✔ 수요가 증가한다.

05 앞으로 어떤 상품의 가격이 오를 것으로 예상되면 사람들이 이 상품을 미리 사 두려고 할 것이므로 수요가 증가하여 수요 곡선이 오른쪽으로 이동한다.

06 노인 인구가 늘어나면 건강식품에 대한 수요가 증가한다.

07 율로족이 증가하면 해외여행 수요는 증가할 것이다. 이에 따라 해외여행의 균형 가격은 상승하고 균형 거래량도 증가할 것이다.

08 어떤 상품을 생산하는 기술이 발달하여 생산성이 높아지면 공급자는 동일한 비용으로 더 많은 상품을 생산할 수 있게 된다. 생산 기술의 향상은 생산비를 낮추는 효과를 가져와 공급을 증가시킨다.

선택지 바로 보기

- ① 미세 먼지가 심각한 수준으로 증가하였다. (×)
- ✔ 미세 먼지가 심각한 수준이면 공기 청정기의 수요는 증가한다.
- ② 공기 청정기 가격이 앞으로 오를 것으로 예상되었다. (×)
- ✔ 공기 청정기의 가격이 오를 것으로 예상되면 가격이 더 오르면 팔려고 해서 공급이 감소하고 가격이 더 오르기 전에 사려고 해서 수요는 증가한다.
- ③ 공기 청정기 제조에 필요한 원자재 가격이 상승하였다. (×)
- ✔ 원자재의 가격이 상승하면 생산 비용이 증가하여 공급은 감소하게 된다.
- ④ 텔레비전 뉴스에서 현재 판매되고 있는 공기 청정기의 문제점이 방영되었다. (×)
- ✔ 공기 청정기의 문제점이 방영되면 수요는 감소한다.
- ⑤ 공기 청정기의 부품 중 나노 필터를 더 적은 비용으로 생산할 수 있는 기술이 개발되었다. (○)
- ✔ 생산 기술이 개발되면 생산성이 좋아져서 공급은 증가하게 된다.

09 임금의 상승은 생산 비용의 상승을 의미하며, 이는 공급을 감소시킨다. 반면 수요 측면에서는 사람들의 소득을 증가시켜 수요를 증가시키는 요인으로 작용하기도 한다.

선택지 바로 보기

- ① 기업의 이윤이 증가한다. (×)
- ✔ 최저 임금이 오르면 생산 비용이 늘어나는 것이므로 기업의 이윤은 감소한다.
- ② 인구가 증가하여 수요가 감소한다. (×)
- ✔ 최저 임금 인상과 인구 증가는 관계가 없다. 또한 최저 임금 인상은 수요를 증가시키는 요인이다.
- ③ 수요와 공급 측면에서 아무런 변화가 없다. (×)
- ✔ 최저 임금 인상은 가계 소득이 증가하는 것이므로 수요는 증가하고, 생산 요소 가격의 상승으로 공급은 감소하게 된다.
- ④ 사람들의 소득이 증가하여 공급이 증가한다. (×)
- ✔ 최저 임금이 오르면 가계의 소득이 증가하여 수요가 증가한다.
- ⑤ 생산 요소인 노동의 가격이 상승하여 공급이 감소한다. (○)
- ✔ 생산 요소의 가격이 상승하면 같은 비용으로 덜 생산하기 때문에 공급이 감소한다.

10 농작물의 경우 날씨가 좋지 않으면 공급이 크게 감소한다. 공급이 감소하면 균형 가격은 상승하고 균형 거래량은 감소한다.

11 생산 요소의 가격이 하락하면 생산 비용이 감소하여 공급이 증가한다. 공급이 증가하면 균형 가격은 하락하고 균형 거래량은 증가한다.

선택지 바로 보기

- ① 우유의 가격이 하락하였다. (×)
- ☛ 대체재인 우유의 가격이 하락하면 두유 대신 우유를 사 먹게 되어 우유의 수요는 감소하게 된다.
- ② 사람들의 평균 소득이 증가하였다. (×)
- ☛ 소득이 증가하면 두유를 사 먹는 사람이 늘어나게 되어 수요가 증가한다.
- ③ 우유의 원료인 콩의 가격이 하락하였다. (○)
- ☛ 우유의 원료인 콩의 가격이 하락하면 생산 비용이 감소하여 공급은 증가하게 된다.
- ④ 우유의 생산 기술 개발에 어려움을 겪고 있다. (×)
- ☛ 생산 기술 개발에 어려움을 겪게 되면 생산성이 낮아져서 우유의 공급은 감소한다.
- ⑤ 얼마 전 텔레비전에서 두유가 건강에 좋다는 내용이 보도되었다. (×)
- ☛ 두유가 건강에 좋다는 내용이 보도되면 사람들이 두유를 사 먹으려고 해서 수요가 증가하게 된다.

- 12** 풍년이 들면 공급이 증가하여 농산물 가격이 큰 폭으로 하락한다. 이로 인해 농민들은 오히려 수익이 줄어들게 되어 수확을 포기하기도 한다.
- 13** 석유 가격 인상은 원자재 가격 상승을 의미하며, 생산 비용 상승은 공급의 감소로 이어진다. 즉 공급 곡선이 왼쪽으로 이동한다.

플러스 특강 석유 가격 인상과 공급의 감소

석유는 대부분 기업이 생산 활동을 하는 데 필요한 원자재이다. 석유를 직접 가공해서 물건을 만들기도 하지만, 다른 물건을 만드는 과정에서 간접적으로 사용하기도 한다. 이처럼 중요한 석유 대부분을 수입하는 우리나라의 경제는 석유 가격의 영향을 크게 받는다. 석유 가격이 인상되면 대부분 기업은 생산비 증가를 경험하기 마련이다. 이는 대부분 재화와 서비스의 공급 곡선이 왼쪽으로 이동함을 의미하며, 수요가 변하지 않을 때 가격이 오르게 된다. 즉, 석유 가격이 오르면 우리나라에서 대부분의 재화나 서비스 가격이 오르게 되고, 경제 전체적으로 물가가 오르게 되는데, 이는 공급 곡선이 공급 감소 때문에 왼쪽으로 이동한 결과이다.

- 14** 공급자 수가 증가하면 공급이 증가하여 공급 곡선이 오른쪽으로 이동한다. 이 경우 균형 가격은 하락하고 균형 거래량을 증가한다.

선택지 바로 보기

- ① 균형 가격은 상승하고 균형 거래량은 증가한다. (×)
- ☛ 수요가 증가할 때 나타나는 현상이다.
- ② 균형 가격은 하락하고 균형 거래량은 증가한다. (○)
- ☛ 반도체 회사가 늘어나고 있다는 것은 공급자의 수가 늘어나는 것이므로 공급이 증가하게 된다. 이에 따라 공급 곡선은 오른쪽으로 이동하게 되며, 가격은 하락하고 거래량은 증가한다.
- ③ 균형 가격은 상승하고 균형 거래량은 감소한다. (×)
- ☛ 공급이 감소할 때 나타나는 현상이다.
- ④ 균형 가격은 하락하고 균형 거래량은 감소한다. (×)
- ☛ 수요가 감소할 때 나타나는 현상이다.
- ⑤ 이전에 비해 별다른 변화가 없다. (×)
- ☛ 공급자 수의 변화는 공급의 변동에 영향을 준다.

- 15** 임금 인상으로 생산 비용이 늘어나면 공급이 감소하여 공급

곡선이 왼쪽으로 이동하게 된다.

선택지 바로 보기

- ① 대체재 가격이 하락하였다. (×)
- ☛ 대체재 가격이 하락하면 수요는 감소하고 수요 곡선은 왼쪽으로 이동한다.
- ② 제품을 만드는 공급자 수가 늘어났다. (×)
- ☛ 공급자의 수가 늘어나면 공급은 증가하고 공급 곡선은 오른쪽으로 이동한다.
- ③ 원료의 가격이 하락하여 공급자들이 생산을 늘렸다. (×)
- ☛ 생산 요소인 원료의 가격이 하락하면 공급은 증가하고 공급 곡선은 오른쪽으로 이동한다.
- ④ 새로운 기계의 발명으로 물건을 더 많이 생산하게 되었다. (×)
- ☛ 생산 기술이 발달하면 공급은 증가하고 공급 곡선은 오른쪽으로 이동한다.
- ⑤ 공장 노동자들의 임금이 인상되어 생산 비용이 증가하였다. (○)
- ☛ 임금 인상으로 생산 비용이 증가하면 공급은 감소하고 공급 곡선은 왼쪽으로 이동한다.

- 16** 가격 하락은 수요자에게 수요량을 늘리라는 신호로, 공급자에게는 공급량을 줄이라는 신호로 작용한다.
- 17** 시장 가격을 통해서 자원의 효율적인 배분이 이루어지고 있다.
- 18** 소득이 증가하면 수요가 증가한다. 수요가 증가하면 수요 곡선이 오른쪽으로 이동하고 시장 가격은 상승하게 된다.

| 핵심 단어 | 소득 증가, 수요 증가, 수요 곡선 오른쪽 이동, 가격 상승

채점 기준	구분
시장 가격의 변화를 수요, 공급의 원리를 사용하여 서술한 경우	상
시장 가격의 변화를 수요, 공급의 원리를 사용하여 서술하지 못한 경우	하

- 19** (1) 대체재
(2) 바나나는 사과와 대체재이므로, 바나나 가격이 상승하면 사과 수요가 증가하고, 수요 곡선이 오른쪽으로 이동하면서 사과 가격은 상승한다.

| 핵심 단어 | 대체재, 사과 수요 증가, 사과 가격 상승

채점 기준	구분
대체재를 쓰고, 사과의 수요와 가격의 변화에 대해 서술한 경우	상
대체재는 썼지만, 사과의 수요와 가격의 변화에 대해서는 서술하지 못한 경우	하

- 20** 노트북 생산 기술의 발달로 생산 비용이 줄어 공급이 증가함에 따라 노트북 가격이 하락하게 된 것이다.

| 핵심 단어 | 생산 기술 발달, 노트북 공급 증가, 노트북 가격 하락

채점 기준	구분
생산 기술 발달에 따른 노트북의 공급과 가격의 변화에 대해 서술한 경우	상
생산 기술 발달에 따른 노트북의 공급과 가격의 변화에 대해 서술하지 못한 경우	하

V | 국민 경제와 국제 거래

01 국내 총생산과 경제 성장 ~ 02 물가 상승과 실업

실전 대비 체크 p. 34~38

01 ④	02 ③	03 ③	04 ②	05 ⑤
06 경제 성장	07 ③	08 ③	09 ②	10 ⑤
11 ④	12 ④	13 ④	14 ①	15 ①
16 ④	17 ①	18 ②	19 ②	20 ⑤
21 ①	22 ②	23 ⑤	24 ①	25 해설 참조
26 해설 참조	27 해설 참조			

01 국내 총생산은 한 나라의 전체적인 경제 활동 규모를 보여주는 지표로, 국내 총생산이 지속해서 증가하는 현상을 경제 성장이라고 한다.

02 국내 총생산은 최종 생산물인 피자의 시장 가격 800만 원이다. 다른 방법으로 계산하면 각 생산 단계마다 더해진 시장 가격인 100만 원, 400만 원, 300만 원의 합인 800만 원이다.

03 국내 총생산의 계산에 들어가는 생산물에는 재화와 서비스가 모두 포함되며, 생산자의 국적과 관계없이 그 나라의 영토 내에서 생산된 상품은 모두 포함된다.

선택지 바로 보기

- ㄱ. 외국 기업이 우리나라에서 생산한 자동차의 가격 (○)
- ㄴ. 작년에 생산되었으나 올해 거래된 재고품의 가격 (×)
- 올해 새로 생산된 최종 생산물의 가격이어야 한다.
- ㄷ. 주말 농장에서 생산되어 집에서 소비된 채소의 가치 (×)
- 시장에서 거래된 상품의 가치이어야 한다.
- ㄹ. 올해 대학 병원에서 근무한 의사의 진료 서비스의 가치 (○)

04 교통사고로 인해 삶의 질이 떨어졌지만 사고 처리 과정에서 국내 총생산이 오히려 증가하는 것을 볼 때, 국내 총생산은 국민의 삶의 질을 보여주는 지표로 적합하지 않음을 알 수 있다.

05 더 나은 삶 지수는 국내 총생산의 한계를 보완하기 위해 나온 지표로 주거, 소득, 고용, 교육, 삶의 만족도 등을 평가하여 나라별 삶의 질을 보여 준다.

06 경제가 성장한다는 것은 국내 총생산이 증가한다는 것을 의미한다.

07 우리나라의 국내 총생산은 장기적으로 볼 때는 크게 증가하였지만, 일시적으로는 감소한 적도 있었다. 한 나라의 경제는 호황과 불황을 반복하며 성장한다.

08 경제 성장률은 해당 국가의 경제 규모가 얼마나 커졌는지를 나타내는 수치이다. 경제 성장률이 0%를 넘는 경우는 실질

국내 총생산 수치가 증가해 경제 규모가 커졌음을 나타낸다.

선택지 바로 보기

- ① 2017년 A 국의 경제 규모는 B 국보다 크다. (×)
- 일반적으로 각 나라의 경제 규모를 비교할 때는 실질 국내 총생산을 이용하며, 경제 성장률만으로 각 나라의 경제 규모를 비교할 수는 없다.
- ② 2016년에는 A 국의 경제 규모가 줄어들었다. (×)
- 2016년 A 국의 실질 국내 총생산은 전년도보다 4% 증가했으므로 경제 규모는 커졌다.
- ③ 2015년부터 B 국의 실질 국내 총생산은 꾸준히 증가하였다. (○)
- ④ 2016년과 2017년 사이 B 국에서는 경제 성장이 이루어지지 않았다. (×)
- 2017년 B 국은 2016년보다 실질 국내 총생산이 5% 증가했으므로 경제 성장이 이루어졌다.
- ⑤ 2017년 B 국의 명목 국내 총생산은 2016년보다 5% 더 증가하였다. (×)
- 경제 성장률은 실질 국내 총생산의 증감을 나타내는 수치이므로 경제 성장률만으로 명목 국내 총생산의 증감을 계산할 수는 없다.

09 경제 성장이 이루어지면 일자리가 늘어나고 국민들의 소득이 증가하며, 국민들이 더 나은 교육과 의료 혜택을 받을 수 있다.

선택지 바로 보기

- ㄱ. 일자리가 늘어나 실업이 줄어든다. (○)
- ㄴ. 깨끗한 자연환경을 그대로 보존할 수 있다. (×)
- 생산 과정에서 환경 오염이 발생하기도 한다.
- ㄷ. 국민들이 더 나은 교육과 의료 혜택을 받을 수 있다. (○)
- ㄹ. 공정한 소득 분배가 이루어져 모두가 평등한 삶을 누릴 수 있다. (×)
- 경제 성장이 이루어진다고 해서 소득 분배가 공정하게 이루어지지는 않으며, 경제는 성장하였지만 빈부 격차는 심해지는 경우도 많다.

10 경제 성장을 위해서는 기업과 근로자들이 잘 협력하여 생산성을 높여야 한다. 기업에서 근로자의 임금을 최대한 낮추려고 한다면 노사 갈등이 발생하여 오히려 생산성이 낮아질 수 있다.

11 물가는 재화와 서비스의 전반적인 가격 수준으로, 정부는 매년 소비자 물가 지수, 생산자 물가 지수 등을 측정하여 발표하고 있다.

선택지 바로 보기

- ① 정부의 정책과는 관련이 없다. (×)
- 물가에 따라 정부는 재정 정책을 수립한다.
- ② 소비자가 체감하는 물건의 가격을 말한다. (×)
- 소비자가 느끼는 물건의 가격은 '체감 물가'라고 한다.
- ③ 물가의 변동을 수치로 표현하기는 어렵다. (×)
- 수치로 표현된 물가 지수가 매년 발표되고 있다.
- ④ 재화와 서비스의 전반적인 가격 수준을 말한다. (○)
- ⑤ 총수요가 감소하거나 총공급이 증가할 때 오른다. (×)
- 총수요가 증가하거나 총공급이 감소할 때 오른다.

12 주어진 그래프에서 소비자 물가 지수는 지속적으로 상승하고 있다. 2009년에 비해 2010년에 물가가 상승하였으므로

화폐의 가치는 하락하였다.

- 13 베네수엘라 중앙은행이 화폐 발행을 남발한 결과, 베네수엘라는 극심한 인플레이션 상황에 처하게 되었다. 이러한 상황에서 화폐 가치는 매우 하락하여 휴지 조각만도 못하게 된다.
- 14 인플레이션의 원인은 크게 수요와 공급 측면에서 살펴볼 수 있는데, 총수요가 증가하거나 총공급이 감소하면 물가가 상승한다. 정부가 세금을 많이 거두어들이면 총수요가 감소하여 물가가 하락하게 된다.
- 15 인플레이션이 발생하면 화폐 가치가 떨어지기 때문에 화폐를 소유한 사람은 불리해진다. 그러나 부동산과 같은 실물 자산을 소유하고 있는 사람은 자산의 가격이 오르기 때문에 유리해진다.
- 16 인플레이션이 발생하면 화폐 가치가 하락하고, 경제 성장이 어려워진다. ④ 기술 혁신은 인플레이션과 직접적인 관련이 없으며, 생산 비용이 감소하면 오히려 물가가 하락한다.
- 17 인플레이션을 줄이기 위하여 정부는 재정 지출을 줄이거나 조세를 늘리는 등의 조치를 취할 수 있다. 기업과 근로자는 기술 혁신이나 생산 원가 절감 노력 등을 통해 생산 비용을 낮추고, 소비자는 과소비를 자제하여 물가 안정에 도움을 줄 수 있다.
- 18 경제 활동 인구는 15세 이상 인구 중 일할 능력과 의사가 있는 사람이며, 실업률은 경제 활동 인구 중 실업자가 차지하는 비중을 측정한 것이다.
- 19 실업자는 일할 능력과 의사가 있는데도 일자리를 갖지 못한 사람으로 일할 능력이 없거나(형준) 일할 의사가 없는(도윤, 성민, 채은) 경우는 실업자에 포함되지 않는다.
- 20 실업은 개인에게 생계유지의 어려움, 자신감 하락, 자아실현의 기회 박탈 등의 부정적 영향을 준다. ① 경기 침체, ② 인적 자원 낭비, ④ 생계형 범죄 증가는 실업의 사회적 영향에 해당한다.
- 21 실업이 증가하면 가계의 소득이 감소하여 소비가 줄어들고, 이는 기업의 생산 위축으로 이어진다.
- 22 노커 업은 산업 구조가 변화하여 사라진 직업이며, 이는 구조적 실업에 해당한다.
- 23 자신의 적성에 맞지 않아 직장을 그만두고 새로운 일자리를 구하는 마찰적 실업의 경우, 고용 지원 센터 등을 이용해 취업 정보를 제공하여 해결할 수 있다.
- 24 경기 침체를 해소하기 위해서는 시장의 통화량을 늘려 시장

에 활력을 줄 필요가 있다. 세율을 인하하면 가계와 기업의 부담이 적어져 경제 활동이 활발해지고, 시장의 통화량이 늘어난다. 또 금리를 인하하면 자본이 은행으로 몰리지 않고, 기업의 대출이 원활해져 경제를 활성화할 수 있다.

선택지 바로 보기

- ① (가): A 국 정부는 세율과 금리를 인하여 통화량을 늘려야 한다. (○)
- ② (가): A 국 국민들은 소비를 줄이고 은행 예금 액수를 늘려야 한다. (×)
 ❖ 경기 침체를 극복하기 위해서는 예금보다는 소비를 활성화해야 한다.
- ③ (나): B 국 정부는 복지 정책 강화를 위하여 재정 지출을 늘려야 한다. (×)
 ❖ B 국 정부는 인플레이션에 대처하기 위하여 통화량을 줄이는 정책을 시행해야 하므로 재정 지출을 줄여야 한다.
- ④ (나): B 국 기업들은 사업 규모를 줄이기 위하여 근로자 해고를 통한 구조 조정을 해야 한다. (×)
 ❖ 기업은 인플레이션에 대처하기 위하여 효율적인 경영과 기술 혁신 등을 통하여 생산 원가를 절감해야 한다. 근로자 해고는 올바른 대처법이 아니다.
- ⑤ (가), (나): A 국과 B 국 모두 정부가 개입하기보다는 시장에서 문제를 해결하는 것이 바람직하다. (×)
 ❖ 경기 침체나 인플레이션 등의 경제 문제를 해결하기 위해서는 정부와 기업, 근로자, 가계 등 모든 경제 주체의 노력이 필요하다.

- 25 (가)에서 가정주부가 하는 집안일은 시장에서 거래되는 재화와 서비스가 아니기 때문이다. (나)에서 중고차는 올해 생산된 것이 아니기 때문이다.

핵심 단어 | 가정주부, 집안일, 시장 거래, 중고차, 올해 생산

채점 기준	구분
(가)와 (나)가 국내 총생산에 포함되지 않는 이유를 모두 맞게 서술한 경우	상
(가)와 (나)가 국내 총생산에 포함되지 않는 이유를 하나만 맞게 서술한 경우	하

- 26 (1) 인플레이션
 (2) 국가 경제 전체의 공급보다 수요가 많을 경우, 통화량이 증가할 경우, 원자재 가격이 상승하여 기업의 공급이 감소했을 경우 인플레이션이 나타날 수 있다.

핵심 단어 | 공급보다 수요가 많을 경우(초과 수요), 통화량 증가, 원자재 가격 상승, 기업의 공급 감소

채점 기준	구분
인플레이션의 원인을 두 가지 이상 서술한 경우	상
인플레이션의 원인을 한 가지만 서술한 경우	하

- 27 실업 문제가 지속되면 가계의 소비 감소가 기업의 생산 위축으로 이어져 경기가 침체되며, 인적 자원이 낭비되고, 생계형 범죄가 증가하는 등의 문제가 나타난다.

핵심 단어 | 가계의 소비 감소, 기업의 생산 위축, 경기 침체, 인적 자원 낭비, 생계형 범죄 증가

채점 기준	구분
실업의 사회적 영향에 대해 맞게 서술한 경우	상
실업의 개인적 영향에 대해 서술하거나 사회적 영향에 대해 서술하지 못한 경우	하

03 국제 거래와 환율

실전 대비 체크					p. 39~42
01 ④	02 ①	03 ③	04 ④	05 ④	
06 ③	07 ⑤	08 ⑤	09 ④	10 ①	
11 ③	12 ②	13 ⑤	14 ②	15 ①	
16 ⑤	17 ④	18 ③	19 해설 참조	20 해설 참조	
21 해설 참조					

01 국제 거래는 생산물이나 생산 요소가 국경을 넘어 거래되는 것을 의미하며, 세계화로 점점 더 증가하는 추세이다.

선택지 바로 보기

- ㄱ. 국내 거래에 비해서 제약이 없는 편이다. (×)
- Ⓛ. 관세와 통관 절차, 상대국과의 문화 및 제도의 차이 등 국내 거래에 비해 제약이 많은 편이다.
- ㄴ. 국가 간에 재화와 서비스를 사고파는 거래를 의미한다. (○)
- ㄷ. 국제 거래에 수출은 포함되지만 수입은 포함되지 않는다. (×)
- Ⓜ. 수출과 수입 모두 국제 거래에 포함된다.
- ㄹ. 세계화로 국제 거래의 규모가 증가하고, 거래 품목도 다양해지고 있다. (○)

- 02 수요와 공급 원리를 따르는 것은 국내 거래도 마찬가지이다.
- 03 나라마다 기후, 지형 등과 같은 자연환경이 서로 다르며, 보유했던 천연자원이나 노동, 자본, 기술 수준 등에도 차이가 있다. 따라서 각 나라는 생산에 유리한 조건을 갖춘 품목을 특화하여 수출하고, 생산에 불리한 품목은 수입함으로써 경제적 이익을 추구한다.
- 04 A 국이 가방과 신발 모두에 절대 우위를 가지고 있으며, A 국은 가방 생산에, B 국은 신발 생산에 비교 우위가 있다. A 국은 가방 1개의 생산비가 B 국의 1/2(0.5)배, 신발 1개의 생산비가 B 국의 2/3(0.66)배 들어 가방의 생산비가 상대적으로 저렴하다. B 국은 가방 1개의 생산비가 A 국의 2/1(2)배, 신발 1개의 생산비가 A 국의 3/2(1.5)배 들어 신발의 생산비가 상대적으로 저렴하다.
- 05 우리나라는 무역 의존도가 높은 편이다. 이는 우리나라가 외국의 경제 상황에 많은 영향을 받을 수 있음을 의미한다.
- 06 세계화로 국제 거래가 활발해지면서 우리는 다양한 국가에서 생산된 재화를 사용할 수 있게 되었다.
- 07 세계 무역 기구(WTO)는 국가 간 자유로운 무역과 세계 교역 증진을 목적으로 설립된 국제기구이다.
- 08 세계화 시대에 지역 경제 협력체의 등장은 회원국 간의 자유 무역을 촉진시킨다. 이제 다른 국가들과의 경제 협력은 필수적이며, 생산물뿐만 아니라 생산 요소 간 이동도 활발하다.

선택지 바로 보기

- ㄱ. 정치의 단위가 개별 국가에서 국가들의 연합으로 옮겨가고 있다. (×)
- Ⓛ. 경제 협력체는 정치와는 별개로 구성되며, 국제 정치는 여전히 국가 단위로 이루어지고 있다.
- ㄴ. 지리적으로 멀리 떨어져 있는 국가들이 경제 협력을 강화하고 있다. (×)
- Ⓜ. 지리적으로 가까운 국가들끼리 경제 협력체를 구성하고 있다.
- ㄷ. 국가의 생존을 위해서는 다른 국가들과 협력해야 하는 시대가 되었다. (○)
- ㄹ. 세계화로 자유 무역이 확대되고 국가 간 상호 협력 및 의존 관계가 심화되었다. (○)

- 09 자유 무역 협정에 반대하는 이유는 그로 인해 피해를 입는 국내 기업이 생기기 때문이다. 한·미 자유 무역 협정을 예로 들면 미국이 비교 우위에 있는 농업이나 축산업 종사자가 피해를 볼 것이다.
- 10 환율은 국가 간 화폐의 교환 비율로, 외화의 수요와 공급에 의해 결정된다.

선택지 바로 보기

- ㄱ. 외화의 수요와 공급에 의해 결정된다. (○)
- ㄴ. 국가 간 화폐의 교환 비율을 의미한다. (○)
- ㄷ. 환율의 상승은 원화 가치의 상승을 의미한다. (×)
- Ⓛ. 환율의 상승은 원화 가치의 하락을 의미한다.
- ㄹ. 국내 거래를 위해 반드시 고려해야 할 사항이다. (×)
- Ⓜ. 국제 거래를 위해 반드시 고려해야 할 사항이다.

- 11 영화 DVD 구입에 드는 비용을 계산하면 8(달러)×1,100(원/달러)=8,800(원)이다.
- 12 외화의 수요가 증가하는 경우는 수입, 해외여행, 유학, 해외 투자, 외채 상환 등이다. 외화의 공급이 증가하는 경우는 수출, 외국인의 국내 여행, 외국인의 국내 유학, 외국인의 국내 투자, 차관 도입 등이다.
- 13 외국 상품의 수입, 해외 투자와 유학, 자국민의 해외여행 등으로 외화의 수요가 증가한다. 차관을 도입하면 외화의 공급이 증가한다.
- 14 환율은 외화의 수요와 공급에 따라 결정되는데, 수요가 증가하거나 공급이 감소할 경우 환율이 오른다. 해외 투자가 증가하면 외화의 수요가 증가하여 환율이 오른다.

선택지 바로 보기

- ① 수입량이 크게 줄어드는 상황 (×)
- Ⓛ. 외화의 수요가 감소하여 환율이 하락한다.
- ② 해외 투자가 크게 증가하는 상황 (○)
- ③ 우리나라 정부가 외채를 빌려오는 상황 (×)
- Ⓜ. 외화의 공급이 증가하여 환율이 하락한다.
- ④ 외국인의 국내 투자가 크게 증가하는 상황 (×)
- Ⓜ. 외화의 공급이 증가하여 환율이 하락한다.
- ⑤ 한국인의 해외여행 및 유학이 크게 줄어드는 상황 (×)
- Ⓛ. 외화의 수요가 감소하여 환율이 하락한다.

- 15 정부가 외채를 빌려 오거나 수출량이 증가하면 외화의 공급이 증가해 환율이 하락한다. 반면 외채 상환이나 해외 투자로 외화의 수요가 증가하면 환율이 상승한다.
- 16 환율이 상승하면 외화가 비싸진 것이므로 수입 제품의 가격이 상승하여 수입이 감소한다.
- 17 환율이 하락하면 원화 가치가 상승하여 국내 여행을 하려는 외국인의 여행 비용이 증가한다. 나머지는 환율이 하락한 경우 이득을 본다.
- 18 미리가 미국 여행에서 쓸 수 있는 달러는 $\frac{3,000,000(\text{원})}{1,200(\text{원/달러})} = 2,500(\text{달러})$ 이다. 환율이 1,100원/달러였다면 $\frac{3,000,000(\text{원})}{1,100(\text{원/달러})} \approx 2,700(\text{달러})$ 정도를 사용할 수 있었을 것이다.

선택지 바로 보기

- ㄱ. 환율 상승은 미리에게 좋은 소식이다. (X)
- ✔ 환율 상승은 미리에게 나쁜 소식이다.
- ㄴ. 환율 상승으로 원화 가치가 하락하였다. (O)
- ㄷ. 미리가 사용할 수 있는 미국 여행 경비는 2,500달러이다. (O)
- ㄹ. 환율이 1,100원이었다면 미리는 미국 여행에서 2,300달러 정도를 사용할 수 있었을 것이다. (X)
- ✔ 환율이 1,100원이었다면 미국 여행에서 미리가 쓸 수 있었던 돈은 약 2,700달러이다.

- 19 국가마다 법과 제도, 문화 등이 다르기 때문에 국제 거래를 위해서는 이를 고려해야 한다.
- | 핵심 단어 |** 법, 제도, 문화, 차이(다름)

채점 기준	구분
국제 거래에서 고려해야 하는 각국의 법, 제도, 문화 등에 대해 언급한 경우	상
국제 거래에서 고려해야 하는 각국의 법, 제도, 문화 등에 대해 언급하지 못한 경우	하

- 20 (1) 비교 우위
(2) 각국에서 비교 우위가 있는 상품을 특화 생산하여 교역하면 양국 모두 이익을 얻을 수 있기 때문이다.
- | 핵심 단어 |** 비교 우위, 특화 생산, 교역, 이익

채점 기준	구분
비교 우위에 대하여 서술한 경우	상
비교 우위에 대하여 서술하지 못한 경우	하

- 21 원화 가치의 상승으로 유학 비용이 감소한다.
- | 핵심 단어 |** 원화 가치 상승, 유학 비용 감소

채점 기준	구분
환율이 유학 비용에 미치는 영향을 서술한 경우	상
환율이 유학 비용에 미치는 영향을 서술하지 못한 경우	하

VI | 국제 사회와 국제 정치

01 국제 사회의 특성과 행위 주체

실전 대비 체크

p. 43~44

- 01 ③ 02 ⑤ 03 ③ 04 ④ 05 ⑤
06 ④ 07 ③ 08 해설 참조

- 01 국제 사회에는 개별 국가를 강제할 권위와 힘을 가진 중앙 정부가 없다.
- 02 제시문은 국제 사회를 ‘약육강식의 정글’로 보고 있다. 이 관점에서는 국제 사회를 강한 자가 살아남는 정글과 같이 힘의 논리가 작용하는 공간으로 바라본다. 개별 국가는 자국의 안전을 지키고 더 큰 힘을 갖기 위해 군사 비용을 늘리거나 다른 국가와 동맹을 맺어 경쟁국을 견제하고 위협하기도 한다. ③, ④는 국제 사회를 ‘가꿀 수 있는 정원’으로 보는 관점에서 주장할 내용이다.
- 03 중국은 상설 중재 재판소의 판결을 따르지 않고, 자국의 이익을 최우선시하여 남중국해에서의 군사 활동을 강화하였다. 이를 통해 국제 사회에는 강제성을 지닌 중앙 정부가 존재하지 않는다는 점을 알 수 있다.

선택지 바로 보기

- ① 국가 간 협력을 통해 평화가 실현된다. (X)
- ✔ 기사에 국가 간 협력은 드러나지 않았다.
- ② 모든 국가의 주권은 실질적으로 평등하다. (X)
- ✔ 각 국가는 원칙적으로 평등한 주권을 지녔지만, 실제로는 힘의 논리가 작용한다. 그리고 이 점은 기사에 드러나 있지 않다.
- ③ 강제성을 지닌 중앙 정부가 존재하지 않는다. (O)
- ④ 자국의 이익보다는 평화, 안전 등의 이념을 우선시한다. (X)
- ✔ 중국은 자국의 이익을 더 우선시하였다.
- ⑤ 국가 간의 합의에 근거한 국제법 등의 규범을 준수한다. (X)
- ✔ 기사에 드러나 있지 않다.

- 04 설명은 정부 간 국제기구에 해당한다. ④ 국제 사면 위원회는 인권 관련 시민 단체로, 국제 비정부 기구에 속한다.
- 05 국제 연합(UN)은 제2차 세계 대전 이후(L) 전쟁을 방지하고 국제 평화를 유지하기 위해 만들어진 정부 간 국제기구(ㄱ)이다. 다양한 분야에서 국제적 협력을 증진하기 위해 국제 연합 아동 기금(UNICEF), 국제 연합 교육 과학 문화 기구(UNESCO)와 같은 전문 기구를 두고 있다.
- 06 다국적 기업이 국경을 넘나들며 경영 활동을 하는 과정에서 국가 간 교류가 늘어나고, 상호 의존성도 높아지고 있다.
- ④ 세계화로 인해 다국적 기업의 규모는 점점 커지고 있으며, 일부 다국적 기업의 규모는 개별 국가의 경제 규모를 넘어선다.



07 신문 기사에 나타난 행위 주체는 국가(시리아, 일부 이웃 국가 등), 국제 비정부 기구(국제 사면 위원회), 영향력 있는 개인(독일 총리), 정부 간 국제기구(유럽 연합)이다.

08 (1) '약육강식의 정글'로 보는 관점
(2) 국제 사회에는 실질적으로 힘의 논리가 작용한다.

| 핵심 단어 | 힘의 논리

채점 기준	구분
제시문에 드러난 국제 사회의 특성을 바르게 서술한 경우	상
제시문에 드러나 있지 않은 국제 사회의 특성을 서술한 경우	하

02 국제 사회의 다양한 모습 ~ 03 우리나라의 국제 관계

실전 대비 체크

p. 45~47

- 01 ③ 02 ④ 03 ④ 04 ⑤ 05 ⑤
 06 ③ 07 ⑤ 08 ④ 09 ④ 10 ①
 11 ④ 12 ③ 13 해설 참조 14 해설 참조 15 해설 참조

01 온실가스 감축을 위한 회의 결과 선진국과 개발 도상국의 입장이 달라 성과를 내지 못한 사례를 통해 각국의 이해관계를 조정하여 문제를 해결하는 것이 쉽지 않음을 알 수 있다.

선택지 바로 보기

- ① 국제 사회를 구성하는 기본 단위는 개인이다. (×)
 ● 국제 사회를 구성하는 기본 단위는 국가이다.
- ② 국제 사회에는 강력한 중앙 정부가 존재한다. (×)
 ● 국제 사회에는 강력한 중앙 정부가 존재하지 않는다.
- ③ 각국의 이해관계를 조정하여 문제를 해결하기는 쉽지 않다. (○)
- ④ 국제 사회에서는 경쟁과 갈등만 존재할 뿐 협력할 수 없다. (×)
 ● 국제 사회에서는 경쟁과 갈등이 나타나지만, 국가끼리 협력하여 공동의 문제를 해결하기도 한다.
- ⑤ 공동의 문제에 대처하기 위한 국가 간 협력 사례는 점점 줄어들고 있다. (×)
 ● 세계화로 국가 간 상호 의존성이 높아지면서 공동의 문제에 대처하기 위한 협력 사례가 증가하고 있다.

- 02 카슈미르는 이슬람교와 힌두교 사이의 종교 갈등 지역이다.
 03 국제 사회의 갈등을 군사력에 따라 힘의 논리로 해결하려고 하면 갈등이 더욱 커져 비극으로 이어질 수 있다.
 04 지역 경제 협력체를 구성하는 것은 가까운 국가끼리 협력하여 공동의 경제 발전을 이루기 위함이다. ①~④는 국제 사회의 경쟁 또는 갈등 모습이다.
 05 (가)는 국제 사회의 갈등 모습을 보여 주고, (나)는 국제 사회의 협력 모습을 보여 주므로, (가)와 (나)가 공통적으로 경쟁 관계를 보여 준다는 설명은 적절하지 않다.
 06 전통적으로는 외교관이 국가를 대표해 입장을 전달하는 외교가 중심이었으나, 최근에는 민간 차원의 국제적 교류를 통

한 외교가 증가하고 있다.

- 07 민간 차원의 외교는 정부 관계자가 아닌 일반 시민이 예술, 문화, 체육 분야에서 교류하는 것을 말한다. ①~④의 주체는 국가로, 국가 간 외교 활동에 해당된다.
 08 제시문은 국제 사회의 분쟁 해결 과정에 정부 간 국제기구인 국제 연합이 적극 개입하는 사례를 보여 주고 있다.
 09 제2차 세계 대전 이후 공포한 「연합군 최고 사령관 각서」에는 일본의 영역에서 독도가 제외된다고 규정하였다.
 10 일본은 침략 전쟁을 일으켰을 당시 우리나라 여성들을 일본군 '위안부'로 강제 동원하였다. 이는 우리나라뿐만 아니라 국제 사회의 비난을 받는 일로, 우리 국민은 일본의 진심어린 사죄를 바라고 있다.
 11 일본은 독도가 지닌 군사적·경제적 가치 때문에 독도를 국가 간 분쟁 지역으로 만들어 자국에 유리한 상황을 만들려고 한다.

- 12 국제 사회의 갈등 발생 시 대화 및 협상을 통해 해결하는 것이 이상적이며, 경제적 보복 조치나 무역 단절은 우리나라에도 피해가 올 수 있으므로 현명한 대응 방법이라고 볼 수 없다.
 13 국제 사회에서는 국가 간 경제적 이익뿐만 아니라 영토, 자원, 민족, 종교 등 다양한 원인에서 비롯된 갈등이 나타나고 있다.

| 핵심 단어 | 경제적 이익, 영토, 자원, 민족, 종교

채점 기준	구분
국제 사회의 갈등 발생 원인을 세 가지 이상 서술한 경우	상
국제 사회의 갈등 발생 원인을 두 가지만 서술한 경우	중
국제 사회의 갈등 발생 원인을 한 가지만 서술한 경우	하

14 한반도 통일 이후 발생할 수 있는 영토 분쟁을 방지하고, 중국 내 소수 민족의 독립을 막기 위해서이다.

| 핵심 단어 | 영토 분쟁 방지, 소수 민족 독립

채점 기준	구분
목적을 두 가지 모두 서술한 경우	상
목적을 한 가지만 서술한 경우	하

15 적극적인 외교 활동을 통해 일본의 독도 영유권 주장 철회를 촉구한다. 시민 사회는 지리적·역사적 관점에서 독도의 중요성을 인식하고, 우리나라가 독도에 대한 영토 주권을 행사하고 있음을 국제 사회에 널리 홍보한다.

| 핵심 단어 | 외교 활동, 독도의 중요성 인식, 홍보

채점 기준	구분
대처 방안을 두 가지 모두 바르게 서술한 경우	상
대처 방안을 한 가지만 서술한 경우	하