

딱딱기벨이집

— 통합사화 1

# 통합적 관점

17~21쪽

## 01~02 인간, 사회, 환경을 바라보는 다양한 관점 ~ 인간, 사회, 환경 탐구에서의 통합적 관점

### 빠른 정답

### 기출 선택지로 개념 확인

- 01 시간적 02 윤리적 03 공간적 04 사회적 05 윤리적  
 06 시간적 07 공간적 08 사회적 09 시간적 10 사회적  
 11 공간적 12 윤리적 13 사회적  
 14 시간적, 공간적, 사회적, 윤리적 15 통합적

### 빠른 정답

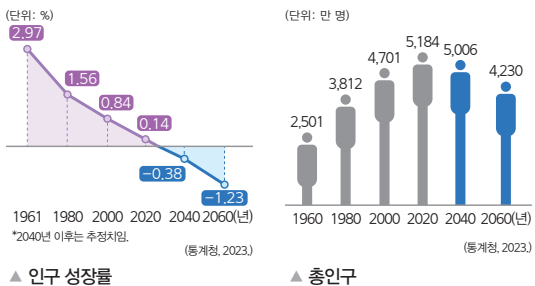
### 실력 UP! 단골 내신 문제

- 01 ① 02 ⑤ 03 ② 04 ② 05 ① 06 ③  
 07 ② 08 ④ 09 ② 10 ③ 11 ③ 12 ④  
 13 ⑤ 14 ② 15 ② 16 ② 17 ②  
 18 (1) (가) 시간적 관점, (나) 공간적 관점, (다) 사회적 관점, (라) 윤리적 관점  
 (2) 해설 참조 19 (1) 통합적 (2) 해설 참조

### 01 시간적 관점

**정답** ① 시대별로 인구 성장률과 총인구의 변화 추이를 살펴봄으로써 현재의 저출생 현상을 이해하고 미래의 변화를 예측할 수 있으므로 시간적 관점에 해당한다. 시간적 관점은 역사적 배경과 시대적 맥락을 고려하여 인간, 사회, 환경을 바라보는 관점이다.

#### 자료 분석



→ 시대별로 인구 성장률과 총인구 변화 추이를 살펴보면 우리나라의 인구 성장률은 지속적으로 감소하여 우리나라 총인구가 줄어들 것을 예측할 수 있다. 따라서 이러한 저출생 현상을 해결하기 위한 대책 마련이 필요하다.

### 02 윤리적 관점

**정답** ⑤ 제시된 질문에서는 윤리적 관점을 바탕으로 우리 사회가 지향해야 할 도덕적 가치가 무엇인지, 도덕규범을 바탕으로 바람직한 행위 기준이 무엇인지 살펴보고 있다. 윤리적 관점은 도덕적 가치와 도덕규범을 바탕으로 사회현상을 해석하고 문제점을 찾아 바람직한 삶의 모습을 살펴보는 관점이다.

**오답** ① 공간적 관점에 대한 설명이다. ② 시간적 관점에 대한 설명이다. ③ 사회적 관점에 대한 설명이다. ④ 시간적 관점에 대한 설명이다.

### 03 인간, 사회, 환경을 바라보는 다양한 관점

**정답** ② (가)는 공간적 관점, (나)는 시간적 관점, (다)는 윤리적 관점, (라)는 사회적 관점에 해당한다.

#### 자료 분석

(가) 관점 → 공간적 관점	(나) 관점 → 시간적 관점
일부 국가가 온실가스를 대량으로 배출했을 때 기후위기로 직접적인 피해를 입는 지역은 어디인지 찾아보았다.	산업 혁명 이후 지표면의 평균 온도가 얼마나 변화했는지 살펴보고 미래의 추세를 예측해 보았다.
(다) 관점 → 윤리적 관점	(라) 관점 → 사회적 관점
이상 기후로 고통받는 생물의 보호를 위해 인류가 나아가야 할 올바른 방향을 성찰해 보았다.	온실가스 감축을 위해 어떠한 제도적 노력을 했는지 찾아보고 앞으로 필요한 정책이 무엇인지 살펴보았다.

→ 기후위기의 지역별 양상을 찾아보고 있으므로 (가)는 공간적 관점이고, 기후위기의 발생 배경과 변화 과정을 살펴보고 미래 양상을 예측하고 있으므로 (나)는 시간적 관점이다. 기후위기에 대처하기 위해 어떠한 도덕적 가치나 도덕규범이 필요한지 성찰하고 있으므로 (다)는 윤리적 관점이고, 기후위기 해결을 위해 어떠한 제도적 노력이 필요한지 살펴보고 있으므로 (라)는 사회적 관점이다.

### 04 사회적 관점

**정답** ② 제시된 저출생 문제 해결책의 공통점은 모두 제도적인 지원이라는 점이다. 사회 구조와 사회 제도 차원에서 사회현상을 바라보고 이에 따른 해결책을 제시하는 것은 사회적 관점이다.

**오답** ㄴ. 공간적 관점이다. ㄷ. 윤리적 관점이다.

### 05 시간적 관점

**정답** ① ㉠은 시간적 관점이다. 시간적 관점은 역사적 배경과 시대적 맥락을 고려하여 인간, 사회, 환경을 바라보는 관점이다.

#### 선택지 분석

- ② 특정 사회문제에 여러 관점을 **종합적으로** 적용시키려는 관점이다. → **통합적 관점**
- ③ 규범을 바탕으로 **바람직한 행위 기준**이 무엇인지 성찰하는 관점이다. → **윤리적 관점**
- ④ 사회현상과 관련된 **사회 구조와 사회 제도**의 특성을 살펴보는 관점이다. → **사회적 관점**
- ⑤ **공간적 맥락**에서 인간, 사회, 환경 간의 상호 관계를 분석하려는 관점이다. → **공간적 관점**

### 06 공간적 관점

**정답** ③ 제시문에서는 공간적 관점에서 학령 인구 감소가 학교에 미치는 영향을 살펴보고 있다. ㄷ. 학생의 통학권이 어디까지인지 조사하거나 ㄷ. 학령 인구 감소로 폐교한 학교가 어느 지역에 분포하는지를 조사하는 것은 공간적 관점에서의 조사 방법에 해당한다.

**선택지 분석**

- ㄱ. 초중고 학생 수의 예상 추이 조사  
→ 시대적 맥락을 고려하여 사회현상을 바라보는 시간적 관점에 해당한다.
- ㄴ. 과밀 학급 문제를 해결하기 위한 정책 조사  
→ 사회현상의 원인을 이해하고 사회문제 해결을 위한 제도 개선 방안을 제안하는 사회적 관점에 해당한다.

**07 윤리적 관점**

**정답** ② 제시된 관점은 윤리적 관점이다. 을의 탐구 내용은 윤리적 관점을 토대로 노인 부양을 누가 책임져야 하는지에 관한 사람들의 가치관을 고려한 것이다.

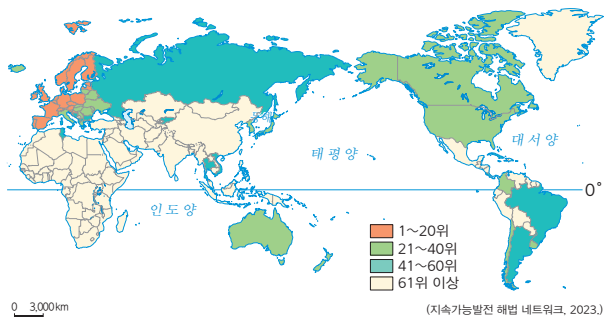
**선택지 분석**

- ① 갑: 고령화로 노년 부양비가 증가하면서 사회 복지 부담도 함께 늘어나고 있어.  
→ 사회적 관점에서 고령화로 사회 복지 부담이 증가하는 문제가 나타남을 살펴 보았다.
- ③ 병: 산업화 과정에서 산야 제한 정책이 추진되고, 평균 수명이 증가하면서 고령화가 진행되었어.  
→ 고령화 현상이 나타나게 된 배경을 산업화 과정이라는 시간적 관점에서 살펴 보았다.
- ④ 정: 젊은 층이 일자리를 찾아 도시로 나가면서 농촌의 고령 인구 비율이 도시보다 높게 나타났어.  
→ 공간적 관점에서 고령화의 정도가 도시와 농촌이라는 공간에 따라 차이가 나타남을 지적했다.
- ⑤ 무: 고령화가 진행되면서 정부는 노인들의 경제 활동을 지원하기 위해 다양한 제도를 마련하고 있어.  
→ 고령화에 따른 문제를 해결하기 위해 정부가 다양한 사회 제도를 마련하고 있음을 설명하고 있으므로 사회적 관점에 해당한다.

**08 공간적 관점**

**정답** ④ 제시된 자료는 공간적 관점에서 국가별로 지속가능발전 목표의 진행 상황을 살펴보고 있다. 사회현상을 이해할 때 시대적 상황이나 맥락에서 살펴보는 것은 시간적 관점에 해당한다.

**자료 분석**



▲ 세계 지속가능발전 목표 추진 현황

→ 국제 연합(UN)과 지속가능발전 해법 네트워크가 발표한 《지속가능발전 목표 보고서 2023》에 따르면 우리나라의 지속가능발전 목표 지수 순위는 166개 국 중 31위였다. 권역과 소득 수준에 따라 지속가능발전 목표의 진행 정도에 상당한 차이가 있으며, 전반적으로 유럽 국가들이 상위권을 차지하였다.

**자료 키워드 공간적 관점과 시간적 관점**

<b>공간적 관점</b>	<ul style="list-style-type: none"> <li>• 의미: 장소와 지역, 공간적 상호 작용을 고려하여 인간, 사회, 환경을 바라보는 관점</li> <li>• 필요성             <ul style="list-style-type: none"> <li>- 공간에 따라 다양한 인간 삶의 양상을 이해하고 각 지역에 적합한 문제의 해결 방안을 찾는 데 도움을 줌.</li> <li>- 공간적 상호 작용에 대한 이해를 바탕으로 지역 간 협력과 연대를 이끌어 내는 데 중요한 역할을 함.</li> </ul> </li> </ul>
<b>시간적 관점</b>	<ul style="list-style-type: none"> <li>• 의미: 역사적 배경과 시대적 맥락을 고려하여 인간, 사회, 환경을 바라보는 관점</li> <li>• 필요성             <ul style="list-style-type: none"> <li>- 과거의 사건을 통해 현재의 사회현상을 보다 정확하게 파악할 수 있음.</li> <li>- 당면한 문제와 비슷한 과거 사례를 통해 현재 문제의 해결 방안을 찾고 미래 모습을 예측하는 데 도움을 줌.</li> </ul> </li> </ul>

**09 인간, 사회, 환경을 바라보는 다양한 관점**

**정답** ② A는 공간적 관점, B는 사회적 관점, C는 윤리적 관점, D는 시간적 관점이다. ㄱ. 공간적 관점에서는 위치와 장소, 형성 과정과 분포 양상, 이동과 네트워크 등의 공간적 맥락을 고려하여 인간, 사회, 환경 간의 상호 관계를 분석하고 이해하고자 한다. ㄴ. 시간적 관점에서는 시간의 흐름에 따라 자료를 다각도로 수집하여 과거와 현재의 관계를 파악하고 미래의 방향을 예측하고자 한다.

**선택지 분석**

- ㄴ. B는 사회문제를 해결하기 위해 과거에 있었던 비슷한 사례를 살펴보고자 한다.  
→ 현재의 우리가 직면한 문제를 해결하는 데 참고할 만한 과거 사례를 살펴보는 것은 시간적 관점에 해당한다.
- ㄷ. C는 개인의 행동과 의식에 사회 제도가 미치는 영향을 파악하고자 한다.  
→ 개인의 행동과 의식이 사회 구조와 사회 제도의 영향을 받는 양상을 파악하고자 하는 것은 사회적 관점에 해당한다.

**10 인간, 사회, 환경을 바라보는 다양한 관점**

**정답** ③ 코로나바이러스 감염증-19에 감염되게 하는 세포 구조를 분석하는 것은 과학적인 탐구 주제에 해당한다.

**선택지 분석**

- ① A: 코로나바이러스 감염증-19의 감염률이 높은 지역의 특성을 살펴본다.  
→ 감염병의 감염률이 높은 지역의 특성을 살펴보는 것은 공간적 관점의 주제로 적절하다.
- ② A: 국가별로 코로나바이러스 감염증-19의 치료 관련 시설이 어떻게 분포하고 있는지 살펴본다.  
→ 감염병 관련 치료 시설의 위치 분포를 살펴보는 것은 공간적 관점의 주제로 적절하다.
- ④ C: 코로나바이러스 감염증-19 때문에 발생한 사회 갈등을 해결하려는 바람직한 태도를 살펴본다.  
→ 감염병 때문에 발생한 가치 갈등을 해결하기 위한 도덕적 태도를 살펴보는 것은 윤리적 관점의 주제로 적절하다.
- ⑤ D: 코로나바이러스 감염증-19와 같은 감염병의 역사를 살펴본다.  
→ 감염병의 역사적 맥락을 살펴보는 것은 시간적 관점의 주제로 적절하다.

## 11 사회적 관점

**정답** ③ (가)는 공간적 관점, (나)는 시간적 관점, (다)는 사회적 관점, (라)는 윤리적 관점의 탐구 주제이다. (다) 사회적 관점은 사회 구조와 법, 제도 등이 사회현상에 미치는 영향을 파악하고자 하므로 사회 제도를 간과한다고 볼 수 없다.

### 선택지 분석

- ① (가)는 공간적 관점의 탐구 주제이다.  
→ 각 지역별 다문화 가구의 분포 특징을 탐구 주제로 하기 때문에 공간적 관점이다.
- ② (나)는 시대적 맥락을 토대로 정책을 살펴본다.  
→ 다문화 정책의 역사적 변화와 그 배경을 탐구 주제로 하기 때문에 시간적 관점이다.
- ④ (라)는 자신과 타인의 이익을 고려해 정책을 모색한다.  
→ 다문화 공존을 위해 필요한 도덕적 태도를 탐구 주제로 하기 때문에 윤리적 관점이다.
- ⑤ (가)~(라)를 모두 고려해야 제대로 된 다문화 정책을 수립할 수 있다.  
→ 다문화 정책을 제대로 수립하기 위해서는 시간적, 공간적, 사회적, 윤리적 관점을 모두 고려하여 통합적으로 탐구해야 한다.

## 12 통합적 관점

**정답** ④ 오늘날 인간의 일상은 매우 복잡하게 얽혀 돌아가고 있다. 이렇듯 복잡하게 돌아가는 사회문제를 이해하려면 다양한 학문과 관점에서 탐구해야 한다.

### 자료 키워드 복잡한 사회문제의 해결

인간의 일상과 거리를 떠받치는 시스템이 복잡하게 얽혀 있기 때문에 한 가지 분야의 지식만으로는 사회문제를 해결하기 어렵다. 따라서 인류가 당면한 문제를 해결하려면 다양한 관점에서 사회현상을 보는 통합적 관점이 필요하다.

## 13 통합적 관점

**정답** ⑤ 카프라는 부분들에 관한 연구만으로는 유기체에 대한 올바른 이해가 불가능하다고 하였다. 이와 같이 사회가 유기체 같다는 점을 고려하여 사회현상을 종합해서 바라보는 것은 통합적 관점에 해당한다.

### 자료 키워드 유기체 연구와 사회현상

제시문은 사회가 유기체와 같다는 입장이다. 유기체와 사회는 각 부분들에 대한 연구만으로 전체를 이해할 수는 없다. 따라서 유기체와 사회를 올바르게 이해하려면 전체를 아우르는 종합적인 시각이 필요하다고 보고 있다. 인간, 사회, 환경을 바라보는 통합적 관점이 이러한 시각에 부합한다.

## 14 통합적 관점

**정답** ② 사회현상은 다양한 원인이 복합적으로 작용하기 때문에 특정한 사회현상을 이해하기 위해서는 다양한 관점을 통합적으로 적용해야 한다.

### 선택지 분석

- ① 사회현상은 사실과 가치가 혼재되어 있기 때문이다.  
→ 사회현상은 다양한 가치가 혼재되어 있기 때문에 가치 판단이 필요하다. 이는 윤리적 관점이 필요한 이유이다.
- ③ 사회현상이 나타나게 된 시간적 배경이 가장 중요하기 때문이다.  
→ 사회현상의 배경을 다양한 관점에서 살펴봐야 한다.
- ④ 사회현상을 볼 때 과거와의 연관성을 통한 미래 예측이 중요하기 때문이다. → 사회현상의 탐구 목적이 미래 예측에만 있는 것은 아니다.
- ⑤ 사회현상은 환경, 지역 간의 상호 작용을 통해서만 파악할 수 있기 때문이다. → 사회현상은 공간적 관점에서만 파악할 수 있는 것이 아니다.

## 15 통합적 관점을 적용한 탐구

**정답** ② 통합적 관점을 적용하여 탐구할 때에는 탐구할 문제를 선정하여 탐구 목적을 정한 후, 탐구 계획을 수립한다. 다양한 관점에서 관련 정보를 수집한 후, 수집된 정보를 비교·분석하고 여러 관점 간의 상호 연관성을 파악한다. 그리고 탐구 내용을 종합하여 결론을 도출한 후 문제 해결 방안을 모색하고 가장 적절한 해결 방안을 선택한다.

### 자료 키워드 통합적 관점을 적용한 탐구

탐구 문제 선정	일상에서 경험하는 사회현상 중 통합적 관점이 필요한 사례를 탐구 문제로 선정함.
탐구 계획의 수립	시간적, 공간적, 사회적, 윤리적 관점에서 탐구 질문을 만들고, 각각의 질문에 답하기 위한 자료 수집 계획을 세움.
자료 수집 및 분석	다양한 자료를 수집하여 분석한 후, 통합적 관점에서 내용을 종합함.
해결 방안 모색	탐구 문제와 관련된 여러 측면을 고려하여 문제 해결을 위한 다양한 방안을 모색함.
해결 방안의 평가 및 선정	다양한 해결 방안 중 대안의 적합성, 실현 가능성 등을 검토하여 가장 적절한 대안을 선택함.

## 16 통합적 관점

**정답** ② A. 공유 경제 현상의 시작 배경을 살펴보고자 하므로 (가) 시간적 관점에 해당하는 주제이다. B. 공유 경제가 사람들에게 바람직한 현상인지 살펴보고자 하므로 (라) 윤리적 관점에 해당하는 주제이다. C. 공유 경제가 활발한 경제 체제가 무엇인지 살펴보고자 하므로 (다) 사회적 관점에 해당하는 주제이다. D. 공유 경제가 활발한 지역의 특성을 살펴보고자 하므로 (나) 공간적 관점에 해당하는 주제이다.

## 17 통합적 관점

**정답** ② 제시문은 인공 지능이 발달하면서 인공 지능 창작물의 수준이 높아졌고, 인공 지능이 만든 창작물의 저작권을 인정해야 하는가를 둘러싼 새로운 사회문제가 발생했다는 내용이다. 이는 사회적 관점에서 법과 제도가 저작권 범위를 어디까지로 규정하는지 파악함으로써 인공 지능 창작물이 저작권 범위 안에 들어가는지 살펴보고 있다.



선택지 분석

- ① 갑: **시간적 관점**에서 인공 지능의 저작권을 인정하는 나라는 어디인지 살펴보아야 합니다. → **공간적 관점**
- ③ 병: **윤리적 관점**에서 인공 지능의 창작물 저작권 문제가 언제 발생했는지 살펴보아야 합니다. → **시간적 관점**
- ④ 정: **사회적 관점**에서 인공 지능을 저작권 주체로 인정하는 것이 바람직한지 살펴보아야 합니다. → **윤리적 관점**
- ⑤ 무: **공간적 관점**에서 인공 지능의 창작물과 인간 작품은 본질적 차이가 있는지 살펴보아야 합니다. → **윤리적 관점**

18 인간, 사회, 환경을 바라보는 다양한 관점

- (1) (가) 시간적 관점, (나) 공간적 관점, (다) 사회적 관점, (라) 윤리적 관점
- (2) **모범 답안** (가) 시간적 관점은 현재의 사회현상을 있게 한 역사적 배경과 맥락을, (나) 공간적 관점은 위치와 장소, 형성 과정과 분포 양상, 이동과 네트워크 등의 공간적 맥락을, (다) 사회적 관점은 사회현상에 대한 사회 구조와 사회 제도의 영향력을, (라) 윤리적 관점은 도덕적 행위의 기준과 규범에 따른 삶의 방향성을 고려하여 사회현상을 살펴본다.

**[주요 내용]** 시간적 관점은 역사적 배경과 시대적 맥락, 공간적 관점은 장소와 지역 및 공간적 상호 작용, 사회적 관점은 사회 구조와 사회 제도, 윤리적 관점은 도덕적 가치와 도덕규범에 초점을 두고 사회현상을 살펴본다는 것을 서술해야 함.

채점 기준	배점
네 가지 관점의 간략한 특징을 모두 서술한 경우	상
세 가지 관점의 간략한 특징만을 서술한 경우	중
두 가지 관점의 간략한 특징만을 서술한 경우	하

19 통합적 관점

- (1) 통합적
- (2) **모범 답안** 현대 사회는 불확실하고 복잡한 사회현상이 일어나기 때문에 사회현상을 종합적으로 이해하기 위해 다양한 관점을 통합적으로 적용해야 한다.
- [주요 내용]** 현대 사회의 불확실성과 사회현상의 복잡성 때문에 통합적 관점이 필요하다는 내용을 서술해야 함.

채점 기준	배점
현대 사회의 불확실성과 사회현상의 복잡성 때문에 종합적으로 이해하는 통합적 관점이 필요하다고 서술한 경우	상
현대 사회의 불확실성과 사회현상의 복잡성 중 하나만 언급하여 통합적 관점이 필요하다고 서술한 경우	하

인간, 사회, 환경과 행복

01 ~ 02 행복의 기준과 의미 ~ 행복한 삶을 실현하기 위한 다양한 조건

**빠른 정답** **기출 선택지로 개념 확인**

01 행복	02 시대	03 에피쿠로스	04 헬레니즘
05 중세	06 인	07 도가	08 정신적
09 아리스토텔레스	10 이성	11 정주 환경	
12 인심	13 소득, 복지	14 이스털린	15 민주주의
16 도덕적 실천	17 성찰		

**빠른 정답** **실력 UP! 단골 내신 문제**

01 ②	02 ④	03 ④	04 ③	05 ①	06 ④
07 ③	08 ②	09 ③	10 ②	11 ②	12 ④
13 ④	14 ①	15 ②	16 ⑤	17 ③	18 ③
19 ⑤	20 ③	21 ④	22 해설 참조		
23 해설 참조		24 해설 참조			

01 행복의 의미

**정답** ② ㉠에 들어갈 개념은 행복이다. 행복은 대다수의 사람들이 추구하는 것이며, 오늘날에는 경제적, 사회적, 환경적 측면 등 다양한 요소가 행복의 기준이 될 수 있다.

**선택지 분석**

㉠. ㉠의 의미는 모든 사람에게 동일하게 나타난다.  
→ 행복의 의미는 각자의 가치관이나 경험 등에 따라 다양하다.

㉡. ㉡의 기준은 시대적 상황이나 지역적 여건의 영향을 받지 않는다.  
→ 행복의 기준은 시대나 지역에 따라 다르다.

02 시대에 따른 행복의 기준

**정답** ④ 근대 시대에는 자유와 평등 같은 인간의 기본적 권리를 중시하면서 이를 보장하는 것이 행복의 기준이었다.

**자료 키워드 시대에 따른 행복의 기준**

선사 시대	식량을 안정적으로 확보하고 외부의 위협으로부터 안전하게 사는 것
고대 그리스 시대	이성의 기능을 잘 발휘하여 철학적 성찰을 통해 지혜와 덕을 얻는 것
고대 헬레니즘 시대	전쟁과 사회적 혼란에 따른 불안에서 벗어나 마음의 평온을 얻는 것
중세 시대	신앙을 통해 영원하고 완전한 존재인 신과 하나가 되는 것
근대 시대	인간의 기본적 권리를 중시하면서 자유와 평등을 보장하는 것
오늘날	경제적, 사회적, 환경적 측면 등 다양한 요소가 행복의 기준이 됨.

### 03 시대에 따른 행복의 기준

**정답** ④ 에피쿠로스는 행복한 인생의 시작이자 끝은 쾌락이라고 보았으며, 이때의 쾌락은 몸의 고통과 마음의 혼란으로부터의 자유라고 강조하였다. 그는 이성으로 욕망을 분별하여 자연적이고 필수적인 욕망을 충족해야 한다고 강조하였으며, 부와 명예에 대한 집착 등 헛된 생각을 버려야 행복이 실현될 수 있다고 보았다.

#### 자료 키워드 에피쿠로스의 행복론

- 에피쿠로스는 고대 그리스의 도시 국가들이 해체되고 정복 전쟁을 통해 대제국이 건설되면서 사회적·문화적으로 극심한 혼란기였던 헬레니즘 시대에 대규모의 공동체적 삶에서 벗어나 개인적인 마음의 평온을 찾고자 하였다.
- 에피쿠로스는 욕구의 충족을 통해서가 아니라, 불필요한 욕구의 제거를 통해 큰 만족을 얻고자 하였으며, 육체적 쾌락보다 정신적 쾌락을 추구할 것을 강조하였다.

### 04 지역에 따른 행복의 기준

**정답** ③ 자료의 국가는 스웨덴이다. 스웨덴은 고위도에 위치하여 햇볕을 충분히 쬐 수 없는 겨울이 길어, 낮의 길이가 긴 날에 축제를 열고 이를 축하하고 즐기며 행복한 시간을 만끽한다.

#### 자료 키워드 지역적 여건에 따른 행복의 기준

- 경제적으로 빈곤한 지역: 기본적인 식주 해결과 질병이 없는 삶
- 종교적·정치적 갈등이 심한 지역: 종교적·정치적 안정을 통한 분쟁 없는 삶
- 정치적 자유가 없는 지역: 민주주의의 실현을 통한 자유와 권리의 보장
- 정치적·경제적으로 안정된 지역: 여가와 문화생활 등을 통한 삶의 질 향상
- 자연환경으로 인해 어려움을 겪는 지역: 각 지역의 자연환경의 어려움을 극복하는 삶 예 건조한 사막 지역에서는 깨끗한 물을 얻는 것, 일조량이 부족한 북유럽 지역은 햇볕을 쬐 수 있는 것 등

### 05 동양의 행복론

**정답** ① (가)는 유교 사상, (나)는 불교 사상이다. 유교에서는 하늘을 인간에게 도덕적 본성을 부여하는 절대적인 선의 기준으로 보고, 인간은 하늘로부터 도덕적 본성을 부여받은 존재로 본다.

#### 선택지 분석

- ② (가): 자신에 대한 집착에서 벗어나 수행을 통해 해탈의 경지를 추구해야 한다. → 불교
- ③ (나): 겸허의 덕을 갖추고 물과 같은 삶을 살아가야 한다. → 도가
- ④ (나): 타고난 그대로의 자연적 본성에 따라 무위자연을 추구해야 한다. → 도가
- ⑤ (가)와 (나): 이성의 기능을 잘 발휘하여 지혜를 얻어야 한다. → 아리스토텔레스

### 06 삶의 목적의 중요성

**정답** ④ A는 삶의 목적이 확고한 사람으로, 삶의 목적이 없어 표류하고 있는 B에게 올바른 삶의 목적을 분명히 세워 인생에 동기를 부

여하고 힘든 시기에 어려움을 이겨낼 수 있는 원동력을 기르라고 조언할 수 있다.

#### 선택지 분석

- ① 삶에 대한 염세적인 관점을 유지하면서 현실에 안주해야 한다. → 염세적인 관점은 세상을 싫어하고 모든 일을 어둡고 부정적으로 보는 관점으로, 행복한 삶을 위한 자세와는 관련이 없다.
- ② 고통스럽고 힘든 일은 되도록 회피하려는 태도를 가지고 있어야 한다. → 회피하는 것은 삶의 목적을 가진 사람의 성숙한 태도로 볼 수 없다.
- ③ 정신적인 성숙보다는 감각적인 쾌락을 추구하면서 삶의 재미를 찾아야 한다. → 감각적인 쾌락만 추구하는 것은 삶의 목적으로서의 행복을 실현하는 데 도움이 되지 않는다.
- ⑤ 삶의 장기적인 목적을 세우려 하지 말고, 당장의 만족감을 충족할 수 있도록 계획해야 한다. → 삶의 목적으로서의 행복을 실현하기 위해서는 장기적인 목적을 세우는 것이 중요하다.

### 07 진정한 행복

**정답** ③ 행복은 일시적인 만족감이 아니라 지속적인 삶의 만족감이며, 갑자기 생긴 커다란 행운이 아니라 가치 있는 삶의 목적을 충실하고 성실하게 수행함으로써 얻어지는 것이다.

### 08 공자가 말하는 행복

**정답** ② 제시문을 주장한 사상가는 공자이다. 공자는 부나 사회적 지위를 얻는 것 자체를 부정적으로 보지는 않았으나, 부유하지 않더라도 의로운 삶 즉 도덕적인 마음가짐과 도덕적 실천을 할 수 있어야 진정한 행복에 이를 수 있다고 보았다.

### 09 삶의 목적으로서의 행복

**정답** ③ 삶의 목적으로서의 행복에 도달하기 위해서는 일시적이고 감각적인 즐거움만을 탐닉해서는 안 되며, 타인과의 비교가 아닌 자신의 삶을 기준으로 행복을 찾아야 한다.

#### 선택지 분석

- 갑: 높은 소득과 사회적 지위를 얻는 것을 최종 목적으로 삼아야 합니다. → 높은 소득이나 사회적 지위를 얻는 것을 최종 목적으로 삼을 경우 진정한 행복에 도달하지 못할 수 있다.
- 병: 항상 타인과 비교하여 상대적인 우위를 점하도록 노력해야 합니다. → 타인과의 비교는 자존감을 낮추거나 자신만의 진정한 행복을 찾는 데 방해가 될 수 있다.

### 10 아리스토텔레스의 행복관

**정답** ② 제시문을 주장한 사상가는 아리스토텔레스이다. 아리스토텔레스는 행복은 그 자체로 추구되는 삶의 궁극적인 목적으로 최고 선이라고 주장하였다. 그는 행복에 도달하기 위해서는 인간만이 가지고 있는 이성적 기능을 활용해야 한다고 주장하였다.

**오답** 행복은 부와 명예를 얻기 위한 수단적인 가치를 지니는 것이

아니라, 그 자체로 목적적인 가치(①)를 지니며, 인간은 다른 동물과 달리 이성을 활용하여 자신의 행복을 추구하는 존재(⑤)이다.

**자료 키워드** 아리스토텔레스의 행복론

- 행복은 다른 것을 위한 수단이 아니라 그 자체로 추구되는 삶의 궁극적 목적이다.
- 인간이 지닌 기능들 중에서 식물이나 동물과 달리 오직 인간만이 지닌 특별한 기능은 정신의 이성적 활동 기능이다.

**11 정약용의 행복관**

**정답** ② 제시문을 주장한 사상가는 정약용이다. 정약용은 청복의 중요성을 설명하면서 개인이 느끼는 삶에 대한 만족감을 강조하였다.

**선택지 분석**

- ㄴ. 사회적 신분 상승을 삶의 목적으로 제시하고 있다.  
→ 정약용은 사회적 신분 상승이 아니라 자신의 만족감과 관련된 청복을 행복의 기준으로 제시하고 있다.
- ㄹ. 진정한 행복은 누구에게나 인정받을 수 있는 객관적 지표에 의해 결정된다고 본다.  
→ 정약용은 객관적 지표와 관련하여 열복을, 주관적 지표와 관련하여 청복을 제시하였다. 정약용은 청복을 통한 삶에 대한 만족감을 중시한다.

**12 질 높은 정주 환경**

**정답** ④ ㉠은 정주 환경이다. 정주 환경은 인간이 정착하여 살아가는 터전을 의미하며 주거 환경에서부터 문화, 여가, 자연환경까지 일상생활 전 영역이 광범위하게 포함된다. 행복을 위해서는 질 높은 정주 환경을 조성해야 하는데, 이를 위해서는 깨끗한 자연환경을 비롯하여 치안, 주택, 상하수도, 교통 및 통신 시설, 보건 및 위생 서비스, 문화 시설 등의 인문환경이 잘 갖추어져야 한다.

**선택지 분석**

- 갑: 거주지 주변의 문화 활동이나 체육 활동을 할 수 있는 시설은 포함하지 않아.  
→ 인문환경에는 문화 활동이나 체육 활동을 할 수 있는 시설도 포함되며, 이러한 시설이 갖추어져야 삶의 질을 높일 수 있다.
- 병: 깨끗하고 쾌적한 자연환경보다 인문환경을 잘 갖추는 것이 더 중요해.  
→ 자연환경과 인문환경이 모두 잘 갖추어져야 질 높은 정주 환경을 조성할 수 있다.

**13 택리지에 나타난 정주 환경의 조건**

**정답** ④ 택리지에서 이중환이 설명하는 지리는 배산임수와 같은 풍수지리적 명당을, 생리는 그 땅에서 생산되는 이익을, 인심은 넉넉하고 좋은 이웃 간의 정을, 산수는 빼어난 경치를 의미한다. 이중환은 이 네 가지에서 하나라도 모자라면 살기 좋은 땅이라 할 수 없다고 주장하였다. ㉡. 땅에서 높은 이익이 생산되는 곳은 생리에 해당하며, 농경과 목축이 가능하여 당시 사람들의 생계유지에 도움이 될 수 있는 곳을 의미한다. ㉢. 이웃 간의 정이 넉넉하고 좋은 곳은 인심에 해당하며, 사람들 간의 관계가 좋아 서로 돕고 협력하는 문화 등이

만들어져 있는 곳을 의미한다. ㉣. 배산임수와 같이 풍수적으로 명당인 곳은 지리에 해당하며, 배산임수란 뒤로는 산을 등지고 앞으로는 물에 면하여 있어 명당인 곳을 의미한다.

**선택지 분석**

- ㄹ. 인간이 적극적으로 개발할 수 있는 환경인 곳  
→ 《택리지》에 언급되지 않은 내용이다. 이중환은 경치가 사람들에게 주는 만족감을 중시하여, 산수의 중요성을 강조하였다.

**14 질 높은 정주 환경의 중요성**

**정답** ① 제시문은 안락한 주거 환경과 기본적인 위생 시설이 갖춰지지 않은 정주 환경의 모습을 보여 준다. 이를 통해 낙후된 정주 환경에서는 인간다운 삶을 살기 어렵고 행복한 삶을 영위하기 어렵다는 것을 알 수 있다.

**자료 키워드** 질 높은 정주환경의 요소

- 자연환경: 깨끗한 물, 대기, 토양 등
- 인문환경: 교통·통신, 교육, 산업 및 문화, 보건 및 의료, 치안 등  
→ 행복한 삶을 위해서는 쾌적한 자연환경과 안정적인 인문환경을 갖춘 질 높은 정주 환경을 조성해야 함.

**15 맹자가 이야기한 경제적 안정의 중요성**

**정답** ② 제시문을 주장한 사상가는 맹자이다. 맹자는 통치자가 백성들이 생업을 유지할 수 있도록 도움을 주어야 하며, 백성들이 생계를 유지할 수 있어야 도덕적인 마음을 유지할 수 있다고 강조하였다.

**선택지 분석**

- ① 통치자는 백성의 자유로운 경제 활동에 개입해서는 안 된다.  
→ 맹자에 의하면 통치자는 백성의 생계유지를 도와 백성들이 일정한 경제적 안정을 누리도록 해야 한다.
- ③ 통치자는 백성이 부모를 공경하는 것보다 경제적 이익을 추구하도록 지도해야 한다.  
→ 맹자에 의하면 경제적 안정을 얻을 정도의 이익 추구 활동에 대해 부정하지 않지만, 부모에 대한 공경보다 경제적 이익을 추구하라고 강조하지는 않는다.
- ④ 통치자는 국가의 부를 증진하기 위해 개인이 사적 욕심을 모두 버리도록 강제해야 한다.  
→ 맹자에 의하면 통치자가 개인이 사적 욕심을 모두 버리도록 강제하는 것은 옳지 않다.
- ⑤ 통치자는 백성들이 직업을 통해 부를 획득할 것이 아니라 자아를 실현하도록 안내해야 한다.  
→ 맹자에 의하면 백성들은 직업을 통해 생계유지에 도움이 될 수 있는 부를 획득할 수 있다.

**자료 분석**

일반 백성에게 고정적인 생업(恒産, 恒産)이 없으면 흔들림 없는 도덕적인 마음(恒心, 恒心)도 없어진다. 그러므로 지혜로운 왕은 백성들이 생업을 가지게 해주되 반드시 위로는 부모를 섬기기에 충분하게 하고, 아래로는 자녀를 먹여 살릴만하게 하여 풍년에는 언제나 배부르고, 흉년에도 죽음을 면하게 한다.

→ 맹자는 백성들이 도덕적으로 행동하고 삶을 영위할 수 있으려면 일정한 경제적 안정이 유지되어야 한다고 보았다.

## 16 소득과 행복의 상관관계

**정답** ⑤ 같은 소득이 일정 수준에 도달하기 전까지 소득이 행복에 영향을 미친다고 보므로, 삶의 기본적인 욕구를 충족하기 위한 경제적 안정은 필요(ㄴ)하다고 생각한다. 반면 높은 소득이 늘어날수록 삶의 다양한 선택의 기회가 증대되므로 경제적 여유로움이 개인의 자유와 자아실현에 이바지(ㄷ)한다고 볼 것이다. 또한 높은 돈이 행복에 미치는 영향에는 한계가 없다고 보므로, 부유한 국가의 국민은 빈곤국의 국민보다 평균적으로 더 행복할 것이라고 볼 것(ㄹ)이다.

### 선택지 분석

- ㄱ. 같은 개인의 소득과 행복은 반비례 관계에 있다고 볼 것이다.  
 → 같은 일정 수준까지의 소득은 행복에 영향을 미친다고 보기 때문에 행복과 개인의 소득을 반비례 관계라고 보는 것은 아니다.

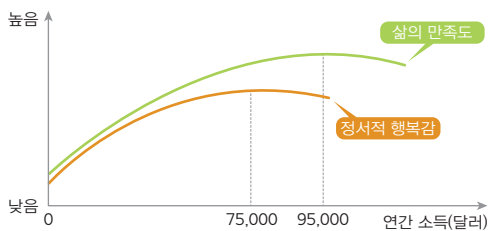
## 17 소득과 행복의 상관관계

**정답** ③ 그래프를 보면 연간 소득이 어느 정도의 수준에 이르면 정서적 행복감과 삶의 만족도가 더 이상 증가하지 않는다. 기본적인 욕구를 충족하는 데 도움이 되는 정도까지 소득이 증가하는 것은 삶의 만족도를 높이지만, 소득이 일정 정도를 넘어서는 사람들의 삶의 만족도는 오히려 감소하는 경향을 보인다.

### 선택지 분석

- ① 소득은 행복에 영향을 미치지 않는다.  
 → 일정 수준까지의 소득은 삶의 만족도를 높인다.
- ② 부유층은 빈곤층보다 항상 삶의 만족도가 높다.  
 → 소득이 일정 수준을 넘어서면 오히려 고소득자의 정서적 행복감과 삶의 만족도가 떨어지는 경향을 보인다.
- ④ 상대적 박탈감 해소가 절대적 빈곤 해소보다 중요하다.  
 → 그래프를 통해 추론할 수 있는 내용이 아니다.
- ⑤ 삶의 만족도가 낮은 사람은 무조건 소득이 낮은 사람이다.  
 → 그래프를 통해 정서적 행복감과 삶의 만족도가 낮은 사람 중에 일정 수준을 넘어서고 고소득자가 있음을 알 수 있다.

### 자료 분석



→ 그래프를 보면 개인의 연간 소득이 6만~7만 5,000달러에 이르면 정서적 행복감은 더 이상 증가하지 않았으며, 연간 소득이 약 9만 5,000달러에 이르면 삶의 만족도도 더 이상 증가하지 않았다.

## 18 민주주의 발전을 위한 노력

**정답** ③ A국은 스위스로, 스위스는 직접 민주주의의 이상을 실현하고 있는 국가이다. 시민의 정치적 의사가 잘 반영되는 국가일수록 시

민이 인권을 존중(ㄴ)받으며 각자가 원하는 삶의 방식을 자유롭게 추구할 수 있기 때문에 시민들의 삶의 만족도(ㄷ)가 높다. 한편, 독재 정치와 같은 권위주의적 정치 체제는 구성원들의 인권이나 자유 실현을 방해하는 요인(ㄱ)이 될 수 있다.

**오답** ㄹ. 선거 제도가 올바르다 할지라도 엘리트 전문가들의 판단이 시민의 판단보다 항상 옳다고 단정할 수 없다.

## 19 민주주의 실현을 위한 방안

**정답** ⑤ 민주주의의 발전을 위해서 시민은 선출된 국민의 대표가 제대로 활동하는지 감시하되, 국민의 대표가 제대로 활동하지 않으면 이에 대해 비판하고 견제해야 한다. 사회 전반에 정치적 무관심이 확대되면 민주주의가 제대로 실현될 수 없다.

### 자료 키워드 민주주의 발전을 위한 조건

- 민주적 제도: 주권자인 국민의 의사를 반영하여 정책을 실현하기 위한 제도 ④ 의회 제도, 복수 정당 제도, 권력 분립 제도 등
- 시민의 정치 참여: 시민은 정치에 능동적으로 참여함으로써 정부의 잘못을 바로잡고 복지 증진이나 사회 문제 해결에 관한 정부의 역할을 다양한 형태로 요구해야 함. ⑤ 투표권 행사, 정당 활동, 시민단체 활동, 집회나 시위 참여 등

## 20 도덕적 실천을 통해 얻는 만족감

**정답** ③ 헬퍼스 하이는 봉사 활동과 같은 도덕적 행동을 통해 인간이 느끼는 삶의 만족감을 보여 주는 대표적인 사례이다. 이를 통해 인간은 도덕적 실천을 통해 삶의 만족을 느낄 수 있는 존재임을 알 수 있다.

### 선택지 분석

- ① 인간은 사회와 분리되어 독립적으로 살아가는 존재이다.  
 → 봉사 활동과 같은 도덕적 실천을 사회 공동체에 도움을 주고 이로 인해 내적 만족을 느낄 수 있다고 보았으므로, 인간을 사회와 분리된 독립적 존재로 보고 있지 않다.
- ② 인간은 가족 이외의 타인에게 무관심한 이기적인 존재이다.  
 → 인간을 타인에게 관심을 갖고 타인을 배려하기 위해 노력하는 존재로 보고 있다.
- ④ 인간은 합리적으로 자신의 경제적 이익을 좇을 수 있는 존재이다.  
 → 경제적 이익이 아니라 타인에게 도움을 주면서 얻는 만족감을 강조하고 있다.
- ⑤ 인간은 적극적으로 정치에 참여함으로써 주인 의식을 가지고 행복을 느끼는 존재이다.  
 → 민주주의 발전이 아니라 도덕적 실천을 통해 얻는 행복을 이야기하고 있다.

## 21 행복 지수가 높은 국가로 보는 행복의 조건

**정답** ④ A국의 행복 지수가 높은 이유로 깨끗한 자연환경(①), 다양한 복지 제도(②), 다당제와 시민의 적극적인 정치 참여(③), 연대와 협동으로 타인에게도 관심을 가지는 태도와 사회 분위기(⑤) 등이 제시되었다. ④ A국은 병원비가 평생 무료이고 실업 수당이 있으므로 질병·실업의 위험은 사회가 책임지는 복지 국가라고 볼 수 있다.



**자료 키워드** 행복 지수를 측정하는 세부 항목

객관적 지표	1인당 국내 총생산(GDP)
	건강 기대 수명
주관적 지표	어려움에 처했을 때 도와줄 사람이 있는가?
	삶에서 하고 싶은 것을 선택할 자유가 있는가?
	정부와 기업이 부패했다고 생각하는가?
	지난달에 기부를 한 적이 있는가?

\*객관적 지표는 통계 자료로, 주관적 지표는 설문으로 측정함.

국제 연합(UN)의 세계 행복 지수는 객관적인 경제·사회 지표와 국민의 주관적인 삶의 만족감 점수를 종합적으로 고려한다.

## 22 시대와 지역에 따라 다른 행복의 기준

**모범 답안** 서양의 중세 시대에는 신과 하나가 되는 것이, 근대 시대에는 개인의 자유와 권리를 보장받는 것이 행복의 기준이었다. 또한 마실 물이 부족한 건조 기후 지역에서는 깨끗한 물을 확보하는 것이, 일조량이 부족한 북유럽 지역은 햇볕을 충분히 쬐는 것이 행복의 기준이다.

**[주요 내용]** 시대적 상황에 따라 다른 행복의 기준, 지역적 여건에 따라 다른 행복의 기준 사례를 각각 바르게 서술해야 함.

채점 기준	배점
시대적 상황에 따라 다른 행복의 기준, 지역적 여건에 따라 다른 행복의 기준 사례를 각각 바르게 서술한 경우	상
시대적 상황에 따라 다른 행복의 기준과 지역적 여건에 따라 다른 행복의 기준 중 한 가지의 사례만 서술한 경우	하

## 23 민주주의의 발전과 행복의 관계

**모범 답안** 민주주의의 발전, 민주주의가 발전한 나라는 시민의 정치적 의사가 정책에 반영되어 법과 제도를 통해 시민의 자유와 권리가 보장되고 각자가 원하는 행복한 삶을 추구하며 살 수 있다.

**[주요 내용]** 민주주의의 발전을 쓰고, 민주주의가 실현되지 않은 나라의 특징이나 민주주의가 실현된 나라의 특징을 언급하여 서술해야 함.

채점 기준	배점
민주주의의 발전을 쓰고, 민주주의의 발전이 필요한 이유를 바르게 서술한 경우	상
민주주의의 발전만 쓴 경우	하

## 24 도덕적 실천과 행복

**모범 답안** 자원봉사와 같은 도덕적 실천을 통해 어려움에 처한 사람을 자발적으로 도우면 다른 사람을 행복하게 만들 뿐만 아니라 자기 자신도 심리적 만족감을 느껴 진정한 행복을 실현할 수 있기 때문이다.

**[주요 내용]** 도덕적 실천을 통해 내적 만족이나 심리적 만족감을 느껴 진정한 행복을 실현할 수 있다는 내용을 서술해야 함.

채점 기준	배점
도덕적 실천을 통해 내적 만족이나 심리적 만족감을 느껴 진정한 행복을 실현할 수 있다는 내용을 서술한 경우	상
내적 만족이나 심리적 만족감을 언급하지 않고 행복을 실현할 수 있다고만 서술한 경우	하

# 자연환경과 인간

40~43쪽

## 01 자연환경과 인간 생활

### 빠른 정답

### 기출 선택지로 개념 확인

- |                       |         |             |
|-----------------------|---------|-------------|
| 01 열대                 | 02 사바나  | 03 오아시스     |
| 04 사막(건조)             | 05 지중해성 | 06 계절풍, 벼농사 |
| 07 통나무집               | 08 타이가  | 09 순록       |
| 10 고산                 | 11 산지   | 12 해안       |
| 13 카르스트               | 14 자연재해 | 15 태풍       |
| 16 지각판                | 17 기후변화 |             |
| 18 안전권(환경권, 환경권(안전권)) |         |             |

### 빠른 정답

### 실력 UP! 단골 내신 문제

- |                        |      |                     |      |      |      |
|------------------------|------|---------------------|------|------|------|
| 01 ①                   | 02 ② | 03 ①                | 04 ④ | 05 ④ | 06 ⑤ |
| 07 ⑤                   | 08 ④ | 09 ③                | 10 ⑤ | 11 ⑤ | 12 ② |
| 13 ③                   | 14 ⑤ | 15 (1)(가) (2) 해설 참조 |      |      |      |
| 16 (1) 해설 참조 (2) 해설 참조 |      |                     |      |      |      |

## 01 열대 기후 지역의 특징과 생활 모습

**정답** ① 전통 가옥이 지붕이 급경사인 고상 가옥이고, 시장에서 바나나 등 열대 과일을 판매하는 상인이 챙이 넓은 모자를 쓴 것으로 보아 여행지가 열대 기후 지역임을 알 수 있다. 적도 주변의 저위도 지역에서는 일 년 내내 기온이 높은 열대 기후가 나타난다.

### 선택지 분석

- ② 강수량보다 증발량이 많다.  
→ 건조 기후 지역의 기후 특징이다.
- ③ 기온의 연교차가 큰 편이다.  
→ 열대 기후 지역은 기온의 연교차가 작은 편이다.
- ④ 전통적으로 오아시스 농업이 발달했다. → 이동식 화전 농업
- ⑤ 주민들은 주로 통나무를 이용해 만든 가옥에 거주한다.  
→ 주민들은 주로 나무와 풀 등으로 만든 고상 가옥에 거주한다. 통나무집은 냉대 기후 지역의 전통 가옥이다.

## 02 건조 기후 지역의 가옥

**정답** ② A는 열대 기후, B는 건조 기후, C는 온대 기후, D는 냉대 기후, E는 한대 기후 지역이다. 사진 속 흙집과 이동식 가옥은 모두 건조 기후 지역의 전통 가옥으로, 건조 기후 지역인 B에서 볼 수 있다.

**오답** ① 열대 기후 지역의 전통 가옥은 바닷가 지면에서 떨어져 있는 고상 가옥이다. ③ 온대 기후 지역은 가옥 재료가 다양하여 지역의 특성에 따라 서로 다른 가옥이 나타난다. ④ 냉대 기후 지역에서는 통나무집을 볼 수 있다. ⑤ 한대 기후 지역에서는 순록의 가죽을 활용한 이동식 천막이나 눈으로 만든 이글루를 볼 수 있다.



**자료 분석**

평평한 지붕, 작은 창문, 좁은 골목이 특징임.



조림과 분해가 쉬워 이동 생활에 편리함.

→ 사진에는 알제리의 흙집과 몽골의 이동식 가옥인 게르가 있다. 흙집은 건조 기후 중 사막 기후 지역에서, 이동식 가옥은 건조 기후 중 유목이 발달한 스텝 기후 지역에서 볼 수 있다.

**03 일본의 전통 가옥과 기후**

**정답** ① 다다미와 코타츠는 일본 전통 가옥에서 볼 수 있다. 일본은 중위도에 위치하여 사계절의 변화가 비교적 뚜렷한 온대 기후 지역에 속한다.

**선택지 분석**

- ㄷ. 집의 바닥이 지면으로부터 떨어져 있다.  
→ 집의 바닥을 지면에서 띄워서 짓는 고상 가옥은 열대 기후 또는 한대 기후의 가옥이다.
- ㄹ. 주민들이 음식을 냉동·훈제·건조하여 보관한다.  
→ 음식을 냉동하거나 훈제하여 보관하는 것은 한대 기후 지역의 특징이다.

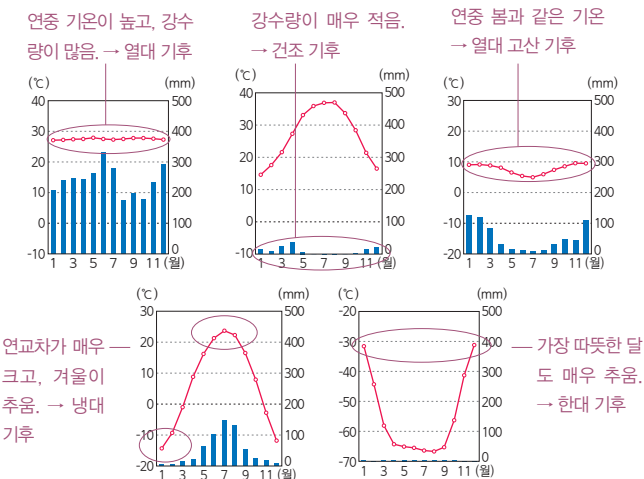
**04 냉대 기후 지역의 특징**

**정답** ④ 통나무집, 사우나 시설, 잎이 뾰족한 침엽수 등의 특징과 관련이 깊은 기후는 냉대 기후이다. 냉대 기후 지역은 주로 고위도에 분포하며 대륙의 영향으로 연교차가 크다. 또한 여름은 짧고 겨울은 길고 춥다.

**오답** ① 연중 기온이 높고 강수량이 많은 것으로 보아 열대 기후(열대 우림 기후), ② 연 강수량이 매우 적은 것으로 보아 건조 기후, ③ 연중 기온이 봄과 같이 온화한 것으로 보아 열대 고산 기후, ⑤ 기온이 매우 낮은 것으로 보아 한대 기후 지역의 그래프이다.

**자료 분석**

● 세계 각 기후 지역의 그래프



**05 서안 해양성 기후와 지중해성 기후의 비교**

**정답** ④ (가)는 서안 해양성 기후 지역, (나)는 지중해성 기후 지역으로 모두 온대 기후 지역에 속한다. 지중해성 기후 지역은 서안 해양성 기후 지역과 비교하여 여름이 고온 건조하다.

**오답** ① (나)에서 수목 농업이 이루어진다. ② (가)에서는 혼합 농업이 이루어지며, 계절풍이 부는 아시아의 온대 겨울 건조 기후 지역에서는 벼농사가 발달한다. ③ (가)는 연중 강수가 고르게 나타나 (나)보다 계절별 강수량의 차이가 작다. ⑤ 두 지역 모두 온대 기후 지역에 속한다.

**자료 분석**



▲ 영국의 공원에서는 일광욕을 즐기는 시민들을 볼 수 있다.



▲ 그리스에서는 벽이 하얀 가옥을 볼 수 있다.

→ 서안 해양성 기후가 나타나는 영국은 흐리고 비가 내리는 날이 많아 주민들이 날씨가 맑은 날에 공원에서 일광욕을 즐긴다.

→ 지중해성 기후가 나타나는 그리스의 가옥은 고온 건조한 여름에 집 안으로 들어오는 열기를 차단하기 위해 벽이 하얗고 두꺼우며 창문이 작다.

**06 세계의 기후 분포**

**정답** ⑤ A는 열대, B는 건조, C는 온대, D는 냉대, E는 한대 기후 지역이다. 열대 기후 지역(A)이 평균 기온이 가장 높다.

**오답** ① A는 적도에 가까워 열대 기후가 나타난다. ② B는 건조 기후 지역으로, 계절풍의 영향으로 강수량의 변화가 뚜렷한 곳은 아시아의 온대 겨울 건조 기후 지역이다. ③ 고온 다습한 기후 때문에 고상 가옥이 발달한 곳은 열대 기후가 나타나는 A이다. ④ D에 타이이가 넓게 분포하는 것은 맞지만, 온대 기후인 C보다 온화한 것은 아니다.

**07 한대 기후 지역의 특징**

**정답** ⑤ 가장 따뜻한 달의 평균 기온이 10℃ 미만으로 매우 낮고, 원주민이 순록을 유목하는 곳은 한대 기후 지역이다.

**08 열대 고산 기후 지역의 특징**

**정답** ④ 자료는 열대 고산 기후 지역의 그래프로, 열대 고산 기후는 적도 부근의 고산 지대에서 나타난다. 이 지역은 해발 고도가 높아 자외선이 강하며 일교차가 큰 편이다. 이곳 주민들은 서늘한 기후에서 잘 자라는 감자와 옥수수를 재배하거나 라마, 알파카 등의 가축을 기르기도 한다.

**선택지 분석**

- ㄱ. 전통적으로 어업, 양식업이 발달한다.  
→ 어업과 양식업은 육지와 바다가 만나는 해안 지역에서 발달한다.
- ㄷ. 고위도의 해발 고도가 낮은 저지대에 위치한다.  
→ 저위도의 해발 고도가 높은 고지대에 위치한다.

## 09 지형과 주민 생활

**정답** ③ 지각판의 경계에 위치한 아이슬란드는 화산 지대의 뜨거운 지하수를 이용하여 전기도 생산하고 관광객도 끌어모은다.

**오답** ① 평야 지역은 해발 고도가 낮고 땅이 평평하여 교통로와 각종 산업 시설이 들어서 큰 도시로 성장한 곳이 많다. ② 산지 지역은 해발 고도가 높고 사면의 경사가 급하여 인간이 거주하기에 불리하다. ④ 해안 지역 중 수심이 얇고 조차가 큰 곳에 갯벌이 발달해 염전, 양식장으로 이용된다. ⑤ 베트남 할롱 베이는 대표적인 카르스트 지형으로 석회암이 녹아 형성되었다. U자곡(빙식곡)에 바닷물이 들어와 형성된 세계적인 관광지로는 노르웨이의 피오르가 있다.

### 자료 키워드 독특한 지형

- 화산 지형: 화산 활동이 활발한 지역에서는 온천, 간헐천 등을 이용한 관광 산업이 발달하고, 난방과 전력 생산에 지열을 이용하기도 한다. 예) 아이슬란드
- 카르스트 지형: 석회암이 물에 녹으면서 형성된 탐 카르스트, 석회 동굴 등 카르스트 지형의 독특한 경관을 이용한 관광 산업이 발달한다. 예) 베트남의 할롱 베이(탐 카르스트), 우리나라 영월의 고씨동굴(석회 동굴)
- 빙하 지형: 빙하의 침식 작용으로 형성된 U자곡(빙식곡)에 바닷물이 들어오면서 형성된 피오르 해안이 관광 자원으로 활용된다. 예) 노르웨이의 피오르



▲ 아이슬란드의 지열 발전 ▲ 베트남의 할롱 베이 ▲ 노르웨이의 피오르 소와 온천 수영장

## 10 빙하 지형과 카르스트 지형의 특징

**정답** ⑤ (가)는 빙하의 침식으로 형성된 급경사의 U자곡에 바닷물이 들어와 형성된 노르웨이의 피오르, (나)는 석회암이 물에 녹아 형성된 우리나라의 석회 동굴이다. 두 지형 모두 경관이 아름다워 관광 자원으로 활용된다.

### 선택지 분석

- ① (가)는 하천의 침식 작용으로 형성되었다. → 빙하
- ② (나)의 주된 암석은 화산 폭발로 형성되었다.
  - 석회암은 화산 폭발로 형성된 것이 아니라, 물속에 사는 작은 생물이나 바다에 녹아 있는 석회질 물질 등이 가라앉아 쌓여 만들어진 암석이다.
- ③ (가)는 (나)보다 기온이 높은 지역에서 잘 형성된다.
  - 빙하 지형은 비교적 고위도 지역에 분포한다.
- ④ (나)는 (가)보다 경사가 급해 수력 발전에 유리하다.
  - 노르웨이에서는 U자곡의 급경사를 이용하여 수력 발전을 한다.

## 11 우리나라의 자연재해

**정답** ⑤ 우리나라는 지각판의 경계에서 떨어져 있어 지각 운동이 활발하지 않은 편이다. ① 최근 10년간 원인별 자연재해 피해액 규모를 보면 태풍과 호우가 큰 비중을 차지하고 있다. ② 우리나라는 봄에 주로 가뭄이 발생하는데, 가뭄은 진행 속도는 느리지만 피해 범위가 넓게 나타난다는 특징이 있다. ③ 최근 기후변화로 호우 발생

빈도와 강도 그리고 이에 따른 피해가 증가하고 있으며, 무분별한 도시 개발로 녹지 면적이 줄어들어 빗물이 땅에 흡수되지 못하고 빠르게 하천으로 흘러들고 있다. 이에 따라 홍수 피해가 더 커지고 있다. ④ 우리나라는 겨울에 폭설, 한파 등의 자연재해가 자주 발생한다.

## 12 가뭄과 폭염

**정답** ② 캐나다에서 산불을 유발한 ㉠은 가뭄이고, 이탈리아에서 열사병 환자를 급증하도록 한 ㉡은 폭염이다. 가뭄이 지속되면 숲이 마르고 그에 따라 산불이 발생할 확률이 높으며, 폭염이 심해지면 냉방 시설인 에어컨의 판매량이 늘어난다. 최근 기상 이변인 자연재해가 세계 곳곳에서 발생하고 있는데, 이는 기후변화의 영향이 크다.

## 13 기후변화가 미치는 영향

**정답** ③ ㉠에 들어갈 내용은 기후변화로, 최근 기후변화 때문에 기상 이변이 증가하였다. 산업 혁명 이후 공장과 가정 등에서 화석에너지의 사용량이 증가하여 온실가스 배출량이 늘어나면서 지구의 평균 기온이 높아지는 지구 온난화가 가속화되고 있다. ㄴ. 극지방의 빙하가 녹으면 북극해 주변의 다양한 자원이 개발된다. ㄷ. 기후변화는 생태계에도 영향을 끼쳐 작물의 재배 지역과 동식물 서식지의 변화를 불러온다.

### 선택지 분석

- 극지방의 빙하 면적 확대
  - 지구의 평균 기온이 상승하면 극지방의 빙하 면적은 축소된다.
- 해수면 하강에 의한 해안 저지대 침수로 기후 난민 증가
  - 기후변화로 해수면은 상승한다. 해수면 상승으로 해안 저지대에 있는 나라들이 침수 피해를 입어 기후 난민이 증가한다.

## 14 안전하고 쾌적한 환경에서 살아갈 시민의 권리

**정답** ⑤ (가)는 빗물 저류 시설을 점검하는 지방 자치 단체의 노력을, (나)는 각종 재난 상황에서 국민의 안전을 보장하기 위해 관련 정보를 제공하는 정부의 노력을 보여 준다. 두 가지 모두 시민의 안전권과 환경권을 보장하기 위한 국가의 노력에 해당한다.

**오답** ① 태풍과 호우는 자연적인 요인에 의해서 발생하므로 발생 횟수 자체를 줄이기는 어렵다. ② (가)는 자연재해 피해를 예방하기 위한 것으로, 신속한 피해 복구 노력으로 보기 어렵다. (나)는 시민이 재해로부터 받은 피해를 보상받기 위한 정보를 제공하지만, 자연재해로 받은 피해를 직접적으로 신속하게 해결해 준다고 보기 어렵다. ③ 환경 문제로 인한 국가 간 분쟁과는 관련이 적다. ④ (가), (나) 모두 시민의 안전권과 환경권을 보장하기 위한 국가의 노력으로, 개인적 차원에서 그 피해를 해결하는 것과는 관련이 없다.

### 자료 키워드 국민 재난 안전 포털에서 제공받을 수 있는 정보

- 여러 재난 상황에 대한 행동 요령을 안내한다.
- 긴급 재난 문자와 뉴스 서비스를 제공한다.
- 내가 사는 지역의 대피소를 확인할 수 있다.
- 각종 재난으로 심리적 충격을 받은 사람에게 전문 심리 상담을 지원한다.

## 15 기후와 가옥 특징

(1) (가)

(2) **모범 답안** (가)는 건조 기후(사막 기후) 지역의 흙집이고, (나)는 열대 기후 지역의 고상 가옥이다. 강수량이 적고 일교차가 큰 건조 기후 지역에서는 가옥이 (가)와 같이 지붕이 평평하고 창문이 작으며 벽이 두껍다. 반면 연중 기온이 높고 연 강수량이 많은 열대 기후 지역에서는 (나)와 같이 가옥의 지붕을 급경사로 짓고, 땅에서 올라오는 뜨거운 열기와 습기를 피하고 해충의 침입을 막기 위해 가옥의 바닥을 지면에서 띄워 지었다.

**[주요 내용]** 가옥의 형태가 다른 이유 두 가지를 기온, 강수량과 관련 지어 서술해야 함.

채점 기준	배점
가옥의 형태가 다른 이유를 기온, 강수량 등과 관련 지어 두 가지 모두 바르게 서술한 경우	상
가옥의 형태가 다른 이유를 기온, 강수량 등과 관련 지었으나 한 가지만 바르게 서술한 경우	중
가옥의 형태가 다른 이유를 구체적으로 기온, 강수량과 관련 짓지 않고 서술한 경우	하

## 16 지진 발생 지역과 지진 발생 피해

(1) **모범 답안** 지진, 주로 지각판의 경계에 위치한다.

**[주요 내용]** 지각판의 경계와 가까움을 언급해야 함.

채점 기준	배점
지진을 쓰고, 지진이 지각판의 경계에서 자주 발생함을 바르게 서술한 경우	상
지진을 썼으나, 지진이 자주 발생하는 지역의 지리적 특징을 미흡하게 서술한 경우	하

(2) **모범 답안** 지진에 대비한 안전 교육에 참여하고, 지진 발생 시 행동 요령에 따라 행동한다. 또한 지진으로 인한 피해 발생 시 국가에 보상을 요청한다.

**[주요 내용]** 지진 대비 안전 교육, 행동 요령에 따른 행동 등을 제시해야 함.

채점 기준	배점
개인적 차원에서 할 수 있는 노력을 두 가지 모두 바르게 서술한 경우	상
개인적 차원에서 할 수 있는 노력을 한 가지만 서술한 경우	하

## 02 자연에 대한 다양한 관점

### 빠른 정답

### 기출 선택지로 개념 확인

- |         |             |         |           |
|---------|-------------|---------|-----------|
| 01 인간   | 02 도구       | 03 베이컨  | 04 이분법    |
| 05 유기   | 06 본래적(내재적) | 07 유용성  | 08 전일론    |
| 09 레오폴드 | 10 대지 윤리    | 11 비현실  | 12 조화     |
| 13 불교   | 14 무위자연     | 15 천인합일 | 16 생태 공동체 |

### 빠른 정답

### 실력 UP! 단골 내신 문제

- |      |      |      |      |      |      |
|------|------|------|------|------|------|
| 01 ⑤ | 02 ③ | 03 ⑤ | 04 ③ | 05 ④ | 06 ⑤ |
| 07 ② | 08 ⑤ | 09 ② | 10 ③ | 11 ③ | 12 ③ |
- 13 (1) (가) 인간 중심주의, (나) 생태 중심주의 (2) 해설 참조  
14 (1) (가) 불교, (나) 유교, (다) 도가 (2) 해설 참조

### 01 인간 중심주의의 특징

**정답** ⑤ 제시문은 인간 중심주의의 입장에 해당한다. 인간 중심주의는 인간과 자연을 분리하고 인간을 자연으로부터 독립된 존재이자 우월한 존재(ㄷ)로 보는 이분법적 관점을 취한다. 그리고 인간의 이익에 이바지한 정도에 따라 자연의 유용성을 평가하는 도구적 자연관을 강조(ㄷ)한다.

#### 선택지 분석

- ㄱ. 인간은 인류의 번영을 목적으로 자연을 수단으로 이용해서는 안 된다.  
→ 인간 중심주의는 인간만을 도덕적 고려의 대상으로 바라보기 때문에 인간의 이익을 위해 자연을 수단으로 이용할 수 있다고 본다.
- ㄴ. 인간은 자연의 내재적 가치를 존중하기 위해 자연 개발을 중단해야 한다.  
→ 인간 중심주의에서는 자연의 도구적 가치를 강조한다. 내재적 가치를 존중하는 것은 생태 중심주의의 입장이다.

### 02 베이컨의 자연관

**정답** ③ 제시문을 주장한 사상가는 베이컨이다. 베이컨은 인간만을 도덕적 고려의 대상으로 여기는 인간 중심주의 사상가이다. 그는 자연 과학적 지식을 활용하여 자연을 정복하고 인간의 물질적 혜택과 복지를 증진해야 한다고 주장하였다.

#### 선택지 분석

- ① 생태계 전체는 하나로 연결된 유기체적 존재이다.  
→ 생태 중심주의의 입장이다.
- ② 인간과 자연은 도덕적으로 동등하게 대우받아야 한다.  
→ 베이컨은 인간을 자연보다 우월한 존재라고 보며, 인간만을 도덕적 고려의 대상으로 본다.
- ④ 자연이 지닌 내재적 가치를 무시하면 미래 인류의 생존이 위태로워진다. → 생태 중심주의의 입장이다.
- ⑤ 인간을 포함한 모든 생명체는 다른 목적을 위한 수단으로 취급받아서 안 된다. → 생태 중심주의의 입장이다.

## 자료 분석

인간은 자연의 사용자이자 자연의 해석자로서 **자연의 질서를 실제로 관찰하고 고찰한 만큼 이해할 수 있으며, 무엇인가를 할 수 있다. 인간의 지식이 곧 인간의 힘이다.** 원인을 밝히지 못하면 어떤 효과도 낼 수 없다. 자연은 오직 복잡함으로써만 복잡시킬 수 있기 때문이다.

→ 베이컨은 인간 중심주의 사상가로, 자연 과학적 지식을 활용하여 자연을 정복하고 물질적 혜택과 복지를 증진해야 한다고 보았다.

### 03 인간 중심주의 관점

**정답** ⑤ 인간 중심주의 관점의 한계는 인간이 자연을 함부로 이용하여 환경 오염, 자원 고갈, 생태계 파괴 등과 같은 환경 위기를 초래한다는 점이다. 생태계 보전을 지나치게 강조하여 인간의 개입을 허용하지 않아 비현실적이라는 비판을 받는 것은 생태 중심주의 관점이다.

#### 자료 키워드 인간 중심주의의 특징

- 오직 인간만이 도덕적 고려의 대상이라고 봄.
- 이분법적 관점: 인간과 자연을 분리하고 인간을 자연으로부터 독립된 존재이자 우월한 존재로 봄.
- 도구적 자연관: 자연을 그 자체로 가치 있는 존재로 여기지 않고 인간의 욕구 충족을 위한 수단으로 여김. → 인간의 풍요로운 삶에 얼마나 이바지했는가에 따라 자연의 유용성을 평가함.

### 04 인간 중심주의의 한계

**정답** ③ 사례는 인간이 자연을 함부로 이용한 결과, 환경 오염, 생태계 파괴 등과 같은 환경 위기가 나타났고, 이 환경 위기가 자연뿐만 아니라 자연 속에 살아가는 인간에게도 피해를 주고 있음을 보여 준다. 따라서 환경 위기는 자연의 다른 생명체뿐만 아니라 인간에게도 큰 피해를 주게 됨을 잊지 말고, 자연을 보호하고자 노력해야 한다는 교훈을 얻을 수 있다.

**오답** ① 모든 개발 정책을 멈추어야 하는 것은 아니다. ②, ④ 인간 중심주의의 입장이다. ⑤ 생태 중심주의의 한계이다.

#### 자료 키워드 인간 중심주의의 의의와 한계

- 의의: 자연을 탐구하고 개발하여 과학기술의 발달과 경제 성장을 이루어 인간의 삶을 풍요롭게 하는 데 이바지함.
- 한계: 자연에 대한 인간의 지배와 착취를 정당화하고 자연을 함부로 이용한 결과, 환경 오염, 자원 고갈, 생태계 파괴와 같은 환경 위기가 나타남. → 환경 위기는 인간에게도 큰 피해를 줌.

### 05 데카르트의 자연관

**정답** ④ 제시문을 주장한 사상가는 데카르트이다. 데카르트는 인식 주체와 인식 대상을 구분하고 인식 주체인 인간이 인식 대상인 자연을 이용하고 정복하는 것을 정당화하였다.

**오답** ㄹ. 데카르트는 동물이나 식물 모두 정신을 지니고 있다고 보았기 때문에 동물과 식물 모두 도덕적 고려의 대상이라고 간주하지 않는다.

## 선택지 분석

- 자연은 생명이 없는 자동 기계 장치와 같은 존재일 뿐이다.  
→ 데카르트는 자연은 이성이 없는 존재이며, 움직이는 자동 기계와 같은 존재에 불과하다고 보았다.
- 인간은 인식 대상에 불과한 자연을 정복하고 이용할 수 있다.  
→ 데카르트는 인식 주체와 인식 대상을 구분하고 인식 대상인 자연은 인식 주체인 인간에게 정복될 수 있고 도구적으로 이용될 수 있다고 보았다.
- 인간은 이성을 가지고 있으므로 다른 생명체보다 우월한 존재이다.  
→ 데카르트는 인간은 이성을 지닌 인식 주체이므로 이성이 없는 인식의 대상인 다른 생명체보다 우월하다고 보았다.

#### 자료 키워드 인간 중심주의 대표 사상가

- 베이컨: 자연 과학적 지식을 활용하여 자연을 정복하고 인간의 물질적 혜택과 복지를 증진해야 한다고 봄.
- 데카르트: 인식 주체와 인식 대상을 구분하고 인식 주체인 인간이 인식 대상인 자연을 이용하고 정복하는 것을 정당화함.

### 06 레오폴드의 자연관

**정답** ⑤ 다음을 주장한 사상가는 레오폴드이다. 레오폴드는 생태계 전체를 하나의 유기체로 보고 공동체의 범위를 인간에서 동물, 식물, 무생물을 포함한 대지까지 확대하는 입장인 대지 윤리를 주장하였다. 그는 생태계의 온전성 유지를 중시하지만 동물보다 식물이나 무생물을 존중해야 한다고 주장하지는 않았다.

**오답** 레오폴드의 사상은 생태 중심주의를 잘 보여 준다. 생태 중심주의에서는 인간을 자연의 일부(②)라고 여기고, 인간을 포함한 자연 전체를 하나(①)로 본다. 또한 생태 중심주의는 자연이 인간에게 주는 유용성과 관계없이 그 자체로 가치를 지닌다(③, ④)고 본다.

## 자료 분석

바람직한 대지 이용을 오직 경제적 문제뿐만 아니라, 낱알의 물음을 경제적으로 무엇이 유리한가 하는 관점뿐만 아니라 윤리적, 심미적으로 무엇이 옳은가의 관점에서도 검토하라. 생명 공동체의 통합성과 안정성 그리고 아름다운 보전에 이바지한다면, 그것은 옳다. 그렇지 않다면 그것은 그르다.

→ 레오폴드는 대지를 지배와 이용의 대상으로만 간주하는 인간 중심주의와 달리 흙과 물 포함 수많은 존재가 서로 균형을 맞추어 살아가는 공동체로 파악하고 이를 존중해야 한다고 보았다. 또한 대지가 경제적으로 인간에게 도구의 대상으로서만 사용될 수 없고, 대지는 그 자체의 온전성과 통합성을 유지해야 할 존재라고 보았다.

### 07 생태 중심주의의 특징

**정답** ② 제시문은 생태 중심주의 관점을 보여 준다. 생태 중심주의는 전일론적 관점에서 인간을 포함한 자연 전체가 끊임없이 서로 영향을 주고받으며 유기적으로 연결되어 있음을 강조한다. 또한 자연 안의 모든 존재는 평등한 가치를 지니므로 자연이 인간에게 주는 유용성과 관계없이 그 자체로 존중받을 가치가 있다고 본다.

**오답** ㄴ. 생태 중심주의 관점에서는 무생물을 포함한 생태계 전체를 도덕적 고려의 대상으로 본다. ㄹ. 생태 중심주의 관점에서 인간은 다른 동물들과 동등한 도덕적 존재이므로 인간의 필요를 위해 다른 생명체의 희생을 요구하는 것은 옳지 않다.



## 08 생태 중심주의의 한계

**정답** ⑤ A는 생태 중심주의이다. 생태 중심주의는 생태계 보전을 지나치게 강조하여 자연에 대한 인간의 개입을 허용하지 않으며, 환경 문제 해결을 위해 자연 개발을 중단해야 한다고 주장하기도 하여 비현실적이라는 비판을 받기도 한다.

### 선택지 분석

- 갑: 인간이 생태계를 보전해야 할 의무가 있는 존재임을 부정합니다.  
 → 생태 중심주의는 인간이 생태계의 구성원으로서 생태계를 보전해야 할 의무가 있다고 본다.
- 을: 인간과 자연을 분리하여 바라본다는 점에서 생태계의 안정을 위협하기도 합니다.  
 → 생태 중심주의는 인간과 자연을 분리하여 바라보지 않고, 유기적으로 연결되어 있다고 본다. 인간과 자연을 분리해서 바라보고 생태계 안정에 위협이 되는 것은 인간 중심주의 입장의 한계에 해당한다.

## 09 레오폴드의 자연관

**정답** ② 제시문의 사상가는 레오폴드이다. 레오폴드는 생태계의 균형과 안정성을 깨뜨리는 것은 옳지 않으며, 인간에게 주는 유용성과 관계없이 자연 그 자체로 가치가 있다고 본다. 골프장 건립은 주변의 생태계를 파괴할 가능성이 크다. 따라서 레오폴드는 <사레>의 A시 정책에 대해 생태계의 온전성을 훼손하므로 도덕적으로 옳지 않다(ㄱ)고 볼 것이다. 생태 중심주의 입장에서는 자연의 본래적(내재적) 가치를 강조하여 자연이 인간에게 주는 유용성과 관계없이 그 자체로 가치를 지니고 있다고 보므로, 레오폴드는 해당 지역의 생태적 가치를 우선시해야 한다(ㄴ)고 볼 것이다.

### 선택지 분석

- ㄴ. 인간은 자연을 지배할 수 있으므로 시민단체의 반대를 무시해도 된다.  
 → 레오폴드는 인간과 자연을 차별적인 존재로 보지 않을 뿐만 아니라 자연을 인간의 지배 대상으로 간주하지도 않는다.
- ㄷ. 야생 상태의 자연을 개발하지 않으면 인간의 생존이 위협받으므로 정책을 유지해야 한다.  
 → 레오폴드에 의하면 인간과 자연은 유기적 관계이며, 야생 상태의 자연을 개발하지 않아도 인간의 생존이 위협받는 것은 아니라고 본다.

## 10 유교의 자연관

**정답** ③ 제시문은 유교의 자연관을 담고 있다. 유교에서는 자연 만물이 본래의 가치를 지닌다고 보고 인간과 자연이 조화를 이루는 천인합일(天人合一)을 위해 힘써야 한다고 주장한다.

**오답** ① 동양의 자연관은 공통적으로 인간과 만물의 상호 의존성과 조화를 강조한다. ② 자연은 의식이 없는 기계라고 주장한 사상가는 데카르트이다. ④ 원인과 결과에 따라 끊임없이 변하는 우주 만물에 자비(慈悲)를 베풀어야 한다는 것은 불교의 자연관에 해당한다. ⑤ 무위(無爲)의 도에 따라 자연에 대한 어떤 개입도 정당화될 수 없음을 알아야 한다면, 무위의 도를 강조한 사상가는 도가의 노자이다.

### 자료 분석

하늘을 아버지라 하고, 땅을 어머니라 한다. 나는 그 가운데 혼연히 있다. 그러므로 천지에 가득 찬 기운은 나의 몸이요, 천지를 운용하는 원리는 나의 본성이 된다. 사람들과 나는 한배에서 나왔고, 만물은 나와 더불어 한 형제이다.

→ 유교에서는 하늘과 땅은 서로 느끼고 상응하며 맞물리면서 끊임없이 만물을 낳고 기르는 존재라고 하여 자연을 살아 있는 유기체로 파악한다.

## 11 인간과 자연의 공존을 위한 노력

**정답** ③ 생태 통로의 예시를 통해 인간과 자연의 공존을 위한 노력을 찾을 수 있다. 생태 통로는 도로 공사과 같은 개발 사업을 추진하면서도 동물이나 생태계를 보호 및 보전할 수 있는 방안의 하나로 마련된 것이다. 따라서 신문 기사를 통해 생태 통로처럼 인간과 자연의 공생을 도모하는 정책과 제도의 마련이 필요하다는 점을 추론할 수 있다.

### 선택지 분석

- ① 생태계 보전을 위해 인간의 편리를 위한 모든 개발을 중단해야 한다.  
 → 자연 보호를 위해 모든 개발을 중단하는 것은 현실적이지 않을 뿐만 아니라 인간과 자연의 바람직한 공존으로 보기 어렵다. 인간의 필요에 따라 개발이 불가피하더라도 자연 파괴를 최소화할 수 있는 방법을 찾는 것이 바람직하다.
- ② 인간의 이익을 위한 사업 계획 추진을 생태계 보전보다 중시해야 한다.  
 → 제시된 생태 통로의 사례에 의하면 인간의 이익을 추구하기 위한 사업 계획 추진과 생태계 보전의 조화로운 균형 방안을 찾을 수 있다.
- ④ 인간과 자연의 상생을 추진하는 것은 비현실적이고 불가능한 것임을 알아야 한다.  
 → 제시문에서는 인간과 자연의 공존과 상생의 방안을 마련하고자 노력하였고, 생태 통로라는 성과를 이루어냈음을 알 수 있다.
- ⑤ 동물이나 식물보다 인간을 귀한 존재로 여기는 것은 언제나 잘못된 일을 깨달아야 한다.  
 → 상황에 따라 동물이나 식물보다 인간을 귀한 존재로 여길 수도 있다.

## 12 도가의 자연관

**정답** ③ (가)는 도가의 자연관이다. 도가는 자연에 인간의 의도나 목적을 개입하여 조작이나 통제를 해서는 안 되며 자연에 순응해야 한다고 주장한다.

### 선택지 분석

- ㄱ. 인간 중심주의 관점을 취해야 한다.  
 → 도가는 인간 중심주의 관점에서 벗어나 만물을 평등하게 존중해야 한다고 본다.
- ㄴ. 인간이 모든 자연물을 관리하고 통제해야 한다.  
 → 도가는 인간을 자연의 일부라고 보기 때문에, 인간이 자연을 관리하고 통제할 수 없다고 본다.

### 자료 분석

사람은 땅을 법칙 삼아 어긋나지 않고, 땅은 하늘을 법칙 삼아 어긋나지 않으며, 하늘은 도(道)를 법칙 삼아 어긋나지 않고, 도는 자연을 법칙 삼아 어긋나지 않는다.

→ 노자에게 있어 도(道)는 우주 만물의 근원으로서 인간의 언어로 표현할 수 없는 것이지, 항상 저절로 그러한 것인 자연이다. 노자는 도는 무엇을 억지로 왜곡하거나 조작하지 않기 때문에 무위라고 강조하였다.



### 13 인간 중심주의와 생태 중심주의 비교

- (1) (가) 인간 중심주의, (나) 생태 중심주의
- (2) **모범 답안** (가) 관점은 과학기술의 발달과 경제 성장을 이루어 인간의 삶을 풍요롭게 하는 데 이바지하였다. (나) 관점은 인간이 생태계의 구성원으로서 생태계를 보전해야 할 의무가 있다는 점을 일깨워 환경 문제를 해결하는 데 도움을 주었다.
- [주요 내용]** (가) 관점의 의의로 과학기술 발달, 경제 성장, 인간의 풍요로운 삶 등을, (나) 관점의 의의로 환경 문제 해결 등을 언급하여 서술해야 함.

채점 기준	배점
(가), (나) 관점의 의의를 모두 바르게 서술한 경우	상
(가), (나) 관점의 의의 중 한 가지만 바르게 서술한 경우	하

### 14 동양의 자연관

- (1) (가) 불교, (나) 유교, (다) 도가
- (2) **모범 답안** 현대 사회는 인간 중심주의의 한계로 환경 위기가 나타났다. 이러한 상황에서 인간과 자연의 조화를 중시한 친환경적인 동양의 자연관은 환경 문제를 해결하고 인류의 지속가능한 발전을 위해 나아가야 할 방향을 제시해 주었다.
- [주요 내용]** 현대 사회의 위기를 환경 문제와 관련하여 언급하고, 이러한 문제를 해결하는 데 인간과 자연의 조화를 중시한 동양의 자연관이 시사하는 바가 있음을 서술해야 함.

채점 기준	배점
현대 사회의 위기를 환경과 관련하여 언급하고, 이러한 문제를 해결하는 데 동양의 자연관이 시사하는 바를 바르게 서술한 경우	상
현대 사회의 위기를 환경과 관련하여 언급했으나, 이러한 문제를 해결하는 데 동양의 자연관이 시사하는 바를 미흡하게 서술한 경우	하

## 03 환경 문제 해결을 위한 다양한 노력과 실천

### 빠른 정답

### 기출 선택지로 개념 확인

- |             |          |             |
|-------------|----------|-------------|
| 01 지구 온난화   | 02 열대 우림 | 03 사막화      |
| 04 미세 먼지    | 05 오존층   | 06 정부       |
| 07 친환경      | 08 감시    | 09 기업       |
| 10 환경 협약    | 11 파리    | 12 몬트리올 의정서 |
| 13 생태전환적 사고 | 14 생태시민  | 15 녹색       |

### 빠른 정답

### 실력 UP! 단골 내신 문제

- |                         |      |          |      |      |      |
|-------------------------|------|----------|------|------|------|
| 01 ②                    | 02 ⑤ | 03 ③     | 04 ③ | 05 ③ | 06 ① |
| 07 ②                    | 08 ② | 09 ④     |      |      |      |
| 10 (1) 지구 온난화 (2) 해설 참조 |      | 11 해설 참조 |      |      |      |

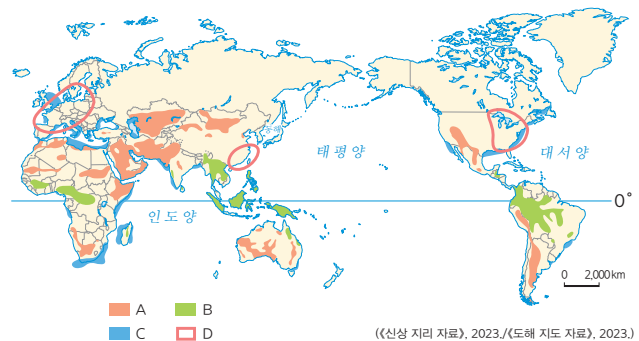
### 01 사막화 현상

- 정답** ② 몽골에서는 캐시미어를 생산하기 위해 지나치게 많은 염소와 산양을 사육하면서 목초지가 황폐화되어 사막화가 심화되고 있다.
- 오답** ① 산성비는 대기 오염 물질이 빗물과 결합하여 내리는 비이다. ③ 지구 온난화는 화석에너지 소비 증가에 따른 온실가스 배출량 증가로 지구 평균 기온이 상승하는 현상이다. ④ 오존층 파괴는 온실가스 중 하나인 염화 플루오린화 탄소의 사용량 증가로 발생한다. ⑤ 열대 우림 파괴는 무분별한 벌목, 개간, 목축으로 나타난다.

### 02 세계의 환경 문제

- 정답** ⑤ A는 사막화가 진행되는 지역, B는 열대림이 감소하는 지역, C는 해양 오염이 심한 수역, D는 산성비가 많이 내리는 지역이다. ㄴ. B 지역은 동식물의 서식지이자 지구에 산소를 공급하는 열대 우림이 파괴되어 생물종 다양성이 감소하고 있다. ㄷ. C 지역은 원유 유출, 해양 쓰레기 증가 등으로 해양 오염이 심각하다. ㄹ. D 지역은 공업이 발달한 지역으로, 산성비가 내려 건물 부식, 삼림 파괴, 토양 오염과 같은 피해가 나타난다.

#### 자료 분석



→ 사막화(A)는 사헬 지대에서, 열대 우림 파괴(B)는 남아메리카 브라질 아마존 열대 우림에서, 산성비(D)는 북서 유럽, 중국 동남부, 북아메리카 동부 등 공업이 발달한 지역에서 심각하게 나타나고 있다.

**선택지 분석**

ㄱ. A는 오존층 파괴에 따른 피해가 심각한 지역이다.  
 → 아프리카 사하라 사막 남쪽의 가장자리 지역인 사헬 지대를 비롯한 건조 기후 지역에서 피해가 심각한 것으로 보아 A는 사막화가 진행되는 지역이다.

**03 다양한 환경 문제**

**정답** ③ 해양 쓰레기는 해양 오염 및 해양 생태계 파괴의 원인입니다. 첫 번째 방에서 다음 방으로 이동할 때 '예' 문을 선택해야 합니다. 열대 우림이 파괴되면 이산화 탄소의 농도가 높아지므로, 다음으로 이동할 때 '아니오' 문을 선택해야 합니다. 오존층 파괴 문제를 해결하기 위해 체결된 국제 협약은 몬트리올 의정서이므로, '아니오'를 선택해서 방을 탈출한다. 질문을 통과하면 방을 탈출할 수 있는 문은 C이다.

**선택지 분석**

- 열대 우림 개발로 대기 중 이산화 탄소의 농도가 내려간다.  
 → 열대 우림은 이산화 탄소를 흡수하고 산소를 공급한다. 따라서 열대 우림이 파괴되면 대기 중 이산화 탄소의 농도가 올라가고, 지구 온난화가 심화한다.
- 오존층 파괴 문제를 해결하기 위해 파리 협정을 체결하였다.  
 → 파리 협정은 선진국과 개발 도상국에 모두 온실가스 감축 의무를 부여한 기후 변화 협약이다. 오존층 파괴 문제를 해결하기 위해서는 1987년 몬트리올 의정서가 체결되어 오존층 파괴 물질의 생산 및 사용이 규제되었다.

**자료 키워드 다양한 환경문제**

지구 온난화	화석에너지 소비 증가에 따른 온실가스 배출량 증가로 지구 평균 기온 상승 → 빙하 면적 감소와 해수면 상승으로 해안 저지대 침수, 각종 기상 이변 발생
열대 우림 파괴	무분별한 벌목과 경지 개간, 목축, 자원 개발 → 동식물 서식지 파괴, 생물종 다양성 감소, 토양 침식, 지구 온난화 심화
사막화	극심한 가뭄, 지나친 개간 및 목축 등으로 사막이 아니던 곳이 점차 사막으로 변함. → 토양 황폐화, 물 부족, 식량 생산량 감소, 황사 심화
대기 오염	화석에너지의 소비 증가로 오염 물질의 배출량 증가 → 미세먼지 농도 증가, 황사 심화, 스모그 현상
오존층 파괴	에어컨, 냉장고의 냉매제로 사용되는 프레온 가스(염화 플루오린화 탄소)의 사용량 증가 → 지표에 도달하는 자외선 양 증가로 피부 및 안구 질환 유발, 농작물 수확량 감소
산성비	대기 오염 물질이 빗물과 결합하여 내림. → 건축물과 조각상 부식, 삼림 파괴, 토양 오염

**04 환경 문제 해결을 위한 노력**

**정답** ③ (가)는 정부, (나)는 시민사회이다. 정부는 기업이나 개인을 대상으로 환경 정책과 에너지 절약 실천 방안을 홍보하고, 시민사회는 정부 정책을 감시하며 친환경적인 정책이 시행될 수 있도록 한다.

**선택지 분석**

갑: (가)는 상품의 생산, 유통, 폐기 과정에서 환경 오염을 최소화하려고 해요.  
 → 상품을 생산·유통·폐기하는 과정에서 환경에 미치는 부정적 영향을 최소화하려고 노력하는 주체는 기업이다.

정: (나)는 노후화된 생산 시설을 교체해 오염 물질의 배출량을 줄여요.  
 → 노후 생산 시설을 정비하여 교체하는 것은 기업이 생산 과정에서 할 수 있는 환경 문제 해결을 위한 노력에 해당한다.

**05 환경 문제를 해결하기 위한 각 주체의 노력**

**정답** ③ 'RE100'은 기업이 사용하는 전력 전부를 2050년까지 재생 에너지로 충당하겠다고 약속하는 자발적인 캠페인으로, 시민사회의 노력이 아닌 기업의 노력이다.

**자료 키워드 환경 문제 해결을 위한 다양한 노력 사례**

환경 영향 평가 제도	정부 기관이나 민간에서 대규모 개발 사업을 할 때, 환경에 미치는 영향을 예측·평가하는 제도이다. 이를 통해 환경에 끼칠 부정적 영향을 줄이는 방안을 마련하도록 한다.
지구촌 전등 끄기 캠페인	세계 자연 기금(WWF)은 에너지를 절약하여 온실가스를 줄이자는 취지로 매년 3월 마지막 주 토요일에 한 시간 동안 전 세계에서 전등 끄기 행사를 진행한다.
RE100	'재생 에너지 100%'라는 의미로, 기업이 사용하는 전력 100%를 2050년까지 태양광 등 재생 에너지로만 사용하겠다고 약속하는 자발적인 캠페인이다. G사는 풍력 에너지가 풍부한 네덜란드에 데이터 센터를 설립하고, 필요한 전력을 모두 풍력 등 재생 에너지로만 사용하고 있다.

**06 환경 문제 해결의 주체**

**정답** ① (가)는 에너지 소비 효율 등급 표시제로, 정부가 환경 문제 해결을 위해 마련한 제도이다. (나)는 기업이 하는 친환경 포장 정책으로, 일명 '3R 정책'이라고 불린다.

**자료 키워드 에너지 소비 효율 등급 표시제와 친환경 포장 정책**



에너지 소비 효율 등급 표시제는 제품의 에너지 소비 효율에 따라 1~5 등급으로 구분하여 소비 효율을 표시해 소비자들이 에너지 절약형 제품을 살 수 있도록 도움을 주는 제도이다. 정부는 2~3년 단위로 등급 기준을 높여서 기업이 에너지 효율이 높은 제품을 개발하도록 유도한다.



우리나라 일부 기업들은 상품 생산과 폐기 단계에서 환경을 생각하는 포장 '3R 정책'을 적용한다. 플라스틱 포장재 줄이기, 재활용 용이성 개선, 종이 포장재 사용 확대 등이 대표적이다.

**07 새로운 기후변화 협약, 파리 협정**

**정답** ② '온실가스 감축 목표'라는 내용을 통해 ㉠이 지구 온난화와 관련한 협약임을 알 수 있다. 2015년에 체결되어 선진국과 개발 도상국 모두에 온실가스 감축 의무를 부여한 국제 협약은 파리 협정이다.

**오답** ① 바젤 협약은 유해 폐기물의 국가 간 이동 및 교역을 규제하는 협약이다. ③ 런던 협약은 폐기물의 해양 투기에 따른 해양 오염

을 방지하기 위한 협약이다. ④ 람사르 협약은 국제적으로 중요한 습지를 보호하기 위한 협약이다. ⑤ 생물 다양성 협약은 생물종을 보호하기 위한 협약이다.

**자료 키워드** 지구 온난화와 관련된 기후변화 협약

지구 온난화 문제를 해결하기 위한 국제 협약은 1992년에 온실가스 감축에 합의하는 내용으로 처음 체결되었으며, 교토 의정서와 파리 협정을 통해 구체화되었다.

기후변화 협약 (1992)	지구 온난화를 방지하기 위하여 온실가스 감축에 대해 합의
교토 의정서(1997)	기후변화 협약에 따른 선진국의 온실가스 감축 목표치 규정
파리 협정(2015)	선진국과 개발 도상국에 모두 온실가스 감축 의무 부여

**08 생태시민으로서의 실천 방안**

**정답** ② 일회용품 사용을 줄이고 다회 용품 사용을 늘리는 챌린지를 통해 플라스틱 소비량이 줄어 폐기물 처리 비용을 줄이고 다양한 환경 오염 문제를 해결할 수 있다.

**선택지 분석**

- ㄱ. 탄소 배출량을 늘릴 수 있다.
  - 일회용품 사용을 줄이고 다회 용품을 사용하면 탄소 배출량을 줄일 수 있다.
- ㄷ. 화석에너지의 사용량을 늘릴 수 있다.
  - 플라스틱 일회용품의 사용량이 줄어들면 석유와 같은 화석에너지의 사용량도 줄일 수 있다. 대부분의 플라스틱은 석유를 원료로 하기 때문이다.

**자료 분석**



▲ '1회용품 제로' 챌린지

▲ '고고' 챌린지

→ '1회용품 제로 챌린지'와 '고고 챌린지'는 일회용품과 플라스틱의 사용을 줄이기 위해 환경부에서 시작한 챌린지이다. 생활 속에서 일회용품을 거절하고, 대체품을 사용함으로써 일상생활에서 소비되는 플라스틱 소비량을 줄일 수 있다. 예를 들어 장을 본 후 비닐봉지를 구매하는 대신 장바구니와 에코백을 사용하면 플라스틱의 사용을 줄일 수 있다.

**09 생태시민으로서의 활동**

**정답** ④ 두 학생은 환경 문제에 관심을 가지고 생활 속에서 환경 문제를 해결하기 위한 여러 가지 실천을 하고자 한다. 재활용이 가능한 종이와 플라스틱, 유리 등은 분리하여 배출해야 한다.

**자료 키워드** 친환경적인 생활 방식의 실천

- 쓰지 않는 전기 플러그 뽑기
- 자전거나 대중교통 이용하기
- 사용하지 않는 조명 끄기
- 다회용 컵 사용하기
- 올바른 방법으로 쓰레기 분리배출하기

**10 지구 온난화**

(1) 지구 온난화(기후변화)

(2) **모범 답안** 기후변화 협약, 교토 의정서, 파리 협정 / 온실가스 감축에 합의하였다.

**[주요 내용]** 기후변화 협약, 교토 의정서, 파리 협정 중 한 가지를 쓰고, 그 내용으로 온실가스 감축을 서술해야 함.

채점 기준	배점
지구 온난화, 기후변화와 관련된 환경 협약을 한 가지 이상 쓰고, 협약의 내용으로 온실가스 감축을 제시하여 바르게 서술한 경우	상
지구 온난화, 기후변화와 관련된 환경 협약을 썼으나, 협약의 내용을 미흡하게 서술한 경우	하

**11 환경 문제 해결을 위한 노력**

**모범 답안** (가) 친환경 산업을 육성하고, 자연환경 보전 및 보호를 위한 법률과 제도를 마련한다. / (나) 환경 정책 결정 과정에서 여론 형성을 통해 영향력을 행사하고, 환경 문제를 쟁점화하며 환경 캠페인을 전개한다.

**[주요 내용]** 정부의 노력으로 친환경 산업 육성, 법률과 제도 마련 등을, 시민사회의 노력으로 여론 형성, 환경 캠페인 등의 내용을 제시해서 서술해야 함.

채점 기준	배점
(가)와 (나)에 들어갈 각 주체의 노력을 한 가지씩 모두 바르게 서술한 경우	상
(가)와 (나)에 들어갈 각 주체의 노력 중 한 가지만 서술한 경우	하

**자료 키워드** 환경 문제 해결을 위한 정부의 시민사회의 노력

정부	<ul style="list-style-type: none"> <li>• 자연환경 보전, 자원 소비 절감, 환경 오염 물질 배출 규제 등을 위한 법률 제정 및 제도 마련</li> <li>• 친환경 산업 육성</li> <li>• 환경 교육 활성화</li> <li>• 국제 사회의 노력에 동참하여 다양한 환경 협약에 가입</li> </ul>
시민사회	<ul style="list-style-type: none"> <li>• 정부와 기업의 활동이 환경에 나쁜 영향을 끼치지 않는지 감시</li> <li>• 개인들이 환경친화적인 활동을 하도록 지원</li> <li>• 여러 국가의 시민단체와 연대하여 환경 보전을 위한 시민운동 전개</li> </ul>

# IV

## 문화와 다양성

61~63쪽

### 01 다양한 문화권의 특징

#### 빠른 정답

#### 기출 선택지로 개념 확인

- 01 문화권
- 02 점이 지대
- 03 쌀
- 04 힌두교
- 05 농경
- 06 계절풍
- 07 동아시아
- 08 건조, 이슬람교
- 09 부족
- 10 크리스티교
- 11 지중해성, 수목
- 12 동부
- 13 리오그란데강
- 14 라틴 아메리카
- 15 북극
- 16 개신교

#### 빠른 정답

#### 실력 UP! 단골 내신 문제

- 01 ②
  - 02 ③
  - 03 ②
  - 04 ②
  - 05 ④
  - 06 ⑤
  - 07 ⑤
  - 08 ③
  - 09 ③
  - 10 ④
- 11 (1) 건조(이슬람) 문화권, 이슬람교 (2) 해설 참조  
12 해설 참조

### 01 문화와 문화권의 특징

**정답** ② 문화는 한 사회의 구성원들이 공유하고 있는 생활양식이다. 문화는 의식주와 같은 유형적인 요소와 언어, 종교, 풍습 등의 무형적인 요소로 구성된다. 문화권은 보통 큰 산맥, 대하천, 사막 등 지형에 의해 경계가 구분되는데, 서로 다른 문화권이 만나는 지역에서는 보통 점이 지대가 나타난다.

#### 선택지 분석

- ㄴ. 자연환경이 같으면 동일한 문화권을 형성한다.  
→ 자연환경이 같아도 인문환경이 다르다면 서로 다른 문화권을 형성한다.
- ㄹ. 하나의 문화권 내에 사는 사람들은 비슷한 자연 경관을 만든다.  
→ 문화 경관

### 02 기후에 따라 다르게 형성된 의복 문화

**정답** ③ 제시된 사진은 각각 열대 기후 지역, 한대 기후 지역의 전형적인 의복을 보여 준다. 열대 기후 지역은 높은 기온 때문에 통풍이 잘되는 개방적인 형태의 간단한 의복 문화가 형성되었고, 한대 기후 지역에서는 추운 기후에 대응하기 위해 보온에 유리한 털옷, 가죽옷 등의 의복 문화가 발달했다.

### 03 산업과 문화권

**정답** ② (가)는 벼농사가 이루어지는 지역이고, (나)는 첨단 산업이 발달한 지역이다. 첨단 산업이 발달한 지역은 벼농사 지역과 비교하여 도시적인 생활양식이 나타난다.

**오답** ① 농경 문화권에서는 정착 생활, 유목 문화권에서는 이동 생

활을 한다. ③ 농경 문화권에서는 함께 농사일을 하여 공동체 문화가 발전했다. ④ 주민의 1인당 노동 생산성은 첨단 산업이 발달한 지역이 더 높다. ⑤ 농경 문화권에서는 계절 변화에 따라 파종, 수확 등 농사일이 달라져 농번기와 농한기라는 생활의 리듬이 있다.

#### 자료 키워드 산업과 문화권

농경 문화권	<ul style="list-style-type: none"> <li>• 정착 생활을 하며 함께 농사일을 하는 공동체 문화가 발달함.</li> <li>• 재배하는 작물의 생장과 수확에 따라 농번기와 농한기라는 생활의 리듬이 있고, 수확 시기에는 축제를 열기도 함.</li> </ul>
유목 문화권	<ul style="list-style-type: none"> <li>• 물과 풀을 찾아 이동 생활을 하며 가족을 기름.</li> <li>• 의식주 재료의 대부분을 가축으로부터 얻음.</li> </ul>
상공업 중심의 문화권	<ul style="list-style-type: none"> <li>• 거주지와 직장으로 이동을 반복하는 출퇴근 문화가 형성됨.</li> <li>• 산업 시설과 고층 건물 등이 밀집한 도시 경관과 도시적 생활양식이 나타남.</li> </ul>

### 04 베트남과 멕시코의 음식 문화

**정답** ② ㉠은 대표적인 음식이 쌀국수인 베트남이고, ㉡은 대표적인 음식이 토르티야인 멕시코이다. 멕시코는 라틴 아메리카 문화권, 베트남은 동남아시아 문화권에 속한다.

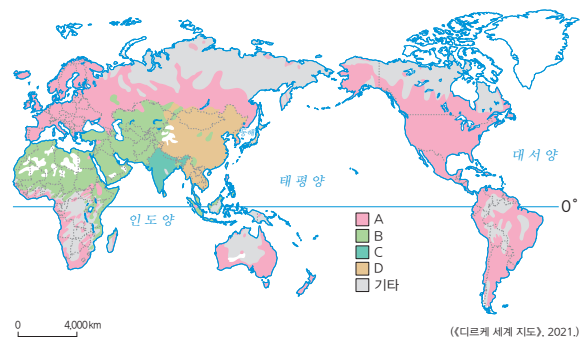
#### 선택지 분석

- ① ㉠은 유럽 문화권에 속한다.  
→ 동남아시아 문화권
- ③ ㉠은 ㉡보다 수도의 연평균 기온이 낮다.  
→ 베트남의 수도 하노이는 고산 지대에 위치한 멕시코의 수도 멕시코시티보다 연평균 기온이 높다.
- ④ ㉡에는 ㉠보다 불교 신자가 많다.  
→ 베트남에는 종교가 없거나 불교를 믿는 사람이 많고, 멕시코에는 크리스티교(가톨릭교) 신자가 많다.
- ⑤ ㉠과 ㉡은 모두 여름철 계절풍의 영향으로 한랭 건조하다.  
→ 베트남은 여름철 계절풍의 영향으로 고온 다습하다.

### 05 종교의 영향을 받아 형성된 문화권

**정답** ④ A는 크리스티교, B는 이슬람교, C는 힌두교, D는 불교이다. ④는 이슬람교에만 해당하는 설명이다. 이슬람교에서는 돼지를 불결한 동물로 여기며, 먹기를 꺼려했다. ① 크리스티교의 신자들은 주일마다 성당이나 교회에 가서 예배를 드린다. ② 힌두교는 크리스티교, 이슬람교와 달리 수많은 신을 인정하고 숭배하는 다신교이다. ③ 불교는 개인의 수양과 해탈을 중요시한다. ⑤ 힌두교와 불교의 발상지는 모두 인도이다.

#### 자료 분석





- A: 유럽 문화권과 아메리카 문화권에 많이 분포하는 것으로 보아 크리스티교이다.
- B: 건조 문화권에 분포하는 것으로 보아 이슬람교이다.
- C: 인도에 집중적으로 분포하는 것으로 보아 힌두교이다.
- D: 동아시아를 비롯한 아시아 지역에 분포하는 것으로 보아 불교이다.

## 06 세계의 문화권

**정답** ⑤ A는 북극 문화권, B는 유럽 문화권, C는 건조 문화권, D는 앵글로아메리카 문화권, E는 라틴 아메리카 문화권, F는 오세아니아 문화권이다. 앵글로아메리카 문화권(D)에는 유럽의 문화가 전파되었고, 이후 높은 수준의 경제 발전을 이루었다. 라틴 아메리카 문화권(E)에서는 과거 남부 유럽의 식민 지배 영향으로 에스파냐어와 포르투갈어를 사용하고, 가톨릭교도의 비율이 높다.

### 선택지 분석

- ㄱ. A와 B는 주로 초원과 사막으로 이루어져 있다.  
 → A는 주로 한대 기후가 나타나 연중 눈과 얼음으로 덮여 있거나 짧은 여름에 이끼류가 자라며, B는 대부분 온대·냉대 기후 지역으로 다양한 지형이 나타난다. 대부분 초원과 사막으로 이루어진 곳은 C이다.
- ㄴ. C와 F의 주민들은 대부분 소를 신성시하는 종교를 믿는다.  
 → 소를 신성시하는 종교는 힌두교이고, 건조 문화권 주민들은 대부분 이슬람교를, 오세아니아 문화권 주민들은 대부분 크리스티교(개신교)를 믿는다.

### 자료 키워드 아메리카 문화권

앵글로아메리카 문화권	<ul style="list-style-type: none"> <li>• 리오그란데강 북쪽 지역으로, 과거 북서 유럽의 식민 지배를 받아 주로 영어를 사용하고 개신교를 믿음.</li> <li>• 산업이 발달한 세계 경제의 중심지이며 세계적인 농산물 수출 지역이기도 함.</li> <li>• 유럽계, 아프리카계, 히스패닉, 아시아계 이민자 등의 유입으로 민족 구성이 다양함.</li> </ul>
라틴아메리카 문화권	<ul style="list-style-type: none"> <li>• 리오그란데강 남쪽 지역으로, 과거 남부 유럽의 식민 지배를 받아 주로 에스파냐어와 포르투갈어를 사용하고 가톨릭교를 믿음.</li> <li>• 원주민, 유럽에서 온 백인, 아프리카에서 강제로 이주한 흑인, 그리고 이들의 혼혈인이 만든 다양하고 독특한 문화가 나타남.</li> </ul>

## 07 오세아니아 문화권

**정답** ⑤ 유럽 문화가 전파되어 주민들이 개신교를 믿고 영어를 사용하며, 애버리지니, 마오리족 등의 원주민들이 거주하는 곳은 오세아니아 문화권(F)이다. 오세아니아 문화권은 오스트레일리아와 뉴질랜드를 중심으로 소, 양 등을 키우는 목축업이 발달했으며, 청정한 자연환경을 바탕으로 관광 산업도 발달했다.

## 08 북극 문화권

**정답** ③ A는 북극 문화권이다. A는 한대 기후가 나타나 주민들이 순록을 유목하거나 사냥을 통해 먹을 것을 구하며, 최근 기후변화로 그린란드와 같이 농업이 가능해진 곳이 있다.

**오답** ㄱ. 북극 문화권의 주민들은 몽골계이며, 사모예드족, 이누이트, 네네츠족 등이 대표적이다. 유럽에서 이주한 백인이 주민 대

부분인 곳으로 오세아니아 문화권을 들 수 있다. 정. 이슬람교가 주민 생활양식에 전반적으로 큰 영향을 미치는 문화권은 건조 문화권(C)이다.

## 09 건조 문화권의 특징

**정답** ③ 사막, 초원, 유목, 석유 등의 특징과 관련이 깊은 ㉠은 건조 문화권이다. 건조 문화권 주민들이 주로 믿는 종교인 ㉡은 이슬람교이다. 건조 문화권에서 물을 얻을 수 있는 곳은 오아시스와 하천 주변이 주를 이룬다.

**오답** ① 건조 문화권은 북부 아프리카, 서남아시아, 중앙아시아의 건조 기후 지역에 분포한다. 사하라 사막 남쪽의 아프리카는 아프리카 문화권에 속한다. ② 건조 문화권의 주민들은 주로 아랍어를 사용한다. ④ 건조 문화권에서는 낙타, 양, 염소 등을 사육한다. 돼지는 유목을 통해 사육하기 어려운 동물이다. ⑤ ㉡에는 이슬람교가 들어갈 수 있다.

## 10 세계의 문화권

**정답** ④ A는 유럽, B는 아프리카, C는 남부 아시아, D는 동아시아, E는 라틴 아메리카 문화권이다. 동아시아 문화권은 유교와 불교의 영향을 받은 생활양식이 나타나며, 한자와 젓가락 사용이라는 문화적 공통점이 나타난다.

### 선택지 분석

- ① A: 부족 단위의 공동체 문화와 토속 신앙이 발달하였다.  
 → 아프리카 문화권(B)에 대한 설명이다.
- ② B: 대부분 건조 기후가 나타나 유목과 오아시스 농업을 한다.  
 → 건조 문화권에 대한 설명이다.
- ③ C: 여름철 고온 건조한 지중해성 기후가 나타나 수목 농업이 이루어진다.  
 → 유럽 문화권 중 남부 유럽 문화권에 대한 설명이다.
- ⑤ E: 과거 북서 유럽의 식민 지배 영향으로 영어를 사용하는 주민들의 비율이 높다.  
 → 앵글로아메리카 문화권에 대한 설명이다.

## 11 요르단의 화폐와 건조 문화권

- (1) 건조(이슬람) 문화권, 이슬람교
- (2) **모범 답안** 요르단에는 사막 기후가 널리 나타나는데, ‘구트라’라고 불리는 천은 사막의 강한 햇빛과 모래바람을 막아주는 역할을 한다.

**[주요 내용]** 요르단에 사막 기후가 나타남을 밝히고, 이와 관련하여 구트라의 기능이 강한 햇빛과 모래바람의 차단이라는 사실을 서술해야 함.

채점 기준	배점
사막 기후를 쓰고, 구트라의 기능을 기후와 관련지어 서술한 경우	상
사막 기후를 썼으나, 구트라의 기능을 기후와 미흡하게 관련지어 서술한 경우	중
사막 기후만 쓴 경우	하



자료 분석



국왕은 머리에 강한 햇빛과 모래바람으로부터 얼굴을 보호하기 위한 '구트라'라는 천을 두르고 있음.



이슬람교의 성지 중 하나인 예루살렘의 알 아크사 모스크(바위의 돐)이 그려져 있음.

## 12 아메리카 문화권의 특징

**모범 답안** A는 앵글로아메리카 문화권, B는 라틴 아메리카 문화권이다. A와 B는 모두 과거에 유럽의 식민 지배를 받아 크리스티교를 믿는 주민이 많으며, 세계 각지에서 이주자가 모여든 지역이다. 그러나 A는 북서 유럽의 식민 지배를 받아 주로 영어를 사용하고 개신교를 믿는 주민의 비율이 높지만, B는 남부 유럽의 식민 지배를 받아 주로 에스파냐어와 포르투갈어를 사용하고 가톨릭교를 믿는 주민의 비율이 높다.

**[주요 내용]** 공통점으로 유럽의 식민 지배를 받았다는 점, 이민자가 모여들었다는 점을 언급해야 함. 그리고 북서 유럽과 남부 유럽의 식민 지배 차이로 언어와 종교에 차이가 난다는 점을 서술해야 함.

채점 기준	배점
네 가지 측면에서 A와 B 문화권의 공통점과 차이점을 모두 바르게 서술한 경우	상
세 가지 측면에서 A와 B 문화권의 공통점과 차이점을 서술한 경우	중
두 가지 측면에서 A와 B 문화권의 공통점과 차이점을 서술한 경우	하

66~69쪽

## 02 문화 변동과 전통문화

### 빠른 정답

- |          |          |          |
|----------|----------|----------|
| 01 문화 변동 | 02 발견    | 03 발명    |
| 04 자극    | 05 매개체   | 06 직접 전파 |
| 07 문화 접변 | 08 문화 융합 | 09 문화 병존 |
| 10 문화 동화 | 11 문화 융합 | 12 문화 병존 |
| 13 문화 동화 | 14 자발적   | 15 강제적   |
| 16 전통문화  | 17 창조적   |          |

### 기출 선택지로 개념 확인

### 빠른 정답

- |                        |      |                        |      |      |      |
|------------------------|------|------------------------|------|------|------|
| 01 ③                   | 02 ② | 03 ③                   | 04 ⑤ | 05 ④ | 06 ① |
| 07 ②                   | 08 ⑤ | 09 ⑤                   | 10 ② | 11 ⑤ | 12 ⑤ |
| 13 ①                   | 14 ⑤ | 15 (1) 해설 참조 (2) 해설 참조 |      |      |      |
| 16 (1) 해설 참조 (2) 해설 참조 |      |                        |      |      |      |

### 실력 UP! 단골 내신 문제

## 01 문화 변동의 요인

**정답** ③ 최근 우리나라의 드라마가 전 세계로 퍼지면서 한류 열풍이 불고 있는데, 이는 매개체를 통해 간접적으로 문화 요소가 전해지는 간접 전파의 사례이다.

### 선택지 분석

- 페니실린이나 흑점은 **발명** 사례에 해당한다. → 발견의 사례이다.
- 신라 시대의 이두 문자는 **직접 전파**의 사례이다. → 자극 전파의 사례이다.
- 발명, 발견은 문화 변동의 **외재적 요인**에 해당한다. → 문화 변동의 내재적 요인에 해당한다.
- 간다라 양식의 전파는 문화 변동의 **내재적 요인**에 해당한다. → 문화 변동의 외재적 요인에 해당한다.

## 02 직접 전파와 발견

**정답** ② (가)는 직접 전파의 사례이고, (나)는 발견의 사례이다. 직접 전파는 서로 다른 문화에 속해 있는 사람들이 교역이나 전쟁과 같이 직접적인 접촉을 하는 과정에서 문화 요소가 전해진다.

### 선택지 분석

- (가)는 **내재적 요인**에 의한 문화 변동의 사례이다. → 외재적 요인에 의한 문화 변동 사례이다.
- (나)는 **외재적 요인**에 의한 변동의 사례이다. → 내재적 요인에 의한 문화 변동 사례이다.
- (나)에서는 한 사회의 문화 요소가 다른 사회로 전파되었다. → 이미 존재하고 있었지만 아직 세상에 알려지지 않은 문화 요소를 찾아냈다.
- (가)는 (나)와 달리 새로운 문화 요소가 만들어진다. → (가)는 다른 사회의 문화가 전파된 것이고, (나)는 존재했지만 알려지지 않은 문화 요소를 찾아낸 것이다.

## 03 문화 변동 요인

**정답** ③ ① 문화 변동의 내재적 요인에는 발명과 발견이 있는데, 발명은 이전에 존재하지 않던 문화 요소를 새롭게 만드는 것이다. ② 문화 변동의 외재적 요인은 문화 전파이다. 문화 전파는 인적 교류나 매개체 등을 통해 한 문화가 다른 문화와 교류하고 접촉하는 과정에서 새로운 문화 요소가 전달되는 것이다. ③ 원에서 문익점을 통해 목화가 전래된 사례는 직접 전파에 해당한다. 직접 전파는 서로 다른 문화에 속해 있는 사람들이 교역이나 전쟁과 같이 직접적인 접촉을 하는 과정에서 문화 요소가 전해지는 것이다.

### 자료 키워드 문화 변동의 내재적 요인과 외재적 요인

내재적 요인	발명	이전에 존재하지 않던 문화 요소를 새롭게 만드는 것
	발견	이미 존재하고 있었지만 아직 세상에 알려지지 않은 문화 요소를 찾아내는 것
외재적 요인	직접 전파	서로 다른 문화에 속해 있는 사람들이 교역이나 전쟁과 같이 직접적인 접촉을 하는 과정에서 문화 요소가 전해짐.
	간접 전파	인쇄물, 인터넷 등과 같은 매개체를 통해 간접적으로 문화 요소가 전해짐.
	자극 전파	다른 사회의 문화 요소에서 아이디어를 얻어 새로운 문화 요소가 만들어짐.

## 04 문화 변동 요인

**정답** ⑤ (가)는 이전에 존재하지 않던 문화 요소를 새롭게 만들어 내는 발명의 사례이고, (나)는 자극 전파의 사례이다. 자극 전파는 문화 변동의 외재적 요인이며, 다른 사회의 문화 요소에서 아이디어를 얻어 새로운 문화 요소가 만들어지기 때문에 발명을 통한 문화 변동이 나타난다.

### 선택지 분석

**갑:** (가)는 문화가 내재적 요인에 의해서 변동된 사례로 **발견**에 해당해.

→ 발명에 해당한다.

**을:** (나)는 매개체를 통해 문화 요소가 전달되고 있어.

→ 백인들과의 직접 접촉을 통해서 영어가 전해졌으므로 매개체를 통한 문화 요소의 전달은 나타나 있지 않다.

## 05 문화 변동의 양상

**정답** ④ (가)는 다양한 종교와 이와 관련한 문화가 공존하고 있으므로 문화 병존에 해당한다. 문화 병존은 기존의 문화 요소와 전파된 다른 사회의 문화 요소가 고유한 정체성을 유지하면서 공존하는 현상이다. (나) 원주민 문화가 유럽인의 문화로 대체되어 소멸하였으므로 문화 동화에 해당한다. 문화 동화는 다른 사회의 문화 요소가 전파되었을 때 기존 문화가 다른 사회의 문화 체계로 흡수되거나 대체되어 소멸하는 현상이다. (다) 온돌 문화와 서양의 건축 문화가 결합하여 새로운 아파트 문화가 나타났으므로, 문화 융합에 해당한다. 문화 융합은 기존 문화 요소와 전파된 다른 사회의 문화 요소가 결합하여 이전 두 문화와 성격이 다른 새로운 문화가 나타나는 현상이다.

### 자료 키워드 문화 접변으로 나타난 문화 변동의 양상

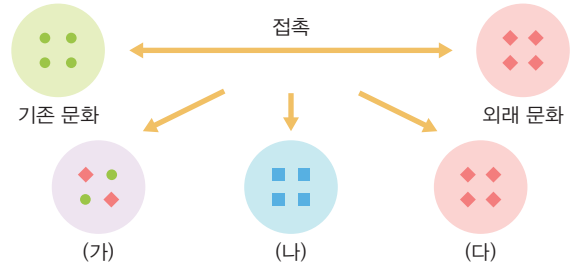
문화 병존	기존의 문화 요소와 전파된 다른 사회의 문화 요소가 고유한 정체성을 유지하면서 공존하는 현상
문화 융합	기존 문화 요소와 전파된 다른 사회의 문화 요소가 결합하여 이전 두 문화와 성격이 다른 새로운 문화가 나타나는 현상
문화 동화	다른 사회의 문화 요소가 전파되었을 때 기존 문화가 다른 사회의 문화 체계로 흡수되거나 대체되어 소멸하는 현상

## 06 문화 변동의 양상

**정답** ① (가)는 문화 병존, (나)는 문화 융합, (다)는 문화 동화이다. 문화 병존은 기존의 문화 요소와 전파된 다른 사회의 문화 요소가 고유한 정체성을 유지하면서 공존하는 현상이다.

**오답** ② 기존 문화 요소가 다른 사회의 문화 요소로 대체된 것은 (다) 문화 동화이다. ③ (가) 문화 병존과 (다) 문화 동화 모두 사회 구성원들이 새로운 문화 요소를 접할 수 있다. ④ (나) 문화 병존은 고유문화의 정체성을 유지하고, (다) 문화 동화는 고유문화의 정체성을 상실한다. ⑤ 문화 변동의 과정에서 모두 새로운 문화 요소가 나타났지만, 서로 다른 문화 요소가 결합하여 새로운 문화 요소가 나타나는 것은 (나) 문화 융합이다.

### 자료 분석



→ 문화 변동의 양상을 도식화 하면 위와 같다. 기존 문화 요소와 외래문화 요소가 공존하면 (가) 문화 병존, 기존 문화 요소와 외래문화 요소가 결합하여 새로운 문화가 나타나면 (나) 문화 융합, 기존 문화 요소가 외래문화 요소에 의해 소멸되면 (다) 문화 동화이다. 다만, 문화 융합은 기존 문화와 외래문화가 합쳐져서 만들어진 새로운 문화지만, 기존 문화의 정체성은 사라지지 않는다.

## 07 문화 융합

**정답** ② 강화 성당은 문화 융합의 사례이다. ㄱ. 전통 의복이 서구 의복 문화와 만나 새로운 의복을 만든 것, ㄴ. 전통 음식과 외국 음식이 만나 제3의 음식이 나타난 것은 문화 융합의 사례에 해당한다.

**오답** ㄴ. 한 부족이 사용하던 고유 언어가 사라지고 유입된 언어가 보편화되었으므로 문화 동화의 사례이다. ㄷ. 전통 종교와 다른 사회에서 유입된 종교가 공존하고 있으므로 문화 병존의 사례이다.

### 자료 키워드 동서양 문화의 융합

성공회 강화 성당은 겉모양은 전통 한옥 건축 양식이나 내부는 기독교 교회의 전형적인 건축 양식인 바실리카 양식이 나타나는 새로운 형태의 성당이다. 뿐만 아니라 성당 외부에는 불교 사찰에서 사용하는 범종이 있는데 범종의 표면은 크리스트교의 상징인 십자가가 새겨져 있다. 이렇듯 성공회 강화 성당은 동양의 문화와 서양의 문화가 혼재된 새로운 양식이다.

## 08 문화 변동

**정답** ⑤ ㄷ. 무역로를 오가는 아라비아 상인의 영향으로 이슬람교가 전파되었으므로 직접 전파의 사례이다. ㄴ. 오늘날 말레이시아에는 다양한 종교가 나란히 존재하고 있으므로 문화 병존에 해당한다.

### 선택지 분석

ㄱ. 자극 전파의 양상이 나타난다.

→ 자극 전파는 전파된 다른 사회의 문화 요소에서 아이디어를 얻어 새로운 문화 요소가 나타나야 한다.

ㄴ. 강제적 문화 접변의 양상이 나타난다.

→ 강제적 문화 접변은 문화를 전달하는 주체의 힘이 문화를 수용하는 주체의 힘보다 강력하여 문화 요소가 강제적으로 이식되어 나타나는 것인데 접변 과정에서 강제성 여부에 대한 언급이 없으므로 알 수 없다.

## 09 문화 변동의 양상

**정답** ⑤ A는 문화 병존, B는 문화 융합이다. 하나의 문화 요소가 다른 문화 요소에 흡수되는 것은 문화 동화이므로 (가)에 들어갈 질문으로 적절하다.

**선택지 분석**

- ① A는 문화 융합, B는 문화 병존이다. → A 문화 병존, B 문화 융합이다.
- ② B의 사례로 우리나라에서 양력설과 음력설을 모두 쇠는 것을 들 수 있다. → 문화 병존의 사례이다.
- ③ A는 B와 달리 문화의 자발적 접변에 해당한다.  
→ 제시된 자료만으로는 문화 접변 과정에서의 강제성 여부는 알 수 없다.
- ④ ㉠에는 '예', ㉡에는 '아니요' ㉢에는 '예'가 들어가야 한다.  
→ 문화 병존과 문화 융합 모두 문화의 다양성이 증대되므로 ㉠은 '예'이고, 자문화의 정체성 역시 모두 유지되므로 ㉡은 '예'이다. 새로운 문화 요소가 만들어지는 것은 문화 융합에 해당하므로 ㉢은 '아니요'이다.

**10 문화 융합**

**정답** ② 프랑스식 바게트를 활용하여 새로운 베트남식 샌드위치인 반미를 만들었으므로 문화 융합의 사례이다. 문화 융합은 새로운 문화 요소가 창조되고, 문화 요소의 다양성이 증대되므로 옳은 판단을 한 것은 옳이다.

**오답** 반미는 베트남과 프랑스의 음식 문화가 결합되어 두 문화의 특성이 나타나므로 고유 문화 정체성이 유지되고 있다. 또한 반미 사례와 같은 문화 융합은 일반적으로 장기간에 걸쳐 이루어진다.

**11 문화 변동**

**정답** ⑤ 제3의 문화 요소가 나타나려면 서로 다른 두 요소가 혼합된 새로운 문화 요소가 나타나야 하는데 영어는 유럽인들이 전파한 문화 요소이므로 제3의 문화 요소라고 볼 수 없다.

**선택지 분석**

- ① ㉠ - 문화 전파가 나타나고 있다.  
→ 한 문화가 다른 문화와 교류하고 접촉하는 과정에서 새로운 문화 요소가 전달되고 있으므로 문화 전파가 나타나고 있다.
- ② ㉡ - 강제적 문화 접변에 해당한다.  
→ 원주민의 언어를 사용하지 못하게 강제하는 정책을 실시하는 것은 강제적 문화 접변에 해당한다.
- ③ ㉢ - 직접 전파에 해당한다.  
→ 백인 교사들에 의해 문화가 전파되고 있으므로 직접 전파의 사례이다.
- ④ ㉣ - 문화 동화가 나타나고 있다.  
→ 원주민 언어가 소멸되고 영어로 대체되었으므로 문화 동화가 나타나고 있다.

**12 문화 변동**

**정답** ⑤ (가)는 직접 전파, (나)는 간접 전파의 사례이다. (가)와 (나) 사례에 나타난 문화 변동의 공통점은 다른 사회의 문화가 전파되었고 그 문화를 구성원들이 자발적으로 받아들였다는 것이다.

**선택지 분석**

- ① 자국 문화의 소멸이 발생하였다.  
→ 자국의 문화가 소멸되었다는 점은 나타나 있지 않다.
- ② 직접 전파에 의한 문화 변동이 나타났다.  
→ (가)에는 직접 전파가 나타났고, (나)에는 간접 전파가 나타났다.
- ③ 내재적 요인에 의한 문화 변동이 나타났다.  
→ 외재적 요인에 의한 문화 변동이 나타났다.
- ④ 매개체를 통한 문화 요소의 전달이 나타났다.  
→ (나)의 사례에만 해당한다.

**13 전통문화의 의의와 발전 방안**

**정답** ① 공동체의 결속을 다지고 공감대를 형성하는 것은 한 사회를 유지하고 통합하는 데 도움을 준다.

**자료 키워드 전통문화의 사회적 역할**

전통문화에는 오랜 역사로 이어진 한 사회의 가치가 담겨 있고, 고유한 문화 정체성을 유지시키는 기능을 한다. 또한 사회 유지와 통합에 도움을 주고 인류의 문화 다양성 증진에 이바지하며 사회 구성원의 자긍심을 고취하고 국가 이미지를 높여 문화 산업을 육성하는 데 도움을 준다.

**14 전통문화의 의의와 발전 방안**

**정답** ⑤ 현대적인 온돌 난방은 전통 방식의 온돌 난방을 현대식 보일러 기술과 결합시켜 개량한 것이다. 이러한 사례는 전통문화를 단순히 보존하는 데 그치는 것이 아니라 새로운 요소를 가미하여 현대적으로 발전시킨 것이다.

**자료 키워드 전통문화의 창조적 계승**

전통문화의 창조적 계승은 과거의 것을 단순히 보존하고 유지하는 것이 아니라 전통이 지닌 고유한 가치를 재해석하여 창조하는 방안을 모색하는 것이다. 전통문화를 창조적으로 계승하기 위해서는 현대적 감각에서 전통문화가 현대의 새로운 문화 요소와 조화를 이루도록 재구성해야 한다. 또한 전통문화의 고유성과 독창성을 지키면서 비판적 관점에서 능동적으로 다른 사회의 문화를 수용해야 한다.

**15 문화 변동의 요인 및 문화 접변의 양상**

- (1) (가)와 (나) 모두 직접 전파가 나타났다.
- (2) **모범 답안** (가)는 문화 전달 주체의 힘이 문화 수용 주체의 힘보다 강력할 때 발생하는 강제적 문화 접변이다. (나)는 문화 요소를 수용하는 주체가 전파된 문화 요소를 스스로 받아들이는 자발적 문화 접변이다.  
**【주요 내용】** 문화 수용 주체의 자발성에 따라 강제적 문화 접변과 자발적 문화 접변으로 분류하는데, 강제적 문화 접변은 문화를 전달하는 주체의 힘이 강한 경우이고 자발적 문화 접변은 문화를 수용하는 주체가 문화 요소를 자발적으로 받아들이는 경우임을 서술해야 함.

채점 기준	배점
문화 수용 주체의 자발성 측면에서 강제적 문화 접변과 자발적 문화 접변에 대한 설명을 서술한 경우	상
강제적 문화 접변과 자발적 문화 접변이라고만 서술한 경우	하

**16 문화 융합**

- (1) 멕시코의 과달루페 성모상, 우리나라의 성공회 강화 성당 등
- (2) **모범 답안** 문화 융합은 자문화의 정체성을 상실하지 않으면서 새로운 문화를 창조한다는 점에서 문화의 다양성이 늘어나는 데 도움을 준다.  
**【주요 내용】** 문화 융합이 자문화의 정체성을 상실하지 않고 새로운 문화를 창조할 수 있어 문화적 다양성을 실현하라는 내용을 서술해야 함.

채점 기준	배점
자문화 정체성 유지와 문화적 다양성 실현의 내용을 모두 포함하여 서술한 경우	상
자문화 정체성 유지와 문화적 다양성 실현의 내용 중 한 가지만 서술한 경우	하

73~77쪽

## 03 ~ 04 문화 상대주의와 보편 윤리 ~ 다문화 사회와 문화적 다양성 존중

**빠른 정답** ✓

**기출 선택지로 개념 확인**

- |             |         |           |
|-------------|---------|-----------|
| 01 자문화 중심주의 | 02 사대주의 | 03 상대주의   |
| 04 특수성      | 05 극단적  | 06 보편 윤리  |
| 07 황금률      | 08 성찰   | 09 다문화 사회 |
| 10 이주민      | 11 노동력  | 12 다양성    |
| 13 관용       | 14 동화주의 | 15 다문화주의  |

**빠른 정답** ✓

**실력 UP** 단골 내신 문제

- |                          |      |      |                         |      |      |
|--------------------------|------|------|-------------------------|------|------|
| 01 ⑤                     | 02 ⑤ | 03 ⑤ | 04 ③                    | 05 ④ | 06 ② |
| 07 ②                     | 08 ⑤ | 09 ② | 10 ⑤                    | 11 ⑤ | 12 ① |
| 13 ②                     | 14 ③ | 15 ② | 16 ①                    | 17 ④ |      |
| 18 (1) 문화 상대주의 (2) 해설 참조 |      |      | 19 (1) 다문화 사회 (2) 해설 참조 |      |      |

### 01 자문화 중심주의와 문화 사대주의의 특징

**정답** ⑤ 같은 자문화 중심주의, 이른 문화 사대주의 태도를 보이고 있다. A 영역은 자문화 중심주의만의 특성을, B 영역은 자문화 중심주의와 문화 사대주의의 공통 특성을, C 영역은 문화 사대주의만의 특성을 나타내는 부분이다. 자문화 중심주의는 자신의 문화를 가장 우월하다고 보고 다른 문화는 열등하다고 생각하는 태도이고, 문화 사대주의는 다른 문화를 맹목적으로 동경하여 자기 문화를 열등하다고 여기는 태도(ㄹ)이다. 자문화 중심주의와 문화 사대주의 모두 문화를 평가하는 절대적인 기준이 있다고 보고 그 기준에 비추어 문화의 우열을 가릴 수 있다고 보는 문화 절대주의(ㄷ)에 해당한다.

**선택지 분석**

- ㄱ. A: 자기 문화에 대한 정체성은 필요 없다고 본다.  
→ 자문화 중심주의는 자기 문화에 대한 정체성과 자부심이 강한 태도이다.
- ㄴ. A: 각 문화는 고유한 의미와 가치가 있다고 보고 문화의 특수성을 인정한다. → 문화 상대주의의 특징이다.

### 02 자문화 중심주의의 한계

**정답** ⑤ 대명혼일도에 나타난 중화사상은 중국의 자문화 중심주의를 보여 주는 사례이다. 자문화 중심주의의 태도로 문화를 본다면 다


른 문화와의 갈등을 초래할 수 있으며, 국수주의로 이어져 자기 문화의 발전 가능성을 저해할 수 있다.

**선택지 분석**

- 문화 간에는 우열이 있음을 간과하고 있다.  
→ 자문화 중심주의는 문화 절대주의에 해당하는 태도로, 문화 절대주의는 문화 간 우열을 가릴 수 있다고 여긴다.
- 자기 사회의 통합을 저해할 수 있음을 간과하고 있다.  
→ 자문화 중심주의는 자신의 문화를 기준으로 다른 문화를 평가하기 때문에 자기 사회의 통합에는 이바지할 수 있지만, 다른 문화를 차별하는 원인이 되어 갈등을 일으킬 수 있다.
- 다른 문화를 맹목적으로 동경하는 태도를 버려야 함을 간과하고 있다. → 다른 문화를 맹목적으로 동경하는 태도는 문화 사대주의이다.
- 자기 문화에 관한 주체성과 자부심이 약화될 수 있음을 간과하고 있다.  
→ 자문화 중심주의는 자기 문화에 관한 주체성과 자부심을 강화할 수 있다. 자기 문화에 관한 주체성과 자부심을 약화시킬 수 있는 태도는 문화 사대주의이다.

**자료 분석**

• 대명혼일도



대명혼일도는 명나라 초기에 제작된 지도로, 중국을 지도의 중심에 두고 아프리카, 유럽, 인도, 한국, 일본 등을 주변에 배치해 중국이 세계의 중심이라는 중화사상을 잘 보여준다.

### 03 문화 상대주의의 특징

**정답** ⑤ 문화 상대주의는 각 문화가 지닌 고유한 가치를 인정하며, 문화 간 우열을 가리지 않는 태도(㉠)이다. 문화 상대주의는 각 문화가 서로 다른 자연환경과 인문환경, 역사적·사회적 상황과 같은 문화적 배경에 따라 다르게 형성된다는 점을 고려(㉡)하며, 문화의 다양성과 특수성을 인정해야 한다고 본다(㉢). 문화 상대주의 관점에서 문화를 바라보면 다른 문화를 편견 없이 이해할 수 있으며(㉣), 문화적 차이로 인한 갈등을 방지하고 다양한 문화의 공존을 도모할 수 있다.

**선택지 분석**

- (2) 문화적 차이로 인한 갈등을 방지하고 하나의 주류 문화를 창조할 수 있음. ……………㉠  
→ 문화 상대주의는 다양한 문화의 공존과 조화를 강조하는 태도로, 하나의 주류 문화를 창조하는 것과는 거리가 멀다.

### 04 문화를 이해하는 태도

**정답** ③ 같은 인도의 음식 문화를 자신만의 기준으로 평가하고 있다. 이는 문화 절대주의 중 자문화 중심주의에 가까운 태도로 인도의 음식 문화를 바라보는 것이다. 같은 관점에서 문화를 평가하면 다른 문화를 차별하는 원인이 되어 갈등을 일으킬 수 있다. 이른 문화 상대주의 태도로 인도의 음식 문화를 평가하고 있다. 문화 상대주의는 서로 다른 환경에 적응하며 생활 방식을 형성하는 과정에서 발생한 문화적 차이를 인정한다.



선택지 분석

- ① **같은 문화 상대주의**의 태도로 인도의 음식 문화를 평가하고 있다. → **자문화 중심주의**
- ② **같은** 관점에서 문화를 평가하면 극단적 문화 상대주의로 흐를 수 있다. → **문화 상대주의를 지나치게 강조할 때 발생할 수 있는 문제이다.**
- ④ **같은** 관점에서 문화를 평가하면 다른 문화를 차별하여 갈등이 발생할 수 있다. → **같은**
- ⑤ **같은**과 달리 같은 서로 다른 환경에 적응하며 발생한 문화적 차이를 인정하고 있다. → **같은과 달리 같은**

05 문화 절대주의와 문화 상대주의

**정답** ④ A는 자문화 중심주의, B는 문화 상대주의, C는 문화 상대주의(ㄷ)이다. 문화의 우열을 가릴 수 있다고 보는 것은 문화 절대주의의 입장이다. 문화 절대주의에는 자문화 중심주의와 문화 상대주의가 있다. 자문화 중심주의는 자신의 문화를 가장 우월하다고 보고 다른 문화는 열등하다고 생각하는 태도로, 타문화 수용에 배타적(ㄱ)이다. 따라서 자문화 중심주의 태도로 문화를 바라보면 국수주의로 이어져 자기 문화의 발전 가능성을 저해(ㄴ)할 수 있다. 문화 상대주의는 다른 문화를 맹목적으로 동경하여 자기 문화를 열등하다고 여기는 태도이다. 문화 상대주의 태도로 문화를 바라보면 자기 문화에 대한 문화적 정체성을 상실(ㄴ)할 수 있다. 반면 문화 상대주의는 각 문화가 지닌 고유한 가치를 인정하며 문화 간 우열을 가지지 않는 태도로, 각 문화가 서로 다른 자연환경과 문화적 배경에 따라 다르게 형성된다는 점을 고려(ㄷ)한다.

선택지 분석

ㄴ. **B**의 태도로 문화를 바라보면 국수주의로 이어질 수 있다. → **A**

자료 키워드 문화 절대주의와 문화 상대주의

문화를 평가하는 절대적인 기준이 있다고 보고 그 기준에 비추어 문화의 우열을 가릴 수 있다고 여기는 태도	
문화 절대주의	자문화 중심주의 <ul style="list-style-type: none"> <li>• 자기 문화를 가장 우월하다고 여기는 태도</li> <li>• 장점: 자기 문화에 대한 자긍심으로 사회 통합에 이바지</li> <li>• 한계: 국수주의로 이어져 자기 문화의 발전 가능성 저해</li> </ul>
	문화 상대주의 <ul style="list-style-type: none"> <li>• 다른 문화를 맹목적으로 동경하여 자기 문화를 열등하다고 여기는 태도</li> <li>• 장점: 다른 문화를 수용하여 자기 문화를 개선</li> <li>• 한계: 자기 문화에 대한 문화적 정체성 상실</li> </ul>
문화 상대주의	<ul style="list-style-type: none"> <li>• 각 문화가 지닌 고유한 가치를 인정하며 문화 간 우열을 가리지 않는 태도</li> <li>• 장점: 편견 극복, 문화의 객관적 이해, 갈등 예방</li> <li>• 한계: 극단적 문화 상대주의로 흐를 수 있음.</li> </ul>

06 보편 윤리 차원에서의 문화 성찰

**정답** ② 보편 윤리는 시대와 사회를 초월하여 모든 사람이 존중하고 따라야 할 보편적인 윤리 기준으로 인간 존엄성, 생명 존중, 자유, 평등, 정의 등과 같은 가치들을 포함하고 있다. 보편 윤리 차원에서

명예 살인은 인간의 생명과 존엄성을 존중하지 않는 행위이므로 정당화할 수 없다.

선택지 분석

- ① 문화의 보편성을 강조하면서 문화의 특수성을 부정하고 있다. → **보편 윤리가 문화의 특수성을 부정하는 것은 아니다.**
- ③ 그 사회의 고유한 의미와 가치를 지닌 관습이므로 인정해야 한다. → **인간 존엄성을 훼손하는 문화까지 그 사회의 고유한 의미와 가치를 지닌 관습이라고 보는 태도는 극단적 문화 상대주의에 해당한다.**
- ④ 모든 문화는 무조건적으로 이해의 대상이 되어야 하므로 인정해야 한다. → **인간 존엄성을 훼손하는 문화까지 무조건적으로 이해해야 한다고 보는 태도는 극단적 문화 상대주의에 해당한다.**
- ⑤ 사회 구성원 간 소속감과 정체성을 강화하는 문화이므로 인정해야 한다. → **명예 살인은 구성원 간 소속감과 정체성을 강화하는 문화가 아니며, 소속감과 정체성을 강화하는 문화라도 인간 존엄성을 훼손한다면 보편 윤리 차원에서 인정할 수 없는 문화이다.**

자료 키워드 보편 윤리

의미	시대와 사회를 초월하여 모든 사람이 존중하고 따라야 할 보편적인 윤리 기준
예	<ul style="list-style-type: none"> <li>• 인간 존엄성, 생명 존중, 자유, 평등, 평화, 정의</li> <li>• 보편적 도덕 원리</li> <li>• 다양한 종교의 황금률</li> </ul>

07 극단적 문화 상대주의와 보편 윤리

**정답** ② (가)의 같은 극단적 문화 상대주의, 같은 보편 윤리의 입장을 취하고 있다. 극단적 문화 상대주의의 입장에서는 태형 또한 그 사회의 문화로 고유한 가치가 있는 것으로 보고 문화로 인정해야 한다고 볼 것이다. 반면 보편 윤리 관점에서 태형은 사람의 생명과 신체를 위협하는 행위이므로 문화로 인정하지 않을 것이다.

선택지 분석

- ㄴ. 같은 태형이 도덕적인 평가의 대상이 될 수 없다고 볼 것이다. → **같은**
- ㄷ. 같은 같은보다 문화의 **보편성**을 강조하면서 태형을 문화로 인정해야 한다고 볼 것이다. → **다양성과 특수성**

자료 키워드 문화의 특징

- 문화의 보편성: 어느 사회에서나 공통적인 문화 현상이 나타나는 것  
예 장례를 치르는 풍습 등은 대부분의 사회에서 찾아볼 수 있음.
- 문화의 특수성: 각 사회가 처한 환경이나 역사에 따라 문화의 세부적인 모습이 다르게 나타나는 것으로, 문화의 특수성으로 문화의 다양성이 나타남. 예 엄숙한 분위기에서 장례식을 진행하는 나라가 있는 반면, 밝은 분위기에서 춤을 추며 장례가 진행되는 나라도 있음.

08 보편 윤리 차원에서의 문화 성찰

**정답** ⑤ 보편 윤리는 시대와 사회를 초월하여 모든 사람이 존중하고 따라야 할 보편적인 윤리 기준이다. 보편 윤리 차원에서 문화를 성찰하려면 극단적 문화 상대주의를 경계하고, 그 문화가 인간의 존



엄정, 생명 존중, 자유와 평등과 같은 보편적 윤리 기준에 어긋나지 않는지 살펴봐야 한다. 공정한 기회를 박탈하는 문화적 편견(병)이 없는지, 생명이나 인권 침해가 정당화되는 문화(정)가 아닌지 살펴보는 것은 모두 보편 윤리 차원에서 문화를 올바르게 성찰한 것이다.

**선택지 분석**

**갑:** 연고주의를 통해 전통적인 사회관계를 회복해야 해.  
 → 연고주의는 혈연, 지연, 학연이라는 전통적 사회관계를 우선시하거나 중요하게 여기는 사고방식에서 나타난 사회현상으로, 사회 구성원 간 소속감과 정체성을 강화한다는 긍정적인 측면이 있다. 하지만 평등이라는 보편 윤리에 어긋나며 입학, 채용 등에서 개인의 능력이나 전문성보다 개인적 배경 요소를 더 중요하게 여김으로써 공정한 기회를 박탈할 수 있다. 따라서 연고주의는 사회정의라는 보편 윤리에 어긋난다.

**을:** 모든 문화의 고유성과 특수성을 이해하고 존중해야 해.  
 → 국단적 문화 상대주의에 해당한다. 인간 존엄성 같은 기본적인 인권을 침해하는 문화는 보편 윤리에 어긋나므로 모든 문화의 고유성과 특수성을 이해하고 존중해야 하는 것은 아니다.

**09 다문화 사회의 등장 배경**

**정답 ②** 교통·통신의 발달과 세계화로 국가 간 인구 이동이 늘어났다. 그래서 서로 다른 문화권에 속한 사람들의 접촉 기회가 빈번해져 다문화 사회가 확대되었다.

**선택지 분석**

**을:** '국가 간 문화 교류의 감소'가 있습니다. → 증가  
**정:** '외래문화에 대한 배타성 확대'가 있습니다. → 수용성(포용성)

**10 다문화 사회의 양상**

**정답 ⑤** 다문화 사회로 진입하면서 한 사회 속에 여러 문화가 공존하게 되어 다양한 문화를 경험할 수 있는 선택의 폭이 넓어져 삶이 더 풍요로워졌다. 또한 문화 간의 상호 작용으로 새로운 문화가 형성되면서 창조적인 문화로 발전하는 원동력이 되었다. 경제적인 측면에서는 이주민의 경제 활동 참여가 사회 전체적으로 증가하여 경제 성장에 도움을 주었다.

**선택지 분석**

• 여러 문화의 유입으로 문화 간의 이질성이 확대되어 갈등이 발생할 수 있다.  
 → 부정적 측면에 해당한다. 다문화 사회에서는 여러 인종, 민족, 종교, 언어가 공존하므로 문화 간 이질성이 확대된다. 그런데 서로의 문화에 대한 이해 부족, 문화에 대한 잘못된 편견과 차별 등으로 인해 집단 간 갈등이 생겨 사회 통합을 저해할 뿐만 아니라 혐오와 같은 인권 침해 문제가 나타나기도 한다.

**11 우리나라의 다문화 사회 현황**

**정답 ⑤** 국내 거주 외국인 주민 수 및 비율 추이를 보면 우리나라에 거주하는 외국인 수는 코로나바이러스 감염증-19 유행의 영향이 있었던 시기를 제외하면 대체로 증가하는 추세이다. 이를 통해 우리 사회가 더욱 깊숙이 다문화 사회로 접어들었음을 알 수 있다. 한국 국적이 아닌 외국인 주민 중에서 외국인 근로자는 큰 비중을 차지하는데, 이러한 외국인 근로자들의 증가는 국내 노동력 부족 문제를 해소하는 데 크게 기여할 수 있다.

**선택지 분석**

- ① 다문화 가정의 수는 점차 감소할 것이다.  
 → 외국인 주민 수의 증가 추세를 보면 다문화 가정의 수도 증가할 수 있다.
- ② 단일 민족 국가라는 의식이 강화될 것이다.  
 → 다양한 인종, 종교, 언어 등 서로 다른 문화적 배경을 가진 사람들이 함께 어울려 살아가게 되므로, 단일 민족 국가 의식은 약화될 수 있다.
- ③ 우리 사회의 문화의 획일화 현상이 심화될 것이다.  
 → 다문화 사회에서는 다양한 문화를 가진 사람과 집단이 유입되므로 문화의 획일화 현상은 약화될 수 있다.
- ④ 우리나라에 거주하는 외국인의 수가 감소할 것이다.  
 → 외국인 주민 수는 증가 추세에 있으며, 외국인 수가 감소할 것이라고 볼만한 근거가 없다.

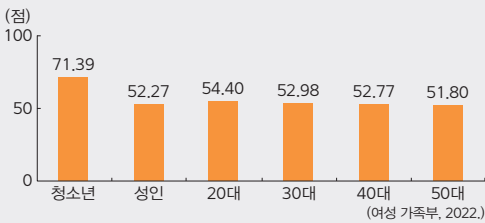
**12 우리나라의 다문화 수용성**

**정답 ①** 다문화 수용성은 다문화 사회로의 변화를 긍정적으로 받아들이고 다양한 민족과 인종의 공존이라는 사회적 가치를 받아들이는 태도를 말한다. 두 그래프는 우리나라가 다른 선진국보다 다문화 수용성이 낮다는 것을 보여 준다. 외국인 주민에 대한 차별적인 태도는 제노포비아와 같은 심각한 사회 갈등을 초래(+)하여 사회 통합을 저해(-)할 수 있다.

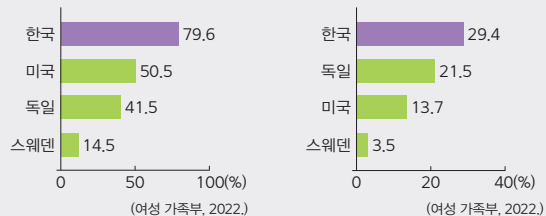
**선택지 분석**

- ㉔. 다른 선진국과 비교하여 다문화 사회로의 변화를 긍정적으로 받아들일 것이다. → 부정적
- ㉕. 이주민과 내국인 간에 경제적 자원과 일자리가 적절히 분배되어 사회가 안정될 것이다.  
 → 우리나라의 '일자리 부족 시 자국민 우선 고용 찬성률'이 79.6%로 높은 것으로 보아, 경제 분야에서 일자리를 두고 이주민과 내국인 간에 갈등이 발생할 수 있다.

**자료 키워드 다문화 수용성**



**▲ 한국인의 다문화 수용성 지수(2021년)**



**▲ 일자리 부족 시 자국민 우선 고용 찬성률(2021년)**

- 다문화 수용성 지수는 문화 개방성, 고정 관념 및 차별, 국민 정체성, 교류 행동 의지 등 8개 구성 요소별 점수를 종합하여 100점 만점으로 산출한 지수이다. 한국인의 다문화 수용성 지수를 보면 젊은 연령대일수록 다문화 수용성이 높은 것으로 나타났다.
- 다문화 수용성 관련 국제 지표 비교에서는 우리나라의 다문화 수용성이 다른 선진국에 비해 낮은 것으로 나타났다.

### 13 다문화 사회의 갈등 해결 노력

**정답** ② 사례는 다문화 사회에서 이주민이 겪는 차별을 보여 준다. 다문화 사회의 갈등을 해결하려면 이주민을 보호해야 할 미숙한 대상이 아니라 우리와 동등한 주체임을 인정하고 대우해야 한다.

**자료 키워드** 다문화 사회의 갈등 해결 방안

개인적 차원	<ul style="list-style-type: none"> <li>문화적 다양성을 존중하는 태도의 함양</li> <li>다른 문화의 고유한 가치를 인정하는 관용의 자세</li> <li>다문화 사회 구성원과의 지속적인 소통</li> </ul>
사회적 차원	<ul style="list-style-type: none"> <li>다양한 다문화 교육 기회 제공</li> <li>이주민의 권리 보장을 위한 법적·제도적 장치 강화</li> <li>다양한 다문화 지원 사업 시행</li> </ul>

### 14 다문화주의와 동화주의

**정답** ③ 갑은 다문화주의, 을은 동화주의 관점에서 다문화 사회를 바라보고 있다. 다문화주의(갑)는 다양한 문화가 조화를 이루고 대등하게 공존해야 한다고 보는 입장(ㄴ)으로, 을보다 이주민 문화의 정체성 유지를 중시(=)한다. 동화주의(을)는 이주민 문화와 같은 소수 문화를 주류 문화에 적용시키고 통합하려는 입장으로, 이민자가 주류 문화로 편입하여 동화가 순조롭게 이루어져 주류 사회의 문화와 사회적 가치를 받아(ㄷ)들어서 사회 통합(ㄱ)을 실현해야 한다고 본다.

**선택지 분석**

- ㄱ. **갑**은 문화적 동질성을 강화하여 사회 통합을 실현해야 한다고 본다. → **을**
- ㄷ. **을**은 **갑**보다 이주민 문화의 정체성 유지를 중시한다. → **갑**은 **을**보다

**자료 키워드** 다문화 사회를 바라보는 관점

동화주의	<ul style="list-style-type: none"> <li>기존 문화에 이주민 문화를 융화하여 흡수해야 한다는 관점(용광로 이론)</li> <li>이주민이 자국의 언어, 문화, 사회적 특성을 포기하고 기존 사회의 일원이 되어야 한다고 봄.</li> </ul>
다문화주의	<ul style="list-style-type: none"> <li>기존 문화와 이주민 문화가 평등하게 인정되어 조화를 이루어야 한다는 관점(샐러드 볼 이론)</li> <li>이주민이 자신의 문화를 유지하면서도 기존 문화와 조화를 이루어 새로운 문화를 형성해 가야 한다고 봄.</li> </ul>

### 15 다문화 정책

**정답** ② 캐나다의 다문화 정책은 국가라는 틀 안에서 각 문화의 고유한 특징이 드러날 수 있도록 다양한 인종과 민족이 함께 어울리는 사회를 추구한다. 모자이크 정책은 다문화주의(샐러드 볼 이론)를 따르는 것으로, 다양한 문화가 조화를 이루고 공존해야 한다고 본다.

**오답** ㄴ, ㄷ은 동화주의(용광로 이론) 관점에 해당한다.

### 16 다문화 사회의 갈등 해결

**정답** ① 제시문은 이주민의 적응을 위한 언어 교육과 다문화 교육 확대를 통해 다문화 사회의 갈등을 해결한 사례를 보여 준다. 다문화 사회의 갈등을 해결하기 위해서는 개인의 노력뿐만 아니라 사회의 노력도 필요하다.

**선택지 분석**

- ② 제도적인 방안 마련보다 개인이 선입견을 버리려는 노력이 중요하다. → 제도적 방안 마련과 선입견을 버리려는 개인의 노력 모두 중요하다.
- ③ 주류 문화보다 이주민 문화를 우선시하여 존중하는 자세가 필요하다. → 주류 문화와 이주민 문화를 동등하게 존중해야 한다.
- ④ 이주민이 주류 문화에 동화될 수 있도록 다양한 다문화 교육 기회를 제공해야 한다. → 이주민이 사회에 적응할 수 있도록 다양한 다문화 교육 기회를 제공해야 하지만, 그 목적이 주류 문화로의 동화는 아니다.
- ⑤ 이주민의 적응을 위한 교육 지원보다 지역사회를 대상으로 한 다문화 교육 확대가 중요하다. → 이주민의 적응을 위한 교육과 지역사회를 대상으로 한 다문화 교육 모두 중요하다.

### 17 다문화 사회의 갈등 해결을 위한 자세

**정답** ④ 다문화 사회의 갈등을 해결하려면 이주민 문화를 그 사회의 맥락에서 이해하고 존중해야 하며, 이질성을 근거로 차별해서는 안 된다.

### 18 문화 상대주의

- (1) 문화 상대주의
- (2) **모범 답안** 문화 상대주의는 서로 다른 문화를 편견 없이 이해하는 데 필요하다. 문화 상대주의 태도를 지니면 문화를 특정한 시각에서 바라보지 않아 다른 문화를 객관적으로 이해하고 자기 문화의 가치를 새롭게 발견할 수 있다. 그러나 문화 상대주의 입장에서 모든 문화를 인정한다면 개별 문화가 지닌 윤리적 문제를 제대로 성찰하기 어렵고, 자칫 인류가 보편적으로 받아들이기 어려운 문화까지도 인정하는 극단적 문화 상대주의로 흐를 수 있다. **(주요 내용)** 문화 상대주의의 필요성과 문화 상대주의를 지나치게 인정할 때 극단적 문화 상대주의로 흐를 수 있음을 서술해야 함.

채점 기준	배점
문화 상대주의의 필요성과 한계를 각각 바르게 서술한 경우	상
문화 상대주의의 필요성과 한계 중 한 가지만 서술한 경우	하

### 19 다문화 사회의 양상

- (1) 다문화 사회
- (2) **모범 답안** 다문화 사회로 진입하면서 우리 사회에 세계 여러 나라의 문화가 유입되어 새로운 문화를 쉽게 접할 수 있고 다양한 문화를 경험할 수 있게 되었다. 하지만 새롭게 들어온 문화에 대한 편견과 이해 부족으로 다른 문화적 배경을 지닌 사람이나 집단을 차별하여 갈등이 발생하기도 한다.

**(주요 내용)** 다문화 사회의 긍정적인 측면과 부정적인 측면을 각각 바르게 서술해야 함.

채점 기준	배점
긍정적인 측면과 부정적인 측면을 각각 바르게 서술한 경우	상
긍정적인 측면과 부정적인 측면 중 한 가지만 서술한 경우	하

01 산업화·도시화에 따른 변화

빠른 정답 ✓

기출 선택지로 개념 확인

- 01 도시화율
- 02 선진국, 개발 도상국
- 03 산업화
- 04 접근성, 지대
- 05 도심
- 06 집약
- 07 개인주의
- 08 도시성
- 09 인구
- 10 열섬
- 11 도시 재개발
- 12 환경
- 13 교통
- 14 지역 격차

빠른 정답 ✓

실력 UP 단골 내신 문제

- 01 ①
- 02 ③
- 03 ③
- 04 ③
- 05 ②
- 06 ①
- 07 ①
- 08 ④
- 09 ②
- 10 ①
- 11 ⑤
- 12 ④
- 13 (1) 해설 참조 (2) 해설 참조
- 14 (1) 해설 참조 (2) 해설 참조

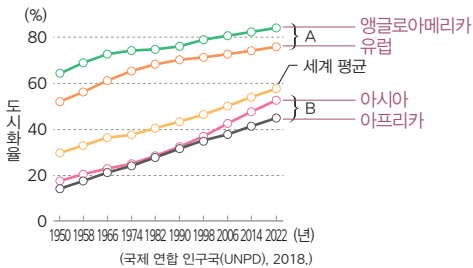
01 지역(대륙)별 도시화율의 변화

정답 ① A는 선진국이 많은 그룹, B는 개발 도상국이 많은 그룹이다. ㄱ. B는 2000년대에도 도시화율이 50%를 넘지 못하므로, 촌락 인구가 도시 인구보다 더 많은 것이다. ㄴ. 선진국이 개발 도상국보다 산업화가 더 일찍 시작되었다.

선택지 분석

- ㄷ. A에는 개발 도상국, B에는 선진국이 많다. → B, A
- ㄹ. B는 A보다 2006년 이후의 도시화율 증가 속도가 느리다. → B는 A보다 2006년 이후 도시화율 그래프의 기울기가 가파른 것으로 보아 도시화율 증가 속도가 빠르다.

자료 분석



- A 그룹은 선진국이 많은 앵글로아메리카, 유럽이고, B 그룹은 개발 도상국이 많은 아시아, 아프리카이다.
- 오늘날 세계 인구의 절반 이상은 도시에 거주하고 있으며, 산업화 과정을 일찍 시작한 지역(A)의 도시화 수준이 그렇지 않은 지역(B)보다 높게 나타난다.

02 서울 내부의 기능 지역 분화

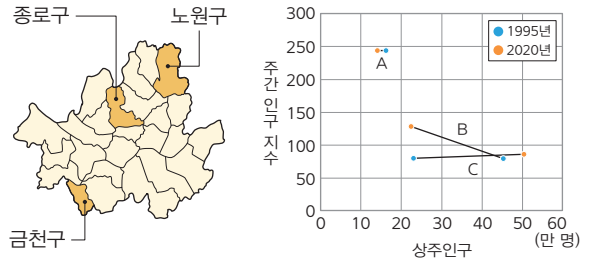
정답 ③ A는 종로구, B는 금천구, C는 노원구이다. ㄴ. A는 B보다 1995년과 2020년에 상주인구가 적다. ㄷ. A는 C보다 2020년에 상주

인구가 적고 주간 인구 지수가 높다. 또한 종로구에는 많은 기업이 밀집하여 출근 시간대에 유입 인구가 더 많다.

선택지 분석

- ㄱ. C는 1995년~2020년에 주거지에서 상업·업무 지구로 변모하였다. → 노원구는 1995년~2020년에 상주인구가 증가하고 주간 인구 지수가 100 미만이므로 주거 기능이 강한 지역이다.
- ㄹ. 금천구가 노원구보다 2020년에 주간 인구가 더 많다. → '주간 인구=상주인구×주간 인구 지수÷100'이다. 2020년의 주간 인구는 금천구가 약 '220,000×130÷100=286,000', 노원구가 약 '500,000×90÷100=450,000'이므로 노원구가 더 많다.

자료 분석



- 주간 인구 지수 = (주간 인구/상주인구)×100
- 주간 인구는 해당 지역의 상주인구에 다른 지역에서 유입된 통근·통학 인구를 더하고 다른 지역으로 유출된 통근·통학 인구를 뺀 수치이다.
- A는 세 지역 중 상주인구가 가장 적고 주간 인구 지수가 가장 높은 것으로 보아 중심 업무 기능이 밀집한 종로구이다.
- B는 1990년대 이후 디지털 단지로 변모하면서 일자리가 생성되어 상주인구는 감소하고 주간 인구 지수는 증가한 금천구이다.
- C는 서울의 외곽 지역으로 대규모 주거 단지가 조성되어 상주인구가 늘어난 노원구이다.

03 산업화·도시화에 따른 생활의 변화

정답 ③ 제시문은 화려한 도시로 성공이라는 꿈을 찾아왔지만, 외롭고 고된 타향살이에 지쳐 닦아냈던 고향을 그리워하는 노래로, 배경이 된 공간은 '도시'이다. 도시는 아스팔트와 콘크리트를 많이 사용하여 기반 시설을 건축하므로, 불투수 면적이 차지하는 비중이 크다.

자료 키워드 소설과 노래로 보는 산업화·도시화

- 조세희, <난장이가 쏘아 올린 작은 공>: 우리 집이, 이웃집들이, 온 동네의 집들이 보이지 않았다. 방죽도 없어지고, 벽돌 공장의 굴뚝도 없어지고, 언덕길도 없어졌다. 난장이와 난장이 부인, 난장이의 두 아들, 그리고 난장이의 딸이 살아간 흔적은 거기에 없었다. 넓은 공터만 있었다.

→ 이 구절은 재개발로 마을 사람들이 모여 살던 생활공간이 사라지는 모습을 표현하고 있다. 주인공은 이러한 변화를 허탈하게 바라본다.

- 노래를 찾는 사람들, <사계>: 빨간 꽃 노란 꽃 꽃밭 가득 피어도 / 하얀 나비 꽃 나비 담장 위에 날아도 / 따스한 봄바람이 불고 또 불어도 / 미싱은 잘도 도네 돌아가네 / 흰 구름 솜구름 탐스러운 애기 구름 / 짧은 샤쓰 짧은 치마 뜨거운 여름 / 소금 땀 비지땀 흐르고 또 흘러도 / 미싱은 잘도 도네 돌아가네

→ 이 노래는 산업 성장기 방직 공장에서 밤낮없이 미싱을 돌리며 일해야 했던 여공들의 삶을 담았다.

#### 04 산업화·도시화에 따른 생활공간의 변화

**정답** ③ 산업화·도시화로 경제가 발전하면서 다양한 재화와 서비스에 대한 수요가 높아져 복합 쇼핑몰과 같은 독특한 소비 공간이 등장(을)한다. 또한 접근성과 지대에 따른 기능 지역 분화로 근교에 대규모 주택 단지가 건설(병)된다.

##### 선택지 분석

갑: 건물 수는 **적어**지고 건물 간격은 **넓어**졌어요. → **많아, 좁아**  
 정: 출퇴근 시간대에 교통 혼잡이 **감소**했어요. → **심화**

##### 자료 분석

##### ● 멕시코시티의 생활공간 변화



- 멕시코시티는 산업화·도시화가 진행되면서 2020년에 인구 약 900만 명의 대도시가 되었다.
- 멕시코시티 주변의 위성 도시 등을 포함하는 대도시권의 인구는 약 2,300만 명에 이른다.

#### 05 대도시권의 공간 구조

**정답** ② (가)는 배후 농촌 지역, (나)는 도심, (다)는 주거 지역이다. 도시 성장 과정에서 도심으로 집중되는 인구를 분산하기 위해 외곽에 대규모의 주거 지역이 조성되었으므로, (나)는 (다)보다 시가지의 역사가 오래되었다.

##### 선택지 분석

- ① (가)는 도심이다. → (나)  
 ③ 중심지로의 접근성은 (가)>(나)>(다) 순으로 높다. → (나)>(다)>(가)  
 ④ ㉠은 **공업, 주거** 기능이 해당한다. → **상업, 업무**  
 ⑤ ㉠은 ㉡보다 지대 지불 능력이 **낮다**. → **높다**.

#### 06 산업화·도시화에 따른 생활의 변화

**정답** ① 산업화·도시화로 핵가족화되고 1인 가구 비율이 증가(ㄱ)했으며, 생산성이 향상되어 도시민들의 소득이 증가(ㄷ)했다.

**오답** 나. 개인주의 가치관 확산으로 공동체보다 개인을 강조하는 경향이 커졌다. 르. 노동 시간은 감소하고 여가 시간은 증가했다. 모. 포장 면적 증가로 도시 홍수의 발생 위험도가 증가했다. 바. 열섬 현상으로 도시의 기온이 주변 지역보다 높아졌다.

#### 07 산업화와 도시화로 나타나는 문제점

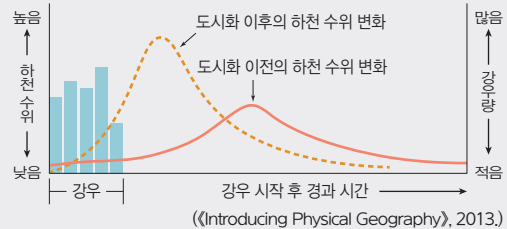
**정답** ① 산업화·도시화로 사회가 전체적으로 풍요로워졌지만, 도시에서는 도시 문제, 인간 소외 현상, 공동체 의식의 약화 등의 문제가 발생하고 있다. 산업화와 도시화로 인해 발생하는 또 다른 문제

중 하나는 지역 간 격차의 심화이다. 각종 기능과 산업 시설이 도시에 집중하면서 촌락은 상대적으로 경제 활동이 위축되는 등 사회적·경제적으로 문제가 발생하고 있다.

#### 08 도시화에 따른 지표 환경의 변화

**정답** ④ 도시에서 배출하는 인공 열 때문에 도시 지역의 기온이 주변 지역에 비해 높아지는 현상은 도시 홍수와 관련이 적다. 서울 강남역 부근은 호우 발생 시 침수가 여러 차례 발생했는데, 이는 강남 일대가 주변 지역보다 10m 정도 낮아 고지대에서 내려오는 물이 고이고, 주변 도로의 포장률이 매우 높아 빗물이 땅에 흡수되지 못했기 때문이다.

##### 자료 키워드 도시화와 빗물 흡수 능력



- 도시의 생활공간은 콘크리트 건물, 아스팔트 포장 도로 등과 같은 인공 구조물로 덮여 불투수 면적이 늘어나게 된다.
- 불투수 면적이 증가함에 따라 강수 시 빗물이 토양층으로 잘 흡수되지 못하고 도시 내 하천으로 빠르게 흘러든다.
- 도시화한 공간에서는 많지 않은 강수에도 하천의 수위가 빠르게 상승하여 홍수가 발생할 위험이 커진다.

#### 09 도시 재개발 사업

**정답** ② 해당 재개발 사업은 기존의 시설물을 전면 철거하고 새로운 시설물로 대체하는 방식으로, 기존 건물의 활용도가 낮다.

**오답** ①, ③, ④, ⑤는 기존의 도시 경관을 보존·수리하여 환경을 개선하는 재개발 방식에 대한 설명이다.

##### 자료 키워드 도시 재개발 사업의 방식

- 철거 재개발: 기존의 시설을 완전히 철거하고 새로운 시설물로 대체하는 방법 → 원거주민의 재정착률이 낮고, 대규모의 자본 및 자원이 투입된다.
- 수복 재개발: 기존 건물을 최대한 유지하는 수준에서 필요한 부분만 수리·개조하여 부족한 점을 보완하는 방법 → 지역 주민의 요구를 많이 반영하며, 지역 공동체가 유지될 가능성이 높다.

#### 10 지역 격차를 줄이기 위한 노력

**정답** ① ㉠은 혁신 도시이다. 혁신 도시는 이전된 공공 기관과 지역의 기업, 대학, 연구소 등이 긴밀하게 협력할 수 있는 곳이다.

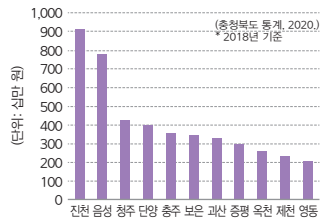
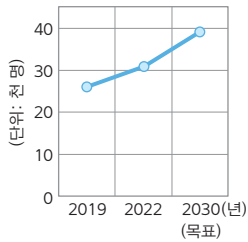
##### 선택지 분석

- ㄷ. ㉠으로 지정된 지역이 비지정 지역보다 1인당 GRDP가 **낮다**. → **높다**.  
 ㄹ. ㉠의 조성은 인구 및 기능이 수도권에 집중되는 현상을 심화하는 효과가 있다.  
 → 혁신 도시의 조성은 균형 발전을 실현하여 수도권 과밀 현상을 완화하는 긍정적 효과가 있다.



자료 분석

● 충청북도의 혁신 도시



▲ 충북 혁신 도시 인구수의 변화

- 혁신 도시는 수도권과 대도시와 과도하게 집중된 기능을 분산하기 위해 지역의 성장 거점에 각자의 특화 분야를 조성한 도시이다.
- 충청북도의 혁신 도시는 진천-음성군으로, 태양광 에너지, 정보 통신·과학기술, 교육·인재 개발, 공공 서비스 분야에 특화되어 있다. 해당 지역은 혁신 도시 지정 이후 지역의 일자리가 창출되었고 인구는 증가하였으며, 다른 지역보다 높은 1인당 GRDP를 보여 주고 있다.

▲ 충북 지역별 1인당 GRDP

11 산업화·도시화에 따른 환경 문제의 해결 방안

**정답** ⑤ 보행자 중심의 도로 재정비, 제로 에너지 건축물 인증제 확대 등은 바로셀로나의 대기 오염 문제를 해결하기 위한 국가적·지역적 차원의 노력에 해당한다. 시민 스스로 친환경적인 생활 방식을 실천하는 태도를 지니는 것은 개인적 차원의 노력에 해당한다.

12 산업화·도시화에 따른 문제의 해결 방안

**정답** ④ 세대 공존형 주거 단지의 등장 원인은 젊은 층의 유입으로 도시의 기능을 재생하고 활력을 유지하며, 고령화 시대에 노인을 돌보기 위해서이다. 더 나아가 세대 공존을 통해 개인주의 가치관을 약화하고 공동체 의식을 함양하여, 인간 소외 현상을 극복하기 위한 것이다. 도시적 생활양식은 효율성, 합리성, 자율성, 익명성을 추구하는 것으로, 이는 공동체의 결속을 약화하여 인간 소외 현상을 심화할 수 있다.

자료 키워드 도시 문제 해결을 위한 공동 주거

- 세대 공존형 주거 단지는 획일적 주거 형태를 반대하고 과거 농경 사회에서의 공동체 문화를 되살리기 위해서 여러 세대가 식사 준비, 세탁, 가사 활동을 이웃과 협력하여 함께 생활할 수 있는 공동 주거 공간으로 계획되었다. 최근에는 여성의 경제 활동 증가에 따른 공동육아, 고령화 시대의 노인 돌봄, 도시 기능 재생 및 활력을 유지하려는 방안으로 주목받고 있다.
- 서울특별시에서는 주거비 상승, 공동체 해체에 따른 고립, 주거 불안 등의 문제를 개인이 아닌 입주자가 함께 해결하도록 하고자 저렴한 공동체 주택의 공급을 활성화하였다. 공동체 주택은 입주자들이 공동체 공간을 가꾸고 공동체의 약속을 만들어 지키며 생활하는 주택으로 서울 곳곳에 있다.

13 산업화·도시화에 따른 변화

(1) **모범 답안** 대도시 지역은 일자리가 풍부하고 생활 기반 시설이 잘 갖추어져 있어 구직, 교육 등을 위해 유입된 청년층이 많아 청년층 비중이 높고, 촌락 지역은 노인층 비중이 높다.

(주요 내용) 대도시 지역과 촌락 지역으로 나누어 지역별 인구의 특징을 서술해야 함.

채점 기준	배점
도시와 촌락의 특징을 비교하여 지역별로 1인 가구의 연령대 비중이 다른 이유를 바르게 서술한 경우	상
도시와 촌락의 특징을 비교하였으나, 지역별로 1인 가구의 연령대 비중이 다른 이유와 미흡하게 관련지어 서술한 경우	중
지역별로 1인 가구의 연령대 비중이 다르다는 내용만 서술한 경우	하

(2) **모범 답안** 편의점, 반려동물 관련 사업 등 1인 가구를 대상으로 하는 산업의 시장이 커진다. 또한 개인주의 가치관이 더욱 확산하면서 공동체보다 개인의 성취와 권리를 중시하게 된다.

(주요 내용) 1인 가구의 비중이 커져 나타날 수 있는 산업 및 가치관 측면에서의 변화를 서술해야 함.

채점 기준	배점
변화를 두 가지 모두 바르게 서술한 경우	상
변화를 한 가지만 서술한 경우	하

자료 키워드 1인 가구의 성장

개인주의 가치관의 확산, 인구의 고령화, 결혼관과 가족관의 변화, 직업적 이동의 증가 등 거대한 사회 변동으로 1인 가구가 증가하고 있다. 2020년을 기준으로 서유럽 국가들의 1인 가구 비율이 전체 가구 대비 30~40%를 넘었다. 우리나라도 2021년 기준 1인 가구 비율이 33.4%로 전체 가구 유형에서 가장 큰 비중을 차지한다. 연령대별로는 29세 이하와 70세 이상의 1인 가구 비율이 높다.

14 산업화·도시화에 따른 문제점

(1) **모범 답안** 도시라는 한정된 공간에 인구가 밀집하여 주택이 부족해지고 집값이 상승하여 근로 소득만으로 주택을 구입하기 어렵기 때문이다.

(주요 내용) 생애 최초 주택 마련 소요 연수가 늘어나는 까닭을 도시에서 나타나는 주택 문제와 연관지어 서술해야 함.

채점 기준	배점
도시화와 집값 상승의 관계를 바르게 제시하여 이유를 서술한 경우	상
도시화와 집값 상승의 관계를 미흡하게 제시하여 이유를 서술한 경우	하

(2) **모범 답안** 주택 마련 소요 연수의 증가는 도시민의 주거 불안정을 야기하고 이는 삶의 질 하락으로 이어진다. 따라서 정부는 주택 공급을 늘리고, 저렴한 주택 금융 지원 프로그램을 마련하여 주거 안정성을 높여야 한다.

(주요 내용) 주택 문제로 인한 부정적인 영향을 서술하고, 주택 문제의 해결 방안을 구체적으로 서술해야 함.

채점 기준	배점
주택 마련 소요 연수의 증가로 인한 문제점과 그 해결 방안을 바르게 서술한 경우	상
주택 마련 소요 연수의 증가로 인한 문제점을 서술하였으나, 그 해결 방안은 서술하지 못한 경우	하

02  
~  
03

교통·통신 및 과학기술의 발달에 따른 변화  
~ 우리 지역의 공간 변화

빠른 정답

기술 선택지로 개념 확인

- 01 4차 산업 혁명
- 02 생활권
- 03 전자 상거래
- 04 전자 민주주의
- 05 빨대 효과
- 06 정보 격차
- 07 생대 통로
- 08 양극화
- 09 디지털 중독
- 10 정보 윤리
- 11 지역 조사
- 12 실내 조사
- 13 설문 조사
- 14 지역문제
- 15 지속가능

빠른 정답

실력 UP! 단골 내신 문제

- 01 ④
- 02 ①
- 03 ⑤
- 04 ⑤
- 05 ⑤
- 06 ⑤
- 07 ①
- 08 ②
- 09 ③
- 10 ①
- 11 ④
- 12 ⑤
- 13 해설 참조
- 14 (1) 해설 참조 (2) 해설 참조

01 교통 발달에 따른 생활의 변화

정답 ④ 고속 철도 개통으로 시공간 제약은 감소하고 시공간 거리는 크게 단축되어 지역 간 접근성이 향상된다.

선택지 분석

- ① 고속 도로의 교통 혼잡도가 증가한다.  
→ 고속 철도가 개통되면 도로 교통의 이용객을 분담하는 효과가 있어 교통 혼잡도가 감소할 것이다.
- ② 시공간적 제약이 감소하여 여가 공간이 축소된다. → 확대
- ③ 생활이 광역화되면서 강원 전 지역이 빠르게 성장한다.  
→ 고속 철도 개통에 따른 효과가 지역에 따라 달라 강원 내 지역들이 차별적으로 성장할 것이다.
- ⑤ 과거보다 집과 직장 간의 거리가 가까워져 원거리 통근이 사라진다.  
→ 통근권, 통학권이 넓어진다.

02 교통 발달에 따른 변화

정답 ① 교통이 발달하여 접근성이 뛰어난 우한은 사람과 물자의 이동량이 많다. 이에 따라 우한에서 최초로 발생한 코로나바이러스 감염증-19의 전 세계적 확산을 막을 수 없었다.

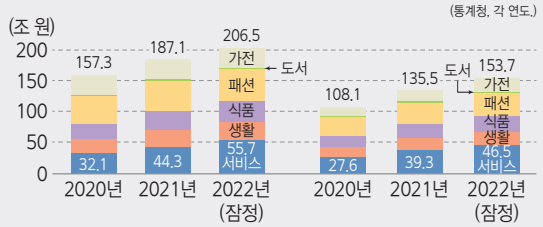
03 통신 발달에 따른 생활양식의 변화

정답 ⑤ ㄷ. 스마트폰 사용자 비율의 세계 평균은 59.4%지만, 아프리카·서남아시아는 39.1%로 평균에 미치지 못한다. 반면, 북아메리카는 85.5%로 평균을 넘는 것으로 보아 지역 간 정보 기술의 접근도에 차이가 난다는 것을 알 수 있다. ㄹ. 스마트폰의 보급은 많은 사람이 인터넷을 통해 시공간의 제약에서 벗어나 다른 지역 사람들과 활발하게 교류할 수 있도록 도움을 준다.

선택지 분석

- ㄱ. 무점포 상점의 거래액이 빠르게 감소할 것이다.  
→ 스마트폰의 보급에 따라 전자 상거래가 대중화되어 무점포 상점의 거래액이 증가할 것이다.
- ㄴ. 가상 공간에서 정치 활동의 참여가 어려워질 것이다. → 쉬워질

자료 키워드 정보 통신 기술의 보급



▲ 온라인(좌) 및 모바일(우) 쇼핑 거래액의 증가

- 온라인 쇼핑 거래액 중 모바일 쇼핑 거래액이 약 74%로 많은 비중을 차지한다.
- 스마트폰 사용자는 2007년 2.6%에 2022년 59.4%로 급속히 증가했는데, 이는 모바일 쇼핑 거래의 증가를 가져왔다.

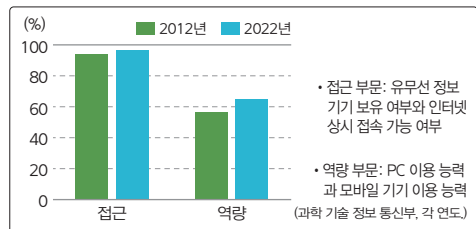
04 정보화에 따른 생활의 변화

정답 ⑤ 각 분야를 엄밀히 구분할 수는 없지만, 상대적으로 플랫폼 노동의 활성화는 경제적 측면, 원격 교육의 활성화는 사회·문화적 측면, 민원서류의 온라인 발급은 행정적 측면의 정보화에 따른 생활의 변화 사례이다.

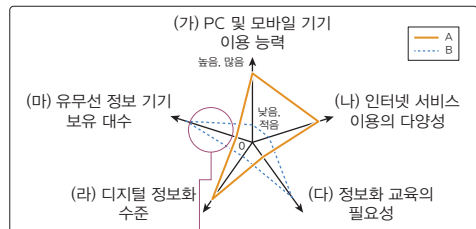
05 통신 발달에 따른 문제점

정답 ⑤ 유무선 정보 기기 보유 대수는 B(정보 취약 계층)가 A(일반 국민)보다 적을 것이다.

자료 분석



▲ B 계층의 디지털 정보화 수준을 A 계층의 수준인 100% 대비 비율로 나타낸 것이다.



A가 B보다 유무선 정보 기기 보유 대수가 많게 표시되어야 함.

- A는 일반 국민, B는 정보 취약 계층이다.
- 정보 취약 계층의 디지털 정보화 접근 수준은 정부의 디지털 기기 및 서비스 보급 정책으로 많이 개선되었으나, 역량 수준은 여전히 낮다.

06 교통·통신 및 과학기술 발달에 따른 문제점

정답 ⑤ 위치 확인 시스템으로 멸종 위기 동물을 추적하여 이들을 관리 및 보호하는 것은 통신 발달이 생태환경에 미치는 긍정적인 영향이다.

**자료 키워드** 교통·통신 및 과학기술 발달에 따른 문제점

- 생태환경 파괴: 새로운 교통로 확충 과정에서 동식물의 서식지 파괴, 교통수단에서 각종 오염 물질 배출, 외래 생물종 유입으로 생태환경 교란
- 전염병 확산: 국가 간 교류 증가로 전염병의 확산 범위 확대, 전파 속도 증가
- 노동 시장의 양극화: 4차 산업 혁명으로 인공 지능과 로봇이 일의 방법이 정해진 사무직 일자리의 일부를 대체하면서 실업 증가 및 빈부 격차 확대

**07 교통 발달에 따른 지역 격차**

**정답** ① ㄱ. 지역 경제가 침체했던 밀은 고속 철도역 유치를 통해 경제를 부흥시킬 수 있었다. ㄴ. 낙후된 주변 지역에 교통 시설을 확충하여 밀과 기능적으로 연계시키면 지역 격차가 줄어들 것이다.

**선택지 분석**

- ㄱ. 새로운 교통 시설 확충으로 인해 밀과 주변 지역 간 빨대 효과가 감소하였다.  
→ 자료에서 밀과 주변 지역 간 빨대 효과는 확인할 수 없지만, 대체로 한 지역에 새로운 교통 시설이 확충되면 주변 지역의 인구와 경제력을 흡수한다.
- ㄴ. 주변 지역의 기능을 중심 도시인 밀로 집중시키면 지역 격차가 감소할 것이다. → 증가

**08 정보 통신 기술 발달에 따른 문제점**

**정답** ② (가)는 사생활 침해 사례이고, (나)는 사이버 범죄 사례이다. 정보 격차를 해소하는 방안으로는 개인 정보 침해에 대한 근본적인 해결이 되지 않는다.

**09 지역 조사 순서**

**정답** ③ (가) 울산의 공간 변화 모습을 파악한 후 그로 인한 문제점 및 해결 방안을 찾는 것을 주제로 설정한 것은 지역 조사 계획 수립 단계에 해당한다. (라) 위성 사진을 활용하여 울산의 1969년과 2020년 경관을 비교한 것은 지역 정보 수집 단계 중 실내 조사에 해당한다. (다) 울산 시민들의 공동체 의식에 대한 설문 조사와 면담을 진행한 것은 지역 정보 수집 단계 중 야외 조사에 해당한다. (나) 울산의 지역문제와 해결 방안을 분석하여 보고서를 작성하므로 지역 정보 분석 및 보고서 작성 단계에 해당한다. 일반적으로 (가) → (라) → (다) → (나)의 순서로 지역 조사를 진행한다.

**자료 키워드** 지역 조사 과정

- 지역 조사 계획 수립: 조사 주제, 조사 지역, 조사 항목, 조사 방법 선정
- 지역 정보 수집
  - 실내 조사(지도, 문헌, 사진, 위성 사진, 항공 사진, 통계 자료 등 수집, 야외 조사를 위한 계획 및 준비 등)
  - 야외 조사(면담, 설문 조사, 관찰, 실측, 촬영 등)
- 지역 정보 분석 및 종합: 중요한 자료 선별, 그래프·표·통계 지도 등으로 시각화
- 보고서 작성: 대안 탐색 및 의사 결정

**10 지역 정보 분석 및 종합**

**정답** ① 안산시에는 대규모의 공업 단지를 조성하여 사업체 수와 종사자 수가 증가하였다. 또한 산업화·도시화가 진행되면서 임야 면적은 감소하였다. 한편 1990년대 이후 인력 부족 문제를 해소하기 위해 다양한 국가에서 온 이주민이 유입되어 등록 외국인 수가 증가하여 지역 내 외국인 인구 비율이 높아졌으며, 현재는 다문화 특구가 조성될 만큼 외국인 집단 거주 지역이 되었다.

**11 지역 문제 해결을 위한 지역 조사 과정**

**정답** ④ (가) 지역 조사 계획 수립 단계에서는 조사 주제와 조사 방법 등을 선정한다. 지역 정보 수집 단계 중 (나) 실내 조사에서는 인터넷 누리집이나 도서관에서 지도·사진·통계 자료 등을 수집하고, (다) 야외 조사에서는 관찰, 사진 촬영, 설문 조사, 면담 등을 진행한다. 그리고 (라) 지역 정보 분석·종합 단계에서는 수집된 자료를 분석하고 종합하여 표·그래프·통계 지도 등으로 시각화한다. <보기>의 ㄱ은 지역 정보 수집 중 야외 조사, ㄴ은 지역 조사 계획 수립 중 조사 주제 선정, ㄷ은 지역 정보 분석·종합, ㄹ은 지역 정보 수집 중 실내 조사 단계에 해당한다.

**12 지역의 문제를 해결하기 위한 노력**

**정답** ⑤ 지역의 문제를 해결하기 위해서는 지역 주민들도 지역 구성원으로서 적극적으로 참여하고 의견을 표출해야 한다.

**자료 키워드** 지역문제 해결을 위한 다양한 실천 방안

- 거주지 주변 오염 상태를 주민 스스로 측정해 보기
- 관계 기관에 환경 개선 요구안 제출하기
- 지역문제와 관련된 주제로 등교 시간에 캠페인 진행하기

**13 교통 발달에 따른 생활권의 확대**

**모범 답안** 2019년에는 1996년보다 통근 인원이 증가하고 거리도 멀어졌다. 그 이유는 교통의 발달로 이동에 필요한 시간과 비용이 감소하면서, 지역 간 접근성이 향상되어 통근권과 같은 생활권이 넓어졌기 때문이다.

**[주요 내용]** 교통의 발달이 미치는 영향을 통근권의 확대와 연관 지어 서술해야 함.

채점 기준	배점
교통의 발달로 지역 간 접근성이 향상되어 생활권의 범위가 넓어졌음을 서술한 경우	상
교통의 발달로 생활권의 범위가 넓어졌음을 미흡하게 서술한 경우	하

**14 우리 지역의 문제를 해결하기 위한 노력**

(1) **모범 답안** 국토 정보맵에서 지도, 항공 사진을 비교하거나, 국가 통계 포털 또는 통계 연보에서 토지 이용 관련 통계 자료를 수집하여 지역의 토지 이용 변화를 파악할 수 있다.

**[주요 내용]** 토지 이용 변화를 파악할 수 있는 방법으로 항공 사진·위성 사진·지도 비교, 통계 자료 수집 등을 제시해 서술해야 함.

채점 기준	배점
항공 사진·위성 사진·지도 비교 혹은 통계 자료 수집 등의 방법을 서술한 경우	상
토지 이용 변화를 파악하기에 미흡한 방법을 서술한 경우	하

- (2) **모범 답안** 지역 주민은 일상생활에서 쓰레기 배출을 줄이고, 환경을 지키기 위한 공동체 활동에 적극적으로 참여해야 한다. 지방 자치 단체는 지역 내 생활 기반 시설을 정비·확충하고, 오염 물질의 배출을 규제하는 제도를 강화하는 등 미래 세대를 고려한 발전을 추구해야 한다.

**(주요 내용)** 발생한 시설 부족 문제와 환경 문제의 해결 방안을 지역 주민과 지방 자치 단체의 차원에서 각각 서술해야 함.

채점 기준	배점
지역의 시설 부족 및 환경 오염 문제를 해결하기 위한 방안을 지역 주민과 지방 자치 단체의 차원에서 서술한 경우	상
지역의 시설 부족 및 환경 오염 문제를 해결하기 위한 방안을 지역 주민과 지방 자치 단체 중 한 가지의 차원에서만 서술한 경우	하



# I 통합적 관점

**빠른 정답** **1등급 완성!**

**1단계 개념 확인 문제**

- 01 ○    02 ×    03 ×    04 ○    05 ○  
 06 공간적    07 윤리적    08 시간적    09 통합적

**2단계 내신 대비 문제**

- 10 ①    11 ③    12 ②    13 ③    14 ②    15 ②  
 16 ④    17 ②    18 ⑤    19 ⑤  
 20 (1) 사회적 관점, 윤리적 관점 (2) 해설 참조  
 21 (1) 통합적 관점 (2) 해설 참조

**3단계 수능 대비 문제**

- 22 ②    23 ⑤    24 ④    25 ③

## 10 인간, 사회, 환경을 바라보는 다양한 관점

**정답** ① (가)는 공간적 관점, (나)는 시간적 관점, (다)는 윤리적 관점, (라)는 사회적 관점에 해당한다.

### 자료 분석

- (가) 공간적 상호 작용에 따른 변화가 인간 삶에 어떤 영향을 미칠까?
- (나) 현재의 사회현상은 언제부터 시작되어 어떻게 변화해 왔을까?
- (다) 사회현상을 이해하는 데 적용할 타당한 도덕적 원칙은 무엇일까?
- (라) 사회 구성원에게 영향을 미치는 사회 구조나 사회 제도는 무엇일까?

→ (가)는 공간적 상호 작용을 고려하여 인간을 바라보고 있으므로 공간적 관점이고, (나)는 사회현상의 시대적 맥락을 고려하고 있으므로 시간적 관점이다. (다)는 도덕적 가치와 도덕규범을 바탕으로 사회현상을 해석하고 있으므로 윤리적 관점이고, (라)는 사회 구조나 사회 제도의 영향력을 고려하여 인간을 바라보고 있으므로 사회적 관점이다.

## 11 공간적 관점

**정답** ③ 제시문에는 희토류의 매장량과 생산량이 지역별로 큰 차이를 보이기 때문에 이와 관련한 문제를 공간적 관점에서 파악해야 한다는 내용이 나타나 있다. 공간적 관점은 장소와 지역, 공간적 상호 작용을 고려하여 인간, 사회, 환경을 바라보는 관점이다.

### 선택지 분석

- ① 당시 상황이나 배경, 시대적 맥락을 탐구한다. → 시간적 관점
- ② 과거 경험을 바탕으로 현재와 미래를 탐구한다. → 시간적 관점
- ④ 다양한 가치 중 우선시하는 가치는 무엇이며 가치 갈등을 어떻게 해결해야 할지 탐구한다. → 윤리적 관점
- ⑤ 사회 구조와 사회 제도 안에서 사람들이 어떻게 사회적 관계를 맺고 상호 작용하는지 탐구한다. → 사회적 관점

## 12 사회적 관점

**정답** ② 제시문은 교통 약자를 위한 법령과 제도에 대한 내용이므로 사회적 관점에 해당한다. 과거 사실을 바탕으로 현재의 사회현상을 이해하고 미래를 예측하고자 하는 것은 시간적 관점이다.

### 자료 분석

국토교통부는 2023년부터 <교통 약자의 이동 편의 증진법> 시행령과 시행 규칙 개정안을 시행한다고 밝혔다. 이 법은 노선버스의 차량 교체 시 저상 버스 도입 의무 대상과 예외 승인 절차 등을 규정하고 있다. 이 법에 따라 노후화된 시내·마을버스와 농어촌 버스를 새로운 차량으로 교체할 때는 저상 버스를 의무적으로 도입해야 한다. 또한 시외버스는 저상 버스가 아닌 휠체어 탑승 설비를 설치한 버스를 확대할 방침이다.

→ <교통 약자의 이동 편의 증진법>이 개정되면서 노후한 각종 버스들이 저상 버스로 교체되고 교통 약자를 위한 버스 설비 설치도 늘어날 예정이다. 이를 통해 법과 제도의 변화가 사회현상에 영향을 미치고 있음을 알 수 있다. 따라서 제시문은 사회적 관점에 해당한다. 사회적 관점은 사회 구조와 사회 제도의 영향력을 고려하여 인간, 사회, 환경을 바라보는 관점이다.

## 13 윤리적 관점

**정답** ③ (가)는 지역별 특성을 알아보고자 하므로 공간적 관점, (나)는 시간의 흐름에 따른 언어의 변화를 알아보고자 하므로 시간적 관점, (다)는 종교가 한글에 미치는 영향을 살펴보고자 하는 것이므로 사회적 관점이다. 따라서 (라)에 해당하는 관점은 윤리적 관점이다. 표준어 사용을 강제하는 것이 도덕적으로 바람직한지 살펴보는 것은 윤리적 관점에 해당한다.

## 14 시간적 관점

**정답** ② 제시문은 현재 모습의 햄버거가 어떻게 나타나고 퍼졌는지를 시간적 관점에서 바라보고 있다. 햄버거 문화의 확산 과정을 조사하는 것은 시간적 관점에서 햄버거를 주제로 탐구한 것이다.

**오답** ① 종교에 따라 햄버거의 재료가 달라지는지 알아보는 것은 사회적 관점에 해당한다. ③ 햄버거 소비가 늘어난 사회 구조를 조사하는 것은 사회적 관점에 해당한다. ④ 햄버거 소비 과정에서 중시해야 하는 도덕적 가치가 무엇인지 살펴보는 것은 윤리적 관점에 해당한다. ⑤ 햄버거의 재료가 지역마다 다른 이유를 찾아보는 것은 공간적 관점에 해당한다.

## 15 윤리적 관점

**정답** ② 제시문에는 인종 차별적인 사진을 사용해 아시아계 유색 인종에 대한 차별과 편견을 조장하고 인간 존엄성을 침해한 신문을 윤리적 관점에서 비판한 사례가 나타나 있다. ㄱ. 자율 주행 자동차를 운행할 때 도덕적 기준이 될 윤리 지침이 필요할지 바라보는 것은 윤리적 관점이다. ㄴ. 결혼과 출산에 대한 MZ 세대의 가치관을 살펴보는 것은 윤리적 관점이다.

### 선택지 분석

- ㄱ. 자율 주행 자동차의 윤리 지침이 필요할까? → 윤리적 관점
- ㄴ. 교통 약자의 이동권 보장을 위한 제도에는 무엇이 있을까?  
→ 사회적 관점
- ㄷ. 학생 수 불균형이 지역마다 다르게 나타나는 이유는 무엇일까?  
→ 공간적 관점
- ㄹ. MZ 세대는 결혼과 출산에 대해 어떤 가치관을 가지고 있을까?  
→ 윤리적 관점

## 16 인간, 사회, 환경을 바라보는 다양한 관점

**정답** ④ A는 윤리적 관점, B는 시간적 관점, C는 공간적 관점, D는 사회적 관점이다. ㄴ. 사회현상에 영향을 준 역사적 배경이나 시대적 맥락을 탐구하는 것은 시간적 관점이므로 B의 관점에 대한 옳은 설명이다. ㄷ. 사회 구조와 사회 제도의 영향력을 고려하여 인간, 사회, 환경을 바라보는 것은 사회적 관점이므로 D의 관점에 대한 옳은 설명이다.

**오답** ㄱ. 장소와 지역, 공간적 상호 작용에 중점을 두고 인간, 사회, 환경을 바라보는 관점은 공간적 관점이므로 C의 관점에 대한 설명이다. ㄷ. 도덕적 가치와 도덕규범을 바탕으로 사회현상을 해석하고 문제점을 찾아 바람직한 삶의 모습을 살펴보는 관점은 윤리적 관점이므로 A의 관점에 대한 설명이다.

### 자료 분석

- A: 교가는 학생이 추구해야 하는 **바람직한 가치관**을 담고 있어야 해.  
 B: **최초** 교가는 **19세기** 말 배재 학당을 세우면서 미국 대학 응원가에 가사를 붙인 거래.  
 C: 교가에는 **산과 강**의 이름이 자주 등장해. 공주에 있는 ○○고의 교가에는 **봉황산과 금강**이 나와.  
 D: 교가의 가사는 **학교 구성원의 사고와 행동에 영향을** 미치기도 해. 그래서 학교 구성원의 목표를 담아 교가를 바꾸려는 사람들도 있어.

→ A는 옳고 그름, 선악 등과 같은 도덕적 가치 판단을 고려하고 있으므로 윤리적 관점이다. B는 시간 흐름에 따른 변화가 나타나므로 시간적 관점이다. C는 장소, 지역에 관한 탐구이므로 공간적 관점이다. D는 사회 구성원에게 영향을 미치는 사회적 맥락을 살펴보고 있으므로 사회적 관점이다.

## 17 인간, 사회, 환경을 바라보는 다양한 관점

**정답** ② ㄱ. 과거와 현재의 장례 방식을 비교하면서 과거의 장례 방식이 무엇이었던지 살펴보는 것은 시간적 관점에 해당한다. ㄷ. 종교가 사람들의 장례 방식에 영향을 미쳤다고 분석한 것은 사회적 관점에 해당한다.

**오답** ㄴ. 공간적 관점은 장소와 지역, 공간적 상호 작용에 중점을 두고 인간, 사회, 환경을 바라보는 관점이다. ㄷ. 윤리적 관점은 도덕적 가치와 도덕규범을 바탕으로 사회현상을 해석하고 문제점을 찾아 바람직한 삶의 모습을 살펴보는 관점이다.

## 18 통합적 관점

**정답** ⑤ 갑은 공간적 관점에서 관광객이 가장 몰리는 구역을 살펴보고자 하고, 을은 사회적 관점에서 관광객 과잉으로 피해 본 주민들이 제기한 민원이 무엇인지 살펴보고자 한다. 병은 윤리적 관점에서 관광지의 관광객, 지역 주민, 상인 간에 어떤 가치가 충돌하는지 알아보고자 하고, 정은 시간적 관점에서 시대에 따라 관광객 과잉 문제의 변화 양상을 살펴보고자 한다. 공간적 관점에 대한 설명은 ㄷ, 사회적 관점에 대한 설명은 ㄴ, 윤리적 관점에 대한 설명은 ㄱ, 시간적 관점에 대한 설명은 ㄷ이다.

## 19 통합적 관점

**정답** ⑤ 시간적, 공간적, 사회적, 윤리적 관점을 통합하여 사회현상을 이해하는 관점은 통합적 관점이다. 통합적 관점이 필요한 이유는 불확실하고 복잡한 사회현상을 종합적으로 이해하여 근본적이고 다각적인 해결 방안을 찾기 위해서이다.

## 20 사회적 관점과 윤리적 관점

- (1) 사회적 관점, 윤리적 관점  
 (2) **모범 답안** 사회적 관점은 사회문제를 해결하기 위한 정책과 제도 개선 방안을 제안할 수 있고, 윤리적 관점은 사회문제와 관련된 가치 갈등 해결을 위한 방안을 찾는 데 도움을 준다.

**(주요 내용)** 사회적 관점은 정책 수립이나 제도 개선 방안 측면, 윤리적 관점은 가치 갈등 해결 측면에서 도움을 준다고 서술해야 함.

채점 기준	배점
자료 내용과 연관하여 두 가지 관점의 특징을 한 가지씩 모두 서술한 경우	상
자료 내용과 연관하여 한 가지 관점의 특징만을 서술한 경우	하

## 21 통합적 관점

- (1) 통합적 관점  
 (2) **모범 답안** 통합적 관점은 개별 학문의 경계를 넘어 시간적, 공간적, 사회적, 윤리적 관점을 통합하여 인간, 사회, 환경을 이해하는 관점이다.

**(주요 내용)** 개별 학문 경계를 넘어 네 가지 관점 모두를 통합하여 인간, 사회, 환경을 이해하는 관점이라고 서술해야 함.

채점 기준	배점
개별 학문 경계를 넘는다든 내용과 네 가지 관점을 모두 언급하여 통합적 관점의 의미를 서술한 경우	상
네 가지 관점만 언급하여 통합적 관점의 의미를 서술한 경우	하

## 22 인간, 사회, 환경을 바라보는 다양한 관점

**정답** ② A는 과거와 현재의 여행 방식의 변화와 공정 여행이 등장한 시대적 배경을 탐구하므로 시간적 관점, B는 현지 문화와 지리적 특성을 고려한 공정 여행 코스를 계획하므로 공간적 관점, C는 국가 및 지방 자치 단체의 공정 여행 지원 정책을 조사하였으므로 사회적 관점, D는 현지 주민들의 삶과 환경을 보호하고 존중하는 태도라는 보편적 가치를 고려하므로 윤리적 관점에 해당한다. 따라서 위치와 장소 등 공간적 맥락을 중시하는 공간적 관점에서 과제를 탐구한 것은 B이다.

### 선택지 분석

- ① A는 사회현상을 **도덕적 기준**에 따라 평가한다. → **윤리적 관점**  
 ③ C는 사회현상을 **시간의 흐름** 속에서 이해한다. → **시간적 관점**  
 ④ D는 **사회 구조와 사회 제도의 영향력**을 강조한다. → **사회적 관점**  
 ⑤ A~D 관점 중 **하나의 관점**으로만 사회현상을 탐구해야 한다.  
 → 복잡한 사회현상을 이해하려면 시간적, 공간적, 사회적, 윤리적 관점을 모두 활용하여 탐구해야 한다.

### 23 윤리적 관점

**정답** ⑤ ①은 윤리적 관점이다. 아동 인권 보호를 위한 올바른 가치관이 무엇인지를 탐구하므로 윤리적 관점의 탐구 주제로 적절하다.

**오답** ① 아동 노동이 언제부터 시작되었는지 시간적 맥락에서 탐구하므로 시간적 관점의 탐구 주제로 적절하다. ② 학대 농장주가 처벌받는 법적 근거를 탐구하므로 사회적 관점의 탐구 주제로 적절하다. ③ 아동 노동이 발생한 지역의 자연환경을 탐구하므로 공간적 관점의 탐구 주제로 적절하다. ④ 아동 노동을 막기 위해 만든 국제 규약을 탐구하므로 사회적 관점의 탐구 주제로 적절하다.

### 24 사회적 관점

**정답** ④ 사회적 관점은 사회 구조와 사회 제도에 중점을 두고 사회 현상을 이해한다. 따라서 자율 주행 자동차와 관련된 교통 제도를 수립하여 시행했을 때 사회에 미칠 영향을 예측하는 것은 사회적 관점에 해당한다.

**오답** ① 연도별로 자율 주행 자동차의 구입 현황을 비교하는 것은 시간적 관점에 해당한다. ② 자율 주행 자동차가 주행하기 어려운 공간의 특징을 분석하는 것은 공간적 관점에 해당한다. ③ 자동차의 역사적 발전 과정 분석을 통해 미래 자동차의 모습을 예상하는 것은 시간적 관점에 해당한다. ⑤ 지리적 환경이 자율 주행 자동차의 운행에 미치는 영향을 탐구하는 것은 공간적 관점에 해당한다.

### 25 통합적 관점

**정답** ③ 제시문에는 어떤 물건의 일부만 먼저 보면 그 물건의 특징을 종합적으로 파악하기 어려운 것처럼 개별 관점만으로 사회현상을 바라보면 다양한 측면을 종합적으로 파악하기 어렵다는 내용이 나타나 있다. 복잡한 사회현상을 제대로 이해하려면 여러 관점을 종합적으로 적용하는 통합적 관점의 연구가 필요하다.

## 논술명 문제

103쪽

#### 【문항 설계 의도】

- 각 관점과 관련된 구체적 사례를 분석하고 이를 바탕으로 각 관점의 의미를 설명할 수 있도록 한다.
- 각 관점의 유용성을 바탕으로 통합적 관점의 필요성을 이해하도록 한다.

#### 자료 분석

- (가)는 법률의 시행으로 학교 주변에서 볼 수 있는 시설과 볼 수 없는 시설이 구분된다는 내용을 살펴보고 있으므로 사회적 관점에 해당한다.
- (나)는 채식주의자 학생들의 권리가 지켜지지 않고, 편견과 차별 때문에 어려움을 겪고 있다는 내용을 살펴보고 있으므로 윤리적 관점에 해당한다.
- (다)는 학생들이 입는 교복이 생겨난 배경과 역사적 변천 과정을 살펴보고 있으므로 시간적 관점에 해당한다.
- (라)는 학령 인구 감소에 따른 지역별 변화 양상과 이와 관련한 과밀 학급 문제를 살펴보고 있으므로 공간적 관점에 해당한다.

### 작성 Tip | 논술문 작성 가이드

다음과 같이 인간, 사회, 환경을 바라보는 관점을 구분하고 통합적 관점의 유용성에 대해 서술하도록 한다.

- 현대 사회의 사회현상과 사회문제는 불확실하고 복잡함.
- 제한된 사고의 틀에서 벗어나 다양한 관점을 적용하면 정확한 결론을 내릴 수 있음.
- 통합적 관점을 적용하면 근본적이고 다각적인 해결 방안을 도출할 수 있음.

- (1) **모범 답안** (가)는 사회 구조와 사회 제도의 영향력을 고려하여 인간, 사회, 환경을 바라보는 사회적 관점, (나)는 도덕적 가치와 도덕규범을 바탕으로 사회현상을 해석하고 문제점을 찾아 바람직한 삶의 모습을 살펴보는 윤리적 관점, (다)는 역사적 배경과 시대적 맥락을 고려하여 인간, 사회, 환경을 바라보는 시간적 관점, (라)는 장소와 지역, 공간적 상호 작용을 고려하여 인간, 사회, 환경을 바라보는 공간적 관점이다.

**【주요 내용】** 각 관점이 시간적, 공간적, 사회적, 윤리적 관점 중 무엇에 해당하는지 쓰고 관점의 의미를 사례와 연관하여 서술해야 함.

채점 기준	배점
(가)~(라) 관점이 무엇인지 쓰고 의미를 바르게 서술한 경우	상
(가)~(라) 관점이 무엇인지 썼지만, 의미를 일부만 서술한 경우	중
(가)~(라)의 관점이 무엇인지만 서술한 경우	하

- (2) **step 1 모범 답안** 현대 사회의 불확실하고 복잡한 사회현상이나 사회문제를 종합적으로 이해하고 해결하기 위해서는 통합적 관점이 필요하다. → ① 제한된 사고의 틀에서 벗어나 다양한 관점을 적용할 수 있다. ② 특정 관점으로만 사회현상을 볼 때보다 정확한 결론을 내릴 수 있다. ③ 사회문제에 대응할 근본적이고 다각적인 방안을 도출할 수 있다.

**step 2 모범 답안** 통합적 관점으로 사회현상이나 사회문제를 보면 제한된 사고의 틀에서 벗어나 다양한 관점을 적용할 수 있고, 특정 관점으로만 사회현상을 볼 때보다 정확한 결론을 내릴 수 있다. 또한 사회문제에 대응할 근본적이고 다각적인 방안을 도출할 수 있기 때문에 현대 사회의 불확실하고 복잡한 사회현상이나 사회문제를 종합적으로 이해하고 해결하기 위해서는 통합적 관점이 필요하다.

**【주요 내용】** 통합적 관점, 불확실, 복잡, 제한된 사고, 특정 관점, 근본적, 다각적

구분	채점 기준	배점
유용성 제시	필요한 관점으로 통합적 관점을 쓰고 유용성을 세 가지 모두 바르게 서술한 경우	상
	필요한 관점으로 통합적 관점을 쓰고 유용성을 두 가지만 바르게 서술한 경우	중
	필요한 관점으로 통합적 관점을 쓰고 유용성을 한 가지만 바르게 서술한 경우	하
논술문 형식	논술문의 형식(주장, 근거, 결론)을 갖추어 바르게 작성한 경우	상
	논술문의 형식을 갖추지 못한 경우	하

## II 인간, 사회, 환경과 행복

**빠른 정답**

**1등급 완성!**

### 1단계 개념 확인 문제

- 01 ○    02 x    03 x    04 ○    05 x    06 ○  
 07 ○    08 x    09 x    10 x    11 x    12 x  
 13 ○    14 기후가 건조한 지역    15 빈곤 탈출과 물질적 풍요  
 16 인(仁)    17 에피쿠로스    18 벤담    19 생리, 인심  
 20 질 높은 정주 환경    21 소득    22 최저 임금제, 실업 급여, 국민  
 취업 지원 제도    23 시민(국민)

### 2단계 내신 대비 문제

- 24 ③    25 ①    26 ③    27 ④    28 ③    29 ⑤  
 30 ⑤    31 ⑤    32 ②    33 ④    34 ④  
 35 (1) 아리스토텔레스, 이성 (2) 해설 참조    36 해설 참조

### 3단계 수능 대비 문제

- 37 ①    38 ②    39 ⑤    40 ③    41 ⑤    42 ②  
 43 ⑤    44 ④

## 24 행복의 의미

**정답** ③ 행복에는 주관적 요소와 객관적 요소가 모두 존재할 수 있으며, 일상생활에서의 소소한 만족감을 얻음으로써 달성될 수 있다. 사람마다 일상에서 얻어지는 만족감이 다르므로 각자 추구하는 행복의 의미가 다를 수 있다.

### 선택지 분석

- 행복을 위해서는 객관적 요소만 중요하다.  
→ 행복에는 객관적 요소와 주관적 요소가 있다.
- 일상생활에서의 소소한 만족감과는 무관하다.  
→ 행복은 일상생활에서 누리는 소소한 만족감과 관련된다.
- 누구나 부와 명예의 획득을 궁극적 목적으로 한다.  
→ 부와 명예의 획득은 행복의 궁극적 목적이 되기 어려울 뿐만 아니라, 사람마다 행복의 목적은 다를 수 있다.
- 정신적 쾌락이 아닌 감각적 쾌락을 추구해야 달성된다.  
→ 정신적 쾌락과 감각적 쾌락은 모두 행복과 관련된다.

## 25 지역에 따른 행복의 기준

**정답** ① 고대 중국과 그리스 사람들의 행복의 기준이나 가치관에 차이가 나는 이유는 지역의 지형과 기후에 따른 생활양식의 차이에서 기인하는 것임을 알 수 있다.

### 선택지 분석

- ㄷ. 자연환경은 인문환경과 달리 구성원의 행복의 기준에 미치는 영향이 크다.  
→ 지역의 자연환경과 인문환경은 모두 구성원의 행복에 영향을 준다.
- ㄹ. 지역 간 구성원들의 삶의 목적에 차이가 발생하는 유일한 이유는 종교의 차이 때문이다.  
→ 자료에 드러난 고대 중국과 고대 그리스의 차이는 자연환경의 차이, 그리고 여기에서 비롯된 산업 등 인문환경의 차이이다. 즉 자연환경 및 인문환경의 모든 영역이 구성원들의 삶의 목적에 영향을 준다.

## 26 시대별 행복의 기준

**정답** ③ 고대 헬레니즘 시대는 지속된 전쟁 때문에 혼란스러웠던 시기로, 사람들은 불안에서 벗어나 마음의 평온을 얻는 것을 중시하였다.

### 자료 키워드 시대에 따른 행복의 기준

선사 시대	식량을 안정적으로 확보하고 외부의 위협으로부터 안전하게 사는 것
고대 그리스 시대	이성의 기능을 잘 발휘하여 철학적 성찰을 통해 지혜와 덕을 얻는 것
고대 헬레니즘 시대	불안에서 벗어나 마음의 평온을 얻는 것
중세 시대	신앙을 통해 영원하고 완전한 존재인 신과 하나가 되는 것
근대 시대	자유, 평등 등 인간의 기본적 권리를 보장받는 것
오늘날	경제적, 사회적, 환경적 측면 등 다양한 요소가 행복의 기준이 됨.

## 27 에피쿠로스의 행복론

**정답** ④ 에피쿠로스는 몸에 고통이 없고 마음에 불안이 없는 평정심을 가져야 한다고 강조하였다. 그리고 자연적이고 필수적인 쾌락을 검소하게 추구하는 삶을 살아감으로써 행복에 이를 수 있다고 보았다.

### 자료 분석

결핍으로 인해 생기는 고통이 사라져야 마음의 평정심을 얻고 행복에 이를 수 있다고 보았음.  
 결핍으로 인해 생기는 고통이 사라진다면, 단순한 음식도 우리에게 사치스러운 음식과 같은 즐거움을 준다.  
 사치스럽고 호화로운 음식이 인간에게 주는 즐거움에는 한계가 있다고 보았음.

## 28 행복에 관한 에피쿠로스의 입장

**정답** ③ 에피쿠로스는 행복을 육체의 고통이 없고 마음의 불안이 없는 상태라고 보았다.

**오답** ①은 중세 시대의 행복의 기준이다. ②는 석가모니, ④는 스토아학과, ⑤는 아리스토텔레스의 입장이다.

## 29 삶의 목적의 중요성

**정답** ⑤ 삶의 목적은 인생에 동기를 부여하고 힘든 시기에 어려움을 이겨낼 수 있는 원동력이 된다.

## 30 아리스토텔레스의 행복관

**정답** ⑤ 제시문을 주장한 사상가는 아리스토텔레스이다. ㄷ. 아리스토텔레스는 인간은 이성적 활동을 통해 그에 알맞은 덕을 의지를 가지고 실천할 때 행복이 실현된다고 보았다. ㄹ. 아리스토텔레스는 이성은 인간만이 가진 기능이며, 이성을 잘 실현할 때 진정한 행복의 의미를 파악할 수 있다고 보았다.

**오답** ㄱ. 에피쿠로스는 육체적 고통이 없고 마음에 불안이 없는 상태를 행복이라고 보았다. ㄴ. 아리스토텔레스는 행복은 최고의 선이며, 인간 삶의 궁극적 목적이라고 보았다.



### 31 내면의 만족과 행복

**정답** ⑤ B 집단은 스스로 의미를 발견하고 즐거움을 느낄 수 있는 목표를 수립하여 추구했기 때문에 더 큰 행복을 느낀 것이다. 돈, 인기, 명예와 같은 외재적 목표는 경쟁 속에서 시기심을 불러오고 성취감도 금방 사라지지만, 자신과 타인에 대한 사랑, 사회 공헌과 같은 내재적 목표는 개인의 잠재력을 더 발휘하게 해서 행복을 느끼게 한다.

### 32 질 높은 정주 환경과 행복의 관계

**정답** ② (가)는 이중환의 《택지리》에 나타난 가거지의 조건이고, (나)는 오늘날 사람들이 거주지를 선택할 때 우선적으로 고려하는 조건이다. 이러한 조건들은 행복한 삶을 위한 질 높은 정주 환경의 필요성을 보여 준다.

**오답** 경제적 안정, 시민 참여의 보장, 민주주의의 실현, 도덕적 성찰과 도덕적 실천 등은 모두 행복한 삶을 위한 조건에 해당하지만, (가)와 (나)에서 강조하는 행복을 위한 조건과는 거리가 멀다.

### 33 경제적 안정과 행복의 관계

**정답** ④ 인간의 기본적인 욕구를 충족하는 수준에 이를 때까지는 일정 수준의 소득이 필요(L)하지만, 소득이 일정 수준 이상 높아지면 개인의 행복감과 경제력은 완전히 일치하지는 않는다(R).

#### 선택지 분석

- ㄱ. 소득이 적을수록 행복한 삶을 살 수 있다.  
→ 인간의 기본 욕구를 충족시키기 위한 소득은 필요하다. 소득이 욕구의 최저점에 이를 때까지는 소득과 행복이 비례한다고 볼 수 있다.
- ㄷ. 개인의 행복 실현을 위해 국가는 모든 국민의 생계 수준을 동일하게 유지해야 한다.  
→ 경제적 측면에서의 절대적 평등은 글에서 이야기하는 행복 실현과 관련이 없다.

### 34 민주주의와 행복의 관계

**정답** ④ 제시문은 아마르티아 센(Sen, A. K.)의 주장으로, 민주주의 국가에서는 심각한 자연재해가 발생하더라도 이에 적극적으로 대응하여 기근이 발생하지 않음을 보여 준다. 이 글을 지지하는 입장에서는 시민이 주인 의식을 가지고 정치적·사회적 참여를 활발히 하면 인권을 보장받고 행복한 삶을 실현할 수 있다고 볼 것이다.

### 35 동서양 사상에 드러난 행복의 의미

(1) 아리스토텔레스, 이성

(2) **모범 답안** 도가, 타고난 그대로의 본성에 따라 인위적인 것이 더해지지 않은 '자연 그대로의 모습으로 살아가는 것'을 행복이라고 보았다.

**【주요 내용】** 도가를 쓰고, '무위자연', '본성', '자연 그대로의 모습으로 살아가는 것' 등의 말을 써서 행복의 기준을 제시해야 함.

채점 기준	배점
도가를 쓰고, 본성에 따라 자연 그대로의 모습으로 살아가는 것이 행복이라는 점을 구체적으로 서술한 경우	상
도가는 썼으나, 도가에서 말하는 행복의 기준을 모호하게 서술한 경우	중
도가만 쓴 경우	하

### 36 바람직한 정주 환경

**모범 답안** 오염 물질이 적은 쾌적한 자연환경, 여유를 즐길 수 있는 충분한 녹지 공간과 편리한 교통 체계, 안정적인 주거 환경 등이 있다.

**【주요 내용】** 오스트리아 빈의 사례를 참고하여 깨끗하고 쾌적한 자연환경, 풍부한 녹지 공간, 편리한 교통 체계, 주거비 걱정 없는 환경 등을 제시해야 함.

채점 기준	배점
빈의 사례를 참고하여 바람직한 정주 환경의 조건을 세 가지 모두 바르게 서술한 경우	상
빈의 사례를 참고하여 바람직한 정주 환경의 조건을 두 가지만 서술한 경우	중
빈의 사례를 참고하여 바람직한 정주 환경의 조건을 한 가지만 서술한 경우	하

### 37 시대에 따라 다른 행복의 기준

**정답** ① 제시문에서는 중세, 근대, 오늘날의 행복의 기준이 다양함을 보여 주고 있다. 결론적으로 행복의 기준은 시대적 상황에 따라 다양하게 나타난다고 볼 수 있다. 한편 행복의 기준은 시대적 상황뿐만 아니라 지역에 따라서도 다양하게 나타난다.

### 38 지역에 따라 다른 행복의 기준

**정답** ② 강연자는 지역적 여건에 따라 행복의 기준이 달라지는 사례를 제시하고 있으며, 이는 행복의 기준은 자신이 처해 있는 환경과 관련됨을 보여 준다.

**오답** L. 지역에 따라 행복의 기준이 다르므로 모든 사람에게 행복의 기준이 획일적으로 적용될 수 없다. R. 같은 지역이라도 시대적 상황과 역사에 따라 행복의 기준은 달라질 수 있다.

### 39 아리스토텔레스의 행복관

**정답** ⑤ 아리스토텔레스는 인간의 기능인 이성을 탁월하게 발휘하여 지성적인 삶을 바탕으로 도덕적 실천을 반복하여 품성적 덕을 형성해야 현실에서 행복을 실현할 수 있다고 보았다.

#### 선택지 분석

- ① 현실 세계에서는 행복한 삶에 도달할 수 없는가?  
→ 이성을 잘 발휘하여 덕 있는 삶을 실현하면 도달할 수 있다고 답할 것이다.
- ② 인간의 기능을 탁월하게 발휘하는 것은 행복과 무관한가?  
→ 행복과 관련 있다고 답할 것이다.
- ③ 인간이 추구하는 삶의 궁극적인 목적은 존재하지 않는가?  
→ 행복을 인간 삶의 궁극적 목적으로 보므로, 존재한다고 답할 것이다.
- ④ 좋은 품성은 한 번의 도덕적 행위만으로 형성될 수 있는가?  
→ 도덕적 행위를 습관화함으로써 좋은 품성을 지닐 수 있다고 답할 것이다.

### 40 에피쿠로스의 행복관

**정답** ③ 에피쿠로스는 욕구 중에서 자연적이고 필수적인 욕구를 충족할 것을 강조하며, 검소와 절제를 통해 욕구를 최소화함으로써 행복에 이를 수 있다고 보았다.

## 41 에피쿠로스의 행복관

**정답** ⑤ 에피쿠로스는 참된 행복이란 몸의 고통과 마음의 불안이 사라진 평온한 상태라고 주장하며, 참된 행복은 자연적이고 필수적인 쾌락을 최소한으로 추구할 때 얻을 수 있다고 보았다.

### 선택지 분석

- 육체적 쾌락의 충족을 통해 얻어진다.  
→ 에피쿠로스는 육체적 쾌락보다 정신적 쾌락을 추구할 것을 강조하였다.
- 모든 욕구를 부정하는 삶을 통해 얻어진다.  
→ 에피쿠로스는 자연적이고 필수적인 욕구를 충족할 것을 강조하였다.

## 42 도덕적 실천과 행복 실현의 관계

**정답** ② 가상 편지를 쓴 사람은 경제적인 풍요로움 만으로는 행복이 실현되기 어렵다고 보고, 공자의 예를 들면서 바람직한 삶의 속도와 인간으로서 마땅히 행해야 할 바를 강조하고 있다. 즉, 어느 정도의 의식주 충족도 필요하지만, 윤리적 성찰과 실천의 중요성을 강조하고 있는 것이다.

## 43 행복한 삶을 위한 다양한 조건

**정답** ⑤ 병. 경제적 안정을 위해서는 경제적 불평등을 해소하고 사회적 약자를 배려하려는 정책이 필요하다. 정. 도덕적 실천을 위해서는 올바른 가치를 실천하려는 의지가 필요하다.

**오답** 갑. 질 높은 정주 환경을 조성하기 위해서는 인문환경과 자연 환경의 요소를 모두 고려해야 한다. 을. 민주주의 실현을 위해서는 시민의 정치 참여를 활성화해야 한다.

## 44 행복의 조건

**정답** ④ (가)는 권위주의 정권의 수립으로 시민들의 정치 참여가 불가능한 상황으로, A국에서는 시민 참여를 보장하는 민주주의 실현이 행복의 조건이다. (나)는 청년층과 노년층이 경제적인 어려움을 호소하는 상황으로, B국에서는 경제적 안정이 행복의 조건이다.

### 선택지 분석

- ㄱ. (가)를 통해 주권 회복이 행복을 보장하는 유일한 조건임을 알 수 있다. → A국은 주권을 회복하였으나, 민주주의가 실현되지 않은 상황이다.
- ㄷ. (나)를 통해 노년층의 행복 지수는 사회 제도와 무관하게 결정됨을 알 수 있다.  
→ B국의 노년층은 미흡한 복지 정책 등으로 경제적 어려움을 겪고 있으므로, 이들의 행복 지수는 사회 제도와 관련이 있다.

## 논술형 문제

111쪽

### [문항 설계 의도]

- 세계 행복 지수의 평가 항목을 통해 행복을 위해 필요한 다양한 조건을 파악하여 제시할 수 있도록 한다.
- 삶의 목적으로서 행복을 실현하기 위해 도덕적 실천이 필요한 이유를 근거를 들어 제시하도록 하여 민주시민, 세계시민으로서의 역량을 기르도록 한다.

### 자료 분석

국제 연합(UN)이 발행하는 《세계 행복 보고서》에서 행복 지수를 평가하는 항목에는 1인당 국내 총생산(GDP), 건강 기대 수명, 사회적 지지, 인생을 선택할 자유, 부패에 대한 인식, 관대함이 있다.

↳ 이 평가 항목은 질 높은 정주 환경, 경제적 안정, 민주주의 발전, 도덕적 실천과 같은 행복의 조건과 관련됨. 하지만 명확하게 구분되는 것은 아니며 한 가지 항목이 여러 조건과 관련될 수 있음.

### 작성 Tip | 논술문 작성 가이드

(다), (바)와 같이 도덕적 실천과 관련된 조건이 삶의 목적으로서의 행복을 실현하기 위해 중요한 이유를 적절한 근거를 제시하여 서술하도록 한다.

- 도덕적 실천이 행복의 조건으로 필요하지 않다고 볼 경우: 자신의 이익만 추구하고 타인을 도덕적으로 배려하지 않는다면 스스로 떳떳하지 못하고 사회적으로 불신과 갈등이 팽배해질 수 있음.
- 도덕적 실천이 행복의 조건으로 필요하다고 볼 경우: 내적 만족감, 심리적 만족감 등을 느껴 행복감을 느낄 수 있고, 사회 구성원 간에 신뢰를 형성할 수 있음.

(1) **모범 답안** 질 높은 정주 환경: (나) / 경제적 안정: (가), (나) / 민주주의의 발전: (라), (마) / 도덕적 실천: (다), (바)

(2) **step 1** **모범 답안** '(다)나 (바)의 조건은 필요하다.'의 예시

- ① 자신의 이익만 추구하고 도덕적인 삶에 무관심하다면 스스로 떳떳하지 못하고 사회적 갈등도 심해질 수 있다.
- ② 도덕적으로 성찰하는 사람은 인격적으로 성숙하는 과정에서 삶의 의미를 깨닫고 내적 만족을 느낄 수 있다.
- ③ 도덕적 실천을 통해 사회 구성원 사이에 신뢰를 형성할 수 있다.  
→ 따라서 (다)나 (바)의 조건은 삶의 목적으로서의 행복을 실현하기 위해 (필요하다).

**step 2** **모범 답안** '(다)나 (바)의 조건은 필요하다.'의 예시

삶의 목적으로서의 행복을 실현하기 위해서는 어려움에 처한 사람을 돕는 사회 분위기가 형성되고, 실제로 기부가 행해지는 등 도덕적으로 성찰하고 실천하는 것이 필요하다. 왜냐하면 타인을 도덕적으로 배려하지 않는다면 스스로 떳떳하지 못하고 사회적 갈등이 심해질 수 있기 때문이다. 반면 도덕적 실천을 행하면 인격적으로 성숙해지는 과정에서 내적 만족감을 느낄 수 있고, 사회 구성원 사이에 신뢰를 형성할 수 있다. 따라서 (다)나 (바)와 같은 행복의 조건은 개인과 공동체 모두의 행복 실현을 위해 꼭 필요하다.

**[주요 내용]** 삶의 목적으로서의 행복, 도덕적 성찰, 도덕적 실천, 내적 만족, 신뢰 형성

구분	채점 기준	배점
근거 제시	뒷받침하는 근거를 세 가지 모두 명확하게 서술함.	상
	뒷받침하는 근거를 두 가지만 서술함.	중
	뒷받침하는 근거를 한 가지만 서술함.	하
논술문의 형식	논술문의 형식(주장, 근거, 결론 등)을 갖추어 바르게 작성함.	상
	논술문의 형식을 갖추지 못함.	하

### III 자연환경과 인간

**빠른 정답** ✓

**1등급 완성!**

**1단계 개념 확인 문제**

- 01 ○    02 ○    03 ×    04 ×    05 ×    06 ×  
 07 ×    08 ○    09 ×    10 ×    11 ○    12 ×  
 13 ○    14 ×    15 열대 고산 기후  
 16 열대 저기압(태풍)    17 안전권, 환경권    18 이분법적 관점  
 19 레오폴드    20 본래적(내재적) 가치    21 열대 우림  
 22 몬트리올 의정서    23 생태전환적 사고

**2단계 내신 대비 문제**

- 24 ②    25 ④    26 ④    27 ④    28 ⑤    29 ③  
 30 ③    31 ②    32 ①    33 ①    34 ⑤    35 ④  
 36 ⑤    37 ②    38 ①    39 ②    40 ②    41 ①  
 42 ③    43 ④    44 ①    45 ③

- 46 (1) (가) 발릭파판, (나) 리야드, (다) 광양, (라) 덕손 (2) 해설 참조  
 47 (1) ㉠ 지진, ㉡ 폭설 (2) 해설 참조  
 48 (1) (가) 인간 중심주의, (나) 생태 중심주의 (2) 해설 참조  
 49 (1) 생태 중심주의 (2) 해설 참조  
 50 (1) 해설 참조 (2) 해설 참조

**3단계 수능 대비 문제**

- 51 ⑤    52 ③    53 ②    54 ②    55 ⑤    56 ④  
 57 ④    58 ①    59 ④    60 ①    61 ④    62 ④  
 63 ④    64 ②    65 ④    66 ④

#### 24 사바나 기후 지역의 특징

**정답** ② 키가 큰 풀이 있는 초원에 키가 작은 나무가 드문드문 분포 하며 야생 동물이 있는 것으로 보아 해당 지역은 열대 기후 중 사바나 기후 지역임을 알 수 있다. 사바나 기후 지역은 건기와 우기가 뚜렷해 열대 초원인 사바나 초원이 나타나며, 야생 동물을 활용한 관광 산업이 발달하였다.


**선택지 분석**

- ㄴ. 연중 강수량이 많아 울창한 열대 우림이 발달해 있다.  
 → 연중 고온 다습하여 열대 우림이 발달하는 지역은 열대 우림 기후 지역이다.  
 ㄹ. 주민들은 주로 지붕이 평평하고 창문이 작은 흙집에 거주한다.  
 → 흙집은 건조 기후(사막 기후) 지역에서 볼 수 있는 전통 가옥이다.

#### 25 지중해성 기후 지역의 경관

**정답** ④ 올리브 재배가 활발한 곳은 지중해성 기후 지역이다. 지중해성 기후 지역은 여름에는 고온 건조하고 겨울에는 온난 습윤하다.

**자료 분석**



올리브 나무는 잎이 두껍고 작으며 단단하여 지중해 연안의 고온 건조한 여름 날씨에도 잘 자란다.

**선택지 분석**

- ① 강수량보다 증발량이 많다.  
 → 건조 기후의 특징이다.  
 ② 주민들이 가족으로 야마와 알파카를 기른다.  
 → 야마와 알파카를 가족으로 기르는 곳은 안데스 산지 지역이다.  
 ③ 주민들은 주로 통나무로 지은 집에 거주한다.  
 → 통나무집은 냉대 기후 지역에서 볼 수 있다.  
 ⑤ 지역을 대표하는 음식은 말린 연어와 순록 고기이다.  
 → 연어와 순록 고기는 한대 기후(툰드라 기후) 지역의 대표 음식이다.

#### 26 여러 기후 지역의 특징 비교

**정답** ④ (가)는 한대 기후(툰드라 기후), (나)는 열대 기후, (다)는 건조 기후(사막 기후) 지역에 있는 촬영지이다. 적도 부근에 위치한 열대 기후 지역은 고위도에 위치하여 추운 한대 기후 지역보다 가옥의 구조가 개방적이다.

**선택지 분석**

- ① (가)에서는 이동식 화전 농업이 발달했다. → (나)  
 ② (나)는 중위도 지역에 위치한다. → 저위도  
 ③ (다)에는 나뭇잎이 뾰족한 침엽수림이 형성되어 있다.  
 → 냉대 기후 지역  
 ⑤ (다)는 (나)보다 플랜테이션 농업 발달에 유리하다.  
 → 플랜테이션 농업은 선진국의 자본과 기술, 원주민의 노동력, 열대의 기후 환경이 결합된 형태의 농업 방식으로, (나)에서 발달했다.

#### 27 지형과 주민 생활

**정답** ④ 산지 지역에서는 산비탈을 가꾸어 밭농사(다)를 짓거나 가축을 기르는데, 지하자원이 풍부한 곳에서는 광업이 발달(가)하기도 한다. 큰 하천 하류에 비옥한 평야 지대가 발달한 곳은 벼농사 등 농업에 유리(나)하며, 독특한 지형이 나타나는 곳은 아름다운 경관을 활용한 관광 산업이 발달(라)한다.

#### 28 평야 지역의 특징

**정답** ⑤ 평야 지역은 해발 고도가 낮고 경사가 완만하여 지표면이 편평하다. 그래서 인간 거주에 유리하기 때문에 인구 밀도가 높은 편이다.

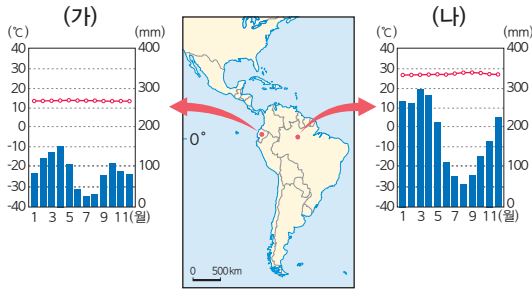
**자료 키워드 평야 지역**

- 큰 하천 하류에 발달한 비옥한 평야 지대에서는 농업이 발달함. 예) 우리나라의 김제평야와 호남평야, 미국의 미시시피강 주변 지역 등
- 교통로와 각종 건물 건설에 유리하여 도시가 발달하거나 각종 산업 시설이 들어서는 등 경제활동의 중요 공간이 됨.

#### 29 기후 요인 분석

**정답** ③ (가)는 열대 고산 기후 지역이고, (나)는 열대 우림 기후 지역이다. 두 지역 모두 적도 부근인 저위도에 위치하는데, (가)가 (나)보다 평균 기온이 낮은 것은 안데스 산지에 위치하여 해발 고도가 높기 때문이다.

자료 분석



(가), (나)는 모두 저위도 지역에 위치하는데, (가)가 (나)보다 기온이 낮다. 기온은 해발 고도가 높아질수록 낮아지는데, (나)가 아마존 분지의 저지대에 위치하고 (가)는 해발 고도가 높은 안데스 산지에 위치하기 때문이다. (나)와 비슷한 위도대에 위치하지만 해발 고도가 높아 기온이 온화한 (가)는 상대적으로 인간이 거주하기에 유리한 편이다.

30 열대 고산 기후 지역과 열대 우림 기후 지역의 특징

정답 ③ (가)는 연중 봄과 같은 기후가 나타나, 동위도의 (나)보다 인간 거주에 유리하다. (가)의 주민들은 감자, 옥수수를 재배하거나 야마, 알파카와 같은 가축을 기르며, (나)에서는 전통적으로 이동식 화전 농업이 이루어진다.

선택지 분석

- ㄱ. (가)에서는 밀 농사가 활발하다.
  - (가)의 주민들은 감자, 옥수수를 재배하거나 야마, 알파카와 같은 가축을 기른다. 밀 농사는 냉·온대 기후 지역에서 활발하다.
- ㄴ. (나)는 (가)보다 연 강수량이 적다.
  - 기후 그래프의 강수량을 보면 (나)가 (가)보다 연 강수량이 많다.

31 태풍의 특징

정답 ② ‘복상 중’, ‘강한 바람과 호우 예상’, ‘선박 대피’, ‘해안 지대 접근 금지’ 등의 내용을 통해 해당 긴급 재난 문자의 자연재해가 태풍(열대 저기압)임을 알 수 있다. 태풍은 기후적 요인에 의한 자연재해(ㄱ)이며, 여름·가을철의 발생 빈도가 높다. 행정 안전부의 긴급 재난 문자는 시민의 안전권을 보호하기 위한 정부의 노력(ㄴ) 중 하나이다.

선택지 분석

- ㄴ. 여름철보다 겨울철에 발생 빈도가 높다.
  - 겨울철보다 여름·가을철에 발생 빈도가 높다.
- ㄷ. 재해 발생 시 바로 집 밖으로 대피해야 한다.
  - 상황에 따라 다르지만, 일반적으로 태풍 발생 시에는 집안에 머무르는 것이 안전하다. 단 호우로 인해 침수될 우려가 있는 곳이라면 고지대 등으로 대피해야 한다.

32 안전하고 쾌적한 환경에서 살 시민의 권리

정답 ① 해당 법률은 <재난 및 안전 관리 기본법>으로, 헌법 제34조와 제35조를 바탕으로 제정되어 국민의 생명과 재산을 법으로 보호하고 있다. 이는 재난 상황에서 시민이 아닌 국가와 지방 자치 단체의 의무를 규정하고 있는 것이다.

33 인간 중심주의의 의미

정답 ① 사우디아라비아는 석유 개발을 통해 건조한 기후와 사막이라는 자연환경의 제약을 극복하여 경제 성장을 이룬 국가로, 인간 중심주의의 관점을 보여 준다. 인간 중심주의는 자연에 대한 탐구와 개발을 촉진하는 사상적 기반이 되었고, 과학기술의 발달과 경제 성장을 이루어 인간의 삶을 풍요롭게 하는 데 이바지하였다.

선택지 분석

- 인간이 생태계를 보전해야 할 의무가 있음을 일깨운다.
  - 생태 중심주의의 입장이다.
- 자연 개발을 중단함으로써 환경 문제를 즉각 해결해 준다.
  - 극단적인 생태 중심주의의 입장이다.

34 인간 중심주의의 대표 사상가

정답 ⑤ 갑은 베이컨, 을은 데카르트이다. 베이컨과 데카르트는 모두 인간 중심주의 사상가로 인간을 다른 자연적 존재보다 우월한 존재로 보고, 자연을 인간의 이익과 행복 증진을 위한 수단으로 이용할 수 있다고 보았다(ㄴ). 베이컨은 자연을 과학적으로 탐구하여 자연에 대한 지식을 축적해야 한다고 강조하였고(ㄱ), 데카르트는 인간과 달리 자연은 기계일 뿐이라고 보았다(ㄷ).

오답 ㄴ은 생태 중심주의의 입장이다.

35 인간 중심주의와 생태 중심주의의 적용

정답 ④ 갑은 인간 중심주의, 을은 생태 중심주의의 관점을 보여 준다. <사례>는 인간 중심주의 관점에서 열대 우림을 없애 팜나무 농장을 만들었는데, 팜유 생산이라는 이익과 동시에 생태계 파괴라는 부작용도 나타났음을 보여 준다. 자연을 도덕적 고려의 대상으로 보고 생태계 전체에 대한 도덕적 의무를 강조하는 것은 생태 중심주의(을)의 관점에 해당한다.

오답 ①, ②는 생태 중심주의(을), ③, ⑤는 인간 중심주의(갑)의 관점에서 팜유 농장 사례를 평가한 내용이다.

36 생태 중심주의의 대표 사상가

정답 ⑤ 제시문은 레오폴드의 <모래 군의 열두 달>의 일부본이다. 레오폴드는 생태 중심주의 사상가로 ‘대지 윤리’를 주장하였는데, 대지 윤리는 생태계 전체를 하나의 유기체로 보고 공동체의 범위를 인간에서 동물, 식물, 무생물을 포함한 대지까지 확대하는 입장이다.

오답 ① 싱어는 동물 중심주의, ②, ③ 베이컨과 데카르트는 인간 중심주의, ④ 슈바이처는 생명 중심주의 사상가이다.

자료 키워드 동물 중심주의와 생명 중심주의

- 동물 중심주의: 싱어는 도덕적 고려의 기준을 쾌락과 고통을 느끼는 능력인 쾌고 감수 능력으로 보고, 동물도 쾌락과 고통을 느끼므로 도덕적 고려의 대상이라고 보았다.
- 생명 중심주의: 슈바이처는 모든 생명이 살고자 하는 의지를 지니고 있으며 그 자체로 신성하다는 생명 외경 사상을 강조하였다.



### 37 레오폴드의 대지 윤리

**정답** ② 레오폴드는 생태계 전체를 하나의 유기체로 보았다. 그에 따르면 인간은 자연으로부터 독립된 우월한 지배자가 아닌 생명 공동체의 한 구성원이다.

**오답** ①, ③, ④, ⑤ 인간 중심주의 입장에서 긍정의 대답을 할 질문이다.

### 38 인간과 자연의 바람직한 관계

**정답** ① 신문 기사를 통해 꿀벌의 수분 활동이 인간의 농작물 생산에 큰 역할을 하므로, 꿀벌의 개체 수가 줄어들면 식량난을 겪을 수 있음을 알 수 있다. 이 사례를 통해 인간과 자연 생태계가 유기적 관계를 맺고 있고 상호 의존적이므로 생태계 위기를 초래한 원인에 대해 성찰해야 함을 알 수 있다.

#### 선택지 분석

- ㄷ. 인간의 욕망을 절제하고 자연을 변형하는 모든 개발을 중단해야 한다. → 극단적으로 모든 개발을 중단해야 한다는 것은 아니다.
- ㄹ. 자연은 인간과 대립하는 개체임을 이해하고 인간이 자연을 지배하도록 노력해야 한다.  
→ 자연과 인간은 서로 공존하는 관계임을 이해하고 인간과 자연의 상생을 추구해야 한다고 본다.

### 39 자연을 바라보는 관점

**정답** ② ㉠은 생태 중심주의 관점에서 인간이 자연의 구성원으로서 생태계를 보전해야 할 의무가 있으므로, 환경 파괴를 우려하여 케이블카 설치 사업을 반대하고 있다.

#### 선택지 분석

- ① 환경 문제 해결을 위해 과학기술이 발달해야 한다.  
→ 케이블카 설치 자체를 반대하는 것으로, 과학기술의 발달을 강조하는 내용은 아니다.
- ③ 인간의 이익을 위해 자연을 이용하는 것은 정당하다.  
→ 인간 중심주의 관점에 해당한다.
- ④ 사업 추진 시 환경보다 경제성을 더 중시해야 한다.  
→ 인간 중심주의 관점에 해당한다.
- ⑤ 인간에게 생태계 보전의 의무를 지우는 것은 옳지 않다.  
→ 생태 중심주의 관점에서 인간은 생태계를 보전해야 할 의무가 있다.

### 40 열대 우림 파괴의 영향

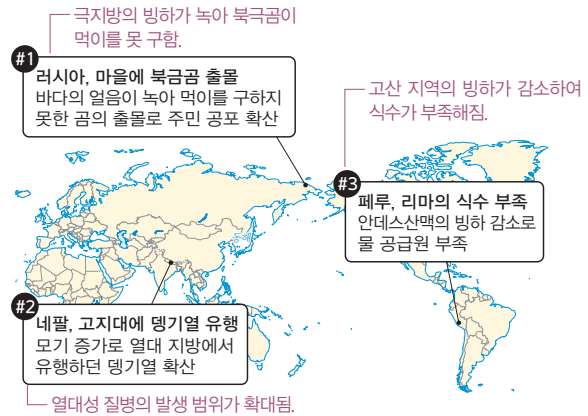
**정답** ② 이산화 탄소를 흡수하고 산소를 공급하는 열대 우림이 파괴되면 대기 중 이산화 탄소의 농도가 증가하며, 동식물의 서식지가 파괴되어 생물종 다양성이 감소한다.

**오답** ㄴ. 대기 오염 물질의 배출량이 늘어나면 미세 먼지 농도는 높아진다. ㄷ. 피부 질환 및 안과 질환은 오존층 파괴로 나타나는 문제이다.

### 41 지구 온난화의 영향

**정답** ① 지구 온난화로 빙하가 녹고 해수면이 상승하여 해안 저지대의 침수 가능성이 높아진다.

#### 자료 분석



### 42 환경 관련 국제 협약

**정답** ③ 오존층 파괴 물질의 생산 및 사용을 규제한 국제 협약은 몬트리올 의정서이다.

**오답** ① 파리 협정은 선진국과 개발 도상국에 모두 온실가스 감축 의무를 부여한 기후변화 협약이다. ② 바젤 협약은 유해 폐기물의 국제 이동 및 교역을 규제하는 협약이다. ④ 사막화 방지 협약은 심각한 가뭄 및 사막화의 영향을 받는 국가들의 사막화 방지를 지원하기 위한 협약이다. ⑤ 생물 다양성 협약은 생물종을 보호하기 위한 협약이다.

### 43 환경 문제 해결의 주체

**정답** ④ 친환경적인 정책과 제도를 수립하는 주체는 정부이고, 환경 운동을 비롯한 다양한 환경 보호 활동을 기획하고 참여를 유도하는 주체는 시민사회(시민단체)이다.

### 44 디지털 탄소 발자국

**정답** ① 제시된 자료는 디지털 기기로 전자 우편을 1통 보내는 데 4g, 통화 1분에 3.6g, 동영상 10분 시청에 1g 등의 탄소가 발생함을 보여 주고 있다. 스마트폰의 해상도를 높이면 에너지 소비량이 증가하므로 디지털 탄소 발자국도 늘어난다.

### 45 그린슈머의 특징

**정답** ③ 그린슈머는 환경 보전을 강조하며, 친환경적인 소비자로서 일회용품 사용을 줄이려고 노력할 것이다. 또한 친환경 경영을 추구하는 기업을 선호하며, 인간과 자연이 유기적 관계를 맺고 서로 영향을 주고받는 관계라고 볼 것이다.

**오답** ㄱ. 경제적 효율성보다는 환경 보전을 강조할 것이다. ㄷ. 인간과 자연을 분리하여 바라보는 관점에서 벗어나 인간과 자연이 유기적 관계를 맺고 서로 영향을 주고받는 관계라고 생각할 것이다.

### 46 세계 여러 지역의 기후

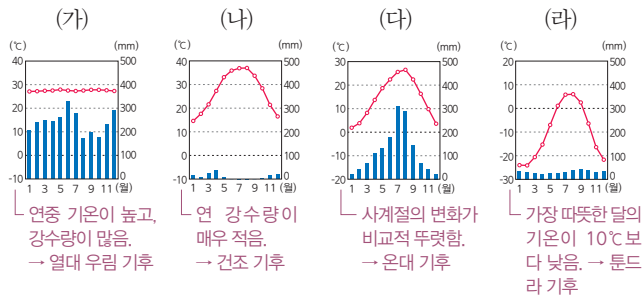
(1) (가) 발리파판, (나) 리야드, (다) 광양, (라) 덕손

(2) **모범 답안** (가)는 열대 기후(열대 우림 기후)의 그래프이고, (라)는 한대 기후(툰드라 기후)의 그래프이다. 열대 기후 지역은 고온다습하여 조리 시 음식이 잘 상하지 않도록 기름과 향신료를 많이 사용한다. 반면 한대 기후 지역은 연중 기온이 낮고 농업이 어려워 주로 육류 위주의 식사를 하며 음식을 오래 보관하기 위해 음식을 냉동·훈제·건조한다.

**[주요 내용]** 열대 기후와 한대 기후의 특징을 쓰고, 이와 관련지어서 각 지역의 음식 문화를 설명해야 함.

채점 기준	배점
(가), (라) 기후를 쓰고, 기후 특징과 관련지어 두 지역의 음식 문화를 바르게 서술한 경우	상
(가), (라) 기후를 썼으나, 기후 특징과 미흡하게 관련지어 두 지역의 음식 문화를 서술한 경우	중
(가), (라) 기후만 쓴 경우	하

**자료 분석**



**47 자연재해로부터 안전할 시민의 권리**

(1) ㉠ 지진, ㉡ 폭설

(2) **모범 답안** 재해에 의한 시민의 피해를 최소화하기 위한 다양한 법률을 제정하고, 재해 예방·복구·지원 관련 정책을 수립한다. 그리고 시민에게 재난 대비 안전 수칙을 교육한다.

**[주요 내용]** 국가가 하는 역할을 법률 및 정책 수립, 국민에게 하는 재난 대비 안전 수칙 교육 등의 측면에서 서술해야 함.

채점 기준	배점
국가의 역할 두 가지를 모두 바르게 서술한 경우	상
국가의 역할을 한 가지만 서술한 경우	하

**자료 분석**

㉠은 '규모 7.8', '내진 설계' 등으로 보아 지진임을 알 수 있고, ㉡은 '건물 붕괴', '제설 장비'로 보아 폭설임을 알 수 있다.

**48 인간 중심주의와 생태 중심주의 비교**

(1) (가) 인간 중심주의, (나) 생태 중심주의

(2) **모범 답안** (가) 인간 중심주의는 인간이 자연을 지배하는 것을 정당화하여 자연을 함부로 이용한 결과, 환경 오염, 자원 고갈, 생태계 파괴와 같은 환경 위기를 초래하였다. (나) 생태 중심주의는 생태계 보전을 지나치게 강조해 자연에 대한 인간의 개입을 허용하

지 않는다는 점에서 비현실적인 측면이 있으며, 생태계 전체의 선을 위해 개체의 선에 희생을 강요하는 환경 파시즘으로 이어질 수 있다는 한계가 있다.

**[주요 내용]** 인간 중심주의의 한계는 환경 오염, 자원 고갈 등 환경 위기와 관련된 주요 용어를, 생태 중심주의의 한계는 비현실적인 측면, 환경 파시즘과 같은 주요 용어를 사용하여 서술해야 함.

채점 기준	배점
(가)와 (나)가 주장하는 자연관의 한계를 모두 서술한 경우	상
(가)와 (나)가 주장하는 자연관 중 한 가지의 한계만 서술한 경우	하

**49 인간과 자연의 바람직한 관계**

(1) 생태 중심주의

(2) **모범 답안** 자연 휴식년제는 옴의 생태계를 복원하고 보전하여 인간과 자연이 공존하기 위해 만들어졌다. 이와 유사한 사례로 갯벌 복원 사업, 하천 생태계 복원 사업, 생태 통로 건설 등을 들 수 있다.

**[주요 내용]** 자연 휴식년제의 목적은 생태계 복원, 인간과 자연의 공존 등의 내용을 포함하고, 이와 유사한 사례는 각종 생태계 복원 사업이나 생태 도시, 생태 관광, 생태 통로 등이 구체적으로 제시되어야 함.

채점 기준	배점
자연 휴식년제의 목적을 쓰고, 노력 사례를 바르게 서술한 경우	상
자연 휴식년제의 목적이나 노력 사례 중 한 가지만 서술한 경우	하

**50 환경 문제 해결을 위한 기업의 노력**

(1) **모범 답안** P사는 쉽게 옷을 사고 버리기보다 기존 제품을 오래 입으라는 메시지를 광고에 담았고, 버려진 플라스틱을 재활용해 옷을 만들었다. 이를 통해 의류 폐기물을 줄여 환경 문제를 해결하는데 도움을 주었다.

**[주요 내용]** 광고에 기존 제품을 오래 입으라는 메시지가 담겼다는 점과 버려진 플라스틱을 재활용하여 옷을 만들었다는 점을 언급해야 함.

채점 기준	배점
광고에 기존 제품을 오래 입으라는 메시지가 담겼다는 점과 버려진 플라스틱을 재활용해 옷을 만들었다는 점을 언급하여 서술한 경우	상
광고에 기존 제품을 오래 입으라는 메시지가 담겼다는 점과 버려진 플라스틱을 재활용해 옷을 만들었다는 점 중 한 가지만 언급하여 서술한 경우	하

(2) **모범 답안** 유행에 따라 빠르게 옷을 사고 버리기보다는 생태전환적 사고를 바탕으로 꼭 필요한 소비인지 고민하여 옷을 구매한다. 친환경 소재 및 재생 소재를 활용하여 만든 옷을 구매한다. 환경 단체와 연대하여 의류 폐기물 문제의 심각성을 알린다. 등

**[주요 내용]** 생태시민으로서 의류 폐기물 증가 문제를 해결하기 위해 할 수 있는 일을 구체적인 사례로 서술해야 함.

채점 기준	배점
생태시민으로서 의류 폐기물 증가 문제를 해결하기 위해 할 수 있는 일을 두 가지 이상 서술한 경우	상
생태시민으로서 의류 폐기물 증가 문제를 해결하기 위해 할 수 있는 일을 한 가지만 서술한 경우	하

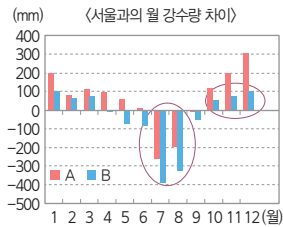
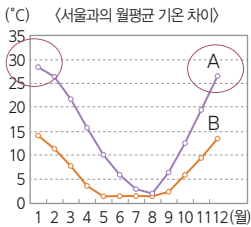
### 51 세 지역의 기후의 비교

**정답** ⑤ 지도에 표시된 두 지점은 지중해성 기후가 나타나는 이탈리아 남부와 열대 우림 기후가 나타나는 싱가포르이다. A는 12, 1, 2월 동안 서울과의 월평균 기온 차이가 25°C 이상이고, 봄과 가을에도 서울보다 기온이 높으며, 여름에는 비슷한 것으로 보아 일 년 내내 더운 싱가포르이다. B는 서울과 비교하여 겨울 기온이 10°C 이상 높아 온화한 반면, 강수량은 여름에 훨씬 적은 것으로 보아 지중해성 기후 지역인 이탈리아 남부이다. ⑤ A, B는 모두 일 년 내내 서울과의 월평균 기온 차이가 0°C 이상으로, 연평균 기온이 서울보다 높다.

#### 자료 분석

A는 서울보다 겨울 기온이 훨씬 높고, 봄과 가을 기온도 높음. → 열대 기후

B는 서울보다 여름 강수량이 훨씬 적고, 겨울 강수량이 더 많음.



#### 선택지 분석

- ① A에서는 주로 수목 농업이 이루어진다. → B
- ② B는 서울보다 여름 강수 집중률이 높다. → 낮다.
- ③ B에서는 땅의 열기와 습기를 차단하기 위해 고상 가옥이 발달했다. → A
- ④ A는 B보다 여름에 더 건조하다.  
→ 여름이 고온 건조한 지중해성 기후가 나타나는 B는 열대 우림 기후가 나타나는 A보다 여름에 더 건조하다.

### 52 자연환경과 인간 생활

**정답** ③ (가)는 이동 생활, 유목 등을 통해 건조 기후가 나타나는 몽골(B)임을 알 수 있고, (나)는 지열 발전소, 온천 수영장을 통해 화산 지형이 나타나는 아이슬란드(A)임을 알 수 있으며, (다)는 아마존 열대림, 다양한 동식물을 통해 브라질(C)임을 알 수 있다.

### 53 온대 기후 지역의 특징

**정답** ② (가) 지역은 온대 기후 지역이다. 온대 기후에는 지중해성 기후, 온대 겨울 건조 기후, 서안 해양성 기후 등이 있다. 여름에 고온 건조한 지중해성 기후 지역에서는 오렌지, 올리브, 포도 등을 재배하는 수목 농업이 발달하고 계절풍이 부는 아시아의 온대 기후 지역에서는 여름 및 겨울 계절풍의 영향으로 벼의 성장과 수확에 유리해 벼 농사가 발달하였다.

#### 선택지 분석

- 을: 강수량이 증발량보다 적어서 건조해요.  
→ 강수량이 증발량보다 적은 곳은 건조 기후 지역이다.
- 병: 주민들이 가족과 함께 이동하는 유목 생활을 해요.  
→ 유목이 발달한 지역은 건조 기후 지역과 한대 기후 지역이다.

### 54 기후와 전통 가옥

**정답** ② (가)는 순록의 가죽으로 만든 이동식 가옥이 있는 한대 기후(툰드라 기후) 지역, (나)는 고상 가옥이 있는 열대 기후 지역, (다)는 흙집이 있는 건조 기후(사막 기후) 지역이다. 열대 기후 지역인 (나)에서는 전통적으로 이동식 화전 농업이 이루어진다.

#### 선택지 분석

- ① (가)에는 사구라고 불리는 모래 언덕이 있다. → (다)
- ③ (나)는 적도 가까이에 있다. → (나)
- ④ (가), (나)에는 모두 침엽수림이 분포한다. → 냉대 기후 지역에는
- ⑤ (나)는 (다)보다 연 강수량이 적다. → 많다.

### 55 열대 고산 기후의 분포

**정답** ⑤ A는 열대 기후 지역, B는 냉대 기후 지역, C는 온대 기후 지역, D는 한대 기후 지역, E는 열대 고산 기후 지역이다. 사진 속 주민이 사는 곳은 열대 고산 기후가 나타나는 페루 쿠스코(E)이다. 저위도의 고산 지대는 해발 고도가 높아 연중 봄과 같은 상춘 기후가 나타난다.

### 56 세계의 특수한 지형

**정답** ④ 베트남 할롱 베이는 탑 카르스트로, 마그마가 분출된 것이 아닌 석회암이 녹으면서 형성된 카르스트 지형이다. 아이슬란드는 북위 65° 부근으로, 베트남보다 고위도 지역에 위치(①)하며, 화산 지형이 있어 지열 발전을 비롯해 온천과 간헐천을 활용한 관광 산업이 발달(②, ③)했다. 베트남은 비가 자주 내리고 햇빛이 강해 원뿔 모양의 전통 모자(⑤)를 쓴다.

### 57 지진과 태풍의 특징

**정답** ④ (가)는 '해일', '머리 보호', '흔들림' 등을 통해 지진임을 알 수 있고, (나)는 '어업 활동 중단', '강풍 대비' 등을 통해 태풍임을 알 수 있다. 태풍은 열대 저기압으로 저위도 열대 해상에서 발생하여 중위도 지역으로 이동한다.

#### 선택지 분석

- ① (가)는 여름·가을철에 집중적으로 발생한다. → (나)
- ② (가)는 지각판의 경계부에서 멀리 떨어진 곳에서 자주 발생한다.  
→ 가까운 곳
- ③ (나)는 대기 중의 미세 먼지 농도를 증가시킨다. → 감소
- ⑤ (가)와 (나)는 모두 지형 관련 자연재해이다.  
→ 지진은 지형 관련 재해이고, 태풍은 기후 관련 재해이다.

### 58 자연재해의 특징과 시민의 권리

**정답** ① 지진이 발생한 곳은 지각판 4개가 만나는 판의 경계(㉠)에 해당하며, 안전권(㉡)은 안전하고 쾌적하게 살아갈 시민의 권리이다.

#### 선택지 분석

- ㉡. ㉡은 지형 관련 자연재해이다. → 기후
- ㉢. ㉢으로 인해 저지대에 침수 피해가 발생할 수 있다.  
→ 가뭄은 오랜 기간에 걸쳐 비가 내리지 않는 현상이다.

### 59 데카르트와 레오폴드의 입장 비교

**정답** ④ 갑은 데카르트, 을은 레오폴드이다. 데카르트는 인간 중심주의 사상가로 인간은 자연보다 본질적으로 우월한 존재라고 보고 동물은 영혼 없이 신체를 갖춘 장치에 불과하다고 본다. 반면 레오폴드는 생태 중심주의 사상가로 인간과 자연은 평등한 가치와 권리를 가지며 인간은 생명 공동체를 도적으로 고려해야 한다고 본다.

**오답** ㄷ은 레오폴드(을)가 긍정의 대답을 할 질문이다.

### 60 생태 중심주의의 입장

**정답** ① 제시된 편지는 시애틀 추장의 편지로 생태 중심주의의 입장을 보여 준다. 생태 중심주의는 인간을 자연의 한 구성원으로 본다.

**오답** ②, ③, ④, ⑤는 인간 중심주의의 입장이다.

### 61 베이컨과 레오폴드의 입장 비교

**정답** ④ 갑은 베이컨, 을은 레오폴드이다. 베이컨은 자연 과학적 지식을 탐구하여 자연을 지배해야 한다고 강조하였다.

#### 선택지 분석

- ① 인간과 달리 동물은 신이 창조한 존재인가?  
→ (×/×) 베이컨은 인간과 동물은 모두 신의 창조물이라고 보았으며, 레오폴드는 인간과 동물은 모두 생명 공동체의 한 구성원이라고 보았다.
- ② 인간은 생명 공동체의 한 구성원에 불과한가?  
→ (×/○) 베이컨은 인간은 과학을 활용해 자연을 지배하는 존재로 보았다. 반면 레오폴드는 인간을 생명 공동체의 한 구성원에 불과한 존재라고 보았다.
- ③ 흙, 물은 자연 상태로 존속할 권리를 가지는가?  
→ (×/○) 레오폴드는 생명 공동체 전체의 존속을 중시하였다.
- ⑤ 무생물과 달리 모든 생명체는 본래적 가치를 가지는가?  
→ (×/×) 베이컨은 인간만이 본래적 가치를 지닌다고 보았고, 레오폴드는 무생물도 본래적 가치를 가진다고 보았다.

### 62 불교의 자연관

**정답** ④ (가)는 불교 사상이다. 불교에서는 만물이 상호 의존적으로 존재한다는 연기설을 주장하면서 인간과 자연의 상호 의존 관계를 중시한다. 이러한 관점은 오늘날 나타나는 환경 문제를 해소하기 위한 사상적 기반을 마련해 준다.

**오답** ①, ②, ③, ⑤는 모두 인간 중심주의 관점에 해당한다.

### 63 지구 온난화의 원인과 대책

**정답** ④ 산업화와 인구 증가로 화석에너지 사용량이 증가하였으며, 정부는 기후변화 협약에 따라 지구 온난화에 대응하기 위해 탄소 배출권 거래제를 실시하고 있다.

#### 선택지 분석

- ㄱ. ㉠으로 해수면이 낮아지고 있다. → 높아지고
- ㄷ. ㉡은 선진국에만 온실가스 감축 의무를 부여하였다.  
→ 교토 의정서에 해당하는 설명이다. 파리 협약에서는 선진국과 개발 도상국 모두에 온실가스 감축 의무를 부여하였다.

### 64 사막화의 원인과 영향

**정답** ② 원인이 장기간의 가뭄과 과도한 방목 및 개간이고, 발생 지역이 사헬 지대, 몽골 등으로 써 있는 것으로 보아 ㉠이 사막화임을 알 수 있다. 사막화는 장기간의 가뭄과 과도한 방목 및 개간으로 사막이 아니던 곳이 사막으로 변해가는 현상을 말한다.

### 65 환경 문제 해결을 위한 시민단체와 정부의 역할

**정답** ④ ㉠은 시민단체, ㉡은 정부이다. 시민단체는 환경 오염 유발 행위를 견제하고 환경 정책 과정에서 여론을 형성하며, 정부는 환경 문제 해결을 위해 다양한 법과 제도를 만든다.

#### 선택지 분석

- ㄱ. ㉠은 이윤 추구를 위해 친환경 상품을 생산·유통한다.  
→ 친환경 상품을 생산·유통하는 것은 기업이지만, 이것이 단순히 이윤을 추구하기 위한 목적은 아니다.
- ㄷ. ㉡은 여론을 형성하여 ㉠의 환경 정책 결정 과정에 영향을 미친다. → ㉠, ㉡

### 66 생태시민으로서 실천 방안

**정답** ④ 북태평양에 형성된 여러 쓰레기 섬은 주로 플라스틱으로 이루어져 있어, 일회용 플라스틱 제품 사용을 줄이면 쓰레기 섬 문제에 대응할 수 있다.

### 논술형 문제

#### [ 문항 설계 의도 ]

- 사례를 통해 인간 중심주의의 한계를 파악하고, 동양의 자연관을 통해 환경 문제를 해결하기 위한 태도를 설명할 수 있도록 한다.
- 인간과 자연의 공존을 위해 필요한 자세를 생각해 볼 수 있도록 한다.

#### 자료 분석

- (가) 인간이 생태계에 미치는 영향을 고려하지 않고 인위적으로 생태계의 균형을 깨뜨리면 그 피해는 결국 인간에게 고스란히 되돌아옴을 보여 준다.
- (나) 동양의 자연관은 인간과 자연의 상호 의존과 조화를 중시한다.
- (다) 고풍 운곡 습지 마을은 습지를 보존하면서도 생태 관광을 활성화하여 지역 경제에도 도움이 되었다. 즉 자연과 인간이 바람직하게 공존한 사례이다.



## IV 문화와 다양성 (1)

### 작성 Tip | 논술문 작성 가이드

다음과 같이 인간 중심주의의 한계를 극복하면서 인간과 자연의 공존과 조화를 중시하는 내용으로 자세를 서술하도록 한다.

- 인간 중심주의 한계 극복: 인간의 생존과 복지를 위해 자연을 이용할 수밖에 없는 상황임. 인간과 자연은 상호 의존적인 관계에 있으므로 이를 고려하며 개발과 보존의 적절한 균형을 찾아야 함. 등
- 인간과 자연의 공존을 위한 자세: 생태계 전체의 안정과 균형을 위해 다른 생명체를 존중해야 함. 인간 사회의 모습을 성찰해야 함. 욕망을 절제하는 자세를 지녀야 함. 등

- (1) 환경 위기 초래, 미래 세대의 생존 위협
- (2) **모범 답안** 인간과 자연의 상호 의존과 조화를 중시하면서 자연을 유기체로 바라보는 (나)의 자연관을 토대로, 자연을 인간과 유기적으로 연결되어 있는 공존의 대상으로 인식하고, 생태계의 균형을 깨뜨리지 않도록 노력해야 한다.
- [주요 내용]** 인간과 자연의 상호 의존과 조화를 중시하면서 자연을 유기체로 바라보는 (나)의 자연관을 토대로 태도를 서술해야 함.

채점 기준	배점
(나)의 자연관을 토대로 태도를 바르게 서술한 경우	상
(나)의 자연관을 참고하지 않고 태도를 서술한 경우	하

- (3) **step 1** **모범 답안** '인간과 자연은 상호 유기적 관계이다.'의 예시
- ① 인간은 생존과 복지를 위해 자연을 이용할 수밖에 없는데, 인간과 자연은 상호 의존적이다.
  - ② 인간과 자연은 상생을 위해 개발과 보존의 적절한 균형을 찾아야 한다.
  - ③ 인간의 탐욕을 절제하고 자연의 다른 존재를 존중하는 자세를 지녀야 한다.

**step 2** **모범 답안** '인간과 자연은 상호 유기적 관계이다.'의 예시  
 인간은 생존과 복지를 위해 자연을 이용하면서 동시에 생태계의 한 구성원으로서 자연의 여러 존재와 의존하며 살아가고 있다. 따라서 우리는 인간과 자연의 유기적 관계와 상호 의존성을 인식하고 인간과 자연의 상생을 추구해야 한다. 또한 전체 생태계의 안정과 균형을 위해 다른 생명체를 존중하고, 생태계 위기를 초래한 인간 사회의 모습을 성찰하며 우리의 욕망을 절제하는 자세를 지녀야 한다.

**[주요 내용]** 생태계, 인간과 자연의 유기적 관계, 상호 의존성, 조화, 공존, 상생, 성찰

구분	채점 기준	
필요한 자세 제시	상	자세를 세 가지 모두 바르게 서술한 경우
	중	자세를 두 가지만 바르게 서술한 경우
	하	자세를 한 가지만 바르게 서술한 경우
논술문의 형식	상	논술문의 형식(주장, 근거, 결론)을 갖추어 바르게 작성한 경우
	하	논술문의 형식을 갖추지 못한 경우

### 빠른 정답

1등급 완성!

#### 1단계 개념 확인 문제

- 01 ○   02 ×   03 ○   04 ×   05 ○   06 ×  
 07 ○   08 ○   09 ×   10 ×   11 ○   12 ○  
 13 ○   14 ×   15 감자와 옥수수   16 일본  
 17 이슬람교   18 영어   19 북서 유럽  
 20 자극 전파   21 장기간   22 강제적 문화 접변  
 23 능동적

#### 2단계 내신 대비 문제

- 24 ②   25 ①   26 ③   27 ⑤   28 ④   29 ⑤  
 30 ②   31 ②   32 ④   33 ②   34 ④  
 35 (1) 앵글로아메리카 문화권 (2) 해설 참조  
 36 (1)(가) 문화 병존, (나) 문화 융합 (2) 해설 참조

#### 3단계 수능 대비 문제

- 37 ②   38 ④   39 ③   40 ⑤   41 ①   42 ④  
 43 ④   44 ⑤

### 24 가옥 재료에 따른 문화권 구분

**정답** ② (가)는 사막 기후 지역에서 볼 수 있는 흙집, (나)는 높은 산지의 일부 지역에서 볼 수 있는 돌집이다. 히말라야 산지, 알프스 산지, 안데스 산지의 일부 지역에서는 주위의 돌을 이용하여 집을 짓는데, 이는 나무 등의 다른 재료를 구하기 어렵기 때문이다.

**오답** ① 흙집은 건조 기후(사막 기후) 지역에서 볼 수 있다. ③ 돌집이 주로 고산 지대에 분포하므로, 흙집이 위치한 지역은 돌집이 위치한 지역보다 평균 해발 고도가 낮다. ④ 사진을 통해 돌집이 흙집보다 지붕의 평균 경사도가 크다는 것을 알 수 있다. 사막 기후 지역은 강수량이 매우 적기 때문에 가옥의 지붕을 평평하게 만드는 경우가 많다. ⑤ 두 지역의 가옥 재료는 종교가 아니라 자연환경과 관련 있다.

### 25 음식 문화

**정답** ① 지중해와 접하고 있으며, 고온 건조한 여름철에 올리브 등을 재배하고 온난 습윤한 겨울철에 밀 농사를 해 (가) 파스타가 유명한 곳은 이탈리아(A)이다. 유목민이 많고, 술에 달궈진 돌과 고기를 넣어 (나) 허르혁을 만들어 먹는 곳은 몽골(B)이다. 지중해 연안에 있는 이탈리아는 A, 건조 기후가 나타나 유목을 하는 몽골은 B이다.

**오답** C는 베트남으로 쌀국수가 유명하며, D는 멕시코로 옥수수가루를 이용하여 만든 토르티야가 유명하다.

### 26 힌두교 경관

**정답** ③ 갠지스강은 히말라야산맥에서 발원하여 인도와 방글라데시를 거쳐 벵골만으로 흘러드는 하천이다. 바라나시는 힌두교 신자들이 신성시하는 강가에 있는 도시로, 신자들은 자신의 목은 죄를 씻어 내기 위해 갠지스강에서 목욕을 하며 기도를 올린다. 또한 힌두교 신자들이 죽으면 이 강가에서 화장을 치르기도 한다.

## 27 종교 문화권

**정답** ⑤ (가)는 크리스트교, (나)는 이슬람교, (다)는 힌두교이다. 세계 신자 수는 크리스트교(가) > 이슬람교(나) > 힌두교(다) > 불교 순으로 많다.

### 선택지 분석

- ① (가)의 신자들은 돼지고기를 먹지 않는다. → (나) 이슬람교
- ② (나)의 대표적인 종교 경관은 불상과 탑이다. → 불교
- ③ (다)의 신자들은 라마단 기간에 낮 동안 금식을 한다. → (나) 이슬람교
- ④ (가)는 유일신교, (나)는 다신교이다.  
→ (가) 크리스트교와 (나) 이슬람교는 유일신교이고, (다) 힌두교는 다신교이다.

## 28 세계 여러 문화권의 특징

**정답** ④ A는 유럽, B는 건조, C는 아프리카, D는 동남아시아, E는 동아시아, F는 앵글로아메리카, G는 라틴 아메리카 문화권이다. 앵글로아메리카 문화권과 라틴 아메리카 문화권의 경계는 리오그란데 강과 대체로 일치한다.

## 29 유럽 문화권의 구분

**정답** ⑤ (가)는 북서 유럽, (다)는 남부 유럽이다. (나)에는 혼합 농업과 낙농업이, (라)에는 수목 농업이 들어갈 수 있다. 나. 북서 유럽 지역은 혼합 농업이 발달했기 때문에 1인당 육류 소비량이 많은 편이다. 혼합 농업은 가축 사육과 곡물 재배를 겸하는 농업을 말한다. 다. 남부 유럽 지역은 수목 농업을 통해 포도, 올리브, 오렌지, 레몬 등을 생산한다. 라. (가)에는 '북서 유럽', (다)에는 '남부 유럽'이 들어갈 수 있다.

**오답** 가. 상대적으로 북서 유럽 지역은 연중 강수량이 비교적 고른 반면, 남부 유럽 지역은 여름에 고온 건조하다. 따라서 북서 유럽 지역이 남부 유럽 지역보다 여름 강수 집중률이 높다.

### 자료 키워드 유럽 문화권의 구분

북서 유럽 문화권	산업 혁명의 발상지로 경제 발전 수준이 높으며, 게르만족과 개신교의 비율이 높음.
남부 유럽 문화권	수목 농업과 관광 산업이 발달했으며, 라틴족과 가톨릭교의 비율이 높음.
동부 유럽 문화권	농업 종사자 비율이 높으며, 슬라브족과 정교회(동방 정교)의 비율이 높음.

## 30 축제와 문화권

**정답** ② (가)는 타이, (나)는 브라질이다. 타이의 송끄란 축제는 열대 기후, 불교, 벼농사 등의 특징을 반영한 축제이다.

### 선택지 분석

- ① (가)에는 힌두교를 믿는 신자가 많다. → 불교
- ③ (나)에는 개신교를 믿는 신자가 많다. → 가톨릭교
- ④ (나)는 과거 서부 유럽의 식민 지배를 받았다. → 남부
- ⑤ (가)와 (나)는 모두 유럽 문화권에 속한다.  
→ (가)는 동남아시아, (나)는 라틴 아메리카 문화권에 속한다.

## 31 문화 변동의 요인

**정답** ② 도식의 A는 발명, B는 간접 전파, C는 자극 전파이다. 사례 속 ㉠은 자극 전파, ㉡은 간접 전파, ㉢은 발명에 해당한다. 통신 기술이 발달하면서 문화를 전달할 수 있는 매체와 방법이 많아지면 간접 전파가 활발해진다.

### 선택지 분석

- ① A는 알려지지 않은 문화 요소를 찾아내는 것으로 ㉢이 이에 해당한다.  
→ 알려지지 않은 문화 요소를 찾아내는 것은 발견이다. 발명은 이전에 존재하지 않던 문화 요소를 새롭게 만드는 것이다.
- ③ C는 인터넷을 통해 간접적으로 문화 요소가 전달되는 것이며 ㉡이 이에 해당한다.  
→ C는 다른 사회의 문화 요소에서 아이디어를 얻어 새로운 문화 요소가 만들어지는 것이다.
- ④ A, B는 새로운 문화 요소가 만들어지면서 기존 문화의 정체성이 사라질 수도 있다.  
→ 발명과 간접 전파를 통해 문화 다양성을 실현할 수 있으며 기존 문화의 정체성이 사라지지 않는다.
- ⑤ A, C는 서로 다른 두 사회의 문화가 장기간 접촉하여 변동하면서 나타난다.  
→ 발명은 문화 변동의 내재적 요인에 해당한다.

## 32 문화 변동의 양상

**정답** ④ ㉠ 일반적으로 강제적 문화 접변 때문에 문화 동화가 나타나지만, 문화 동화는 자발적 문화 접변의 상황에서도 나타날 수 있다. ㉡ 자극 전파는 다른 사회의 문화 요소에서 아이디어를 얻어 새로운 요소가 만들어지는 것이다. 다른 사회의 문화 요소가 전해질 때는 매개체를 통해 간접적으로 전파될 수도 있고 교역이나 전쟁과 같이 직접적인 접촉을 통해 전파될 수도 있다. ㉢ 문화 변동의 양상 중 기존 문화 요소와 전파된 다른 사회의 문화 요소가 결합하여 이전 문화와 성격이 다른 새로운 문화가 나타나는 현상은 문화 융합이다. ㉣ 문화 병존, 문화 융합, 문화 동화 모두 기존 사회 구성원들이 새로운 문화를 향유할 수 있다. 따라서 ㉠은 '가', ㉡은 '가', ㉢은 '진', ㉣은 '가'이므로 학생의 총 점수는 3점이다.

## 33 문화 변동의 양상

**정답** ② (가) 지역에서 (나) 지역으로 문화 요소가 전파되어 나타난 문화 변동의 양상을 나타낸 도식이다. A에서는 (가), (나) 지역의 문화가 만나 새로운 문화가 탄생하였으므로 문화 융합, B에서는 (가), (나) 지역의 문화 요소가 공존하고 있으므로 문화 병존, C에서는 (나) 지역의 고유문화가 사라지고 전파된 (가) 지역의 문화 요소만 남게 되었으므로 문화 동화이다.

### 선택지 분석

- 나. B의 사례로 간다라 양식의 불상을 들 수 있다. → A의 사례이다.
- 라. 위 그림은 (나) 지역에서 강제적 문화 접변이 나타난 경우를 전제하고 있다.  
→ 그림은 (가) 지역의 문화가 (나) 지역으로 전파되었을 때, (나) 지역이 '수용'함을 전제하였으므로, 자발적 문화 접변인 경우만 고려하는 것이다.

### 34 전통문화의 창조적 계승

**정답** ④ 우리의 전통 음식인 떡볶이의 고유성과 정체성을 유지하되, 세계화를 위해 현대적 감각에 맞게 창조적으로 발전시켜야 한다.

### 35 앵글로아메리카 문화권의 경관

- (1) 앵글로아메리카 문화권  
 (2) **모범 답안** 앵글로아메리카 문화권은 과거 북서 유럽의 영향을 크게 받아 크리스티교 중 개신교의 비율이 높으며, 영어 사용자의 비율이 높다.

**[주요 내용]** 미국과 캐나다에 모두 해당하는 공통된 특징으로, 개신교도와 영어 사용자의 비율이 높음을 서술해야 함.

채점 기준	배점
개신교와 영어를 언급하여 특징을 바르게 서술한 경우	상
영어를 언급하였으나, 개신교가 아니라 크리스티교라고 서술한 경우	중
개신교와 영어 중 한 가지만 서술한 경우	하

### 36 문화 접변으로 나타난 문화 변동의 양상

- (1) (가) 문화 병존, (나) 문화 융합  
 (2) **모범 답안** (가) 문화 병존은 전파된 다른 사회의 문화 요소가 특성을 유지하면서 기존 문화 요소와 공존하고, (나) 문화 융합은 다른 사회의 문화 요소와 기존 문화 요소가 만나 각각의 문화 특성을 담은 새로운 문화가 나타난다.

**[주요 내용]** 문화 병존은 두 문화 요소의 특성이 공존하고, 문화 융합은 두 문화 요소의 특성을 담은 새로운 문화가 나타난다는 것을 서술해야 함.

채점 기준	배점
문화 병존과 문화 융합의 차이점을 바르게 서술한 경우	상
문화 병존과 문화 융합 중 한 가지만 서술한 경우	하

### 37 기후별 음식 문화 비교

**정답** ② (가)는 말린 연어를 즐겨 먹는 것으로 보아 한대 기후(툰드라 기후) 지역이고, (나)는 볶음밥 요리이면서 독특한 향신료를 사용한다는 것(나시 고렝)으로 보아 열대 기후 지역이다. 열대 기후 지역은 한대 기후 지역에 비해 연평균 기온이 높고, 연 강수량이 많으며, 기온의 연교차는 작다. 열대 기후 지역은 연중 고온을 유지하기 때문에 기온의 연교차가 작다.

### 38 종교 문화권의 특징

**정답** ④ (가)는 불교, (나)는 크리스티교이다. 크리스티교는 불교보다 오세아니아 문화권 형성에 많은 영향을 주었다.

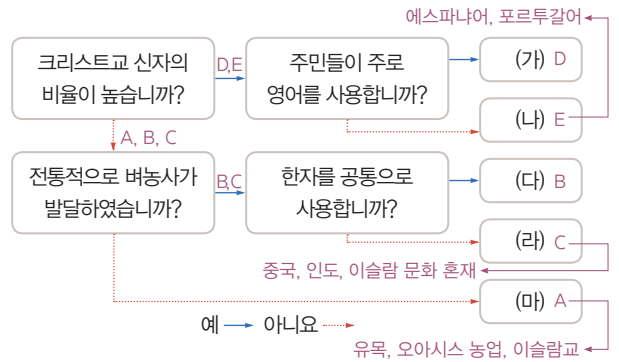
#### 선택지 분석

- ① (가)는 메카로의 성지 순례를 의무로 한다. → 이슬람교  
 ② (나)는 개인의 수행을 통한 해탈을 추구한다. → (가)  
 ③ (가)는 (나)보다 세계의 신자 수가 많다.  
 → 세계 신자 수는 크리스티교, 이슬람교, 힌두교, 불교 순으로 많다.  
 ⑤ (가)와 (나)는 모두 남부 아시아에서 기원하였다.  
 → 불교와 힌두교는 남부 아시아, 크리스티교는 서남아시아에서 기원하였다.

### 39 세계 문화권의 특징

**정답** ③ A는 건조, B는 동아시아, C는 동남아시아, D는 앵글로아메리카, E는 라틴 아메리카 문화권이다. 지도에 표시된 A~E 중 (가)~(마) 문화권을 고르면, (가)는 앵글로아메리카, (나)는 라틴 아메리카, (다)는 동아시아, (라)는 동남아시아, (마)는 건조 문화권에 해당한다.

#### 자료 분석



### 40 라틴 아메리카 문화권의 특징

**정답** ⑤ 과달루페 성모상(멕시코)과 리우데자네이루의 예수상(브라질)을 볼 수 있는 문화권은 라틴 아메리카 문화권이다. 라틴 아메리카 문화권에 속한 고산 지대(안데스 산지)의 원주민들은 아마, 알파카 등을 사육하기도 한다. 또한 원주민, 유럽의 백인, 강제 이주해 온 아프리카 흑인 등이 함께 살아가면서 다양하고 독특한 문화를 만들어 냈다.

#### 선택지 분석

- ㄱ. 과거 서부 유럽의 식민 지배를 받았다. → 남부  
 ㄴ. '애버리지니'라고 불리는 원주민이 거주한다.  
 → 오스트레일리아의 원주민이다.

### 41 문화 변동의 요인

**정답** ① A는 발명, B는 직접 전파, C는 발견이다. ㄱ. 금속 활자를 최초로 만든 것은 발명의 사례에 해당한다. ㄴ. 직접 전파는 서로 다른 문화에 속한 사람들이 교역이나 정복, 혼인 등의 직접적인 접촉을 하는 과정에서 문화 요소가 전해지는 것이다.

#### 선택지 분석

- ㄷ. C는 A와 달리 한 사회의 문화 요소를 증가시키는 요인이 될 수 있다.  
 → 발견은 알려지지 않은 문화 요소를 찾아내는 것이고 발명은 문화 요소를 새롭게 만들어 내는 것이므로 A와 C는 모두 한 사회의 문화 요소를 증가시키는 요인이 될 수 있다.  
 ㄹ. B는 발견, C는 직접 전파이다. → B는 직접 전파, C는 발견이다.

### 42 문화 변동의 양상

**정답** ④ (가)에서는 강제적 문화 접변과 문화 동화가 나타나고, (나)에서는 직접 전파에 의한 문화 변동으로 문화 융합이 나타난다.

**선택지 분석**

- ① (가)에서는 **문화 융합**이 나타난다. → 문화 동화가 나타난다.
- ② (가)에서는 **발견**에 의한 문화 변동이 나타난다.  
→ 강제적 문화 접변과 문화 동화가 나타난다.
- ③ (나)에서는 **문화 동화**가 나타난다. → 문화 융합이 나타난다.
- ⑤ (가)와 (나)에서는 모두 **자발적 문화 접변**이 나타난다.  
→ (가)에서는 강제적 문화 접변이 나타난다.

**43 문화 변동의 양상**

**정답** ④ ㉠은 발명, ㉡은 문화 융합이다. 이슬람 문화의 정체성을 유지하면서 비잔티움 제국의 문화 요소를 도입한 모스크 양식은 문화 융합의 사례에 해당한다.

**선택지 분석**

- ① ㉠의 주민들은 주로 침엽수로 지은 목조 가옥에 거주한다.  
→ 침엽수로 지은 목조 가옥은 주로 냉대 기후 지역에서 볼 수 있다. 시막 기후 지역에서는 흙집을, 스텝 기후 지역에서는 이동식 가옥을 볼 수 있다.
- ② ㉡에서는 여름 계절풍이 탁월하고 태풍의 발생이 빈번하다.  
→ 동남아시아 및 동아시아 지역에서 볼 수 있는 현상이다.
- ③ ㉠은 발견에 의한 문화 변동에 해당한다.  
→ 발명에 의한 문화 변동에 해당한다.
- ⑤ ㉠과 ㉡ 모두에서 기존 문화의 정체성이 상실되었다.  
→ 기존 문화의 정체성을 상실하는 것은 문화 동화이다.

**44 전통문화의 발전**

**정답** ⑤ 제시문에는 음악과 무용 분야에서 전통문화 요소와 외래문화 요소를 결합한 사례가 나타나 있다. 전통문화의 창조적 계승을 위해 현대적 감각에서 전통문화를 재평가하고 전통문화가 현대 사회의 새로운 문화 요소와 조화를 이루도록 재구성하기도 한다.

**논술형 문제**

133쪽

**[문항 설계 의도]**

- 문화 변동의 양상을 이해하고 구체적인 사례에서 이를 구분하고 설명할 수 있도록 한다.
- 문화 수용 주체의 자발성이 없는 강제적 문화 접변의 의미를 설명하고 이를 비판해 볼 수 있도록 한다.

**자료 분석**

- (가)는 미국 문화와 한국 문화가 공존하고 있음을 보여주는 사례이므로 문화 병존에 해당한다.
- (나)는 서양의 식재료와 우리의 식재료가 만나 부대찌개라는 새로운 음식이 탄생한 사례이므로 문화 융합에 해당한다.
- (다)는 일제가 조선인에게 일본식 씨명(氏名)으로 창씨하여 조선이 일본에 동화되도록 강제한 사례이므로 강제적 문화 접변에 해당한다.

**작성 Tip | 논술문 작성 가이드**

다음과 같이 문화 변동의 양상을 구분하고 고유문화 정체성 차원에서 그 의미를 서술하며 이를 바탕으로 강제적 문화 접변의 문제점을 문화 수용 주체의 입장에서 서술하도록 한다.

- 강제로 전파된 문화에 동화되어 문화 수용 주체의 전통문화가 소멸할 수 있음.
- 전통문화의 소멸로 문화 수용 주체의 정체성을 상실하고 사회 혼란이 발생할 수 있음.
- 향유할 수 있는 문화가 줄어 문화적 다양성 실현이 어려워짐.

(1) (가) 문화 병존, (나) 문화 융합

(2) **모범 답안** 문화 병존과 문화 융합은 모두 기존 사회의 문화 정체성을 유지할 수 있기 때문에 문화적 다양성을 실현할 수 있다.

**[주요 내용]** 문화 병존과 문화 융합 모두 기존의 문화 정체성을 유지할 수 있고 문화적 다양성을 실현할 수 있다고 서술해야 함.

채점 기준	배점
문화 정체성 유지와 문화적 다양성 실현을 모두 포함하여 서술한 경우	상
문화 정체성 유지와 문화적 다양성 실현 중 하나만 포함하여 서술한 경우	하

(3) **step 1** **모범 답안** (다)는 강제적 문화 접변으로, 문화 전달 주체의 힘이 문화 수용 주체의 힘보다 강력하여 문화 요소를 강제로 이식하려고 한다. → ① 강제로 전파된 문화에 동화되어 문화 수용 주체의 전통문화가 소멸할 수 있다. ② 전통문화가 소멸하면 문화 수용 주체의 정체성이 사라져 사회가 혼란해질 수 있다. ③ 향유할 수 있는 문화가 줄어들어 문화적 다양성이 감소할 수 있다.

**step 2** **모범 답안** (다)는 강제적 문화 접변으로 문화를 전달하는 주체의 힘이 문화를 수용하는 주체의 힘보다 강력하여 문화 요소를 강제로 이식하려고 한다. 강제로 이식된 문화에 동화되면 문화 수용 주체의 전통문화가 소멸할 수 있고, 이렇게 전통문화가 소멸하면 문화 수용 주체의 정체성이 사라져 사회가 혼란해질 수 있다. 또한 사람들이 향유할 수 있는 문화가 줄어들어 문화적 다양성이 감소할 수 있다. 따라서 강제적 문화 접변은 문화 다양성을 저해하여 문화의 획일화라는 결과를 가져올 수 있기 때문에 바람직하지 않다.

**[주요 내용]** 문화 동화, 전통문화, 문화 정체성, 사회 혼란, 향유 문화, 문화적 다양성

구분	채점 기준	
문제점 제시	상	강제적 문화 접변의 문제점을 세 가지 모두 서술한 경우
	중	강제적 문화 접변의 문제점을 두 가지만 서술한 경우
	하	강제적 문화 접변의 문제점을 한 가지만 서술한 경우
논술문의 형식	상	논술문의 형식(주장, 근거, 결론)을 갖추어 작성한 경우
	하	논술문의 형식을 갖추지 못한 경우



# IV 문화와 다양성 (2)

**빠른 정답**

**1등급 완성!**

**1단계 개념 확인 문제**

- 01 ○    02 ×    03 ○    04 ○    05 ○    06 ×  
 07 ×    08 ○    09 ○    10 ○    11 ×    12 ×  
 13 문화 상대주의    14 자문화 중심주의    15 문화 상대주의  
 16 객관적    17 극단적 문화 상대주의    18 세계화  
 19 문화적 다양성    20 샐러드 볼 이론이라고도 하는 다문화주의  
 21 동화주의

**2단계 내신 대비 문제**

- 22 ⑤    23 ④    24 ③    25 ②    26 ③    27 ③  
 28 ③    29 해설 참조    30 해설 참조  
 31 (1) 갑: 다문화주의, 을: 동화주의 (2) 해설 참조

**3단계 수능 대비 문제**

- 32 ⑤    33 ③    34 ③    35 ⑤

### 22 문화 상대주의의 특징

**정답** ⑤ 제시문은 한글보다 영어를 세련된 것으로 여기는 문화 상대주의 태도를 보여 준다. 문화 상대주의는 문화를 평가하는 절대적인 기준이 있다(ㄹ)고 보면서 다른 문화를 동경하여 자기 문화를 열등하다고 보는 태도(ㄷ)이다.

**오답** 서로 다른 문화를 사회적 맥락에서 이해하는 태도는 문화 상대주의(ㄱ), 자기 문화를 기준으로 다른 사회의 문화를 배척하는 태도는 자문화 중심주의(ㄴ)이다.

### 23 문화 상대주의의 한계

**정답** ④ 글에는 문화 절대주의, 특히 문화 상대주의의 문제점을 언급하고 있다. 이러한 입장에서 문화 상대주의 사례에 비판을 제기한다면, 자기 문화에 대한 문화적 정체성과 자부심을 약화하는 문제점이 있다고 이야기할 수 있다.

**오답** ① 모든 문화를 무조건 존중하는 태도는 극단적 문화 상대주의이다. ② 문화 상대주의에 대한 비판과는 거리가 멀다. ③ 자기 사회의 문화를 가장 우월한 것으로 간주하는 태도는 자문화 중심주의이다. ⑤ 국수주의로 이어져 자기 문화의 발전 가능성을 저해하는 것은 자문화 중심주의의 한계에 해당한다.

### 24 문화 절대주의와 문화 상대주의

**정답** ③ (가) 문화 상대주의는 문화를 우열의 평가 대상이 아닌 이해의 대상으로 간주하며, 각 문화를 해당 사회의 맥락에서 이해해야 한다고 본다. 반면 문화 상대주의와 자문화 중심주의는 문화를 평가하는 절대적인 기준이 있다고 보고 그 기준에 비추어 우열을 가릴 수 있다고 본다. (나) 문화 상대주의는 다른 문화를 맹목적으로 동경하여 자기 문화를 열등하다고 여기는 태도로, 자기 문화에 대한 정체성을 상실할 수 있다는 문제점이 있다. 반면 (다) 자문화 중심주의는 자

신의 문화를 가장 우월하다고 보는 태도로, 자기 문화의 정체성을 유지하는 데 도움이 되지만 다른 문화를 차별하는 원인이 되어 갈등을 일으킬 수 있다는 문제점이 있다.

**선택지 분석**

- 문화를 우열의 평가 대상이 아닌 이해의 대상으로 간주하는가?  
→ 문화 상대주의 ×, 자문화 중심주의 ×, 문화 상대주의 ○
- 문화를 해당 사회의 맥락에서 이해해야 하는가?  
→ 문화 상대주의 ×, 자문화 중심주의 ×, 문화 상대주의 ○
- 자기 문화의 정체성을 상실할 위험이 있는가?  
→ 문화 상대주의 ○, 자문화 중심주의 ×, 문화 상대주의 ×

### 25 보편 윤리

**정답** ② 제시문은 보편적 도덕 원리와 종교의 황금을 일부이다. 이들은 모두 인간 존엄성, 생명 존중, 자유와 평등 등 시대와 사회를 초월하여 모든 사람이 존중하고 따라야 할 보편적인 윤리 기준인 보편 윤리에 해당한다.

### 26 다문화 사회의 양상

**정답** ③ 다문화 사회로 변화하면서 우리 사회에 다양한 문화 요소가 등장하였는데, 이러한 상황에서는 각 문화의 고유한 가치를 인정하는 관용의 자세가 중요하다.

**자료 키워드** 다문화 사회의 양상

긍정적 측면	<ul style="list-style-type: none"> <li>• 문화적 다양성 증대</li> <li>• 이주민의 경제 활동 참여로 인한 경제 성장</li> <li>• 저출생·고령화 현상에 따른 노동력 부족 문제 해소에 기여</li> </ul>
부정적 측면	<ul style="list-style-type: none"> <li>• 문화적 차이에 따른 갈등</li> <li>• 다른 문화에 대한 편견과 이해 부족</li> <li>• 경제적 자원과 일자리를 둘러싼 경쟁 및 갈등</li> <li>• 의사소통의 어려움</li> </ul>

### 27 다문화주의와 동화주의

**정답** ③ 제시문은 다문화주의를, 제시문의 '어떤 사람들'은 동화주의를 강조하고 있다. 다문화주의 입장에서는 동화주의가 이주민 문화의 고유성을 인정하고 존중(ㄷ)하면서, 다양한 문화가 동등하게 어울리고 공존해야 함(ㄴ)을 간과하고 있다고 볼 것이다.

**오답** ㄱ. 다문화주의는 문화 간의 우열을 주장하지 않는다. ㄷ. 다문화주의는 문화의 단일성을 유지하는 것이 아닌 문화의 다양성을 인정해야 한다고 주장할 것이다.

**자료 분석**

우리 사회가 다문화 사회로 진입하면서 원주민과 이주민의 문화 정체성 간 차이를 어떻게 바라보아야 할 것인지에 대한 고민이 깊다. 우리 사회의 발전을 위해서는 이러한 차이를 인정하고 **각자의 문화가 서로 대등하게 조화를 이루어야 한다.** 다양한 채소와 과일이 그 특성을 유지하면서 **조화롭게 맛을 내듯이 공존하려는 태도를 길러야 한다.** 그런데 어떤 사람들은 **이주민 문화를 원주민 문화에 동화시켜야 한다고 주장한다.**

→ 다문화주의는 다양한 문화가 조화를 이루며 공존해야 한다고 보고, 다문화 사회를 샐러드 볼에 비유한다. 반면 동화주의는 이주민 문화를 주류 문화에 적응시켜야 한다고 보고, 다문화 사회를 용광로에 비유한다.

### 28 다문화 사회의 갈등 해결 노력

**정답** ③ 제시문은 이주민이 취업 및 근로 환경 부문에서 부당한 대우를 받고 있음을 보여 준다. 이를 해결하려면 이주민에 대한 편견을 버리고, 이주민이 받는 권리 침해나 차별 등의 어려움을 개선하기 위한 법과 제도, 정책 등을 정비해야 한다. 이주민이 한국 사회의 주류 문화에 동화되도록 하는 정책은 이주민이 겪는 부당한 인권 침해 문제를 해결하지 못한다.

### 29 자문화 중심주의의 한계와 문화 상대주의의 필요성

**모범 답안** 자문화 중심주의, 자기 문화를 기준으로 다른 문화를 평가하는 태도를 버리고 문화가 서로 다른 환경에 따라 다르게 형성된다는 점을 고려하면서 각 문화의 고유한 가치를 인정하는 태도가 필요하다.

**【주요 내용】** 자문화 중심주의가 초래하는 문제점을 파악하고, 이러한 문제를 해결하기 위해 문화 상대주의가 필요함을 서술해야 함.

채점 기준	배점
자문화 중심주의를 쓰고, 자문화 중심주의의 문제를 해결하기 위해서는 문화 상대주의적 태도가 필요함을 서술한 경우	상
자문화 중심주의를 썼지만, 자문화 중심주의의 문제를 해결하기 위한 자세를 미흡하게 서술한 경우	하

### 30 보편 윤리 차원에서의 문화 성찰

**모범 답안** 동물은 생명을 가진 존재이다. ‘라스 루미나리아스’는 생명 존중과 같이 시대와 사회를 초월하여 모든 사람이 존중하고 따라야 할 보편 윤리를 훼손하는 풍습이다. 따라서 이는 한 사회의 문화로 존중받을 수 없으며 정당화될 수 없다.

**【주요 내용】** 동물에 대한 학대가 생명 존중이라는 보편 윤리의 가치에 어긋남을 근거로 들어 서술해야 함.

채점 기준	배점
생명 존중이라는 보편 윤리의 가치를 제시하면서 근거를 구체적으로 서술한 경우	상
생명 존중이라는 보편 윤리의 가치를 제시하지 않고 근거를 서술한 경우	하

### 31 다문화 사회를 바라보는 관점

(1) 갑: 다문화주의, 을: 동화주의  
 (2) **모범 답안** 다문화주의는 문화의 우열을 가리지 않고 다양한 문화가 조화를 이루고 공존해야 한다는 입장이고, 동화주의는 외부에서 유입된 이주민의 문화를 기존의 주류 문화에 동화시켜 하나로 만들자는 입장이다.

**【주요 내용】** 다문화주의와 동화주의의 의미를 이해하고 그 차이를 서술해야 함.

채점 기준	배점
다문화주의와 동화주의의 의미를 이해하여 그 차이를 서술한 경우	상
다문화주의와 동화주의의 차이를 미흡하게 서술한 경우	하

### 32 문화를 이해하는 태도

**정답** ⑤ 갑의 태도는 자문화 중심주의, 을의 태도는 문화 상대주의, 병의 태도는 문화 상대주의이다. 문화 상대주의는 각 문화의 고유한 가치를 인정(①)하면서 문화 간 우열을 평가할 수 없다(④)고 보는 태도로, 문화의 다양성을 보존하는 데 유리(②)하다. 자문화 중심주의와 문화 상대주의는 모두 문화 간 우열을 평가할 수 있다고 보기 때문에 문화 상대주의 태도보다 문화적 마찰을 일으킬 가능성이 높다.

**오답** ①, ②, ④는 병(문화 상대주의), ③은 을(문화 상대주의)의 태도에 해당한다.

### 33 보편 윤리에 근거한 바람직한 문화 이해 태도

**정답** ③ 신문 칼럼은 다문화 사회에서 조화롭게 살아가기 위해 서로 다른 문화를 이해하고 존중하는 태도가 필요하지만, 각 문화가 보편 윤리에 어긋나지 않는지 성찰해야 한다고 본다.

**오답** ① 동화주의의 입장에 해당한다. ② 다른 문화를 배척하는 것이 아니라 이해하고 존중해야 한다고 본다. ④ 자기 문화의 관점으로만 다른 문화를 평가하는 것은 자문화 중심주의 태도이다. ⑤ 어떠한 경우에도 다른 문화를 비판하지 않으면 극단적 문화 상대주의로 흐를 수 있다.

#### 자료 분석

다문화 사회에서 조화롭게 살아가기 위해서는 다양한 문화를 이해하고 존중하는 태도가 필요하다. 하지만 명예 살인과 같이 부당하게 생명을 해치거나 인간 존엄성을 훼손하는 문화까지 인정해서는 안 된다. 따라서 다른 문화를 바라볼 때 보편적 도덕 가치에 어긋남이 없는지 살펴야 한다.

→ 다양한 문화를 이해하고 존중하는 태도가 필요하지만, 극단적 문화 상대주의를 경계하여 인류가 보편적으로 추구해야 하는 가치인 보편 윤리에 비추어 문화를 성찰해야 한다고 본다.

### 34 다문화주의와 동화주의

**정답** ③ 갑은 동화주의, 을은 다문화주의의 입장이다. 동화주의는 이민자들의 문화를 거주국이나 원주민의 문화에 동화시켜 사회 통합을 실현하고자 한다. 반면 다문화주의는 문화 간 우열을 가리지 않고 다양한 문화를 동등하게 존중하며 공존할 것을 강조한다.

#### 선택지 분석

- ① 거주국 문화에 이민자 문화를 편입시켜야 하는가?  
→ 동화주의 입장(갑)에서 긍정의 대답을 할 질문이다.
- ② 단일 문화를 형성하여 단결력을 증진해야 하는가?  
→ 동화주의 입장(갑)에서 긍정의 대답을 할 질문이다.
- ④ 다양한 문화가 공존하면 문화적 역동성이 감소하는가?  
→ 다문화주의(을)는 다양한 문화가 공존하면 문화적 역동성이 증가한다고 보았다.
- ⑤ 문화의 다양성이 아닌 문화의 동질성을 추구해야 하는가?  
→ 동화주의는 문화의 동질성을, 다문화주의는 문화의 다양성을 추구해야 한다고 볼 것이다.

### 35 동화주의의 특징

**정답** ⑤ (가)는 다문화주의, (나)는 동화주의이다. 동화주의는 다문화주의에 비해 이민자 문화에 대한 관용적 태도를 강조하는 정도(X)는 낮고, 주류 문화로의 동화를 통한 사회 통합을 강조하는 정도(Y)는

높으며, 문화의 다양성을 추구해야 함을 강조하는 정도(Z)는 낮다.

## 논술형 문제

139쪽

### [문항 설계 의도]

- 다양한 문화적 차이가 나타나는 원인을 파악할 수 있도록 한다.
- 보편 윤리 차원에서 다양한 문화를 성찰하여 극단적 문화 상대주의를 경계하도록 한다.

### 자료 분석

- (가), (나): 티베트와 가나의 장애 풍습  
- 티베트와 가나의 서로 다른 장애 풍습은 각 사회의 특수한 환경과 사회적 맥락을 고려하는 문화 상대주의 입장에서 이해해야 함.
- (다): 링 코르셋  
- 신체를 훼손하고 고통을 유발하며 여성에게만 행해지는 문화임. 이러한 문화는 인간 존엄성, 신체의 자유를 비롯한 인간의 기본적 권리를 침해함.

### 작성 Tip | 논술문 작성 가이드

극단적 문화 상대주의를 경계하며, 보편 윤리의 관점에서 자신의 주장에 대하여 타당하고 적절한 근거를 제시하면서 서술하도록 한다.

(1) 지역의 기후 특성, 문화적 배경, 의식의 의미에 대한 지역민의 이해

(2) **step 1** 모범 답안 '정당화할 수 없다.'의 예시

- ① 고통을 유발하고, 신체를 훼손하는 행위이다.
- ② 여성에게만 행하는 관습으로 여성의 자유를 박탈한다.
- ③ 위 ①, ②로 인간 존엄성이 침해되고, 신체의 자유 등 인간의 기본적인 권리가 존중되지 않았으므로, 보편 윤리에 어긋난다.  
→ 따라서 (다)의 문화는 보편 윤리 차원에서 정당화할 수 (없다).

**step 2** 모범 답안 '정당화할 수 없다.'의 예시

(가), (나)는 보편 윤리에 어긋나지 않고, 각 나라의 특수한 환경 및 사회적 맥락 안에서 이해하고 존중할 수 있다. 반면 (다)의 문화는 보편 윤리 차원에서 정당화할 수 없다. (다)의 문화는 고통을 유발하고 신체를 훼손하며, 여성에게만 행해지는 관습으로 여성의 자유를 박탈하기 때문이다. 즉 (다)의 문화는 인간 존엄성을 침해하고 신체의 자유 등 인간의 기본적인 권리를 존중하지 않는 것이다. 보편 윤리 차원에서 인류의 보편적 가치를 훼손하는 문화까지도 해당 사회에서 고유한 의미와 가치가 있다는 이유로 정당화할 수는 없다. 따라서 (다)의 문화는 보편 윤리 차원에서 정당화할 수 없다.

**[주요 내용]** 신체 훼손, 자유, 인간 존엄성, 인간의 기본적 권리, 보편 윤리, 정당화

구분	채점 기준	
근거 제시	상	뒷받침하는 타당한 근거를 세 가지 모두 서술함.
	중	뒷받침하는 타당한 근거를 두 가지만 서술함.
	하	뒷받침하는 타당한 근거를 한 가지만 서술함.
논술문의 형식	상	논술문의 형식(주장, 근거, 결론 등)을 갖추어 바르게 작성함.
	하	논술문의 형식을 갖추지 못함.

## V 생활공간과 사회

142~152쪽

### 빠른 정답

1등급 완성!

#### 1단계 개념 확인 문제

- 01 ○ 02 × 03 × 04 ○ 05 ○ 06 ×  
07 ○ 08 ○ 09 × 10 × 11 ○ 12 ×  
13 ○ 14 높아 15 도시 16 수도권에 집중된 기능을 분산해야 한다. 17 무점포 상점 18 줄어들었다. 19 빨대 효과  
21 지역 조사 계획 수립 22 야외 조사 23 미래 세대를

#### 2단계 내신 대비 문제

- 24 ④ 25 ⑤ 26 ⑤ 27 ③ 28 ② 29 ②  
30 ④ 31 ③ 32 ④ 33 ④ 34 ② 35 ⑤  
36 ② 37 ③ 38 ① 39 ④ 40 ② 41 ②  
42 ④ 43 ③ 44 ④ 45 ① 46 ⑤  
47 해설 참조 48 해설 참조 49 해설 참조

#### 3단계 수능 대비 문제

- 50 ④ 51 ② 52 ① 53 ⑤ 54 ④ 55 ④  
56 ① 57 ④ 58 ④ 59 ③ 60 ③ 61 ③

### 24 우리나라의 산업화·도시화

**정답** ④ 우리나라는 1960년대 이후 산업화가 가속화되며 농업 중심의 사회에서 공업, 서비스업 중심의 사회로 변화하였다.

#### 선택지 분석

- ① 농림어업 종사자 비율이 높아졌다. → 계속 감소하였다.
- ② 1960년에는 비도시 인구가 도시 인구보다 적었다. → 많았다.
- ③ 2000년대 이후 도시화 진행 속도가 빨라지고 있다.  
→ 2000년대 이후 도시화율이 90%에 다다르며 증가 속도는 둔화되었다.
- ⑤ 1980년과 비교하여 2000년에는 2차 산업 종사자 비율이 증가하였다.  
→ 1980년과 비교하여 2000년에는 2차 산업인 광공업 종사자 비율이 22.5%에서 20.4%로 감소하였다.

### 25 산업화·도시화에 따른 생활의 변화

**정답** ⑤ 산업화와 도시화가 진전되며 인구 밀도, 서비스업 종사자 수, 직업의 종류, 시가지 면적 비율은 증가하고, 농업 종사자 수, 녹지 면적 비율, 평균 가구원 수는 감소한다.

### 26 도시 내부 구조

**정답** ⑤ (가)는 '대규모 아파트 단지'의 용어를 통해 주거 지역임을, (나)는 '유통 인구', '백화점' 등의 용어를 통해 도심임을 알 수 있다. 도심은 주거 지역에 비해 대기업 본사 수가 많고(ㄱ), 상업지 평균 지가가 높으며(ㄴ), 통근을 위해 유입하는 일일 인구가 많다(ㄷ).  
**오답** ㄴ. 초등학교 학생 수는 도심보다 주거 지역이 많다.

### 27 산업화·도시화에 따른 생활공간의 변화

**정답** ③ 제철소, 기업, 연구소 등이 들어서며 한정된 공간을 효율적으로 활용하기 위해 더욱 집약적으로 토지를 이용했을 것이다.

### 28 산업화·도시화에 따른 1인 가구 비율의 증가

**정답** ② 1인 가구 비율이 증가하면 공동체보다는 개인의 자유와 권리를 중시하는 가치관이 확산할 수 있다.

**오답** ① 핵가족화 되었다. ③ 편의점 점포 수는 증가했을 것이다. ④ '1코노미' 산업은 성장할 것이다. ⑤ 이웃 간 인간적 유대감은 약화되었을 것이다.

### 29 산업화·도시화에 따른 인간 소외 현상

**정답** ② 영화 줄거리는 전화 상담실에서 마치 기계의 부속품처럼 주어진 업무만을 하고 동료들과 인간적인 유대감 없이 지내는 주인공의 이야기를 다루고 있다. 옆집에 사는 남자가 고독하게 죽었다는 것을 알게 된 후 복잡해진 주인공의 마음을 통해 도시 사회에서 나타나는 인간 소외 현상에 대해 생각해 볼 수 있다.

### 30 산업화·도시화에 따른 생태환경의 변화

**정답** ④ 나. 비가 내릴 때 도시화 이전의 하천 최고 수위에 다다른 시간보다 도시화 이후의 하천 최고 수위에 다다른 시간이 더 짧아졌다. 르. 녹지, 자연 상태의 토지 등의 면적이 증가하면 토지로 흡수되는 빗물의 양이 늘어 집중 호우 피해가 감소한다.

#### 선택지 분석

- ㄱ. 도시화로 인해 강우 시 하천 최고 수위가 낮아졌다. → 높아졌다.
- ㄷ. 도시 내 인공 구조물이 줄어들어 집중 호우 피해가 증가했다. → 늘어나

### 31 산업화·도시화에 따른 환경 문제의 해결

**정답** ③ 자전거 도로망의 확충, 슈퍼 블록을 통한 교통량 감소 유도, 친환경 전기 차량 확대 등의 친환경 이동 수단 정책을 통해 도시의 대기 오염 문제를 해결한 사례에 해당한다.

### 32 지역 격차 문제를 해결하기 위한 국가적 노력

**정답** ④ 나. 혁신 도시 정책을 통해 지방 도시의 발전이 이루어지면 지방으로 유입하여 정착하는 인구가 늘어날 것이다. 드. 혁신 도시 개발 이후 양질의 일자리가 만들어지면 지역 경제가 활성화될 것이다. 르. 서울 등 일부 대도시에 과도하게 집중된 주요한 기능들이 혁신 도시 조성으로 인해 여러 지방으로 분산될 수 있을 것이다.

**오답** 나. 혁신 도시 정책의 시행으로 수도권과 비수도권 간 지역 격차가 줄어들 것이다.

### 33 산업화·도시화로 인한 도시 문제의 해결 방안

**정답** ④ 수도권에 집중적으로 신산업을 유치하는 것이 아니라 비수도권 지역에 신산업을 유치하여 수도권에 과도하게 집중된 기능을 분산해야 지역 격차가 줄어들 수 있다.

### 34 교통·통신 및 과학기술 발달에 따른 생활공간의 변화

**정답** ② 나. 지하철, 고속 철도, 고속 국도 등 광역 교통망이 발달하며 대도시와 주변 지역이 하나의 생활권을 이루는 대도시권이 형성

되었다. 드. 시공간적 제약이 감소하고, 노동력, 자본 등 생산 요소의 이동이 자유로워지면서 한 기업의 본사, 연구소, 공장 등이 세계 곳곳에 분산되어 입지하는 공간적 분업이 이루어지고 있다.

#### 선택지 분석

- 나. 지역 간 접근성이 향상되어 원거리 통근이 줄어들었다. → 늘어났다.
- 르. 시공간적 제약이 증가하며 인간의 공간 인식 범위가 넓어졌다. → 감소하며

### 35 교통 발달에 따른 생활공간의 변화

**정답** ⑤ 자료를 통해 수도권 광역 전철 노선 발달에 따라 각 지역에서 서울로 통근·통학을 위해 이동하는 인구의 비율이 증가한 것을 확인할 수 있다. 철도 노선이 충남 신창 지역까지 확장되면서 물건 구매를 위해 서울을 방문하는 신창 주민의 수는 늘어났을 것이다.

### 36 교통 발달에 따른 생활의 변화

**정답** ② 자료를 통해 고속 철도, 고속 국도 개통으로 인해 동해안 지역의 경제가 활성화되었음을 확인할 수 있다. 갑. 동해안 지역은 수도권과의 접근성이 좋아지며 관광 산업, 물류 산업 등 다양한 산업이 발달하여 지역 경제가 활성화되었다. 정. 교통수단의 발달과 함께 동해안 지역의 경제가 활성화되어 수도권 및 일부 대도시와의 지역 격차가 완화될 수 있다.

**오답** 을. 교통이 발달하면 생활공간의 범위가 확대된다. 병. 교통이 발달하면 지역에 따라 다른 나라와의 협력이 활발해지지만, 해당 수 업 자료를 통해 파악할 수는 없는 내용이다.

### 37 통신 발달과 정보화에 따른 생활양식의 변화

**정답** ③ 통신 발달과 정보화로 인하여 직접 대면하지 않고도 가상 공간 내에서 다양한 인간관계를 형성할 수 있게 되었다. 누리 소통망에서 쌍방향 의사소통을 하거나 인터넷상에서 정치적 의견을 주고받는 전자 민주주의 등을 예로 들 수 있다.

### 38 통신 발달과 정보화에 따른 변화

**정답** ① 자료는 드론, 위성 위치 확인 시스템, 위성 영상 등의 발달된 통신 및 과학기술을 활용하여 생태환경을 유지하고 야생 동물을 보호하는 사례들에 대해 다루고 있다.

### 39 교통 발달에 의한 전염병 확산

**정답** ④ 자료는 교통 발달로 인해 전염병이 국경을 넘어 확산하는 문제에 대해 설명하고 있다. 이러한 문제점을 예방 및 해결하기 위해 국가적 차원에서 외국인 출입이 이루어지는 공항, 항만에서 방역 활동을 강화하고(가), 안전한 백신을 개발해 국민이 평등하게 접종받을 수 있도록 지원하며(나), 다른 나라 정부와 긴밀하게 협력하여 미리 감염병 대응 체계를 마련해 두어야 한다(르).

**오답** 드. 감염병 발생 시 확산 방지를 위해 타국과 긴밀하게 협력하고 함께 대응해야 한다.



#### 40 정보화에 따른 문제점

**정답** ② 자료는 가정의 보안 카메라 영상이 유출되는 사생활 침해 사례를 다루고 있다. 이를 해결하기 위해 정부는 사생활 침해 방지를 위한 법률을 정비해야 하고, 개인은 평소에 올바른 개인 정보 관리 수칙을 알아두고 늘 준수하여 범죄를 예방해야 한다.

**오답** 을은 정보 격차 해소 방안, 정은 디지털 중독 문제의 해결 방안을 이야기하고 있다.

#### 41 정보 격차

**정답** ② ㄱ. 2022년에 디지털 정보화 수준이 가장 낮은 계층은 고령층(69.9)이다. 고령층은 2018~2022년 동안 가장 낮은 디지털 정보화 수준을 기록했다. ㄴ. 2022년에 모든 정보 취약 계층의 디지털 정보화 수준은 100 미만으로, 일반 국민보다 낮은 디지털 정보화 수준을 보였다.

##### 선택지 분석

- ㄴ. 2018년에 비해 2022년에 정보 취약 계층의 디지털 정보화 수준이 **낮아졌다**. → **높아졌다**.
- ㄴ. 2018년에 비해 2022년에 정보화 수준이 가장 많이 향상된 계층은 **장애인**이다. → **농어민**

#### 42 과학기술 발달에 따른 문제점

**정답** ④ 노동자 보호를 위해 과학기술의 도입을 규제하기보다는, 일자리를 잃을 수 있는 노동자에게 재교육을 지원하는 등의 방안이 적절하다.

#### 43 지역 조사 과정

**정답** ③ 설문 조사는 지역 정보 수집 단계 중 야외 조사 단계에서, 수집한 자료를 정리하고 그래프, 표 등으로 표현하는 활동은 지역 정보 분석·종합 단계에서 이루어진다.

#### 44 지역 조사 과정

**정답** ④ (가)와 같은 환경 문제를 조사하기 위해서는 항공 사진, 인공위성 영상 촬영(ㄷ)을 통해 조사하는 방법, 환경 관련 신문 기사를 수집(ㄷ)하여 원인과 결과 등을 분석하는 방법이 적절하다. (나)와 같은 사회적 문제를 조사하기 위해서는 설문 조사(ㄱ)를 통해 지역 주민들의 인식을 알아보는 방법, 면담(ㄴ)을 통해 전문가, 사회단체 등의 의견을 알아보는 방법이 적절하다. 하지만 조사 방법은 조사 주제에 따라 엄격히 구분되지는 않는다. 환경 문제이더라도 전문가와의 면담이 적절한 조사 방법일 수 있다.

#### 45 지역 정보 수집

**정답** ① 갑. 토지 이용과 경관 변화를 조사하기 위해 항공 사진을 찾아 비교하는 것은 적절한 방법이다. 을. 산업 구조 변화를 조사하기 위해 사업체 수와 산업별 종사자 수 자료를 찾아 변화를 분석하는 것은 적절한 방법이다. 정. 생태환경 변화를 조사하기 위해 사회 조사 보고서 내 환경 문제 관련 자료를 수집하는 것은 적절한 방법이다.

**오답** 병. 인구수 변화를 조사하기 위해서는 통계 자료를 분석하는 방법이 적절하다. 무. 인간관계 및 주민의 가치관 변화는 위성 영상 촬영이 아니라, 설문 조사, 면담 등의 방법이 적절하다.

#### 46 지역의 공간 변화 조사

**정답** ⑤ 자료를 통해 ○○시는 산업화와 도시화 과정을 거치며 2·3차 산업 중심의 사회로 변화하고, 인구 규모도 커졌음을 알 수 있다. 일반적으로 산업화와 도시화 과정을 거치며 산업 시설에서 배출되는 오염 물질의 양이 증가하여 환경 문제가 발생하는 경향이 있다. ○○시도 제조업과 서비스업이 발달하면서 산업 시설에서 배출되는 오염 물질의 양이 증가했을 것으로 추측할 수 있다.

#### 47 도시 내부 구조

**모범 답안** 도심인 중구는 주거 지역인 노원구에 비해 교통이 편리하여 접근성이 좋고, 통근·통학 등을 위해 유입되는 유동 인구가 많다. **[주요 내용]** 도심과 주거 지역의 특징을 주요 기능, 접근성, 유동 인구 등의 측면에서 비교하여 서술해야 함.

채점 기준	배점
도심과 주거 지역의 특징을 접근성 측면에서 비교하고, 이와 연결 지어 통근·통학 인구의 유입과 유출에 대해서도 서술한 경우	상
도심과 주거 지역의 특징을 접근성 측면에서 비교하였으나, 통근·통학 인구의 유입과 유출과 관련해서는 서술하지 못한 경우	하

#### 48 정보화에 따른 디지털 중독 문제의 해결 방안

**모범 답안** 디지털 중독 치료를 위한 시설 및 프로그램을 만들고, 국민에게 올바른 디지털 기기 사용 습관을 교육한다. **[주요 내용]** 디지털 중독 문제를 해결하기 위한 정부의 구체적인 해결 방안을 서술해야 함.

채점 기준	배점
디지털 중독 문제를 겪는 시민을 지원할 수 있는 방안을 구체적으로 서술한 경우	상
디지털 중독 문제를 겪는 시민을 지원할 수 있는 방안을 서술하였으나 정부의 방안이 아닌 경우	하

#### 49 산업화·도시화로 인한 지역의 변화

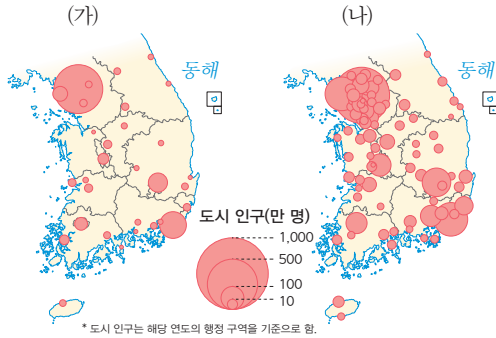
**모범 답안** 농업 중심이었던 산업 구조가 산업화·도시화 이후 2·3차 산업 중심으로 변화하였을 것이다. 또한 인공적인 구조물이 많아지면서 토양 오염, 대기 오염 등의 환경 문제가 생겼을 것이다. **[주요 내용]** 산업 구조가 1차에서 2·3차로 중심으로 변화했다는 내용과 시가지 면적이 늘면서 다양한 환경 문제가 발생했다는 내용을 서술해야 함.

채점 기준	배점
○○시의 변화를 산업 구조 측면, 생태환경 측면에서 각각 정확하게 서술한 경우	상
○○시의 변화를 산업 구조 측면, 생태환경 측면 중 한 가지 측면에서만 서술한 경우	하

## 50 도시화·산업화에 따른 변화

**정답** ④ (가)는 1970년, (나)는 2020년이다. (1) 1970년은 2020년에 비해 서비스업 종사자 비중이 작다. 산업화·도시화가 진전될수록 1차 산업의 비중은 작아지고, 3차 산업의 비중은 커진다. (2) 2020년은 1970년에 비해 도시 거주 인구 비율, 즉 도시화율이 높다. (3) 2020년은 1970년보다 자연 상태의 토지의 면적이 줄다. 공장, 아파트 등이 들어서며 시가지 면적이 넓어졌기 때문이다.

### 자료 분석

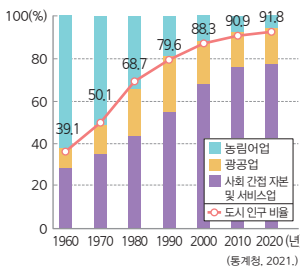


→ (가), (나)는 도형 표현도를 통해 우리나라의 시대별 도시의 분포, 도시의 인구 규모를 나타낸 자료이다. 비교적 도시의 수가 적고 도시의 인구 규모도 작은 (가)가 1970년, 도시의 수가 많고 도시의 인구 규모도 큰 (나)가 2020년이다.

## 51 우리나라의 산업 구조 및 도시화율 변화

**정답** ② 직업의 종류는 1960년에 비해 산업화·도시화로 직업이 세분화·전문화된 2020년에 더 많다. 토지 이용의 집약도는 1960년에 비해 아파트, 백화점 등 고층 건물이 많아진 2020년에 더 높다. 1차 산업 종사자 비율은 1960년에 비해 산업화가 진전된 2020년에 더 낮다.

### 자료 분석



- 막대 그래프는 산업별 종사자 비중 변화를 나타낸 것으로, 농림어업 비중이 감소하고, 광공업과 사회 간접 자본 및 서비스업의 비중이 증가하는 것을 확인할 수 있다.
- 꺾은선 그래프는 도시 인구 비율 변화를 나타낸 것으로, 도시 인구 비율이 증가하는 것을 확인할 수 있다.

## 52 산업화·도시화에 따른 생활공간과 생활양식의 변화

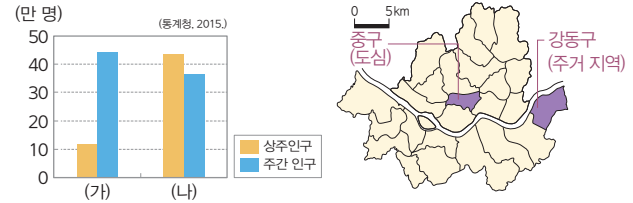
**정답** ① ㉠ 산업화와 도시화에 따라 이웃과의 소통이 줄어들고 개인 중심의 생활이 중심을 이루게 되었으므로 틀린 설명이다. ㉡ 산업화의 영향으로 농림어업보다 공업, 서비스업이 산업 구조에서 차지하는 비중이 증가하였고, 직업의 전문화와 세분화로 직업의 종류가 다양해졌으므로 옳은 설명이 맞다.

**오답** ㉢ 시가지 개발로 콘크리트, 아스팔트 등 지표면을 덮는 인공 구조물의 면적은 늘어나고, 자연 상태의 토지 면적은 감소하였다. ㉣ 도시화가 진전되며 교외화 현상이 나타났다는 설명은 옳은 설명이다.

## 53 서울의 도시 내부 구조

**정답** ⑤ (나) 주거 지역의 거주자는 거주지와 직장이 다른 지역에 있어 멀리 통근하는 경우가 많고, (가) 도심의 거주자는 거주지와 직장이 모두 도시에 위치하는 경우가 많다. 따라서 거주자의 평균 통근 거리는 (가)가 (나)보다 더 가까울 것이라고 추론하는 것이 적절하다.

### 자료 분석



- 지도는 서울의 구(區)를 나타낸 지도로 중앙의 중구, 동쪽의 강동구를 표시한 것이다.
- 그래프는 상주인구와 주간 인구를 나타낸 것으로, 상주인구보다 주간 인구가 많은 (가)는 통근·통학 인구의 유입이 많은 도심 지역인 중구, (나)는 주간 인구보다 상주인구가 많기 때문에 넓은 주거 지역이 형성된 강동구를 파악할 수 있다.

## 54 산업화·도시화에 따른 공간 불평등

**정답** ④ ㄱ. 공간 불평등은 수도권-비수도권 간, 도시-촌락 간, 대도시-중소 도시 간 등의 지역 격차를 포괄하는 개념이다. ㄴ. 공공기관 이전을 통해 지방 도시 육성을 목표로 하는 혁신 도시 사업이 대표적인 예이다. ㄷ. 장소 마케팅은 장소를 상품으로 만들어 판매하는 전략으로 지역 경쟁력 강화 전략의 대표적인 예이다.

**오답** ㄴ. 성장 중심 개발 전략의 영향으로 도시에 각종 기능이 집중하면서 촌락 지역의 경제 기반은 약화되었다.

## 55 교통 발달에 의한 생활공간의 변화

**정답** ④ ㄴ. 철도역 건설로 인해 관광 수입이 늘었다는 내용을 통해 지역 경제가 활성화되었음을 알 수 있다. ㄷ. 쓰레기 배출량 증가, 소음 공해 등은 교통 발달로 인해 주민들이 겪게 되는 피해의 대표적인 예이다.

### 선택지 분석

- ㄱ. ㉠으로 인해 서울-강릉 간 접근성은 낮아졌다.  
→ 고속 철도 개통으로 인해 서울-강릉 간 접근성은 높아졌다.
- ㄴ. ㉡을 통해 교통 발달이 소비 생활의 시·공간적 제약을 증가시켰음을 알 수 있다.  
→ 소비 생활의 시·공간적 제약이 감소한 사례이다.

## 56 교통·통신 및 과학기술 발달에 따른 변화

**정답** ① (가)에서 갑은 누리 소통망(SNS)을 통해 익명의 누리꾼과 정치적 견해를 주고받으며 소통하는 모습을 보이고 있다. 이는 전자민주주의의 실현으로 정치 참여의 기회가 확대되는 모습으로 볼 수 있다.

선택지 분석

- ② (가)는 가상 공간에서의 **대면 인간관계**가 형성되는 현상을 보여 준다. → **비대면 인간관계**
- ③ (나)는 소비 생활의 시간적 제약이 **늘어나는** 현상을 보여 준다. → **줄어드는**
- ④ (나)에는 **쌍방향 의사소통**의 모습이 나타난다. → (가)에서 **쌍방향 의사소통의 모습**을 볼 수 있다.
- ⑤ (가), (나) 모두 정보화에 따른 **사회 문제**를 보여 준다. → **사회 변화 모습**

57 교통 발달과 정보화에 따른 생활의 변화

**정답** ④ ㄱ. 교통의 발달로 상품, 노동력 등 생산 요소가 국경을 초월하여 이동이 가능해지며 국가 간 교역이 증가하였다. ㄴ. 생태환경 변화의 사례로 야생 동물의 서식지 파괴, 야생 동물의 이동 통로 단절 등을 들 수 있다. ㄷ. 정보화로 인한 문제로 디지털 중독 문제, 각종 사이버 범죄 등을 들 수 있다.

**오답** ㄷ. 전자 상거래 활성화로 시공간적 제약이 감소하여 경제 활동의 공간적 범위가 확대되었다.

자료 분석

- 시의 첫 번째 답변에서는 교통의 발달로 인한 긍정적 영향(지역 경제 활성화)과 부정적 영향(생태환경의 변화)을 설명하고 있다.
- 시의 두 번째 답변에서는 정보화로 인해 전자 상거래 활성화, 원격 근무나 화상 회의를 통한 업무의 시공간적 제약 감소 등 긍정적 영향도 있지만, 이와 더불어 다양한 문제도 발생했음을 설명하고 있다.

58 정보 사회의 사이버 범죄 문제

**정답** ④ ㄴ. 딥 페이크 범죄는 디지털 기기를 통해 영상, 음성 등 개인 정보를 유출하는 문제를 포함하는 사회적 문제이다. ㄷ. 딥 페이크와 같이 가상 공간에서의 익명성을 이용한 사이버 명예 훼손, 모욕 등의 범죄가 증가하고 있다.

선택지 분석

- ㄱ. 디지털 중독 문제로 인해 공동체 의식이 약화한다. → 잘못된 디지털 기기 사용 습관과 관련한 문제에 대한 설명이다.
- ㄷ. 정보 격차로 인한 계층 간 경제적 불평등이 심화한다. → 저시문과 정보 격차 문제와는 직접적인 관련성을 찾기 어렵다.

59 정보 격차

**정답** ③ 2023년에 접근 지수, 역량 지수, 활용 지수가 모두 가장 낮은 계층이 장노년층이므로, 인터넷 활용 교육이 가장 필요한 계층이 장노년층이라는 분석은 적절하다.

선택지 분석

- ① 2008년에는 저소득층의 기기 이용 능력이 가장 **높다**. → **낮다**.
- ② 2023년에는 **장애인**의 정보화 수준이 가장 낮다. → **장노년층**
- ④ 2008년 대비 2023년에 모든 계층의 역량 지수가 향상되었다. → **장노년층은 낮아졌다**.
- ⑤ 2008년 대비 2023년에 **장노년층**의 활용 지수가 가장 크게 향상되었다. → **저소득층**

자료 분석

표를 통해 2008년과 2023년의 계층별 정보 격차 지수를 접근 지수, 역량 지수, 활용 지수 측면에서 파악할 수 있다. 2008년과 비교하여 2023년에 대체로 정보화 수준이 상승한 것을 확인할 수 있지만, 장노년층의 역량 지수는 오히려 하락하였고, 장애인과 장노년층의 역량, 활용 지수가 여전히 낮게 나타나는 등 해결이 필요한 문제들도 있음을 확인할 수 있다.

60 지역 조사 과정

**정답** ③ ㄴ. 시청 누리집에서 토지 이용 현황 자료를 수집하는 것은 실내 조사 과정에서 이루어지기에 적절한 활동이다. ㄷ. 거주민과의 면담을 통해 정보를 습득하는 것은 야외 조사 과정에서 이루어지기에 적절한 활동이다.

선택지 분석

- ㄱ. (가): 드론을 활용하여 공업 단지 일대를 촬영한다. → (나) 야외 조사 과정에 적합한 활동이다.
- ㄷ. (나): 시립 도서관을 방문하여 ○○시의 산업 구조 변화에 대한 자료를 수집한다. → (가) 실내 조사 과정에 적합한 활동이다.

61 지역 조사 과정

**정답** ③ 주민 대상으로 진행되는 설문 조사는 실내 조사 단계가 아닌 야외 조사 단계에서 이루어지는 것이 적절하다.

자료 분석

표는 '국가 산업 단지 조성에 의한 지역 변화'를 주제로 이루어지는 지역 조사 과정을 순서대로 보여 주고 있다. 조사 주제를 선정 후 토지 이용 변화, 주민 인식 변화 등 다양한 지역 정보를 수집하고, 표 등 다양한 형태로 지리 정보를 분석하며 마지막으로 보고서를 작성하는 단계를 표현하고 있다.

논술형 문제

152쪽

[문항 설계 의도]

- 산업화와 도시화, 정보화가 우리 사회에 불러일으킨 문제점에 대해 이해하고, 이를 해결하기 위한 방안을 생각할 수 있도록 한다.
- 지속가능한 도시를 만들기 위한 정책을 제안하며 사회적 문제 해결력을 기르도록 한다.

작성 Tip 논술문 작성 가이드

- (1) 산업화와 도시화의 측면, 정보화의 측면 각각에서 (가), (나)의 문제점을 파악하고 사회 변화와 연결지어 문제의 원인을 서술하도록 한다.
- (2) 지속가능발전 목표의 내용과 연관 지어 실현 가능한 구체적인 정책을 제시하도록 한다

- (1) **모범 답안** (가)에서는 주택이 부족해지고 집값이 상승하여 청년이 내 집 마련에 어려움을 겪는 문제를 찾아볼 수 있다. 이는 도시화와 산업화로 인해 도시라는 한정된 공간에 인구가 밀집하여 나타난 주택 문제이다. (나)에서는 장애인, 저소득층 등 정보 취약 계층이 일반 국민에 비해 정보화 수준이 떨어지는 정보 격차 문제를 찾아볼 수 있다. 이는 정보화 사회로 변화하며 정보가 부가가치 창출의 중요한 원천이 되었고, 정보화 기기도 보다 다양해지고 있는 상황에서 정보 취약 계층에 대한 사회적 지원이 미흡했기 때문에 나타났다.

**[주요 내용]** 주택난, 집값 상승, 인구 밀집, 정보 격차

채점 기준	배점
(가), (나)의 문제와 원인을 정확히 분석한 경우	상
(가), (나) 중 한 가지의 문제와 원인만 정확히 분석한 경우	하

- (2) **step 1** **모범 답안** 세부 목표 (1), (2) 선택 예시

- (1) 모든 시민이 적정 수준의 주택에 거주 → 주거 기능을 담당할 신도시를 건설하여 주택난을 해소한다.  
 (2) 기본적인 사회의 하부 구조와 서비스의 혜택 → 정보 격차를 겪고 있는 정보 취약 계층을 위해 정보화 교육을 실시한다.

- step 2** **모범 답안** 세부 목표 (1), (2) 선택 예시

‘지속가능한 도시’를 만들기 위해서는 지역 차원에서 지역 특징을 반영한 정책을 추진하는 것이 중요하다. 지속가능발전 열한 번째 목표 중 ‘모든 시민이 적정 수준의 주택에 거주’할 수 있게 하는 목표를 달성하기 위해서는 주택난을 해소하기 위한 정책이 필요하다. 도시 외곽에 주거 기능을 담당할 신도시를 건설하고 양질의 주택 단지를 조성하여 도시민들에게 공급하는 것을 예로 들 수 있다. ‘기본적인 사회의 하부 구조와 서비스의 혜택’을 누릴 수 있게 하는 목표를 달성하기 위해서는 모든 시민이 기본적인 하부 구조와 서비스를 누릴 수 있게 하는 정책이 필요하다. 예를 들어, 정보 격차를 겪고 있는 장애인, 고령자 등 정보 취약 계층을 지원하기 위해 정보화 기기를 보급하고, 정보화 역량을 신장시킬 수 있는 교육을 지원해야 한다.

**[주요 내용]** 주택 공급, 신도시 건설, 정보화 교육

구분	채점 기준	
정책 제안	상	두 가지 정책을 세부 목표와 연관 지어 구체적으로 제시한 경우
	중	한 가지 정책을 세부 목표와 연관 지어 구체적으로 제시한 경우
	하	정책을 세부 목표와 연관지어 제한적으로 제시한 경우
논술문의 형식	상	논술문의 형식(정책, 사례 등을 갖추어 바르게 작성한 경우)
	하	논술문의 형식을 갖추지 못한 경우