

판공기웨이전

통합사화 2

# I 인권 보장과 헌법

18~21쪽

## 01 인권의 의미 변화와 확장

### 빠른 정답

### 기출 선택지로 개념 확인

- |        |          |          |            |
|--------|----------|----------|------------|
| 01 인권  | 02 천부 인권 | 03 자유    | 04 적극      |
| 05 연대  | 06 의회    | 07 시민 혁명 | 08 차티스트 운동 |
| 09 사회권 | 10 세계 인권 | 11 확장    | 12 안전권     |
| 13 주거권 | 14 문화권   | 15 환경권   | 16 잇힐 권리   |

### 빠른 정답

### 실력 UP! 단골 내신 문제

- |      |      |   |                      |      |      |
|------|------|---|----------------------|------|------|
| 01 ① | 02 ③ | 03 ③  | 04 ③                 | 05 ⑤ | 06 ⑤ |
| 07 ① | 08 ② | 09 ④  | 10 ④                 | 11 ⑤ | 12 ① |
| 13 ⑤ | 14 ③ | 15 (1) (가) 자유권과 평등권, (나) 사회권, (다) 연대권 (2) 해설 참조 | 16 (1) 주거권 (2) 해설 참조 |      |      |

### 01 인권의 의미와 특징

**정답** ① ㉠에 들어갈 개념은 인권이다. 인권은 모든 사람이 가질 수 있는 권리로서 보편성을 지닌다.

**오답** ② 인권은 불가침성을 가지므로 국가가 임의로 박탈할 수 없다. ③ 인권은 한정된 기간이 아니라 영구히 보장된다. ④ 사회적 약자의 인권을 침해해서는 안 되는 것이지, 사회적 약자가 더 많이 인권을 가지고 있는 것은 아니다. ⑤ 인권은 법으로 보장되기 이전에 태어나면서부터 가지는 권리이다.

### 02 인권의 의미와 특징

**정답** ③ 나, 다. 인권은 영구적으로 보장되는 권리이며, 누구나 보편적으로 가지는 권리이다.

#### 선택지 분석

- ㄱ. 기록된 문서가 있어야 인권이 형성된다.  
→ 인권은 태어나면서부터 가지는 권리지, 문서나 국가에 의해 보장되어야만 인정되는 권리가 아니다.
- ㄴ. 서로의 합의가 있다면 인권은 다른 사람에게 양도할 수 있습니다.  
→ 양도할 수 없습니다.

### 03 인권 의미의 변화

**정답** ③ 3세대 인권에는 자결권, 평화에 관한 권리 등이 포함된다.

#### 선택지 분석

- ① ㉠은 오늘날 중요시되지 않는 권리이다. → 오늘날에도 중요한
- ② ㉡은 시민 혁명 직후부터 보장되기 시작했다.  
→ 시민 혁명으로 보장되기 시작한 권리는 1세대 인권이다.
- ④ ㉣은 ㉡에 비해 국가의 개입을 요구하는 권리이다. → ㉡은 ㉢에 비해
- ⑤ ㉤은 ㉢에 비해 지구적 차원의 협력을 필요로 한다. → ㉢은 ㉣에 비해

### 04 세대별 인권의 특징

**정답** ③ 2세대 인권은 경제·사회·문화적 권리로, 노동할 수 있는 권리(근로의 권리)가 포함된다.

**오답** ① 재난으로부터 구제받을 권리는 3세대 인권에 해당한다. ②, ⑤ 집회 및 결사의 자유와 공정한 재판을 받을 권리는 1세대 인권에 해당한다. ④ 교육받을 권리는 2세대 인권에 해당한다.

#### 자료 키워드 인권의 세대별 구분

1세대 인권에는 신체의 자유, 표현의 자유, 집회 및 결사의 자유, 생명과 안전의 권리, 정치에 참여할 권리, 공정한 재판을 받을 권리가 포함된다. 2세대 인권에는 근로의 권리, 교육에 관한 권리, 문화에 관한 권리, 사회 보장을 받을 권리, 인간다운 생활을 할 권리, 쾌적한 환경에서 생활할 권리가 포함된다. 3세대 인권에는 자결권, 발전의 권리, 평화에 관한 권리, 재난 구제를 받을 권리, 지속가능한 환경에 관한 권리가 포함된다.

### 05 계몽사상과 사회 계약설

**정답** ⑤ 첫 번째 자료는 볼테르의 계몽사상, 두 번째 자료는 로크의 사회 계약설에 대한 것이다. 계몽사상과 사회 계약설은 모두 시민 혁명의 사상적 토대가 되었다.

**오답** ① 영국 대헌장은 계몽사상이 등장하기 전에 발표되었다. ②, ③ 계몽사상과 사회 계약설은 시민 혁명의 사상적 토대가 되었으며, 인간의 권리 보장 확대를 주장하였다. ④ 제2차 세계 대전 이후 인권 문제 해결을 위한 연대의 중요성이 강조되었고, 이에 세계 인권 선언이 발표되었다.

#### 자료 분석

자연 상태에서 인간은 자신의 생명과 자유, 재산에 관하여 권리를 가지며, 국가는 권리를 보전하기 위한 자유로운 합의로 창설되었다.

→ 사회 계약설은 자유롭고 평등한 시민 간의 계약을 바탕으로 국가 권력이 형성되었다고 보는 사상이다. 국가는 권리를 보전하기 위한 자유로운 합의로 창설되었다고 한 점에서 제시된 자료가 사회 계약설과 관련 있음을 알 수 있다.

### 06 미국 독립 선언

**정답** ⑤ 나, 다, 라. 미국 독립 선언은 계몽사상과 사회 계약설의 영향을 받았으며, 인권을 침해하는 국가 권력에 대하여 국민이 저항할 수 있는 저항권을 명시하였다. 또한 모든 사람이 태어나면서부터 양도할 수 없는 권리를 가지고 있음을 명시하고 있으므로 인권의 천부성과 불가침성이 나타나 있다.

**오답** ㄱ. 이 당시 여성은 권리 주체인 시민이 아니었다.

#### 자료 분석

모든 인간은 평등하게 창조되었다. 그들은 창조주로부터 양도할 수 없는 일정한 권리를 부여받았고, 그 권리 중에는 생명, 자유, 행복을 추구할 권리가 포함되어 있다. 이 권리를 확보하기 위해 인간은 정부를 수립하였으며, 정부의 정당한 권력은 인민의 동의에서 발생한다. 인민은 정부가 이러한 목적을 파괴할 때 언제든지 그 정부를 바꾸거나 없애고 인민의 안전과 행복을 이룩할 수 있는 새로운 정부를 조직할 수 있는 권리가 있다.

## 07 인권과 관련된 문서

**정답** ① (가)는 프랑스 혁명 때 발표한 인간과 시민의 권리 선언, (나)는 독일의 바이마르 헌법이다. (가)에는 천부 인권, 국민 주권의 원리가 반영되었다.

### 선택지 분석

- ② (가)는 차티스트 운동의 영향을 받았다.  
→ 차티스트 운동은 프랑스 혁명 이후 전개되었다.
- ③ (나)는 인권 보장의 국제적 기준을 제시하였다.  
→ 국제 연합에서 발표한 세계 인권 선언에 대한 설명이다.
- ④ (나)의 발표 이후 영국에서 입헌 군주제가 시행되었다.  
→ 영국은 명예혁명 이후 입헌 군주제를 유지하였다. 독일의 바이마르 헌법은 독일 공화국의 헌법이다.
- ⑤ (가), (나)는 모두 인류 전체의 연대권 보장을 강조하였다.  
→ (가), (나) 모두 3세대 인권인 연대권에 대한 내용은 나타나 있지 않다.

### 자료 분석

(가) 제1조 인간은 **자유롭고 평등한 권리를 지니고 태어나서 살아간다.** 사회적 차별은 오로지 공공의 이익에 근거할 때에만 허용될 수 있다.

(나) 제151조 ① 경제생활의 질서는 **모든 사람에게 인간다운 생활을 보장할 것**을 목적으로 하는 정의의 원칙에 **기초해야 한다.** 각자의 경제상 자유는 이 한계 내에서 보장된다.

## 08 참정권 확대 운동

**정답** ② 영국 노동자들이 차티스트 운동 과정에서 발표한 인민헌장은 참정권 확대의 계기가 되었다.

### 선택지 분석

- ① 사회권을 최초로 명시한 문서이다.  
→ 사회권을 최초로 명시한 것은 독일의 바이마르 헌법이다.
- ③ 이후 프랑스 혁명이 일어나는 데 영향을 주었다.  
→ 프랑스 혁명은 차티스트 운동이 전개되기 전인 1789년에 발생하였다.
- ④ 모든 사회적 차별 철폐를 주요 내용으로 하였다.  
→ 여성이나 유색 인종의 권리 보장 등에 관한 내용은 없었고 성인 남성의 참정권 보장에 초점을 맞추었다.
- ⑤ 의회의 동의 없는 과세 금지를 보장한 선언이었다.  
→ 영국 명예혁명의 결과 승인된 권리 장전에 대한 설명이다.

## 09 세계 인권 선언

**정답** ④ 제2차 세계 대전 이후 인권 문제가 인류 전체의 문제라는 공감대가 형성되면서 1948년 국제 연합(UN) 총회에서 세계 인권 선언을 발표하였다.

**오답** ①, ②, ③, ⑤ 영국 권리 장전, 독일 바이마르 헌법, 미국 독립 선언, 프랑스 인간과 시민의 권리 선언은 모두 제2차 세계 대전 전에 발표되었다.

## 10 인권의 역사적 발전 과정

**정답** ④ 국제 인권 규약에는 시민적 및 정치적 권리와 경제적, 사회적 및 문화적 권리에 관한 내용이 포함되어 있다.

### 선택지 분석

- ① (가)로 인해 신분제가 폐지되고 평등권이 확립되었다.  
→ 대헌장 발표 이후에도 영국은 신분제를 유지하였다. 대헌장은 왕의 권한을 제한했다는 점에서 의미를 지닌다.
- ② (나)로 인해 일정 연령 이상의 모든 시민은 참정권을 갖게 되었다.  
→ 권리 장전으로 입헌 군주제가 확립되었지만, 선거권은 성별, 재산, 직업 등에 의해 제한되었다.
- ③ (다)는 최초로 **연대권**을 명시하였다.  
→ 사회권
- ⑤ (나)에는 사회권, (다)에는 자유권이 강조되었다.  
→ 사회권을 강조한 것은 (다) 이후부터이다.

## 11 인권 확장의 배경

**정답** ⑤ 병, 정, 문화권, 환경권, 주거권은 현대 사회가 변하면서 인권 개념이 확장되어 나타난 권리이다.

### 선택지 분석

- 갑: 시민 혁명을 통해 보장되기 시작한 권리입니다.  
→ 시민 혁명을 통해 자유권, 평등권 등이 보장되기 시작하였다.
- 을: 국가나 문서에 의해 명시되어야만 보장될 수 있는 권리입니다.  
→ 인권은 천부적인 권리이며, 국가나 문서에 의해 명시되어야만 보장되는 권리가 아니다.

## 12 안전권과 환경권

**정답** ① (가)는 흉악 범죄가 발생하여 안전할 권리가 침해받는 사례로 안전권과 관련 있다. (나)는 의류 폐기물로 인한 수질 오염 문제에 관한 사례로 환경권과 관련 있다.

## 13 주거권과 문화권

**정답** ⑤ (가)는 주거권, (나)는 문화권이다. 문화권에는 문화적 삶의 주체로서 자신의 문화적 정체성을 유지할 권리가 포함된다. 따라서 문화권 보장을 위해 이주민의 문화 정체성을 존중해야 한다.

**오답** ①, ② 주거권을 보장하기 위해 사회적 취약 계층에게 임대 주택을 우선 공급하고, 주거비를 일정 수준으로 조정한다. ③, ④ 문화권을 보장하기 위해 소외 계층을 위한 문화 복지 제도를 확대한다.

### 자료 분석

(가) 헌법 제35조 ③ 국가는 주택 개발 정책 등을 통하여 모든 주민이 **쾌적한 주거 생활**을 할 수 있도록 노력하여야 한다.

(나) 문화 기본법 제4조 모든 국민은 성별, 종교, 인종, 세대, 지역, 정치적 견해, 사회적 신분, 경제적 지위나 신체적 조건 등에 관계없이 **문화 표현과 활동에서 차별을 받지 아니**하고 **자유롭게 문화를 창조**하고 **문화 활동에 참여**하며 **문화를 향유할 권리**를 가진다.

→ 우리 <헌법>에는 국가가 국민의 인간다운 주거 생활을 할 권리인 (가) 주거권을 명시하고 있다. 또한 <문화 기본법>을 통해 누구나 문화생활에 참여할 수 있는 권리인 (나) 문화권을 규정하고 있다.

## 14 정보 인권

**정답** ③ 기사 제목에 스미싱 문자 때문에 일어난 개인 정보 피해 문제, 딥페이크 기술을 이용한 범죄, 인공 지능을 바탕으로 한 서비스 등의 내용이 나타나 있다. 이를 통해 정보 인권과 관련된 권리 보장이 필요하다는 것을 알 수 있다.

### 선택지 분석

- ① 누구나 문화생활에 참여할 수 있는 권리가 강조되고 있다.  
→ 문화권과 관련 있는 내용이다.
- ② 산업화로 인해 자연 파괴와 각종 환경 오염 문제가 심각해졌다.  
→ 환경권과 관련 있는 내용이다.
- ④ 생명과 안전에 대한 각종 위협에 대비할 수 있는 법과 정책이 필요하다. → 안전권과 관련 있는 내용이다.
- ⑤ 세계화 시대를 맞아 문화적 정체성을 지킬 수 있는 방안에 대한 논의가 필요하다. → 문화권과 관련 있는 내용이다.

## 15 인권의 역사적 발전 과정

- (1) (가) 자유권과 평등권, (나) 사회권, (다) 연대권
- (2) **모범 답안** (가)는 인권 보장을 위해 국가의 부당한 개입을 경계하며 불간섭을 요구하고, (나)는 최소한의 인간다운 생활 보장을 위해 국가의 적극적인 개입을 요구한다.
- [주요 내용]** (가) 인간과 시민의 권리 선언은 자유권의 보장을 중시하여 국가가 최소한으로 개입하기를 요구하고, (나) 바이마르 헌법에는 사회권의 보장을 중시하여 국가의 적극적 개입을 요구한다는 내용을 서술해야 함.

채점 기준	배점
중시하는 권리의 특징과 연관해서 국가의 역할을 각각 서술한 경우	상
중시하는 권리의 특징과 연관해서 국가의 역할을 한 가지만 서술한 경우	하

## 16 주거권

- (1) 주거권
- (2) **모범 답안** 주거 약자의 권리를 보장하기 위한 주거비 지원, 주거 환경 개선, 사회적 취약 계층에 임대 주택 우선 공급, 최저 주거 기준 설정 등이 필요하다.
- [주요 내용]** 주거비의 조정, 주거 약자를 위한 주거비 지원과 주거 환경 개선, 사회적 취약 계층에 대한 임대 주택 우선 공급, 최저 주거 기준 설정 등의 주거권 보장 방법을 서술해야 함.

채점 기준	배점
주거권을 보장하기 위한 방안을 두 가지 서술한 경우	상
주거권을 보장하기 위한 방안을 한 가지만 서술한 경우	하

## 02 인권 보장을 위한 헌법의 역할과 시민 참여

### 빠른 정답

### 기출 선택지로 개념 확인

- |             |            |             |
|-------------|------------|-------------|
| 01 기본권      | 02 행복 추구권  | 03 차별       |
| 04 참정권      | 05 청구권     | 06 국가 안전 보장 |
| 07 권력 분립    | 08 법치주의    | 09 헌법재판소    |
| 10 위헌 법률 심판 | 11 대의 민주주의 | 12 선거       |
| 13 정당       | 14 공청회     | 15 시민불복종    |
| 16 목적의 정당성  | 17 최후의 수단  |             |

### 빠른 정답

### 실력 UP 단골 내신 문제

- |      |      |  |           |                        |      |
|------|------|--|-----------|------------------------|------|
| 01 ④ | 02 ③ | 03 ④                                   | 04 ④      | 05 ①                   | 06 ① |
| 07 ① | 08 ⑤ | 09 ③                                   | 10 ③      | 11 ②                   | 12 ② |
| 13 ④ | 14 ③ | 15 (1) ㉠ 행정부(정부), ㉡ 입법부(국회), ㉢ 사법부(법원) | (2) 해설 참조 | 16 (1) 시민불복종 (2) 해설 참조 |      |

## 01 인권과 헌법

**정답** ④ ㄱ, ㄴ. 헌법은 국가의 최고법으로 인권 보호를 위한 토대이며, 기본권 보장을 위한 법과 제도적 장치를 규정한다. ㄷ. 헌법재판소는 위헌 법률 심판, 위헌 심사형 헌법 소원 심판 등을 통해 법률의 위헌 여부를 판단할 수 있다.

### 선택지 분석

- ㄷ. 헌법에 구체적으로 명시되지 않은 기본권은 보장받을 수 없다.  
→ 헌법 제37조 1항에서는 구체적으로 명시되지 않은 권리도 국민의 자유와 권리에 해당한다면 광범위하게 보장할 수 있도록 규정하고 있다.

## 02 인간의 존엄과 가치 및 행복 추구권

**정답** ③ 헌법 제10조는 인간의 존엄과 가치, 행복 추구권을 헌법이 추구하는 궁극의 가치이며 모든 기본권의 근거이자 불가침의 권리로 보고 있다. 또한 이를 위해 국가가 기본권을 보장할 의무가 있음을 밝히고 있다.

### 선택지 분석

- ① 천부 인권 사상이 나타나지 않는다. → 나타나 있다.
- ② 국민 주권의 원리가 명시된 조항이다.  
→ 국민 주권의 원리는 주권이 국민에게 있다는 원리로, 헌법 제10조에 나타나 있지 않다.
- ④ 자의적인 국가 권력 행사의 근거를 밝히고 있다.  
→ 국가 권력 행사의 한계
- ⑤ 행복 추구권의 행복을 물질적인 것으로 한정한다.  
→ 헌법 제10조에 나타난 행복 추구권은 물질적·정신적으로 만족스러운 삶을 추구할 포괄적 권리이다.

## 03 참정권

**정답** ④ 사례의 선상 투표제는 참정권을 보장하기 위한 제도이다. 참정권은 국민이 국가의 의사 결정 과정에 참여할 수 있는 권리이다.



### 선택지 분석

- ① 불합리한 이유로 차별받지 않을 권리이다.  
→ 평등권에 대한 설명이다.
- ② 가장 오래된 기본권으로 소극적 성격의 권리이다.  
→ 자유권에 대한 설명이다.
- ③ 국가로부터 간섭받지 않고 자유롭게 생활할 권리이다.  
→ 자유권에 대한 설명이다.
- ⑤ 공무원의 직무상 불법 행위로 손해를 입었을 때 배상을 청구할 수 있는 권리이다.  
→ 청구권에 대한 설명이다.

### 자료 분석

우리나라는 대한민국 국민이 선장으로 있는 배에 탄 선원이 투표일에 투표소에서 투표할 수 없는 경우 선상에서 **부재자 투표를 할 수 있도록** 하고 있다.  
↳ 선상 투표 제도 → 참정권 보장

## 04 자유권과 사회권

**정답** ④ (가)는 언론·출판·집회·결사의 자유와 관련된 기본권이므로 자유권이다. (나)는 의무 교육과 관련된 기본권이므로 사회권이다. **ㄴ**. 사회권은 인간다운 삶의 보장을 요구하는 권리이다. **ㄹ**. 자유권은 소극적 성격의 권리이고, 사회권은 적극적 성격의 권리이다.

### 선택지 분석

- ㄱ. (가)는 수단적 성격을 지닌 권리이다.  
→ 청구권에 대한 설명이다.
- ㄴ. (나)는 다른 기본권이 침해되었을 때 이의 구제를 요구할 수 있는 권리이다.  
→ 청구권에 대한 설명이다.

## 05 평등권

**정답** ① 제시된 사례의 청구인이 침해당한 기본권은 평등권이다. **ㄱ**, **ㄴ**. 평등권은 민주 국가의 기본 가치로 다른 기본권 실현의 전제 조건이다.

### 선택지 분석

- ㄴ. 헌법에 직접 명시되지 않은 권리이다.  
→ 평등권은 헌법 제11조에 명시되어 있다.
- ㄹ. 공무 담임권, 국민 투표권이 포함된다.  
→ 공무 담임권, 국민 투표권은 참정권에 해당한다.

### 자료 분석

청구인들은 비인가 대안 학교 졸업 후 검정고시에 합격하여 고등학교 졸업 학력을 취득하였고, 국립 교육 대학교 입학 시험을 준비하였다. 그러나 국립 교육 대학교 수시 모집 신입생 요강에 일부 특별 전형을 제외한 대부분 전형에서 **고등학교 졸업자 또는 졸업 예정자로 지원 자격이 한정되어** 있었다. 이들은 헌법 소원 심판을 청구하였고, 헌법재판소는 해당 **수시 요강의 내용이 헌법에 위반된**다고 보았다.

→ 국립 교육 대학교의 수시 모집 요강에서 지원 자격을 일률적으로 제한한 것은 실질적으로 검정고시 출신자의 대학 입학 기회의 박탈을 초래했기 때문에 평등권이 침해된 사례이다.

## 06 기본권 제한과 한계

**정답** ① 개인의 사유 재산권 행사는 자유권에 속한다. 그러나 공동체 전체의 이익, 즉 공공복리를 위해 필요한 경우 법률로써 제한될 수 있다.

### 자료 분석

갑이 소유한 토지 인근 지역이 관광 명소로 유명해지자 **갑은 자기 토지에 관광 시설을 세워 큰돈을 벌고 싶었다**. 하지만 해당 토지가 개발 제한 구역에 포함되어 건축이 제한된다는 사실을 알고 크게 실망했다.

→ 도시의 무질서한 확산 방지와 도시의 자연환경 보전 등을 위하여 국토 교통부 장관이 도시 개발을 제한하도록 지정한 구역을 개발 제한 구역이라고 한다. 갑은 자신의 토지에 관광 시설을 세울 수 있는 자유권이 있지만 토지가 개발 제한 구역에 있기 때문에 관광 시설을 세울 수 없다.

## 07 법치주의

**정답** ① 밑줄 친 제도는 법치주의에 해당한다. 법치주의는 인권 보장을 위해 헌법에 명시된 제도로, 국회가 법률을 제정하고 이에 근거하여 국가를 운영하는 제도이다.

### 자료 키워드 인권 보장을 위해 헌법에 규정된 다양한 제도

국민 주권의 원리	국가의 의사를 결정하는 최고 권력인 주권이 국민에게 있다는 원리
복수 정당제	정당 설립의 자유를 보장하고 두 개 이상의 정당을 인정하는 제도
권력 분립 제도	국가 권력을 나누어 각각 다른 기관에서 분담시켜 상호 견제와 균형을 이루도록 하는 제도

## 08 헌법재판소와 헌법 소원 심판

**정답** ⑤ ㉠은 헌법재판소이다. 헌법 해석과 관련한 분쟁 해결 기관으로 헌법을 수호하고 국민의 기본권을 보장한다. **ㄹ**. 헌법 소원 심판은 공권력에 의해 기본권이 침해된 경우, 헌법재판소에 심판을 청구하여 침해된 권리를 구제받을 수 있도록 한 제도이다. **ㄴ**. 헌법 소원 심판에는 위헌 심사형, 권리 구제형이 있다.

### 선택지 분석

- ㄱ. ㉠은 **대법원**이다. → 헌법재판소
- ㄴ. ㉠은 **국정 감시권**을 행사할 수 있다. → 국회에 대한 설명이다.

## 09 시민 참여의 필요성과 방법

**정답** ③ 갑. 국가 기관의 권력 남용을 감시하기 위해 시민 참여가 필요하다. 정. 시민 참여 방법에는 1인 시위, 서명 운동, 자원 봉사 등 다양한 활동이 있으며, 최근에는 인터넷을 통한 시민 참여도 가능하다.

### 선택지 분석

- 을: **직접 민주주의**의 제도의 한계를 보완하기 위해 시민 참여가 필요합니다. → **대의 민주주의**
- 병: 공공선을 추구하기 위한 이익 집단 활동을 통해 이루어질 수 있어요.  
→ 이익 집단은 자신이 속한 집단의 사익을 추구한다.

## 10 시민 참여

**정답** ③ (가)는 선거와 투표 참여, (나)는 집회와 시위 참가에 해당한다. (가)와 (나) 모두 정책 결정 과정에 영향력을 행사할 수 있다.

### 자료 분석

(가) 갑은 지방 선거에서 자신이 지지하는 지방 자치 단체장, 지역구 의원 후보에 **투표**하였다. 선거와 투표 참여  
 (나) 을은 자신이 사는 지역에 쓰레기 처리장이 설치될 예정이라는 소식을 듣고 **지역 주민들과 함께 정부 청사 앞에서 시위**하였다. 집회와 시위 참가

## 11 시민 참여 방법

**정답** ② 시민 참여는 대의 민주주의에 따라 대표에 의해서 정책 결정이 이루어지는 오늘날 시민의 의사를 정책에 제대로 반영하고, 권리를 지키는 방법이다. 사익을 추구하더라도 이익 단체 활동을 통해 국민의 기본권을 보장하고 국가 권력 남용을 방지할 수 있으므로 시민 참여에 포함한다.

### 자료 키워드 시민 참여 방안

선거와 투표 참여	시민이 직접 후보로 출마하거나 투표에 참여하여 대표자를 선출함.
정당	자신이 지지하는 정당을 후원하거나, 당원으로 가입하여 활동함.
이익 집단	공통의 이해관계를 지닌 사람들이 자신들의 이익을 실현하기 위해 단체를 결성하여 활동함.
시민단체	공익 추구를 위해 자발적으로 결성한 시민단체에 가입하여 공공 문제 해결에 참여함.
기타	자원 봉사 참여, 서명 운동, 집회와 시위 참가, 인터넷을 통한 의견 표출 등

## 12 시민 참여 방법

**정답** ② ㄱ. 개인 SNS에 꽃자왈의 환경 가치를 알리는 글을 작성하는 것은 개별적이지 일시적인 참여에 해당한다. ㄴ. 꽃자왈 보전 위원회를 만들어 도민 설명회 개최를 꾸준히 요구하는 것은 집단적 참여이자 지속적 참여에 해당한다.

### 선택지 분석

- ㄴ. B - 환경 단체 회원으로 집회에 매주 참여  
→ 집단적이고 지속적인 참여에 해당한다.
- ㄷ. C - 제주도 의회에 주민 조례 청구  
→ 집단적이고 지속적인 참여에 해당한다.

## 13 시민불복종

**정답** ④ (가)는 시민불복종이다. 시민불복종은 부정의한 법이나 정책이 합법적인 방법으로 개선되지 않을 때 공익을 수호하려는 목적에서 양심적으로 행하는 의도적인 위법 행위이다. ㄱ, ㄴ. 시민불복종은 비폭력적인 수단으로 이루어져야 하며, 법체계를 존중하는 상태에서 벌이는 위법 행위이기 때문에 법적 처분 결과를 감수해야 한다. ㄴ. 간디의 소금 행진은 시민불복종의 대표적인 사례이다.

### 선택지 분석

- ㄷ. (가)는 시민 참여 방법 중 **최우선**으로 고려해야 한다.  
→ **최후의 방법**

## 14 시민불복종

**정답** ③ 시민불복종은 부정의한 법이나 정책이 합법적인 방법으로 개선되지 않을 때 공익을 수호하려는 목적에서 양심적으로 행하는 의도적인 위법 행위이다. 현행법상 위법 행위에 따르는 처벌을 감수하는 동시에, 정의를 추구함을 강조하므로 시민불복종의 정당화 조건 중 ㉠ 처벌 감수와 ㉡ 목적의 정당성에 해당한다.

### 자료 키워드 시민불복종의 정당화 조건

목적의 정당성	공공의 이익과 정의를 실현하기 위한 정당한 목적을 바탕으로 해야 함.
비폭력성	정의롭지 못한 법이나 정책에 반대하는 이유로 폭력적인 행동을 선행하는 행위는 정당화될 수 없음.
최후의 수단	모든 합법적인 방법을 동원했으나 해결하지 못했을 때 최후의 수단으로 시도해야 함.
처벌의 감수	위법 행위에 대한 처벌을 감수하여 기본적으로 법을 존중하고 정당한 법체계를 세우려는 운동임을 밝혀야 함.

## 15 우리나라의 권력 분립 제도

- (1) ㉠ 행정부(정부), ㉡ 입법부(국회), ㉢ 사법부(법원)
- (2) **모범 답안** 국가 기관이 상호 견제와 균형을 이루도록 하여 국가 권력의 남용을 막고 인권을 보장한다.

**[주요 내용]** 권력 분립 제도가 국가 기관 간 상호 견제와 균형을 통해 권력 남용을 방지하고 인권을 보장한다고 서술해야 함.

채점 기준	배점
상호 견제와 균형, 권력 남용 방지, 인권 보장の内容을 모두 포함하여 바르게 서술한 경우	상
상호 견제와 균형, 권력 남용 방지, 인권 보장の内容 중 일부만 포함하여 서술한 경우	하

## 16 시민불복종

- (1) 시민불복종
- (2) **모범 답안** 공공의 이익과 정의를 실현하기 위한 목적의 정당성을 가져야 하며, 비폭력적인 형태로 이루어져야 하고, 위법 행위에 대한 처벌을 감수하여 법체계를 존중함을 밝혀야 하며, 모든 합법적인 방법을 동원해도 해결하지 못할 때 최후의 수단으로 행사해야 한다.

**[주요 내용]** 목적의 정당성, 비폭력성, 최후의 수단, 처벌의 감수의 요건을 모두 서술해야 함.

채점 기준	배점
목적의 정당성, 비폭력성, 최후의 수단, 처벌의 감수의 요건을 네 가지를 모두 바르게 서술한 경우	상
목적의 정당성, 비폭력성, 최후의 수단, 처벌의 감수의 요건을 세 가지만 서술한 경우	중
목적의 정당성, 비폭력성, 최후의 수단, 처벌의 감수의 요건을 두 가지만 서술한 경우	하

### 03 인권 문제의 양상과 해결 방안

**빠른 정답** ✓

**기출 선택지로 개념 확인**

- |            |           |           |
|------------|-----------|-----------|
| 01 사회적 소수자 | 02 다양한 기준 | 03 상황     |
| 04 인권      | 05 장애인    | 06 인권 감수성 |
| 07 사용자     | 08 근로 계약서 | 09 1시간    |
| 10 연소 근로자  | 11 최저     | 12 인권지수   |
| 13 난민      | 14 빈곤     | 15 연대     |
| 16 비정부 기구  | 17 세계시민   |           |

**빠른 정답** ✓

**실력 UP! 단골 내신 문제**

- |                        |                        |      |      |      |      |
|------------------------|------------------------|------|------|------|------|
| 01 ②                   | 02 ③                   | 03 ⑤ | 04 ③ | 05 ② | 06 ③ |
| 07 ④                   | 08 ⑤                   | 09 ⑤ | 10 ⑤ | 11 ④ | 12 ① |
| 13 ④                   | 14 (1) 해설 참조 (2) 해설 참조 |      |      |      |      |
| 15 (1) 해설 참조 (2) 해설 참조 |                        |      |      |      |      |

#### 01 사회적 소수자

**정답** ② 빈칸 ㉠에 들어갈 개념은 사회적 소수자이다. 사회적 상황과 여건에 따라 각 사회마다 사회적 소수자에 해당하는 구성원이 서로 다를 수 있다.

**선택지 분석**

- ① ㉠은 집단의 크기에 의해 결정된다.  
→ 집단의 크기가 사회적 소수자를 규정하는 기준은 아니다.
- ③ ㉠의 기준은 선천적인 요소에 따라 결정된다.  
→ 종교와 같은 후천적인 요인도 차별의 기준이 될 수 있다.
- ④ ㉠의 해당 여부는 시대와 상관없이 일정하다.  
→ 사회적 소수자는 시대에 따라 달라질 수 있다.
- ⑤ ㉠에 대한 차별은 사회 통합을 위해 필요하다.  
→ 사회적 소수자에 대한 차별은 사회 통합을 저해하는 요인이다.

#### 02 성차별 문제

**정답** ③ 제시된 대화에는 여성에 대한 차별이 나타나 있다. 다, 르. 여성이 부당하게 승진 과정에서 불이익을 받는 일이 없도록 제도적 개선이 필요하며, 여성의 능력이 부족할 것이라는 편견에 대한 개선이 필요하다.

**선택지 분석**

- ㄱ. 동등한 직급이라면 성별에 따른 차별 현상이 나타나지 않는다.  
→ 동등한 직급에서도 유리책을 통한 차별이 발생한다.
- ㄴ. 여성에 대한 사회적 차별은 성별에 따른 능력의 차이에서 기인한다.  
→ 제시된 대화에서 성별에 따른 능력의 차이는 나타나 있지 않다.

#### 03 사회적 소수자

**정답** ⑤ 다, 르. 사회적 소수자는 신체적·문화적으로 구별되는 특징이 있으며, 사회적 소수자 차별 문제를 해결하기 위해 인권 감수성을 키워야 한다.

**선택지 분석**

- ㄱ. (가)는 주류 집단에 속하는 사람들이다.  
→ (가)는 사회적 소수자로, 주류 집단에 속하지 않는 사람들이다.
- ㄴ. (가)는 수적으로 소수인 집단을 의미한다.  
→ 사회적 소수자는 주류 집단보다 권력의 열세에 있지만, 반드시 수적으로 소수를 의미하는 것은 아니다.

#### 04 이주 노동자 차별 문제의 해결 방안

**정답** ③ 제시문에는 이주 노동자에 대한 고용 허가제의 문제점이 나타나 있다. 이를 통해 이주 노동자 관련 제도에 보완이 필요함을 파악할 수 있다.

**선택지 분석**

- ① 이주 노동자 문제에 대해 국가가 개입해서는 안 된다.  
→ 사회적 소수자에 대한 차별을 개선하기 위해 국가의 개입이 필요하다.
- ② 이주 노동자는 우리 사회에서 사회적 소수자가 아니다.  
→ 이주 노동자는 국적을 이유로 차별받고 있으므로 사회적 소수자에 해당한다.
- ④ 이주 노동자에 대한 특혜는 다른 근로자에게 역차별을 초래한다.  
→ 이주 노동자에 대한 특혜와 관련된 내용은 나타나 있지 않다.
- ⑤ 이주 노동자가 문화적 차이로 인한 어려움을 느끼지 않도록 노력해야 한다.  
→ 이주 노동자가 문화적 차이로 어려움을 겪고 있는 내용은 나타나 있지 않다.

#### 05 연령에 따른 사회적 차별

**정답** ② 노 키즈 존은 아동을 배제한 것이고, 젊고 활동적인 사원이라는 표현은 고령층을 배제한 것이다. 따라서 제시된 사례에 공통적으로 나타난 사회적 소수자의 차별 기준은 연령이다.

**자료 분석**

- 일부 좌석에 노 키즈 존을 도입한 항공사  
→ 해당 좌석 이용에서 아동을 배제한 사례
- 젊고 활동적인 사원을 모집하는 채용 공고  
→ 합리적인 이유 없이 고령층을 채용에서 배제한 사례

#### 06 사회적 소수자 문제의 해결 방안

**정답** ③ 제시된 사례는 사회적 소수자인 장애인의 권리가 침해받고 있는 상황을 보여 준다. 사회적 소수자 차별 문제를 해결하기 위해서는 사회적 소수자를 주류 집단의 제도에 적용시키기보다는 사회적 소수자의 다양성을 존중해야 한다. 또한 적절한 지원 기관 운영, 법률 제정 등의 제도적 보완과 의식 개선, 교육 등이 필요하다.

#### 07 연소 근로자

**정답** ④ <근로 기준법>에 따라 연소 근로자의 임금은 매월 1회 이상 일정한 날짜를 정해 지급해야 하며, 근로 시간이 8시간인 경우에는 1시간 이상의 휴게 시간을 근로 시간 도중에 주어야 한다.

**선택지 분석**

- 연소 근로자의 임금은 **친권자나 후견인**에게 지급해야 한다.  
→ 직접 본인
- 친권자나 후견인이 연소 근로자의 근로 계약을 **대리해야 한다**.  
→ 대리할 수 없다.

**자료 키워드** <근로 기준법>의 청소년 근로 규정

- 제43조 ① 임금은 통화로 직접 근로자에게 그 전액을 지급하여야 한다.
- 제54조 ① 사용자는 근로 시간이 4시간인 경우에는 30분 이상, 8시간인 경우에는 1시간 이상의 휴게 시간을 근로 시간 도중에 주어야 한다.
- 제65조 ① 사용자는 ... 18세 미만자를 도덕상 또는 보건상 유해·위험한 사업에 사용하지 못한다.
- 제66조 사용자는 18세 미만인 사람에 대하여는 그 연령을 증명하는 가족 관계 기록 사항에 관한 증명서와 친권자 또는 후견인의 동의서를 사업장에 갖추어 두어야 한다.
- 제69조 15세 이상 18세 미만인 사람의 근로 시간은 1일에 7시간, 1주에 35시간을 초과하지 못한다. 다만, 당사자 사이의 합의에 따라 1일에 1시간, 1주에 5시간을 한도로 연장할 수 있다.

**08 청소년의 노동권 침해**

**정답** ⑤ 사용자는 18세 미만의 청소년에 대해서는 친권자 또는 후견인의 동의서를 사업장에 갖추어야 한다.

**선택지 분석**

- ① 일을 한 지 두 달이 지나서야 임금을 받은 갑  
→ 임금은 매월 1회 이상 일정한 날짜에 지급해야 한다.
- ② 임금의 절반을 현금 대신 가게의 물건으로 받은 을  
→ 임금은 통화로 전액 지급해야 한다.
- ③ 나이가 어리다며 최저 임금의 80%만 받고 일한 병  
→ 청소년도 성인과 동일한 최저 임금을 보장받아야 한다.
- ④ 하루에 9시간씩 일하면서 1시간만 쉴 수 있었던 정  
→ 청소년은 하루 9시간을 일할 수 없다.

**09 청소년의 노동권 침해**

**정답** ⑤ 임금은 매월 1회 이상 일정한 날짜에 지급해야 한다.

**선택지 분석**

- ① ㉠의 을의 근로 시간은 법정 근로 시간을 초과한다.  
→ 을의 근무 시간은 휴게 시간을 제외하면 하루에 6시간으로 적법하다.
- ② ㉡은 점심시간이므로 휴게 시간으로 지정할 수 없다.  
→ 휴게 시간은 근로 시간 도중에 주어져야 하며, 12~13시로 지정할 수 있다.
- ③ 을은 미성년자이므로 ㉢의 임금을 지급하는 것은 허용된다.  
→ 미성년자도 성인과 동일한 최저 임금을 적용받는다. 2025년 최저 시급은 10,030원이다.
- ④ ㉣은 미성년자인 을이 아니라 친권자나 후견인에게 지급해야 한다.  
→ 임금은 근로자에게 직접 지급해야 한다.

**10 세계 인권 문제**

**정답** ⑤ 국경 없는 의사회, 국제 사면 위원회는 세계 인권 문제 해결을 위해 노력하는 대표적인 비정부 기구이다.

**오답** ① 아동 노동 문제는 척박한 자연환경, 빈곤, 내전 등이 주된 원인이다. ② 인권 지수는 지역별 인권 보장 실태와 변화 양상을 살펴보고자 국제기구와 비정부 기구에서 발표한다. ③ 인권 지수는 기준을 정하는 방식에 따라 달라질 수 있으므로 특정 국가의 절대적 인권 수준을 반영하는 것은 아니다. ④ 국가는 국제 사회의 행위 주체 중 하나이다.

**11 난민 문제**

**정답** ④ 제시된 자료에 나타난 인권 문제는 난민 문제이다. 나, 르, 난민 문제는 전쟁과 내전, 기후변화 때문에 발생하고 있으며, 난민의 인권 보장 실태를 살펴보기 위해 관련 인권지수를 조사할 수 있다.

**오답** ㄱ. 난민 문제와 같은 세계 인권 문제는 다양한 요인이 복잡하게 얽혀 있어서 개별 국가 차원에서 해결하기 어려운 경우가 많다. ㄴ. 난민의 발생 양상은 발생 원인에 따라 국가나 지역별로 차이가 난다.

**자료 분석**

특히 **기후 난민**은 전체 난민의 53%를 차지해 전쟁 난민보다 많았다. 러시아-우크라이나 전쟁과 콩고 민주 공화국의 내전 등으로 인한 난민이 60%나 급증했음에도 자연재해로 인한 난민이 더 많은 것이다.

→ 기후 난민 98%가 홍수, 가뭄, 산불 등 기후변화로 인한 재해 때문에 발생한다. 기후위기 때문에 홍수와 가뭄 등의 자연재해가 더 자주 발생하고, 더 길게 지속되고, 더 강도가 높아지면서 기후 난민은 계속 늘어날 것으로 예상된다.

**12 인권지수**

**정답** ① 인간 개발 지수에 불평등 정도를 반영한 불평등 조정 인간 개발 지수를 보면 오스트레일리아는 순위가 내려갔으나 독일은 상승하여 독일의 순위가 오스트레일리아보다 높아졌다. 이는 독일의 불평등 정도가 오스트레일리아보다 크지 않음을 나타낸다.

**선택지 분석**

- ② 불평등 조정에 순위가 변하지 않은 나라는 스위스이다.  
→ 인간 개발 지수(HDI)와 불평등 조정 인간 개발 지수(HDI)의 순위가 같은 나라는 노르웨이이다.
- ③ 인간 개발 지수는 해당 국가 인권의 절대적 수준을 반영한다.  
→ 인권지수는 인권의 절대적 수준을 드러내는 것이 아니며 지수의 구성 요소에 따라 달라질 수 있다.
- ④ 불평등 조정 인간 개발 지수에는 기대 수명이 반영되어 있지 않다.  
→ 인간 개발 지수(HDI)와 불평등 조정 인간 개발 지수(HDI)에 모두 기대 수명이 반영되어 있다.
- ④ 불평등 조정 인간 개발 지수를 통해 정치적 권리 수준과 시민의 자유 수준을 파악할 수 있다. → 세계 자유 지수에 대한 설명이다.

**13 세계 인권 문제의 해결**

**정답** ④ 세계 인권 문제 해결을 위해 다양한 주체가 협력해야 한다. 나. 개인은 세계시민 의식을 가지고 세계 인권 문제 해결을 위한 활동에 참여해야 한다. 르. 언론은 인권 수준이 낮은 국가의 문제점을 국제적으로 보도하여 개선을 유도하는 등의 활동을 할 수 있다.

**선택지 분석**

- ㄱ. 자국민의 인권 보장만을 우선시한다.  
→ 자국민의 인권 보장만을 우선시하는 것은 세계시민 의식으로 적절하지 않다.
- ㄴ. 국제기구는 문제 발생 국가가 경제적으로 자립할 수 있도록 지원을 자제한다.  
→ 경제적으로 열악한 국가는 국제 사회의 지원이 요구된다.



자료 키워드 세계 인권 문제의 해결 방안

국제적 차원	<ul style="list-style-type: none"> <li>• 다양한 국제 사회 행위 주체의 연대 필요</li> <li>• 국제 연합은 주요 인권 문제를 파악하고 의제로 설정, 인권 문제 해결을 위한 선언과 조약 제정</li> <li>• 다양한 비정부 기구는 인권 문제의 실상을 알리고 인권 탄압 방지, 난민 구호 등 활동 진행</li> </ul>
국가적 차원	<ul style="list-style-type: none"> <li>• 다양한 국제기구의 인권 보장 노력 지원</li> <li>• 빈곤이나 차별 등 문제를 겪는 국가에 경제적 지원</li> </ul>
개인적 차원	<ul style="list-style-type: none"> <li>• 세계시민 의식을 가지고 세계 인권 문제 해결을 위해 캠페인 참여, SNS를 통한 문제 제기, 후원 등 다양한 활동 참여</li> </ul>

### 14 청소년의 노동권

(1) **모범 답안** 을은 휴게 시간을 보장받지 못하였고, 임금도 잘못된 방식으로 지급받았다. <근로 기준법>에 따라 사용자는 을에게 하루에 4시간을 일한 경우 30분 이상의 휴게 시간을 근로 시간 도중에 주어야 하며, 임금은 근로자에게 통화로 전액을 지급해야 한다.

**[주요 내용]** <근로 기준법>을 기준으로 하여 근로 시간 관련 조항과 임금 지급 관련 조항을 위반하였다는 내용을 서술해야 함.

채점 기준	배점
<근로 기준법>을 기준으로 하여 근로 시간 관련 조항과 임금 지급 관련 조항을 위반하였다는 내용을 모두 서술한 경우	상
<근로 기준법>을 기준으로 하여 근로 시간 관련 조항과 임금 지급 관련 조항을 위반하였다는 내용 중 한 가지만 서술한 경우	하

(2) **모범 답안** 사용자는 노동자의 권리를 인식하고 관련 규정을 준수하기 위해 노력해야 한다. 근로자는 스스로 자신의 노동권을 정확히 알고, 부당한 권리 침해를 당했을 경우 적극적으로 대응해야 한다.

**[주요 내용]** 사용자는 준법 의식을 가지고 <근로 기준법>을 준수해야 하고, 근로자는 자신의 노동권을 알고 적극적으로 대응해야 한다는 내용을 서술해야 함.

채점 기준	배점
사용자와 근로자의 노력을 모두 서술한 경우	상
사용자와 근로자의 노력 중 한 가지만 서술한 경우	하

### 15 빈곤 문제

(1) 각종 분쟁과 자연재해 등의 원인으로 식량 생산이 어려워져 발생한다.

(2) **모범 답안** 국제기구인 국제 연합은 기아 문제를 파악하여 의제로 설정하고 이를 해결하기 위한 선언과 조약을 제정한다. 비정부 기구는 기아 문제의 실상을 국제 사회에 알리고 빈곤 국가에 대한 경제적 지원과 구호, 사회 기반 시설 확충 등의 다양한 활동을 한다.

**[주요 내용]** 국제 연합의 의제 설정, 선언 및 조약 제정과 비정부 기구의 기아 문제 실상 알림, 경제적 지원과 구호 등의 활동 내용을 서술해야 함.

채점 기준	배점
국제기구와 비정부 기구가 해야 할 일을 모두 서술한 경우	상
국제기구와 비정부 기구가 해야 할 일을 한 가지만 서술한 경우	하

## II

### 사회정의와 불평등

40~43쪽

#### 01 정의의 의미와 정의의 실질적 기준

##### 빠른 정답

##### 기출 선택지로 개념 확인

01 정의	02 분배적	03 교정적
04 응보	05 예방	06 아리스토텔레스
07 일반적	08 교정적	09 정의
10 업적	11 기회	12 능력
13 능력	14 필요	15 복지
16 결과		

##### 빠른 정답

##### 실력 UP! 단골 내신 문제

01 ③	02 ②	03 ④	04 ①	05 ⑤	06 ②
07 ④	08 ③	09 ⑤	10 ④	11 ③	12 ③
13 ④	14 (1) 분배적 (2) 해설 참조				
15 (1) 업적 (2) 해설 참조					

#### 01 정의의 의미

**정답** ③ 정의는 일반적으로 인간이 지켜야 할 올바른 도리 또는 사회를 구성하고 유지하는 공정한 도리(Γ)를 말한다. 또한 개인과 사회가 추구해야 할 중요한 덕목이자 기본적으로 핵심적인 가치(Λ)이다. 맹자는 정의를 잘못을 부끄러워하고 이익에 집착하지 않는 올곧음(비)으로 보았다.

##### 선택지 분석

- ㉔. 정의가 무엇인지 정하는 방법은 시대마다 **같다**. → 다를 수 있다.
- ㉕. 부당한 분배에 대한 교정의 의미는 포함되지 않는다.  
→ 부당한 분배에 대한 교정은 교정적 정의를 의미한다.
- ㉖. 개인적 차원이 아니라 사회적 차원에서만 필요한 덕목이다.  
→ 사회적 차원뿐만 아니라 개인적 차원에서도 필요한 덕목이다.

#### 02 롤스의 정의

**정답** ② 롤스는 사상 체계가 진리가 아니라면 배척되거나 수정되어야 하듯이 사회 제도가 공정하거나 정의롭지 못하면 폐기, 변화, 개선되어야 한다고 보았다.

**오답** ① 정의는 인간이 지켜야 할 도리 또는 사회를 구성하고 유지하는 공정한 도리로 인간 사회에서 실현 가능한 덕목이다. ③ 제시문에서 사회적 약자를 위한 정책에 대한 롤스의 입장을 유추하기 어렵다. 그리고 롤스는 사회적 약자를 위한 정책은 정의를 실현하는 데 필요하다고 보았다. ④ 롤스는 공정한 절차에 따른 경제적 불평등은 정의로운 사회에서도 존재할 수 있다고 보았다. ⑤ 롤스는 개인의 기본적인 자유와 권리는 전체 복지를 위한다는 이유로 결코 침해될 수 없다고 보았다.

### 자료 분석

사상 체계의 제1덕목을 진리라고 한다면 **사회 제도의 제1덕목은 정의이다**. 이론이 아무리 정교하고 간결할지라도 그것이 진리가 아니라면 배척되거나 수정되어야 하듯이 **법이나 제도가 아무리 효율적이고 정연할지라도 그것이 정당하지 못하면 개선되거나 폐기되어야 한다**.

→ 롤스는 오직 정의로운 사회 제도가 구성원의 기본적 권리를 보장하는 역할을 할 수 있다고 보았다.

### 03 아리스토텔레스의 정의

**정답** ④ 아리스토텔레스는 정의를 일반적 정의와 특수적 정의로 구분하고 특수적 정의를 다시 교정적 정의, 분배적 정의(⊥), 교환적 정의로 구분하였다. 일반적 정의는 법을 준수하는 것을 의미(⊃)한다. 교정적 정의는 사람과 사람 사이에 잘못된 것을 바로잡아 이익과 손해의 동등함을 회복하는 것과 관련(⊂)이 있다.

#### 선택지 분석

ㄷ. ①에 따르면 재화는 구성원 각자의 **필요**에 따라 분배되어야 한다. → 가치, 기여도

### 04 사형 제도에 관한 칸트와 베카리아의 입장

**정답** ① 갑은 칸트, 을은 베카리아이다. 칸트는 다른 어떤 이유에서가 아니라 오직 범죄를 저질렀다는 그 사실만으로 그에 상응하는 처벌이 이루어져야 한다고 보았다. 베카리아는 처벌은 예방을 위한 것으로, 사형보다는 종신 노역형이 범죄 예방에 더 효과적이라고 보았다.

#### 선택지 분석

- ② 갑: 살인자에 대한 사형 이외의 방법도 진정한 정의 실현의 방법이 될 수 있다.  
→ 종신 노역형을 주장한 베카리아(을)의 입장이다. 칸트는 범죄 행위에 상응하는 해악을 처벌로 가할 때 교정적 정의를 실현할 수 있다고 보았다.
- ③ 을: 형벌의 목적은 잘못에 상응하는 처벌을 내리는 것 자체에 있다. → 갑
- ④ 을: 사형을 대체한 종신 노역형은 진정한 정의 실현에 방해가 될 뿐이다. → 베카리아는 사형보다 종신 노역형이 범죄 예방에 더 효과적이라고 보았다.
- ⑤ 갑, 을: 범죄 예방 효과를 고려하여 교정적 정의가 실현되어야 한다. → 을

### 자료 키워드 응보주의와 예방주의

응보주의	<ul style="list-style-type: none"> <li>범죄 행위에 상응하는 해악을 처벌로 가할 때 교정적 정의를 실현할 수 있다고 봄.</li> <li>자율적인 존재인 인간은 스스로의 의지로 타인에게 해를 가하거나 공익을 침해하였다면 마땅히 그에 상응하는 처벌을 받아야 한다고 봄.</li> <li>칸트는 응보주의의 관점에서 처벌의 본질이 범죄 행위에 대한 응당한 보복을 가하는 것이라고 봄.</li> </ul>
예방주의	<ul style="list-style-type: none"> <li>처벌에 대한 두려움으로 범죄를 예방하여 사회 전체의 행복을 증진할 때 교정적 정의를 실현할 수 있다고 봄.</li> <li>범죄자의 행복을 통제·교화하고, 범죄자가 처벌받는 모습을 본보기로 보여 주어 범죄를 예방하기 위해 처벌을 해야 한다고 봄.</li> <li>베카리아는 예방주의 관점에서 처벌이 예방을 위한 것으로, 사회적 이익을 증진하기 위한 수단이라고 봄.</li> </ul>

### 05 정의로운 사회와 정의의 필요성

**정답** ⑤ 사회적 지위와 무관하게 누구에게나 공정한 법 집행을 실행한 경찰관을 통해 정의가 필요한 이유를 알 수 있다. 정의로운 사회에서 공정한 법 집행과 적절한 처벌이 이루어질 때 사회 구성원들이 서로 신뢰하고 협력하는 공동체가 만들어질 수 있다.

### 06 정의로운 사회의 특징

**정답** ② 정의가 실현된 사회에서는 각 개인이 자유와 기본적 권리를 보장받으면서 인간다운 삶을 누릴 수 있고, 사회적 가치를 둘러싼 이해 갈등이 공정하게 해결되어 구성원이 서로 신뢰하는 질서 있는 공동체를 유지할 수 있다.

#### 선택지 분석

을: 동등한 몫을 분배받지 못하게 되어 구성원 간 불평등과 갈등이 발생합니다.  
→ 정의가 실현된 사회에서는 개인의 가치에 따라 동등한 몫을 분배받을 수 있으며, 사회생활에서 일어나는 갈등을 조정하여 사회 구성원 간의 조화를 이룰 수 있다.

정: 구성원들이 자신이 속한 사회를 신뢰하지 못하게 되어 사회 통합과 질서를 유지하기 어렵습니다.  
→ 사회 구성원들이 서로 신뢰하고 협력하여 사회 통합을 이룰 수 있다.

### 07 분배적 정의의 실질적 기준

**정답** ④ 제시문에 나타난 분배 기준은 업적(⊃)이다. 업적에 따른 분배는 주관적인 편견을 배제(⊥)하고 결과를 수량화할 수 있어 객관적인 평가가 비교적 쉽다(⊂)는 장점이 있다.

**오답** ㄷ. 전문적인 지식과 자질에 따라 분배하는 것은 능력에 따른 분배이다.

### 08 업적에 따른 분배의 문제점

**정답** ③ 업적에 따른 분배는 업적을 쌓으려는 경쟁이 과열되어 사회적 갈등이 심해질 수 있으며, 사회적 약자에 대한 배려가 부족해질 수 있다는 단점이 있다.

#### 선택지 분석

- 객관적인 평가와 측정이 **매우 어렵다**. → 비교적 쉽다.
- 열심히 일하려는 성취동기를 **약화**시킬 수 있다.  
→ 필요에 따른 분배가 지닐 수 있는 문제점이다.

### 09 업적에 따른 분배와 필요에 따른 분배

**정답** ⑤ 갑은 업적, 을은 필요에 따른 분배의 입장이다. 업적에 따른 분배는 사회적 약자에 대한 배려가 부족해서 빈부 격차가 커질 수 있다는 단점이 있다.

#### 선택지 분석

- ① **A**: 경쟁이 과열되어 사회적 갈등이 심해질 수 있다. → B
- ② **A**: 타고난 재능과 같은 우연적 요소가 개입될 수 있다.  
→ 필요에 따른 분배의 입장에서 업적·능력에 따른 분배의 입장에 제기할 수 있는 비판이다.
- ③ **B**: 결과의 평등이 더 큰 불평등을 초래할 수 있다. → A
- ④ **B**: 열심히 일하려는 성취동기를 약화시킬 수 있다. → A



## 10 필요에 따른 분배와 능력에 따른 분배

**정답** ④ (가)는 필요, (나)는 능력에 따른 분배가 드러난 사례이다. 능력에 따른 분배는 타고난 재능이나 환경 등과 같은 선천적·우연적 요소가 개입될 수 있다는 단점이 있다.

### 선택지 분석

- ① (가)는 **업적**에 따른 분배의 사례에 해당한다. → 필요
- ② (가)는 지나친 경쟁을 과열시킨다는 단점이 있다. → **업적에 따른 분배**
- ③ (나)는 **필요**에 따른 분배의 사례에 해당한다. → 능력
- ⑤ (나)는 (가)에 비해 사회적 약자를 배려할 수 있다는 장점이 있다. → (가)는 (나)에 비해

## 11 필요에 따른 분배의 사례

**정답** ③ 값은 노인 지하철 무료 승차 제도를 통해 필요에 따른 분배를 주장하고 있다. 을은 이를 반대하는 입장이다. 필요에 따른 분배는 열심히 일하려는 생산 의욕을 감소시키고 경제적 효율성을 떨어뜨릴 수 있다는 단점이 있다.

### 선택지 분석

- ① 능력은 선천적인 요소가 개입되어 형성되기 때문이야. → **능력에 따른 분배의 단점이다.**
- ② 사회적 약자에 대한 배려가 부족해질 수 있기 때문이야. → **필요에 따른 분배는 사회적 약자의 최소한의 인간다운 삶을 보장할 수 있다.**
- ④ 혜택을 받기 위한 지나친 경쟁으로 사회 갈등을 심화할 수 있기 때문이야. → **업적에 따른 분배의 단점이다.**
- ⑤ 일부 구성원만 받을 수 있는 혜택이므로 사회 구성원 간의 경제적 격차가 커질 수 있기 때문이야. → **필요에 따른 분배는 경제적 불평등을 완화할 수 있다는 장점이 있다.**

## 12 분배적 정의의 실질적 기준

**정답** ③ 능력에 따른 분배는 육체적·정신적 능력에 따라 분배하는 것이고, 업적에 따른 분배는 성과와 실적 정도에 따라 분배하는 것이며, 필요에 따른 분배는 인간다운 삶을 위한 기본적인 욕구를 충족할 수 있도록 분배하는 것이다.

## 13 분배적 정의의 실질적 기준의 특징

**정답** ④ (가) 능력에 따른 분배는 능력이 뛰어난 사람이 자신의 재능을 마음껏 발휘할 기회를 제공함으로써 개인의 능력 개발 동기를 높이고 이를 통해 사회 발전에도 기여(+)할 수 있다. (나) 업적에 따른 분배를 지나치게 강조하면 경쟁이 과열(+)되는 문제가 생길 수 있다. (다) 필요에 따른 분배는 사회적 약자를 위한 다양한 복지 제도나 사회 안전망을 통해 불평등을 개선할 수 있지만, 모든 사람의 필요를 충족시키는 것은 현실적으로 어렵다는 문제점(+)이 있다.

### 선택지 분석

- 다. (나)의 분배 기준은 사회적 약자를 위한 다양한 복지 제도를 마련할 수 있다는 장점이 있다. → (다)

### 자료 키워드 분배 기준의 장단점

구분	장점	단점
업적에 따른 분배	결과를 객관화·수량화할 수 있어 평가와 측정이 용이, 주관적 편견을 배제하여 공정성 확보, 성취동기가 높아져 생산성 향상	서로 다른 종류의 업적은 비교·평가가 어려움, 사회적 약자에 대한 배려 부족, 업적을 내기 위한 과열 경쟁
능력에 따른 분배	자신의 능력을 개발하도록 동기를 부여함으로써 개인과 사회 발전에 이바지함.	선천적·우연적 요소가 개입하고, 능력을 평가하는 객관적인 기준을 마련하기 어려움.
필요에 따른 분배	사회적 약자의 최소한의 삶을 보장하여 경제적 불평등을 완화함.	모든 사람의 필요를 충족하기 어려움, 열심히 일하려는 동기를 약화하여 경제적 효율성이 저하됨.

## 14 분배적 정의

(1) 분배적

(2) **모범 답안** 여러 기준을 고려하여 가장 적합한 분배 기준을 찾는 노력이 중요하다. / 어느 하나의 기준만을 사용하기보다는 사회적 합의를 통해 각 상황에 적합한 기준을 마련해야 한다. 등  
**[주요 내용]** 분배적 정의의 기준이 각기 장단점을 지니고 있음을 파악하고, 사회적 합의를 통해 적합한 분배 기준을 마련해야 함을 서술해야 함.

채점 기준	배점
사회적 합의를 통해 각 상황에서 적합한 기준을 마련해야 함을 바르게 서술한 경우	상
사회적 합의를 통해 각 상황에서 적합한 기준을 마련해야 한다는 내용을 미흡하게 서술한 경우	하

## 15 업적에 따른 분배의 장단점

(1) 업적

(2) **모범 답안** 업적에 따른 분배는 자신이 이룬 업적에 따라 보상을 받기 때문에 열심히 노력하려는 성취동기를 높여 생산성이 올라갈 수 있다. 반면 업적을 쌓기 위한 과열 경쟁으로 구성원 간 갈등이 커질 수 있고 질병이나 장애 등으로 업적을 쌓거나 실적을 내기 어려운 사회적 약자에 대한 배려가 부족할 수 있다.

**[주요 내용]** 성취동기, 생산성, 과열 경쟁, 사회적 약자에 대한 배려 등을 언급하면서 업적에 따른 분배의 장점과 단점을 서술해야 함.

채점 기준	배점
업적에 따른 분배의 장점과 단점(보기)의 내용을 모두 포함하여 바르게 서술한 경우	상
업적에 따른 분배의 장점과 단점(보기)의 내용 중 일부만 포함하여 서술한 경우	하

### 자료 키워드 업적에 따른 분배의 의미와 사례

의미	<ul style="list-style-type: none"> <li>• 성과와 실적 정도에 따라 분배하는 것</li> <li>• 기회의 평등을 실현한 상태에서 자유롭게 경쟁하여 업적에 따라 보상하는 것</li> </ul>
사례	<ul style="list-style-type: none"> <li>• 회사에서 업무에 따른 성과를 평가하여 이에 따라 성과급을 지급하는 것</li> <li>• 국제 대회에서 메달을 딴 운동선수에게 포상금을 제공하는 것</li> <li>• 영화나 연극 등의 흥행 실적에 따라 보수를 해 주는 것</li> </ul>

## 02 자유주의와 공동체주의의 정의관

### 빠른 정답

### 기출 선택지로 개념 확인

- |          |         |           |
|----------|---------|-----------|
| 01 자유주의  | 02 개인선  | 03 이기주의   |
| 04 자유    | 05 노직   | 06 공동체    |
| 07 공동체주의 | 08 연고주의 | 09 서사적    |
| 10 월처    | 11 보완   | 12 권리, 의무 |
| 13 자유주의  | 14 공익   | 15 조화     |

### 빠른 정답

### 실력 UP! 단골 내신 문제

- |      |  |      |      |      |      |
|------|--|------|------|------|------|
| 01 ② | 02 ④                                   | 03 ① | 04 ④ | 05 ② | 06 ① |
| 07 ③ | 08 ⑤                                   | 09 ③ | 10 ⑤ | 11 ③ | 12 ② |
| 13 ① | 14 (1) 갑: 롤스, 을: 노직 (2) 해설 참조 15 해설 참조 |      |      |      |      |

### 01 자유주의의 특징

**정답** ② 가. 자유주의는 개인이 독립적 자아로 사회에 우선하며, 사회는 개별적인 개인들의 합에 지나지 않는다고 여긴다. 다. 자유주의에 의하면 국가는 국민의 자유와 권리를 보호하기 위해 존재한다.

**오답** 나, 르은 공동체주의의 입장이다.

### 02 자유주의적 정의관

**정답** ④ 롤스가 완전한 균등 분배와 절대적이고 결과적인 평등이 이루어져야 정의롭다고 본 것은 아니다. 즉, 정의로운 사회에서도 사회적·경제적 불평등이 존재할 수 있다고 보았다.

#### 자료 키워드 롤스와 노직의 자유주의적 정의관

롤스	<ul style="list-style-type: none"> <li>• 평등주의적 자유주의 입장에서 모든 사람이 평등한 자유를 누릴 수 있도록 공정성을 실현하는 것이 정의롭다고 봄.</li> <li>• 사회적 약자를 포함한 모두의 이익을 위해 국가는 적극적인 역할을 해야 한다고 봄.</li> </ul>
노직	<ul style="list-style-type: none"> <li>• 자유 지상주의 입장에서 개인의 소유 권리를 배타적으로 보장하는 것이 정의롭다고 봄.</li> <li>• 개인의 소유 권리를 보호하는 등 제한적 역할을 하는 최소 국가를 옹호함.</li> </ul>

### 03 자유주의적 정의관을 주장한 사상가들

**정답** ① 갑은 모든 사람이 평등한 자유를 누릴 수 있도록 공정성을 실현하는 것이 정의롭다고 본 롤스이고, 을은 개인의 소유권을 보장하는 것이 정의롭다고 보는 노직이다.

#### 자료 분석

갑: 정의의 원칙에 따라 모든 사람은 기본적 자유를 최대한 누릴 수 있는 평등한 권리를 가져야 한다. 사회적·경제적 불평등은 최소 수혜자에게 최대한의 혜택을 보장하는 한 허용되며, 어떤 직책이나 지위에 오를 수 있는 기회는 모든 사람에게 개방되어야 한다. [기회균등의 원칙]  
 [평등한 자유의 원칙] 자유가 무엇보다 중요한 가치라고 봄.  
 [차등의 원칙] 개인의 자유를 보장하되, 자유 경쟁에서 도태되기 쉬운 사회적 약자를 배려해야 함.  
 을: 개인의 자유와 권리를 보호하고 존중하는 것이 정의이다. 특히 개인의 선택권과 소유권이 최대한 보장되어야 한다. 어떤 사람이 정당하게 소유물을 취득하거나 양도받았다면, 그 사람은 그 소유물에 대해 침해당할 수 없는 권리를 가진다. 사회적 약자를 위한 복지 정책은 개인의 소유 권리를 침해하는 것으로 재분배 정책에 반대함.

특하거나 양도받았다면, 그 사람은 그 소유물에 대해 침해당할 수 없는 권리를 가진다. 사회적 약자를 위한 복지 정책은 개인의 소유 권리를 침해하는 것으로 재분배 정책에 반대함.

### 04 롤스와 노직의 자유주의적 정의관

**정답** ④ A는 롤스와 노직 모두 긍정의 대답을 할 질문이, B는 롤스는 긍정, 노직은 부정의 대답을 할 질문이, C는 노직이 긍정의 대답을 할 질문이 들어가야 한다. 롤스와 노직은 모두 자유주의적 정의관을 대표하는 사상가로, 개인의 자유와 권리를 보호하고 존중하는 것을 중시(-)하며 정의로운 사회에서도 사회·경제적 불평등은 허용(-)될 수 있다고 보았다. 그러나 노직은 롤스와 달리 사회적 약자를 위한 재분배 정책에 반대(-)하였으며 국가가 개인의 소유 권리를 보호하는 등 제한적 역할만을 하는 최소 국가(+)를 옹호하였다.

#### 선택지 분석

다, B: 정의로운 사회에서도 개인 간의 빈부 격차는 존재할 수 있는가?  
 → A, 롤스와 노직 모두 분배의 절차가 공정하다면 그에 따라 발생한 사회적·경제적 불평등은 허용될 수 있다고 보았다.

### 05 공동체주의적 정의관

**정답** ② 제시된 인물은 공동체주의적 정의관의 입장을 보여 준다. 공동체주의는 개인은 공동체와 분리될 수 없으며, 인간은 공동체의 구성원으로 태어나 그 구성원으로서의 책임과 역할을 수행하며 살아가는 존재라고 본다.

#### 선택지 분석

나. 국가는 개인의 자유와 권리를 보호하기 위한 수단에 불과한가?  
 → 자유주의적 정의관의 입장이다. 공동체주의적 정의관에 따르면 국가는 단지 개인의 자유와 권리를 보호하는 수단이 아니라, 좋은 삶을 살아가는 데 중요한 수단이다.  
 르. 국가는 중립적인 입장에서 개인의 자유로운 삶을 최대한 보장해야 하는가? → 자유주의적 정의관의 입장이다.

### 06 매킨타이어의 정의관

**정답** ① 매킨타이어는 대표적인 공동체주의적 정의관의 사상가로, 우리의 삶은 항상 공동체 속에서 이루어진다고 주장하였다.

**오답** ②, ③, ④, ⑤ 자유주의적 정의관의 입장이다.

#### 자료 키워드 공동체주의적 정의관의 특징

- 공동체 구성원이 유대감을 바탕으로 공동체에 대한 역할과 의무를 다하며 공동선(공익)을 실현하는 것이 정의롭다고 봄.
- 국가(공동체)는 단지 개인의 자유와 권리를 보호하는 수단이 아니라 좋은 삶을 살아가는 데 중요한 기반이라고 봄.
- 공동체의 목표를 지나치게 강조하면 개인의 자유와 권리가 침해될 수 있고 개인의 희생이 강요될 수 있으며, 연고주의가 심해질 수 있음.

### 07 공동체주의적 정의관의 한계

**정답** ③ 공동체주의적 정의관은 공동체의 구성원이 지니는 책임과 의무를 충실히 수행하는 데 기여할 수 있지만, 지나칠 경우 개인의 자유와 권리를 제한할 수 있다는 비판을 받는다.

**오답** ①, ②, ④, ⑤ 자유주의적 정의관에 대해 제기할 수 있는 비판이다.

### 08 자유주의적 정의관과 공동체주의적 정의관의 비교

**정답** ⑤ (가)는 자유주의적 정의관, (나)는 공동체주의적 정의관의 입장이다. 자유주의적 정의관에 따르면 개인은 공동체로부터 독립적이고 자율적인 존재(㉠)로, 스스로 자신의 정체성을 선택할 수 있다(㉡)고 본다. 반면 공동체주의적 정의관에 따르면 개인은 공동체의 영향을 받으며 정체성을 형성해 나가는 존재(㉢)로, 공동체는 개인에게 사회적 책임을 부과할 수 있다(㉣)고 본다. 공동체주의적 정의관은 공익을 실현하기 위한 개인들의 연대가 개인의 좋은 삶에 기여할 수 있다(㉤)고 본다.

#### 선택지 분석

㉤ (가)는 공익을 실현하기 위한 개인들의 연대가 개인의 좋은 삶에도 기여할 수 있다고 본다. → (나)

### 09 샌델과 롤스의 정의관 비교

**정답** ③ 같은 공동체주의 사상가인 샌델, 을은 자유주의 사상가인 롤스이다. 샌델은 인간이 공동체 속에서 개인의 정체성을 형성(㉠)하며 공동체가 공유하는 가치와 목적을 실현해야 한다(㉡)고 보았다. 또한 모든 개인은 연고적 자아로서의 삶을 살아야 한다고 보았다. 반면 롤스는 공정으로서의 정의를 강조하였으며 원초적 입장에서 무지의 베일을 쓴 계약 당사자들이 도출한 정의의 원칙에 따라 재화가 분배될 때 정의로운 사회가 될 것(㉢)이라고 보았다.

**오답** ㄹ은 샌델(갑)만의 입장이다.

### 10 자유주의적 정의관의 적용

**정답** ⑤ (가)는 자유주의적 정의관의 입장이다. 자유주의적 정의관은 개발 제한 구역의 토지를 소유한 사람들의 권리와 이익 보장을 위해 개발 제한 구역 정책에 대해 반대 의견을 표시할 것이다.

**오답** ① 자유주의적 정의관은 공동체의 선보다 개인의 자유와 권리를 우선시한다. ② 자유주의적 정의관은 다수의 자유, 권리를 위해 소수의 기본적 자유와 권리를 희생해서는 안 된다고 본다. ③ 공동체주의적 정의관의 입장이다. ④ 자유주의적 정의관은 최대 다수의 최대 행복보다 개인의 재산권 행사를 중시한다.

### 11 공동체주의적 정의관의 적용

**정답** ③ (가)는 공동체주의적 정의관의 입장이다. 공동체주의적 정의관에서는 초과 이윤세를 도입하여 공익, 공동선을 증진할 수 있다면 이는 공동체의 구성원에 관한 의무 실현 측면에서 정의롭다고 평가할 것이다.

**오답** ①, ②, ④, ⑤ 자유주의적 정의관이 제시할 견해이다.

### 12 자유주의적 정의관과 공동체주의적 정의관의 적용

**정답** ② 같은 자유주의적 정의관의 입장에서 양심적 병역 거부는 종교적 신념에 따른 것이므로 인정해야 한다고 본다. 을은 공동체주의적 정의관의 입장에서 공동체에 대한 의무를 최우선으로 보고 양심적 병역 거부를 인정해서는 안 된다고 본다.

**오답** ㄴ, ㄹ은 공동체주의적 정의관(을)의 입장에 해당한다.

### 13 자유주의적 정의관과 공동체주의적 정의관의 적용

**정답** ① (가)는 자유주의적 정의관, (나)는 공동체주의적 정의관의 입장이다. 자유주의적 정의관의 입장에서는 개인의 자유와 선택권을 존중하기 위해 마스크 착용 의무화에 반대할 것이다.

#### 선택지 분석

- ② (가)는 공공의 안전과 공동체의 건강을 위해 마스크 착용을 의무화해야 한다고 볼 것이다. → (나)
- ③ (나)는 마스크 착용 의무가 개인의 자유를 과도하게 제한한다고 볼 것이다. → (가)
- ④ (나)는 불가침의 개인의 권리를 존중하기 위해 마스크 착용을 의무화하면 안 된다고 볼 것이다. → (가)
- ⑤ (가), (나)는 모두 구성원 전체의 이익을 위해 마스크 착용 의무화가 필요하다고 볼 것이다. → (나)

### 14 롤스와 노직의 입장 비교

(1) 갑: 롤스, 을: 노직

(2) **모범 답안** 롤스와 노직은 모두 자유가 가장 중요한 가치라고 주장하였으며, 사회 구성원에게 균등한 기회를 부여했다면 이후 개인의 노력에 따라 발생하는 사회·경제적 불평등은 허용될 수 있다고 보았다. 그러나 롤스는 사회적 약자를 포함한 모두의 이익을 위한 국가의 역할을 인정한 반면, 노직은 개인의 소유 권리를 보호하는 등 제한적 역할만 하는 최소 국가를 지지하였다.

**[주요 내용]** 롤스와 노직이 모두 자유주의 사상가로 자유를 가장 중요한 가치로 보고 공정한 절차에 따른 사회적·경제적 불평등을 인정하였음을 서술하고, 국가의 역할에 대하여 입장의 차이가 있음을 서술해야 함.

채점 기준	배점
롤스와 노직의 사상적 공통점과 차이점을 모두 바르게 서술한 경우	상
롤스와 노직의 사상적 공통점과 차이점 중 한 가지만 서술한 경우	하

### 15 자유주의적 정의관과 공동체주의적 정의관의 적용

**모범 답안** 자유주의적 정의관에서는 독립된 개인을 중시하므로 과거 세대의 잘못에 대해 현세대가 책임질 필요가 없다고 볼 것이다. 반면 공동체주의적 정의관에서는 인간이 공동체와 분리되어 독립적으로 존재할 수 없으므로, 과거 세대의 잘못에 대해 현세대가 책임져야 한다고 볼 것이다.

**[주요 내용]** 자유주의적 정의관은 독립된 개인을 중시하고, 공동체주의적 정의관은 공동체와 분리되어 독립적으로 존재하는 개인은 있을 수 없다고 보므로, 이와 관련하여 책임 문제에 대한 입장을 서술해야 함.

채점 기준	배점
책임 문제에 대한 두 정의관의 입장을 제시하여 네 가지를 모두 사용하여 바르게 서술한 경우	상
책임 문제에 대한 두 정의관의 입장을 제시하여 세 가지를 사용하여 서술한 경우	중
책임 문제에 대한 두 정의관의 입장을 제시하여 두 가지를 사용하여 서술한 경우	하

### 03 사회 및 공간 불평등 현상과 해결 방안

**빠른 정답** ㄴ

**기출 선택지로 개념 확인**

- 01 사회 불평등      02 양극화      03 계층 이동
- 04 공간 불평등    05 성장 거점    06 사회적 약자
- 07 양극화          08 사회 보험    09 공공 부조
- 10 사회 서비스    11 균형 개발    12 과밀화
- 13 적극적 평등, 역차별   14 선입견

**빠른 정답** ㄴ

**실력 UP! 단골 내신 문제**

- 01 ④      02 ②      03 ⑤      04 ⑤      05 ⑤      06 ④
- 07 ⑤      08 ③      09 ②      10 ①      11 ⑤      12 ⑤
- 13 ①      14 ④      15 (1) 해설 참조 (2) 해설 참조
- 16 (1) 적극적 평등 실현 조치 (2) 해설 참조

#### 01 사회 불평등

**정답** ④ A는 사회 불평등이다. ㄷ. 사회 불평등은 사회적 갈등을 유발하고 사회 통합을 저해하여 정의 실현을 가로막는다.

**선택지 분석**

- ㄱ. 역사적 사례로 신분 제도를 들 수 있다.  
→ 조선 시대에는 소수의 특권 계층이 사회적 지위와 경제적 부를 차지하는 것이 당연시되었다.
- ㄴ. 대부분의 사회에서 불가피하게 나타난다.  
→ 사회 구성원이 부, 명예, 권력과 같은 사회적 가치를 원하는 만큼 가질 수 없기 때문에 어느 정도의 불평등 현상은 불가피하게 나타날 수밖에 없다.
- ㄷ. 재산이나 소득과 같은 경제적인 측면뿐만 아니라 다양한 측면에서 나타난다.  
→ 사회 불평등은 교육, 취업, 주거, 여가, 건강 등 다양한 측면에서 나타난다.

#### 02 사회 계층의 양극화

**정답** ② 그래프는 우리나라의 계층 간 월평균 소득 차이로, 경제적 격차를 보여 준다. 계층 간 경제적 격차는 사회 계층의 양극화를 불러와 교육, 취업, 여가 등 다양한 측면의 격차를 유발하며, 사회 계층 간 위화감을 조성한다.

**선택지 분석**

- 을: 선진국과 개발 도상국의 격차가 심해질 수 있습니다.  
→ 선진국과 개발 도상국의 격차는 공간 불평등의 사례에 해당한다.
- 정: 직업에 따른 계층 이동이 활발해져 개방적인 사회 구조가 형성될 수 있습니다.  
→ 개인의 능력과 직업에 따른 계층 이동을 어렵게 하여 폐쇄적인 사회 구조가 형성될 수 있다.

#### 03 성장 거점 개발 방식의 문제점

**정답** ⑤ 성장 거점 개발이란 성장 잠재력이 큰 지역을 집중적으로 육성하고, 이에 따른 성장 이익을 주변 지역으로 파급하여 효과를 확산하는 지역 개발 방식이다. 우리나라는 빠른 경제 성장을 이룩하고

자 성장 가능성이 큰 수도권을 중심으로 성장 거점 개발을 추진하였다. 성장 거점 개발 방식을 통해 수도권과 대도시는 인구가 자본이 유입되어 경제 발전을 이루었지만, 그 외의 지역은 인구가 유출되고 경제가 침체되어 공간 불평등 현상이 나타났다.

#### 04 수도권 집중 현상으로 본 공간 불평등

**정답** ⑤ 표는 수도권과 비수도권 간의 공간 불평등 현상을 나타낸다. 공간 불평등 현상은 지역 간에 사회적·경제적·문화적으로 자원이 불균등하게 분배되어 격차가 발생하는 현상으로 이러한 격차가 나타난 가장 큰 원인으로 성장 거점 개발 정책을 들 수 있다. 또한 공간 불평등은 교육, 문화, 의료 등 생활 환경의 전반적인 불평등으로 이어질 수 있다. 이러한 현상을 완화하기 위해서는 지역 격차 완화 정책이 필요하다.

**오답** ㄱ. 적극적 평등 실현 조치는 오랫동안 사회적으로 차별받아 온 사회적 약자에게 직간접적으로 혜택을 주는 정책이다.

자료	키워드	공간 불평등
의미	지역 간에 사회적·경제적·문화적으로 자원이 불균등하게 분배되어 격차가 발생하는 현상	
사례	선진국과 개발 도상국의 격차, 수도권과 비수도권의 격차, 도시와 촌락의 격차, 도시 지역 내 격차 등	
원인	<ul style="list-style-type: none"> <li>• 자연환경과 생산 요소의 차이</li> <li>• 지역 개발 방식의 차이 ㉠ 성장 거점 개발</li> </ul>	
문제점	<ul style="list-style-type: none"> <li>• 소득, 교육 등 생활 전반에서의 불평등으로 이어짐.</li> <li>• 지역 격차 심화 및 지역 간 갈등으로 사회 통합을 저해함.</li> </ul>	

#### 05 사회적 약자에 대한 차별

**정답** ⑤ 우리 사회에는 장애인, 노인, 여성, 빈곤층 등 다양한 사회적 약자들이 있다. 사회적 약자에 대한 차별은 사회의 주류 집단과 다르다는 비합리적인 이유로 나타난다. 이러한 차별은 사회적 약자의 인간 존엄성과 기본적 권리를 침해할 수 있다. 사회적 약자에 대한 차별을 완화하기 위해서는 적극적 평등 실현 조치가 필요하다.

**선택지 분석**

- 주요 원인은 재산과 소득에 따른 경제적 격차이다.  
→ 사회 계층의 양극화 현상의 주요 원인이다.

#### 06 사회적 약자에 대한 차별 사례

**정답** ④ 여성은 유리 천장에 의해 고위직 진출에 어려움(ㄴ)을 겪고, 노인은 일할 능력이 충분하지만 나이 때문에 부당하게 입사 지원 기회가 제한(ㄷ)되기도 한다. 이처럼 여성, 노인 등의 사회적 약자는 정치적·경제적·사회적으로 차별적인 대우를 받기도 한다.

**선택지 분석**

- ㄱ. 기업이 채용할 때 장애인을 일정 비율 이상 고용한다.  
→ 장애인 의무 고용 제도는 장애인의 취업 기회를 확대하는 적극적 평등 실현 조치에 해당한다.
- ㄷ. 대학 입학 전형에서 농어촌 학생 전형, 기회균등 전형 등을 통해 학생을 선발한다.  
→ 위와 같은 대학 입학 전형은 사회적 약자의 처지를 개선하는 적극적 평등 실현 조치에 해당한다.



## 07 정의로운 사회 실현을 위한 제도적 방안

**정답** ⑤ ㄱ. 공간 불평등을 완화하기 위해서는 균형 개발 정책이 필요하다. ㄴ. 정의로운 사회 실현을 위해서는 사회적 약자가 차별받거나 소외되지 않도록 하는 적극적 평등 실현 조치가 필요하다.

## 08 사회 복지 제도

**정답** ③ (가)는 사회 보험, (나)는 공공 부조, (다)는 사회 서비스이다.

## 09 사회 복지 제도의 특징

**정답** ② 사회 보험은 법률이 정한 기준에 해당하는 사람은 의무적으로 가입(ㄱ)해야 하며, 사회 서비스는 비금전적 지원을 원칙(ㄷ)으로 한다.

**오답** ㄴ. 재산과 소득 등 경제적 능력에 따라 보험료를 부담하는 것은 (가) 사회 보험이다. 사회 보험은 경제적 능력에 따라 보험료를 내지만, 사회적 위험이 발생하였을 때에는 비슷한 수준의 보험 급여를 지급받기 때문에 소득 재분배 효과가 있다. ㄷ. 사회 보험과 공공 부조 모두 소득 재분배 효과가 있다. 다만 공공 부조는 조세 부담 능력이 있는 국민이 낸 세금을 재원으로 하여 전액을 지원하기 때문에 사회 보험보다 소득 재분배 효과가 크다.

### 자료 키워드 우리나라의 사회 복지 제도

사회 보험	<ul style="list-style-type: none"> <li>• 법률이 정한 기준에 해당하는 사람은 의무적으로 가입해야 함.</li> <li>• 소득 재분배 효과가 있음.</li> <li>• 국민연금, 국민 건강 보험, 고용 보험 등</li> </ul>
공공 부조	<ul style="list-style-type: none"> <li>• 조세 부담 능력이 있는 국민이 낸 세금을 재원으로 하고, 전액을 지원하기 때문에 사회 보험보다 소득 재분배 효과가 큼.</li> <li>• 국민 기초 생활 보장 제도, 기초 연금 등</li> </ul>
사회 서비스	<ul style="list-style-type: none"> <li>• 비금전적 지원을 원칙으로 함.</li> <li>• 자활 능력을 길러 줌.</li> <li>• 노인 돌봄 서비스, 장애인 활동 지원 등</li> </ul>

## 10 사회 복지 제도와 적극적 평등 실현 조치

**정답** ① (가)는 사회 복지 제도, (나)는 적극적 평등 실현 조치이다. 사회 복지 제도에는 대표적으로 사회 보험, 공공 부조, 사회 서비스 등이 있다.

### 선택지 분석

- ② (가)는 공간 불평등을 해소하기 위한 제도이다.  
→ 공간 불평등을 해소하기 위한 것은 지역 격차 완화 정책이다.
- ③ (나)의 사례로 공공 기관 지방 이전 정책이 있다.  
→ 공공 기관 지방 이전 정책은 공간 불평등 현상을 완화하기 위한 지역 격차 완화 정책의 사례이다.
- ④ (나)는 업적주의와 자유 경쟁에 따른 보상을 강조한다.  
→ 업적주의와 자유 경쟁에 따른 보상을 강조할 경우 사회적 약자를 배려하지 못해 불평등이 발생할 수 있다. 적극적 평등 실현 조치는 이러한 불평등으로부터 사회적 약자를 보호하고, 이들의 실질적 기회의 평등을 보장해 주는 정책이다.
- ⑤ (가)와 (나) 모두 금전적 지원을 원칙으로 한다.  
→ (가) 사회 복지 제도 중 사회 보험과 공공 부조에만 해당한다.

### 자료 키워드 정의로운 사회를 위한 제도

사회 복지 제도	사회적 약자를 포함한 모든 구성원이 최소한의 인간다운 삶을 살 수 있도록 지원하는 제도로, 사회 계층의 양극화 현상 완화에 도움이 됨. 예) 사회 보험, 공공 부조, 사회 서비스
지역 격차 완화 정책	균형 개발을 추진하여 국토의 균형 발전을 도모하기 위한 정책으로, 공간 불평등 해소에 도움이 됨. 예) 공공 기관 지방 이전 정책, 지역 특성을 살린 지역 발전 전략 등
적극적 평등 실현 조치	오랫동안 사회적으로 차별받아 온 사회적 약자에게 직간접적으로 혜택을 주는 정책으로, 사회적 약자의 실질적 기회의 평등을 보장해 줌. 예) 장애인 의무 고용 제도, 여성 할당제 등

## 11 지역 격차 완화 정책

**정답** ⑤ (가)는 지역 격차 완화 정책이다. 지역 격차 완화 정책은 국토 개발의 효율성보다는 형평성을 추구하며, 소외된 지역의 생활 환경을 개선하고 지역 경제를 활성화하여 공간 불평등을 완화한다. 대표적인 사례로 공공 기관 지방 이전 정책과 장소 마케팅을 들 수 있다.

### 선택지 분석

ㄱ. 국토 개발의 **형평성**보다는 **효율성**을 추구한다. → **효율성보다 형평성**

## 12 여성 할당제

**정답** ⑤ 사례에 공통으로 나타난 제도는 여성 할당제이다. 여성 할당제는 남성 중심 사회에서 사회적으로 구조화된 성 불평등에 대처하기 위한 적극적 평등 실현 조치로, 오늘날 많은 나라에서 여성 할당제를 제한적으로 실시하고 있다.

**오답** ①은 공공 기관 지방 이전 정책과 같은 지역 격차 완화 정책, ②는 초과 이윤세와 같은 과세 제도, ③은 소득 재분배 효과가 있는 다양한 사회 보장 제도, ④는 사회 복지 제도 중 공공 부조에 대한 설명이다.

### 자료 키워드 여성 할당제

- 의미: 남성 중심 사회에서 사회적으로 구조화된 성 불평등에 대처하기 위한 적극적 평등 실현 조치로, 정치·경제 등 각 분야에 필요한 인력 중 일정 비율을 여성에게 할당하는 제도
- 배경: 정치, 공직, 기업의 고위직 등에 여성의 진출이 어려웠기 때문에 이를 교정하기 위해 도입됨.
- 현황: 오늘날 북유럽을 비롯한 많은 나라에서 여성 할당제를 제한적으로 실시하고 있으며, 우리나라에서도 국회 의원 비례 대표 후보자를 추천할 때 일정 비율을 여성에게 배분하는 여성 할당제가 시행되고 있음.

## 13 적극적 평등 실현 조치와 역차별

**정답** ① 소수 인종 우대 정책은 적극적 평등 실현 조치의 일환으로 오랫동안 사회적으로 차별받아 온 사회적 약자에 혜택을 주는 정책이다. 다양한 영역에서 이들에게 혜택을 줌으로써 실질적 평등을 보장할 수 있지만, 역차별 문제가 나타날 수 있다.

### 선택지 분석

- ① 능력에 따른 개인의 성취를 정당하게 평가받을 수 있다.  
→ 소수 인종 우대 정책은 백인과 아시아계 지원자가 능력과 성취에 대해 정당한 평가를 못 받게 하여 역차별을 불러온다는 비판을 받았다.

## 14 정의로운 사회를 위한 시민으로서의 실천 방안

**정답** ④ 정의로운 사회 실현을 위해서는 다양한 불평등 현상에 관심을 가지고 정책을 제안하는 등 해결책을 찾기 위해 노력해야 한다. 또한 사회적 약자에 대한 선입견과 편견을 버리고 공동체 의식을 기반으로 기부, 봉사 활동, 캠페인 등에 참여하여 이들의 자립을 돕기 위해 노력해야 한다.

### 선택지 분석

- ㄹ. 역차별 문제가 발생하지 않도록 사회적 약자에 대한 일정한 선입견과 편견 유지하기  
 → 사회적 약자에 대한 선입견과 편견에서 벗어나 모든 사람을 존중하는 태도를 지니면서 역차별 문제가 발생하지 않도록 유의해야 한다.

## 15 사회 계층의 양극화

(1) **모범 답안** 사회 계층의 양극화, 사회 계층의 양극화를 초래한 경제적 격차는 교육·취업 등 다양한 측면의 격차로 이어질 수 있다. 따라서 부모의 소득 수준이 자녀에게 대물림되어 사회 계층 이동이 어렵게 할 수 있다.  
**[주요 내용]** 사회 계층 양극화 현상이 경제적 격차에 머무르지 않고 교육·취업 등 다양한 측면의 격차로 이어질 수 있음을 서술해야 함.

채점 기준	배점
사회 계층의 양극화를 쓰고, 사회 계층의 양극화 현상이 초래할 문제점을 바르게 서술한 경우	상
사회 계층의 양극화만 쓴 경우	하

(2) **모범 답안** 대학 입학 전형에서의 사회적 배려 대상자 전형, 기회균등 전형 등과 같은 적극적 평등 실현 조치가 소득 격차에 따른 대학 진학의 격차를 줄일 수 있다. 또한 다양한 사회 복지 제도도 사회 계층의 양극화 현상을 완화하여 이러한 격차를 줄이는 데 도움이 된다.  
**[주요 내용]** 대학 입학 전형에서의 적극적 평등 실현 조치와 사회 복지 제도가 사회 계층의 양극화 현상을 완화할 수 있음을 서술해야 함.

채점 기준	배점
대학 입학 전형에서의 적극적 평등 실현 조치와 사회 복지 제도가 사회 계층의 양극화 현상을 완화할 수 있음을 바르게 서술한 경우	상
소득 격차에 따른 대학 진학 격차를 줄이는 것과 관련이 적은 방안을 서술한 경우	하

## 16 장애인 의무 고용 제도

(1) 적극적 평등 실현 조치  
 (2) **모범 답안** 부당하게 받는 차별을 시정하기 위한 적극적 평등 실현 조치에 따른 혜택의 정도가 과도하면 비대상자에 대한 역차별의 문제가 발생할 수 있으므로 이에 대한 사회적 합의가 필요하다.  
**[주요 내용]** 적극적 평등 실현 조치를 시행할 경우 역차별의 문제가 발생할 수 있어 사회적 합의가 필요함을 서술해야 함.

채점 기준	배점
역차별이라는 용어를 사용하여 서술한 경우	상
역차별이라는 용어를 사용하지 않고 서술한 경우	하

# III

## 시장경제와 지속가능발전

60~63쪽

### 01 자본주의의 역사적 전개와 시장과 정부의 관계

#### 빠른 정답

#### 기출 선택지로 개념 확인

- |            |            |           |
|------------|------------|-----------|
| 01 자본주의    | 02 사적 이익   | 03 신자유주의  |
| 04 상업 자본주의 | 05 산업 혁명   | 06 애덤 스미스 |
| 07 대공황     | 08 수정 자본주의 | 09 석유 파동  |
| 10 신자유주의   | 11 경제 체제   | 12 시장 원리  |
| 13 계획경제    | 14 시장경제    | 15 형평성    |
| 16 혼합 경제   | 17 상호 보완   |           |

#### 빠른 정답

#### 실력 UP! 단골 내신 문제

- |                        |      |      |          |      |      |
|------------------------|------|------|----------|------|------|
| 01 ③                   | 02 ⑤ | 03 ③ | 04 ②     | 05 ③ | 06 ⑤ |
| 07 ①                   | 08 ② | 09 ⑤ | 10 ③     | 11 ② | 12 ③ |
| 13 (1) 해설 참조 (2) 해설 참조 |      |      | 14 해설 참조 |      |      |

### 01 자본주의의 의미와 특징

**정답** ③ ㄴ, ㄷ. 자본주의는 사유 재산 제도를 바탕으로 시장을 통해 경제의 기본 문제를 해결하는 경제 원리로, 경제 주체가 사적 이익을 추구하는 과정에서 자연스럽게 사회 전체의 이익도 증가한다고 본다.

#### 선택지 분석

- ㄱ. 사유 재산 제도를 인정하지 않는다. → 인정한다.  
 ㄷ. 경제 주체가 사적 이익을 추구하면 사회 전체의 이익과 반드시 충돌한다고 본다.  
 → 경제 주체가 사적 이익을 추구하는 과정에서 자연스럽게 사회 전체의 이익도 증가한다고 본다.

### 02 애덤 스미스의 경제 사상

**정답** ⑤ 애덤 스미스는 시장의 가격 기능을 '보이지 않는 손'에 비유하여 개인의 자유로운 경제 활동을 보장하고 시장에 대한 국가의 간섭을 최소화하는 자유방임주의를 주장하였다. 이는 산업 자본주의 국가가 국가의 시장 개입을 최소화하는 작은 정부를 추구하는 배경이 되었다.

#### 선택지 분석

- ① 갑: 19세기 말 대규모 독점 자본이 출현하자 주장하였어. → 수정 자본주의에 대한 설명이다.  
 ② 을: 대규모 공공사업과 복지 정책에 찬성하는 입장이다. → 애덤 스미스는 국가의 간섭을 최소화할 것을 주장하였다.  
 ③ 병: 국가가 적극적으로 시장에 개입해야 한다고 보고 있어. → 수정 자본주의에 대한 설명이다.  
 ④ 정: 절대 왕정 국가들이 중상주의 정책을 추진하는 배경이 되었어. → 상업 자본주의에 대한 설명이다.



### 03 자본주의의 전개 과정

**정답** ③ (가)는 산업 자본주의, (나)는 수정 자본주의와 관련 있다. 산업 자본주의 시기에는 작은 정부를, 수정 자본주의 시기에는 큰 정부를 지향하였다.

#### 자료 분석



(가) 산업 혁명으로 대량 생산이 가능해져 생산 과정에서 이윤을 얻는 산업 자본주의가 성장함.  
(나) 대공황 시기에 많은 기업들이 문을 닫으면서 미국 노동자 네 명 중 한 명이 실업자가 되었음.

### 04 수정 자본주의와 신자유주의

**정답** ② 갑의 입장은 수정 자본주의, 을의 입장은 신자유주의와 관련 있다. 갑은 정부의 적극적인 시장 개입을 주장하므로 복지 제도의 확대에 찬성할 것이다.

#### 선택지 분석

- ① 갑은 생산 수단의 국유화를 주장한다.  
→ 계획경제 체제에 대한 설명이다.
- ③ 을은 작은 정부보다 큰 정부를 추구한다.  
→ 큰 정부보다 작은 정부
- ④ 을은 계획경제 체제의 채택을 주장할 것이다.  
→ 시장 원리에 따른 경제 문제의 해결
- ⑤ 갑은 을과 달리 '보이지 않는 손'의 원리를 인정한다.  
→ 갑과 을은 모두

### 05 자본주의의 전개 과정

**정답** ③ ㉠ 자본주의는 '상업 자본주의 → 산업 자본주의 → 수정 자본주의 → 신자유주의' 순으로 전개되어 왔다. ㉡ 애덤 스미스의 '보이지 않는 손'은 산업 자본주의와 관련 있다.

### 06 실업 문제 해결을 위한 경제학자의 주장

**정답** ⑤ 케인스는 국가가 시장 실패를 해결하기 위해 적극적으로 시장에 개입해야 한다는 수정 자본주의를 주장하였다. 케인스의 입장에서 실업 문제를 해결하기 위해서는 정부가 공공사업 및 복지 정책 등을 실시하여 적극적으로 시장에 개입해야 한다.

### 07 계획경제 체제

**정답** ① ㄱ, ㄴ. 갑국의 경제 체제는 계획경제 체제이다. 계획경제 체제는 정부의 계획과 통제에 따라 자원의 생산과 배분이 결정되며, 정부가 생산 수단의 대부분을 소유하고 경제 문제에 대한 의사 결정을 한다. 또한 계획경제 체제는 분배의 형평성을 실현하고자 한다.

**오답** ㄷ, ㄹ. 시장경제 체제에 대한 설명이다.

### 08 계획경제 체제의 특징

**정답** ② 계획경제 체제에서는 정부가 생산 수단을 소유하며, 개인의 자유로운 경제 활동이 제한된다. 또한 경제 활동에 참여할 유인이 적어 개인의 창의성과 노동 의욕을 떨어뜨리지만, 빈부 격차의 문제는 완화된다.

#### 선택지 분석

- 개인은 자유롭게 이익을 추구한다.  
→ 시장경제 체제에 대한 설명이다.
- 빈부 격차의 문제가 심화된다.  
→ 시장경제 체제에 대한 설명이다.

### 09 시장경제 체제와 계획경제 체제

**정답** ⑤ '보이지 않는 손'에 의한 자원 배분을 강조하는 경제 체제는 시장경제 체제이고, 정부의 계획과 통제에 따라 경제 문제를 해결하는 경제 체제는 계획경제 체제이다. 따라서 A는 시장경제 체제, B는 계획경제 체제이다. 시장경제 체제에서는 계획경제 체제와 달리 경제 주체가 경제 활동에 참여할 유인이 강하다. 따라서 해당 질문은 (가)에 들어갈 수 있다.

#### 자료 키워드 보이지 않는 손

애덤 스미스는 《국부론》에서 '보이지 않는 손'으로 수요와 공급을 조절하는 시장의 가격 기능 또는 작동 원리를 은유적으로 표현하였다.

### 10 시장경제 체제의 특징

**정답** ③ 기업이 소비자의 수요가 증가하자 상품의 생산량을 늘리는 사례와 경쟁 기업이 증가하자 가격을 조정하는 사례는 모두 경제 주체가 시장 가격에 따라 자유롭게 의사 결정을 함으로써 경제 문제를 해결하는 시장경제 체제의 특징을 보여 준다.

#### 선택지 분석

- ① 갑: 다양한 원인 때문에 빈부 격차가 발생해요.  
→ 시장경제 체제의 단점으로, 제시된 사례와는 관련이 없다.
- ② 을: 자원의 집중을 막아 분배의 평등을 실현해요.  
→ 계획경제 체제에 대한 설명이다.
- ④ 정: 급격한 경기 변동에 따라 경제적 불안정을 겪을 수 있어요.  
→ 시장경제 체제의 단점으로, 제시된 사례와는 관련이 없다.
- ⑤ 무: 중앙 정부가 재화나 서비스를 얼마나 생산할지를 결정해요.  
→ 계획경제 체제에 대한 설명이다.

### 11 우리나라의 경제 체제

**정답** ② 우리나라는 시장경제 체제를 기본으로 하면서, 계획경제 체제의 요소를 일부 받아들인 혼합 경제 체제를 채택하고 있다.

#### 자료 키워드 우리나라 경제 체제의 특징

- 우리나라는 시장경제 체제를 기본으로 하면서도 계획경제 체제의 요소가 포함된 혼합 경제 체제를 채택하고 있음.
- 헌법 제119조 제1항: 개인과 기업의 경제적 자유를 중시하는 시장경제 체제의 특징이 나타남.
- 헌법 제119조 제2항: 필요한 경우 국가가 경제와 관련한 규제 등의 정책을 실시하는 계획경제 체제의 요소가 나타남.

## 12 계획경제 체제의 특징

**정답** ③ 우리나라 헌법 제119조 제2항은 국민 경제의 성장 및 안정, 소득 분배, 공정한 경쟁, 경제 주체 간의 조화 등을 위해 정부가 경제에 관한 규제와 조정을 한다는 계획경제 체제의 요소를 포함하고 있다. 나. 정부는 공정한 경쟁을 위해 담합 등 불공정 경쟁을 규제한다. 다. 경기가 침체되면 회복을 위해 정부가 시장에 적극 개입하여 경제 문제를 해결한다.

**오답** 가, 라. 헌법 제119조 제1항과 관련 있는 시장경제 체제 요소의 사례이다.

## 13 자본주의의 역사적 전개 과정과 경제학자

(1) **모범 답안** 국가의 시장 개입을 최소화하는 작은 정부를 추구한다.  
**【주요 내용】** 국가의 시장 개입을 최소화하는 작은 정부를 추구한다는 내용을 서술해야 함.

채점 기준	배점
국가의 시장 개입 최소화과 작은 정부 추구를 모두 포함하여 서술한 경우	상
작은 정부 추구만 서술한 경우	하

(2) **모범 답안** 대공황 시기에 많은 실업자가 발생하자 미국에서는 대규모 공공사업을 추진하여 실업자를 구제하고 경제를 회복시키는 뉴딜 정책을 실시하였다.  
**【주요 내용】** 제시된 조건을 모두 포함하여 대공황 시기 대규모 공공사업을 추진하는 뉴딜 정책 시행을 통해 경제 문제를 해결했다는 내용을 서술해야 함.

채점 기준	배점
제시된 조건 세 가지를 모두 포함하여 서술한 경우	상
제시된 조건 두 가지만 포함하여 서술한 경우	중
제시된 조건 한 가지만 포함하여 서술한 경우	하

## 14 중국의 계획경제 체제

**모범 답안** 중국의 계획경제 체제는 생산 동기가 부족하고 적극적인 경제 활동을 하지 않아 경제 활동의 효율성이 떨어져 시장경제 체제의 요소를 도입하였다.

**【주요 내용】** 계획경제 체제는 생산 동기가 부족하고 적극적인 경제 활동을 하지 않아 경제 활동의 효율성이 낮다는 내용을 서술해야 함.

채점 기준	배점
생산 동기 부족과 경제 활동의 효율성이 낮다는 내용을 모두 포함하여 서술한 경우	상
생산 동기 부족과 경제 활동의 효율성이 낮다는 내용 중 한 가지만 포함하여 서술한 경우	하

## 02 경제 주체의 합리적 선택과 역할

### 빠른 정답

### 기출 선택지로 개념 확인

- 01 희소성
- 02 비용
- 03 편익
- 04 암묵적
- 05 시장 실패
- 06 담합
- 07 비경합성
- 08 공공재
- 09 부정적
- 10 지속가능발전
- 11 독과점
- 12 이윤
- 13 기업이 정신
- 14 사회적 책임
- 15 노동 3권
- 16 단결권
- 17 윤리적 소비

### 빠른 정답

### 실력 UP! 단골 내신 문제

- 01 ③
- 02 ②
- 03 ⑤
- 04 ③
- 05 ④
- 06 ②
- 07 ①
- 08 ④
- 09 ⑤
- 10 ⑤
- 11 ④
- 12 ④
- 13 ②
- 14 (1) 해설 참조 (2) 해설 참조
- 15 (1) 해설 참조 (2) 해설 참조

### 01 합리적 선택

**정답** ③ 합리적 선택이란 가장 적은 비용으로 가장 큰 편익을 얻을 수 있도록 선택하는 것이며, 기회비용을 고려해야 한다. 기회비용은 직접 지출된 비용인 명시적 비용과 선택으로 인해 포기한 대안의 가치인 암묵적 비용의 합이다.

**오답** ②, ④ 매물 비용은 이미 지출하여 회수할 수 없는 비용으로, 합리적 선택을 할 때에는 고려해서는 안 된다.

### 02 합리적 선택

**정답** ② 가. (가)는 선택을 할 때 지불한 명시적 비용에 해당한다. 다. 갑의 대학 진학에 따른 기회비용은 학비 2,000만 원(명시적 비용) + 교재비 200만 원(명시적 비용) + 회사에 들어갔을 때 4년 동안 얻을 소득 4,000만 원(암묵적 비용)으로 6,200만 원이다.

#### 선택지 분석

- 나. (다)는 매물 비용에 해당한다.  
→ 선택으로 인해 포기한 대안의 가치인 암묵적 비용에 해당한다.
- 라. 갑은 대학 진학에 따른 편익이 (가)와 (나)의 합보다 크다고 판단했다. → (가) + (나) + (다)

### 03 매물 비용

**정답** ⑤ 제시된 사례는 매물 비용과 관련 있다. 돈이나 노력, 시간 등을 투자하는 과정에서 손실이나 실패로 이어질 것을 알면서도 그동안 쓴 비용과 시간 등의 매물 비용이 아까워 그만두지 못하는 잘못된 경제적 행동을 보여 준다.

#### 선택지 분석

- ① 갑: 투자한 비용이 아까우므로 사업을 계속해야 해.  
→ 투자한 비용은 회수할 수 없으므로 고려해서는 안 된다.
- ④ 정: 사업에 투자할지를 결정할 때에는 명시적 비용만을 고려하면 돼. → 명시적 비용뿐만 아니라 암묵적 비용을 함께

## 04 합리적 선택

**정답** ③ ㉠은 여행을 갈 경우 발생하는 명시적 비용이고, ㉡은 여행을 갈 경우 발생하는 암묵적 비용이다. 따라서 여행을 갈 경우의 기회비용에는 ㉠과 ㉡이 포함된다.

### 선택지 분석

- ① ㉠은 **매물 비용**에 해당한다.  
→ 명시적 비용
- ② ㉡은 여행을 갈 경우 발생하는 **암묵적 비용**이다.  
→ 명시적 비용
- ④ ㉢의 상황이 발생하는 이유는 **자원이 무한하기** 때문이다.  
→ 자원의 희소성
- ⑤ 갑의 결정이 합리적 선택이 되려면 여행의 편익이 **10만 원**보다 커야 한다. → 22만 원

## 05 시장 실패와 공공재

**정답** ④ 댐은 비배제성과 비경합성의 특징을 가진 공공재이다. 공공재의 공급을 시장의 기능에 맡길 경우 사회가 필요로 하는 양만큼 충분히 공급되지 않는다.

### 자료 키워드 공공재

공공재는 무료 도로, 국방, 치안 등 다수의 사람이 공동으로 소비할 수 있는 재화나 서비스를 의미하며 비경합성과 비배제성의 특징이 있다. 비경합성은 많은 사람이 같은 재화와 서비스를 동시에 소비할 수 있고 한 개인의 소비가 다른 사람의 소비를 감소시키지 않는 특성이고, 비배제성은 재화나 서비스에 대가는 내지 않아도 그 소비를 배제시킬 수 없는 특성이다. 공공재는 공공재의 혜택을 보더라도 비용을 지불하지 않으려는 무임승차자 문제가 발생한다.

## 06 외부 효과

**정답** ② (가)는 긍정적 외부 효과, (나)는 부정적 외부 효과의 사례이다. ㄴ. 외부 효과가 발생했다는 것은 시장 실패를 의미하므로 (가)는 시장 실패의 사례에 해당한다. ㄷ. 아파트의 층간 소음은 부정적 외부 효과의 사례에 해당한다.

### 선택지 분석

- ㄱ. (가)는 **부정적** 외부 효과의 사례이다.  
→ 긍정적
- ㄷ. (나)의 상황은 사회적으로 적정 수준보다 **적게** 나타난다.  
→ 많이

### 자료 키워드 외부 효과

- 외부 효과: 어떤 경제 활동이 다른 경제 주체에게 의도하지 않은 이득이나 손해를 주면서도 보상이 이루어지지 않는 경우 외부 효과가 발생한다.
- 긍정적 외부 효과(외부 경제): 타인에게 의도치 않은 이득을 주고도 이에 관한 대가를 받지 않는 상태로, 대표적인 사례에는 예방 접종이 있다.
- 부정적 외부 효과(외부 불경제): 타인에게 의도치 않은 손해를 끼치고도 이에 관한 대가를 지불하지 않는 상태로, 대표적인 사례에는 환경 오염이 있다.

## 07 지속가능한 발전

**정답** ① 제시된 법은 <지속가능발전 기본법>이다. 지속가능발전은 경제 주체가 자신의 사적 이익과 경제적 효율성만을 지나치게 추구할 경우 발생하는 사회문제를 해결하기 위한 발전 방안이다.

### 자료 키워드 지속가능발전 기본법

- 제1조 이 법은 경제·사회·환경의 균형과 조화를 통하여 지속가능한 경제 성장, 포용적 사회 및 기후·환경 위기 극복을 추구함으로써 현재 세대는 물론 미래 세대가 보다 나은 삶을 누릴 수 있도록 하고 국가와 지방 나아가 인류 사회의 지속가능발전을 실현하는 것을 목적으로 한다.
- 제2조 이 법에서 사용하는 용어의 뜻은 다음과 같다.
1. '지속가능성'이란 현재 세대의 필요를 충족시키기 위하여 미래 세대가 사용할 경제·사회·환경 등의 자원을 낭비하거나 여건을 저하(低下)시키지 아니하고 이들이 서로 조화와 균형을 이루는 것을 말한다.
  2. '지속가능발전'이란 지속가능한 경제 성장과 포용적 사회, 깨끗하고 안정적인 환경이 지속가능성에 기초하여 조화와 균형을 이루는 발전을 말한다.
  3. '지속가능한 경제 성장'이란 지속가능한 생산·소비 구조 및 사회 기반 시설을 갖추고, 산업이 성장하며 양질의 일자리가 증진되는 등 경제 성장의 산물이 모든 구성원에게 조화롭게 분배되는 것을 말한다.

## 08 경제 주체의 역할

**정답** ④ ㉠은 기업, ㉡은 노동자, ㉢은 정부이다. ㄱ. 기업은 이윤 극대화를 추구한다. ㄷ. 정부는 시장 실패 등 시장경제 원리만으로는 해결하기 어려운 문제가 발생할 경우 이를 보완하기 위한 방안을 마련한다. ㄷ. 기업과 노동자는 상호 협력적인 상생 관계를 유지해야 한다.

### 선택지 분석

- ㄴ. ㉡은 혁신을 이루려는 기업이 정신을 적극적으로 발휘해야 한다. → ㉠

## 09 정부의 역할

**정답** ⑤ 제시된 사례에는 과점 기업 간에 발생한 담합과 같은 불공정 경쟁을 규제하는 정부의 역할이 나타나 있다. 정부는 시장에서 공정한 경쟁이 이루어질 수 있도록 법과 제도를 마련하여 독과점 기업을 규제하고 공정 거래 위원회와 같은 기관을 설립·운영한다.

**오답** ①, ②, ③ 정부의 역할이지만, 제시된 사례와 관련이 없다. ④ 기업의 역할에 해당한다.

## 10 소비자의 역할

**정답** ⑤ 첫 번째 사례에서는 동물 실험을 하지 않은 화장품을 구입하여 동물을 보호하려는 갑의 노력이 나타나 있다. 두 번째 사례에는 일회용품 대신 개인 컵을 이용하여 쓰레기를 줄이려는 을의 노력이 나타나 있다. 따라서 제시된 사례는 모두 소비자의 윤리적 소비에 해당한다.

**오답** ① 노동자의 역할에 대한 설명이다. ②, ③ 합리적 소비에 대한 설명이다. ④ 창조적 파괴는 기업이 정신의 핵심이며 혁신을 의미한다.

### 11 기업의 사회적 책임

**정답** ④ 제시된 사례는 소수의 아픈 아기를 위해 특수 분유를 생산하는 기업의 사례로, 사회 구성원들과 환경에 대한 책임감을 가지고 협력하여 지속가능발전에 기여하려는 기업의 사회적 책임이 나타나 있다.

### 12 지속가능발전을 위한 경제 주체의 역할

**정답** ④ 갑, 병, 정. 환경 오염을 해결하기 위해서는 여러 경제 주체가 자신의 역할과 책임을 다해야 한다. 정부는 경제적 유인책을 통해 부정적 외부 효과를 줄이는 등 환경 오염을 방지할 수 있고, 소비자는 친환경 상품을 구매하여 환경을 보호할 수 있다. 노동자는 기업과 협력하여 친환경적으로 상품을 생산하며, 기업은 친환경 설비를 마련하여 환경 오염 물질의 배출량을 감소시키기 위한 노력을 할 수 있다.

#### 선택지 분석

을. 기업은 생산 비용을 줄이는 설비를 마련해요.  
→ 기업은 오염 물질 배출을 줄일 수 있는 친환경 설비를 마련해야 한다.

### 13 기업과 노동자의 역할

**정답** ② 제시된 사례에는 노동자와 기업이 서로 협동하여 안전한 근로 환경을 마련하고, 정기적인 노사 협의회를 통해 경영상 주요 사항을 결정하는 모습이 나타나 있다. 이는 노동자와 기업이 협력하고 상생 관계를 형성하여 공동 목표 달성을 위해 노력하는 것이다.

#### 선택지 분석

- ① 노동자는 자신의 이익만을 추구한다.  
→ 노동자는 자신의 이익뿐만 아니라 사용자와의 협력을 통해 공동의 목표를 달성하고자 노력해야 한다.
- ③ 정부는 노동자의 권익을 법적으로 보장한다.  
→ 노동자의 권익을 보호하기 위한 정부의 역할에 대한 설명이다.
- ④ 기업은 최대 이윤 창출을 위해 창의적 정신을 발휘한다.  
→ 기업이 정신에 대한 설명이다.
- ⑤ 소비자는 상품을 구입할 때 낮은 가격만을 중요시한다.  
→ 소비자는 상품을 구입할 때 가격뿐만 아니라 자신의 소비가 사회에 미치는 영향을 윤리적으로 고려해야 한다.

### 14 합리적 선택과 기회비용

- (1) 음식점 개업에 따른 기회비용은 명시적 비용인 2억 5천만 원과 암묵적 비용인 6천만 원을 합한 3억 1천만 원이다.
- (2) **모범 답안** 갑이 음식점을 개업한다면 수입은 3억 원이고, 기회비용은 3억 1천만 원이다. 따라서 음식점 운영을 선택했을 때의 편익이 기회비용보다 작으므로 호텔 주방장을 그만두지 않는 것이 합리적 선택이다.

#### 자료 분석

예상 수입	예상 비용
3억 원	2억 5천만 원

→ 음식점 개업에 따른 기회비용: 명시적 비용(2억 5천만 원) + 암묵적 비용(음식점을 개업하지 않고 호텔 주방장으로서 받을 수 있는 연봉 6천만 원) = 3억 1천만 원

**[주요 내용]** 음식점을 개업했을 때의 편익과 기회비용을 고려한 합리적 선택 방안을 서술해야 함.

채점 기준	배점
음식점 개업 시 편익과 기회비용을 근거로 합리적 선택 방안을 서술한 경우	상
합리적 선택 방안만 서술한 경우	하

### 15 지속가능발전을 위한 경제 주체의 역할

- (1) **모범 답안** 이윤을 추구하는 과정에서 환경 오염, 자원 고갈을 일으켜 미래 세대의 필요를 고려하지 않고 있다.  
**[주요 내용]** 지속가능발전의 의미를 알고 미래 세대의 필요를 고려하지 않고 있음을 서술해야 함.

채점 기준	배점
지속가능발전의 의미와 관련하여 문제점을 서술한 경우	상
지속가능발전의 의미와 관련하여 문제점을 서술하였으나 내용이 미흡한 경우	하

- (2) **모범 답안** 자신의 소비가 환경에 미치는 영향을 고려하여 아보카도 소비를 줄이고 다른 대체 식품을 찾는 등 윤리적 소비를 위해 노력한다.  
**[주요 내용]** 윤리적 소비와 관련하여 소비자의 역할에 대해 서술해야 함.

채점 기준	배점
윤리적 소비와 관련하여 소비자의 역할을 서술한 경우	상
윤리적 소비와 관련하여 소비자의 역할을 서술하였으나 내용이 미흡한 경우	하



### 03 금융 생활과 의사 결정

#### 빠른 정답

#### 기출 선택지로 개념 확인

- |          |          |          |
|----------|----------|----------|
| 01 예금    | 02 채권    | 03 주식    |
| 04 펀드    | 05 연금    | 06 자산 관리 |
| 07 안전성   | 08 수익성   | 09 유동성   |
| 10 포트폴리오 | 11 재무 목표 | 12 생애 주기 |
| 13 금리    | 14 물가    | 15 환율    |
| 16 수익성   | 17 온실가스  |          |

#### 빠른 정답

#### 실력 UP 단골 내신 문제

- |          |                                      |      |      |      |      |
|----------|--------------------------------------|------|------|------|------|
| 01 ②     | 02 ⑤                                 | 03 ⑤ | 04 ② | 05 ③ | 06 ③ |
| 07 ③     | 08 ②                                 | 09 ⑤ | 10 ④ | 11 ① | 12 ② |
| 13 ②     | 14 (1) A, 주식, B, 채권, C, 예금 (2) 해설 참조 |      |      |      |      |
| 15 해설 참조 | 16 해설 참조                             |      |      |      |      |

#### 01 금융 자산

**정답** ② 제시된 힌트와 관련 있는 금융 상품은 주식이다. 주식 투자는 예금에 비해 높은 수익을 기대할 수 있지만, 원금을 손실할 위험이 커서 안전성이 낮다.

#### 선택지 분석

- ① 원금을 잃을 가능성이 낮아 안전성이 높다.  
→ 주식은 수익성이 높지만 원금을 잃을 수 있으므로 안전성이 낮다.
- ③ 노년기에 주요 자산으로 선택하는 것이 적절하다.  
→ 주식은 안전성이 낮으므로 소득에 비해 소비가 큰 노년기에 주요 자산으로 선택하는 것은 적절하지 않다.
- ④ 실물 자산에 비해 거래하기가 어려워 유동성이 낮다.  
→ 실물 자산이란 금융 자산을 제외한 자산으로 토지, 건물, 자동차 등과 같이 형태가 있는 자산을 말한다. 주식은 실물 자산에 비해 현금으로 전환하기가 쉬워 유동성이 높다.
- ⑤ 정해진 이자를 기대하고 금융 기관에 돈을 맡기는 것이다.  
→ 예금에 대한 설명이다.

#### 02 금융 자산

**정답** ⑤ A는 채권, B는 정기 적금, C는 연금이다. 정기 적금은 채권에 비해 안전성이 높고, 연금에 비해 현금으로 전환하기 쉬우므로 유동성이 높다.

#### 선택지 분석

- ① 갑: A는 예금자 보호법에 따라 보호를 받습니다.  
→ 예금자 보호법에 따라 보호를 받는 금융 상품은 정기 적금이다.
- ② 을: B는 만기일 이전에 다른 사람에게 팔 수 있습니다.  
→ 만기일 이전에 다른 사람에게 팔 수 있는 금융 상품은 채권이다.
- ③ 병: C는 정기 적금입니다. → 연금
- ④ 정: A는 B, C와 달리 투자자에게 배당금을 지급합니다.  
→ 투자자에게 배당금을 지급하는 금융 상품은 주식이다.

#### 03 자산 관리의 필요성

**정답** ⑤ 일생 동안 소득과 소비가 일정하지 않기 때문에 경제적으로 지속가능한 생활을 유지하기 위해 자산 관리가 필요하다. 특히, 평균 수명의 연장으로 은퇴 이후의 생활을 대비해야 하고, 뜻밖의 사고나 질병 등으로 인한 예기치 못한 지출에도 대비해야 한다. 따라서 벌어들인 소득을 언제 얼마만큼 소비할지 계획을 세우고, 미래에 예상되는 지출을 대비하기 위한 자산 관리가 필요하다. 금융 자산을 잘 관리하려면 자산 관리 원칙을 고려하여 금융 자산을 배분하는 포트폴리오를 구성해야 한다.

#### 04 자산 관리의 기본 원칙

**정답** ② (가)는 안전성, (나)는 유동성, (다)는 수익성이다. 채권은 만기일이 정해져 있는 반면, 요구불 예금은 수시로 입출금이 가능하다. 따라서 채권은 요구불 예금에 비해 유동성이 낮다.

**오답** ① 안전성은 주식 < 채권 < 예금의 순으로 높다. ③ 일반적으로 안전성이 높을수록 수익성은 낮다. ④ (가)는 안전성, (나)는 유동성, (다)는 수익성이다. ⑤ 자산을 잘 관리하기 위해서는 안전성, 수익성, 유동성을 모두 고려해야 한다.

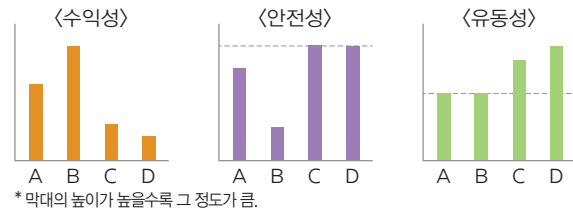
#### 05 금융 자산의 특징과 자산 관리의 기본 원칙

**정답** ③ ㄱ. 수익성이 가장 높고 안전성이 가장 낮은 B는 주식, 유동성이 가장 높은 D는 요구불 예금, 안전성이 요구불 예금과 같은 C는 저축성 예금, 유동성은 낮은 편이지만 수익성은 높은 편인 A는 채권이다. ㄴ. 원금 손실의 위험을 기피하는 투자자일수록 안전성이 높은 금융 상품을 선호한다. 따라서 B보다 A를 선호할 것이다.

#### 선택지 분석

- ㄴ. 환금성을 중시하면 D보다 C를 선호할 것이다.  
→ C보다 D

#### 자료 분석



→ 수익성이 가장 높은 B가 주식이다. B보다 수익성은 낮지만, 안전성이 높은 A는 채권이다. 안전성이 같은 C와 D는 예금에 해당하지만, D는 C보다 유동성이 높으므로 요구불 예금이고 상대적으로 유동성이 낮은 C는 저축성 예금이다.

#### 06 합리적 자산 관리

**정답** ③ ㄴ. 노후를 대비한 금융 상품은 연금이다. 연금의 투자 비중은 을 50%, 병 10%이다. 따라서 을은 병에 비해 노후 대비용 금융 상품을 선호한다. ㄷ. 주식의 투자 비중은 병이 80%, 정이 40%이다. 따라서 병은 정에 비해 금융 상품을 선택할 때 수익성을 중시한다.

**오답** ㄱ. 제시된 자료에는 투자 총액에 대한 정보가 나타나 있지 않다. ㄴ. 정.의 자산에서 예금이 차지하는 비중은 30%, 주식이 차지하는 비중은 40%이다. 갑.의 자산에서 예금이 차지하는 비중은 70%이고, 주식이 차지하는 비중은 0%이다. 따라서 정은 갑에 비해 수익성이 높은 금융 상품의 비중이 더 높다.

**자료 분석**

갑은 자산의 70%가 예금에 가입되어 있으므로 안전성을 중시함.

(단위: %)

구분	예금	연금	주식
갑	70	30	0
을	30	50	20
병	10	10	80
정	30	30	40

을은 연금의 비중이 가장 높으므로 노후를 대비하는 금융 상품을 선호함.  
병은 자산의 80%를 주식에 투자하고 있으므로 수익성을 중시함.

**07 생애 주기별 금융 생활 설계**

**정답** ③ (가)는 유소년기, (나)는 청년기, (다)는 중년기, (라)는 장년기, (마)는 노년기에 해당한다. (다)는 생활비나 자녀 교육비로 지출이 많지만, 소득이 가장 크기 때문에 수입이 지출보다 많은 시기이다.

**선택지 분석**

- ① (가) 시기에는 주로 부모님의 수입에 의존하다.  
→ (가) 유소년기는 부모의 도움에 의존하는 시기이다.
- ② (나) 시기에는 취업을 시작하여 소득이 발생한다.  
→ (나) 청년기는 취업과 함께 경제 활동을 시작하지만, 소득이 적어 자립 기반이 취약하다.
- ④ (라) 시기는 은퇴 자금을 준비하고 노후를 대비하기 위한 자산 설계가 필요한 시기이다.  
→ (라) 장년기는 왕성하게 경제 활동을 하는 시기로 노후 준비 등이 필요하다.
- ⑤ (마) 시기는 소득 감소와 건강 관리에 따른 지출 증가로 경제적 어려움을 겪을 수 있는 시기이다.  
→ (마) 노년기는 은퇴하면서 경제 활동과 소득이 크게 감소한다.

**08 합리적 자산 관리와 금융 생활 설계**

**정답** ② ㄱ, ㄴ. 갑은 자산을 선택할 때 주식의 위험성을 고려하지 않고 주식이라는 하나의 자산에만 집중적으로 투자하였다. 따라서 갑은 안전성과 수익성 등을 고려하여 다양한 형태의 자산을 적절히 분산하여 운용하는 합리적인 자산 관리를 하지 않았다.

**선택지 분석**

- ㄴ. 자산을 단기적으로 운용해야 함을 간과하였다.  
→ 자산의 단기적 운용을 간과했다는 알 수 없다.
- ㄴ. 자산 관리의 원칙 중 안전성만을 중시한 결과이다. → 수익성

**자료 키워드 합리적 자산 관리 방법**

금융 자산의 특징 및 안전성, 수익성, 유동성의 자산 관리 원칙 등을 고려하여 다양한 자산에 자금을 배분하는 포트폴리오를 구성해야 함.

**09 금융 생활의 설계**

**정답** ⑤ (가)는 재무 목표 설정, (나)는 재무 상태 분석, (다)는 재무 행동 계획 수립, (라)는 재무 행동 계획 실행, (마)는 재무 실행 평가와 수정에 해당한다. (마)에서 갑은 소득 변화가 아니라 경제 환경 변화에 따라 재무 행동 계획을 수정하였다.

**자료 분석**

- (가) 사용한 지 오래된 냉장고와 세탁기를 교체하려고 한다. → 재무 목표 설정
- (나) 현재 가지고 있는 자산 규모, 월별 수입과 지출 내역 등을 파악하였다.  
→ 재무 상태 분석
- (다) 가전 제품 구입 비용을 마련하기 위해 만기가 짧은 예·적금 상품에 가입하기로 하였다. → 재무 행동 계획 수립
- (라) 성과급과 월급의 10%를 각각 6개월 만기인 정기 예금과 정기 적금 상품에 넣었다. → 재무 행동 계획 실행
- (마) 금리가 낮아지고 주가가 상승하고 있어 정기 예금 상품을 해지하고 주식을 매수하였다. → 재무 실행 평가와 수정

**10 경제적 환경 변화와 금융 의사 결정**

**정답** ④ 을. 금리가 하락하면 예금보다 주식과 같은 수익성이 높은 금융 자산에 대한 투자가 증가할 수 있다. 정. 세계 경제가 급격하게 침체하면 수익성보다 안전성과 유동성이 높은 금융 자산에 대한 선호가 증가할 수 있다.

**오답** 갑. 원/달러 환율이 상승할 때 미국 주식에 투자한 사람은 미국 주식 가격에 변동이 없더라도 미국 주식을 매도하여 원화로 환산하면 이익을 볼 수 있다. 병. 물가가 오르면 화폐 가치가 하락하므로 실물 자산에 대한 투자가 증가한다.

**11 금리 변동과 금융 의사 결정**

**정답** ① 제시된 그림은 우리나라의 기준 금리가 계속 상승하고 있음을 보여 준다. ㄱ, ㄴ. 금리가 상승하면 예금 이자와 대출 이자 부담이 늘어나므로 소비와 대출을 줄이고 예금을 상대적으로 늘리며, 단기 예·적금을 들어 추가로 오른 금리를 적용받으려고 한다.

**자료 키워드 금리 변동과 금융 의사 결정**

- 금리 상승 → 이자 소득, 대출 이자 부담 증가 → 소비 및 대출 감소, 예금 및 채권 등의 안전성이 높은 자산의 선호 상승, 주식 투자 위축
- 금리 하락 → 이자 소득, 대출 이자 부담 감소 → 소비 및 대출 증가, 예금 및 채권 자산의 선호 하락, 주식과 같은 수익성이 높은 투자 증가

**12 사회적 환경 변화와 금융 의사 결정**

**정답** ② 제시된 기사는 러시아-우크라이나 전쟁으로 인해 국제 에너지 가격이 급등했음을 보여 준다. 국제 원자재 가격이나 국제 유가가 급등하여 물가가 상승할 경우 실물 자산에 대한 선호가 높아진다.

**오답** ① 물가가 상승하여 화폐 가치가 하락하고 소비와 저축이 줄어든다. ③ 안전성과 유동성이 높은 자산에 대한 투자가 늘어난다. ④ 국내 주가 지수는 하락한다. ⑤ 원/달러 환율이 올라 해외 원자재를 수입하는 기업의 이익이 줄어들고, 그 기업이 발행하는 채권의 시세 차익도 줄어든다.



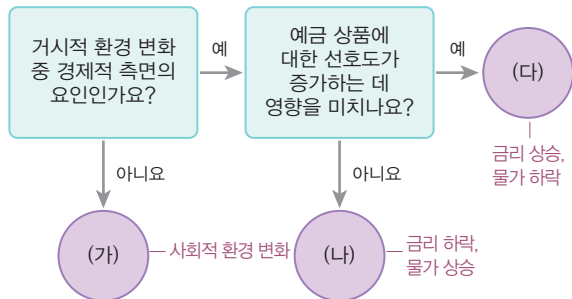
### 13 거시적 환경 변화와 금융 의사 결정

**정답** ② ㄱ. 거시적 환경 변화 중 금리, 물가, 환율 등은 경제적 환경 변화에 해당하고, 팬데믹, 기후위기, 저출생·고령화 현상 등은 사회적 환경 변화에 해당한다. ㄴ. (다)에는 '금리 상승'이나 '물가 하락'이 들어갈 수 있다. 금리가 상승하거나 물가가 하락하면 예금과 같은 금융 자산에 대한 선호가 증가하고, 실물 자산의 투자가 감소할 수 있다.

#### 선택지 분석

ㄴ. (다)에는 '물가 상승'이 들어갈 수 있다. → 물가 하락  
 ㄹ. (나)에는 '금리 하락', (다)에는 '금리 상승'이 들어갈 수 없다.  
 → 있다.

#### 자료 분석



### 14 금융 상품의 종류와 특징

(1) A. 주식, B. 채권, C. 예금  
 (2) **모범 답안** (가)에는 '예금자 보호 제도의 적용을 받는가?', '이자 수입만을 기대할 수 있는가?'가 들어갈 수 있다.  
**[주요 내용]** 금융 상품의 종류를 구분하고 각각의 특징을 이해할 수 있어야 함.

채점 기준	배점
(가)에 들어갈 수 있는 질문을 두 가지 모두 서술한 경우	상
(가)에 들어갈 수 있는 질문을 한 가지만 서술한 경우	하

### 15 생애 주기별 금융 생활 설계

**모범 답안** 소비는 평생 이루어지지만 소득을 얻을 수 있는 기간은 한정되어 있기 때문에 경제적으로 지속가능한 생활을 준비하기 위해서는 평생의 소득과 소비를 고려하여 자산을 합리적으로 관리해야 한다.  
**[주요 내용]** 생애 주기별 수입과 지출 변화에 따른 특징을 이해하고, 이를 통해 금융 생활 설계가 필요한 이유를 파악할 수 있어야 함.

채점 기준	배점
평생 동안 소비는 지속되지만 소득을 얻을 수 있는 시기는 한정되어 있다는 내용과 경제적으로 지속가능한 생활을 위해 자산 관리가 필요하다는 내용을 모두 서술한 경우	상
일생 동안 소득과 소비가 일정하지 않다는 내용만을 서술한 경우	중
지속가능한 생활을 하기 위해서라고만 서술한 경우	하

### 16 사회적 환경 변화와 금융 의사 결정

**모범 답안** 팬데믹 이후 국가들의 저축률이 전반적으로 증가하였다. 이는 사회적 거리두기 장기화에 따른 소비 감소, 정부의 재난 지원금 지급 등과 같은 경기 부양책에 따른 소득 증가로 예금에 가입하는 사람들이 늘어났기 때문이다.

**[주요 내용]** 제시된 그래프에 나타난 의미를 해석하고, 그 이유를 추측할 수 있어야 함.

채점 기준	배점
팬데믹 후 저축률 변화 추이를 제시하고, 그 이유를 구체적으로 서술한 경우	상
팬데믹 후 저축률 변화 추이만을 서술한 경우	하

78~81쪽

## 04 지속가능발전을 위한 국제무역

#### 빠른 정답

#### 기출 선택지로 개념 확인

- |              |          |             |
|--------------|----------|-------------|
| 01 무역        | 02 재화    | 03 특화       |
| 04 생산 요소     | 05 생산비   | 06 절대 우위    |
| 07 비교 우위     | 08 규모    | 09 세계 무역 기구 |
| 10 지역 경제 협력체 | 11 불평등   | 12 인권       |
| 13 지속가능발전    | 14 공정 무역 | 15 대체 에너지   |

#### 빠른 정답

#### 실력 UP! 단골 내신 문제

- |      |      |      |      |      |      |
|------|------|------|------|------|------|
| 01 ③ | 02 ④ | 03 ④ | 04 ⑤ | 05 ⑤ | 06 ② |
| 07 ⑤ | 08 ⑤ | 09 ④ | 10 ④ | 11 ④ | 12 ⑤ |
- 13 (1) B국 (2) 해설 참조 14 (1) 해설 참조 (2) 해설 참조

### 01 무역과 국제 분업

**정답** ③ ㉠은 무역, ㉡은 국제 분업이다. ㄴ. 자동차 생산을 위해 유리 제조는 중국 업체가, 타이어 제조는 미국 업체가, 국내 기업은 여러 국가에서 만든 부품을 들여와 완성차를 만드는 것처럼 분업의 모습이 국제적으로 나타난다. ㄷ. 무역이 확대되면서 국제 분업이 발달하고 이를 통해 무역이 활성화된다. 이처럼 무역과 국제 분업은 서로 선순환 관계를 이루고 있다.

#### 선택지 분석

ㄱ. 과거 ㉠은 생산 요소 중심으로 이루어졌으나 현재는 재화 중심으로 이루어진다.  
 → 무역은 과거에는 재화를 중심으로 이루어졌으나, 오늘날에는 서비스 및 기술, 생산 요소 등의 국제 이동도 늘어나고 있다.  
 ㄹ. ㉠과 ㉡이 확대되면서 각국이 같은 상품을 만드는 데 드는 기회 비용이 점점 같아지고 있다.  
 → 각국의 생산 조건이 다르기 때문에 같은 상품을 만드는 데 드는 기회비용이 다르게 나타난다.

## 02 국제무역

**정답** ④ 자원이 풍부한 국가가 기술력이 높은 국가에 비해 무역에서 유리하다고 단정할 수 없다. 국가마다 생산 요소의 분포가 달라 생산비의 차이가 나타나므로 국가 간에 비교 우위에 있는 상품을 특화하여 교역하면 무역 당사국 모두가 이익을 얻을 수 있다.

## 03 국제무역의 발생 원인

**정답** ④ 국제무역이 발생하는 이유는 각 나라가 처한 생산 조건, 즉 자원이나 노동, 자본과 같은 생산 요소의 양과 질이 달라 같은 상품을 생산하더라도 생산비가 다르기 때문이다. 따라서 각 나라는 비교 우위에 있는 상품을 특화하여 수출할 경우 더 많은 이익을 얻을 수 있다.

## 04 비교 우위

**정답** ⑤ **ㄷ**. 갑국과 을국의 노동자 수는 동일하고, 노동자 1명이 하루에 생산할 수 있는 책상과 의자의 수는 을국이 갑국보다 많으므로 을국은 책상과 의자 생산 모두에 절대 우위가 있다. **ㄹ**. 을국은 책상 생산에 비교 우위가 있으므로 책상을 특화하여 갑국과 교역하면 이익을 얻을 수 있다.

### 선택지 분석

- ㄱ. 갑국은 책상 생산에 비교 우위가 있다. → 의자
- ㄴ. 갑국의 책상 1개 생산의 기회비용은 의자 1/3개이다. → 3개

### 자료 분석

구분	갑국	을국
책상	2개	4개
의자	6개	8개

→ 책상 1개 생산의 기회비용은 갑국이 의자 3개, 을국이 의자 2개이다. 따라서 을국은 책상 생산에 비교 우위가 있다. 의자 1개 생산의 기회비용은 갑국이 책상 1/3개, 을국이 책상 1/2개이다. 따라서 갑국은 의자 생산에 비교 우위가 있다.

## 05 비교 우위

**정답** ⑤ X재 1단위 생산의 기회비용은 갑국이 Y재 2단위, 을국이 Y재 3/4단위이다. Y재 1단위 생산의 기회비용은 갑국이 X재 1/2단위, 을국이 X재 4/3단위이다. 따라서 갑국은 Y재 생산에, 을국은 X재 생산에 비교 우위가 있다.

### 선택지 분석

- ① 갑국은 X재 생산에 비교 우위가 있다. → Y재
- ② 을국은 X재와 Y재 생산에 모두 절대 우위가 있다. → 갑국
- ③ 갑국은 X재 1단위를 생산하기 위해 Y재 1/2단위를 포기해야 한다. → 2단위
- ④ 을국은 Y재 1단위를 생산하기 위해 X재 3/4단위를 포기해야 한다. → 4/3단위

### 자료 분석

X재 1단위를 생산하는 데 드는 노동력이 10명이므로 그 10명으로 Y재를 생산한다면 Y재 2단위를 생산할 수 있음.

구분	갑국	을국
X재	10명	15명
Y재	5명	20명

Y재 1단위를 생산하는 데 드는 노동력이 5명이므로 그 5명으로 X재를 생산한다면 X재 1/2단위를 생산할 수 있음.

X재 1단위 생산에 따른 기회비용은 Y재 15/20(3/4)단위임.

Y재 1단위 생산에 따른 기회비용은 X재 20/15(4/3)단위임.

## 06 무역과 국제 분업의 이익

**정답** ② **ㄱ**. 무역과 국제 분업이 확대되면서 각 나라는 자국에 없거나 부족한 자원 문제를 해결할 수 있다. **ㄷ**. 세계 시장을 대상으로 상품을 판매할 수 있어 규모의 경제를 실현하고 이윤을 얻을 수 있다.

**오답** **ㄴ**. 국제 거래를 통해 가격과 품질이 우수한 외국 상품이 수입되면 경쟁력이 약한 국내 산업은 뒤처질 수 있다. **ㄹ**. 정부가 경제 정책을 수행할 때 이해관계가 다른 외국 정부 또는 기업과 마찰이 발생할 수 있다.

## 07 비교 우위

**정답** ⑤ **ㄷ**, **ㄹ**. 우리나라의 자본과 기술이 축적되면서 수출에 유리한 상품이 시대별로 변화해 왔으며 과거에는 노동 집약적인 상품에 비교 우위가 있었지만, 최근에는 첨단 산업에 비교 우위가 있다.

**오답** **ㄱ**. 1970년대 우리나라는 노동 집약적인 상품에 비교 우위가 있었다. **ㄴ**. 우리나라가 시기별로 비교 우위를 가지는 분야는 달라졌고, 이에 따라 주요 수출 상품도 변화하였다.

## 08 국제무역의 확대 원인

**정답** ⑤ 제시된 도식은 세계 무역액이 증가하고 있음을 보여 준다. **ㄷ**, **ㄹ**. 국제무역의 확대는 교통 및 통신 수단의 발달과 자유 무역 실현을 목표로 하는 세계 무역 기구(WTO) 출범 등이 영향을 미쳤다.

**오답** **ㄱ**, **ㄴ**. 국제무역의 규모가 커지면서 국가 간 거래의 무역 장벽을 완화하려는 지역주의 움직임이 커지고 있다.

## 09 오늘날 국제무역의 흐름

**정답** ④ 지리적으로 인접했거나 경제적 상호 의존도가 높은 국가 간 경제 블록 형성이나 자유 무역 협정(FTA) 체결은 국가 간 경제적 상호 의존 관계를 더욱 강화하는 요인이다.

### 자료 키워드 국제무역의 흐름

- 세계 무역 기구(WTO)가 출범하면서 무역에 대한 규제가 완화되어 전 세계적으로 국제무역의 규모가 확대되었다.
- 국가 간에 지역 경제 협력체(경제 블록)를 형성하거나 자유 무역 협정(FTA)을 체결하고 있다. 국가 간 거래에서 관세 및 비관세 장벽을 완화하려는 지역주의의 흐름에 따라 국가 간 경제적 상호 의존 관계가 더욱 강화되고 있다.

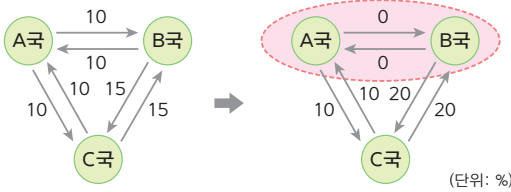
## 10 국제무역의 흐름

**정답** ④ 제시된 그림에서 A국과 B국은 상호 간에 경제 블록을 형성하여 관세를 완전히 철폐하였으나, C국과는 관세가 그대로 유지되거나 높아졌다. 이에 따라 A국과 B국에서 관세가 부과되는 C국의 상품은 상대적으로 가격이 높아져 가격 경쟁력이 약화되고, C국의 소비자들은 A국이나 B국의 상품을 구입할 때 높은 가격을 치러야 하므로 만족감이 낮아질 것이다.

### 선택지 분석

- ① A국과 B국 간의 교역량은 증가할 것이다.  
→ A국과 B국 간에는 관세가 완전히 철폐되었으므로 무역 규모가 이전보다 커질 것이다.
- ② A국과 B국에는 C국에 대한 무역 장벽이 존재한다.  
→ A국과 C국, B국과 C국 사이에는 관세가 있으므로 무역 장벽이 존재한다.
- ③ 무역의 이익이 가장 많이 줄어든 나라는 C국이다.  
→ A국과 B국에서 관세가 부과되는 C국의 상품은 가격이 높아져 가격 경쟁력을 잃고 C국이 얻게 될 무역의 이익도 줄어들 것이다.
- ⑤ C국 상품의 가격 경쟁력은 A국과 B국 시장에서 약해질 것이다.  
→ C국의 상품은 가격이 높아져 가격 경쟁력을 잃게 될 것이다.

### 자료 분석



→ A국과 B국은 상호 간에 경제 블록을 형성하여 관세를 완전히 철폐하였으나, C국과는 관세를 유지하거나 높였음.

## 11 국제무역 확대에 따른 문제

**정답** ④ 을의 주장을 뒷받침하기 위해서는 무역 확대의 부정적인 영향을 보여 주는 자료를 제시해야 한다. 국제 거래의 확대로 인해 선진국과 개발 도상국 간의 빈부 격차는 커지고 있다.

## 12 지속가능발전을 위한 국제무역의 방안

**정답** ⑤ 지속가능한 무역을 위해 소비자는 공정 무역을 통해 거래된 상품이나 지속가능발전에 협조하는 기업의 제품을 우선으로 구매하는 것이 바람직하다.

## 13 비교 우위

(1) B국

(2) **모범 답안** 침대 1단위 생산의 기회비용은 A국이 소파 10/12단위, B국이 소파 8/5단위로, A국은 침대 생산에 비교 우위가 있다. 소파 1단위 생산의 기회비용은 A국이 침대 12/10단위, B국이 침대 5/8단위로, B국은 소파 생산에 비교 우위가 있다.

**【주요 내용】** 비교 우위의 원리를 바탕으로 A국과 B국의 비교 우위 제품이 무엇인지 파악할 수 있어야 함.

채점 기준	배점
A국과 B국의 비교 우위 제품을 모두 쓰고, 그 이유로 A국과 B국의 침대와 소파 1단위 생산의 기회비용을 정확히 계산하여 그 내용을 서술한 경우	상
A국과 B국의 비교 우위 제품을 모두 쓰고, 그 이유로 A국과 B국이 상대국보다 비교 우위 제품 1단위 생산의 기회비용이 적다는 내용만을 서술한 경우	중
A국과 B국의 비교 우위 제품만 쓴 경우	하

## 14 지속가능발전을 위한 국제무역 방안

(1) **모범 답안** 불공정한 무역 구조 때문에 국가 간 빈부 격차 문제가 발생하고, 개발 도상국의 노동자는 열악한 근로 조건에서 낮은 임금을 받고 일하고 있는 등 인권 침해가 나타났다.

**【주요 내용】** 국제무역의 문제점으로 국가 간 빈부 격차와 노동자의 인권 침해 문제를 도출할 수 있어야 함.

채점 기준	배점
국제무역의 문제점으로 국가 간 빈부 격차와 노동자의 인권 침해를 모두 정확하게 서술한 경우	상
국제무역의 문제점으로 국가 간 빈부 격차 또는 노동자의 인권 침해 중 하나만을 서술한 경우	하

(2) **모범 답안** 공정 무역을 활성화하여 국제무역에서 발생한 혜택을 개발 도상국의 생산자와 노동자들이 공유할 수 있어야 하고, 노동자의 인권 보호를 위해 안전하게 일할 수 있는 근로 조건과 생활 환경을 마련해야 한다.

**【주요 내용】** 제시문에 나타난 국제무역의 문제점을 바탕으로 지속가능발전을 위한 국제무역의 방안을 제안할 수 있어야 함.

채점 기준	배점
공정 무역 활성화와 노동자의 근로 조건 및 생활 개선 등의 내용을 모두 서술한 경우	상
공정 무역 활성화와 노동자의 근로 조건 및 생활 개선 등의 내용 중 한 가지만 서술한 경우	하

# IV

## 세계화와 평화

86~89쪽

### 01 세계화의 다양한 양상과 문제 해결

#### 빠른 정답

- |           |            |           |
|-----------|------------|-----------|
| 01 세계화    | 02 교통      | 03 지역화    |
| 04 지역화 전략 | 05 지리적 표시제 | 06 장소 마케팅 |
| 07 세계도시   | 08 생산자     | 09 다국적 기업 |
| 10 공간적 분업 | 11 획일화     | 12 다양성    |
| 13 빈부 격차  | 14 공정 무역   | 15 보편 윤리  |
| 16 세계시민   |            |           |

#### 기출 선택지로 개념 확인

#### 빠른 정답

- |      |      |      |      |      |      |
|------|------|------|------|------|------|
| 01 ② | 02 ② | 03 ④ | 04 ⑤ | 05 ② | 06 ④ |
| 07 ① | 08 ④ | 09 ④ | 10 ② | 11 ③ | 12 ⑤ |
- 13 (1) ㉠ 지리적 표시제, ㉡ 지역 브랜드 (2) 해설 참조  
14 (1) ㉠ 보편 윤리, ㉡ 특수 윤리 (2) 해설 참조

#### 실력 UP! 단골 내신 문제

### 01 세계화의 배경

**정답** ② 다양한 나라의 식재료를 사용하게 된 것은 세계화의 영향이다. 교통·통신의 발달로 시공간의 제약이 감소하고, 세계 무역 기구의 출범으로 자유 무역이 확대되며 세계화가 급속하게 진행되었다.

#### 선택지 분석

- ㄴ. 무역 장벽이 높아지면서 국제 교역량이 증가하였다. → 낮아  
ㄷ. 시공간의 제약이 감소하면서 국가 간 경계가 강화되었다. → 약화

### 02 세계화의 의미와 특징

**정답** ② 지리적 표시제는 지역화 전략 중 하나로, 특정 지역의 지리적 특성을 반영한 우수한 상품이 그 지역에서 생산·가공되었음을 증명하고 표시하는 제도이다. 교통·통신의 발달로 지역 간 교류가 증가하고 자유 무역이 확대되면서 사람들은 전 세계의 상품을 구매하고, 여러 나라의 문화를 경험할 수 있게 되었다.

#### 자료 키워드 세계화

의미	지역 간의 상호 의존성이 높아지고, 국경을 넘어 세계가 하나로 통합되는 현상
등장 배경	교통·통신 발달에 따른 시공간의 축소, 세계 무역 기구(WTO) 출범 이후 무역 장벽 축소에 따른 자유 무역 확대
양상	<ul style="list-style-type: none"> <li>생산 요소의 국제 이동이 활발해지면서 여러 나라가 협력하여 상품을 생산함.</li> <li>세계 여러 지역의 문화 요소가 국가나 민족의 경계를 뛰어넘어 전 세계적인 문화로 발전함.</li> </ul>

### 03 지역화 전략

**정답** ④ (가)는 상품의 특성에 지역의 지리적 특성이 반영된 경우, 해당 지역의 지명이나 원산지를 표기할 수 있도록 한 지리적 표시제의 사례이다. (나)는 지역 축제를 활용한 장소 마케팅의 사례이다.

#### 자료 키워드 지역화 전략

- 지역 브랜드: 지역의 상품과 서비스, 또는 지역 자체에 부여한 하나의 고유한 상표로, 로고나 슬로건, 캐릭터 등을 활용하여 만들.
- 장소 마케팅: 특정 장소를 하나의 상품으로 인식하고, 매력적으로 보일 수 있도록 이미지와 시설 등을 개발하는 전략임.
- 지리적 표시제: 특정 지역의 지리적 특성을 반영한 우수한 상품이 그 지역에서 생산·가공되었음을 증명하고 표시하는 제도임.

### 04 세계도시의 특징

**정답** ⑤ ㉠ 세계도시는 다국적 기업의 본사, 국제 금융 업무 등이 집중된 경제 활동의 중심지 역할을 하며, 세계도시에는 국제기구의 본부가 위치하거나 다양한 국제회의 및 행사 등이 열리기도 한다.

#### 선택지 분석

- ㄱ. 전문화된 소비자 서비스업만 발달한다. → 생산자 서비스업이  
ㄴ. 임금 수준이 낮은 노동력이 많이 분포한다.  
→ 생산자 서비스 기능이 집중되면서 전문 인력이 많이 분포한다.

#### 자료 키워드 세계도시의 기능

정치	국제기구의 본부가 위치하거나 다양한 국제회의 및 행사 등을 주최함.
경제	<ul style="list-style-type: none"> <li>다국적 기업의 본사와 국제 금융 업무 기능을 담당하는 대형 금융 기관 등이 밀집함.</li> <li>회계·법률·광고 등 기업 활동에 도움을 주는 생산자 서비스업이 발달하여 전 세계의 자본과 정보가 집중됨.</li> </ul>
문화	교통·통신망의 중심지로서 문화 활동의 중심축 역할을 함.

### 05 다국적 기업의 공간적 분업

**정답** ② 연구소가 있는 일본 요코하마와 중국 옌타이 등은 핵심 기술 인력을 확보하기 유리한 곳이다. 한편 H사는 다국적 기업으로 성장하면서 경제 활동의 범위가 넓어져 본사의 관리 기능이 미치는 범위가 설립 초기보다 확대되었을 것이다.

#### 선택지 분석

- ㄴ. 중국의 생산 공장에서는 H사의 핵심 기술 및 디자인을 개발한다. → 옌타이 연구소  
ㄷ. 생산 공장은 인건비가 비싸거나 무역 장벽을 극복할 수 있는 곳에 위치한다. → 저렴하거나

#### 자료 키워드 다국적 기업의 공간적 분업

본사	경영 및 관리 기능을 하며, 본국의 대도시에 있음.
연구소	연구 및 개발 기능을 담당하며, 핵심 기술 인력을 구하기 쉬운 곳이나 기술 수준이 높은 선진국에 설립함.
생산 공장	<ul style="list-style-type: none"> <li>최종 제품의 조립 및 생산 기능을 함.</li> <li>주로 생산비 절감을 위해 임금 수준이 낮고 판매 시장이 넓은 개발도상국에 설립하거나 관세 부과와 같은 무역 장벽을 극복하기 위해 선진국에 생산 공장을 세우기도 함.</li> </ul>



## 06 다국적 기업의 성장 과정

**정답** ④ A 기업은 국내와 국외에 생산 및 연구, 판매 시설을 갖춘 다국적 기업이다. (가)에서 (다) 단계로 갈수록 더욱 완전한 형태의 다국적 기업으로 성장하고 있음을 알 수 있다. 다국적 기업으로 성장할수록 더 많은 국가와 지역에 생산 및 연구 시설이 분포하므로, 공간적 분업 정도는 높아진다. 그리고 (다) 단계로 갈수록 해외 생산량이 늘어나고 판매 법인 수가 많아져 해외 판매액은 늘어난다.

## 07 세계화의 양상

**정답** ① 세계화로 전 세계가 하나로 통합되고 있으며, 선진국 문화를 중심으로 한 문화의 획일화 문제가 나타나고 있다.

### 선택지 분석

- ㄷ. ㉞은 무역 장벽이 높아지면서 교역량이 줄어들었기 때문에 나타난 문제이다.  
 → 국가 간 빈부 격차는 자유 무역으로 경쟁이 치열해지면서 자본 및 기술력이 풍부한 선진국이 경쟁에서 우위를 차지하였기 때문에 더욱 심화되었다.
- ㄹ. ㉞로 보편 윤리보다 특수 윤리의 중요성이 증가하고 있다.  
 → 세계화로 자유, 평등 등 보편적인 가치가 전 세계로 확산하여 특수 윤리의와 갈등이 발생했지만, 특수 윤리의 중요성이 더 증가한 것은 아니다.

## 08 세계화에 대한 입장

**정답** ④ 세계화에 대해 갑은 긍정적인 입장이고, 을은 부정적인 입장이다. 세계화는 문화 체험의 기회 증가, 재화와 서비스 선택의 폭 확대 등의 긍정적인 영향을 가져올 수 있다. 반면 국가 간 빈부 격차 확대, 문화의 획일화 등의 부정적인 영향도 나타날 수 있다. 을은 선진국 문화가 보편화되면서 각 국가의 고유한 문화가 사라져 문화의 다양성이 훼손되는 문제가 나타날 수 있다고 볼 것이다.

## 09 보편 윤리와 특수 윤리의 충돌

**정답** ④ 사례는 반다야체에서 특수 윤리인 이슬람 관습법을 적용하여 공개 태형을 집행하였으나, 이것이 인권 등의 보편 윤리와 어긋나 충돌하는 모습을 보여 준다.

## 10 세계화 시대의 문제점

**정답** ② ㉠ 세계화로 문화를 상품화하고 이를 판매하는 과정에서 막대한 자본을 가진 선진국이 유리한 위치를 차지하면서 전 세계가 선진국 문화를 중심으로 비슷해지는 문화 획일화 현상이 나타났다. ㉡ 세계화로 인권, 자유, 평등 등 보편적 가치가 전 세계로 확산하였다.

**오답** ㉢ 공정 무역은 불공정한 무역 구조를 개선하여 분배적 정의를 실현하도록 해 주므로 '예'에 표시해야 한다. ㉣ 세계화가 진행되면서 선진국과 개발 도상국 간의 평균 1인당 소득의 격차는 커졌으므로 '아니요'에 표시해야 한다.

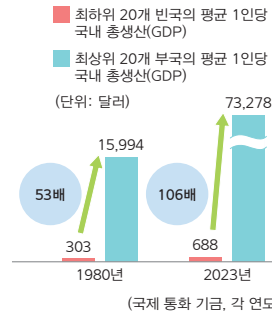
## 11 세계화 시대의 빈부 격차 심화 문제

**정답** ③ 제시된 자료는 선진국과 개발 도상국의 빈부 격차를 보여 준다. 빈부 격차 문제를 해결하기 위해, 선진국은 공적 개발 원조를

지원하여 개발 도상국의 경제적 자립을 돕고, 개발 도상국은 자국의 성장 동력을 발굴하여 경쟁의 흐름에 유연하게 대처해야 한다.

**오답** ㉠. 문화의 획일화 문제의 해결 방안이다. ㉡. 세계화의 성과가 선진국에 집중되지 않아야 한다.

### 자료 분석



기술력과 자본을 가진 선진국은 부가가치가 높은 산업에 집중하여 소득 수준이 높고, 개발 도상국은 값싼 노동력으로 부가가치가 낮은 산업에 집중하여 소득 수준이 낮다. 이러한 상황이 세계화 시대에 지속되면서 국가 간 부의 격차가 더욱 커지고 있다.

## 12 언어의 소멸 위기

**정답** ⑤ 외래문화를 받아들여 자국의 문화가 소멸되거나 정체성이 훼손되지 않도록 해야 한다.

**오답** ① 언어 소멸 문제를 해결하는 것과 관련이 없다. ② 소수 민족의 언어에도 편견을 가지지 말아야 한다. ③ 세계 각국의 언어는 모두 가치가 있으므로 보존하지 않아도 될 언어를 구분할 수 없다. ④ 영어가 세계 공용어처럼 쓰이고 있지만, 영어를 우선적으로 교육하는 것은 소수 언어의 소멸 현상을 심화할 수 있다.

## 13 지역화 전략

(1) (가) 지리적 표시제, (나) 지역 브랜드

(2) **모범 답안** 지역의 사회적·문화적 특성이 세계적 차원에서 가치를 얻어 다른 곳과 차별화된 경쟁력을 확보하기 위해서이다.

**[주요 내용]** 다양한 지역화 전략을 이해하고, 지역화 전략의 필요성을 서술해야 함.

채점 기준	배점
지역화 전략을 펼치는 이유를 차별화된 경쟁력 확보 측면에서 바르게 서술한 경우	상
지역화 전략을 펼치는 이유를 미흡하게 서술한 경우	하

## 14 세계화로 인한 문제점과 해결 방안

(1) ㉠ 보편 윤리, ㉡ 특수 윤리

(2) **모범 답안** 각 사회의 특수 윤리를 인정하면서도 이것이 인류의 보편적인 가치를 훼손하지 않는지 비판적으로 성찰해야 한다.

**[주요 내용]** 해당 특수 윤리가 보편적인 가치를 훼손하지 않는지 비판적으로 성찰해야 함을 서술해야 함.

채점 기준	배점
특수 윤리를 보편 윤리 차원에서 비판적으로 성찰해야 함을 바르게 서술한 경우	상
보편 윤리 차원에서의 비판적 성찰 내용을 언급하지 않고 자세를 서술한 경우	하

## 02 평화의 중요성과 국제 사회의 노력

### 빠른 정답

### 기출 선택지로 개념 확인

- 01 소극적 평화   02 적극적 평화   03 갈등   04 물리적(직접적)
- 05 협력   06 영토   07 의존성   08 평화
- 09 국가   10 국제기구   11 비정부 기구   12 국제기구
- 13 국제 연합   14 비정부 기구   15 중재자   16 세계시민

### 빠른 정답

### 실력 UP! 단골 내신 문제

- 01 ⑤   02 ③   03 ⑤   04 ④   05 ⑤   06 ④
- 07 ④   08 ③   09 ①   10 ④   11 ⑤   12 ④
- 13 (1) 적극적 평화 (2) 해설 참조   14 (1) ㉠ 국가, ㉡ 국제기구(정부 간 국제기구), ㉢ 비정부 기구(국제 비정부 기구) (2) 해설 참조

### 01 소극적 평화의 실현

**정답** ⑤ (가)는 소극적 평화이다. 소극적 평화의 실현은 인류가 범죄, 테러, 전쟁 등으로 인한 생존 위협에서 벗어나 안전하게 살아갈 수 있는 환경을 조성해 준다. 그러나 소극적 평화가 실현되어도 여전히 빈곤, 부당한 억압과 차별, 불평등한 사회 제도가 존재할 수 있다.

**오답** ①, ②, ③ 적극적 평화에 해당한다. ④ 진정한 평화를 실현하기 위해서는 적극적 평화를 실현해야 한다.

#### 자료 키워드 소극적 평화와 적극적 평화

소극적 평화	<ul style="list-style-type: none"> <li>• 범죄, 테러, 전쟁 등과 같은 직접적이고 물리적인 폭력이 없는 상태</li> <li>• 직접적 폭력이 없더라도 빈곤, 차별 등 간접적 폭력으로 고통받을 수 있음.</li> </ul>
적극적 평화	<ul style="list-style-type: none"> <li>• 직접적·물리적 폭력뿐만 아니라 구조적 폭력과 문화적 폭력까지 모두 제거된 상태</li> <li>• 적극적 평화를 추구해야 진정한 평화가 실현될 수 있음.</li> </ul>

### 02 구조적 폭력과 문화적 폭력

**정답** ③ 구조적 폭력은 불공정한 사회 구조나 제도로 인해 발생하는 폭력이고, 문화적 폭력은 종교와 사상, 언어와 예술, 대중매체와 교육 등에 존재하는 폭력으로 문화를 통해 폭력적인 현상을 자연스러운 모습으로 인식시켜 직접적·구조적 폭력을 정당화할 수 있다. ㄱ, ㄴ. 성 역할에 대한 편견, 특정 인종과 계층에 대한 차별을 종교 경전, 영화나 드라마를 통해 정당화하고 있으므로 문화적 폭력에 해당한다. ㄷ. 열악한 노동 환경, 불법 거래 등은 경제적 착취, 불공정한 사회 제도를 보여 주므로 구조적 폭력에 해당한다.

### 03 평화의 유형

**정답** ⑤ 소극적 평화는 범죄, 테러, 전쟁 등 무력 충돌이 없는 상태(①)를 의미한다. 그러나 소극적 평화가 실현되어도 빈곤이나 차별과 같은 구조적 폭력은 여전히 존재할 수 있다(②). 적극적 평화는 물리

적 폭력뿐만 아니라 빈곤과 정치적 억압 같은 구조적 폭력과 종교와 사상, 언어와 예술 등 문화적 영역에 존재하는 문화적 폭력이 모두 제거된 상태(③, ④)로, 진정한 평화는 소극적 평화에 머무르지 않고 적극적 평화를 실현할 때 이루어질 수 있다(⑤).

### 04 갈등의 평화

**정답** ④ 다음을 주장한 사상가는 갈등이다. 갈등은 《평화적 수단에 의한 평화》에서 직접적 폭력이 제거된 소극적 평화를 넘어 구조적·문화적 폭력까지 제거된 적극적 평화를 진정한 평화라고 주장하였다. 불평등을 정당화하는 사상은 문화적 폭력으로 정의될 수 있다.

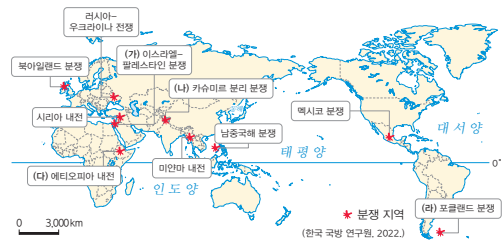
#### 선택지 분석

- ① 진정한 평화는 전쟁의 종식만으로도 실현된다.
  - 진정한 평화는 적극적 평화를 실현할 때 달성될 수 있다고 보았다.
- ② 직접적 폭력이 없는 곳에는 구조적 폭력도 없다.
  - 갈등에 따르면, 폭력은 직접적·구조적·문화적 폭력 중 어느 곳에서도 시작될 수 있다. 따라서 직접적 폭력이 없는 곳에서도 구조적 폭력은 있을 수 있다.
- ③ 의도 없이 발생한 빈곤이나 차별은 폭력이 아니다.
  - 갈등에 따르면, 빈곤이나 차별과 같은 구조적 폭력은 의도 없이 발생할 수 있다.
- ⑤ 구조적 폭력을 제거하기 위해 사용된 직접적 폭력은 정당하다.
  - 갈등에 따르면, 모든 폭력은 평화적 수단을 통해 제거되어야 한다.

### 05 국제 분쟁의 원인

**정답** ⑤ (가)는 이스라엘과 팔레스타인 사람들 간의 종교·민족·영토 갈등이 나타나는 지역이다. (나)는 인도와 파키스탄 간의 영토 및 종교 분쟁 지역이다. ㄱ은 (라), ㄴ은 북아일랜드 분쟁의 원인이다.

#### 자료 분석



- (가) 이스라엘-팔레스타인 분쟁: 유대인과 팔레스타인 사람들 간 영토 분쟁에서 시작되어 민족적·종교적 정체성에 따른 갈등으로 분쟁이 심화됨.
- (나) 카슈미르 분리 분쟁: 주민 대부분이 이슬람교를 믿는 카슈미르 지역이 힌두교를 믿는 사람이 많은 인도로 편입되면서 분쟁이 발생함.
- (다) 에티오피아 내전: 80여 개 민족으로 이루어진 에티오피아에서 민족 간 종교와 언어 차이, 경제적·정치적 차별로 내전이 발생함.
- (라) 포클랜드 분쟁: 주변에 석유가 매장되어 있는 포클랜드 제도의 소유권을 둘러싸고 영국과 아르헨티나 간의 분쟁이 발생함.

### 06 국제 사회의 갈등 양상

**정답** ④ 국제 사회의 상호 의존성이 높은 오늘날에는 국제 갈등이 전 세계에 영향을 미치며, 이러한 국제 갈등은 어느 한 국가의 노력만으로는 해결하기 어렵다.



## 07 국제 사회의 행위 주체

**정답** ④ A는 국가, B는 국제기구, C는 비정부 기구이다. 국가는 국민의 수나 영토 크기와 관계없이 독립적인 주권을 행사(ㄴ)하며 자국의 이익과 자국민 보호를 최우선으로 추구한다. 국제기구는 각국의 정부를 회원으로 하는 행위 주체로 대표적으로 국제 연합(UN)이 있다. 비정부 기구는 개인이나 민간단체의 주도로 만들어진 행위 주체(ㄷ)로, 대표적으로 국경 없는 의사회가 있다.

**오답** ㄱ. A는 국가이다. ㄷ. 국경 없는 의사회는 대표적인 비정부 기구이다. 대표적인 국제기구로는 국제 연합(UN)이 있다.

## 08 국제 사회의 행위 주체

**정답** ③ 국제기구는 주권을 가진 국가들로 결성된 국제 사회의 행위 주체로, 국제 사회에서 공통으로 준수해야 할 규범을 제정하여 국가 간의 이해관계를 조정하거나 분쟁을 중재하는 역할(ㄷ)을 한다. 대표적으로 국제 연합, 유니세프, 세계 보건 기구 등이 있다(ㄴ).

**오답** ㄱ, ㄷ. 국가에 대한 설명이다.

## 09 국제 사회의 행위 주체

**정답** ① 국제 사면 위원회는 국제 앰네스티라고도 하며 대표적인 비정부 기구이다.

**오답** ②, ③, ④, ⑤ 대표적인 국제기구이다.

## 10 세계 평화를 위한 국가와 국제기구의 역할

**정답** ④ 사례는 소말리아에서 발생한 테러에 대응하기 위해 국제기구인 국제 연합 안전 보장 이사회의 규탄과 회원국들의 성명, 개별 국가인 미국의 제재 등을 통해 국제기구와 국가가 교류·협력하고 있음을 보여 준다.

**오답** ① 국제 사회의 갈등을 해결하기 위해서는 모든 행위 주체들의 역할이 중요하다. ② 국경 없는 의사회와 그린피스 등 비정부 기구로 오늘날 시민사회의 영향력이 강화되면서 그 역할이 확대되고 있으며, 제시문에 해당 내용이 제시되어 있지 않다. ③, ⑤ 제시문에는 비정부 기구와 영향력 있는 개인의 역할과 관련된 내용이 제시되어 있지 않다.

### 자료 분석

국제기구는 각국의 정부를 회원으로 하며, 국가는 국제기구에 참여하여 공식적으로 활동함을 보여 줌. 국제 연합(UN) 안전 보장 이사회의 아프리카 소말리아의 수도 모가디슈 중심가에서 발생한 차량 폭탄 테러를 규탄하였다. 안전 보장 이사회 회원국은 성명을 통해 이번 테러 공격을 가한 조직과 조력자에게 국제법상 책임을 물어야 한다고 강조하였다. 미국도 소말리아 내 이슬람 극단주의 무장 단체 대원을 겨냥한 제재를 발동하였다. 개별 국가인 미국이 소말리아의 테러 문제에 대응함.

## 11 세계 평화를 위한 행위 주체의 역할

**정답** ⑤ ㉠은 국제기구, ㉡은 국가, ㉢은 비정부 기구이다. ㄷ. 비정부 기구는 개인이나 민간단체의 주도로 만들어진 국제 사회의 행위

주체로, 개인이 회원으로 가입할 수 있다. ㄷ. 국가는 자국의 이익과 자국민 보호를 최우선으로 추구하는 반면, 비정부 기구는 특정 개인이나 기업, 국가의 이익이 아닌 생명 존중, 인권 보장, 환경 보호 등 인류의 보편적 가치를 위해 활동한다.

**오답** ㄱ. 국제 사회의 가장 기본적인 행위 주체는 국가(㉡)이다. ㄴ. 국가(㉡)의 영토 크기나 국민의 수는 국가의 주권 행사와 관련이 없다. 국제법에 따르면 모든 국가는 국제 사회에서 평등하고 독립적인 주체이다.

## 12 세계 평화를 위한 세계시민의 역할

**정답** ④ 지구촌 갈등을 해결하고 세계 평화를 이루기 위해서 개인은 세계시민으로서 자신의 정체성을 가족이나 국가를 넘어 세계적인 차원에서 이해(정)해야 한다. 또한 다양한 지구촌 문제에 관심을 가지고 어려움에 처한 사람들을 위해 캠페인, 기부, 봉사 등 다양한 활동에 참여하는 노력이 필요(을)하다.

**오답** ㄱ은 국제기구의 역할을 이야기하고 있다. ㄷ은 국가의 역할을 이야기하고 있다.

## 13 평화의 의미

(1) 적극적 평화

(2) **모범 답안** 적극적 평화가 실현되면 사회 제도나 관습 등에 따른 억압과 착취에서 벗어나 인간다운 삶을 보장받으며 진정한 의미의 평화를 누릴 수 있다.

**【주요 내용】** 진정한 평화는 적극적 평화가 실현될 때 이루어질 수 있음을 <보기>의 내용을 포함하여 서술해야 함.

채점 기준	배점
적극적 평화의 실현이 필요한 이유를 <보기>의 내용을 포함하여 빠르게 서술한 경우	상
적극적 평화의 실현이 필요한 이유를 <보기>의 내용을 포함하지 않고 미흡하게 서술한 경우	하

## 14 국제 사회의 행위 주체

(1) ㉠ 국가, ㉡ 국제기구(정부 간 국제기구), ㉢ 비정부 기구(국제 비정부 기구)

(2) **모범 답안** 국제기구는 국가 간 이해관계를 조정하거나 분쟁을 중재하기 위해 국제 사회에서 공통으로 준수해야 할 규범을 제정하여 국가들의 행위를 규율한다. 대표적으로 국제 연합(UN)이 있다. 비정부 기구는 특정 개인이나 기업, 국가의 이익이 아닌 생명 존중, 인권 보장 등 인류의 보편적 가치를 최우선으로 한다. 대표적으로 국경 없는 의사회가 있다.

**【주요 내용】** 국제기구와 비정부 기구의 역할과 대표적인 기구 및 기관을 서술해야 함.

채점 기준	배점
국제기구와 비정부 기구의 역할과 대표적인 기구 및 기관을 모두 빠르게 서술한 경우	상
국제기구와 비정부 기구의 역할과 대표적인 기구 및 기관을 미흡하게 서술한 경우	하

### 03 남북 분단 및 동아시아의 역사 갈등과 세계 평화

#### 빠른 정답

#### 기출 선택지로 개념 확인

- |          |          |              |
|----------|----------|--------------|
| 01 냉전 체제 | 02 신탁 통치 | 03 정전 협정     |
| 04 분단 비용 | 05 인도주의  | 06 유라시아      |
| 07 이산가족  | 08 경계    | 09 동북공정      |
| 10 독도    | 11 야스쿠니  | 12 해양 자원     |
| 13 쿠릴 열도 | 14 역사    | 15 개발 원조 위원회 |
| 16 평화유지  |          |              |

#### 빠른 정답

#### 실력 UP! 단골 내신 문제

- |                        |      |      |                        |      |      |
|------------------------|------|------|------------------------|------|------|
| 01 ③                   | 02 ② | 03 ③ | 04 ④                   | 05 ④ | 06 ④ |
| 07 ④                   | 08 ⑤ | 09 ⑤ | 10 ①                   | 11 ④ | 12 ④ |
| 13 (1) 분단 비용 (2) 해설 참조 |      |      | 14 (1) 해설 참조 (2) 해설 참조 |      |      |

#### 01 남북 분단의 과정

**정답** ③ ㉠ 우리나라는 광복 후 북위 38도선을 경계로 미국과 소련의 분할 점령을 받았다. ㉡ 모스크바 3국 외상 회의에서 신탁 통치가 결정되자 이에 대한 한반도 내 찬반 의견 대립 등으로 남과 북은 서로 합의하지 못했고, ㉢ 5·10 총선거를 실시하여 ㉣ 대한민국 단독 정부를 수립하게 된다. 그 후 북한의 남침으로 ㉤ 6·25 전쟁이 일어나면서 남북 분단은 고착되었다.

#### 02 남북 분단의 배경

**정답** ② 우리나라는 1945년 8월 15일 일본의 식민 지배에서 벗어나 광복을 이루었지만, 자유주의 진영의 미국과 공산주의 진영의 소련이 북위 38도선을 경계로 한반도를 분할 점령하였다.

#### 선택지 분석

- ① ㉠: 이탈리아와 중국 중심의 냉전 체제가 심화되었다. → 미국과 소련
- ③ ㉢: 국제 연합(UN)이 남한과 북한 각각의 단독 정부 수립을 위한 총선거 실시 방안을 제안하였다.  
→ 국제 연합의 총선거를 통한 통일 정부 구성 제안을 북한과 소련이 거부하였고 결국 남한 단독 총선거가 먼저 실시되어 남북한에 서로 다른 정부가 수립되었다.
- ④ ㉣: 6·25 전쟁이 일어났고 정전 협정이 체결되면서 남북 분단이 일부 해소되었다.  
→ 1950년 북한의 남침으로 6·25 전쟁이 일어났고 1953년 정전 협정이 체결되면서 남북 분단이 고착되었다.
- ⑤ ㉤: 모스크바 3국 외상 회의에서 신탁 통치가 결정되자 남북한 모두 적극 찬성하였다.  
→ 신탁 통치를 둘러싸고 진영에 따라 찬반이 나뉘면서 이념 갈등이 깊어졌다.

#### 03 통일을 위한 노력

**정답** ③ 남북 분단으로 수많은 이산가족은 가족과 헤어진 아픔으로 고통받고 있으며, 한반도 전체에 군사적 긴장을 높이고 있다. 따라서

남한과 북한은 제시문과 같은 합의서 내용을 충실히 이행함으로써 평화통일을 이루기 위해 노력해야 한다.

**오답** ㄹ. 북한은 군사적으로는 경계 대상이지만, 역사적으로 한민족이기 때문에 안보 의식을 가지고 열린 마음으로 소통해야 한다.

#### 04 독일 통일이 주는 시사점

**정답** ④ 제시문에는 서독과 동독의 지속적인 교류와 협력, 독일 통일에 대한 주변국의 우호적인 환경 조성에 관한 내용이 나타나 있다. 이와 같이 남북한도 상호 교류하고 남북통일에 우호적인 국제 환경을 조성하는 것이 모두 필요하다는 점을 알 수 있다.

#### 05 통일의 필요성

**정답** ④ 제시문에는 남북한이 모두 군사비의 과도한 지출 때문에 자원을 소모하고 있다는 내용이 나타나 있다. 따라서 과도하게 소모되는 분단 비용을 줄여서 경제를 발전시킬 수 있다는 '정'의 주장이 가장 적절하다.

**오답** 갑은 인도주의적 차원에서, 을은 문화·역사의 회복 차원에서, 병은 지정학적 위치에 따른 경제적 효과 차원에서 통일의 필요성을 이야기하고 있다. 무가 주장하는 인적·물적 교류가 줄어드는 것은 제시문의 내용과는 관련이 없다.

#### 06 통일을 위한 준비

**정답** ④ 통일에 대비한 사회적 통합 비용 절감을 위해 제시문의 '나'는 정치적 통합을 통한 외적 통일을 우선하는 반면, '어떤 사람'은 경제·문화 분야의 민간 교류를 통한 내적 통일이 우선되어야 한다고 주장하고 있다. 따라서 (가)에는 내적 통합을 우선하는 입장에서 민간 교류 활성화를 강조한다는 내용이 들어가야 한다.

**오답** ① '어떤 사람'은 비정치적 교류의 효과를 강조할 것이다. ② '나'는 북한 주민의 인권 개선보다 체제의 통합과 같은 외형적 통일을 강조할 것이다. ③ 사회적 통합 비용 절감은 '나'와 '어떤 사람' 모두 중요하게 생각하지만, 어떤 방법을 통해 절감할 것인가에 대한 의견은 다를 것이다. ⑤ 사회적 통일 비용을 절감하기 위한 노력에 대해서만 이야기하고 있으므로 장기적 관점의 이익에 대해서는 알 수 없다.

#### 07 동아시아의 역사 갈등

**정답** ④ 야스쿠니 신사는 일본의 천황을 위해 싸우다 전사한 군인을 신격화하여 제사를 지내는 곳으로 A급 전범이 합사되어 있다. 이러한 야스쿠니 신사 참배 문제 등으로 일본과 우리나라는 지속적으로 역사 갈등을 겪고 있다.

**오답** ① 최근 일본 역사 교과서에는 독도가 일본의 영토라고 왜곡되어 있다. ② 중국은 라오닝성, 지린성, 헤이룽장성의 역사 연구 과정에서 우리의 역사를 왜곡하였다. ③ 중국은 동북공정을 통해 우리나라의 역사를 중국의 지방사라고 주장하며 역사를 왜곡하였다. ⑤ 1970년대 이후 해양 자원을 둘러싸고 동아시아의 수많은 작은 섬의 영유권 분쟁이 심화되었는데, 이는 우리나라와 관련된 설명은 아니다.

## 08 중국의 동북공정

**정답** ⑤ 지도는 중국의 동북공정 대상이었던 동북 3성을 표시한 것이다. 다오위다오는 중국과 일본이 영유권 갈등을 겪고 있는 일본의 센카쿠 열도로, 지도의 지역과는 무관하다. 일본은 1972년 미국으로부터 오키나와를 반환받으면서 센카쿠 열도(다오위다오)도 일본 영토로 편입되었다고 주장하는 반면, 중국은 명나라 때부터 '다오위다오'라는 지명을 사용했다는 문헌 자료와 1863년에 제작된 지도를 근거로 중국 영토임을 주장하고 있다.

### 자료 키워드 동북 3성

동북공정은 2002년 2월부터 5년간 추진한 동북 지역 3개의 성(헤이룽장성, 지린성, 랴오닝성)의 역사, 지리, 문화에 관한 연구 사업이다. 중국은 이 연구를 통해 우리나라의 역사인 고조선, 부여, 고구려, 발해의 역사를 고대 중국의 지방사로 왜곡하였다. 이러한 주장은 고구려와 발해를 중국 소수 민족의 지방 정권으로 평가하여 현재 중국에 있는 소수 민족의 분리 독립을 막기 위해서이다.

## 09 일본과의 역사 갈등

**정답** ⑤ 일본은 1950년부터 역사 교과서를 왜곡하였다. 일본 정부는 침략 전쟁과 식민 지배를 미화하고 전쟁 범죄를 은폐하는 내용의 역사 교과서를 검정·통과시켰다. 또한 최근 일본 교과서에서는 우리나라의 고유 영토인 독도를 일본 영토라고 왜곡하였고, 일본군 '위안부'나 강제 연행이라고 표현했던 내용을 각각 위안부, 징용이라고 수정하여 일본의 침략 행위를 정당화하였다. 동북공정은 중국이 5년간 추진한 동북 3성의 역사, 지리, 문화에 관한 연구 사업으로, 해당 내용은 우리나라와 일본과의 역사 갈등과는 관련이 없다.

## 10 동아시아의 영토 분쟁 지역

**정답** ① A는 쿠릴 열도(북방 도서) 분쟁, B는 센카쿠 열도(다오위다오) 분쟁, C는 시사 군도(파라셀 제도) 분쟁, D는 난사 군도(스프레틀리 군도) 분쟁이다. ㄱ. 쿠릴 열도(북방 도서) 분쟁은 러시아와 일본의 영토 분쟁이다. ㄴ. 센카쿠 열도(다오위다오) 분쟁은 동중국해 남부의 8개 섬을 둘러싼 일본과 중국 사이의 분쟁이다.

**오답** ㄷ. C 시사 군도(파라셀 제도)는 중국과 베트남 간의 영토 분쟁 지역이다. ㄹ. D 난사 군도(스프레틀리 군도)는 베트남, 중국, 필리핀, 말레이시아 등 여러 나라가 영유권을 주장하고 있는 분쟁이다.

## 11 동아시아의 역사 갈등 해결 방안

**정답** ④ 제시문의 내용은 서로 다른 역사 인식을 극복하여 동아시아의 역사 갈등을 해결하기 위한 노력 사례를 담고 있으므로 글의 제목으로 '동아시아의 역사 갈등 해결을 위한 노력'이 가장 적절하다.

**오답** ①, ②, ③ 모두 동아시아의 역사 갈등을 해결하고 역사 인식을 바르게 하기 위한 실천 사례지만, 제시문의 내용과는 다른 사례들이므로 글의 제목으로 적합하지 않다. ⑤ 국제 사회의 평화를 위해 국제 사회의 행위 주체들이 적극적으로 관심을 갖고 실천해야 할 영역은 맞지만, 제시문의 내용과는 관련이 없다.

## 12 우리나라의 국제적 위상과 세계 평화 기여 방안

**정답** ④ 제시문은 경제적 측면에서 우리나라의 국제적 위상을 보여 준다. 대외 무상 협력 사업을 진행하기 위해서는 국내의 정치적·경제적 안정이 우선되어야 한다. 우리나라는 6·25 전쟁으로 해외 원조에 의존하기도 하였지만 1960년대 이후 고도의 경제 성장을 이룩하여 다른 국가에 원조하는 개발 원조 위원회 회원국이 되었다.

**오답** ①, ②는 문화적 측면에서의 위상을 보여 주며, ③은 지정학적 측면에서의 위상을 보여 주지만 제시문과는 직접적인 관련이 없는 내용이다. ⑤ 남북한의 통일에 우호적인 국제 환경을 조성하는 것은 평화통일을 위한 앞으로의 과제지만 제시문과는 관련이 없는 내용이다.

## 13 평화통일의 필요성

(1) 분단 비용

(2) **모범 답안** 북한 주민의 삶을 개선하고 이산가족의 아픔을 해소할 수 있으며 민족의 동질성을 회복할 수 있다. 또한 분단 비용을 줄여 경제 발전을 이룰 수 있고, 태평양과 유라시아를 연결하는 물류 중심지로 성장할 수 있다.

**[주요 내용]** 평화통일의 필요성을 인도주의적 차원과 경제적 차원에서 서술해야 함.

채점 기준	배점
평화통일의 필요성을 인도주의적 차원과 경제적 차원으로 나누어 두 가지 모두 서술한 경우	상
평화통일의 필요성을 인도주의적 차원과 경제적 차원 중 한 가지만 서술한 경우	하

## 14 역사 갈등의 해결 방안

(1) **모범 답안** 《세종실록지리지》에는 울릉도와 독도가 매우 가까이 있다고 기록되어 있다. 이를 통해 예전부터 울릉도 주민들이 독도를 울릉도 부속 섬으로 인식하고 있었다는 것을 알 수 있다.

**[주요 내용]** 《세종실록지리지》나 <태정관지령>에 기록된 독도 관련 내용과 그 의미를 서술해야 함.

채점 기준	배점
독도가 우리나라 영토임을 나타낸 역사적 기록의 내용과 그 의미를 서술한 경우	상
독도가 우리나라 영토임을 나타낸 역사적 기록이 무엇인지만 서술한 경우	하

(2) **모범 답안** 공동 역사 연구를 진행하여 동아시아의 역사를 올바르게 이해해야 한다. 또한 문화 교류와 협력을 통해 각국에 대한 혐오 정서나 역사 인식 차이를 줄여야 한다.

**[주요 내용]** 공동 역사 연구를 통해 동아시아 역사를 바르게 이해해야 하고, 문화 교류와 협력을 통해 각국 간 혐오 정서와 역사 인식 차이를 줄여야 함을 서술해야 함.

채점 기준	배점
주요 내용 중 공동 역사 연구와 문화 교류와 협력 관련 내용을 두 가지 서술한 경우	상
주요 내용 중 공동 역사 연구와 문화 교류와 협력 관련 내용 중 한 가지만 서술한 경우	하

# 01 인구 문제와 미래 사회

## 빠른 정답

## 기출 선택지로 개념 확인

- |           |            |            |
|-----------|------------|------------|
| 01 개발 도상국 | 02 냉·온대    | 03 선진국     |
| 04 기대 수명  | 05 부양비     | 06 피라미드    |
| 07 정치적    | 08 일자리     | 09 고령화     |
| 10 저출생    | 11 세대 간 갈등 | 12 인구 부양력  |
| 13 지역 격차  | 14 장려, 억제  | 15 세대 간 정의 |

## 빠른 정답

## 실력 UP! 단골 내신 문제

- |                         |   |      |      |      |      |
|-------------------------|---|------|------|------|------|
| 01 ②                    | 02 ⑤                                    | 03 ③ | 04 ③ | 05 ② | 06 ④ |
| 07 ⑤                    | 08 ④                                    | 09 ④ | 10 ② | 11 ④ | 12 ③ |
| 13 ①                    | 14 (1) (가) 인구 과잉, (나) 저출생·고령화 (2) 해설 참조 |      |      |      |      |
| 15 (1) 환경적 이동 (2) 해설 참조 |   |      |      |      |      |

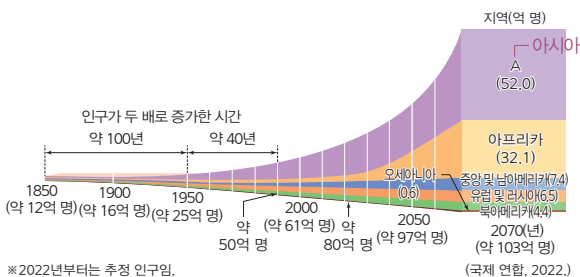
### 01 세계의 인구 성장

**정답** ② 가. A는 세계에서 인구가 가장 많은 대륙이므로, 인구 규모 1·2위인 인도, 중국이 포함되어 있는 아시아이다. 르. 제2차 세계 대전 이후 개발 도상국의 인구가 폭발적으로 증가하면서 1950~2000년의 인구 증가 속도가 1850~1950년의 인구 증가 속도보다 빨랐다.

#### 선택지 분석

- 나. 아프리카보다 유럽 및 러시아의 출생률이 더 높을 것이다.  
→ 아프리카의 인구 성장률이 유럽 및 러시아보다 높으므로 보아 출생률도 더 높을 것이다.
- 다. 제2차 세계 대전 이후 선진국이 개발 도상국보다 인구가 많이 증가했다.  
→ 제2차 세계 대전 이후에는 개발 도상국이 많은 아시아, 아프리카, 중앙 및 남아메리카의 인구가 선진국이 많은 유럽 및 러시아와 북아메리카보다 더 많이 증가했다.

#### 자료 분석



세계의 인구는 산업 혁명을 기점으로 급속히 증가하여 2022년에 80억 명을 넘어섰다. 이러한 추세가 유지된다면 2070년에는 세계의 인구가 약 103억 명에 이를 것으로 보인다.

### 02 대륙별 인구 분포

**정답** ⑤ 제시된 그래프에서 세계 인구의 절반 이상이 사는 A는 아시아, 그 뒤를 이은 B는 아프리카, C는 유럽이다. 다. 개발 도상국이 상대적으로 많은 아시아는 유럽보다 청소년층 비중이 크고 노년층 비중이 작다. 르. 선진국이 많은 유럽은 아프리카보다 경제 발달 수준이 높다.

#### 선택지 분석

- 가. A는 산업 혁명 이후 일찍 공업이 발달하여 인구가 밀집하였다.  
→ C(유럽)
- 나. B에서 인구가 증가하는 주요 원인은 난민의 유입이다.  
→ 높은 출생률

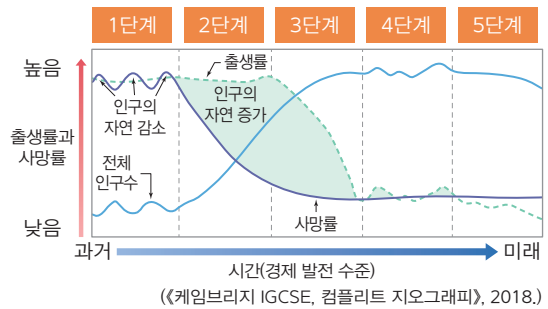
### 03 세계의 인구 분포

**정답** ③ 전 세계 인구의 90% 이상이 북반구에 살고 있으며, 중위도의 냉·온대 기후 지역과 평야·해안 지역에 인구가 밀집해 있다. 건조·한대 기후 지역이나 험준한 산지와 사막, 밀림과 같은 지역에는 인구가 희박하다.

### 04 인구 변천 모형

**정답** ③ 인구 변천 모형 중 1단계는 출생률과 사망률이 모두 높아 인구 증가율이 낮다. 4단계는 출생률과 사망률이 모두 낮아져 인구 증가율이 다시 낮아진다. 5단계는 출생률이 사망률보다 낮아 인구가 감소하며, 일부 선진국에서 나타난다.

#### 자료 분석



인구 변천 모형은 출생률과 사망률의 관계로 인구 변화 추이를 살펴보는 데 유리하다.

- 1단계: 산업화 이전 시기에 나타나며, 출생률과 사망률이 모두 높아 인구 증가율이 낮다.
- 2단계: 출생률은 여전히 높지만, 산업화와 의학 발달로 사망률이 급격하게 감소하면서 인구가 급증한다.
- 3단계: 가족계획과 가치관 변화로 출생률이 급격하게 감소하지만, 여전히 사망률보다는 높아 인구가 천천히 증가한다.
- 4단계: 출생률과 사망률이 모두 낮아 인구가 정체된다.
- 5단계: 최근 일부 선진국에서는 출생률이 사망률보다 낮아 인구가 감소한다.

### 05 도시와 촌락의 인구 구조

**정답** ② (가)는 천안시, (나)는 옥천군이다. (가)는 2·3차 산업이 발달한 도시 지역으로 청장년층 인구 비율이 높으며, (나)는 1차 산업



이 발달한 혼락 지역으로 노년층 인구 비율이 높다. (나)는 (가)에 비해 중위 연령과 노령화 지수가 높으며, 청장년층 비율이 낮고 노년층 비율이 높아 노년 부양비가 높다.

## 06 개발 도상국과 선진국의 인구 구조

**정답** ④ (가)는 유소년층 인구 비율이 높고, 노년층 인구 비율은 낮은 개발 도상국이다. (나)는 유소년층 인구 비율이 낮고, 노년층 인구 비율은 높은 선진국이다. 선진국은 소득 수준이 높아 1인당 국내 총생산이 높다.

### 선택지 분석

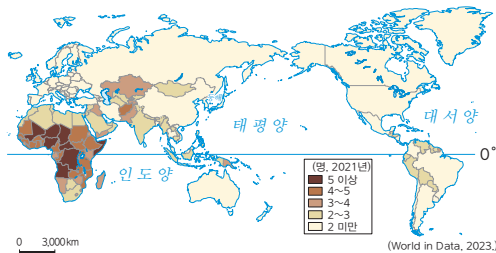
- ① 사망률이 높다.  
→ 선진국은 의학 기술 발달 및 위생 시설 개선에 따라 개발 도상국보다 사망률이 낮다.
- ② 기대 수명이 짧다.  
→ 선진국은 개발 도상국보다 생존할 것으로 기대되는 평균 생존 연수가 길다.
- ③ 합계 출산율이 높다.  
→ 유소년층 인구 비율이 낮은 선진국은 합계 출산율이 낮다.
- ⑤ 유소년층 인구 비율이 높다. → 노년층

## 07 주요 인구 지표

**정답** ⑤ 지도에서 아프리카를 비롯한 개발 도상국에서 높게 나타나는 것으로 보아, 국가별 합계 출산율을 나타낸 것이다. 합계 출산율은 여성 한 명이 가임 기간 동안 낳을 것으로 예상되는 평균 출생아 수를 말한다.

**오답** ① 성비는 중화학 공업이 발달한 페르시아만 연안의 아랍 국가들이 높게 나타난다. ② 총인구는 중국과 인도가 가장 높게 나타난다. ③, ④ 중위 연령과 노년 부양비는 경제 발전 수준이 높은 선진국일수록 대체로 높게 나타난다.

### 자료 분석



합계 출산율은 개발 도상국이 많은 아프리카에서 높게 나타나고, 선진국이 많이 위치한 북아메리카와 유럽에서 상대적으로 낮게 나타난다.

## 08 주요 인구 관련 용어

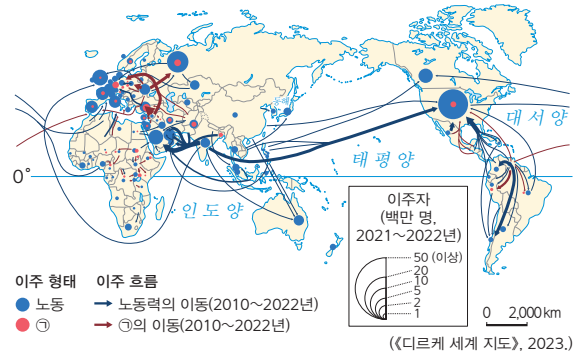
**정답** ④ 여자 100명당 남자의 인구수는 '성비'이다. 0세 출생자가 앞으로 생존할 것으로 기대되는 평균 생존 연수는 '기대 수명'이다. <글자판>에 남은 글자를 활용하여 만들 수 있는 용어는 한 국가의 인구가 그 국가의 사용 가능한 자원으로 생활할 수 있는 능력을 뜻하는 '인구 부양력'이다.

**오답** ①은 생산 연령 인구, ②는 노령화 지수, ③은 합계 출산율, ⑤는 중위 연령에 대한 설명이다.

## 09 인구 이동의 요인

**정답** ④ 지도에서 ㉠은 난민에 해당한다. 난민은 전쟁, 재난, 박해 등의 이유로 다른 나라로 이주한 사람들이다. ④는 경제적 이동의 인구 흡인 요인이다.

### 자료 분석



- 경제적 인구 이동: 높은 임금과 풍부한 고용 기회를 찾아 떠나는 경제적 이동은 개발 도상국이 많은 아시아, 중남부 아메리카 등에서 일자리를 찾아 유럽과 북아메리카 등으로 이동하는 경로를 보인다.
- 정치적 인구 이동: 전쟁 및 분쟁을 피하려는 난민의 국제 이동은 주로 서남아시아와 북부 아프리카에서 유럽으로 유입되는 이동 경로를 보인다.

## 10 대륙별 인구 이동

**정답** ② 2010~2020년에 인구 유출이 가장 많은 A는 인구 규모가 가장 크고 개발 도상국이 많은 아시아이다. B는 인구 유입이 지속적으로 많은 앵글로아메리카이고, B보다 규모가 작지만 인구가 유입되는 C는 오세아니아이다. 대체로 경제 수준이 높은 앵글로아메리카, 유럽, 오세아니아가 유출 인구보다 유입 인구가 많다.

## 11 저출생·고령화에 따른 문제

**정답** ④ 1970년부터 2020년까지의 인구 구조 변화를 통해 우리나라의 저출생·고령화 문제를 예측해 볼 수 있다. 갑, 저출생·고령화로 생산 연령 인구가 감소하면 잠재 성장률 하락의 문제가 발생한다. 을, 노년층이 증가하면 연금 등과 같은 사회 보장 비용이 증가한다. 정, 고령화로 인해 노년층을 위한 사회적 비용이 증가하면 청장년층의 부양 부담이 증가하면서 세대 간 갈등 문제가 발생할 수 있다.

**오답** 병, 기아와 빈곤, 실업률 증가 등은 인구 과잉 문제가 발생하는 개발 도상국에서 주로 나타나는 인구 문제이다.

## 12 인구 문제 해결을 위한 정책적 방안

**정답** ③ (가)는 출산 억제 정책이 추진되고 있는 국가이고, (나)는 출산 장려 정책이 추진되고 있는 국가이다. 따라서 (가)는 인구 과잉 문제가 나타나는 개발 도상국이고, (나)는 저출생·고령화 문제가 나타나는 선진국이다.

선택지 분석

- ① (가)는 (나)보다 출생률이 **낮다**. → **높다**.
- ② (가)는 (나)보다 고령화 현상이 **심각하다**.  
→ 고령화 현상은 선진국인 (나)가 더 심각하다.
- ④ (나)는 (가)보다 경제 발전 수준이 **낮다**.  
→ 선진국인 (나)가 경제 발전 수준이 더 높다.
- ⑤ (가)는 **출산 장려** 정책, (나)는 **출산 억제** 정책을 시행하고 있다.  
→ 억제, 장려

13 저출생 문제의 해결 방안

**정답** ① 저출생 문제를 해결하기 위해서는 출산 및 양육 비용 지원, 보육 시설 확충, 육아 휴직 제도 강화 등 다양한 출산 장려 정책이 필요하다.

14 개발 도상국과 선진국의 인구 문제와 해결 방안

- (1) (가) 인구 과잉, (나) 저출생·고령화
- (2) **모범 답안** (가) 개발 도상국의 인구 과잉 문제를 해결하기 위해서는 경제 성장과 함께 식량 증산 정책을 추진하고, 출산 억제 정책을 실시해야 한다. (나) 선진국의 저출생·고령화 문제를 해결하기 위해서는 다양한 출산 장려 정책 및 노인 복지 제도를 시행해야 한다.  
**[주요 내용]** (가)의 인구 문제 해결 방안으로는 경제 성장, 식량 증산 정책, 출산 억제 정책을 제시하고, (나)의 인구 문제 해결 방안으로는 출산 장려 정책, 노인 복지 제도 확충 등을 제시하여 서술해야 함.

채점 기준	배점
개발 도상국의 인구 과잉 문제와 선진국의 저출생·고령화 문제에 대한 해결 방안을 각각 한 가지씩 서술한 경우	상
개발 도상국의 인구 과잉 문제와 선진국의 저출생·고령화 문제에 대한 해결 방안 중 한 가지만 서술한 경우	하

15 세계의 인구 이동

- (1) 환경적 이동
- (2) **모범 답안** 이주민과 기존 주민 간의 문화적 차이로 갈등이 발생할 수 있다.  
**[주요 내용]** 인구 유입 지역에서 나타날 수 있는 경제적 갈등이나 문화적 갈등을 제시하여 서술해야 함.

채점 기준	배점
인구 유입 지역에서 발생할 수 있는 문제점을 바르게 서술한 경우	상
인구 유입 지역에서 발생할 수 있는 문제점을 미흡하게 서술한 경우	하

02  
~  
03

에너지 자원과 지속가능한 발전 ~  
미래 사회의 모습과 나의 삶

**빠른 정답**

기술 선택지로 개념 확인

- 01 편재성
- 02 천연가스
- 03 신·재생 에너지
- 04 석탄
- 05 석유
- 06 유한
- 07 자원 민족주의
- 08 탄소중립
- 09 파리 협정
- 10 지속가능한 발전
- 11 윤리적 소비
- 12 지능 정보 기술
- 13 세계시민 의식

**빠른 정답**

실력 UP! 단골 내신 문제

- 01 ③
- 02 ②
- 03 ②
- 04 ⑤
- 05 ③
- 06 ②
- 07 ③
- 08 ①
- 09 ⑤
- 10 ②
- 11 ①
- 12 ①
- 13 ②
- 14 (1) 자원 민족주의 (2) 해설 참조
- 15 해설 참조

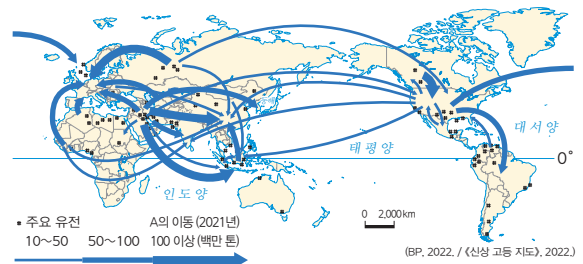
01 석유의 분포·생산과 이동

**정답** ③ 제시된 자료는 석유의 이동을 나타낸 것이다. A 석유는 사우디아라비아, 아랍 에미리트 등 서남아시아에서 주로 생산 및 수출되는 자원으로, 편재성이 매우 커서 국제적 이동량이 많다.

선택지 분석

- ① 재생 가능성이 **높은** 화석에너지이다. → **낮은**
- ② 가격이 저렴하여 주로 가정용 연료로 사용된다.  
→ 석유는 국제 가격 변동 폭이 큰 자원으로, 주로 운송 수단과 산업용 연료, 석유 화학 공업의 원료 등으로 사용된다.
- ④ 냉동 액화 기술의 발달로 세계에서 소비량이 급증하였다.  
→ 천연가스에 대한 설명이다.
- ⑤ 크리스티고 문화권에서는 종교적 이유로 사용하지 않는다.  
→ 관련 없는 설명이다.

자료 분석



- 석유는 주로 신생대 3기층 배사 구조에 매장되어 있다.
- 서남아시아의 아라비아반도 등 일부 지역에 편재하여 분포한다.
- 비교적 넓은 지역에 매장된 석탄에 비해 국제적 이동량이 많다.

02 석탄의 생산 및 수출입 구조

**정답** ② 자료는 주로 고생대 지층에 매장된 석탄의 생산 및 수출입을 보여주는 그래프이다. A는 중국으로 석탄 생산량도 많지만, 인구 규모가 크고 경제 및 산업이 발달하여 석탄 소비량 및 수입량도 많은 편이다.

**선택지 분석**

- ㄴ. 화석에너지 중 사용 역사가 가장 짧다.  
→ 석탄은 산업 혁명 이후 증기 기관의 연료로 사용되어 화석에너지 중 사용된 역사가 가장 길다.
- ㄷ. 주로 화학 공업과 생활용품의 원료로 사용된다.  
→ 석유에 대한 설명이며, 석탄은 주로 제철 공업과 화력 발전의 연료로 사용된다.

**03 신·재생 에너지 자원의 특징**

**정답 ②** (가) 지열 발전은 판의 경계 지역인 신기 조산대에 위치하여 화산 활동이 활발한 곳에서 이루어진다. (나) 풍력 발전은 일정 속도 이상의 바람이 지속적으로 부는 것이 중요하므로, 주로 바람이 강한 높은 산지나 섬과 같은 해안가에서 이루어지는 경우가 많다. (가), (나)는 모두 재생 가능한 에너지 자원으로, 지속가능한 에너지 체계 구축에 중요한 역할을 담당한다. ②는 태양광(열) 발전의 조건에 해당한다.

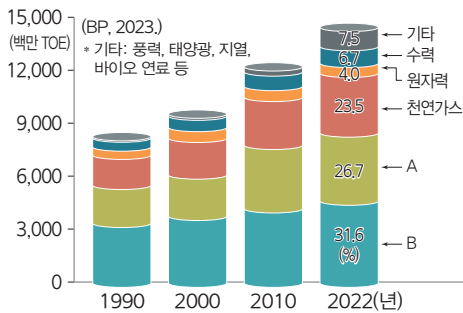
**04 세계 에너지 소비 구조 변화**

**정답 ⑤** 세계에서 가장 많이 소비되는 에너지 자원인 B는 석유이고, 그다음인 A가 석탄이다. 매장량이 유한한 화석에너지의 소비량이 많아 미래에 자원 고갈 및 에너지 부족 문제가 나타날 수 있다.

**선택지 분석**

- ① A는 B보다 국제적 이동량이 많다. → 적다.
- ② A, B는 탄소 배출량이 적은 에너지 자원이다. → 많은
- ③ 에너지 자원의 소비량은 지속적으로 감소하고 있다. → 증가
- ④ 화석에너지의 비중이 신·재생 에너지의 비중보다 작다. → 크다.

**자료 분석**



- 인구 증가와 경제 발달로 자원 소비는 꾸준히 증가하고 있다.
- 화석에너지(석유, 석탄, 천연가스)가 에너지 소비 구조에서 80% 이상을 차지하고 있다. 석유, 석탄과 같은 화석 연료는 연소 과정에서 오염 물질을 배출하여 환경을 오염할 뿐만 아니라, 한번 사용하면 재생할 수 없어서 소비량이 지 금처럼 유지될 경우 에너지 부족 및 자원 고갈 등의 문제에 직면할 수 있다.
- 기후변화 대응을 비롯한 지속가능한 발전에 대한 관심이 높아지면서, 신·재생 에너지는 기술 개발이 진행되어 소비 비율이 증가하고 있다.

**05 국가별 에너지 소비 격차**

**정답 ③** 국가별 1인당 에너지 소비량은 선진국이나 자원 매장량이

풍부한 국가는 많은 편(ㄷ)이지만, 중남부 아프리카와 남부 아시아 국가는 적은 편이다. 중남부 아프리카는 에너지 소비량이 매우 적고 경제 발전 수준이 낮아 에너지 부족 문제(ㄴ)를 겪을 수 있다.

**선택지 분석**

- ㄱ. 에너지 소비량은 매년 비슷하다.  
→ 제시된 자료를 통해 알 수 없으며, 에너지 소비량은 지속적으로 증가하고 있다.
- ㄴ. 자원 매장량이 많은 국가는 1인당 에너지 소비량이 적은 편이다. → 많은

**06 기후변화에 대한 전 지구적 대응**

**정답 ②** 온실가스 배출권 거래제는 기후변화에 효율적으로 대응하기 위한 방법 중 하나로, 시장 논리를 적용하여 각 국가와 기업이 온실가스 배출량 감축에 적극적으로 참여할 수 있도록 마련된 제도이다.

**07 지속가능한 발전을 위한 국제 사회의 노력**

**정답 ③** 지속가능한 발전을 위해 국제 사회는 화석에너지 중심의 소비 구조에 문제의식을 가지고 이를 변화시키는 것이 중요하다고 여긴다. 이유는 인구 증가와 산업 및 경제 발전으로 자원 소비가 늘 어나는 상황에서 화석에너지가 자원 고갈 위험이 클 뿐 아니라 환경 오염의 주요 원인이 되기 때문이다. 신·재생 에너지는 기후 및 지형 과 같은 자연환경적 요소의 영향을 많이 받기 때문에 안정적인 에너지 확보 및 생산이 어렵다는 단점이 있다.

**08 지속가능한 발전을 위한 탄소중립 실현**

**정답 ①** 자료에 제시된 스마트 그리드 기술, 수소 에너지 기술, 탄소 포집 및 저장 기술은 이산화 탄소 배출량을 줄이고 흡수량을 늘려, 이산화 탄소 순 배출량을 '0'으로 만드는 탄소중립을 실현하기 위한 기술들이다.

**09 미래 사회의 변화 양상**

**정답 ⑤** 제시된 글은 인간의 이동 시간과 공간적 제약을 줄일 수 있는 교통수단인 하이퍼루프의 상용화에 관한 것이다. 이와 같이 미래 사회에서는 도심 항공 교통, 자율 주행 자동차, 항공 우주 산업, 초고속 물류 시스템 구축 등 생활의 편의성을 높이는 다양한 기술들이 개발되고 상용화될 것이다. 전자 감시 기술은 전자 기기와 디지털 장비를 사용하여 개인, 단체 혹은 특정 영역을 감시하는 기술을 의미한다. 이 기술은 보안과 범죄 예방, 국가 안보 등을 위해 사용될 수 있지만, 개인 정보 침해 및 프라이버시 문제를 일으킬 수 있다.

**자료 키워드 미래 사회의 새로운 교통수단 등장**

- 미래 사회에는 교통 및 정보 통신 기술의 발달로 인간의 이동 시간과 공간적 제약이 감소하고 생활 범위가 확대될 것이다.
- IoT 기술이 접목된 다양한 기기, 자율 주행 자동차, 도심 항공 교통 등의 발달로 인간 생활의 편의성이 증대될 것이다.

## 10 미래 사회의 변화 양상

**정답** ② 미래 사회에는 자유 무역의 확대로 국가 간 무역 경쟁이 심화할 것이며, 그 과정에서 경쟁력이 강한 국가와 그렇지 않은 국가 사이의 부의 격차가 확대될 수 있다. 또한 드론 택시 등 무인 운송 수단의 상용화로 물류 시스템의 효율성이 증가하고 시간 및 공간적 제약이 감소할 것이다.

**오답** ㄴ. 생명·유전 공학 기술의 발전은 인간 수명 연장, 질병 치료 등에 긍정적인 변화를 가져올 수 있지만, 유전자 편집과 맞춤형 인간, 생명 연장에 대한 인식 변화 등으로 개인의 삶과 정체성에 대한 인식이 변화하여 혼란을 야기할 수 있다. ㄷ. 지구의 평균 기온 상승에 따른 기후변화로 생태계 파괴 및 생물종 감소 문제가 심화할 수 있다.

## 11 미래 사회의 직업과 세계시민의 삶

**정답** ① 생체 인식 전문가는 인간의 몸으로부터 얻을 수 있는 생체 데이터를 기반으로 사람을 식별하고 인증하는 기술을 개발 및 운영하는 직업이다. 이들은 개인의 민감한 정보를 다루므로 개인 정보 보호와 데이터 관리의 책임성이라는 직업 윤리를 가져야 한다.

## 12 세계시민 의식의 실천

**정답** ① 세계시민 의식을 바탕으로 윤리적인 가치 판단에 따라 인간과 동물, 환경에 해를 가하지 않고 윤리적으로 생산된 상품을 구매하는 윤리적 소비를 지향해야 한다.

### 선택지 분석

- ② 의류를 구매할 때 필요성보다 유행을 먼저 고려한다.  
→ 유행을 우선시하는 패스트 패션 업계의 성장으로 수질 오염, 미세 플라스틱 발생 등 환경 오염 문제가 발생하고 있다.
- ③ 신기술 개발 시 환경 보호보다 경제적 이익을 우선적으로 고려한다.  
→ 환경 보호를 우선적으로 고려하는 기술 개발 및 상품 생산이 이루어져야 한다.
- ④ 환경 문제를 해결할 수 있는 전문가는 정부와 대기업뿐이라고 생각한다.  
→ 세계시민으로서 개인의 관심과 적극적인 실천 노력이 필요하다.
- ⑤ 일상에서 발생하는 작은 문제들은 해결하는 데 비용이 많이 소요되므로 신경 쓰지 않는다.  
→ 문제와 비용의 규모를 떠나 인류의 보편적 가치를 위한 일이라면 적극적으로 나서야 한다.

## 13 미래 사회를 대비하는 세계시민의 노력

**정답** ② 세계시민 의식을 가지고 미래 사회에 대비하는 태도에는 인류의 보편적인 가치를 중시하는 것과 지속가능한 발전에 깊은 관심을 가지고 공동체 협력 활동에 적극적으로 참여하는 것이 해당한다.

**오답** ㄴ. 직업 선택 과정에서 개인의 행복을 중요하게 생각하는 것과 동시에 나의 선택이 미래 사회에 미칠 영향력을 생각하는 것도 중요하다. 정. 다문화 사회에서의 문화 충돌을 막기 위해서는 서로의

다름을 인정하는 관용적 태도와 문화 상대주의적 시각을 갖는 것이 중요하다.

## 14 자원 민족주의의 영향

(1) 자원 민족주의

(2) **모범 답안** 자원 민족주의가 심화하면 자원의 해외 수입 의존도가 높은 국가는 경제적 어려움에 처할 수 있고, 자원 확보를 둘러싼 갈등이 발생할 수 있다.

**[주요 내용]** 자원의 해외 수입 의존도가 높은 국가의 경제적 위기, 자원 확보를 둘러싼 국가 간 갈등 등을 서술해야 함.

채점 기준	배점
자원 민족주의 강화가 세계에 미칠 영향을 바르게 서술한 경우	상
자원 민족주의 강화와 무관한 내용을 서술한 경우	하

## 15 미래 사회의 변화 양상

**모범 답안** (가) 외부 환경의 영향을 받지 않고 안정적인 식량 생산이 가능해져 식량 문제에 대비할 수 있을 것이다. (나) 재생 에너지 사용이 증가하고 자원 낭비를 줄여 탄소중립을 실현할 수 있을 것이다. (다) 도심 지역의 교통 체증이 완화될 것이며 이동의 제약이 감소할 것이다.

**[주요 내용]** 안정적인 식량 생산, 탄소중립 실현, 교통 체증 완화 등 (가)~(다) 기술의 상용화에 따른 사회 변화를 각각 서술해야 함.

채점 기준	배점
(가)~(다) 기술이 상용화되었을 때 나타날 수 있는 사회 변화를 모두 바르게 서술한 경우	상
(가)~(다) 기술 중 두 가지의 기술이 상용화되었을 때 나타날 수 있는 사회 변화를 서술한 경우	중
(가)~(다) 기술 중 한 가지의 기술이 상용화되었을 때 나타날 수 있는 사회 변화를 서술한 경우	하



# I 인권 보장과 헌법

**빠른 정답**

**1등급 완성!**

**1단계 개념 확인 문제**

- |            |             |             |         |      |      |
|------------|-------------|-------------|---------|------|------|
| 01 ○       | 02 ×        | 03 ×        | 04 ○    | 05 ○ | 06 ○ |
| 07 ×       | 08 ○        | 09 ×        | 10 ×    | 11 × | 12 ○ |
| 13 ×       | 14 ×        | 15 보편성      | 16 명예혁명 |      |      |
| 17 바이마르 헌법 | 18 세계 인권 선언 | 19 문화권      |         |      |      |
| 20 청구권     | 21 권력 분립 제도 | 22 위헌 법률 심판 |         |      |      |
| 23 대의 민주주의 | 24 감수       | 25 사회적 소수자  |         |      |      |
| 26 35시간    | 27 국제기구     |             |         |      |      |

**2단계 내신 대비 문제**

- |           |                        |      |      |              |      |
|-----------|------------------------|------|------|--------------|------|
| 28 ③      | 29 ②                   | 30 ⑤ | 31 ④ | 32 ④         | 33 ⑤ |
| 34 ④      | 35 ③                   | 36 ① | 37 ④ | 38 ④         | 39 ① |
| 40 ①      | 41 ④                   | 42 ③ | 43 ② | 44 ②         | 45 ④ |
| 46 ①      | 47 ②                   | 48 ③ | 49 ① | 50 (1) 헌법재판소 |      |
| (2) 해설 참조 | 51 (1) 해설 참조 (2) 해설 참조 |      |      |              |      |

**3단계 수능 대비 문제**

- |      |      |      |      |      |      |
|------|------|------|------|------|------|
| 52 ② | 53 ⑤ | 54 ③ | 55 ⑤ | 56 ④ | 57 ⑤ |
| 58 ② | 59 ① | 60 ① | 61 ③ | 62 ① | 63 ② |
| 64 ⑤ | 65 ① | 66 ② | 67 ② |      |      |

## 28 인권의 의미와 특징

**정답** ③ 빈칸 (가)에 들어갈 개념은 인권이다. 나, 다. 인권은 태어나면서부터 갖게 되는 천부적 권리로, 불가침성을 가지므로 국가가 임의로 박탈할 수 없다.

**선택지 분석**

- ㄱ. 한정된 기간만 보장된다. → 영구히
- ㄴ. 서로 합의한 경우 다른 사람에게 양도할 수 있다. → 양도할 수 없다.

## 29 세대별 인권의 특징

**정답** ② (가)는 1세대 인권인 시민·정치적 권리, (나)는 2세대 인권인 경제·사회·문화적 권리, (다)는 3세대 인권인 연대권이다. 2세대 인권은 산업 혁명 이후 사회적 불평등이 심화되면서 필요성이 증가하였다.

**오답** ① 자결권은 3세대 인권에 포함된다. ③ 공동체의 연대를 강조하는 전 지구적 차원의 권리는 3세대 인권이다. ④ 시민 혁명을 계기로 보장되기 시작한 권리는 1세대 인권이다. ⑤ 1세대 인권은 개인의 자유를 최우선으로 하여 국가의 개입을 경계한다.

## 30 인권의 역사적 발전 과정

**정답** ⑤ (가)는 바이마르 헌법, (나)는 미국 독립 선언, (다)는 세계 인권 선언이다. 세계 인권 선언은 인권 보장을 위한 인류의 연대와 국제적인 협력을 강조한다.

**오답** ① (나) → (가) → (다) 순으로 작성되었다. ② (가)는 사회권,

(나)는 자유권을 강조한다. ③ 3세대 인권이 강조된 것은 (다)이다. ④ (나)는 미국 독립 전쟁 중 발표되었고, (다)는 제2차 세계 대전 이후 인권 억압의 문제를 해결하기 위해 발표되었다.

## 31 인간과 시민의 권리 선언

**정답** ④ 프랑스 혁명 때 발표된 인간과 시민의 권리 선언 제1조에는 천부 인권 사상이 반영되었고, 제3조에는 국민 주권의 원리가 나타나 있다.

**오답** ① 최초로 사회권을 명시한 문서는 바이마르 헌법이다. ② 노동자의 참정권을 요구하며 차티스트 운동이 일어났다. ③ 아동 권리 협약에서 아동을 권리를 가진 주체로 규정하였다. ⑤ 국제 인권 규약은 세계 인권 선언에 명시된 권리를 국제법상 조약의 형태로 구체화한 것이다.

## 32 인권의 역사적 발전 과정

**정답** ④ 산업 혁명 이후인 (라) 시기에 빈부 격차와 노동자의 권리 침해, 실업 문제 등으로 사회권에 대한 요구가 높아졌고, 이에 따라 1919년 독일 바이마르 헌법에서 최초로 사회권을 명시하였다.

**오답** ① 참정권 확대 운동 이후인 20세기에 보통 선거 제도가 대부분의 국가에서 확립되었다. ② 모든 시민이 정치에 참여하게 된 것은 20세기 이후이다. (나) 시기에 농민, 여성 등 일부 시민은 참정권이 없었다. ③ (마) 시기에 발표된 세계 인권 선언에서 인권 보장의 국제적 기준이 확립되었다. ⑤ 천부 인권 사상이 등장한 것은 시민 혁명 전이므로 (가)에 해당한다.

## 33 주거권과 안전권

**정답** ⑤ 병, 정. (가) 주거권과 (나) 안전권은 현대 사회에서 새롭게 등장한 권리이다. 도시화 등으로 기존의 인권 개념으로는 쉽게 해결되지 않는 문제가 등장하자 인권에 대한 논의가 환경, 삶의 질 등으로 확대되었으며, 시민의 실질적인 권리 보장을 위해 국가 개입의 필요성도 높아졌다.

**오답** 갑. 외국인에게도 인정되는 권리이다. 을. 주거권은 헌법 제35조, 안전권은 헌법 제34조에 명시되어 있다.

## 34 문화권

**정답** ④ 제시된 사례와 관련 있는 권리는 문화권이다. 문화권은 여가 생활의 증대, 생활 수준 향상 등을 배경으로 등장하였으며, 현대 국가에서 그 중요성이 증대되고 있다.

## 35 정보 인권과 환경권

**정답** ③ (가)는 정보 인권, (나)는 환경권이다. 환경권은 헌법에 국민이 보장받는 권리임과 동시에 보전 의무를 명시하고 있는 권리이다.

**오답** ① 평등권에 대한 설명이다. ② 안전권에 대한 설명이다. ④ 정보 사회의 발달과 밀접한 관련이 있는 것은 정보 인권이다. ⑤ 국가는 정보 인권과 환경권이 침해당하지 않도록 적극적으로 정책을 수립해야 한다.

### 36 헌법과 인권의 관계

**정답** ① 헌법은 국가의 최고법으로 국민의 기본권을 구체적으로 명시하고 있다. 이러한 점에서 헌법은 국민의 인권을 수호하는 근본 토대라고 할 수 있다.

**오답** 헌법 제37조 제1항에서는 헌법에 구체적으로 명시되지 않은 권리도 국민의 자유와 권리에 해당하면 광범위하게 보장할 수 있도록 규정하고 있다. 또한 공익을 위해 기본권을 제한하더라도 헌법에 기본권 제한의 목적, 방법, 형식, 내용상 한계를 명시하고 자유와 권리의 본질적인 내용을 침해할 수 없다고 규정하고 있다.

### 37 자유권, 사회권, 청구권

**정답** ④ (가)는 자유권, (나)는 사회권, (다)는 청구권이다. 자유권은 국가 권력의 간섭 없이 자유롭게 생활할 수 있는 권리이므로 사회권에 비해 소극적인 성격을 지닌 기본권이다.

**오답** ① 현대 복지 국가에서 등장한 권리는 사회권이다. ② 다른 권리의 보장을 위한 수단적 권리는 청구권이다. ③ 다른 기본권 실현의 전제 조건이 되는 기본권은 평등권이다. ⑤ 국민 주권의 원리를 실현하기 위한 필수적 권리는 참정권이다.

### 38 우리나라의 권력 분립 제도

**정답** ④ 제시된 기사는 우리나라 권력 분립 제도 중 입법부가 행정부를 견제할 수 있는 권한인 국정 감사권과 관련 있다. 국회는 매년 정기적으로 국정 전반을 감사할 수 있는 국정 감사권을 가진다.

### 39 권력 분립 제도

**정답** ① 몽테스키외는 《법의 정신》에서 국가 권력의 남용을 막고 국민의 인권을 보장하기 위해 권력 분립을 주장하였다.

**오답** ② 시민 참여에 대한 설명이다. ③ 복수 정당제에 대한 설명이다. ④ 입헌주의에 대한 설명이다. ⑤ 국민 주권의 원리에 대한 설명이다.

### 40 헌법으로 보장하는 기본권

**정답** ① (가)는 참정권, (나)는 평등권이다. 참정권은 국가의 의사 결정 과정에 참여할 수 있는 적극적이고 능동적인 권리이다.

**오답** ② 국가 배상 청구권은 청구권에 해당한다. ③ 헌법에 열거되지 않아도 기본권은 보장될 수 있다. 평등권은 천부성을 지닌 권리로 헌법에 명시되어 있다. ④ 인간의 존엄과 가치 및 행복 추구권에 대한 설명이다. ⑤ 연대권에 대한 설명이다. 참정권과 평등권은 두 차례의 세계 대전 발발 이전에 등장하였다.

### 41 인권 보장을 위한 헌법의 제도적 장치

**정답** ④ ㄱ. 입법부(국회)가 대법원장 및 대법관 임명 동의권을 행사하여 사법부(법원)를 견제하는 것은 권력 분립 제도와 관련 있다. ㄴ. 기본권 구제 기관인 헌법재판소는 헌법 소원 심판과 위헌 법률 심판에서 해당 사안의 헌법 위반 여부를 심판한다. ㄷ. 헌법 불합치 결정은 해당 법률이 사실상 헌법에 위배된다는 판단을 의미한다.

### 선택지 분석

ㄷ. ㉠은 법원의 제정으로 심판이 시작된다.  
→ 위헌 법률 심판에 대한 설명이다.

### 42 시민 참여 방법

**정답** ③ 시민불복종에 대한 설명이며, 안전 신문고는 합법적인 시민 참여 방법이다.

### 43 시민단체와 이익 집단

**정답** ② A는 시민단체, B는 이익 집단이다. ㄱ. 이익 집단은 공익보다 특수 이익을 우선하므로 ㉠은 '예'이다. 이익 집단과 시민단체는 모두 대의 민주주의의 한계를 보완하며, 합법적인 형태의 참여 방법이므로 ㉡과 ㉢은 모두 '예'이다. ㄷ. 시민단체와 이익 집단은 모두 집단적인 형태의 시민 참여 방법이다.

**오답** ㄴ. 시민단체와 이익 집단은 모두 시민이 정치 과정에 직접 참여하는 방법이다. ㄷ. 시민단체와 이익 집단은 모두 정책 결정 과정에 영향력을 행사한다.

### 44 시민불복종의 정당화 조건

**정답** ② ㄱ, ㄷ. 시민불복종이 정당화되기 위해서는 비폭력적인 방법으로 이루어져야 하며, 위법 행위에 대한 처벌을 감수하여 법체계에 대한 존중을 보여주어야 한다.

**오답** ㄴ. 공공의 이익과 정의를 실현하기 위한 목적으로 이루어져야 한다. ㄷ. 합법적인 방법을 모두 동원하여도 해결되지 않을 때 최후의 수단으로 행사해야 한다.

### 45 사회적 소수자의 의미와 특징

**정답** ④ 사회적 상황과 여건에 따라 사회적 소수자에 해당하는 구성원이 다를 수 있다.

**오답** ① 집단 구성원의 수가 사회적 소수자를 규정하는 기준은 아니다. ② 상황과 여건에 따라 사회적 소수자가 달라질 수 있으므로 태어나면서부터 사회적 소수자가 결정된다고 보기 어렵다. ③ 사회적 소수자 차별로 인해 인권 침해와 사회 갈등이 발생하여 사회 문제가 될 수 있다. ⑤ 사회적 소수자 차별 문제를 해결하기 위해 개인적 차원의 노력뿐만 아니라 사회적 차원의 노력도 필요하다.

### 46 사회적 소수자 차별 문제

**정답** ① 제시된 법은 <기간제 및 단시간 근로자 보호 등에 관한 법률> 제8조 제1항이다. 이는 사회적 소수자에 해당하는 비정규직, 기간제 근로자의 권리를 보호하기 위한 목적으로 제정되었으며, 정규직 근로자와 비교하여 차별적 처우를 하지 않도록 명시하였다.

### 47 연소 근로자

**정답** ② 갑은 17세이므로 1일 7시간 일할 수 있고 당사자의 합의에 따라 1일 1시간 연장 근무할 수 있다. 따라서 당사자가 합의했다면 ㉠의 근로 계약은 유효하다.

**오답** ① 편의점은 도덕상 또는 보건상 유해·위험한 사업이 아니므로 근무할 수 있다. ③ 연소 근로자인 갑은 1주 동안 정해진 근무일에 개근하고, 4주 평균 기준 1주 동안 일을 하면 1주 평균 1회 이상의 유급 휴일을 받을 수 있다. ④ 임금은 전액 통화로 지급해야 한다. ⑤ 연소 근로자는 그 연령을 증명하는 가족 관계 증명서와 보호자 동의서를 사업장에 갖추어 두어야 한다.

#### 48 청소년의 노동권 침해의 해결 방안

**정답** ③ 17세 청소년이 일주일에 45시간을 근무했으므로 노동권이 침해받은 상황이다. 청소년 노동권 침해를 해결하기 위해 사용자는 관련 법규를 준수해야 하고, 청소년은 노동권에 대한 지식을 갖추고 근로 계약서를 작성해야 한다. 사회적 차원에서는 청소년 노동 관련 법률이나 제도를 보완해야 한다. 한편, 청소년은 휴일에 일하거나 초과 근무를 할 수 있고, 이 경우 50%의 가산 임금을 받을 수 있다. 다만, 청소년의 동의하에 1일 1시간, 일주일 5시간 연장 근무할 수 있고, 근로 가능 시간을 초과하는 근로 요구는 거부할 수 있다.

#### 49 세계 인권 문제의 해결

**정답** ① 자국 내 난민 감시 센터(IDMC)는 난민 문제를 해결하기 위해 노력하는 비정부 기구이다.

**오답** ② 국제 아동 권리 지표는 키즈 라이츠 재단이 국제 연합 아동 권리 협약을 비준하고 있는 국가를 대상으로 측정하는 인권지수이다. ③ 차별과 박해를 받는 소수 민족은 사회적 소수자이다. ④ 소수 민족 차별과 같은 세계 인권 문제는 다양한 국제 행위 주체가 협력할 때 해결할 수 있다. ⑤ 국제 사회의 협력과 지원이 필요하다.

#### 50 기본권 구제 제도

(1) 헌법재판소

(2) **모범 답안** 법률이나 공권력의 행사로 국민의 기본권이 침해받은 이를 구제하여 개인의 기본적 인권을 실질적으로 보장한다.

**주요 내용** 위헌 법률 심판, 헌법 소원 심판은 침해받은 기본권 구제를 위한 제도이며 인권 보장을 목적으로 한다고 서술해야 함.

채점 기준	배점
침해받은 기본권 구제와 인권 보장 관련 내용을 모두 서술한 경우	상
침해받은 기본권 구제와 인권 보장 관련 내용 중 한 가지만 서술한 경우	하

#### 51 세계 인권 문제

(1) **모범 답안** 성차별 문제가 나타나고 있음을 알 수 있다. 성차별 문제는 종교나 관습에 의한 성차별 관행, 차별적 사회 구조와 편견으로 발생한다.

**주요 내용** 성차별 문제는 종교나 관습에 의한 성차별 관행, 차별적 사회 구조와 편견으로 발생한다는 내용을 서술해야 함.

채점 기준	배점
성차별 문제임을 파악하고 그 원인을 모두 서술한 경우	상
성차별 문제임을 파악했으나 원인에 대해 미흡하게 서술한 경우	중
성차별 문제라고만 서술한 경우	하

(2) **모범 답안** 인권지수는 특정 국가의 절대적 인권 수준을 반영하는 것이 아니기 때문에 기준을 정하는 방식에 따라 수치가 달라질 수 있다.

**주요 내용** 인권지수가 절대적 인권 수준을 나타내는 것이 아니고 기준을 정하는 방식에 따라 달라질 수 있다는 내용을 서술해야 함.

채점 기준	배점
절대적 인권 수준을 나타내는 것이 아니고 기준을 정하는 방식에 따라 상대적이라는 내용을 서술한 경우	상
기준을 정하는 방식에 따라 상대적이라는 내용만 서술한 경우	하

#### 52 인권의 의미와 특징

**정답** ② (가), (다), (라)는 틀린 진술이고, (나)와 (마)는 옳은 진술이다. 따라서 말은 오른쪽으로 두 칸 이동하여 최종 위치는 B가 된다.

**오답** (가) 인권은 누구나 누리는 권리이다. (다), (라) 인권은 모든 사람이 태어나면서부터 가지는 권리이다.

#### 53 카렐 바작의 인권 3세대론

**정답** ⑤ 카렐 바작은 인권의 변화 과정을 1~3세대로 구분하여 설명하였다. 1세대 인권은 자유롭기 위해 국가로부터 불간섭을 요구하는 권리, 2세대 인권은 인간다운 삶을 보장받기 위해 국가가 적극적으로 개입할 것을 요구하는 권리, 3세대 인권은 차별받는 집단의 인권 보호를 위해 연대와 단결을 강조하는 전 지구적 차원의 권리이다.

**오답** ① ㉠에 대한 설명이다. ②, ③, ④ ㉡에 대한 설명이다.

#### 54 시민 혁명의 전개

**정답** ③ (가)와 (나)에는 모두 인간이 태어나면서부터 권리를 가지고 있다는 천부 인권 사상이 나타나 있다.

**오답** ① 최초로 사회권을 명시한 것은 독일의 바이마르 헌법이다.

② (나) 발표 이후에도 참정권은 성별이나 재산 정도에 따라 제한되었다. ④ (가)와 (나) 모두 사회 계약설을 근거로 한 저항권이 나타나 있다. ⑤ (가)와 (나) 모두 연대권에 관한 인식이 나타나 있지 않다.

#### 55 바이마르 헌법

**정답** ⑤ 바이마르 헌법은 최초로 사회권을 명시한 문서로, 사회권은 인간다운 삶의 보장을 국가에 요구할 수 있는 권리이다. 바이마르 헌법은 이후 세계 각국의 복지 정책에 영향을 주었다.

**오답** ① 국제 연합 총회에서 선포된 것은 세계 인권 선언이다. ② 권리 장전은 바이마르 헌법 제정 전인 1689년에 승인되었다. ③ 바이마르 헌법은 소유권을 보장하기 때문에 사유 재산 제도를 인정한다. ④ 미국 독립 선언은 바이마르 헌법 제정 전인 1776년에 발표되었다.

#### 56 현대 사회에서 새롭게 등장한 인권

**정답** ④ <자료 2>와 <자료 3>은 안전권(㉠)과 관련 있고, <자료 4>는 환경권(㉡)과 관련 있다. 환경권은 안전권과 달리 환경 오염이 심각해지면서 등장한 권리이다.

선택지 분석

- ① ㉠ 중에서 ㉡에 해당하는 자료는 <자료3>이다. → 자료 4
- ② ㉢은 누구나 문화생활에 참여할 권리이다. → 문화권에 대한 설명이다.
- ③ ㉣은 ㉤과 달리 인권의 영역이 확장되며 나타났다. → ㉤과 ㉢은 모두
- ⑤ (가)에는 '온라인에서 개인 정보의 자기 결정권을 요구하는 웹툰 장면'이 들어갈 수 있다.  
→ 정보 인권과 관련 있는 내용으로, (가)에 들어갈 수 없다.

57 현대 사회에서 새롭게 등장한 인권

**정답** ⑤ 사회가 변화하면서 현대 사회에서는 주거권, 문화권, 정보 인권, 연대권 등이 등장하였다. ㄴ. 일조권은 인접 건물에 의해 자기 집에 태양 광선이 충분히 닿지 못하여 생기는 신체, 정신, 재산의 피해에 대해 보상을 청구할 수 있는 권리로, 주거권과 관련 있다. ㄷ. 인터넷상에서 개인이 자신과 관련된 정보의 수정이나 삭제 요구할 수 있는 잊힐 권리는 정보 인권에 포함된다. ㄹ. 인종, 국적 등과 관계 없이 인도주의적 구제를 받을 권리를 연대권이라고 한다.

**오답** ㄱ. ㉠은 1세대 인권으로 자유권, 평등권 등이 있다.

58 자유권

**정답** ② 밀줄 친 권리는 자유권이다. 자유권은 국가 권력의 간섭을 받지 않을 소극적 권리이다.

**오답** ① 청구권은 다른 기본권을 보장하기 위한 수단적 권리이다. ③ 사회권은 바이마르 헌법에서 보장되기 시작한 권리이다. ④ 사회권은 인간다운 생활 보장을 국가에 요구할 수 있는 권리이다. ⑤ 참정권은 정치적 의사 결정 과정에 참여할 수 있는 능동적 권리이다.

59 참정권과 평등권

**정답** ① ㉠은 참정권, ㉡은 평등권이다. 참정권에는 선거권, 국민 투표권, 공무 담임권 등이 있다.

**오답** ② 헌법이 지향하는 최고의 가치는 인간의 존엄성이다. ③ 다른 기본권 침해 시 이를 구제받기 위한 권리는 청구권이다. ④ 평등권은 모든 사회 생활 영역에서 차별받지 않을 권리이다. ⑤ 참정권은 국민이 정치 과정에 참여할 수 있는 적극적 권리이다.

60 인권 보장을 위한 헌법의 제도적 장치

**정답** ① 삼권 분립 제도는 국가 권력의 남용을 막고 국민의 인권을 보장하기 위한 제도이다.

**오답** ② 법률안 거부권은 행정부가 입법부를 견제하기 위해 행사할 수 있는 권리이다. ③ 법원의 재판, 행정 심판 등은 헌법에서 보장하는 법률적 구제 수단이다. ④ 법원은 헌법재판소에 법률의 헌법 위반 여부 심판을 제청할 수 있다. ⑤ 헌법 제37조 제1항에 헌법에 열거되지 않은 기본권도 경시되지 않도록 명시하였다.

61 시민불복종

**정답** ③ 시민불복종은 공공의 이익과 사회 정의를 실현하기 위해 합법적인 방법을 모두 동원했음에도 해결되지 않을 때 최후의 수단

으로 해야 하고, 비폭력적인 방법으로 해야 하며, 위법 행위에 대한 처벌을 감수해야 한다.

62 시민 참여

**정답** ① ㄱ. SNS에 법 개정의 필요성을 홍보하는 것은 시간과 공간의 제약을 받지 않는 방법이다. ㄴ. 공청회 참석을 포함한 시민 참여는 참여 주체의 정치적 효능감을 향상시킨다.

**오답** ㄷ. 공청회 참석은 대의 민주주의의 한계를 보완하는 직접 참여 방법이다. ㄹ. 투표는 개별적 시민 참여 방법이고 주민 조례 청구는 집단적 시민 참여 방법이다.

63 사회적 소수자의 특징

**정답** ② 사회적 소수자는 신체적·문화적 특징 때문에 다른 집단과 구별되고 차별받으며 자신이 차별받는 집단에 속한다는 의식을 가진 사람을 말한다. 사회적 소수자를 결정하는 기준은 시대, 장소, 소속 집단의 범주 등에 따라 상대적이다. 사회적 소수자는 수적으로 반드시 소수를 의미하는 것이 아니라 권력의 열세를 의미한다.

64 사회적 소수자 차별 문제

**정답** ⑤ 사회적 소수자 차별 문제는 성별, 나이, 인종, 장애 여부 등 다양한 측면에서 나타난다. 이를 해결하기 위해서는 관련 제도 시행과 의식 개선이 이루어져야 한다.

**오답** ① 사회적 소수자를 규정하는 기준은 상대적이다. ② 각 차별의 정도를 비교할 수 없다. ③ 사회적 소수자에 대한 차별은 불합리한 관행, 법과 제도의 결합, 편견 등에서 비롯된다. ④ 사회적 소수자 우대 정책 때문에 발생하는 역차별 문제는 제시문에 나타나지 않았다.

65 청소년의 노동권

**정답** ① ㄱ, ㄴ. 연소 근로자는 임금을 독자적으로 청구할 수 있으며, 임금은 전액 통화로 지급받아야 한다.

**오답** ㄷ. 당사자 합의로 1일 1시간, 1주일 5시간 연장 근로할 수 있다. ㄹ. 친권자나 후견인이 미성년자의 근로 계약을 대리할 수 없다.

66 청소년의 노동권

**정답** ② 연소 근로자는 사업주에게 근무 시간 중 휴게 시간을 요구할 수 있다. 사업주는 연소 근로자에게 성인과 동일한 최저 임금제를 적용해야 하며, 임금은 1달에 1번 이상 정해진 일자에 통화로 지급해야 한다. 연소 근로자는 법정 대리인의 동의가 있더라도 도덕·보건상 유해한 업종에 종사할 수 없다. 따라서 가장 높은 점수를 획득한 사람은 10점을 획득한 을이다.

**오답** ① 갑이 획득한 점수는 6점이다. ③ 옳게 답한 개수가 가장 많은 사람은 을이다. ④ 갑이 옳게 답한 개수는 2개, 을이 옳게 답한 개수는 4개이다. ⑤ 갑이 획득한 점수는 6점, 병이 획득한 점수는 4점이다.



자료 분석

- A는 B에게 2달에 1번 임금을 지급할 수 있다. → ×
- B는 A에게 근무 시간 중 휴게 시간을 요구할 수 있다. → ○
- A는 B에게 성인보다 낮은 최저 임금제를 적용할 수 있다. → ×
- 법정 대리인의 동의가 있으면 도덕·보건상 유해한 업종에 종사할 수 있다. → ×

67 세계 인권 문제의 해결

**정답** ② 제시된 자료에는 아동 노동 문제가 나타나 있다. 가, 르, 세계 인권 문제 해결을 위해 개인은 세계시민 의식을 바탕으로 인권 문제의 해결 방안을 모색해야 하고, 비정부 기구는 국제적 여론 조성을 통해 인권 탄압의 심각성을 알려야 한다.

**오답** 나. 전쟁은 국제 문제 해결의 바람직한 방안이 아니며, 오히려 아동의 권리 침해를 악화시킬 수 있다. 다. 세계 인권 문제 해결을 위해서는 국제적 관심이 필요하다.

논술형 문제

135쪽

[문항 설계 의도]

- 사회적 소수자의 의미와 특징을 이해하고 시각 장애인이 사회적 소수자인지를 파악한다.
- 비장애인의 안마사 자격 취득 제한이 기본권을 제한한 것인지 분석하고 입장 차이를 설명할 수 있도록 한다.

작성 Tip | 논술문 작성 가이드

다음과 같이 두 가지 입장 모두를 이해하고, 자신의 생각에 맞는 관점을 선택하여 서술하도록 한다.

- 비장애인의 안마사 자격 취득 제한이 필요하다는 입장: 시각 장애인은 사회적 소수자이므로 보호해야 함, 비장애인은 직업 선택의 폭이 넓음 등
- 비장애인의 안마사 자격 취득 제한이 필요없다는 입장: 안마사 자격 취득 제한을 두는 것은 기본권 중 하나인 직업 선택의 자유를 침해함 등

(1) **모범 답안** 사회적 소수자는 신체적·문화적 특징 때문에 다른 집단과 구별되고 차별받으며 자신이 차별받는 집단에 속한다는 의식을 가진 사람을 말한다. 시각 장애인은 신체적인 특징으로 다른 집단과 구별되고 경제 활동에서 차별을 받으며, 차별받는 집단에 속한다는 의식을 가지고 있으므로 사회적 소수자에 해당한다.

**[주요 내용]** 사회적 소수자는 신체적·문화적 특징으로 차별받으며, 차별받는 집단에 속한다는 의식이 있는 사람이고, 시각 장애인이 이에 해당한다는 내용을 서술해야 함.

채점 기준	배점
사회적 소수자의 의미 관련 내용을 근거로 시각 장애인이 사회적 소수자라고 서술한 경우	상
시각 장애인이 사회적 소수자라고 서술하였지만 근거가 미흡한 경우	중
시각 장애인이 사회적 소수자라고만 서술한 경우	하

(2) **모범 답안** 헌법 소원 심판은 위헌 심사형과 권리 구제형이 있다. 위헌 심사형은 재판 당사자가 법원에 위헌 법률 심판 제청 신청을 하였으나 받아들여지지 않았을 경우 헌법재판소에 직접 청구하는 심판이며, 권리 구제형은 국가 권력의 행사 또는 불행사 때문에 기본권을 침해받은 국민이 청구하는 심판이다.

**[주요 내용]** 위헌 심사형과 권리 구제형 헌법 소원 심판을 나누어 의미를 서술해야 함.

채점 기준	배점
위헌 심사형과 권리 구제형 헌법 소원 심판으로 나누어 의미를 서술한 경우	상
위헌 심사형과 권리 구제형 헌법 소원 심판 중 하나만 의미를 서술한 경우	하

(3) **step 1** **모범 답안** '취득을 제한해야 한다.'의 예시

① 비장애인은 시각 장애인에 비해 다른 직업을 선택할 기회가 많이 있다. ② 시각 장애인의 생존권과 자아 실현을 보장할 필요가 있다. ③ 국가는 사회적 소수자인 시각 장애인을 특별히 보호할 의무가 있다. → 따라서 시각 장애인이 아닌 사람의 안마사 자격 취득을 제한(해야 한다).

**step 2** **모범 답안** '취득을 제한해야 한다.'의 예시

시각 장애인이 아닌 사람의 안마사 자격 취득을 제한해야 한다. 시각 장애인은 신체 기능상의 장애로 인해 선택할 수 있는 직업의 폭이 제한되지만, 비장애인은 다른 직업을 선택할 기회가 많이 있으므로 안마사 자격 취득의 제한이 비장애인의 직업 선택의 자유를 과도하게 침해하는 것은 아니라고 생각한다. 시각 장애인은 적절한 직업을 찾지 못해 생존권을 위협당하는 경우가 많으므로 이들의 생존권 및 자아 실현을 목적으로 비장애인의 진입을 제한하는 것이 필요하다. 또한 국가는 사회적 소수자에 해당하는 시각 장애인을 특별히 보호하여 이들이 인간답게 생활할 수 있도록 할 의무가 있으며, 비장애인의 안마사 자격 요건 제한은 이에 적합한 수단이다.

**[주요 내용]** 시각 장애인, 직업 선택의 폭, 제한, 생존권, 위협, 사회적 소수자, 보호, 인간답게 생활, 의무

구분	채점 기준	
근거 제시	상	비장애인의 안마사 자격 취득 제한에 대한 자기의 의견과 관련 근거를 세 가지 모두 명확하게 서술한 경우
	중	비장애인의 안마사 자격 취득 제한에 대한 자기의 의견과 관련 근거를 두 가지만 서술한 경우
	하	비장애인의 안마사 자격 취득 제한에 대한 자기의 의견과 관련 근거를 한 가지만 서술한 경우
논술문의 형식	상	논술문의 형식(주장, 근거, 결론)을 갖추어 바르게 작성한 경우
	하	논술문의 형식을 갖추지 못한 경우

## II 사회정의와 불평등

**빠른 정답**

**1등급 완성!**

**1단계 개념 확인 문제**

- |                 |           |             |      |      |      |
|-----------------|-----------|-------------|------|------|------|
| 01 ○            | 02 ○      | 03 ○        | 04 × | 05 ○ | 06 ○ |
| 07 ×            | 08 ×      | 09 ○        | 10 ○ | 11 × | 12 ○ |
| 13 교정적 정의       | 14 교환적 정의 | 15 응보주의     |      |      |      |
| 16 예방주의         | 17 업적     | 18 극단적 이기주의 |      |      |      |
| 19 노직           | 20 공동체주의  | 21 공동선      |      |      |      |
| 22 성장 거점 개발     | 23 사회 보험  |             |      |      |      |
| 24 적극적 평등 실현 조치 |           |             |      |      |      |

**2단계 내신 대비 문제**

- |           |          |               |      |      |      |
|-----------|----------|---------------|------|------|------|
| 25 ⑤      | 26 ④     | 27 ④          | 28 ④ | 29 ③ | 30 ② |
| 31 ③      | 32 ③     | 33 ⑤          | 34 ④ | 35 ③ | 36 ① |
| 37 ②      | 38 ④     | 39 ③          | 40 ④ | 41 ④ | 42 ② |
| 43 ③      | 44 ④     | 45 ③          | 46 ③ | 47 ④ |      |
| 48 해설 참조  | 49 해설 참조 | 50 (1) 공간 불평등 |      |      |      |
| (2) 해설 참조 |          |               |      |      |      |

**3단계 수능 대비 문제**

- |      |      |      |      |      |      |
|------|------|------|------|------|------|
| 51 ④ | 52 ⑤ | 53 ④ | 54 ④ | 55 ① | 56 ⑤ |
| 57 ③ | 58 ④ | 59 ④ | 60 ④ | 61 ② | 62 ⑤ |
| 63 ④ | 64 ② | 65 ④ | 66 ③ |      |      |

### 25 정의의 의미

**정답** ⑤ 정의는 오래전부터 동서양을 막론하고 논의되었다. 동양에서는 올바른 행동을 하는 것, 사적 이익이나 결과에 얽매이지 않는 것 등으로, 서양에서는 각자에게 공정한 몫을 주는 것, 자신이 맡은 역할을 충실히 수행하는 것 등을 정의로 여겼다.

### 26 정의의 분류

**정답** ④ (가)는 교정적 정의, (나)는 분배적 정의이다.

### 27 아리스토텔레스의 정의 구분

**정답** ④ 제시문의 내용을 이야기한 사상가는 아리스토텔레스이다. 아리스토텔레스는 각자가 마땅히 받아야 하는 것을 공정하게 받는 것이 정의로운 것이라고 보았다.

**선택지 분석**

- ① 업적에 따라 몫을 분배하는 것은 **정의롭지 못하다.** → 정의롭다.
- ② 분배적 정의는 재화를 **필요**에 따라 분배하는 것이다.  
→ 개인의 기여도, 가치
- ③ **교환적 정의**는 피해를 끼친 사람에게 그만큼 보상하게 하는 것이다. → **교정적 정의**
- ⑤ **교정적 정의**는 같은 가치를 지닌 두 물건을 교환함으로써 교환의 결과를 공정하게 하는 것이다. → **교환적 정의**

### 28 사회 제도가 추구하는 정의

**정답** ④ 사상가는 롤스이다. 롤스는 사회 제도의 제1덕목을 정의라

고 주장하였다. 롤스는 모든 사람은 침해받을 수 없는 기본적인 권리를 가지며, 이를 보장하는 것이 정의로운 사회 제도라고 보았다. 따라서 아무리 법이 효율적이고 정연할지라도 정의롭지 않다면 개선되어야 한다고 보았다.

### 29 교정적 정의

**정답** ③ (가)는 응보주의, (나)는 예방주의 입장이다. 응보주의는 인간을 자신의 행위에 대해 책임질 수 있는 자율적인 존재로 보고 타인에게 해를 가했다면 그에 상응하는 처벌을 받아야 한다(ㄱ)고 보았다. 예방주의는 처벌을 통해 범죄자의 행동을 통제 및 교화하고, 범죄자가 처벌받는 모습을 본보기로 보여 주는 것이 잠재적인 범죄를 예방하는 데 효과적이라고 보았으며(ㄴ), 응보주의보다 범죄자의 교화에 중점을 둔다. 두 입장은 모두 법을 공정하게 집행하여 모든 사회 구성원의 인권을 보호하고, 법에 따라 범죄 행위를 공정하게 처벌해야 한다(ㄷ)고 보았다.

**선택지 분석**

- ㄷ. (나)는 (가)에 비해 범죄 예방과 촉법소년 교화에 무관심할 것이다. → (가)는 (나)에 비해

### 30 능력에 따른 분배 사례

**정답** ② 공고는 치과 의사의 자격 요건으로 전문적인 지식과 자질을 갖춘 사람을 들고 있다. 전문적인 지식과 자질에 따라 분배하는 것은 능력에 따른 분배이다.

### 31 업적에 따른 분배와 능력에 따른 분배

**정답** ③ 분배 기준으로 (가)는 업적, (나)는 능력을 강조하는 입장이다. (나)는 (가)에 비해 업적을 쌓는 과정에서 경쟁이 과열될 수 있는 정도(X)와 실적에 따른 분배를 강조하는 정도(Y)가 상대적으로 낮다. 반면 분배 기준으로 전문적인 지식과 자질(능력)을 강조하는 정도(Z)는 상대적으로 높다.

### 32 분배적 정의의 실질적 기준

**정답** ③ 낮은 능력, 높은 업적, 병은 필요에 따른 분배를 강조한다. 업적과 능력에 따른 분배는 타고난 재능이나 부모의 사회적·경제적 지위와 같은 선천적·우연적 요소가 개입할 수 있다는 단점이 있다.

**오답** ①은 능력에 따른 분배의 단점, ②, ⑤는 필요에 따른 분배의 단점, ④는 업적과 능력에 따른 분배의 단점에 해당한다.

### 33 자유주의의 특징

**정답** ⑤ 자유주의는 개인의 자유와 권리를 무엇보다 소중한 가치로 여기는 사상으로, 개인을 스스로 자신의 가치관을 선택할 수 있는 독립적이고 자율적인 존재로 본다. 또한 공동체에 의해 부여된 역할보다 자신의 선택으로 이루어진 자아 정체성을 중시한다.

**오답** ①, ③, ④ 공동체주의 관점에서 긍정의 대답을 할 질문이다. ② 자유주의는 공동체가 개인의 삶에 적극 간섭해서는 안 되며 중립적 입장에서 개인의 자유로운 삶을 최대한 허용해야 한다고 본다.

### 34 자유주의적 정의관의 한계

**정답** ④ 자유주의적 정의관을 무제한적으로 인정하면 타인의 권리나 사회 전체의 이익을 침해하는 극단적 이기주의를 초래할 수 있다.

**오답** ①, ②, ③, ⑤ 공동체주의적 정의관을 지나치게 강조할 때의 문제점이다.

### 35 롤스의 자유주의적 정의관

**정답** ③ 롤스는 자유주의 사상가로 정의의 제1원칙은 언제나 제2원칙에 우선한다고 보았다. 따라서 롤스는 사회적 약자의 복지 증진을 목적으로 개인의 자유를 침해할 수는 없다고 본다. ① 차등의 원칙에 따르면 사회적 약자의 복지를 위한 국가의 개입은 정당하다. ② 제1원칙을 통해 개인의 기본적 자유를 평등하게 보장해야 함을 강조하였다. ④ 어떤 직책이나 지위에 오를 기회는 모두에게 균등하게 개방되어야 한다고 보았다. ⑤ 사회적·경제적 불평등은 최소 수혜자에게 최대의 이익이 되고, 모든 사람에게 기회가 균등하게 주어질 때 허용될 수 있다고 보았다.

### 36 롤스와 노직의 자유주의적 정의관

**정답** ① 갑을 롤스, 을은 노직이다. 롤스와 노직은 모두 자유주의적 정의관을 대표하는 사상가로 개인의 자유와 권리를 보호하고 존중(ㄷ)해야 하며, 정의로운 사회에서도 사회적·경제적 불평등은 존재할 수 있다고 보았다(ㄴ). 롤스는 사회적 약자의 이익을 보장하며 불평등을 최소화하려는 국가 노력의 필요성을 인정(ㄱ)하였지만, 노직은 사회적 약자의 이익을 위한 국가의 개입은 개인의 소유 권리를 침해하는 것이라고 보고 반대하였다. 그러나 노직은 취득과 양도의 과정에서 부정의가 있었다면 국가의 개입을 통해 이를 교정해야 한다(ㄹ)고 보았다.

#### 선택지 분석

- ㄷ. C: 개인의 자유와 권리를 보호하고 존중해야 한다. → B
- ㄹ. C: 취득과 양도의 과정에서 발생한 부정의에 대해 국가는 어떠한 개입도 해서는 안 된다.  
→ 취득과 양도의 과정에서 부정의가 있다면 국가의 개입을 통해 이를 교정해야 한다.

### 37 공동체주의적 정의관의 특징

**정답** ② 공동체주의는 개인은 공동체 내에서 자아를 실현할 수 있는 존재로, 공동체에 대한 유대감과 소속감을 바탕으로 공동선을 추구해야 한다고 본다.

#### 선택지 분석

- 공동체는 단지 개인의 권리와 자유를 보장하기 위한 수단이다.  
→ 자유주의의 입장이다. 공동체주의는 공동체를 좋은 삶을 살아가는 데 중요한 기반으로 보았다.
- 공익 실현을 위해 개인의 자유와 권리를 무조건 희생해야 한다.  
→ 무조건 희생해야 한다고 주장하지 않았다.

### 38 공동체주의적 정의관을 주장한 사상가들

**정답** ④ 갑은 매킨타이어, 을은 샌델이다. 갑, 을은 모두 공동체주의

적 정의관을 대표하는 사상가로 인간은 자기가 속한 공동체의 구성원으로서의 정체성을 지니며, 공동체 구성원으로서 역할과 의무에 충실해야 한다고 보았다.

**오답** ①, ②, ③, ⑤ 자유주의 입장에서 할 수 있는 주장이다.

### 39 자유주의와 공동체주의의 비교

**정답** ③ (가)는 자유주의, (나)는 공동체주의이다. 자유주의에 따르면 개인의 자유 실현이 공동선의 실현보다 우선하며, 공동체는 개인의 자유를 위한 수단이다. 반면 공동체주의는 개인의 자유 실현보다 공동선의 실현을 우선시하며, 개인과 공동체는 상호 밀접한 관계가 있고 개인은 공동체 전체의 이익을 추구해야 한다고 보았다. 따라서 (나)는 (가)에 비해 공동선보다 개인의 자유 실현을 중시하는 정도(X)는 상대적으로 낮다. 반면 공동체를 위해 개인의 헌신을 중시하는 정도(Y)와 공동체와 개인의 유기적 관계를 중시하는 정도(Z)는 상대적으로 높다.

### 40 자유주의적 정의관의 사례 적용

**정답** ④ (가)는 자유주의적 정의관의 입장이다. 자유주의적 정의관은 개발 제한 구역이 해당 구역 토지 소유자들의 권리와 이익을 침해할 수 있다고 보고, 공동선을 증진하기 위해서 개인의 희생을 감수해서는 안 된다고 주장할 것이다.

**오답** ㄱ. 자유주의적 정의관도 개인의 권리(재산권)와 공동체에 대한 의무(환경 보전)가 양립할 수 있다고 본다. ㄷ. 자유주의적 정의관은 공동체에 대한 의무보다 개인의 자유와 권리를 중시한다.

### 41 사회 계층의 양극화

**정답** ④ 제시문은 사회 계층의 양극화에 대한 설명이다. 사회 계층의 양극화 현상의 대표적인 원인은 재산과 소득 차이에 따른 경제적 격차로, 이는 교육, 취업, 주거 등 다양한 측면의 격차로 이어진다. 또한 능력과 업적에 따른 계층 이동을 어렵게 하여 폐쇄적인 사회 구조를 형성하며, 계층 간 위화감을 조성하여 사회 발전 동력을 약화한다. 이러한 현상을 완화하려면 다양한 사회 복지 제도가 필요하다.

### 42 수도권 집중 현상으로 본 공간 불평등

**정답** ② 수도권 집중도는 공간 불평등 현상을 보여 준다. 공간 불평등은 지역 개발 방식의 차이로 나타나기도 하는데, 우리나라는 과거 성장 거점 개발 정책으로 인해 공간 불평등이 심화되었다. 공간 불평등을 해소하기 위해서는 균형 개발을 추진해야 한다.

### 43 사회적 약자에 대한 차별 사례

**정답** ③ 해당 사례는 새로운 디지털 기기로부터 소외된 노인의 모습을 보여 준다. 사회적 약자는 사회에서 신체적·정리적·경제적·사회적·문화적으로 소외되어 인간다운 삶을 영위하는 데 어려움을 겪는 개인이나 집단을 말한다. 고령층이 편하게 이용할 수 있었던 상점을 무인 정보 단말기 때문에 이용하기 어려워진다면 그 자체로 과거에 없던 배제와 차별이 생긴 것이라고 볼 수 있다.

#### 44 공공 부조와 사회 서비스의 특징

**정답** ④ A는 사회 서비스, B는 공공 부조이다. 사회 서비스는 도움이 필요한 장애인, 노인 등에게 상담, 재활, 돌봄 등 다양한 서비스 혜택을 제공하는 제도로 비금전적 지원을 원칙으로 한다. 공공 부조는 생활 능력이 없거나 생활이 어려운 국민의 최저 생활을 보장하는 제도(L)로 기초 연금, 의료 급여 등이 있다. 공공 부조는 조세 부담 능력이 있는 국민이 낸 세금을 재원으로 전액을 지원하기 때문에 소득 재분배 효과가 가장 크다. 사회 서비스와 공공 부조는 모두 사회 복지 제도로, 사회 계층의 양극화 현상 완화에 도움이 된다(ㄹ).

##### 선택지 분석

- ㄱ. A는 국민에게 발생할 수 있는 사회적 위험을 보험 방식으로 사전에 대비하는 제도이다. → 사회 보험은
- ㄷ. A는 B에 비해 소득 재분배 효과가 크다. → B는 A에 비해

#### 45 사회 보험의 특징

**정답** ③ 비금전적 지원을 원칙으로 하고 자활 능력을 길러 주는 것은 사회 복지 제도 중 사회 서비스에 해당한다. 사회 보험은 금전적으로 지원하는 복지 정책이다.

#### 46 지역 격차 완화 정책

**정답** ③ 제시된 세 가지 정책은 지역 격차 완화 정책의 사례이다. 지역 격차 완화 정책은 공간 불평등 현상으로 나타난 지역 간 격차를 완화하여 국토의 균형 발전을 도모하려는 정책이다.

#### 47 적극적 평등 실현 조치와 역차별

**정답** ④ 농어촌 학생 특별 전형은 적극적 평등 실현 조치로, 적극적 평등 실현 조치는 사회적 약자를 우대함으로써 사회적 약자의 실질적 기회의 평등을 보장해 준다. 같은 적극적 평등 실현 조치를 찬성하는 입장이고, 을은 역차별 문제를 우려하며 반대하는 입장이다.

##### 선택지 분석

- ㄱ. 같은 능력에 따른 분배의 실현을 추구한다. → 필요
- ㄷ. 을은 결과의 평등을 옹호할 것이다.  
→ 스스로의 능력과 노력에 의한 성공

#### 48 롤스의 정의의 필요성

**모범 답안** 롤스, 정의롭지 못한 법이나 제도가 유지되면 이를 악용하여 부당하게 이익을 얻으려는 사람들이 늘어나고 사회 혼란이 가중되므로, 사회 구성원의 기본적 권리 보장과 사회 통합을 위해서 정당하지 못한 법이나 제도는 개선 및 폐기되어야 한다.

**[주요 내용]** 정의로운 사회 제도만이 구성원의 기본적 권리와 자유를 보장하고 사회 통합을 유지할 수 있음을 서술해야 함.

채점 기준	배점
롤스를 쓰고, 기본적 권리 보장과 사회 통합을 위해서 개선 및 폐기되어야 한다는 내용을 모두 바르게 서술한 경우	상
롤스를 썼으나, ㉠의 이유를 미흡하게 서술한 경우	하

#### 49 권리와 의무, 사익과 공익의 조화

**모범 답안** 개인의 권리와 사익을 최대한 보장하면서도, 개인은 사회적 책무를 다하며 공익을 지향하는 공동체를 만들어야 한다.

**[주요 내용]** 권리와 의무, 사익과 공익이 조화를 이루어야 함을 서술해야 함.

채점 기준	배점
사익과 공익을 조화롭게 추구하는 방안을 바르게 서술한 경우	상
사익과 공익을 조화롭게 추구하는 방안을 미흡하게 서술한 경우	하

#### 50 공간 불평등 현상의 원인과 문제점

- (1) 공간 불평등
- (2) **모범 답안** 공간 불평등 현상의 대표적인 원인으로는 빠른 경제 성장을 위해 추진된 성장 거점 개발 방식을 들 수 있다. 공간 불평등 현상은 지역 격차 심화 및 지역 간 갈등을 불러와 사회 통합을 저해할 수 있다.

**[주요 내용]** 공간 불평등 현상의 원인으로 성장 거점 개발 방식을 언급하고, 문제점으로는 지역 격차 심화, 지역 갈등, 사회 통합 저해 등을 서술해야 함.

채점 기준	배점
원인으로 성장 거점 개발 방식을 언급하고, 문제점을 바르게 서술한 경우	상
원인과 문제점 중 한 가지만 서술한 경우	하

#### 51 아리스토텔레스의 정의

**정답** ④ 제시문의 내용을 주장한 사상가는 아리스토텔레스이다. 아리스토텔레스는 모든 사람이 차등 없이 균등하게 분배받아야 한다는 획일적인 평등을 주장하지 않았다. 각 사람의 가치에 따라 분배하는 것이 정의롭다고 보았다.

#### 52 아리스토텔레스의 정의

**정답** ⑤ 제시문의 내용을 주장한 사상가는 아리스토텔레스이다. 아리스토텔레스는 필요에 따른 분배가 아니라 각 사람이 기여한 정도에 따라 분배하는 것을 정의롭다고 보았다.

#### 53 사형에 대한 칸트와 베카리아의 입장

**정답** ④ 같은 칸트(응보주의), 을은 베카리아(예방주의)의 입장이다. 칸트는 범죄 행위에 대한 대가로 응분의 처벌을 받는 것이 마땅하다고 보았다. 또한 사형은 살인을 저지른 범죄자에게 응분의 책임을 지우기 때문에 살인한 범죄자의 인간 존엄성과 가치를 존중하는 것이므로, 사형 제도의 유지를 주장하였다. 반면 베카리아는 사형이 공공의 이익에 이바지하는 바가 극히 적고 종신 노역형에 비해 범죄 예방 효과가 떨어진다고 보아 사형 제도에 반대하였다.

**모범** ①, ② 베카리아가 칸트에게 제기할 수 있는 비판(B)이다. ③, ⑤ 칸트가 베카리아에게 제기할 수 있는 비판(A)이다.



## 54 필요에 따른 분배

**정답** ④ (가)는 필요에 따른 분배가 공정하다고 말하고 있다. 따라서 (나)의 A에게 가장 빈곤한 사람에게 우선적으로 성금을 분배하려고 할 것이다.

## 55 노직의 자유주의적 정의관

**정답** ① 사상이 같은 노직이다. 노직은 근로 소득에 대한 과세는 개인의 소유 권리를 침해하는 것이라고 주장하였다.

**오답** ② 노직은 재화의 균등한 분배를 주장하지 않았다. ③ 노직은 소유물의 취득과 양도의 과정이 정당하다면 그로 인해 발생한 빈부 격차는 문제가 되지 않는다고 보았다. ④, ⑤ 노직은 사회적 약자를 우선적으로 배려하는 복지 정책은 개인의 소유 권리를 침해하는 것이라고 보고 반대하였다.

## 56 롤스와 노직의 사상 비교

**정답** ⑤ 같은 롤스, 음은 노직이다. 롤스는 차등의 원칙을 제시하면서 사회적·경제적 불평등은 최소 수혜자에게 최대 이익이 될 때 허용될 수 있다(ㄷ)고 보았다. 노직은 취득의 과정, 양도의 과정에서 부정의함이 없다면 소유물에 대한 배타적 권리를 갖는다(ㄹ)고 보았다.

### 선택지 분석

- ㄱ. A: 개인의 자유와 권리를 보호하는 것은 정의로운가?  
→ (예 / 예) 롤스와 노직 모두 자유주의적 정의관을 주장한 사상가로 개인의 자유와 권리를 보호하고 존중하는 것을 정의라고 보았다.
- ㄴ. A: 정의로운 사회에서도 경제적 불평등이 존재하는가?  
→ (예 / 예) 롤스와 노직 모두 분배의 절차가 공정하다면 그로 인한 사회적·경제적 불평등은 허용될 수 있다고 보았다.

## 57 밀과 매킨타이어의 정의관

**정답** ③ 같은 자유주의 사상이 밀, 음은 공동체주의 사상이 매킨타이어이다. 밀은 개인의 자유를 최대한 보장해야 한다고 보았고, 매킨타이어는 개인의 정체성이 공동체의 역사와 전통을 바탕으로 형성된다고 보았다.

### 선택지 분석

- ① 개인의 이익과 공동체의 이익은 항상 배타적인가?  
→ 아니요 / 아니요
- ② 공동체는 개인의 자유 실현을 위한 수단일 뿐인가?  
→ 예 / 아니요
- ④ 개인 스스로가 삶의 방식을 자율적으로 결정해야 하는가?  
→ 예 / 아니요
- ⑤ 개인의 자유를 어떠한 경우에도 제한하지 말아야 하는가?  
→ (아니요 / 아니요) 밀도 타인에게 해를 끼치지 않는 한에서의 개인의 자유를 주장하였다.

## 58 샌델의 공동체주의적 정의관

**정답** ④ 제시문은 공동체주의적 정의관의 사상이 샌델의 주장이다. 샌델은 공동체를 개인의 권리를 보호하기 위한 수단이 아닌 시민적 정체성의 토대라고 보고(ㄹ), 시민들은 연대 의식을 바탕으로 공동체에 참여해야 한다(ㄴ)고 보았다.

### 선택지 분석

- ㄱ. 시민은 공동체가 부여한 공적인 의무를 거부해야 한다. → 이행
- ㄷ. 공동체는 개인의 권리를 보호하기 위한 수단에 불과하다.  
→ 자유주의의 입장이다.

## 59 자유주의와 공동체주의의 특징

**정답** ④ (가)는 자유주의, (나)는 공동체주의의 입장이다. 공동체주의에서는 공동체를 개인의 정체성을 형성하는 중요한 기반으로 보며, 개인은 공동체의 영향을 받으며 소속감과 정체성을 형성해 나가는 존재로 공동체와 분리되어 독립적으로 존재할 수 없다고 본다. 반면 자유주의는 공동체를 개인의 자유와 권리를 보장하기 위한 수단으로 간주한다. 따라서 (나)는 (가)에 비해 공동체를 개인의 정체성 형성의 토대로 강조하는 정도(X)는 상대적으로 높다. 반면 개인을 삶의 주체로 살아가는 개별적 존재로 강조하는 정도(Y)와 공동체를 개인의 권리를 보장하기 위한 도구로 강조하는 정도(Z)는 상대적으로 낮다.

## 60 자유주의와 공동체주의에 대한 비판

**정답** ④ 같은 자유주의, 음은 공동체주의의 입장이다. 공동체주의에서는 공동체를 개인의 정체성을 형성하는 기반으로 보는 반면, 자유주의는 공동체를 개인의 자유와 권리 보장을 위한 수단으로 본다.

**오답** ①, ② 공동체주의 입장에서 자유주의 입장에 제기할 수 있는 비판이다. ③ 자유주의도 타인에게 해를 끼칠 경우에는 개인의 자유를 제한할 수 있다고 보았다. ⑤ 자유주의 입장에서 공동체주의 입장에 제기할 수 있는 비판이다.

## 61 사회 보험과 공공 부조의 특징

**정답** ② 사회 보험과 공공 부조는 모두 금전적 지원을 원칙으로 한다. 비금전적 지원을 원칙으로 하는 것은 사회복지 제도 중 사회 서비스이다.

## 62 공공 부조

**정답** ⑤ 의료 급여 제도는 공공 부조에 해당하며, 공공 부조는 조세 부담 능력이 있는 국민이 낸 세금을 재원으로 하여 전액을 지원하는 것을 원칙으로 한다(ㄷ). 이러한 사회복지 제도는 인간의 기본적 필요 충족을 분배적 정의의 기준으로 적용한 것이다(ㄷ). 통계 자료를 보면 수급권자 비율이 낮은 세종은 충청권(ㄴ)에 있다.

**오답** ㄱ. 인천, 대전, 울산은 수급권자 비율이 4.0% 미만이다.

## 63 공간 불평등 현상

**정답** ④ ㄱ. 공간 불평등은 지역 간에 사회적·경제적·문화적으로 격차가 발생하는 현상으로, 선진국과 개발 도상국의 격차, 수도권과 비수도권의 격차, 도시와 촌락의 격차 등이 있다. ㄷ, ㄹ. 공간 불평등을 완화하기 위한 지역 격차 완화 정책으로 공공 기관 지방 이전 정책과 기업의 지방 이전 유도 정책, 지역의 특성을 살린 지역 발전 전략 등이 있다.

**오답** ㄴ. 성장 거점 개발 전략은 국토 개발의 형평성보다 효율성을 추구하는 전략이다.

**64 공간 불평등의 해결을 위한 노력**

**정답** ② 제시문에는 과거 우리나라의 성장 거점 개발 방식의 추진과 이로 인한 지역 격차 및 공간 불평등 현상 그리고 이를 해결하기 위한 노력 등이 나타나 있다.

**65 장애인 의무 고용 제도**

**정답** ④ 제시문은 장애인 의무 고용 제도를 사례로 들어 적극적 평등 실현 조치가 필요함을 강조하고 있다.

**66 적극적 평등 실현 조치**

**정답** ③ 갑은 적극적 평등 실현 조치를 반대하는 입장이고, 을은 찬성하는 입장이다.

**오답** 르. 을만의 입장이다.

**논술형 문제**

149쪽

**[문항 설계 의도]**

- 자유주의적 정의관과 공동체주의적 정의관을 대표하는 사상을 통해 그 입장을 이해하고, 두 정의관의 차이점을 분석하는 능력을 기르도록 한다.
- 조상들의 역사적 행위에 대한 두 정의관의 적용을 통해 개인과 공동체의 책임 범위에 대한 논쟁을 파악함으로써 올바른 가치 판단 능력과 사회적·윤리적 쟁점 해결 능력을 기르도록 한다.

**자료 분석**

- 갑: 내 수입의 일부를 세금으로 내라는 것은 내 시간을 달라는 것이며 나에게 무엇을 하라고 강요하는 것과 같다. 공정한 경쟁 과정을 거쳐 얻은 이익에 대한 소유 권리는 오롯이 개인에게 있다. 개인의 소유 권리를 최대한 보장해야 정의가 실현된다고 봄.
- 을: 나는 누군가의 아들이거나 딸 또는 사촌이고, 이 도시나 저 도시의 시민이다. 나는 이 친족, 저 부족, 이 나라에 속한다. 나는 내 가족, 내 도시, 내 부족, 내 나라 과거에서 다양한 빛과 유산을 물려받는다. 또한 조상들의 기대와 후손으로서의 의무도 물려받는다. 개인은 공동체의 역사, 전통, 관습, 기대, 책임, 의무를 물려받는 존재임.

**작성 Tip | 논술문 작성 가이드**

1. 두 정의관의 차이점을 정확하게 파악하여 서술한다.
2. 과거 조상들의 행위에 대해 두 정의관의 입장에서 제시할 견해를 서술한다.
  - 자유주의적 정의관: 개인의 행위에 대한 책임은 인정함.
  - 공동체주의적 정의관: 개인이 속한 공동체의 행위에 대한 책임까지도 인정함.

(1) **모범 답안** 갑은 자유주의적 정의관의 입장인 노직, 을은 공동체주의적 정의관의 입장인 매킨타이어이다. 자유주의적 정의관은 각 개인의 자유와 권리 보장을 중시하며 공동체는 개인의 자유와 권리를 보호하고 증진하는 수단으로서 중립적 입장에서 개인의

자유로운 삶을 최대한 보장해야 한다고 본다. 공동체주의적 정의관은 개인의 정체성이 공동체의 역사와 전통 속에서 형성되며 개인은 공동체의 가치와 덕목을 내면화하고 공동체로부터 부여받게 되는 책임과 의무를 성실히 수행할 필요가 있다고 본다.

**[주요 내용]** 노직과 매킨타이어를 쓰고 자유주의적 정의관과 공동체주의적 정의관의 차이점을 서술해야 함.

채점 기준	배점
두 사상을 쓰고 두 정의관의 차이점을 명확하게 서술한 경우	상
두 사상을 썼지만 두 정의관의 차이점을 미흡하게 서술한 경우	하

(2) **step 1** **모범 답안** '책임이 없다.'의 예시

1. 갑의 입장에서 그렇게 생각하는 근거

- ① 개인은 독립적·자율적인 존재로, 개인의 자유와 권리 보장이 가장 중요하다.
- ② 공동체는 개인의 자유와 권리를 보호하는 수단으로 개인에게 사회적 책임을 강요해서는 안 된다.
- ③ 다른 사람의 자유를 침해하지 않는 한에서 개인의 자유와 권리를 누리며 개인선을 실현하는 것이 정의롭다.

**모범 답안** '책임이 있다.'의 예시

2. 을의 입장에서 그렇게 생각하는 근거

- ① 개인은 공동체의 일부이고 조상으로부터 역사, 전통, 책무를 물려받는다.
- ② 개인은 공동체의 영향을 받으며 소속감과 정체성을 형성해 나가는 존재로, 독립적으로 존재할 수 없다.
- ③ 개인이 공동체에 대한 역할과 의무를 다하여 공동선을 실현하는 것이 정의롭다.

**step 2** **모범 답안** '책임이 없다.'의 예시

나는 A 국가의 후손들이 조상들의 행위에 사과와 배상을 할 책임이 없다고 생각한다. 그 이유는 개인은 독립적·자율적인 존재로 개인의 자유와 권리 보장이 가장 중요하다고 생각하기 때문이다. 개인에게 과거 자신이 직접 한 행위가 아닌 조상의 행위에 대해 책임을 지라고 하는 것은 개인의 자유와 권리를 침해하는 것이다.

**모범 답안** '책임이 있다.'의 예시

나는 A 국가의 후손들이 조상들의 행위에 사과와 배상을 할 책임이 있다고 생각한다. 그 이유는 개인은 공동체의 일부이며 개인의 정체성은 공동체의 역사, 전통으로부터 형성되는 것이기 때문이다. 개인은 공동체와 분리되어 독립적으로 존재할 수 없으므로 공동체의 구성원으로서 조상의 행위에 대한 책임감을 가져야 한다.

**[주요 내용]** 독립적, 자율적, 자유, 권리, 공동체, 정체성, 역사, 전통

구분	채점 기준	
근거 제시	상	뒷받침하는 근거를 세 가지 모두 명확하게 서술함.
	중	뒷받침하는 근거를 두 가지만 서술함.
	하	뒷받침하는 근거를 한 가지만 서술함.
논술문의 형식	상	논술문의 형식(주장, 근거, 결론 등)을 갖추어 바르게 작성함.
	하	논술문의 형식을 갖추지 못함.

### III 시장경제와 지속가능발전 (I)

**빠른 정답**

**1등급 완성!**

**1단계 개념 확인 문제**

- 01 ○    02 ○    03 ×    04 ×    05 ○    06 ○  
 07 ○    08 ×    09 ○    10 ○    11 ○    12 ○  
 13 산업 자본주의    14 하이에크    15 정부 실패  
 16 계획경제 체제    17 시장경제 체제    18 암묵적 비용  
 19 시장 실패    20 적게    21 정부  
 22 기업가 정신    23 최저 임금제    24 윤리적 소비

**2단계 내신 대비 문제**

- 25 ④    26 ③    27 ③    28 ⑤    29 ①    30 ①  
 31 ④    32 ④    33 ⑤    34 ②    35 ②    36 ②  
 37 ③    38 ②    39 (1) 산업 자본주의 (2) 해설 참조  
 40 (1) 외부 효과 (2) 해설 참조

**3단계 수능 대비 문제**

- 41 ④    42 ③    43 ①    44 ②    45 ⑤    46 ⑤  
 47 ④    48 ④

#### 25 자본주의의 특징

**정답** ④ 자본주의는 사유 재산권을 보장하며, 시장에서 자원이 비효율적으로 배분되는 시장 실패가 발생하기도 한다. 또한 시장 경제의 원리에 따라 자원이 배분되고, 시장 가격에 따라 상품 거래가 이루어지며, 시장에서의 자유로운 경제 활동이 보장된다.

**선택지 분석**

- 사유 재산권이 보장된다. → 사유 재산권을 법적으로 보장한다.
- 시장 실패가 나타날 가능성이 있다.  
→ 시장 실패는 자원 배분을 자유롭게 시장에 맡겨 두었는데 오히려 자원 배분이 비효율적으로 이루어지는 현상이다.
- 자원 배분이 시장 가격에 의해 결정된다.  
→ 시장에서 다양한 상품의 가격과 거래량이 효율적으로 결정된다.
- 국가가 정한 가격에 따라 상품의 거래가 이루어진다.  
→ 시장에서 결정된 가격에 따라 상품의 거래가 이루어진다.
- 개인들의 이익 추구를 위한 자유로운 경쟁을 보장한다.  
→ 경제 주체의 자유로운 경제활동과 사적 이익의 추구를 인정한다.

#### 26 정부의 시장 개입

**정답** ③ 갑은 정부의 적극적 역할을 주장하고 있고, 을은 정부의 시장 개입을 최소화할 것을 주장하고 있다. 따라서 을은 국가의 개입을 최소화하고 개인의 경제적 자유를 보장해야 한다는 자유방임주의에 동의할 것이다.

**선택지 분석**

- ① 갑은 신자유주의 경제 정책에 동의할 것이다. → 반대  
 ② 갑은 정부의 규제를 완화하는 방안에 찬성할 것이다. → 강화  
 ④ 수정 자본주의 시기에는 을의 주장이 받아들여졌다. → 갑  
 ⑤ 을은 시장 실패를 정부가 해결해야 한다고 볼 것이다. → 갑

#### 27 자본주의의 역사적 전개 과정

**정답** ③ ㉠은 산업 자본주의, ㉡은 수정 자본주의, ㉢은 신자유주의이다. 케인스는 국가가 적극적으로 시장에 개입하여 시장 실패를 해결해야 한다는 수정 자본주의를 주장하였다.

**자료 키워드** 자본주의의 역사적 전개

산업 자본주의	<ul style="list-style-type: none"> <li>• 상품의 생산 과정에서 부가 가치를 창출하여 이윤을 얻는 자본주의</li> <li>• 산업 자본주의 국가들은 애덤 스미스가 주장한 자유방임주의를 토대로 국가의 시장 개입을 최소화하는 작은 정부를 추구함.</li> </ul>
수정 자본주의	<ul style="list-style-type: none"> <li>• 정부가 적극적으로 시장에 개입하여 시장 실패를 해결하는 자본주의</li> <li>• 대공황 때문에 발생한 경제 침체를 해결하기 위해 국가가 적극적으로 시장에 개입해야 한다는 케인스의 수정 자본주의를 토대로 함.</li> </ul>
신자유주의	<ul style="list-style-type: none"> <li>• 정부의 역할을 제한하며 경제 문제를 시장에 맡기고 자유로운 경제 활동을 강조하는 자본주의</li> <li>• 정부의 지나친 시장 개입을 비판하고 시장에 의한 경제 문제 해결을 강조하는 하이에크의 주장을 토대로 함.</li> </ul>

#### 28 경제 체제

**정답** ⑤ 나, 라. 갑국은 시장경제 체제를 기반으로 하되 복지 등의 측면에서 정부의 역할을 강화하는 혼합 경제 체제를 채택하고 있으며, OECD 가입국 평균보다 상대적으로 세금을 더 많이 거두어 정부의 역할과 복지 정책을 강화하고 있다. 이를 통해 국가마다 시장에 대한 정부 개입의 정도에 차이가 있음을 알 수 있다.

**선택지 분석**

- ㄱ. 갑국은 계획경제 체제를 채택하고 있다. → 혼합  
 나. 갑국은 정부의 역할을 축소하고자 한다. → 확대

**자료 분석**

갑국 국민의 조세 및 사회 보장 기여금 부담률은 경제 협력 개발 기구(OECD) 평균보다 높다. 이는 갑국에서 월급의 절반은 세금으로 낸다는 것을 의미한다. 갑국 정부도 이 세금으로 실업 보조금 등의 사회 안전망을 만들어 복지 정책을 유지하고 있다.

→ 조세 및 사회 보장 기여금(국민연금, 건강 보험, 고용 보험 등)이 국내 총생산에서 차지하는 비중으로, 국민 부담률이라고도 함. 국민 부담률이 높은 국가는 정부의 역할이 상대적으로 큼.

#### 29 시장경제 체제의 문제점

**정답** ① 필자는 시장경제 체제에서 빈부 격차의 문제가 발생한다고 비판하면서 ‘능력에 따라 일하고, 필요에 따라 분배한다.’는 사회주의 노동 분배의 원칙을 내세우고 있다.

**오답** ② 시장경제 체제의 단점에 해당하지만, 필자가 비판한 내용으로 적절하지 않다. ③, ④ 시장경제 체제의 장점에 해당한다. ⑤ 계획경제 체제의 특징에 해당한다.

#### 30 계획경제 체제

**정답** ① 갑국은 정부의 결정과 통제에 의해 자원 배분이 일어나고

있다. 따라서 갑국의 경제 체제는 계획경제 체제에 해당한다. 계획경제 체제에서는 경제 문제를 해결하는 과정에서 형평성을 중시한다.

**선택지 분석**

- ② 사적 이익 추구가 가능하므로 경제적 유인이 강하다.  
→ 시장경제 체제의 특징이다.
- ③ 자원의 희소성에 때문에 경제 문제가 발생하지 않는다.  
→ 계획경제 체제에서도 자원의 희소성 때문에 경제 문제가 발생한다.
- ④ 시장에서 작동하는 '보이지 않는 손'의 기능을 강조한다.  
→ 시장경제 체제의 특징이다.
- ⑤ 원칙적으로 개인이 생산 수단을 소유하는 것을 인정한다.  
→ 시장경제 체제의 특징이다.

**31 합리적 선택**

**정답** ④ 가. 공연 당일에 뮤지컬 관람비는 환불받을 수 없으므로 매몰 비용에 해당한다. 나. 갑은 뮤지컬 대신 콘서트를 보러 갔으므로 갑에게 있어 콘서트의 편익은 뮤지컬의 편익보다 크다. 다. 공연 당일 뮤지컬 관람비는 매몰 비용이므로 콘서트 선택의 기회비용에 포함되지 않는다.

**선택지 분석**

- 나. 갑의 콘서트 선택의 기회비용은 0원이다.  
→ 뮤지컬을 선택했다면 얻을 수 있었던 편익

**32 합리적 선택**

**정답** ④ 나. ㉠ 선택의 암묵적 비용은 2만 원(=10만 원-8만 원)이다. 다. 나. ㉡의 편익이 0원이라면, ㉠을 선택하는 것이 합리적이다.

**선택지 분석**

- 가. ㉠ 선택의 기회비용은 8만 원이다. → 11만 원
- 나. ㉡을 선택하는 것이 합리적 선택이다. → ㉠

**자료 분석**

일일 수강권 구입	• 편익: 10만 원 • 기회비용: 명시적 비용(8만 원) + 암묵적 비용(3만 원) = 11만 원
한 달 수강권 구입	• 편익: 13만 원 • 기회비용: 명시적 비용(10만 원) + 암묵적 비용(2만 원) = 12만 원

**33 외부 효과**

**정답** ⑤ (가)는 긍정적 외부 효과(외부 경제), (나)는 부정적 외부 효과(외부 불경제) 사례이다. 외부 효과는 어떤 경제 활동이 다른 경제 주체에게 의도하지 않은 이득이나 손해를 주면서도 보상이 이루어지지 않는 경우로 자원의 비효율적 배분이 나타난다.

**오답** ① (가)는 긍정적 외부 효과(외부 경제) 사례이다. ② 정부는 과수원 주인에게 보조금을 지급하여 (가)의 문제를 해결할 수 있다. ③ (나)는 부정적 외부 효과(외부 불경제) 사례이다. ④ (나)에서 간접 흡연으로 인한 피해는 사회적 적정 수준보다 많이 발생한다.

**34 공공재**

**정답** ② 가. 등대는 등대를 사용하는 배들을 일일이 찾아가 비용을 받는 것이 불가능하기 때문에 비배제성을 지니고, 어떤 배가 불빛을 본다고 해서 다른 배가 볼 수 있는 불빛이 줄어들지 않기 때문에 비경합성을 지닌 공공재에 해당한다. 나. 등대의 비배제성으로 인해 무임승차자 문제가 발생할 수 있다.

**선택지 분석**

- 나. 등대의 불빛은 비용을 낸 사람만이 이용할 수 있다.  
→ 비용을 내지 않은 사람도
- 다. 등대의 생산을 시장에 맡기면 사회가 필요로 하는 양만큼 충분히 공급된다. → 공급되지 않는다.

**35 정부의 불공정 규제**

**정답** ② 가, 나. 제시된 사례에는 <독점 규제 및 공정 거래에 관한 법률>과 공정 거래 위원회의 설치 및 운영 등 독과점과 같은 불공정 거래를 규제하는 정부의 역할이 나타나 있다.

**오답** 나, 다. 제시된 사례를 통해 파악할 수 없는 내용이다.

**36 사회적 책임**

**정답** ② 제시된 사례는 기업의 사회적 책임과 관련 있다. A 기업은 개발 도상국의 아이들에게 신발을 기부하는 마케팅 전략을 통해 사회적 책임을 다하면서도 상품의 판매량을 증대시키고 있다. 즉, A 기업은 이윤 극대화뿐만 아니라 사회적 책임을 함께 고려하였다.

**37 경제 주체의 역할**

**정답** ③ 제시된 사례에는 친환경 패션 소비를 위한 정부, 기업, 소비자의 역할이 나타나 있다. 지속가능발전을 위해서는 여러 경제 주체가 조화를 이루어 함께 협력해야 한다.

**38 윤리적 소비**

**정답** ② 윤리적 소비는 상품의 가격뿐만 아니라 상품의 생산, 유통 등의 전 과정이 윤리적으로 이루어졌는지를 고려하여 소비하는 것이다. 윤리적 소비의 사례로는 친환경 제품 및 공정 무역 제품 구입, 인권 침해 기업 제품의 불매 운동, 개인 용기를 활용하여 일회용품 사용을 줄이는 것 등을 들 수 있다.

**39 산업 자본주의**

- (1) 산업 자본주의
- (2) **모범 답안** 자유방임주의는 국가의 시장 개입을 최소화하는 작은 정부를 추구한다.

**(주요 내용)** 애덤 스미스의 자유방임주의는 자유로운 경제 활동을 보장하므로 작은 정부를 추구한다는 점을 서술할 수 있어야 함.

채점 기준	배점
자유방임주의가 국가의 시장 개입을 최소화하는 작은 정부를 추구하고 구체적으로 서술한 경우	상
국가가 시장에 개입하는 것을 반대한다고만 서술한 경우	하



#### 40 시장 실패

(1) 외부 효과

(2) **모범 답안** 독과점을 규제하는 제도를 마련하고, 공정 거래 위원회와 같은 불공정 거래를 감시하는 정부 기관을 설립하여 운영한다.

**[주요 내용]** 독과점 등 불공정 거래를 막기 위한 정부의 역할을 서술할 수 있어야 함.

채점 기준	배점
독과점을 규제하는 제도를 마련하고 공정 거래 위원회와 같은 불공정 거래를 감시하는 정부 기관을 설립하여 운영한다는 점을 구체적으로 서술한 경우	상
독과점을 규제하거나 불공정 거래를 막는다는 점을 서술하였으나, 제도 마련과 정부 기관 설립 등의 내용을 구체적으로 서술하지 못한 경우	하

#### 41 자본주의의 역사적 전개 과정

**정답** ④ (가)는 산업 자본주의, (나)는 수정 자본주의이다. 중상주의 정책에 등장한 상업 자본주의는 산업 혁명을 거치며 산업 자본주의로 변화되었고, 대공황으로 시장의 한계가 드러나자 수정 자본주의가 등장하며 시장에 대한 정부의 개입이 확대되었다. 이후 두 차례의 석유 파동을 거치며 정부 실패의 문제가 대두되면서 정부의 지나친 시장 개입을 비판하는 신자유주의가 등장하였다. 신자유주의는 작은 정부를 추구하였으므로 공기업의 민영화에 적극적이다.

##### 선택지 분석

- ① 산업 혁명은 ㉠의 등장 배경이 된다. → (가)
- ② (가)는 (나)와 달리 **큰 정부**를 추구하였다. → 작은 정부
- ③ (나)는 (가)와 달리 정부의 시장 개입에 **반대**한다. → 찬성
- ⑤ ㉠은 (가)와 달리 '보이지 않는 손'의 역할을 중시하였다. → (가)는

#### 42 합리적 선택

**정답** ③ ㉠ 연극 관람의 기회비용은 명시적 비용(4만 원)과 암묵적 비용(4만 원)을 합한 8만 원이다.

##### 선택지 분석

- ① ㉠은 ㉡보다 명시적 비용이 **작다**. → 크다.
- ② ㉠의 암묵적 비용은 **3만 원**이다. → 2만 원
- ④ ㉡을 선택하는 것이 합리적이다. → ㉠
- ⑤ ㉠의 편익이 10만 원으로 증가하면, 갑의 선택은 **달라진다**. → 달라지지 않는다.

##### 자료 분석

선택	관람료	편익
뮤지컬 관람	5만 원	9만 원
연극 관람	4만 원	6만 원

→ 뮤지컬 관람의 기회비용은 명시적 비용(5만 원)+암묵적 비용(2만 원)=7만 원이다. 연극 관람의 기회비용은 명시적 비용(4만 원)+암묵적 비용(4만 원)=8만 원이다.

#### 43 수정 자본주의와 신자유주의

**정답** ① 수정 자본주의와 신자유주의 중 정부가 적극적으로 시장에 개입해야 한다고 주장하는 것은 수정 자본주의이다. 따라서 A는 수정 자본주의, B는 신자유주의이다. 수정 자본주의를 토대로 정부의 시장 개입이 확대되면서 뉴딜 정책이 추진되었다.

**오답** ② A는 시장 실패를 비판하며 등장하였고, B는 정부 실패를 비판하며 등장하였다. ③ A와 B는 모두 사유 재산 제도를 인정한다. ④ 역사적으로 수정 자본주의는 신자유주의보다 먼저 등장하였다. ⑤ 신자유주의는 복지 정책을 축소해야 한다고 주장한다. 따라서 해당 질문은 (가)에 들어갈 수 없다.

#### 44 수정 자본주의

**정답** ② 제시된 자료는 케인스의 주장과 관련 있다. 케인스는 국가가 적극적으로 시장에 개입하여 시장 실패를 해결해야 한다고 보고, 복지 제도의 확대에 찬성하는 입장이다. 생산 수단을 정부가 모두 소유해야 한다는 것은 계획경제 체제이다. 학생이 받은 점수를 고려하면, ㉠은 '예', ㉡은 '예', ㉢은 '아니요'가 들어가야 한다.

##### 자료 분석

공급이 수요를 창출하는 시대는 끝났습니다. 인위적으로 수요를 만들어 내지 못하면 공황에서 탈출할 수 없습니다. 공공 투자를 확대하여 일자리를 늘리면 시민들의 호주머니에 돈이 생길 것이고, 그들은 물건을 사려고 상점에 몰려들 것입니다. 그러면 문을 닫았던 공장이 생산을 재개할 것이고, 그에 따라 취업률이 늘어날 것입니다.

→ 제시된 자료에는 경제학자 케인스의 주장이 나타나 있다. 케인스는 수요를 만들어 공황에서 탈출해야 한다는 유호 수요 이론을 주장하였으며, 정부가 일자리를 늘려 사람들의 소득을 늘리면 이것이 소비로 이어져 생산을 촉진하고 경기를 부양시킬 것이라고 보았다. 케인스의 주장을 받아들여 미국의 루스벨트 정부는 뉴딜 정책을 실시하여 시장에 적극적으로 개입하였다.

#### 45 합리적 선택

**정답** ⑤ ㉠. 떡볶이의 가격이 4,000원이므로 떡볶이 선택의 명시적 비용은 4,000원이다. ㉡. 떡볶이 선택과 김밥 선택의 편익이 같다면, 김밥을 선택하는 것이 합리적이다.

**오답** ㉠, ㉡. 떡볶이와 김밥 선택의 편익이 제시되어 있지 않으므로 기회비용과 암묵적 비용은 알 수 없다.

#### 46 경제 주체의 역할

**정답** ⑤ A는 가계, B는 정부, C는 기업이다. 가계와 기업은 정부에 세 조세를 납부한다.

**오답** ①, ② 가계는 소비자로서의 역할뿐만 아니라 기업에 노동을 제공하고 대가로 임금을 얻는 노동자로서의 역할을 담당한다. ③ 정부는 경제 활동의 조정자로서 시장에 개입하고 공공재 생산, 외부 효과 개선, 소득 재분배, 불공정 경쟁 규제 등의 역할을 담당한다. ④ 기업은 가계가 제공한 생산 요소, 즉 노동, 토지, 자본 등을 구입하여 사용하고 그 대가로 임금, 지대, 이자 등을 지불한다.

### 47 시장 실패

**정답** ④ (가)는 담합, (나)는 부정적 외부 효과의 사례에 해당한다. 담합과 부정적 외부 효과는 모두 자원이 비효율적으로 배분되는 시장 실패에 해당하므로 시장에 대한 정부 개입의 근거가 된다.

#### 선택지 분석

- ① (가)는 **공정적 외부 효과**의 사례이다.  
→ 불공정 경쟁
- ② (가)를 해결하기 위해 **소득 재분배 정책**을 실시한다.  
→ 법과 제도를 마련하여 독과점 기업을 규제한다.
- ③ (나)를 해결하기 위해 **생산 자체를 전면 금지**해야 한다.  
→ 세금이나 벌금을 부과해야 한다.
- ⑤ (가)는 (나)와 달리 자원이 비효율적으로 배분되고 있다.  
→ (가)와 (나) 모두

#### 자료 분석

(가) ○○ 시장에서 점유율이 높은 4개 기업이 담합을 통해 가격을 일괄 인상하였다. 공정 거래 위원회는 해당 기업들에게 과징금을 부과하고 시정 명령을 내렸다.  
(나) □□ 공장이 주변 하천에 폐수를 몰래 방출하여 많은 물고기가 폐사하였다. 이 하천은 마을의 농업 및 생활 용수로 활용되어 지역 주민의 피해가 심각할 것으로 보인다.

→ (가)는 시장 실패 중 독과점 기업의 담합과 같은 불공정 거래에 대해 정부가 공정 거래 위원회를 설치·운영하여 규제하고 있는 사례이다. (나)는 부정적 외부 효과의 사례로, 경제 주체의 활동이 다른 경제 주체에게 의도하지 않은 손해를 미쳤으나 이에 대한 대가를 지불하지 않은 시장 실패의 사례이다. 시장 실패가 발생하면 자원이 비효율적으로 배분되는 결과가 나타나므로 정부가 개입하여 해결할 필요가 있다.

### 48 합리적 선택

**정답** ④ 친환경 설비를 통한 오염 물질 배출 감소는 환경 오염 문제를 해결하려는 기업의 사회적 책임의 사례에 해당한다.

#### 자료 분석

1971년 미국의 경제학자 밀턴 프리드먼은 '기업의 사회적 책임은 이익을 많이 내는 것'이라며 기업의 목표를 이윤 극대화로 설명하였다. 하지만 기업의 이윤 추구 과정에서 환경 오염 문제, 노동 문제 등 많은 문제가 발생할 수 있다는 점이 부각되며, 환경과 소비자, 노동자 등 다양한 경제 주체를 고려하는 ① **기업의 사회적 책임**이 요구되고 있다.

→ 기업의 목표는 이윤 극대화이지만, 기업이 이윤을 추구하는 과정에서 다양한 사회문제가 발생하므로 이에 대한 기업의 사회적 책임이 요구된다. 기업의 사회적 책임이란 사회 구성원들과 환경에 대해 책임감을 갖고 지속가능발전에 기여하려는 기업의 노력으로, 환경 보호, 소비자 안전 고려, 노동자 권리 존중, 기업 윤리 준수 등을 들 수 있다.

## III 시장경제와 지속가능발전 (2)

### 빠른 정답

1등급 완성!

#### 1단계 개념 확인 문제

- |           |          |          |      |      |      |
|-----------|----------|----------|------|------|------|
| 01 ×      | 02 ○     | 03 ○     | 04 × | 05 ○ | 06 ○ |
| 07 ○      | 08 ○     | 09 ×     | 10 × | 11 ○ | 12 × |
| 13 요구불 예금 | 14 주식    | 15 안전성   |      |      |      |
| 16 노년기    | 17 수익성   | 18 금융 자산 |      |      |      |
| 19 자유 무역  | 20 생산 요소 | 21 비교 우위 |      |      |      |
| 22 규모의 경제 | 23 선진국   |          |      |      |      |

#### 2단계 내신 대비 문제

- |      |      |      |      |      |      |
|------|------|------|------|------|------|
| 24 ① | 25 ④ | 26 ④ | 27 ④ | 28 ⑤ | 29 ④ |
| 30 ② | 31 ③ | 32 ① | 33 ④ | 34 ④ |      |
- 35 (1) ㉠ 수익성, ㉡ 안전성 (2) 해설 참조  
36 (1) 지역주의 (2) 해설 참조

#### 3단계 수능 대비 문제

- |      |      |      |      |      |      |
|------|------|------|------|------|------|
| 37 ④ | 38 ③ | 39 ④ | 40 ③ | 41 ② | 42 ④ |
| 43 ④ | 44 ② |      |      |      |      |

### 24 금융 자산의 종류와 특징

**정답** ① 값은 위험성과 수익성이 높은 주식을 뽑았고, 음은 미래의 위험에 대비하는 상품인 보험을 뽑았다. 따라서 병이 뽑은 것은 예금이다. ㄱ, ㄴ. 예금은 원금 손실 가능성이 낮아 안전성이 높고, 필요할 때 현금으로 바꾸기 쉽기 때문에 유동성도 높다.

#### 선택지 분석

- ㄷ. 단기간에 큰 이익을 얻을 수 있습니다.  
→ 예금은 단기간에 큰 이익을 얻기 어렵다.
- ㄴ. 전문가가 대신 투자를 해 준다는 장점이 있습니다.  
→ 펀드에 대한 설명이다.

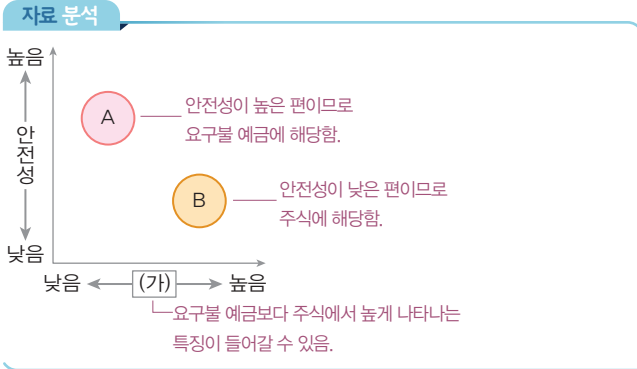
#### 자료 키워드 예금

예금은 은행, 우체국 등과 같은 금융 기관에 돈을 맡기고 원금과 이자를 받는 금융 상품으로 크게 요구불 예금과 저축성 예금이 있다. 예금은 예금자 보호 제도의 적용을 받아 원금 손실의 위험이 적지만, 다른 금융 상품에 비해 큰 수익을 기대하기 어렵다는 특징이 있다.

### 25 자산 관리의 기본 원칙

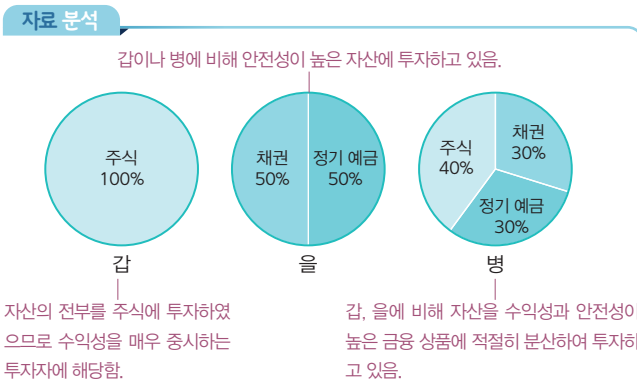
**정답** ④ A는 요구불 예금, B는 주식이다. ㄴ. 유동성은 보유하고 있는 자산을 필요할 때 현금으로 쉽게 전환할 수 있는 정도를 말한다. 일반적으로 유동성은 요구불 예금이 주식보다 높다. ㄷ. 요구불 예금은 안전성은 높지만 주식에 비해 이자율이 높지 않아 수익성이 낮다. 주식은 수익성이 높지만 원금을 잃을 수 있으므로 안전성이 낮다. 따라서 (가)에는 수익성이 들어갈 수 있다.

**오답** ㄱ. 기업이 운영 자금을 조달할 목적으로 투자자에게 돈을 받고 발행하는 증서는 주식이다. ㄷ. 이자율이 낮아지면 예금에 대한 선호가 낮아지고, 상대적으로 주식에 대한 선호가 증가한다.



## 26 금융 자산

**정답** ④ 주식은 배당금을 받을 수 있는 상품이고, 채권과 정기 예금은 모두 이자 수입을 기대할 수 있다. 갑은 높은 수익성을 기대할 수 있는 주식에 100% 투자하였으므로 수익성이 높은 상품을 선호한다고 볼 수 있다. 주식에만 투자한 갑과 달리 병은 여러 금융 자산에 분산 투자하고 있다. 병의 경우 높은 수익을 기대할 수 있으나 안전성이 낮은 주식의 비중이 40%이다. 따라서 병은 을에 비해 '고위험-고수익' 금융 자산의 비중이 높다.



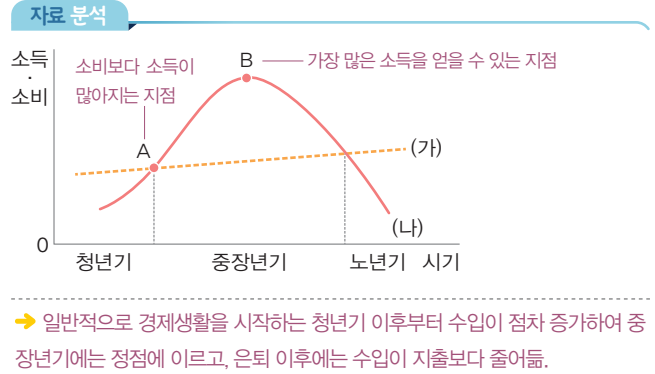
## 27 포트폴리오 투자

**정답** ④ 포트폴리오는 원래는 서류 가방이나 자료의 묶음을 뜻하지만, 금융에서는 분산 투자하여 보유한 금융 자산의 목록을 의미한다. 포트폴리오 투자는 금융 자산의 특성 및 자산 관리 기본 원칙을 고려하여 금융 자산을 배분하는 포트폴리오를 구성해서 위험을 줄이는 것이다. '달걀을 한 바구니에 담지 말라.'라는 표현은 분산 투자의 원리를 의미한다. 하나의 자산에 치우치지 않고 여러 자산에 고르게 분산 투자함으로써 원금을 잃어버릴 위험을 줄여야 함을 강조한다.

## 28 생애 주기

**정답** ⑤ (가)는 소비, (나)는 소득을 나타낸다. 소득에 해당하는 (나)가 B 지점에서 가장 높으므로 B가 소득이 가장 많은 때이다.

**오답** ① (가)는 소비, (나)는 소득을 나타낸다. ② 소비는 일생에 걸쳐 이루어지며 증가하거나 감소하기는 하지만 꾸준히 감소한다고 볼 수 없다. ③ 소득과 소비가 생애 주기에 따라 달라지므로 소득에서 소비가 차지하는 비율이 일정하다고 볼 수 없다. ④ 저축은 소득-소비이다. A 이후에 저축은 늘어나다가 B 이후 감소한다.



## 29 경제적 환경 변화와 금융 의사 결정

**정답** ④ 우리나라와 같이 무역 의존도가 높은 국가는 세계 경제의 영향을 많이 받는다. ㄴ, ㄷ. 세계 경제가 급격하게 침체할 경우에는 수익성보다 안전성과 유동성에 초점을 두고 금융 의사를 결정하는 것이 바람직하다. 또한 금융 위기가 발생할 경우 금융 자산보다 실물 자산에 투자한다면 손실을 줄일 수 있다.

### 선택지 분석

- ㄱ. 대출을 받아 적극적으로 투자한다.
  - 금융 시장이 불안정하므로 안전성을 중시하는 투자가 바람직하다.
- ㄷ. 친환경 에너지 산업과 관련된 주식을 구입한다.
  - 기후위기와 관련한 사회적 환경이 변화하면 고려할 수 있는 투자 방법이다.

## 30 거시적 환경 변화와 금융 의사 결정

**정답** ② 개인의 금융 의사 결정에는 경제적·사회적 환경 변화가 큰 영향을 미친다. 기대 수명이 증가하면서 길어진 노년기를 대비하기 위해 연금 상품의 비중을 늘리는 것은 적절한 금융 의사 결정에 해당한다.

**오답** ① 금리 인하 시에는 예금에 대한 선호가 감소하고, 대출 이자 부담이 감소하여 대출이 증가할 수 있다. ③ 전염병 발생으로 국가들이 국경을 봉쇄하면 국가 간 왕래가 어려워지므로 항공이나 관광 관련 기업의 주식을 구입하는 것은 적절하지 않다. ④ 물가 상승이 지속적으로 발생할 경우에는 금융 자산보다 실물 자산의 가치가 높아지므로 금융 자산보다 실물 자산에 투자하는 것이 적절하다. ⑤ 이웃 국가에 전쟁이 발발하여 원자재 구입 문제가 발생할 경우 수익성보다 안전성을 중시하여 투자하는 것이 합리적이다.

## 31 비교 우위

**정답** ③ ㄴ. 을국이 갑국에 비해 태블릿 PC와 식기 세척기 생산에 들어가는 노동자 수가 적으므로 을국은 태블릿 PC와 식기 세척기 생산에 절대 우위가 있다. ㄷ. 갑국은 식기 세척기 생산에 비교 우위가 있으므로 식기 세척기를 수출하는 것이 유리하다.

**오답** ㄱ. 갑국은 식기 세척기 생산에 비교 우위가 있다. ㄷ. 을국은 절대 우위에 있는 두 상품을 모두 생산하기보다 비교 우위에 있는 태블릿 PC만을 생산하여 갑국과 교역하는 것이 유리하다.

자료 분석

〈태블릿 PC와 식기 세척기 1대 생산에 필요한 노동자 수〉

구분	갑국	을국
태블릿 PC	7명	2명
식기 세척기	5명	3명

→ 태블릿 PC 1대 생산의 기회비용은 갑국이 식기 세척기 7/5대, 을국이 식기 세척기 2/3대이다. 따라서 을국은 갑국보다 태블릿 PC 1대 생산의 기회비용이 적으므로 태블릿 PC 생산에 비교 우위가 있다. 식기 세척기 1대 생산의 기회비용은 갑국이 태블릿 PC 5/7대, 을국이 태블릿 PC 3/2대이다. 따라서 갑국은 을국보다 식기 세척기 1대 생산의 기회비용이 적으므로 식기 세척기 생산에 비교 우위가 있다.

### 32 국제무역의 확대

**정답** ① 국제무역이 확대되면서 자본과 기술이 풍부한 선진국과 상대적으로 경쟁력이 떨어지는 개발 도상국 간의 빈부 격차가 더욱 커질 수 있다. 그러나 국제무역의 확대가 부정적 영향만을 미치는 것은 아니다. 국가 간 기술이나 자본 등이 이전되어 개발 도상국은 경제적으로 발전할 기회를 얻을 수 있고, 기업은 세계 시장을 대상으로 상품을 생산하여 규모의 경제를 이룰 수 있으며, 소비자가 다양한 재화나 서비스를 선택할 수 있는 기회가 확대된다.

### 33 자유 무역 협정

**정답** ④ 나. A국과 B국 간에 자유 무역 협정(FTA)이 체결되면 양국 간의 교역량이 증가할 것이며, 이로 인해 소비자들이 상품을 선택할 수 있는 기회가 더욱 확대될 것이다. 르. 관세 철폐로 A국에서는 B국산 어류 가공 식품의 가격 경쟁력이 높아질 가능성이 크다.

**오답** ㄱ. A국과 B국 간에 자유 무역 협정(FTA)이 체결되면 양국 간의 교역량이 늘어날 것이다. ㄷ. A국의 승용차나 철강 제품의 관세가 없다면 B국의 해당 업체는 가격 경쟁력이 떨어져서 피해를 입을 가능성이 높다.

### 34 지속가능발전을 위한 국제무역의 방안

**정답** ④ (가)는 공정 무역, (나)는 일반 무역을 통한 카카오의 유통 과정을 나타낸다. D. 공정 무역은 생산 농민에게 정당한 노동력의 대가를 지급하고 직거래를 통해 소비자에게 상품을 제공하는 무역 방식이다. 따라서 공정 무역은 일반 무역에 비해 유통 구조가 단순하고 생산 농민의 소득이 많다. A. 일반 무역은 공정 무역에 비해 유통 구조가 복잡하여 생산 농민의 소득이 적다.

### 35 자산 관리의 기본 원칙

- (1) ㉠ 수익성, ㉡ 안전성  
 (2) **모범 답안** 일반적으로 수익성과 안전성은 상충 관계이다. 예를 들어 주식은 수익성이 높지만, 원금 손실의 위험이 있으므로 안전성이 낮다. 예금은 예금자 보호 제도의 적용을 받아 안전성이 높지만, 높은 수익을 기대하기 어려워 수익성이 낮다.

**(주요 내용)** 안전성과 수익성의 개념을 바탕으로 두 개념의 관계를 구체적인 금융 자산의 사례를 들어 제시할 수 있어야 함.

채점 기준	배점
안전성과 수익성의 관계를 금융 자산의 사례를 들어 구체적으로 서술한 경우	상
안전성과 수익성의 관계를 단순히 상충 관계라고만 제시한 경우	하

### 36 국제무역의 흐름

- (1) 지역주의  
 (2) **모범 답안** 지리적으로 가깝고 경제적으로 상호 의존도가 높은 국가끼리 결속하여 공동의 이익을 추구하는 경제 공동체를 의미하는 것으로, 유럽 연합(EU), 동남아시아 국가 연합(ASEAN) 등이 있다.

**(주요 내용)** 지역 경제 협력체의 의미를 이의 사례를 들어 제시할 수 있어야 함.

채점 기준	배점
지역 경제 협력체의 의미를 사례와 함께 정확하게 제시한 경우	상
지역 경제 협력체의 의미를 정확하게 제시하였으나 사례를 제시하지 못한 경우	중
지역 경제 협력체의 사례만을 제시한 경우	하

### 37 금융 자산

**정답** ④ 이자 수익을 기대할 수 있는 금융 자산은 예금과 채권이다. 2023년 예금과 채권의 비중은 55.5%이다.

**오답** ① 주식은 예금에 비해 일반적으로 안전성이 낮고, 수익성이 높다. ② 예금과 채권은 모두 만기가 있다. ③ 배당 수익을 기대할 수 있는 것은 주식이다. ⑤ 시세 차익을 기대할 수 있는 것은 주식과 채권이다. 2024년의 주식과 채권 비중은 2023년에 비해 감소하였다.

### 38 자산 관리의 기본 원칙

**정답** ③ 나. 수익성은 B가 2점, C가 1점이므로 수익을 기대할 수 있는 정도는 B가 C보다 크다. ㄷ. 값이 부여한 가중치의 경우 안전성이 5, 수익성이 3이므로 값은 수익성보다 안전성을 중시한다.

**오답** ㄱ. 현금으로 쉽게 바꿀 수 있는 정도는 유동성이다. 유동성은 A가 B보다 작다. 르. 금융 상품 A~C에 가중치를 곱한 값을 더하면 A는 15점, B는 18점, C는 21점이다. 따라서 값은 C에 투자할 것이다.

자료 분석

평가 기준	금융 상품별 점수			값이 부여한 가중치
	A	B	C	
안전성	1점	2점	3점	5
수익성	3점	2점	1점	3
유동성	1점	2점	3점	1

- • A: (안전성 1점×5)+(수익성 3점×3)+(유동성 1점×1)=15점  
 • B: (안전성 2점×5)+(수익성 2점×3)+(유동성 2점×1)=18점  
 • C: (안전성 3점×5)+(수익성 1점×3)+(유동성 3점×1)=21점



### 39 생애 주기

**정답** ④ 저축은 소득-소비이다. B 시기까지는 경제활동이 활발해서 소득보다는 소비가 훨씬 많다. 따라서 누적된 저축액이 가장 많은 시점은 B이다.

**오답** ① (가)는 소비보다 소득이 많으므로 양(+)의 저축에 해당한다. ② 기대 수명의 연장은 (나)의 면적이 늘어나는 데 영향을 미친다. ③ 출생 후 A 시기까지 소비는 증가한다. ⑤ A와 B 사이 시기에 양(+)의 저축이 나타나므로 소득이 소비보다 크다.

### 40 경제적 환경 변화와 금융 의사 결정

**정답** ③ 을. 물가가 하락하면 화폐 가치가 상승한다. 따라서 A는 물가 하락, B는 물가 상승이다. 병. 답변 중 '예'의 개수는 정해져 있기 때문에 (가)에 대한 A의 답변은 '아니요', B의 답변은 '예'이다. 물가가 상승하면 금융 자산보다 실물 자산에 대한 선호도가 증가하므로 해당 질문은 (가)에 들어갈 수 있다.

**오답** 갑. 인플레이션은 물가가 지속적으로 오르는 현상을 말한다. 정. 물가가 상승하면 화폐 가치가 떨어지므로 일정 금액으로 구입할 수 있는 상품의 양이 감소한다. 따라서 해당 질문은 (나)에 들어갈 수 있다.

#### 자료 분석

질문	물가 하락		답변		물가 상승	
	A	B	A	B	A	B
화폐 가치가 상승하는가?			예	아니요		
(가)	아니요	예				
(나)	아니요	예				
답변 중 '예'의 개수	1개	2개				

### 41 비교 우위의 원리

**정답** ② 갑국과 을국의 노동자 수는 같고 갑국은 을국에 비해 쌀과 밀 1단위 생산에 필요한 노동자 수가 적기 때문에 쌀과 밀 생산 모두에 절대 우위가 있다.

**오답** ① (가)는 을국이고 (나)는 갑국이다. ③ 갑국의 쌀 1단위 생산의 기회비용은 밀 1/2단위이다. ④ 을국의 쌀 1단위 생산의 기회비용은 밀 1/3단위이다. ⑤ 갑국의 밀 1단위 생산의 기회비용은 쌀 2단위이고 을국은 쌀 3단위이다. 따라서 밀 1단위 생산의 기회비용은 갑국이 적다.

#### 자료 분석

구분	을국		갑국	
	(가)	(나)	(가)	(나)
	쌀	밀	쌀	밀
1단위 생산에 필요한 노동자 수	2	6	1	2

→ (가)의 쌀 1단위 생산의 기회비용은 밀 1/3단위, 밀 1단위 생산의 기회비용은 쌀 3단위이다. (나)의 쌀 1단위 생산의 기회비용은 밀 1/2단위, 밀 1단위 생산의 기회비용은 쌀 2단위이다. (가)는 쌀 생산에 비교 우위가 있고, (나)는 밀 생산에 비교 우위가 있으므로 (가)는 을국, (나)는 갑국이다.

### 42 국제무역의 확대

**정답** ④ 국제무역이 확대되면 경쟁력을 갖추지 못한 국내 산업을 보호하는 데에는 불리하다. 그러나 국제무역의 확대가 부정적 영향만을 미치는 것은 아니다. 국제무역의 확대로 자원이나 기술력 부족 문제 해결, 다양한 상품 소비 기회 증가, 규모의 경제 실현으로 생산비 절감, 외국 기업과의 경쟁으로 인한 생산성 향상 등의 긍정적 측면을 기대할 수 있다.

### 43 지속가능발전을 위한 국제무역의 방안

**정답** ④ 학생 답안의 내용을 바탕으로 ㉠에는 국제무역 확대가 들어갈 수 있다. 국제무역의 확대에 따라 분배의 불평등, 노동자의 인권 침해, 자원 고갈 및 환경 오염 등이 발생하였다. 이를 해결하기 위해서는 지속가능한 국제무역을 추구해야 하고, 정부, 기업, 소비자 등의 노력이 필요하다.

### 44 지속가능발전을 위한 국제무역 방안

**정답** ② A는 공정 무역, B는 자유 무역이다. 공정 무역은 생산자와 노동자에게 정당한 대가를 지불하여 불평등을 해소하기 위한 무역 방식을 말한다.

#### 선택지 분석

- ① ㉠은 갑과 을이다. → 병
- ③ B는 착한 소비, 윤리적 소비로 불리기도 한다. → A
- ④ A는 B에 비해 교역을 위한 상품 유통 과정이 복잡하다. → 단순
- ⑤ B는 A의 확대에 따른 문제를 개선하기 위해 등장하였다. → A는 B

### 논술형 문제

165쪽

#### (문항 설계 의도)

- 로보어드바이저의 포트폴리오를 바탕으로 투자자의 성향을 자산 관리의 기본 원칙에 맞춰 분석할 수 있도록 한다.
- 로보어드바이저의 자산 관리 서비스의 장단점을 파악한 후 이용 여부에 대한 의견 제시를 통해 비판적 사고력 및 의사 결정 능력을 기르도록 한다.

#### 자료 분석

(가) 로보어드바이저는 인간에 의해 미리 설계된 알고리즘으로, 그 원리는 외부에 공개되지 않음.  
(가) 로보어드바이저는 인공지능 알고리즘이 각종 경제 지표와 시장 상황, 개인의 자산 현황 및 투자 성향 등을 고려하여 포트폴리오를 구성 및 운용하도록 해 주는 자산 관리 서비스이다.

(나) 전문가들은 투자자가 로보어드바이저의 정확한 알고리즘을 확인하기 어렵고, 이미 설계된 인공지능 알고리즘이 금융 시장 변동에 취약할 수 있으므로 로보어드바이저 서비스 이용은 신중해야 한다고 조언한다.

↳ 로보어드바이저 서비스에는 양면성이 있으므로 투자자들의 주의가 필요함.

**작성 Tip | 논술문 작성 가이드**

로보어드바이저 서비스의 장단점을 파악하고, 자신이 로보어드바이저 서비스를 이용할지의 여부를 선택하여 그 이유를 서술하도록 한다.

- 로보어드바이저의 장점: 데이터 분석을 통한 정확한 정보 제공, 고객의 투자 성향에 맞춘 포트폴리오 제공, 자산의 효율적 관리 기능 등
- 로보어드바이저의 단점: 알고리즘의 원리 확인 불가, 금융 시장 변동에 대한 인공 지능의 정확한 예측 불가, 투자 손실에 대한 책임 불분명 등

(1) **모범 답안** 로보어드바이저 이용 이전에는 안전성이 높은 예금의 비중이 30%, 수익성이 높은 주식의 비중이 50%인 포트폴리오를 구성했지만, 로보어드바이저 이용 이후에는 안전성이 높은 예금의 비중이 70%, 수익성이 높은 주식의 비중이 10%인 포트폴리오를 구성했다. 이를 통해 로보어드바이저는 갑의 투자 성향을 수익성보다는 안전성을 추구하는 것으로 분석하였음을 알 수 있다.

**[주요 내용]** 투자한 금융 자산의 수익성과 안전성을 분석하여 이를 기준으로 갑의 투자 성향을 서술해야 함.

채점 기준	배점
투자한 금융 자산의 성격을 수익성과 안전성 측면에서 판단하여 갑의 투자 성향을 서술한 경우	상
갑의 투자 성향에 대한 판단 근거 없이 간단하게 서술한 경우	하

(2) **step 1** **모범 답안** '이용하지 않을 것'의 예시

① 투자자는 로보어드바이저를 제공하는 업체들의 알고리즘을 정확하게 확인하기 힘들다. ② 인간에 의해 설계된 인공 지능 알고리즘이 급변하는 금융 시장을 정확하게 예측하는 것은 불가능하다. ③ 인공 지능에 따른 투자로 막대한 손실을 입을 경우 이에 대한 책임이 누구에게 있는지 불분명하다.

**step 2** **모범 답안** '이용하지 않을 것'의 예시

인공 지능 알고리즘에 따라 자산 관리 서비스를 제공하는 로보어드바이저는 장점보다 단점이 많다. 각 업체에서 제공하는 로보어드바이저의 고유한 알고리즘이 외부에 공개되지 않기 때문에 투자자는 로보어드바이저의 인공 지능 알고리즘을 정확하게 파악하기 힘들다. 또한 인간에 의해 설계된 알고리즘이 급변하는 금융 시장을 정확하게 예측하는 것은 불가능하다. 뿐만 아니라 로보어드바이저를 이용하여 투자했다가 막대한 손실이 발생한다면 그 책임이 로보어드바이저를 제공한 은행이나 증권사에 있는지, 알고리즘을 설계한 업체에 있는지가 불분명하므로 보상받기 힘들다. 따라서 나는 로보어드바이저의 자산 관리 서비스를 이용하지 않을 것이다.

**[주요 내용]** 금융 상품, 자산 관리, 포트폴리오, 인공 지능(AI)

구분	채점 기준	
근거 제시	상	뒷받침하는 근거를 세 가지 모두 명확하게 서술한 경우
	중	뒷받침하는 근거를 두 가지만 서술한 경우
	하	뒷받침하는 근거를 한 가지만 서술한 경우
논술문의 형식	상	논술문의 형식(주장, 근거, 결론 등)을 갖추어 바르게 작성한 경우
	하	논술문의 형식을 갖추지 못한 경우

## IV 세계화와 평화

**빠른 정답**

**1등급 완성!**

**1단계 개념 확인 문제**

- 01 ○ 02 × 03 × 04 ○ 05 ○ 06 ○  
 07 × 08 ○ 09 × 10 × 11 ○ 12 ○  
 13 × 14 지역 브랜드 15 생산자 서비스 기능  
 16 임금 수준이 낮은 개발 도상국이나 무역 장벽을 극복할 수 있는 곳  
 17 문화적 폭력 18 영토, 종교, 민족 19 국제기구(정부 간 국제기구) 20 소련 21 우호적인  
 22 동북공정

**2단계 내신 대비 문제**

- 23 ① 24 ④ 25 ① 26 ④ 27 ④ 28 ③  
 29 ① 30 ③ 31 ③ 32 ② 33 ② 34 ②  
 35 ③ 36 ④ 37 ② 38 ⑤ 39 ② 40 ②  
 41 ① 42 ③ 43 ⑤ 44 ①  
 45 (1) 해설 참조 (2) 해설 참조  
 46 (1) 빈부 격차의 심화 (2) 해설 참조  
 47 (1) 국제기구(정부 간 국제기구) (2) 해설 참조 48 해설 참조

**3단계 수능 대비 문제**

- 49 ⑤ 50 ① 51 ② 52 ① 53 ⑤ 54 ⑤  
 55 ⑤ 56 ③ 57 ② 58 ④ 59 ⑤ 60 ④  
 61 ⑤ 62 ⑤ 63 ④ 64 ②

### 23 세계화의 양상

**정답** ① 교통·통신의 발달로 시공간적 제약이 줄어들어 세계화가 빠르게 진행될 수 있었다. 한편 우리가 일상생활에서 상품 선택의 폭이 확대되고 다양한 문화 체험의 기회가 늘어난 것은 세계화의 긍정적인 영향으로 볼 수 있다.

**선택지 분석**

- ㉔. ㉔은 경영의 효율성을 높이기 위해 본사와 생산 공장을 같은 지역에 두는 편이다.  
 → 다국적 기업은 각 기능을 공간적으로 분리하여 각 기능을 수행하기에 가장 적합한 지역에 둔다. 본사는 본국의 대도시, 생산 공장은 생산비를 절감할 수 있는 곳에 들어선다.  
 ㉕. ㉕의 출범으로 ㉔의 성장이 위축되었다.  
 → 세계 무역 기구의 출범으로 무역 장벽이 낮아져 다국적 기업의 생산 및 판매 활동은 더욱 활발해진다.

### 24 지역 축제

**정답** ④ (가)는 눈과 얼음을 이용한 일본 홋카이도의 삿포로 눈 축제, (나)는 우리나라 서해의 갯벌을 활용한 보령 머드 축제이다. A는 에스파냐의 바르셀로나, B는 우리나라의 보령, C는 일본 홋카이도의 삿포로, D는 브라질의 리우데자네이루이다. 에스파냐의 바르셀로나에는 건축가 가우디가 설계한 사그라다 파밀리아 성당 등 유명한 건축물이 있어 수많은 관광객이 방문하며, 브라질의 리우데자네이루에서는 지역 축제이면서 세계적인 축제인 리우 카니발이 열린다.

## 25 세계도시

**정답** ① 세계도시에는 국제기구의 본부와 국제회의 및 행사가 집중되며, 대표적인 세계도시로 뉴욕, 도쿄, 런던 등이 있다.

### 선택지 분석

지은: 특히 금융, 회계, 법률 등 **소비자** 서비스 기능이 발달했어요.

→ 생산자

준형: 저렴한 노동력이 풍부해 다국적 기업의 생산 공장이 있어요.

→ 개발 도상국에 해당되는 설명이다.

## 26 다국적 기업의 공간적 분업

**정답** ④ 생산 공장은 임금이 저렴하고 판매 시장이 넓은 개발 도상국에 두는 경우가 많은데, 관세 부과와 같은 무역 장벽을 극복하고 각종 기업 활동을 지원받기 위해 선진국에 세워지기도 한다. 미국에 있는 생산 공장이 이에 해당한다.

**오답** ① 개발 도상국에 위치한 생산 공장도 있다. ② 본사는 경영 기획 및 관리 기능을 담당한다. 우리나라에 본사가 위치한 것으로 보아 다른 국가에서 원재료를 조달할 것으로 추측할 수 있다. ③ 연구소는 우수한 연구 인력을 확보할 수 있는 곳에 위치한다. ⑤ 판매 법인은 영업을 위해 각 지역의 중심지에 위치할 확률이 높다.

## 27 다국적 기업의 공간적 분업이 미치는 영향

**정답** ④ 다국적 기업의 산업 시설이 빠져나간 지역에서는 실업자가 증가하고 지역 경제가 침체될 수 있다. 이에 따라 지역 내 인구도 감소하고 주변의 상업 시설도 폐업하게 된다.

## 28 세계화와 관련된 개념

**정답** ③ 빈칸에 들어갈 말은 ㉠에서 '브랜드', ㉡에서 '세계도시', ㉢에서 '보편', ㉣에서 '세계', ㉤에서 '공정'이다.

## 29 세계화의 문제점과 해결 방안

**정답** ① 세계화로 증가한 부가 자본과 기술력이 풍부한 선진국에 집중되면서 빈부 격차가 심화되었다.

**오답** ② 현재 상태의 무역 구조를 유지한 채 국가 간 분업이 활발해지면 국가 간 빈부 격차는 더욱 심화될 수 있다. ③ 전 지구적 차원에서 문화 교류가 활발해지면서 사람들이 살아가는 모습이 점차 유사해져 지역 고유의 문화 정체성이 약화되었다. ④ 공정 무역은 불공정한 무역 구조(가)를 해결하기 위한 방법이다. ⑤ (가)와 (나)의 영향으로 선진국의 문화가 보편화되고, 문화의 획일화 현상이 나타난다.

## 30 갈등의 평화

**정답** ③ 갈등은 구조적·문화적 폭력 같은 간접적 폭력은 의도 없이 발생할 수 있고, 폭력은 직접적·구조적·문화적 폭력의 어떤 꼭짓점에서 시작될 수 있으며 다른 꼭짓점으로 이어진다고 주장하였다. 따라서 진정한 평화를 위해서는 직접적 폭력뿐만 아니라 구조적·문화적 폭력까지 사라진 적극적 평화를 실현해야 한다고 보았다.

## 31 폭력의 종류

**정답** ③ ㉠은 '구조적', ㉡은 '문화적'이다.

## 32 세계 각 분쟁의 원인

**정답** ② 이스라엘-팔레스타인 분쟁은 이슬람교와 유대교 간의 분쟁, 카슈미르 분리 분쟁은 이슬람교와 힌두교 간의 분쟁이다. 에티오피아는 식민 지배 과정에서 민족 공동체를 무시한 채 국경선을 설정하여 민족 간 갈등이 심화되었다.

## 33 국제 사회의 갈등과 협력

**정답** ② 국제 갈등은 영토뿐만 아니라 자원, 민족, 인종, 종교 등 여러 원인이 복합적으로 작용하여 다양한 양상으로 나타난다. 제시문에 나타난 갈등은 남극 대륙의 영유권을 둘러싼 것이지만, 국제 갈등의 원인이 모두 영토 갈등인 것은 아니다. ① 남극 대륙에 대해 여러 국가가 영유권을 주장했다는 점에서 국가는 자국의 이익을 우선하여 추구한다는 점을 알 수 있다. ③ 국제 갈등은 그 원인과 영향이 복잡하여 여러 국가가 협력하여 해결할 수 있다. ④, ⑤ 남극 대륙을 놓고 영유권 분쟁이 발생했으나, 이를 평화적으로 해결하기 위해 여러 국가가 서로 협력하여 남극 조약을 체결하였다.

## 34 국가와 비정부 기구

**정답** ② (가)는 국가, (나)는 비정부 기구이다. 이 둘은 모두 국제적으로 큰 영향력을 행사하며, 지구촌 공동의 문제에 관심을 두고 행동한다.

**오답** ㄴ. 자국민을 보호하기 위한 외교 활동을 하는 주체는 (가) 국가로 A에 해당한다. ㄷ. 오늘날 시민사회의 영향력이 강화되면서 (나) 비정부 기구의 역할이 확대되고 있다.

## 35 국제 사회의 행위 주체

**정답** ③ ㉢ 비정부 기구는 국제적인 연대를 통해 지구촌 공동의 문제를 제기하고 공동의 노력을 끌어내는 역할을 한다. 국제 사회에서 공통으로 준수해야 할 규범을 제정하여 국가들의 행위를 규율하는 것은 국제기구의 특징에 해당한다.

## 36 세계 평화를 위한 행위 주체의 바람직한 역할

**정답** ④ ㄴ. 굿네이버스의 모금 활동은 인권 보장이라는 인류의 보편적인 가치를 위한 것이다. 굿네이버스는 비정부 기구로, 특정 개인이나 기업, 국가의 이익이 아닌 생명 존중, 인권 보장 등 인류 공통의 문제에 관심을 두고 활동한다.

### 자료 분석

비정부 기구  
굿네이버스는 백만 달러를 모금해 긴급 구호 자금으로 지원하겠다고 밝혔다. 과거 튀르키예에서 뛰었던 국내 유명 운동선수는 튀르키예의 피해 회복을 위한 도움과 관심을 직접 호소하고 나섰다. 또한 100년 넘게 튀르키예와 갈등을 겪어 온 아르메니아는 구호 물품이 튀르키예로 전달될 수 있도록 35년 만에 국경을 열었다. 국가

→ 위 사례는 자연재해로 큰 피해를 겪는 국가와 국민을 위해 국제 사회의 여러 행위 주체가 협력하는 모습을 보여 준다.

### 37 세계 평화를 위한 세계시민으로서의 역할

**정답** ② 학생들은 세계시민으로서 책임감을 갖고 어려움에 처한 사람들을 돕기 위해 캠페인, 기부 활동을 기획하는 등 인류의 보편적 가치를 추구하며 국제 사회의 문제를 해결하고자 적극적으로 행동하였다. 국제 사회의 평화 유지를 위해 국가들 사이의 이해관계를 직접 조정하는 것은 개인이 아니라, 국제기구의 역할이다.

### 38 남북 분단의 배경

**정답** ⑤ 우리나라는 1945년 8월 15일 일본의 식민 지배에서 벗어나 광복을 맞이하였다. 따라서 일본의 식민 지배는 남북 분단에 직접적 영향을 끼친 배경으로 볼 수 없다.

### 39 분단 비용의 이해

**정답** ② 분단 비용은 통일 이전 분단 상태에서 남북 간 대립으로 발생하는 소모적 비용으로, 안보 유지비, 체제 경쟁을 위해 필요한 외교비 외에도 국제 사회에서 받는 정치·외교적 불이익, 이산가족의 아픔 등 무형의 비용까지 포함된다. 현재 남북한은 정치·경제·외교·군사적 대립에 따른 분단 비용을 지불하고 있으며, 이는 소모적인 경쟁으로 이어지고 있다. 이와 대비하여 '통일 비용'은 통일 전후에 남북한의 서로 다른 체제와 제도 등을 통합하는 과정에서 드는 비용을 의미하는 말이다. 통일 비용의 예로, 통일 후 경제 개발에 투자하는 비용 등을 들 수 있다.

### 40 평화통일의 필요성

**정답** ② 분단 비용은 남북 분단 때문에 발생하는 모든 비용을 의미한다. 남북한의 평화통일이 이루어지면 분단 비용이 줄어 이를 경제 발전에 활용할 수 있다.

### 41 중국과의 역사 갈등

**정답** ① 동북공정에 대한 검색 결과이다. 중국은 동북공정을 통해 만주 지역과 한반도 북부를 중심으로 전개된 우리 역사를 중국의 역사라고 주장하면서 역사 왜곡을 자행하였다.

**오답** ② 국제 연합(UN)의 위임을 받은 국가가 아직 자치 능력이 없는 지역을 일정 기간 통치하는 것이다. ③ 일본은 과거 침략 전쟁을 확대하는 과정에서 다수의 한국인 여성을 일본군 '위안부'로 동원하였지만 역사 왜곡을 통해 이를 축소하고 정당화하여 우리나라와 갈등을 겪고 있다. ④ 동아시아 국가와 그 주변 국가들은 복잡하게 얽힌 역사적 배경과 해양 자원을 둘러싼 경쟁 등으로 인한 해양 영토 분쟁을 겪고 있다. ⑤ 침략 전쟁을 수행한 일본의 A급 전범을 합사한 야스쿠니 신사 참배 문제 등으로 우리나라와 일본은 역사 갈등을 겪고 있다.

### 42 동아시아의 역사 갈등

**정답** ③ 일본은 1905년 시마네현 고시로 우리 영토인 독도가 일본 영토로 편입되었다고 왜곡된 주장을 하고 있어 우리나라와 갈등을 겪고 있다. 그러나 여러 문헌에서 독도가 우리나라 고유의 영토라는

사실을 밝히고 있다. 1877년에는 일본 최고 행정 기관인 태정관이 독도가 일본의 영토가 아님을 인정하는 지령을 내렸다.

### 43 동아시아의 역사 갈등 해결 방안

**정답** ⑤ 동아시아의 역사 갈등을 해결하기 위해서는 서로의 역사 인식을 공유하면서 과거의 잘못을 인정하고 반성하는 태도가 필요하다. 또한 공동 역사 연구 등의 노력을 통해 국가 간 역사 인식의 차이를 극복하고 역사를 올바르게 이해해야 한다.

**오답** ㄱ. 국제 연대와 교류를 확대하여 역사 인식의 차이를 줄여나가야 한다. ㄴ. 역사 왜곡을 바로잡는 인식을 국제 사회와 공유할 수 있지만, 당사국 간의 역사적 사실 관계 확인과 공동의 역사 인식의 차이를 극복하는 노력이 더 중요하다. 또한 국제기구의 결정을 무조건 따르는 것이 올바른 해결 방법은 아니다.

### 44 우리나라의 국제적 위상과 세계 평화 기여 방안

**정답** ① 우리나라는 대륙과 해양이 만나는 반도국으로 동아시아의 전략적 관문에 해당하는 위치에 있다. 이러한 지정학적 특징 때문에 우리나라는 역사적으로 외부의 침략을 많이 받았음에도 고유한 영토와 문화를 보존하고 발전시켜왔다.

### 45 다국적 기업의 산업 시설 이전에 따른 영향

(1) **모범 답안** 다국적 기업, 세계 여러 국가에 자회사, 지점, 생산 공장을 두고 국경을 넘어 세계적으로 생산·판매 활동을 하는 기업이다. **[주요 내용]** 다국적 기업이 전 세계를 무대로 생산·판매 활동을 한다는 내용을 서술해야 함.

채점 기준	배점
다국적 기업을 쓰고, 그 의미를 바르게 서술한 경우	상
다국적 기업만 쓴 경우	하

(2) **모범 답안** 생산 공장이 들어선 베트남은 일자리가 늘어나고 지역 경제가 활성화되지만, 생산 공장이 빠져나간 중국은 실업자가 증가하여 지역 경제가 침체될 수 있다.

**[주요 내용]** 생산 공장이 들어선 베트남과 빠져나간 중국의 지역 경제가 어떻게 변하였는지 서술해야 함.

채점 기준	배점
생산 공장 이전이 베트남과 중국의 지역 경제에 미친 영향을 바르게 서술한 경우	상
생산 공장 이전이 지역 경제에 미친 영향을 베트남과 중국 중 하나만 서술한 경우	하

### 46 세계화에 따른 문제점

(1) 빈부 격차의 심화  
(2) **모범 답안** 세계화를 통한 경제적 이익이 일부 선진국이나 기업에 지나치게 집중되지 않도록 해야 한다. 이를 위해 국제기구와 선진국은 개발 도상국에 공적 개발 원조나 기술 이전 등을 지원하여 그들의 경제적 자립을 도와야 한다. 또한 불공정한 무역 구조를 개선하기 위해 공정 무역, 공정 여행 등을 활성화해야 한다.



**(주요 내용)** 빈부 격차 문제를 해결하기 위한 노력으로 공적 개발 원조, 기술 이전, 공정 무역 등을 제시해야 함.

채점 기준	배점
빈부 격차 문제를 해결하기 위한 노력을 두 가지 모두 바르게 서술한 경우	상
빈부 격차 문제를 해결하기 위한 노력을 한 가지만 서술한 경우	하

#### 47 국제 사회의 행위 주체

(1) 국제기구(정부 간 국제기구)

(2) **모범 답안** 인도주의적 구호 활동을 통해 인권 침해를 방지하고, 분쟁 대상 간의 이해관계를 조정하는 갈등 중재자 역할을 할 수 있다.

**(주요 내용)** 국제기구가 할 수 있는 역할로 인도주의적 구호 활동과 갈등 중재자 역할 등을 서술해야 함.

채점 기준	배점
국제기구가 할 수 있는 역할을 바르게 서술한 경우	상
국제기구가 할 수 있는 역할을 미흡하게 서술한 경우	하

#### 48 독일 통일로 보는 평화통일을 위한 노력

**모범 답안** 남북한의 평화통일을 위해 사회·문화 등 다양한 영역에서 지속적으로 교류하고 협력을 이어 나가야 한다. 이러한 교류와 협력을 통해 주민들 간 내적 통합을 다져 나감으로써 서로의 동질성을 확인하고 서로에 대한 이해를 높여 통일의 기반을 형성해야 한다.

**(주요 내용)** 남북한의 평화통일을 위해 지속적인 교류와 협력을 해야 하고 이를 통해 동질성을 확인할 수 있다는 점을 서술해야 함.

채점 기준	배점
평화통일을 위해 지속적으로 교류하고 협력해야 함을 바르게 서술한 경우	상
평화통일을 위해 지속적으로 교류하고 협력해야 함을 미흡하게 서술한 경우	하

#### 49 세계화의 등장 배경

**정답** ⑤ (가) 세계화의 등장 배경으로는 교통·통신의 발달에 따른 시공간의 제약 감소, 세계 무역 기구(WTO) 출범에 따른 자유 무역 확대 등을 들 수 있다.

**오답** ㄱ. 세계화가 진행되면서 자본과 기술력이 풍부한 선진국이 개발 도상국에 비해 큰 부를 축적하여 국가 간 빈부 격차는 심화되었다. 빈부 격차 완화나 심화 등은 세계화의 배경이라고 볼 수 없다.

#### 50 세계도시와 지역화

**정답** ① ㉠ 세계의 경제·정치·문화 중심지 역할을 하는 뉴욕을 통해 ㉡이 세계도시임을 알 수 있다. ㉢ 지역 자체에 부여한 하나의 고유한 상표인 'I♥NY'와 같은 지역 브랜드는 지역화 전략 중 하나이다.

#### 51 세계도시와 다국적 기업

**정답** ② 자료는 다국적 금융 기관인 △△은행의 특성과 업무 시간

을 나타낸 것이다. ㄱ. 정보 통신의 발달로 거리 장벽이 줄어들면서 △△은행은 인터넷을 활용하여 지역에 맞는 다양한 서비스를 제공하며 기업 활동을 할 수 있게 되었다. ㄴ. 다국적 금융 기관인 △△은행은 본사는 있는 런던에서 핵심적인 의사 결정을 한다.

**오답** ㄴ. 런던, 뉴욕, 도쿄는 세계도시에 해당하며, 이들이 포함된 국가들은 선진국으로서 개발 도상국에 공적 개발 원조를 지원한다. ㄷ. 금융, 보험, 회계, 법률 등은 생산자 서비스업에 해당하며 기업 활동에 도움을 주는 서비스업이다.

#### 52 다국적 기업의 산업 시설 이전이 지역에 미치는 영향

**정답** ① 다국적 기업은 생산비가 저렴하고 기업 활동에 유리한 곳을 찾아 생산 공장을 이전하며, 그곳의 상황이 불리해질 경우 또 다른 지역으로 이전한다. 그 결과 생산 공장이 빠져나간 지역은 일자리가 감소하고 지역 경제가 침체된다.

##### 선택지 분석

병: 연관 중소기업들이 들어서면서 인구가 증가할 거야.

→ TV 부품을 공급하던 중소기업들도 같이 이전하거나 사라질 확률이 높으므로 인구는 감소할 것이다.

정: 금융 자본이 집중되어 다른 국가와의 경제 협력이 강화될 거야.

→ 다국적 기업이 빠져나간 지역은 금융 자본이 유출될 가능성이 크다.

#### 53 다국적 기업의 공간적 분업

**정답** ⑤ ㉠ 금융, 디자인, 광고 등과 같이 기업을 대상으로 하는 생산자 서비스업은 다국적 기업의 본사들이 밀집한 핵심 지역이나 대도시에서 집중되어 있다.

##### 선택지 분석

① ㉠: 교통·통신의 발달로 시공간의 제약이 **커졌다** 때문이다.

→ 줄어들었기

② ㉡: 인구가 많은 **개발 도상국**에 주로 위치한다. → 선진국

③ ㉢: 본국의 제조업 분야 일자리가 **증가**한다. → 감소

④ ㉣: **생산비 중 노동비 절감**의 효과가 크기 때문이다.

→ 무역 장벽 극복 및 시장 개척

#### 54 공정 무역

**정답** ⑤ 공정 무역은 개발 도상국의 생산자에게 적당한 대가를 지불하고 구매하려는 윤리적 소비와 관련 있다. 공정 무역 상품은 중간 유통 과정을 거치지 않고 생산자와 직접 거래하기 때문에 유통 단계가 줄어 생산자에게 더 많은 이윤이 돌아가게 하며, 일정 수익을 공정 무역 상품 생산지의 기반 시설을 확충하는 데 사용하기도 한다.

##### 선택지 분석

ㄱ. 세계 경제의 불평등 정도가 **심화**될 것이다. → 완화

ㄴ. 공정 무역 커피의 유통 단계가 **늘어날** 것이다. → 줄어들

## 55 세계화의 양상과 문제 해결

**정답** ⑤ 보편 윤리와 특수 윤리 간 갈등 문제를 해결하기 위해서는 세계시민 의식을 함양하고, 특수 윤리를 인정하되 보편 윤리의 관점에서 인류의 보편적 가치를 침해하는 행위를 비판적으로 성찰하는 자세를 지녀야 한다.

## 56 평화의 유형

**정답** ③ 나. 적극적 평화는 경제적 착취와 빈곤 등의 구조적 폭력이 제거된 상태를 포함한다. 다. 진정한 평화는 물리적 폭력뿐만 아니라 구조적 폭력과 문화적 폭력까지 사라진 상태를 지향한다.

**오답** 가. 구조적 폭력은 적극적 평화를 실현할 때 해소될 수 있다. 라. 진정한 평화는 소극적 평화의 달성만으로는 실현되기 어려우며 적극적 평화를 달성해야 한다.

## 57 갈등의 평화

**정답** ② 제시문의 사상은 갈등이다. 갈등은 폭력은 폭력을 낳기 때문에 평화는 반드시 평화적 수단으로 달성되어야 한다고 보았다.

## 58 평화의 중요성

**정답** ④ 평화가 실현되면 인류가 안전하게 살아갈 환경이 조성되어 전쟁의 위협, 차별과 불평등에서 벗어날 수 있으며 범죄와 전쟁 등으로 파괴되는 문화유산은 보존할 수 있다.

**오답** 다. 진정한 평화의 실현은 현재대를 포함하여 미래 세대의 번영까지 가능하게 한다.

## 59 국제 사회의 행위 주체

**정답** ⑤ ㉠은 다국적 기업, ㉡은 국가, ㉢은 국제 연합, ㉣은 국제 비정부 기구이다. 따라서 (가)에는 '개인이나 민간단체가 회원으로 가입할 수 있다.'가 들어갈 수 있다.

## 60 세계 평화를 위한 행위 주체의 역할

**정답** ④ 기아 문제는 해당 국가가 단독으로 해결할 역량이 부족한 경우가 많다. 따라서 기아 문제를 해결하기 위해서는 국제 사회가 협력하고 인류가 인도주의적 의무를 다해야 한다.

## 61 통일 비용

**정답** ⑤ 분단 비용은 통일 이전까지 분단을 유지하는 데 소모되는 비용으로 안보 유지 비용, 이산가족의 아픔 등이 포함된다. 제시문은 남북한이 통일된다면 장기적으로 볼 때 통일에 소모되는 비용보다 이익이 더 크다고 본다.

**오답** 가. 통일 비용은 통일 전후에 발생하는 비용이다. 나. 분단 비용은 통일 이전까지 분단을 유지하는 데 드는 비용으로, 통일 이후에도 지속적으로 발생하는 것은 아니다.

## 62 통일의 필요성

**정답** ⑤ 값은 통일의 필요성을 경제적 가치에서 찾아서는 안 된다고 보고, 이른 민족의 경제적 이익 증대를 위해 통일을 추진해야 한다고 본다.

## 63 평화통일을 위한 노력

**정답** ④ 제시문은 통일 전 독일의 교류 활성화, 대화, 통일 교육, 우호적인 환경 조성 등의 노력에 대해 설명하고 있다. 따라서 (가)에는 독일의 사례를 바탕으로 통일 전 남북한 간 사회 통합의 기반 마련, 안보 및 평화 구축을 위한 노력의 내용이 들어가야 한다.

## 64 동아시아의 영토 문제

**정답** ② A는 쿠릴 열도(북방 도서), B는 난사 군도(스프래틀리 군도)이다. 가. 쿠릴 열도는 러시아와 일본 간 영토 분쟁으로 현재 러시아가 실효 지배하고 있다. 다. 난사 군도 분쟁 당사국은 베트남, 중국, 필리핀 등으로 쿠릴 열도 분쟁보다 분쟁 당사국의 수가 더 많다.

**오답** 나. B는 자원을 둘러싼 영유권 분쟁이다. 라. B의 분쟁 당사국에 일본은 포함되지 않는다.

## 논술형 문제

179쪽

### [문항 설계 의도]

- 우리나라의 높아진 위상에 따른 국제 사회에서의 역할을 평화와 관련 지어 이해할 수 있도록 한다.
- 세계 평화를 위한 해외 원조가 필요한지에 관해 생각하고 세계시민으로서의 공동체 역량을 함양할 수 있도록 한다.

### 자료 분석

- (가) 문화적 측면에서의 우리나라의 국제적 위상을 살펴볼 수 있다.  
 (나) 한국 국제 협력단(KOICA)의 활동 사례를 통해 우리나라가 국제 사회에서 중요한 역할을 하고 있음을 알 수 있다.  
 (다) 우리나라가 개발 도상국에 대한 기술 지원, 재난 국가에 대한 구호 활동, 분쟁 지역에서의 평화 유지 활동 등을 하여 세계 평화에 이바지하고 있음을 보여 준다.

### 작성 Tip | 논술문 작성 가이드

- 적극적 평화 실현의 관점에서 세계 평화와 원조를 바라본다.
- 세계 평화를 적극적 평화의 관점에서 이해할 수 있어야 함.
  - 국제 사회의 상호 연관성이 증가하고 있는 상황에서 지구촌 어느 한 곳의 문제가 전 세계에 영향을 미칠 수 있음을 이해해야 함.

- (1) **모범 답안** (가)는 우리나라의 대중문화가 '한류' 형태로 전 세계에서 큰 인기를 얻고 있음을 보여 준다. (나)는 한국 국제 협력단(KOICA)의 활동 사례를 통해 우리나라가 개발 도상국에 기술을 지원하는 등 국제 사회에서 중요한 역할을 하고 있음을 보여 준다. **[주요 내용]** 한류를 통해 우리나라의 대중문화가 큰 인기를 얻고 있고, 개발 도상국에 기술을 지원하는 등 국제 사회에서 중요한 역할을 하고 있음을 서술해야 함.

## V 미래와 지속가능한 삶

### 빠른 정답

1등급 완성!

#### 1단계 개념 확인 문제

- 01 ○ 02 ○ 03 × 04 ○ 05 ○ 06 ×  
 07 ○ 08 ○ 09 × 10 × 11 ○ 12 ○  
 13 북반구 중위도 14 청장년층 15 정치적 이동  
 16 저출생·고령화 문제 17 화석에너지  
 18 서남아시아 19 자원 민족주의 20 파리 협정  
 21 상호 의존성 22 세계시민 의식

#### 2단계 내신 대비 문제

- 23 ④ 24 ⑤ 25 ③ 26 ⑤ 27 ① 28 ④  
 29 ② 30 ④ 31 ① 32 ④ 33 ⑤ 34 ④  
 35 ② 36 ③ 37 ④ 38 ② 39 ② 40 ①  
 41 ④ 42 (1) 적정 기술 (2) 해설 참조  
 43 (1) 세계시민 의식 (2) 해설 참조

#### 3단계 수능 대비 문제

- 44 ② 45 ① 46 ③ 47 ② 48 ② 49 ②  
 50 ③ 51 ① 52 ① 53 ⑤ 54 ② 55 ⑤  
 56 ④ 57 ③ 58 ② 59 ③

채점 기준	배점
(가), (나)에 나타난 우리나라의 국제적 위상을 모두 바르게 서술한 경우	상
(가), (나) 중 우리나라의 국제적 위상을 한 가지만 서술한 경우	하

- (2) **모범 답안** 진정한 평화는 직접적·물리적 폭력뿐만 아니라 불공정한 사회 구조나 제도로 발생하는 구조적 폭력과 이를 정당화하는 문화적 폭력까지 모두 제거된 상태인 적극적 평화를 실현할 때 이루어질 수 있다. 우리나라는 국제 연합(UN)의 평화 유지 활동에 참여하여 테러, 전쟁 등을 방지하고, 개발 도상국에 기술을 지원하며 구호 활동을 해서 빈곤 문제 해결에 도움을 주었다. 이를 통해 우리나라가 세계의 진정한 평화를 실현하는 데 도움을 주었다고 볼 수 있다.

**[주요 내용]** 진정한 평화는 적극적 평화를 실현할 때 이루어지며, 우리나라가 국제 사회에서 하는 활동은 진정한 평화를 실현하는 데 이바지하고 있음을 서술해야 함.

채점 기준	배점
(다)에 나타난 우리나라의 세계 평화 기여 방안을 진정한 평화의 의미를 들어 서술한 경우	상
(다)에 나타난 우리나라의 세계 평화 기여 방안을 진정한 평화의 의미와 무관하게 서술한 경우	하

- (3) **step 1 모범 답안** '세계 평화를 위해 해외 원조는 필요하다.'의 예시
- ① 지구촌 어느 한 곳의 평화롭지 못한 삶은 다른 곳에 사는 사람들에게도 영향을 미칠 수 있다.
  - ② 빈곤, 기아 문제 등은 한 국가의 노력만으로는 해결하기 어렵기 때문에 국제 사회의 연대와 협력이 필요하다.
  - ③ 세계 평화는 인간다운 삶을 보장하는 적극적 평화를 실현할 때 이루어질 수 있다.

→ 따라서 세계 평화를 위해 해외 원조는 (필요하다).

**step 2 모범 답안** '세계 평화를 위해 해외 원조는 필요하다.'의 예시 국제 사회의 상호 의존성이 높은 오늘날에는 지구촌 어느 한 곳의 평화롭지 않은 삶은 다른 곳에 사는 사람들에게도 영향을 미친다. 지구촌 곳곳에서 일어나는 빈곤, 기아 문제 등은 어느 한 국가의 노력만으로는 해결하기 어렵기 때문에 국제 사회의 연대와 협력이 필요하다. 또한 진정한 세계 평화는 인간다운 삶을 보장하는 적극적 평화를 실현할 때 이루어질 수 있다. (다)에 나타난 우리나라의 해외 원조는 원조 대상국 주민들의 인간다운 삶을 보장하는 데 큰 역할을 하고 있다. 따라서 해외 원조를 통해 소극적 평화를 넘어 적극적 평화의 실현에 이바지하여 진정한 세계 평화를 이루어야 한다.

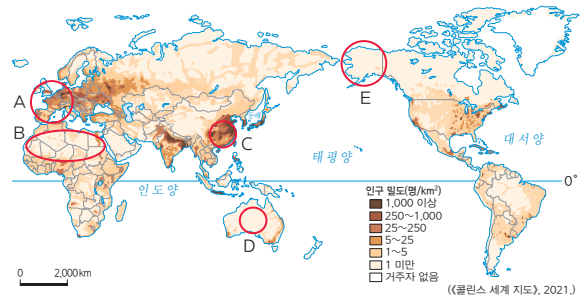
**[주요 내용]** 해외 원조, 적극적 평화, 진정한 평화, 세계 평화

구분	채점 기준	
근거 제시	상	뒷받침하는 근거를 세 가지 모두 명확하게 서술함.
	중	뒷받침하는 근거를 두 가지만 서술함.
	하	뒷받침하는 근거를 한 가지만 서술함.
논술문의 형식	상	논술문의 형식(주장, 근거, 결론 등)을 갖추어 바르게 작성함.
	하	논술문의 형식을 갖추지 못함.

## 23 세계의 인구 분포

**정답** ④ D는 건조한 사막이 넓게 분포하여 인구 밀도가 낮다.

### 자료 분석



A는 산업 혁명 이후 공업이 발달하여 인구가 집중된 서부 유럽, B와 D는 건조한 사막이 넓게 분포하여 인구 밀도가 낮은 아프리카와 오스트레일리아의 사막 지역이다. 그리고 C는 계절풍의 영향으로 인구 부양력이 높은 벼를 일찍부터 재배하여 인구 밀도가 높은 중국 동남부 지역, E는 고위도에 위치해 날씨가 추워 인구 밀도가 낮은 미국의 알래스카 지역이다.

## 24 국가별 인구 지표

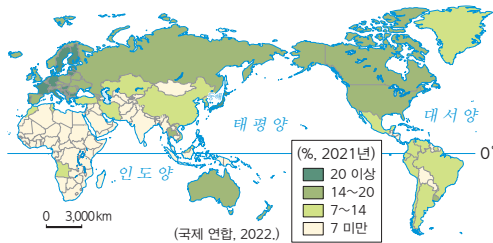
**정답** ⑤ 지도의 A는 콩고 민주 공화국, B는 오스트레일리아, C는 대한민국이다. (가) 국가는 합계 출산율이 가장 낮고 인구 밀도가 가장 높게 나타남으로 대한민국(C)에 해당한다. (나) 국가는 합계 출산율이 높지 않으며 인구 밀도가 가장 낮게 나타난다. 따라서 사막이 넓게 펼쳐져 있어 인구 밀도가 높지 않은 오스트레일리아(B)에 해당한다. (다) 국가는 합계 출산율이 가장 높고 기대 수명이 가장 짧으므로, 아프리카 대륙에 있는 콩고 민주 공화국(A)에 해당한다.

## 25 국가별 노년층 인구 비율

**정답** ③ 을. 노년층 인구 비율이 높은 지역은 노년 부양비가 높아 청장년층의 재정적 부담이 늘어난다. 병. 대체로 노년층 인구 비율이 높은 지역은 경제가 발달한 선진국이고, 노년층 인구 비율이 낮은 지역은 개발 도상국이다. 따라서 노년층 인구 비율이 높은 지역이 소득 수준이 높은 편이라고 할 수 있다.

**오답** 갑. 노년층 인구 비율이 높은 지역은 출산율이 낮아 인구가 정체한다. 정. 사망률이 낮을수록 노년층 인구 비율이 높아지는 편이다. 출생률이 높으면 유소년층 비중이 크므로 노년층 인구 비율이 낮아진다.

### 자료 분석



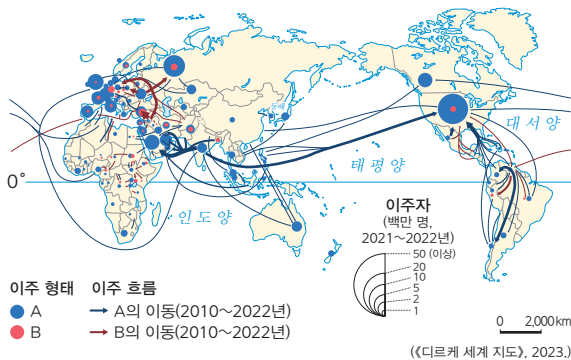
북아메리카와 유럽, 일본 등과 같이 경제가 발달한 선진국은 노년층 인구 비율이 상대적으로 높은 편이다. 반면 아프리카 국가들과 인도 등 개발 도상국은 노년층 인구 비율이 상대적으로 낮은 편이다.

## 26 세계의 인구 이동

**정답** ⑤ A는 노동자로 경제적 이동을, B는 난민으로 정치적 이동을 나타낸다. 오늘날 경제적 목적의 노동자가 정치적 목적의 난민보다 더 많다.

**오답** ① A는 노동자, B는 난민이다. ② 노동자(A)는 보통 풍부한 일자리를 찾아 북아메리카, 유럽 등으로 이동한다. ③ 난민(B)은 아프리카와 서남아시아에서 많이 발생한다. ④ 난민(B)은 정치적 불안과 분쟁을 피할 수 있는 곳으로 이동한다.

### 자료 분석



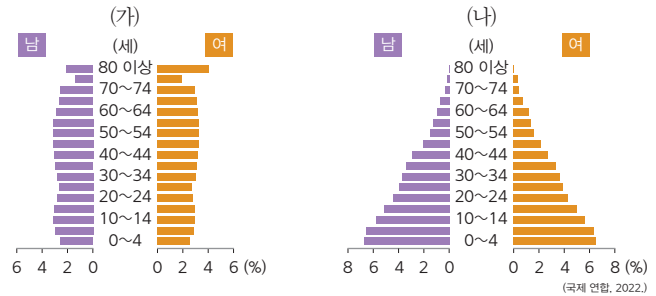
지도의 A는 노동자이다. 이들은 높은 임금과 풍부한 고용 기회를 찾아 주로 아프리카, 아시아, 중남부 아메리카의 개발 도상국에서 유럽, 북아메리카, 오세아니아의 선진국으로 경제적 이동을 한다. B는 난민으로, 전쟁 및 분쟁을 피해 안전한 지역으로 정치적 이동을 한다.

## 27 선진국과 개발 도상국의 인구 구조

**정답** ① 중위 연령은 인구를 연령 순서로 세웠을 때 그 중앙에 위치한 사람의 연령을 말한다. (가)는 (나)에 비해 유소년층의 비중이 낮고 노년층의 비중이 높은 것으로 보아 중위 연령이 높다.

**오답** (가)는 (나)보다 ② 유소년 부양비가 낮고, ③ 노년층 비중이 높으며, ④ 합계 출산율이 낮다. ⑤ 우리나라의 과거 인구 구조는 개발 도상국인 (나)의 형태였다.

### 자료 분석



(가)는 프랑스의 인구 피라미드로, 유소년층의 비중이 낮고 노년층의 비중이 높은 선진국의 인구 구조를 보이고 있다. (나)는 가나의 인구 피라미드로, 유소년층의 비중이 높고 노년층의 비중이 낮은 개발 도상국의 인구 구조를 보이고 있다.

## 28 세계의 인구 문제

**정답** ④ (나)는 가나로 출생률이 높아 인구 과잉 문제가 발생할 수 있다. 이에 따라 식량 및 자원 부족 문제와 기아 및 빈곤 문제가 나타날 수 있다.

**오답** ㄱ, ㄷ. (가)는 합계 출산율이 낮아 저출생·고령화 문제가 발생하고, 이에 따라 노동력 부족 문제도 나타날 수 있다.

## 29 정치적 인구 이동

**정답** ② (가)는 난민 유출국(발생 상위 6개국), (나)는 난민 유입국(수용 상위 6개국)이다. ㄱ. (가)에서 (나)로의 난민(㉠) 이동은 정치적 탄압이나 전쟁 등을 피해 이동하는 정치적 이동에 해당한다. ㄷ. (가)는 난민 발생 상위 6개국으로, (가)에서 (나)로 이동하는 사람의 수가 (나)에서 (가)로 이동하는 사람의 수보다 많다.

**오답** ㄴ. 환경적 이동은 사막화, 해수면 상승 등 기후변화에 따른 자연재해를 피해 다른 지역으로 이동하는 것으로, 투발루 기후 난민의 이동 등이 있다. (나)에서 (가)로의 인구 이동은 환경적 이동은 아니다. ㄷ. (가)에서 (나)로 이동하는 사람들은 난민들로, 고소득의 전문직이 아니라 정치적 탄압과 전쟁을 겪은 사람들이다.

## 30 인구 이동에 따른 영향

**정답** ④ (가)는 인구 유출국, (나)는 인구 유입국이다. 인구 이동에 따라 (나) 국가군은 다양한 문화가 공존하고 노동력이 풍부해지지만, 원주민과 이주민 간의 갈등이 나타날 수 있다.

**오답** ㄱ, ㄷ. (가) 국가군은 경제적 목적으로 이동한 이주 노동자의 송금으로 외화가 늘어나지만, 생산 연령 인구인 청장년층이 빠져나가 장기적으로 경제가 침체할 수 있다.



### 31 지역 격차

**정답** ① 비도시 지역이나 지방의 소도시는 대도시와 비교해 응급 의료 시설 평균 접근 거리가 멀다. 이를 통해 지방 소도시나 비도시 지역과 같이 인구가 적어 응급 의료 시설을 비롯한 생활 기반 시설이 부족한 곳은 계속 인구가 유출됨을 추론할 수 있다. 특히 생산 연령 인구의 유출이 계속 이어진다면 비도시 지역과 지방의 소도시는 가까운 미래에 지역 소멸의 위기에 닥칠 수 있다.

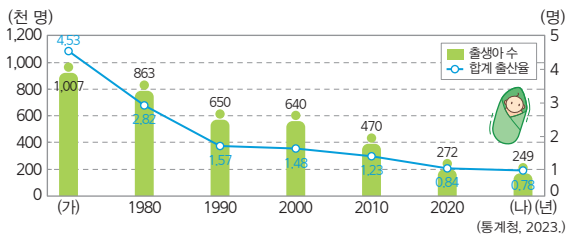
**오답** 병. 대도시일수록 응급 의료 시설 평균 접근 거리가 가깝다. 정. 도시로의 인구 및 기능 집중이 지역 격차의 원인이다.

### 32 시기별 인구 특성과 인구 문제

**정답** ④ (가)는 1980년 이전, (나)는 2020년 이후의 연도이다. 을. (가) 시기는 (나) 시기에 비해 의학 발달 수준이 높지 않아 기대 수명이 짧다. 정. (나) 시기는 (가) 시기보다 합계 출산율이 낮아 출산 장려 정책의 필요성이 높다.

**오답** 갑. (가) 시기는 합계 출산율은 높지만 사망률도 비교적 높은 시기로 총인구가 (나) 시기보다 적다. 병. (나) 시기는 (가) 시기보다 출생아 수와 합계 출산율이 낮으며 고령 인구도 많아 유소년층 인구 비율이 낮다.

#### 자료 분석



우리나라의 출생아 수와 합계 출산율이 지속적으로 감소하고 있는 것을 보여주는 그래프이다. (가)는 1970년, (나)는 2022년이다.

### 33 화석에너지의 특징

**정답** ⑤ (가)는 석탄, (나)는 석유이며, A는 중국, B는 사우디아라비아이다. 중국은 거대한 인구 규모와 더불어 산업 발전 및 경제 성장을 지속하고 있어 에너지 소비량이 많으며, 사우디아라비아는 자원 수출을 통해 얻은 수익으로 경제 성장을 이루었다.

#### 선택지 분석

ㄱ. (가)는 플라스틱과 같은 생활용품의 주요 원료로 사용된다.

→ 석유에 대한 설명이다.

ㄴ. (나)는 주로 신생대 제3기층 배사 구조에 매장되어 있어 편재성이 상대적으로 약하다. → 강하다.

### 34 자원 민족주의의 발생 배경

**정답** ④ 자원 민족주의의 등장 배경은 자원은 매장량이 한정(유한성)되어 있으며, 특정 지역에 분포(편재성)하는 특성이 있기 때문이다.

**오답** ②, ③은 자원의 가변성과 관련 있다. ① 변동은 있지만 가채 연수는 정해져 있다. ⑤ 자원의 생산지와 소비지는 일치하지 않는다.

### 35 자원 민족주의의 영향력

**정답** ② 자원 민족주의가 발생하면 해당 자원에 대한 수입 의존도가 높은 국가의 경우 자원 거래 가격 상승으로 물가가 오르고 국민 생활이 불안정해지는 문제가 발생할 수 있다.

**오답** ①, ④ 자원 민족주의로 에너지 수급에 불균형이 생기면 신·재생 에너지, 원자력 에너지 등의 발전 비중을 늘리려고 할 수 있다. ③ 자원 외교가 확대될 것이다. ⑤ 자원 민족주의와 관련된 설명으로 유럽과 우리나라의 상황과는 관련이 없다.

### 36 에너지 자원의 특징

**정답** ③ (가)는 화석에너지, (나)는 신·재생 에너지이다. (나)는 (가)보다 재생 가능성이 높고 에너지 전환 효율성이 낮으며, 오염 물질 배출량이 적다.

### 37 기후변화의 특징

**정답** ④ 기후변화를 해결하기 위한 개인의 노력에는 이동 거리가 길어 탄소 발생량이 많은 글로벌 푸드보다 지역에서 생산되어 이동 거리가 짧고 탄소 발생량이 적은 로컬 푸드를 소비하는 것이 있다.

#### 선택지 분석

① 갑: 기후변화로 남극의 빙하 면적은 점차 확대되고 있습니다. → 축소

② 을: 기후변화의 원인을 제공한 국가와 해당 세대만 피해를 받습니다. → 원인과 관련이 적은 국가와 미래 세대로 피해를 받는다.

③ 병: 국가의 해결 노력으로는 석탄 화력 발전소의 추가 건설이 있습니다. → 신·재생 에너지 중심의 소비 구조로 전환하는 것

⑤ 무: 국제 사회의 해결 노력으로는 폐기물의 해양 투기를 방지하는 파리 협정을 체결하는 것이 있습니다. → 관련 협약

→ 파리 협정은 기후변화 협약 중 하나로 온실가스 배출량을 줄여 지구 온도 상승 속도를 늦추고자 하는 국제 사회의 해결 노력이다.

### 38 기후변화 대응 노력, 그린 택소노미

**정답** ② 그린 택소노미(Green Taxonomy)는 환경적으로 지속가능한 경제로 전환하기 위한 정책적 필요에서 도입된 것이다.

**오답** ① 지능 정보 기술과는 관련이 없다. ③, ④ 화석에너지 중심의 에너지 소비 구조에서 벗어나고 기후변화 협약을 지키며 지속가능한 성장을 하기 위한 것이다. ⑤ 윤리적 소비의 기준을 마련해 준다.

### 39 기후변화 대응 노력, RE100

**정답** ② 재생 에너지는 기술적 여건뿐만 아니라, 경제적 여건과 자연 조건 등에 따라 이용 가능 여부와 발전량에 큰 차이가 난다.

### 40 미래 사회의 모습

**정답** ① 지능 정보 기술의 발달로 반복적이면서 시간이 오래 걸리는 작업은 인공 지능과 자동화 기술로 대체되어 작업의 효율성과 생산성이 증가할 것이다.

## 41 세계시민의 역할

**정답** ④ 제시문의 '나'는 세계시민으로 국가와 지구촌 공동체가 당면한 문제의 해결에 도움이 되는 삶을 추구하며, 모든 인간의 존엄성과 다양성을 존중하고 세계를 위해 공동의 책임을 수용하는 태도를 가지고 있다.

### 선택지 분석

- ① 인류 보편적 가치보다 개인의 이익을 우위에 둔다.  
→ 인류 보편적 가치를 개인의 이익보다 우위에 둔다.
- ② 일상 외의 삶의 많은 부분이 다양한 공동체와 단절되어 있다.  
→ 연결
- ③ 문화적 갈등을 피하기 위해 문화 절대주의적 시각을 갖는다.  
→ 문화 상대주의적 시각
- ⑤ 자신이 속한 국가에서 발생하는 환경 오염, 분쟁 등의 문제에만 관심을 갖는다. → 자신이 속한 국가와 전 세계 모두의 문제에 관심을 갖는다.

## 42 지속가능한 발전과 적정 기술

- (1) 적정 기술
  - (2) **모범 답안** 적정 기술은 사회 공동체의 정치적·문화적·환경적 측면을 고려하여 만들어진 기술이다. 저렴한 비용으로 제작 가능하며 사용 방법이 간단하다. 또한 에너지 사용량을 최소화한 친환경적인 기술로, 현지 재료를 사용하며 소규모 설비를 통한 생산이 가능하다.
- [주요 내용]** 적정 기술이 사회 공동체를 위해 만들어진 기술이라는 점을 이해하며, 기술의 효율성과 친환경성 등을 서술해야 함.

채점 기준	배점
적정 기술의 의미를 바르게 설명하고, 특징을 지역의 지속가능한 발전과 관련하여 적절하게 서술한 경우	상
적정 기술의 의미만 바르게 서술한 경우	하

## 43 세계시민의 역할

- (1) 세계시민 의식
  - (2) **모범 답안** 나의 노력에 따라 미래 사회의 모습이 달라질 수 있다는 생각으로 세계시민으로서 책임감을 가지고 자원과 에너지 절약, 친환경 제품 구매 등 환경 문제 해결을 위해 적극적으로 노력한다.
- [주요 내용]** 세계시민으로서의 책임감을 바탕으로 현실적으로 실천에 옮길 수 있는 역할을 서술해야 함.

채점 기준	배점
세계시민으로서 미래 사회에 긍정적인 영향력을 미칠 수 있는 현실적인 역할을 서술한 경우	상
세계시민의 단순 의미만 서술한 경우	하

## 44 인구 성장

**정답** ② ㄱ. 개발 도상국인 ㉠은 선진국인 ㉡보다 합계 출산율이 높아 인구 증가 속도가 인구 부양력의 한계를 넘어선 인구 과잉 문제가 발생하고 있다. 따라서 경제 성장과 식량 증산 정책 및 출산 억제 정책이 필

요하다. ㄴ. 개발 도상국은 선진국보다 이혼향도 현상으로 인해 도시 인구가 빠르게 증가하여 인구 과밀 문제가 발생하기도 한다.

### 선택지 분석

- ㄴ. ㉠은 ㉡보다 청장년층 인구의 감소에 따른 노동력 부족 문제가 심각하다. → ㉠은 ㉡보다
- ㄴ. ㉠은 ㉡보다 국가의 총인구에서 노년층 인구가 차지하는 비율이 낮다. → 높다.

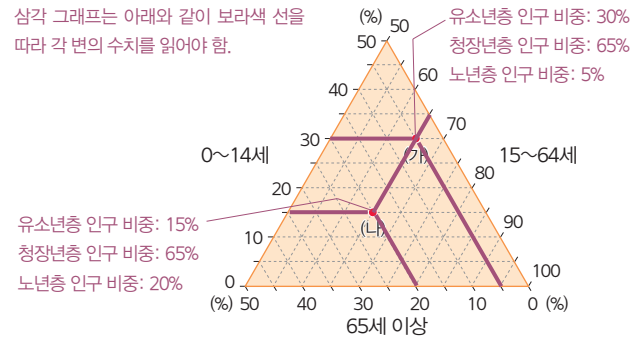
## 45 인구 피라미드

**정답** ① (가)는 유소년층 인구 비율이 높고 노년층 인구 비율이 낮은 니제르, (나)는 유소년층 인구 비율이 낮고 노년층 인구 비율이 높은 일본의 인구 피라미드이다. (가)는 개발 도상국으로 출생률이 높아 유소년층 인구가 노년층 인구보다 많다.

## 46 연령별 인구 구조 비교

**정답** ③ (나) 독일은 (가) 필리핀보다 중위 연령이 높고, 유소년 부양비와 함께 출산율은 낮다.

### 자료 분석



(가)는 유소년층 비율이 높은 필리핀, (나)는 노년층 비율이 높은 독일이다.

## 47 인구 이동의 요인

**정답** ② ㄱ. ㉠은 기후변화에 따른 환경적 요인으로 발생한 인구 이동이다. ㄴ. (나)는 더 나은 일자리를 찾아 이동한 것이므로 경제적 이동에 해당한다.

### 선택지 분석

- ㄴ. ㉠은 인구 유출이 인구 유입보다 활발하다.  
→ ㉠은 좋은 일자리를 찾아 유입되는 인구가 많은 국가이다. 따라서 인구 유입이 인구 유출보다 활발하다.
- ㄴ. (가)는 (나)보다 자발성이 강한 이동이다.  
→ (가)는 불가피하게 생활 터전을 떠나게 된 이동으로, (나)보다는 자발성이 강하지 않다. (나)는 돈을 벌기 위해 노동자들이 이주한 것으로 자발적 이동에 해당한다.

### 자료 분석

(가)는 기후변화로 해수면이 상승하여 영토가 물에 잠긴 투발루 국민이 불가피하게 생활 터전을 떠나게 된 사례이다. (나)는 자국에서 일자리를 구하기 어려워 경제적으로 기회가 더 많은 국가로 이주한 사례이다.

## 48 아프리카와 유럽의 인구 특성

**정답** ② 아프리카(A)는 유럽(B)보다 합계 출산율이 높아 유소년층 인구 비율이 높고 인구 증가 속도가 빠른 반면, 유럽은 아프리카보다 노년층 인구 비율이 높고 경제 발전 수준이 높다.

**오답** 을. 아프리카(A)는 유럽(B)보다 노인 인구 비율이 낮다. 병. 아프리카(A)가 높은 출생률과 낮은 사망률 때문에 유럽(B)보다 인구 증가 속도가 빠르다.

## 49 두 국가의 인구 구조와 인구 문제

**정답** ② 지도에는 유럽의 영국, 아프리카의 니제르가 표시되어 있다. 그래프에서 (가)는 유소년층 비율이 낮고 노년층 비율이 높으므로 영국이다. 상대적으로 (나)는 유소년층 비율이 높고 노년층 비율이 낮으므로 니제르이다. (가) 영국은 산업이 발달해 일자리가 풍부하고 사회 기반 시설이 잘 갖추어진 선진국으로 대표적인 인구 밀집 지역이다. 반면 (나) 니제르는 건조 기후가 나타나 사막이 넓게 분포하는 인구 희박 지역이다. 지도에 나타난 영국과 니제르의 면적을 고려했을 때 총인구는 영국이 훨씬 많으므로 (가) 영국이 (나) 니제르보다 인구 밀도가 높다.

## 50 우리나라의 인구 문제와 대책

**정답** ③ 자료는 합계 출산율의 감소와 노년층 인구 비율의 증가에 따른 저출생·고령화 문제를 보여 준다. 청년을 위한 일자리를 노인에게 주는 방법은 적절하지 않다. 청년을 위한 일자리 증가는 출생률 증가와 연결되고, 노인을 위한 일자리 증가는 고령화 문제를 해결하는 방법이기 때문에 모두 중요하다.

## 51 우리나라의 인구 문제와 인구 구조

**정답** ① 청장년층이 외부로 유출되면 그 지역의 인구 구조가 변한다. 가. 인구 부양비는 청장년층 인구 비율과 반비례 관계에 있어 청장년층이 감소하면 증가한다. 나. 청장년층 인구가 유출되면 유소년층 인구도 줄어들 수 있다. 반면 상대적으로 노년층 인구 비율이 높아져서 노령화 지수는 높아진다.

**오답** 다. 청장년층인 생산 연령 인구의 비율은 낮아진다. 라. 피라미드 형태의 인구 구조는 유소년층 인구가 많고 연령이 높아짐에 따라 점차 인구가 줄어드는 형태로, 개발 도상국에서 나타난다.

## 52 화석에너지 특징

**정답** ① 석탄은 산업 혁명 이후 증기 기관의 연료로 사용되며 사용량이 증가한 에너지원으로 화석에너지 중 상용화 시기가 가장 이르다. 천연가스는 냉동 액화 기술의 발달로 운반과 사용이 편리해지면서 소비량이 급증하였다. 석유는 생활용품을 만드는 석유 화학 공업의 원료와 수송용 연료로 많이 사용된다.

## 53 기후변화 대응 노력

**정답** ⑤ 석탄 화력 발전은 원료 가격이 상대적으로 저렴하고 매장량이 많으며 발전소 건설 비용이 저렴하여 세계의 발전량이 많다.

### 선택지 분석

- ① ㉠은 ㉡보다 기후변화에 미치는 영향력이 **작다**. → 크다.
- ② ㉢은 습지 보호를 통해 지속가능한 발전을 이루고자 하는 국제 협약이다. → 람사르 협약에 대한 설명이다.
- ③ ㉣은 발전소 건설을 위한 입지 제약이 적은 편이다.  
→ 원자력 발전소는 안정 지반과 다량의 냉각수 확보가 가능하다는 입지 조건을 갖춘 곳이 필요하다.
- ④ ㉤ 중 **수력** 발전은 일사량이 풍부한 곳에서 주로 이루어진다.  
→ 태양광·태양열

## 54 에너지 자원의 특징

**정답** ② (가)는 석유, (나)는 석탄, (다)는 지열, (라)는 수력이다. 석탄은 수송용보다 산업용으로 사용되는 비중이 높다. 수송용으로 사용되는 비중이 높은 에너지 자원은 석유이다. ① 석유는 세계 에너지 소비 구조에서 가장 높은 비중을 차지한다. ③ 지열 발전은 판의 경계에 위치하여 화산 활동이 활발한 곳에서 이루어진다. ④ 수력 발전은 빙하 지형과 급경사 산지가 많거나 유량이 풍부한 지역에서 이루어지는데, 노르웨이는 빙하 지형이 발달하여 하천의 낙차가 큰 지형이 많아 수력 발전의 비중이 높다. ⑤ 화석에너지는 신·재생 에너지보다 사용 시 오염 물질을 더 많이 배출한다.

## 55 화석에너지의 특징

**정답** ⑤ (가)는 석탄, (나)는 석유이다. 두 자원 모두 양이 유한하고, 재생이 불가능한 에너지 자원이다.

### 선택지 분석

- ① (가)는 주로 **신기 조산대**에 매장되어 있다. → 고생대 지층
- ② (나)의 세계 최대 수출 국가는 **중국**이다. → 사우디아라비아(2022년 기준)
- ③ (가)는 (나)보다 플라스틱 제조 원료로 많이 이용된다.  
→ 석유에 대한 설명이다.
- ④ (나)는 (가)보다 상업적으로 이용된 시기가 **이르다**. → 늦다.

## 56 지속가능한 발전을 위한 기업의 노력

**정답** ④ 제시된 자료는 기후변화 대응 및 지속가능한 발전 목표 달성을 위한 기업 차원의 노력을 보여 준다. 기업은 경제 주체로서 사회에 긍정적인 영향을 주는 책임 있는 활동을 해야 한다. (가), (나)에서 공통으로 도출할 수 있는 기업의 역할은 친환경적인 생산을 통해 환경 보호에 기여하는 것이다.

## 57 지속가능한 발전을 위한 각 주체들의 노력

**정답** ③ A는 정부, B는 기업, C는 시민단체이다. 정부는 탄소중립·녹색 성장 기본법 등 환경 보호를 위한 법률을 만든다.

선택지 분석

- ① A는 B, C의 활동을 감시하고 비판하는 역할을 한다.  
→ 시민단체(C)는 정부(A)와 기업(B)의 활동을 감시하고 비판하는 역할을 한다.
- ② B는 환경 문제 해결을 위한 국제 조약 체결의 주체이다. → A
- ④ C는 온실가스 배출권 거래제 대비 효과가 매우 부족하다.  
→ 청정 기술 개발은 환경 문제 해결에 효과가 큰 편이다.
- ⑤ C를 통해 소비자들에게 긍정적인 기업 이미지를 심어 주기는 어렵다.  
→ 기업은 청정 기술 개발을 통해 소비자들에게 긍정적인 이미지를 심어 줄 수 있다.

58 기후변화 대응 노력

**정답** ② 탄소 포집·저장 기술의 개발과 보급이 필요한 이유는 탄소를 대기 중에 배출하지 않도록 하여 기후변화에 대응하고 지속가능한 발전 목표를 이루기 위해서이다.

59 미래 사회의 모습

**정답** ③ 사회 변동 속도가 느린 A는 전통적인 산업 사회, 빠른 B는 미래 사회이다. B는 인간관계를 맺는 방식이 더 다양할 것이다.

논술형 문제

192쪽

[문항 설계 의도]

- 국가 지속가능발전 목표의 17개 목표를 살펴보고 통계 자료를 바탕으로 우리나라의 현 상황을 분석해 보도록 한다.
- 국가 지속가능발전 목표의 달성을 위해 세계시민으로서의 역할을 고민해 보도록 한다.

작성 Tip | 논술문 작성 가이드

(가)~(라) 통계 자료를 분석한 후 국가 지속가능발전 목표 달성 여부를 판단하여 서술하도록 한다.

- 달성했다: 신·재생 에너지 공급량 증가 및 탄소 배출량 감소 추세를 보이고 있으므로 해당 기간에 목표를 달성했다고 볼 수 있음. 등
- 달성하지 못했다: OECD 국가 대비 재생 에너지 소비 비중이 매우 낮고 온실가스 배출량도 상대적으로 너무 많기 때문에 관련 분야의 목표를 달성했다고 보기 어려움. 등

(1) **step 1** 모범 답안 '달성하지 못했다'는 관점 예시

- (가) 1차 에너지 중 신·재생 에너지 공급 비중은 지속적으로 증가하고 있음.
- (나) 최종 에너지 소비 중 재생 에너지 소비 비율은 OECD 평균보다 훨씬 낮음.

(다) 온실가스 총배출량은 파리 협정 이후 감소하는 편임.

(라) OECD 회원국별 GDP당 온실가스 배출량은 2019년 대비 2020년에 감소하였으나, 상위 6위를 차지하며 여전히 배출량이 많은 편임.

- ① 신·재생 에너지 공급 비중 및 재생 에너지 소비 비중이 낮음.  
→ 화석에너지 소비 비중이 높음.
- ② 온실가스 총배출량은 감소하는 추세이나, 다른 국가와 비교할 때 배출량이 많음.
- ③ 지속가능발전 목표 중 특히 에너지의 친환경적인 생산과 소비, 기후변화와 대응 부분과 관련하여 목표 달성 정도가 낮음.  
→ 나는 우리나라의 국가 지속가능발전 목표 달성 정도가 (에너지의 친환경적인 생산과 소비, 기후변화와 대응 부분에서 더욱 적극적인 노력이 필요하다)(이)라고 생각한다.

**step 2** 모범 답안 '달성하지 못했다'는 관점 예시

나는 우리나라가 국가 지속가능발전 목표 달성을 위해 더 많은 노력을 해야 한다고 생각한다. 그 이유는 (나)를 볼 때 OECD 국가 평균보다 재생 에너지 소비 비중이 낮으며, 이는 화석에너지 소비 비중이 높다는 것을 말해 주기 때문이다. 또한 (라)를 볼 때 OECD 회원국의 GDP당 온실가스 배출량이 상위 6위로 배출량 자체가 많다는 것을 알 수 있다. 이는 국가 지속가능발전 목표 중 특히 에너지의 친환경적인 생산과 소비, 기후변화와 대응 부분에서 더욱 구체적이고 적극적인 노력이 필요함을 시사하는 것이다.

**[주요 내용]** 지속가능발전 목표, 재생 에너지 소비 비중, 온실가스 배출량, 에너지의 친환경적인 생산과 소비, 기후변화와 대응

구분	채점 기준	
자료 분석	상	뒷받침하는 근거를 두 가지 이상의 통계 자료를 사용하여 구체적으로 서술한 경우
	중	뒷받침하는 근거를 한 가지의 통계 자료만 사용하여 서술한 경우
	하	뒷받침하는 근거를 제시된 자료 이외의 내용을 사용하여 서술한 경우
논술문의 형식	상	논술문의 형식(주장, 근거, 결론 등)을 갖추어 바르게 작성한 경우
	하	논술문의 형식을 갖추지 못한 경우

- (2) **모범 답안** 국가 지속가능발전 목표 중 '에너지의 친환경적인 생산과 소비, 기후변화와 대응'과 관련하여 세계시민으로서 에너지 절약 습관을 형성하고 윤리적 소비를 적극적으로 실천하며, 국가 및 국제적 차원에서 친환경 정책을 지지한다. 또한 국제기구 혹은 비정부 기구에 참여하거나 후원함으로써 목표 달성을 위한 글로벌 협력에 적극적으로 참여한다.

**[주요 내용]** 세계시민으로서 할 수 있는 일을 서술해야 함.

구분	채점 기준
상	세계시민의 실천 노력을 세 가지 서술한 경우
중	세계시민의 실천 노력을 두 가지만 서술한 경우
하	세계시민의 실천 노력을 한 가지만 서술한 경우